

تم تحميل هذا الملف من موقع المناهج الكويتية



منطقة العاصمة التعليمية

الملف نموذج إجابة اختبار منطقة العاصمة التعليمية

موقع المناهج ← المناهج الكويتية ← الصف السابع ← اجتماعيات ← الفصل الأول

روابط مواقع التواصل الاجتماعي بحسب الصف السابع



روابط مواد الصف السابع على تلغرام

[الرياضيات](#)

[اللغة الانجليزية](#)

[اللغة العربية](#)

[التربية الاسلامية](#)

المزيد من الملفات بحسب الصف السابع والمادة اجتماعيات في الفصل الأول

<a href="#">كتاب الطالب في مادة الاجتماعيات للعام الدراسي 2018</a>	1
<a href="#">حل الوحدة الاولى في مادة الاجتماعيات</a>	2
<a href="#">تلخيص رائع في مادة الاجتماعيات</a>	3
<a href="#">حل الوحدة الثانية في مادة الاجتماعيات</a>	4
<a href="#">تلخيص ممتاز في مادة الاجتماعيات</a>	5

السؤال الأول : ( موضوعي ) ويتكون من ( أ - ب ) ١٠ درجات لكل سؤال درجة

( أ ) ظلل الخيار الصحيح من بين الخيارات التي تلي كل عبارة : - ٥ درجات

١- الدولة العربية التي يمر بها خط الاستواء : ص ٤٧

الصومال	الجزائر	موريتانيا	المغرب
---------	---------	-----------	--------

almanahj.com/kw

٢- تعتبر الابل والماعز والضب والأرانب من أهم الحيوانات السانده في المنطقة : ص ٥٥

الاستوائيه	الباردة	الصحراوية	المدارية
------------	---------	-----------	----------

٣- عدد الشعوب التي سيطرت على بلاد الرافدين خلال تاريخها القديم : ص ٧٩

٤	٥	٦	٧
---	---	---	---

٤- محطة تحلية المياه التي أنشئت في دولة الكويت عام ١٩٥٣م : ص ٦١

الروضتين	الشقايا	أم العيش	الشويخ
----------	---------	----------	--------

٥- حالة الجو خلال فترة زمنية طويلة من حيث درجة الحرارة والرطوبة والأمطار والرياح : ص ٤٤

الطقس	الضغط الجوي	المناخ	الكثافة
-------	-------------	--------	---------

( ب ) أكمل العبارات التالية بما يناسبها فيما درست : - ٥ درجات

١- من أشهر ملوك الحضارة البابلية في العراق ملك يسمى حمورابي ص ٨٤

٢- حرص المصريون القدماء على بناء القبور وإقامة المعابد الفخمة لإعتقادهم بفكرة تسمى البعث والخلود ص ٧٦

٣- المضيق الذي يصل بين البحر الأحمر وخليج عدن اسمه باب المنذب ص ٢٨

٤- نقطة من الكرة الأرضية يتحدد موقعها بخطوط الطول ودوائر العرض تسمى الموقع الفلكي ص ٣١

٥- الغابات التي تكثر بها أشجار البلوط والسنديان اسمها المعتدلة . ص ٥٢

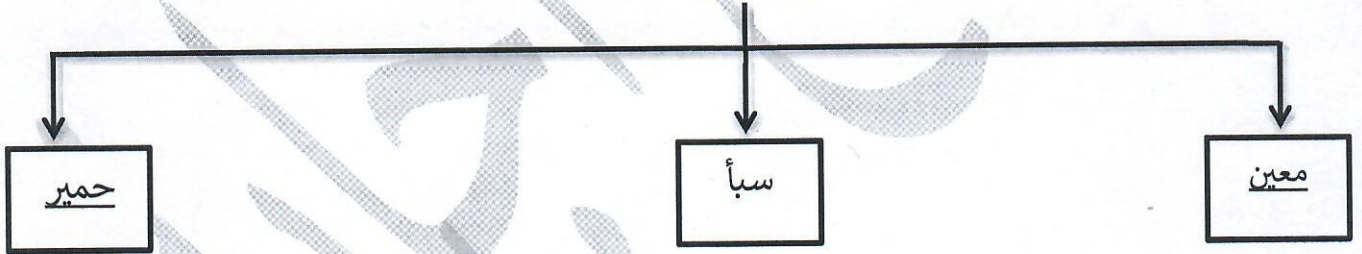
السؤال الثاني : ( موضوعي ) ويتكون من ( أ - ب ) ١٠ درجات لكل سؤال درجة

( أ ) ظلل الحرف ( أ ) إذا كانت العبارة صحيحة أو الحرف ( ب ) إذا كانت العبارة خاطئة :- ٥ درجات

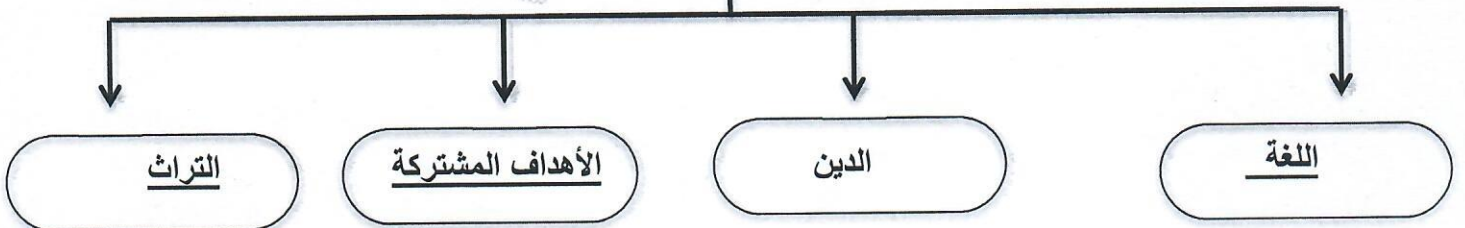
م	العبارة	( أ )	( ب )
١	الدولة العربية التي انضمت إلى جامعة الدول العربية عام ١٩٩٣ م هي موريتانيا . ص ٢٣		
٢	السهول هي مساحة كبيرة من سطح الأرض تتميز باستوائها وقلة ارتفاعها . ص ٤٢		
٣	أطلق على البحرين قديماً اسم أوائل نسبة إلى صنم كانت تعبدته قبيلة وائل آنذاك . ص ٨٩		
٤	كل ما يطرأ على المجتمع من تقدم وتطور ورقي في جميع نواحي الحياة الدينية والسياسية والاقتصادية والاجتماعية والفكرية يسمى الثقافة . ص ٧١		
٥	المياه الجوفية هي المياه التي توجد في جوف الأرض ( باطن الأرض ) . ص ٦٠		

( ب ) أكمل المخططات السهمية التالية بما يناسبها فيما درست : - ٥ درجات

١- أشهر حضارات بلاد اليمن : ص ٨٥



٢- مقومات الهوية العربية ص ٢٦



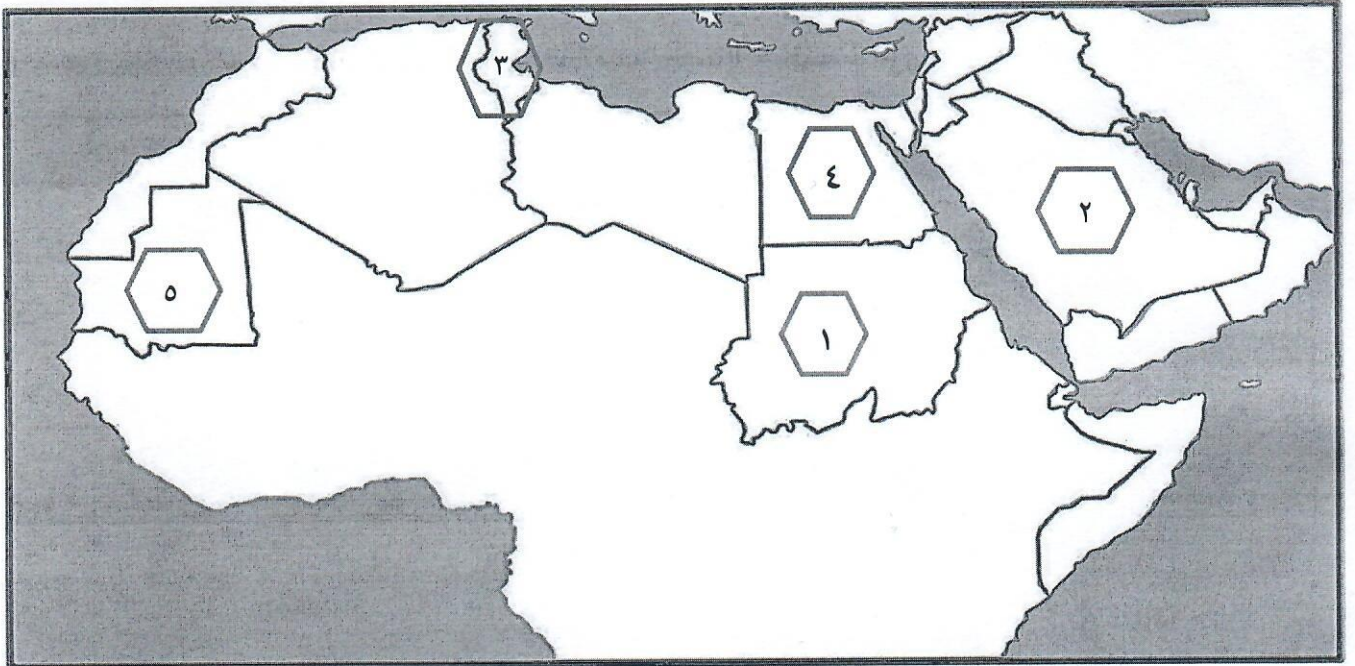
السؤال الثالث : ( موضوعي ) ويتكون من ( أ - ب ) ١٠ درجات لكل سؤال درجة

( أ ) صنف المظاهر التالية حسب الحضارة التي تناسبها في الجدول التالي :- ٦ درجات

(صناعة السفن - صناعة الحلي - التحنيط - الكتابة المسمارية - حدائق بابل المعلقة - الكتابة الهيروغليفية)

حضارة بلاد الرافدين ص ٨١+٨٢	الحضارة المصرية القديمة ص ٧٦+٧٧
صناعة الحلي	صناعة السفن
الكتابة المسمارية	الكتابة الهيروغليفية
حدائق بابل	الحنيط

( ب ) لاحظ خريطة الوطن العربي التي امامك ثم أكتب مدلولات الارقام في العبارات التي تليها : ٤ درجات



- الدولة التي تقع فيها هضبة نجد يمثلها على الخريطة الرقم ( ٢ ) ص ٤١
- الدولة التي يوجد بها جبل مرة يمثلها على الخريطة الرقم ( ١ ) ص ٣٩
- الدولة التي تهب عليها الرياح المحلية ( الخماسين ) يمثلها على الخريطة الرقم ( ٤ ) ص ٤٨
- الدولة التي يجري فيها نهر مجردة يمثلها على الخريطة الرقم ( ٣ ) ص ٥٨

السؤال الرابع : ( مقالي ) ويتكون من ( أ - ب - ج ) ١٠ درجات لكل سؤال درجة

( أ ) فرق بين كل مما يلي من حيث التعريف : ( ٤ درجات لكل نقطة درجة )

السهول الفيضية ( النهرية ) ص ٤٢	السهول الساحلية ص ٤٢
الأراضي المنخفضة التي تكونت من التربة التي حملتها مياه الأنهار .	الأراضي المنبسطة التي تجاور سواحل البحار والمحيطات .
الموقع الاستراتيجي ص ٢٨	الموقع النسبي ص ٣٣
أي موقع ذي مكانه مهمه بين دول العالم .	موقع الدولة بالنسبة لليابسة والماء .

موقع  
المناهج الكويتية  
almanahj.com/kw

( ب ) عدد نقطتين لكل مما يلي : ( ٤ درجات لكل نقطة درجة )


- ١- الأهمية الجغرافية للوطن العربي . ص ٣٥  
- يقع وسط قارات العالم الثلاث .  
- يطل على مسطحات مائية واسعة ذات أهمية كبيرة للملاحة والتجارة العالمية .

- ٢- المقومات الأساسية لقيام الحضارة . ص ٧٣  
- الموقع الإستراتيجي .  
- توافر الثروات الطبيعية .  
- توافر مصادر المياه العذبة .  
- توافر العنصر البشري .  
- اعتدال المناخ .

( ج ) لاحظ الصور التي أمامك ثم أكتب اسم الحضارة التابعة لها أسفل كل صورة : ( ٢ درجتان )



حضارة دلمون ص ٨٨



الحضارة المصرية ص ٧٢

السؤال الخامس : ( مقالي ) ويتكون من ( أ - ب - ج ) ١٠ درجات لكل سؤال درجة

( أ ) اقرأ الفقرة التالية ثم أجب عما يليها من أسئلة: ( ٤ درجات لكل نقطة درجة ) ص ٧٩ - ٨٤

تعتبر بلاد الرافدين من الحضارات القديمة في الوطن العربي وتميزت بموقعها الممتاز وخصوبة تربتها ووفرة مياهها العذبة و كانت موطناً للعديد من الشعوب منها الآشوريون والبابليون والكلدانيون .

- ١- عرف ما تحته خط : بلاد الرافدين تعني بلاد ما بين النهرين التي يطق عليها اسم العراق حالياً . ( درجة )
- ٢- استخرج من الفقرة ثلاث شعوب سيطرت على بلاد الرافدين . ( يكتفى بثلاثة نقاط )

● - الآشوريون ● السومريون ● الكلدانيون ● البابليون ● الأكاديون  
 المنهج الكويتي  
 almanahj.com/kw

( ب ) قارن بين كل مما يلي بالاستعانة بالجدول التالي : ( ٢ درجتان لكل نصف درجة )

أوجه المقارنة	حشائش السافانا ص ٥٢	حشائش الأستبس ص ٥٢
التعريف	حشائش طويلة يختلف نوعها حسب كمية الأمطار .	حشائش قصيرة نوعاً ما تنمو في الشتاء خلال موسم سقوط الأمطار .
استخداماتها ( يكتفى بنقطة لكل جانب )	تربي عليها الماشية .	تستخدم في صناعة الورق والحبال وتربي عليها الأغنام والإبل والخيول والحمير .

( ج ) لاحظ الجدول المقابل والذي يمثل نسبة استخدام المياه المحلاة في الوطن العربي ثم أجب عما يليه من أسئلة:  
 (اربع درجات لكل نقطة درجة)

١- أكثر الدول إنتاجاً للمياه المحلاة . ص ٦٢ ( درجة )  
 - الكويت

٢- أقل الدول إنتاجاً للمياه المحلاة . ( درجة )  
 - ليبيا

٣- عدد مصادر المياه في الوطن العربي . ( يكتفى بنقطتين ) ص ٥٧ (درجتان)  
 الأنهار - المياه الجوفية- الأمطار - البحيرات - المحيطات - البحار - الخلجان

نسبة استخدام المياه المحلاة	
الكويت	%٥٥
قطر	%٣٨
البحرين	%٣١
الامارات	%٢٧
السعودية	%٨
ليبيا	%٥

**السؤال السادس : ( مقالي ) ويتكون من ( أ - ب فقط ) ١٠ درجات لكل سؤال درجة**

**( أ ) علل لما يلي : ( ٤ درجات لكل نقطة درجة )**

١- كانت تعد حضارة ( دلمون ) مركزاً مهماً للمواصلات البحرية . ص ٨٨ ( يكتفى بنقطة واحدة )  
- بسبب حكم موقعها وسط الخليج العربي .

٢- تعد منطقة جنوب غرب شبه الجزيرة العربية ( اليمن ) أكثر مناطق شبه الجزيرة العربية ملائمة لقيام الحضارة .  
ص ٨٥  
- توافر المياه العذبة - المناخ المناسب لقيام الزراعة - الموقع الذي يسمح بقيام النشاط التجاري .

المناهج الكويتية  
almanahj.com/kw

**( ب ) أذكر نقطتين لكل مما يلي : ( ستة درجات لكل نقطة درجة )**

١- العوامل التي تؤثر في مناخ الوطن العربي . ص ٤٦  
- الموقع بالنسبة لدوائر العرض .  
- القرب أو البعد عن المسطحات المائية .  
- التضاريس - الرياح .

٢- الديانات السماوية التي قامت في الوطن العربي . ص ٩٠  
- الديانة اليهودية - الديانة المسيحية - الديانة الإسلامية .

٣ وسائل المحافظة على الثروة المائية . ص ٦٣

- ترشيد استخدام المياه والحد من التبذير في المنازل / الحد من هدر المياه في عمليات الري وذلك باستخدام الوسائل الحديثة كالرش بالتنقيط والمحوري .
- تنظيم عملية الاستفادة من المياه الجوفية ومنع تسرب الاملاح الملوثة إليها واستثمارها على الوجه الأمثل . / تطوير استعمال مياه الصرف الصحي المعالجة في الزراعة .
- اقامة البحيرات والسدود لتجميع مياه الأمطار والسيول للاستفادة منها في فصل الجفاف .
- توقيع اتفاقيات مع الدول المشاركة ودول المنبع لتحقيق مصالح الدول العربية المعنية .