



وزارة التربية

الإدارة العامة لمنطقة العاصمة التعليمية



مؤتمرات

الاجتماعات



امتحان نهاية الفترة الدراسية الثانية

وزارة التربية

مقرر الكويت ودول الخليج العربية

الإدارة العامة لمنطقة العاصمة التعليمية

للفصل السادس المتوسط

التوجيه الفني للاجتماعيات

العام الدراسي : ٢٠١٨ / ٢٠١٩ م

الزمن : ساعة وخمس وأربعون دقيقة

عدد الأوراق : (٥) صفحات

السؤال الأول (موضوعي) : (أ - ب - ج - د - هـ - و) : (درجة لكل إجابة = ٣٦ درجة)

(أ) اختر الإجابة الصحيحة من بين البدائل التي تلي كل عبارة مما يلي وضع خطأً تحتها :

١- أكبر دولة خليجية عربية من حيث المساحة اسمها : ص ١١٤

أ- السعودية ب- البحرين ج- قطر د- عمان

٢- قام النظام العراقي البائد بغزو دولة الكويت عام : ص ١٣٩

أ- ١٩٨٠م ب- ١٩٩٠م ج- ١٩٩٨م د- ١٩٩٩م

٣- مجموع الدخول التي تحصل عليها الدولة خلال عام تعرف باسم : ص ٩٥

أ- النمو السكاني ب- السلالة ج- التنقيب د- الدخل القومي

٤- بدأ التنقيب عن النفط في دولة الكويت عام : ص ٨٧

أ- ١٩٣٤م ب- ١٩٥٠م ج- ١٩٦٦م د- ١٩٨٠م

٥- المدينة الخليجية التي تم فيها الإعلان عن قيام السوق الخليجية المشتركة في يناير ٢٠٠٨ م اسمها : ص ١٣٠

أ- الكويت ب- الدوحة ج- أبوظبي د- الرياض

٦- بلغت عدد آبار النفط التي أحرقتها النظام العراقي الغاشم في دولة الكويت أكثر من : ص ١٣٩

أ- ٤٠٠ بئر ب- ٥٦٠ بئر ج- ٦١٢ بئر د- ٧٣٧ بئر

(ب) اختر للمجموعة (أ) ما يناسبها من المجموعة (ب) بوضع الرقم في المكان المناسب : ص ١٠٨

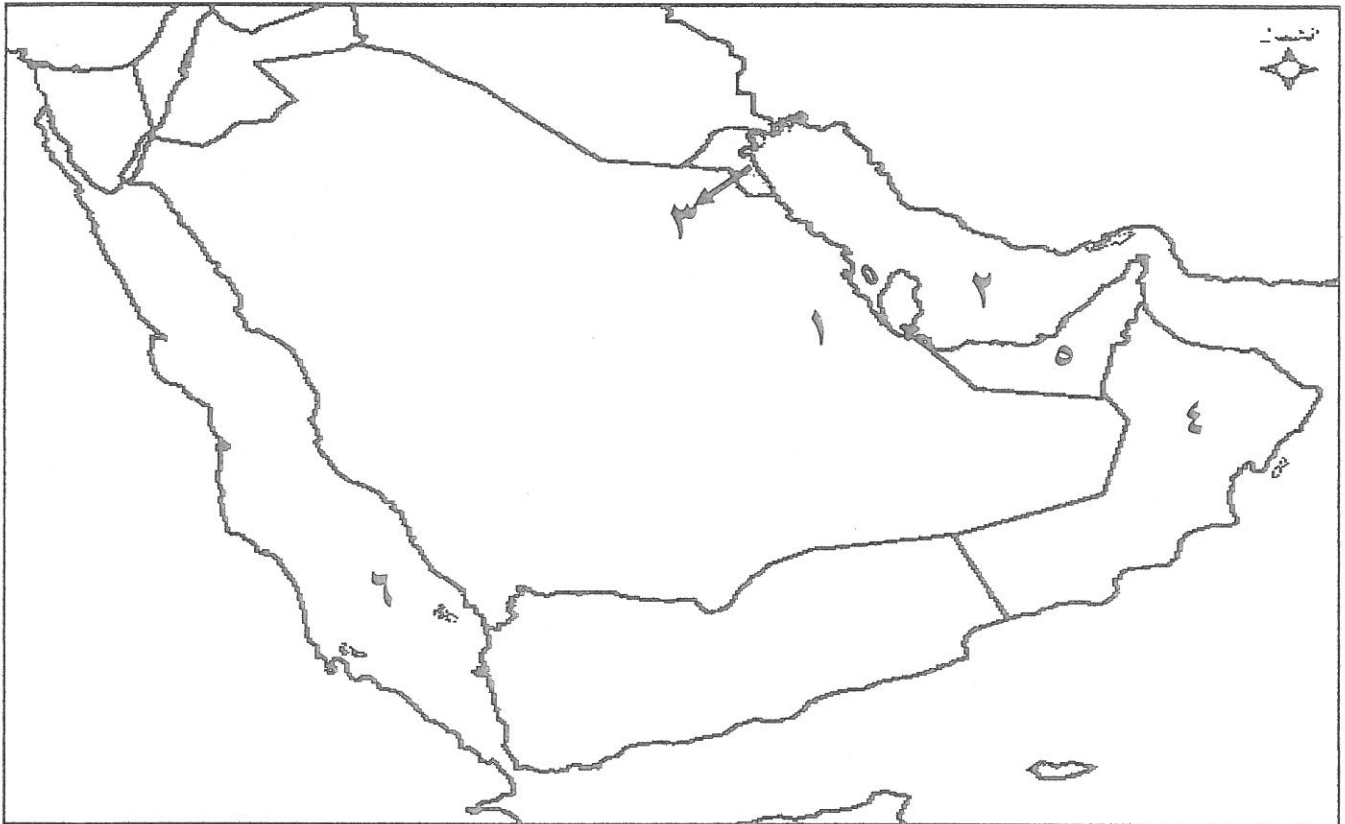
الرقم	المجموعة (أ)	الهجرات	الرقم المناسب	المجموعة (ب)	مناطق الاستقرار
١-	آل الصباح	(٦)	أبوظبي		
٢-	القواسم	(٣)	قطر		
٣-	المعاضيد	(١)	الكويت		
٤-	آل خليفة	(٥)	عمان		
٥-	آل بوسعيد	(٢)	رأس الخيمة		
٦-	بني ياس	(-)	السعودية		
		(٤)	البحرين		

تابع / السؤال الأول ،،،،

(ج) ظلل الحرف (أ) إذا كانت العبارة صحيحة والحرف (ب) إذا كانت العبارة خاطئة لكل مما يلي:

الإجابات		العبارات
أ	ب	١- للمملكة العربية السعودية تجربة رائدة في إنتاج محصول القطن . ص ٩٢
أ	ب	٢- الأسباب النفسية من أسباب مشكلة العنف عند المتطرفين . ص ١٤٩
أ	ب	٣- الزراعة التي تتم في بيئة مائية أو رملية أو حصى أو نشارة الخشب مضاف إليها المحاليل الغذائية تعرف باسم البيوت البلاستيكية . ص ٩٤
أ	ب	٤- التلوث المائي يعد أحد أنواع التلوث . ص ١٣٣
أ	ب	٥-الصناعة من المصادر غير الطبيعية للتلوث الهوائي . ص ١٣٤
أ	ب	٦- تعتبر دلمون من الحضارات القديمة في منطقة الخليج العربي . ص ١٠٥
أ	ب	٧- التلوث الأرضي هو أصوات غير متجانسة تجتاز شدتها المعدل الطبيعي المسموح به للأذن . ص ١٣٤

(د) لاحظ خريطة دول الخليج العربية ثم استعن بالأرقام التي عليها لإكمال العبارات التالية:



- البحر الأحمر يمثله على الخريطة الرقم (٦) . ص ٩٢
- أكبر حقول النفط في المملكة العربية السعودية يمثله على الخريطة الرقم (١) . ص ٩١
- يوجد ميناء الفحل في دولة خليجية يمثله على الخريطة الرقم (٤) . ص ٩٧
- الدولة الخليجية التي تقع فيها حضارة هيلي يمثله على الخريطة الرقم (٥) . ص ١٠٥
- الخليج العربي يمثله على الخريطة الرقم (٢) . ص ٩١
- توجد منطقة الوفرة الزراعية في دولة خليجية يمثله على الخريطة الرقم (٣) . ص ٩٢

تابع / السؤال الأول ،،،

(ه) ضع أرقام العناوين التالية أسفل الشكل المناسب لكل منها :

سهل الباطنة
صور صلالة

..... ٢

الجبيل
الرياض ينبع

..... ٣

بو حصا
مربان العصب

..... ١

١- حقول النفط في دولة الإمارات العربية . ص ٩١

٢- المناطق الزراعية في سلطنة عمان . ص ٩٢


٣- المناطق الصناعية في المملكة العربية السعودية . ص ٩٦

(و) أكمل المخططات السهمية التالية بما يناسبها :

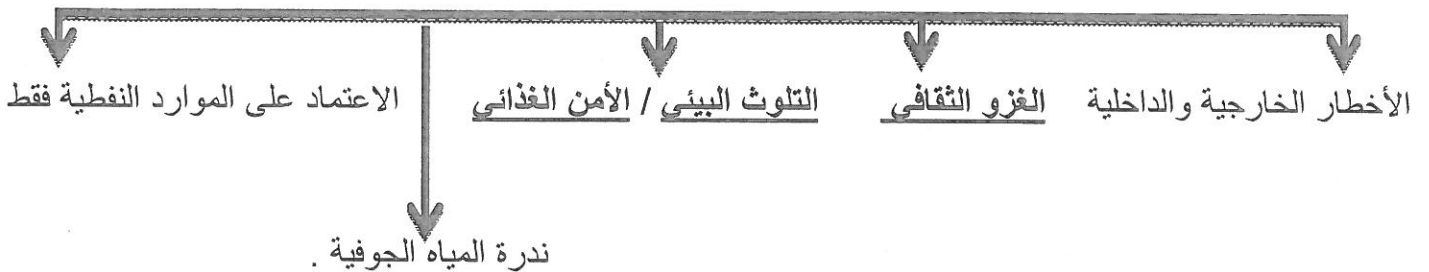
١- أنواع الصناعات القائمة في دول مجلس التعاون الخليجي: ص ٩٧



٢- التشابه الثقافي بين سكان دول الخليج العربية: ص ١١٧ - ١٢٠



٣- التحديات التي تواجهها دول الخليج العربية . ص ١٣٢



السؤال الثاني (مقال) : يتكون من (أ - ب - ج) :

(أ) علل لما يلي : (درجة لكل نقطة = ٦ درجات)

- ١- شهدت منطقة الخليج العربية بعد اكتشاف النفط نمواً سكانياً مضطرباً (فجائياً) . ص ١١٠ - ١١١
 - الأمن والأمان / ارتفاع دخل الفرد - الأجور / السماح للوافدين باصطحاب عائلاتهم
 - توفر الرعاية الصحية / توفر فرص العمل / زيادة عدد المواليد . (يكتفى بنقطتين فقط)
- ٢- ظهرت الحاجة إلى إقامة العديد من الموانئ النفطية في دول الخليج العربية . ص ٩٠ (نقطة واحدة فقط)
 - نتيجة لتزايد الإنتاج النفطي لدول مجلس التعاون من الحقول البرية والبحرية .
 - تزايد الطلب العالمي على النفط كمصدر أساسي للطاقة.
- ٣- أسباب التلوث البحري (المائي) . ص ١٣٦ (يكتفى بثلاث نقاط فقط)
 - مخلفات المصانع / مياه الصرف الصحي غير المعالجة .
 - النفط ومشتقاته / النفايات الخطرة .
 - الأمطار الحمضية / مياه الصرف الزراعي .

(ب) عرف ما يلي : (درجة لكل تعريف = ٤ درجات)

- ١- الصناعة : تحويل المواد الخام إلى مواد يمكن الاستفادة منها . ص ٩٥
- ٢- التلوث : الضرر الذي يصيب عناصر البيئة الأساسية (هواء - ماء - تربة) فتنحول من عناصر مفيدة إلى عناصر ضارة . ص ١٣٣
- ٣- الثقافة : مجموعة من العادات والتقاليد والقيم في مجتمع من المجتمعات . ص ١١٨
- ٤- ترانزيت : إعادة تصدير البضائع المستوردة . ص ٩٩

(ج) اكتب تعليقا مناسباً لكل صورة مما يلي : (لكل إجابة درجة = درجتين)



مشكلة العنف . ص ١٤٥



تصدير أول شحنة نفط كويتية . ص ٩٠

(أو ما يراه المصحح مناسب)

السؤال الثالث (مقالي) : يتكون من (أ - ب - ج) :

(أ) اكتب فيما يلي: (درجة لكل نقطة = ٤ درجات) (يكتفى بنقطتين فقط)

١ - أهم أنواع الصناعات في منطقة الشعبية بدولة الكويت . ص ٩٦

- بتروكيماويات / الغاز .
- تكرير النفط .

٢- حلول لمشكلة العمالة المنزلية . ص ١٥٠

- الاهتمام الجاد بالقرآن الكريم والسنة النبوية . + ما يراه المصحح مناسباً .
- يتحمل كل فرد في الأسرة مسؤوليته والقيام بدوره خير قيام .
- جعل مهمة الخادم مقتصرة على ممارسة دوره الأساسي والمساهمة في تحمل أعباء المنزل لا غير .

(ب) فرق بين كل مما يلي من حيث (التعريف) : (درجة لكل تعريف = ٤ درجات)

الواردات ص ٩٩	الصادرات ص ٩٩
• البضائع والسلع التي تشتريها دولنا من الخارج .	• السلع والمنتجات التي تبيعها دولنا في الخارج .
احتياطي النفط ص ٨٨	إنتاج النفط ص ٨٨
• كميات النفط المخزونة في باطن الأرض .	• كميات النفط التي يتم استخراجها للاستفادة منه .

(ج) عدد اثنين لكل مما يلي : (درجة لكل نقطة = ٤ درجات) (يكتفى بنقطتين فقط)

١- أهم الدول المستوردة للنفط الكويتي . ص ٩٠

* هولندا

* الولايات المتحدة الأمريكية / اليابان

٢- مظاهر التعاون الثقافي لدول مجلس التعاون الخليجي . ص ١٣٠

* توحيد المناهج التعليمية وتطويرها . * إنشاء مكتب التربية العربي ومقره الرياض .

* اجتماع وزراء التربية والتعليم لدول الخليج العربية كل عامين لوضع السياسات التربوية .

انتهت الأسئلة ،،،،