

تم تحميل هذا الملف من موقع المناهج الكويتية



منطقة حولي التعليمية

الملف نموذج إجابة منطقة حولي

موقع المناهج ← المناهج الكويتية ← الصف السادس ← علوم ← الفصل الأول

روابط مواقع التواصل الاجتماعي بحسب الصف السادس



روابط مواد الصف السادس على تلغرام

[الرياضيات](#)

[اللغة الانجليزية](#)

[اللغة العربية](#)

[التربية الاسلامية](#)

المزيد من الملفات بحسب الصف السادس والمادة علوم في الفصل الأول

<a href="#">بنك أسئلة الوحدة الأولى (طريق النجاح)</a>	1
<a href="#">تلخيص مهم للكورس اول في مادة العلوم</a>	2
<a href="#">نموذج اجابة بنك أسئلة وحدة الارض والفضاء في مادة العلوم</a>	3
<a href="#">اجابة بنك اسئلة الروافع في مادة العلوم</a>	4
<a href="#">اجابة بنك اسئلة وحدة التكيف مع الكائنات الحية</a>	5



# امتحان نهاية الفترة الدراسية الأولى

موقع المناهج الكويتية

almanahj.com/kw

العام الدراسي ٢٠٢٢/٢٠٢٣

## الصف السادس

نموذج إجابة امتحان مادة

تم التحميل من شبكة ياكويت التعليمية



Telegram:  
ykuwait\_net\_home

## العلوم

الأحد ٢٠٢٢/١٢/٢٥



السؤال الأول :- اختر الإجابة الصحيحة علمياً لكل من العبارات التالية و ضع علامة ( √ )

في المربع المقابل لها : ( 8 × 2 = 16 درجة )

16


1. تكيف يساعد الحيوانات على العيش في المناطق الباردة (التندرا والتيجا): ص 29

ألوانها تشبه لون الرمال

الاختباء نهاراً والبحث عن الطعام ليلاً

أجسامها مغطاة بفرو ضعيف

وجود طبقة سميكة من الدهون تحت الجلد



ص 58

2. السلوك المكتسب عند الطائر هو:



تم التحميل من شبكة ياكويت التعليمية

ص 36

3. يظهر تأثير الاحتباس الحراري على الأرض عند:

تناقص في درجة حرارة المحيطات

زيادة الرطوبة

تناقص في منسوب المياه

زيادة الغطاء الجليدي

ص 81

4. رافعة من النوع الأول:



ص 105

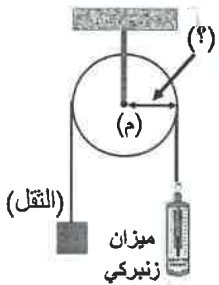
5. مقدار القوة المبذولة عند استخدام البكرة المتحركة يكون:

أكثر من مقدار المقاومة

أقل من مقدار المقاومة

مساوي لمقدار المقاومة

مساوي للصفر



ص 101

6. السهم في الشكل المقابل يشير إلى ذراع:

الثقل

محور الارتكاز

المقاومة

القوة

ص 121

7. الترمومتر أداة تستخدم في قياس:

حجم الجسم

طول الجسم

وزن الجسم

درجة حرارة الجسم

ص 150

8. المدفأة الكهربائية جهاز يحول الطاقة الكهربائية إلى طاقة:

حركية

كيميائية

حرارية

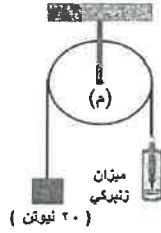
ميكانيكية



السؤال الثاني ( أ ): أكتب بين القوسين كلمة ( صحيحة ) أمام العبارة الصحيحة وكلمة ( خطأ ) أمام العبارة غير الصحيحة لما يأتي :- (  $8 = 1 \times 8$  درجات )

12

1. السلوك الفطري ينشأ نتيجة الخبرة التي يكتسبها الكائن الحي من بيئته . ( خطأ ) ص 58
2. الروافع آلات بسيطة تساعدنا في حياتنا اليومية. ( صحيحة ) ص 79
3. ملقط الفحم رافعة من النوع الثاني. ( خطأ ) ص 81
4. الرمز ( مق ) يشير الى القوة أحد عناصر الرافعه . ( خطأ ) ص 79
5. القوة المبذولة لرفع الثقل في الشكل المقابل تساوي 20 نيوتن. ( صحيحة ) ص 105
6. الطاقة لا تفني ولا تستحدث من العدم . ( صحيحة ) ص 144
7. تنتقل الطاقة الحرارية من الجسم الأقل درجة حرارة الى الجسم الأكثر درجة حرارة. ( خطأ ) ص 151
8. تزداد درجة حرارة الكواكب كلما ابتعدت عن الشمس. ( خطأ ) ص 169



السؤال الثاني: ( ب ) قارن بين كل مما يلي: (  $4 = 2 \times 2$  درجات ):

ص 52 و 53

		وجه المقارنة
سلوكي	بنوي	نوع التكيف
		وجه المقارنة
حركية	حرارية	الطاقة الناتجة
ص 152		

4

امتحان نهاية الفصل الدراسي الأول في مادة العلوم للصف السادس (2022 - 2023) م

السؤال الثالث ( أ ) : علل لما يأتي تعليلا علميا دقيقاً : ( 4 = 1 × 4 درجات )

10



1. قدرة الطائر النقار على التقاط الحشرات من لحاء الأشجار .

لوجود منقار قوي ولسان طويل لاصق

ص 29

2. كسارة البندق رافعة من النوع الثاني .

ص 81

لأن نقطة تأثير المقاومة بين نقطة تأثير القوة ومحور الارتكاز .....

3. قدرة خالد على الانحدار إلى الأسفل بسرعة كبيرة.

ص 145

لأنه يمتلك طاقة وضع كبيرة تحولت إلى طاقة حركية .....

4. حدوث ظاهرة كسوف الشمس في السماء.


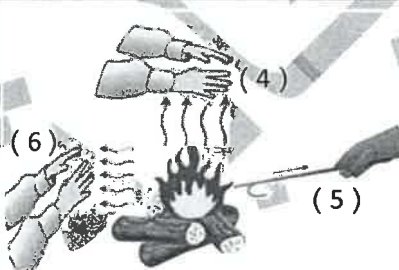
لأن القمر يقع بين الأرض والشمس فيحجب ضوء الشمس

ص 175

موقع  
المنهج الكويتية  
almanahj.com/kw

السؤال الثالث ( ب ) : في الجدول التالي اختر العبارة أو الشكل من المجموعة ( ب ) وأكتب رقمها أمام

مايناسبها من عبارات المجموعة ( أ ) :- ( 6 = 1 × 6 درجات ) :

رقم	المجموعة ( أ )	المجموعة ( ب )
3	* منقار يساعد على التقاط البذور وفي تقشيرها.	
2	* منقار يساعد على في تمزيق لحم الفريسة.	ص 32
5	* انتقال الحرارة بطريقة التوصيل.	
4	* انتقال الحرارة بطريقة الحمل.	ص 127
8	* أحد أوجه القمر يكون فيه نصف القمر المواجه للأرض كله مظلمًا.	7- البدر .
7	* أحد أوجه القمر يكون فيه نصف القمر المواجه للأرض كله مضاءً.	8- المحاق . 9- تربيع الأول





امتحان نهاية الفصل الدراسي الأول في مادة العلوم للصف السادس (2022 - 2023) م

السؤال الرابع (أ) : حل المسألة التالية : ( 1 × 2 = درجتان )

1- رافعة تبذل فيها قوة مقدارها ( 6 نيوتن ) لرفع ثقل وزنه ( 4 نيوتن ) فإذا كان طول ذراع القوة 2 سم ،

فكم يكون طول ذراع المقاومة حتى تتزن؟


$$L_2 = (L_1 \times F_1) / F_2$$

ص 85

$$3 = 4 / (2 \times 6) =$$

الحل:

السؤال الرابع (ب) : حل العلاقة البيانية جيدا ثم أجب عن المطلوب ( 1 × 2 = درجتان ) ص 109



- مقدار القوة المبذولة يقل عند استخدام .....<sup>3</sup>..... بكرات  
- الاستنتاج:

تزداد قدرة البكرات المتحركة على توفير الجهد بزيادة عدد البكرات

السؤال الرابع (ج) : أي مما يلي لا ينتمي للمجموعة ضع تحته خطا ثم أذكر السبب : ( 1 × 2 = درجتان )

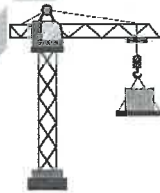


ص 60

معيشة جماعية

اجتماعية

السبب : لأنه يعيش معيشة ..... الباقي:



ص 106

بكرة ثابتة

بكرة متحركة

السبب : يستخدم ..... الباقي: يستخدم



امتحان نهاية الفصل الدراسي الأول في مادة العلوم للصف السادس (2022 - 2023) م  
السؤال الخامس ( أ ) : اقرأ الفقرات التالية جيدا ثم أجب عن المطلوب : ( 2 × 2 = 4 درجات ):

6

1- الدب القطبي من الثدييات التي تعيش في البيئة القطبية التي تتميز بانخفاض درجة الحرارة وندرة الغذاء .



ص 29

- ما هي التكيفات التي ساعدت الدب القطبي

على العيش بنجاح في هذه البيئة ؟

أ- الفرو السميك أو تخزين الدهون تحت الجلد

ب- لون الفرو الأبيض لمحاكاة البيئة والحماية من الأعداء

2

2- في أحد الأيام الدافئة خطط فهد مع أسرته الذهاب للجلوس على شاطئ البحر والاستمتاع

ص 135

بنسيم البحر البارد.



( 2 )

( 1 )

- أي الأوقات هي الأنسب لنسيم البحر البارد؟


الوقت الأنسب شكل .....

السبب : اليابسة تسخن فيصعد الهواء الساخن ويحل محله هواء البحر البارد

2

السؤال الخامس ( ب ) : ادرس الرسومات التالية جيدا ثم أجب عن المطلوب : ( 2 × 1 = 2 درجتان ):

1- اشترى والد أحمد جهاز تكييف واحضر عاملا ليضعه في مكانه المناسب من الغرفة . ص 133



1

(2)

(1)

- المكان المناسب رقم .....

- لأن الهواء البارد ينزل الى اسفل والساخن يرتفع الى أعلى  
السبب : .....

1

ص 175

2- تحدث في السماء ظواهر عدة منها خسوف القمر



القمر

( 2 )



القمر

( 1 )

- يحدث خسوف للقمر عندما يكون في الموقع .....

- لأن القمر يصل الى منطقة ظل الأرض  
السبب : .....

انتهت الأسئلة

دعأونا لكم بالنجاح والتفوق

