



وزارة التربية  
التوجيه الفني العام للعلوم  
اللجنة الفنية المشتركة للأحياء  
2018 / 2017  
الفترة الدراسية الأولى

WWW.Kwedufiles.Com  
بنك أسئلة في

مجال الأحياء للصف العاشر

الوحدة الأولى : الخلية - التركيب والوظيفة

الفصل الأول : دراسة الخلية الحية

**السؤال الاول : اختر الاجابة الصحيحة والافضل من بين الاجابات التي تلى كلا من العبارات التالية:**

1- أحد الانسجة النباتية التالية عبارة عن نسيج مركب :

الاساسية  الجلدية  البشرة  الوعائية

2- من الانسجة النباتية الاساسية المغطاة باللجنين تعمل على تدعيم النبات وحماية الانسجة الداخلية وتقويته:

البرانشيمي  الكولنشيمي  السكرانشيمي  البشرة

3- احدى العبارات التالية غير صحيحة بالنسبة لنسيج الخشب:

تحتوي على أنابيب تلاشت جدرانها العرضية  يترسب على جدرانها الداخلية مادة اللجنين

بجوار كل وعاء خلية مرافقة  يتلاشى البروتوبلازم من الأوعية والقصبينات

4- العالم الذي اطلق اسم الخلية على الفجوات التي ظهرت عند فحص قطعة من الفلين في المجهر الضوئي البسيط :

هوك  شلايدن  فيرشو  شفان

5- حويصلات غشائية مستديرة وصغيرة الحجم تحوي بداخلها مجموعة من الانزيمات الهاضمة

الليسوسومات  الرايبوسومات  الميتوكوندريا  سنترسوم

6- يسمى تجويف البلاستيدة الذي تنغمس فيه الاغشية الداخلية ب:

لجرانم  الجرانا  الستروما  ثايلاكويد

7- أول من وصف أحد مكونات النواة الخلايا وقد سمي هذا المكون الجديد باسم الكروماتين .

والتر فلمج  شلايدن  مارشيلوملبيجي  فيرشو

8- من الانسجة الطلائية التي تغطي بشرة الجلد

طلائى حرشفي مصفف  طلائى مكعبة بسيط  طلائى عمودي بسيط  عمودي مصفف

9- مخلوقات غير حية مركبة من البروتين فحسب , وتسبب امراضا تدمر الجهاز العصبي:

البريونات  الفيروس  البكتيريا  الفيرويدات

10- من عضيات الخلية تعتبر مستودع لأنزيمات التنفس في الخلية ونتاج الطاقة :

الرايبوسومات  الليسوسومات  البلاستيدات  الميتوكوندريا

11- عندما تحاط النواة بغشاء نووى وتصبح محددة تسمى الخلية:

أولية النواة  بدائية النواة  حقيقية النواة  غير حقيقية النواة

12- يمتاز حمض DNA عن حمض RNA بوجود القاعدة النيتروجينية :

الادلين  الثايمين  الجوانين  السايروسين

13- المسبب لمرض الدرنات المغزلية في البطاطس وبهتان الثمار في الخيار من الطفيليات المعروفة ب:

البكتيريا  الفيروسات  الفيرويدات  البريونات

14- تشترك كل من الخلية النباتية والحيوانية في :

الجسم المركزي  كونها حقيقية النواة  البلاستيدات  الجدار الخلوي

15- يتميز تركيب حمض RNA في أنه : [WWW.KweduFiles.Com](http://WWW.KweduFiles.Com)

يتكون من شريط مزدوج من النيوكليوتيدات  يحتوي سكر احادي خماسى منقوص اكسيجين

يحتوي قاعدة الثايمين النيتروجينية  T  يحتوي سكر احادي خماسى

16- احدى العبارات التالية صحيحة بالنسبة للغشاء الخلوى:

يتكون من طبقتين من البروتين بينهما الفوسفوليبيدات  يشمل طبقة من البروتين وأخرى من الدهون

يتكون من طبقتين من الفوسفوليبيدات والبروتينات  يشمل طبقتين من البروتين والكوليسترول

17- تتميز الخلية الحيوانية عن الخلية النباتية باحتوائها على :

الريبوسومات  هيكل الخلية  الكروموسومات  السنتروسوم

18- نسيج له وظائف عدة مثل التخزين والتهوئة والقدرة على القيام بعملية البناء الضوئي

اللحاء  البرانشيمي  السكرانشيمي  الكولنشيمي

19- الوحدة البنائية للكروماتين:

الحمض النووي  النوية  النيوكلوسوم  النيوكليوتيدة

20- تفتقد الخلايا غير حقيقية النواة الى جميع العضيات الخلوية ما عدا:

الميتوكوندريا  البلاستيدات  الرايبوسومات  النوية

21- احد الانسجة التالية ليس من الانسجة العضلية :

الملساء  القلبية  الغضاريف  المخططة

السؤال الثاني أكتب الاسم او المصطلح العلمي الدال على العبارات التالية.

1- الوحدة الوظيفية الأساسية لجميع الكائنات الحية . { }

2- يستخدم فيه الإلكترونات بديل للضوء والذي يستطيع تكبير الأشياء الى حد مليون مرة أكبر من حجمها الحقيقي

3- عبارة عن مادة شبه سائلة تملأ الحيز الموجود بين غشاء الخلية والنواة . { }  
www.KweduFiles.Com

4- شبكة من الخيوط والأنابيب الدقيقة التي تكسب الخلية دعامة تساعد في الحفاظ على شكلها وقوامها. { }

5- شبكة من الأكياس الغشائية التي تتخلل جميع أجزاء السيتوبلازم وتتصل بكل من غشاء النووي وغشاء الخلية

6- عضيات مستديرة تتواجد حرة او مرتبطة بالشبكة الاندوبلازمية تنتج البروتين في الخلية. { }

7- عضيه غشائية كيسيه الشكل تعتبر المستودع الرئيسي لأنزيمات التنفس. { }

8- اختصار لمركب الطاقة الكيميائي الذي يعرف بالأدينوزين ثلاثي الفوسفات. { }

9- أكياس غشائية تشبه الفقاعات ممتلئة بسائل ماء، تخزن الماء والمواد الغذائية او الفضلات لحين التخلص منها.

10- عضي دقيق يقع بالقرب من النواة يؤدي دورا مهما في انقسام الخلية الحيوانية. { }

11- تعبير يطلق على كل مجموعة من الثايلاكويدات في البلاستيدات الخضراء. { }

12- تعبير يطلق على مجموعات الجرانم في البلاستيدة الخضراء { }

13- صفائح من الاغشية الداخلية على هيئة طبقات مترابطة تكون الجرانم { }

- 14- بلاستيدات تفتقر الى وجود اي نوع من الصبغات وتعمل كمراكز لتخزين النشا . { }
- 15- بلاستيدات تحتوي على صبغات الكاروتين. { }
- 16- اوضح عضيات الخلية وغالبا ما يطلق عليها اسم مركز التحكم في الخلية . { }
- 17- تركيب في النواة مسؤول عن تكوين العضيات المعروفة بالرايبوسومات . { }
- 18- مجموعة من الاكياس الغشائية المسطحة مستديرة الاطراف تعمل على احاطة المواد بأكياس غشائية وطردها للخارج. { }
- 19- خيوط دقيقة متشابكة وملتفة حول بعضها في النواة التي تتحول اثناء الانقسام الى كروموسومات. { }
- 20- الوحدة البنائية للكروماتين . { }
- 21- تركيب من الDNA الملتف حول جزيئات من بروتين الهيستون . { }
- 22- بروتين يلتف عليه خيط الDNA ويشكلان ما يعرف بالوحدة البنائية للكروماتين او النيوكلوسوم. { }
- 23- عبارة عن جزيئات عضوية معقدة التركيب تحمل وتخزن المعلومات الوراثية المنظمة التي تسمى الجينات. { }
- 24- الوحدة البنائية للحمض النووي DNA . { }
- 25- تركيب يتكون من سكر أحادي خماسي وقاعدة نيتروجينية ومجموعة فوسفات . { }
- 26- مجموعة الخلايا المتشابهة في الشكل والتركيب والوظيفة. { }
- 27- نسيج يتكون من خلاياه حية مستديرة ذات جدران خلوية رقيقة يوجد بينها فراغات . { }
- 28- نسيج نباتي يغطي سطح النبات ليحميه ويتكون من طبقة واحدة من الخلايا التي لا يوجد بينها فراغات { }
- 29- انواع مختلفة من الخلايا التي تشترك مع بعضها لتكون نسيج يؤدي وظيفة معينة { }
- 30- الخلايا المتماثلة تترتب مع بعضها وتتضافر في أداء وظيفة معينة أو أكثر في تعاون وتكامل { }
- 31- نسيج يتكون من انايبب غربالية وخلايا مرافقة وخلايا برانشيمية . { }
- 32- نسيج يتكون من اوعية والقصبية وخلايا برانشيمية والياف. { }
- 33- نسيج من طبقة واحدة من الخلايا العمودية تبدو وكأنها عدة طبقات تتواجد في بطانة القصبة الهوائية { }

- 34- نسيج يتواجد في بشرة الجلد يتألف من طبقات عدة من الخلايا المفلطحة { }
- 35- نسيج خلاياه متباعدة نوعا ما وموجودة فيما بينها مادة بينية او بين خلوية سائلة او شبه صلبة او صلبة { }
- 36- نسيج يتألف من الياف لها القدرة على الانقباض والانبساط { }
- 37- نسيج يختص باستقبال المؤثرات الحسية داخلية ام خارجية { }
- 38- نسيج مسؤول عن تنظيم الانشطة المختلفة لأعضاء الجسم { }
- 39- عامل ممرض مكون من لب يحتوي على احماض نووية وغللاف بروتيني { }
- 40- مخلوقات لاخلوية تتكون من اشربة حلقيه قصيرة من الحمض النووي RNA { }
- 41- مخلوقات غير حية تتركب فقط من البروتين تملك القدرة على الانتشار عبر انسجة الكائنات الحية { }
- 42- طبيب ايطالى قام باكتشاف الشعيرات الدموية وشاهد خلايا الدم الحمراء ووصفها. { }
- 43- طبقة رقيقة من الفوسفوليبيدات والبروتينات تفصل مكونات الخلية عن البيئة أو الوسط المحيط بها . { }
- 44- أحد مكونات الغشاء الخلوى تعمل على ابقاء الغشاء متماسكا مما يقلل من مرونته . { }

السؤال الثالث: ضع علامة صح (✓) أمام العبارة الصحيحة وعلامة (X) أمام العبارة الخاطئة أمام العبارة الغير صحيحة:

- 1- الخلية العصبية من اطول الخلايا . { }
- 2- يمكن للمجهر الضوئي تكبير أجسام الكائنات الحية الدقيقة الى حد 1000 مرة اكبر من حجمها. { }
- 3- تعمل الشبكة الاندوبلازمية الملساء على تحويل الكربوهيدرات الى جليكوجين. { }
- 4- تعمل الشبكة الاندوبلازمية الخشنة على تعديل طبيعية بعض المواد الكيميائية السامة لتقليل سميتها . { }
- 5- تحتوي نواة كل خلية جسدية في الانسان على 46 كروموسوم. { }
- 6- تحتوي نواة كل خلية في نبات الذرة على 20 كروموسوم. { }
- 7- النوية هي العضية المسؤولة عن بناء الرايبوسومات { }
- 8- الجينات تركيبات موجودة على الكروموسومات تحدد الصفات الوراثية وتنقلها من جيل لآخر. { }
- 9- على الرغم من غياب كل العضيات ما عدا الرايبوسومات تؤدي الخلايا أولية النواة جميع الانشطة الخلوية الحيوية. { }
- 11- الفيرويدات لا تدمر او تحلل خلايا العائل. { }
- 12- تتميز جميع الفيروسات بتركيب واحد من حمض RNA محاط بالكابسيد. { }
- 13- تحتوي الكثير من الفيروسات على DNA اكثر من RNA. { }

**السؤال الثاني : اختر من العمود ( ب ) ما يناسب العمود ( أ ) :**

م	( أ )	م	( ب )
1	- مادة من سكريات معقدة تشكل الهيكل الاساسى لجدار الخلية .		الميتوكوندريا
2	- مادة شبيه سائلة تملأ الحيز الموجود بين غشاء الخلية والنواة .		الشبكة الاندوبلازمية
3	- مجموعة من الترايبس الموجودة فى السيتوبلازم يودى كل منها وظيفة محددة.		ATP
4	- شبكة من الخيوط والانابيب الدقيقة تكسب الخلية دعامة تحفظ شكلها وقوامها اضافة الى عملها كمسار تنتقل عبرها المواد المختلفة داخل الخلية .		الرايبوسومات
5	- شبكة من الاكياس الغشائية التى تتخلل جميع اجزاء السيتوبلازم وتتصل بكل من الغشاء المحيط بالنواة وغشاء الخلية.		السيليلوز
6	- عضيات مستديرة تنتج البروتين فى الخلية توجد بالسيتوبلازم وعلى الشبكة.		السيتوبلازم
7	- عضيات غشائية كيسية الشكل تعتبر المستودع الرئيس لانزيمات التنفس فى الخلية .		هيكل الخلية
8	- مركب الطاقة الذى يمكن للخلية استخلاص الطاقة منه مرة اخرى.		عضيات الخلية

**السؤال الرابع ادرس العبارات التالية جيداً ثم أجب عن الأسئلة التى تلى كل عبارة :**

1- تبلورت أفكار علماء ما بين ١٨٣٨ - ١٨٥٥ فى ما يعرف الآن بالنظرية الخلوية :

أ - اذكر العلماء اللذين ساهموا فى تأسيس النظرية الخلوية:

-----

ب - اذكر بنود النظرية الخلوية

-----

-----

-----

2 - ((تحاط جميع الخلايا بغشاء خلوي رقيق يفصل مكونات الخلية عن البيئة أو الوسط الخارجي )) المطلوب  
- ما هي وظيفة الغشاء الخلوي :

-----  
- يتكون الغشاء من ثلاثة مكونات رئيسية هي

اولا- طبقتين من الفوسفوليبيدات

أ- خارجية تتكون من: -----

ب- داخل حشوة الغشاء تتكون من : -----

ثانيا- توجد بين الطبقتين جزيئات بروتينية وظيفتها :

-----  
ثالثا- جزيئات الكوليسترول تساهم في:

-----  
3- لا يمكن للمجهر الضوئي البسيط تكبير الكائنات الحية الدقيقة أكثر من 1000 مرة

-----  
اذكر الوسائل المستخدمة لتوضيح الصورة اكثر من 1000 مرة في المجاهر الضوئية المركبة  
أ- [www.KweduFiles.Com](http://www.KweduFiles.Com)

ب- -----

- يفضل العلماء استخدام المجهر الالكتروني عن الضوئي وذلك يرجع ل:

-----  
- لخص دور المجهر في التعرف على النظرية الخلوية :

-----  
4- يتميز النسيج البرانشيمي على خصائص متنوعة تجعله مؤهل للوظائف المنوطة به:

المطلوب: اذكر هذه الوظائف

-----  
5- تختلف الانابيب الغربالية عن اوعية الخشب في انها حية:

- المطلوب: اذكر المميزات التي تجعل من الانابيب الغربالية حية والخشب عكس ذلك

-----  
6- لو كان جسم الكائن مكونا من نوع واحد من النسيج ، فما الذي تتوقع حدوثه؟



7- هل يمكن للفيروسات العيش مستقلة كالبكتيريا ؟ علل اجابتك

8- تتعاون العضيات في الخلية لتؤدي وظيفة معينة؟ اذكر مثال على ذلك

### السؤال الخامس علل لما يلي تعليلا علميا صحيحاً

1- يجب تفريغ الهواء من المجهر الإلكتروني قبل فحص العينة؟

2- سميت الشبكة النووية بالكروماتين؟

3- النباتات العشبية قادرة على الاحتفاظ بشكلها حين تتعرض للرياح القوية .؟

4- عدم قدرة الخلايا العصبية على الانقسام الخلوي ؟

5- للشبكة الاندوبلازمية الخشنة القدرة على تصنيع البروتين ؟

6- فقدان خلايا الدم الحمراء للنواة مع وصولها الى الطور اليافع؟

7- تحتوي انوية خلايا الجسم المسؤولة عن افراز هرمونات او انزيمات على انوية كبيرة الحجم ؟

8- لا تتأثر الخلية بالانزيمات الليسوسومية؟

9- لا تظهر الفيروسات مظاهر الحياة الا متطفلة داخل عائل؟

10- يلعب جهاز جولجي دورا مساعدا في عملية تصنيع المنتجات الافرازية داخل الخلية؟

11- للبروتينات الموجوده بالغشاء الخلوي اهميه كبيره ؟.

12- يعتبر الغشاء الخلوي تركيبيا سائلا؟

تابع السؤال الخامس علل لما يلي تعليلاً علمياً صحيحاً

13- للخلايا حقيقية النواة القدرة على الحفاظ على شكلها وقوامها على الرغم من كون السيتوبلازم مادة شبه سائلة؟

14- وجود فجوة كبيرة في الخلايا النباتية؟

15- لم يكتشف الى الان طريقة انتشار الفيروسات ؟

16- عدد الميتوكوندريا في العضلات اكبر من المتواجدة في خلايا الجلد؟

17- تلتهم النملة البيضاء الخشب على الرغم من انها غير قادرة على الاستفادة منه مباشرة؟

السؤال السادس قارن بين ما يأتي

المجهر الإلكتروني النافذ	المجهر الإلكتروني الماسح	1-
		طريقة العمل
		قوة التكبير
النكليوبلازم	السيتوبلازم	2-
		التعريف
جدار الخلية	غشاء الخلية	3-
		التركيب
		الوظيفة
بروتينات الغشاء الخلوي	الكوليسترول في الغشاء الخلوي	4-
		الوظيفة
الشبكة الاندوبلازمية	هيكل الخلية	5-
		الوظيفة
الشبكة الاندوبلازمية الملساء	الشبكة الاندوبلازمية الخشنة	6-
		الوظيفة
النكلوسوم	الاحماض النووية	7-
		التركيب

الكوليسترول	الهيستون	8-
		التواجد في الخلية
RNA	DNA	9-
		السكر
		القواعد النيتروجينية
		عدد السلاسل
حقيقية النواة	اولية النواة	10-
		شكل النواة
خلية حيوانية 30	خلية نباتية	11-
		الجدار الخلوي
		النواة
		هيكل الخلية
		الكروموسومات
		الفجوات
		الميتوكوندريا
		الليسوسومات
نسيج مركب	نسيج بسيط	12-
		انواع الخلايا
السكرانشيمي	الكولنشيمي	13-
		الليجنين
البشرة 33	البرانشيمي	14-
		نوع النسيج النباتي
		وجود الفراغات
		الوظيفة
الخشب	اللحاء	15-
		التركيب
		الوظيفة

بطانة القصبة الهوائية	الكبد	16-
		نوع النسيج الطلائي
الشعيرات الدموية	بشرة الجلد	17-
		نوع النسيج الطلائي
بطانة الامعاء	جدر الحويصلات الهوائية في الرئة	18-
		نوع النسيج الطلائي
طلائي	ضام	19-
		وجود المادة البنية او بين الخلوية الوظيفة
النسيج الهيكلية	النسيج الضام الاصلي 36	20-
		التواجد
المخططة	المساء	21
		الخضوع للارادة
		التواجد
البلاستيدات البيضاء	البلاستيدات الملونة	البلاستيدات الخضراء
		22-
		- سبب التسمية: - اماكن وجودها:

السؤال السابع : ما اهمية كلام من

- 1- الفجوات :
- 2- الميتوكوندريا :
- 3- الرايبوسومات:
- 4- هيكل الخلية :
- 5- الكوليسترول :
- 6- DNA:

7- الخلايا المرافقة :

السؤال الثامن – ماذا يحدث في الحالات التالية

1- فقدان تركيب الغشاء الخلوي للكوليسترول

.....

2- فقدان ساق البقدونس للنسيج الكولنشيبي

.....

3- فقدان النبات للنسيج السكرانشيمي

.....

4- انفجار الليسوسومات داخل الخلية

.....

WWW.KweduFiles.Com

السؤال التاسع : ما مدى ملائمة كل من لوظيفته:

1- الميتوكوندريا:

2- البلاستيدات الخضراء :

3- الغشاء الخلوي:

4- الغشاء النووي :

5- الليسوسومات :

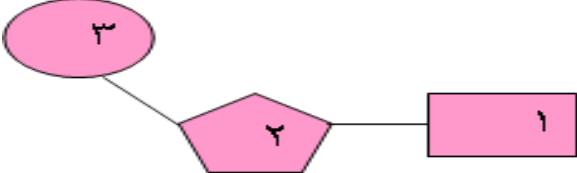
6- الشبكة الاندوبلازمية الخشنة :

7- النسيج البرانشيمي:

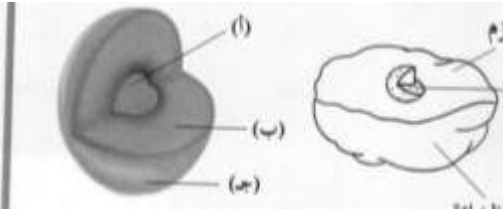
8- اللحاء :

9- الخشب:

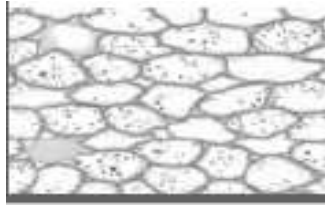
السؤال التاسع : ادرس الاشكال التالية جيدا ثم اجب عن المطلوب

	<p>أ- * الشكل الذي امامك شكل يمثل:-----</p> <p>ت- اكتب البيانات المشار اليها على الرسم</p> <p>1- -----</p> <p>2- -----</p> <p>3- -----</p>
---	--

	<p>الشكل الذي امامك شكل توضيحي لفيروس الأنفلونزا</p> <p>المطلوب</p> <p>-اكتب البيانات والمشار اليها بالأرقام التالية</p> <p>1- -----</p> <p>2- -----</p> <p>3- -----</p> <p>4- -----</p> <p>-ما اهمية التركيب رقم {2}-----</p>
--	--

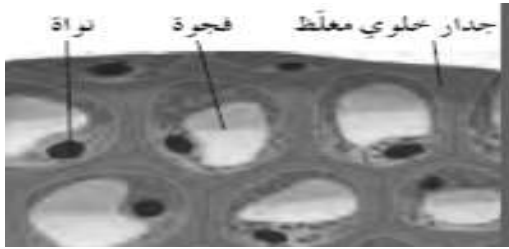
	<p>الشكل يمثل شكل توضيحي لخلية حقيقية مبينا مكوناتها الرئيسية</p> <p>اذكر المكونات الرئيسية والمشار اليها بالأحرف</p> <p>أ- -----</p> <p>ب- -----</p> <p>ج- -----</p>
---	---

الاشكال التي امامك هي لأنسجة نباتية المطلوب التعرف على الانسجة المشار اليها بالأرقام التالية




-1

-----1



-2

-----2



-3

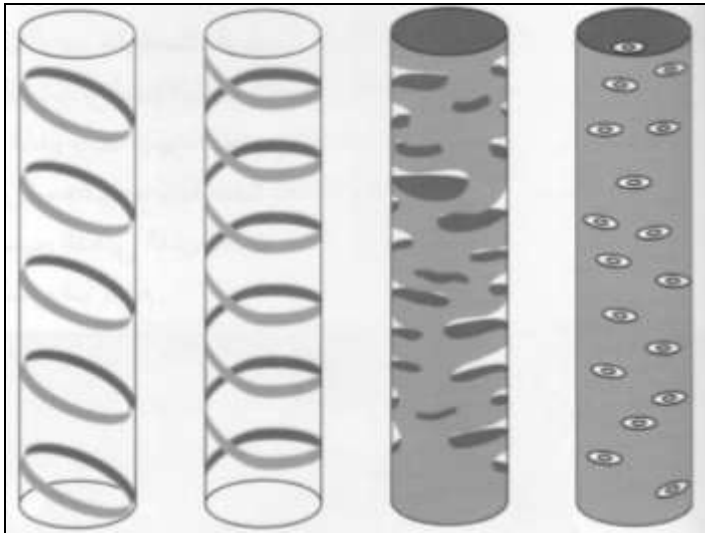
-----3

WWW.KweduFiles.Com



-----1-----2-----3

الاشكال التالية هي لأنسجة حيوانية مختلفة المطلوب كتابة اسم كل نسيج تحت الصور المقابلة



المطلوب هو انواع ترسيب مادة الليجنين في الاشكال المشار اليها بالأرقام التالية :

-----1

-----2

-----3

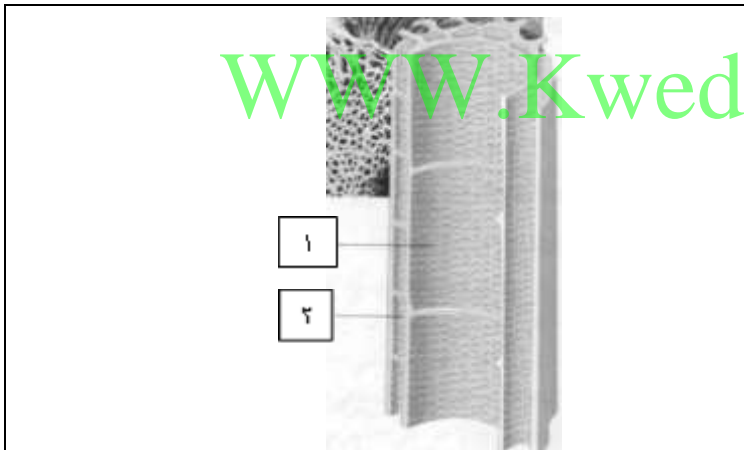
-----4

-----4

-----3

-----2

-----1



الشكل الذي امامك شكل توضيحي لتركيب نسيج الخشب

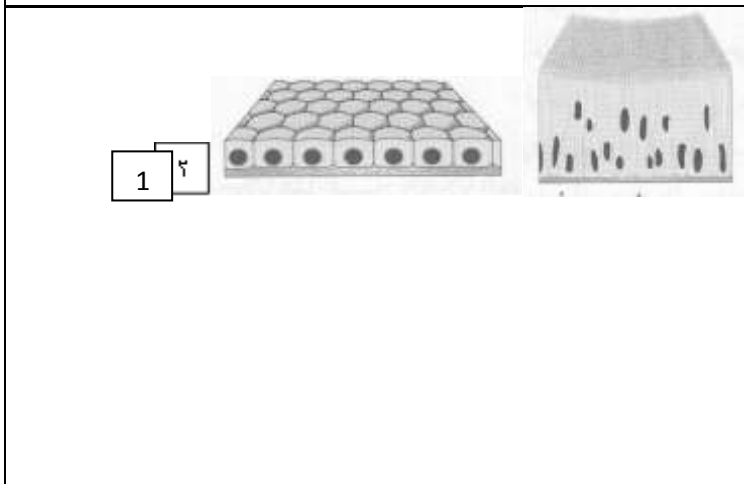
المطلوب

كتابة البيانات والمشار اليها بالأرقام التالية:

----- --1

----- --2

الجدران في التركيب التالي مغطاة ب:-----



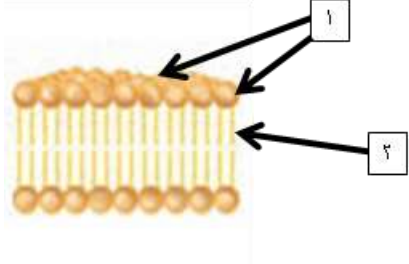
الاشكال التي امامك هي لأنسجة حيوانية طلائية المطلوب

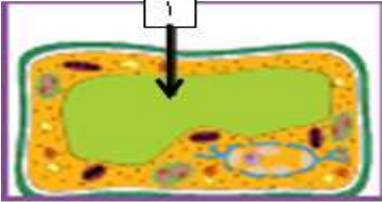
التعرف على الانسجة المشار اليها بالأرقام التالية


-----1

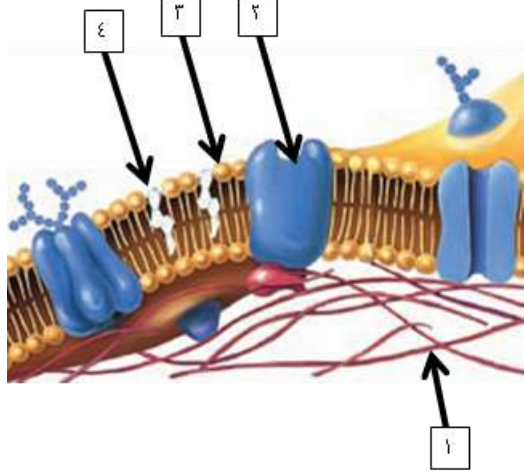
-----2

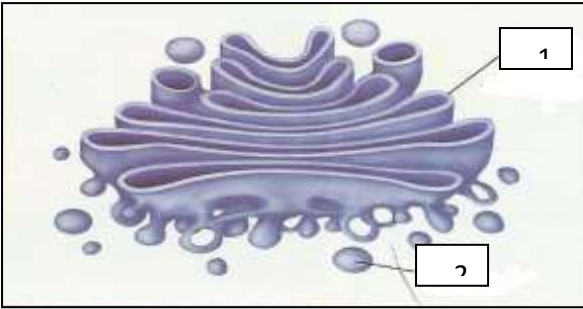



	<p>الشكل الذي أمامك يمثل -----          اكمل البيانات علي الرسم</p> <p>1-----          2-----</p>
---	---

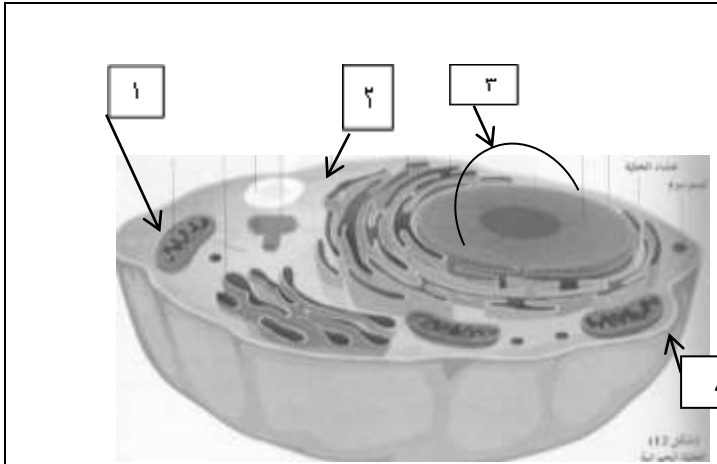
	<p>الشكل الذي أمامك يمثل -----          الجزء رقم (1) يمثل -----</p>
---	--

	<p>1. الشكل الذي أمامك يمثل مكونات -----          اكمل البيانات علي الرسم</p> <p>1-----          2-----</p>
---	---

	<p>2. اكمل البيانات علي الرسم</p> <p>1-----          2-----          3-----          4-----</p>
---	---

	<p>أكمل البيانات على الرسم:</p> <p>1-.....</p> <p>2-.....</p>
---	---

	<p>. ادرس الشكل الآتي ثم أجب :-</p> <p>نوع البلاستده في الشكل المقابل.....</p> <p>وظيفة هذا النوع.....</p>
--	--



الشكل الذي امامك شكل توضيحي للخلية المطلوب

-اكتب البيانات والمشار إليها بالارقام التالية 21

-----1

-----2

----- 3

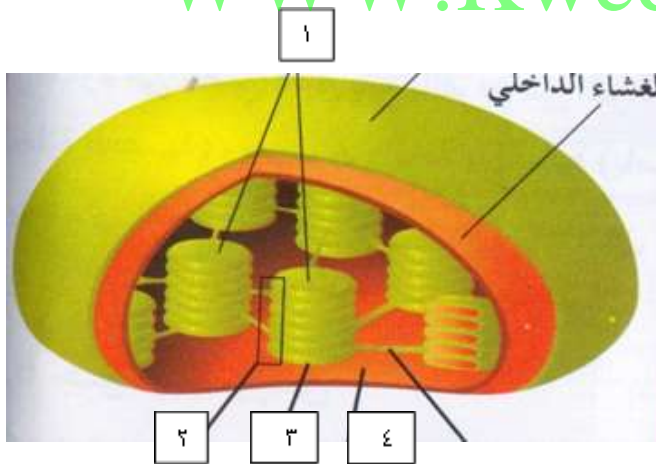
----- 4

من خلال شكل الخلية التي امامك نوع الخلية : -----

----

حدد على الرسم عضية السنتريول

WWW.KweduFiles.Com



الشكل الذي امامك شكل توضيحي للبلاستيدة

المطلوب

-اكتب البيانات والمشار إليها بالأرقام التالية

----- 1

----- 2

----- 3

----- 4

تحتوي البلاستيدة على صبغات منها:

أ- -----

ب- -----



وزارة التربية

التوجيه الفني العام للعلوم  
اللجنة الفنية المشتركة للأحياء

2017 / 2016

الفصل الدراسي الأول

[WWW.KweduFiles.Com](http://WWW.KweduFiles.Com)

بنك أسئلة في

مجال الأحياء للصف العاشر

الوحدة الأولى : الخلية - التركيب والوظيفة

الفصل الثاني : انقسام الخلايا

السؤال الأول: اختر الإجابة الصحيحة من الإجابات التي تلي كل عبارة من العبارات التالية وذلك بوضع علامة في المربع أمامها :

1- يمكن تحضير النمط النووي لوحد مما يلي:

- الفيروس  
 الفيروسات  
 البكتيريا  
 البراميسيوم

2- يستخدم النمط النووي للاهداف الاساسية التالية ما عدا :

- تحديد عدد الكروموسومات  
 اكتشاف الخلل في الكروموسومات  
 تصنيف جنس الكائن الحي  
 تحديد عدد الخلايا في الجسم

3- يمثل عدد الكروموسومات الموجودة في الخلايا الجسمية للإنسان بالعدد :

- $n=23$   
  $n=46$   
  $2n=46$   
  $2n=64$

4- الهدف من الانقسام الميوزي في الكائنات :

- النمو  
 تكوين الأمشاج  
 تعويض الأنسجة التالفة  
 إنتاج أنسجة

5- طور من الانقسام الميوزي يحدث خلاله زيادة قصر وتغلظ الكروموسومات :

- الطور التمهيدي  
 الطور الانقسالي  
 الطور الاستوائي  
 الطور النهائي

WWW.KweduFiles.Com

6- الخلايا الجنسية للإنسان يكون عدد الكروموسومات بها:

- أحادية المجموعة الكروموسومية  $n=23$   
 ثنائية المجموعة الكروموسومية  $2n=46$   
 فردية المجموعة الكروموسومية  $n=32$   
 زوجية المجموعة الكروموسومية  $2n=64$

7- أول خطوة من مراحل تحضير النمط النووي من خلية دم بيضاء للإنسان :

- إضافة 250 ميكروليتر من الكولشيسين لتثبيت الخلايا في الطور الاستوائي  
 إضافة مادة مثبتة وهي الإيثانول إلى الوسط المخفف.  
 وضع 15 نقطة من الدم في مربي يحتوي على مغذيات ومادة الهيبارين ومواد محفزة للانقسام الميوزي.  
 إضافة الصبغة للعينة.

8- تستخدم مادة الكولشيسين عند تحضير النمط النووي للإنسان من أجل:

- تثبيت الخلايا في الطور الاستوائي  
 تحفيز عملية الانقسام الميوزي  
 منع تخثر الدم  
 جميع ما سبق صحيحاً

9- يكون في النمط النووي للإنسان :

- الخلية الجسمية الأنثوية بها زوج مغاير من الكروموسومات عن بقية الكروموسومات  
 أمشاج الأنثى من نوعين مختلفين  
 الخلية الجسمية الذكرية تضم أزواجا متماثلة من الكروموسومات  
 أمشاج الذكر من نوعين مختلفين.

10- عند ترتيب الكروموسومات المتماثلة في النمط النووي للإنسان يتم الترتيب بحسب:

- الطول من الأقصر إلى الأطول
- الطول من الأطول إلى الأقصر.
- الحجم من الأكبر إلى الأصغر.
- الحجم من الأصغر إلى الأكبر.

11- يعتبر إنقسام الخلايا مهما لحدوث :

- النمو
- التكاثُر
- تعويض الأنسجة التالفة
- جميع ما سبق

12- الفترة المحصورة بين بدء الخلية في الإنقسام و بداية الإنقسام التالي تشمل على الترتيب :

- الإنقسام النووي-مرحلة البناء والتصنيع-مرحلة النمو الأول-مرحلة النمو الثاني.
- الإنقسام النووي -مرحلة النمو الثاني-مرحلة البناء و التصنيع-مرحلة النمو الأول
- مرحلة النمو الأول-مرحلة البناء و التصنيع-مرحلة النمو الثاني-الإنقسام النووي-الإنشطار السيتوبلازمي
- المرحلة البيئية -الإنشطار السيتوبلازمي-الإنقسام النووي.

13-من خصائص مرحلة النمو الأول ( G1 ) في الطور البيئي بدورة الخلية:

- تكوين كروماتيدين ( كروموسومين بنويين ) لكل كروموسوم مرتبطان بسنترومير.
- تصنيع الخلية للعضيات السيتوبلازمية
- إنقسام السنتروليولان لتكوين أربع سنتروليولات
- زيادة حجم الخلية و تظهر المادة الوراثية على هيئة شبكة كروماتينية

14-من خصائص مرحلة النمو الثاني ( G2 ) في الطور البيئي بدورة الخلية:

- تصنيع العضيات في السيتوبلازم
- تضاعف الخيوط الكروماتينية و تكوين الكروموسومات البنيوية
- ارتباط كل كروماتيدين شقيقين بسنترومير
- زيادة الخلية بالحجم و تكوين الشبكة الكروماتينية

15- الطور البيئي في الإنقسام الميوزي يحدث:

- قبل الإنقسام الميوزي الأول و بعده
- قبل الإنقسام الميوزي الأول فقط
- بعد الإنقسام الميوزي الثاني
- بعد الإنقسام الميوزي الأول فقط

16-الطور البيئي في الانقسام الميوزي والميوزي الأول :

- يتضاعف فيها الحمض النووي DNA
- تحدث بين الطور التمهيدي والإستوائي
- تحدث بين الطور الإستوائي والنهائي
- تصطف فيها الكروموسومات بوسط الخلية

17- أطول الأطوار و أكثرها أهمية في الانقسام الميوزي:

- الطور التمهيدي الأول
- الطور الاستوائي الأول
- الطور التمهيدي الثاني
- الطور الاستوائي الثاني

18- الفترة المحصورة بين بدء الخلية في الانقسام وبداية الانقسام التالي يقصد بها:

- الإنقسام الميوزي الأول  
 المرحلة الوسيطة للإنقسام غير المباشر  
 الإنقسام الميوزي الثاني  
 دورة الخلية

19- نقطة التقاء كل كروماتيدين في الكروموسوم الواحد :

- كرومير  
 سينترومير  
 كين  
 كيازما

20- مرحلة من الإنقسام الميوزي يختفي فيها الغشاء النووي و النوية و تظهر فيها خيوط المغزل:

- الأستوائية  
 النهائية  
 الأنفصالية  
 التمهيدية

21- تترتب الكروموسومات جنبا إلى جنب في وسط الخلية أثناء الانقسام الميوزي في المرحلة:

- الأستوائية  
 النهائية  
 الأنفصالية  
 التمهيدية

18- تتفصل الكروموسومات بعضها عن بعض لأقطاب الخلية في الانقسام الميوزي في المرحلة:

- الأستوائية  
 النهائية  
 الأنفصالية  
 التمهيدية

22- تختفي خيوط المغزل و يحدث إنشطار للسيتوبلازم و يبدأ الغشاء النووي و النوية في الظهور في أحد الاطوار التالية من الانقسام الميوزي :

- الأستوائية  
 النهائية  
 الأنفصالية  
 التمهيدية

23- عدد الكروموسومات في أنوية الخلايا الجسدية للإنسان هو:

- 23  
 46  
 44  
 48

23- في المرحلة النهائية للإنقسام الميوزي الأول تتكون:

- خليتان بكل منهما  $2n$  كروموسوم  
 خليتان بكل منهما  $n$  كروموسوم  
 4 خلايا بكل منها  $2n$  كروموسوم  
 4 خلايا بكل منها  $n$  كروموسوم

24- تتكون خليتان بكل منهما نصف العدد الأصلي ( n ) من الكروموسومات الأصلية ( 2 n ) في أحد الاطوار التالية:

- الانفصالي من الإنقسام الميوزي الثاني  
 النهائي من الإنقسام الميوزي الأول  
 النهائي من الإنقسام الميتوزي  
 البييني من الإنقسام الميتوزي

25- عدد الكروموسومات في نواة البويضة لأنثى الإنسان هو:

- 23   
46   
44   
22

26- يعرف المشيج بالخلية :

- أحادية المجموعة الكروموسومية  
 ثنائية المجموعة الكروموسومية  
 ثلاثية المجموعة الكروموسومية  
 رباعية المجموعة الكروموسومية

27- العدد الكروموسومي للزيجوت يمثل ..... العدد الكروموسومي للجاميته :

- ربع  
 نصف  
 ضعف  
 ثلث

WWW.KweduFiles.Com

28- عدد الكروموسومات في خلية جلدية للإنسان هي :

- 46 كروموسوم   
64 كروموسوم   
32 كروموسوم   
16 كروموسوم

29- الصيغة الكروموسومية للخلايا الجسدية هي :

- n  
 n+2  
 2n  
 2n+1

30- تترتب أزواج الكروموسومات المتماثلة على خط استواء الخلية في الطور :

- الأستوائي بالإنقسام الميوزي الثاني  
 الأستوائي بالإنقسام الميوزي الأول  
 الأستوائي بالإنقسام الميتوزي  
 التمهيدي بالإنقسام الميوزي الأول

31- يعتبر الإنقسام الميوزي انقساماً ميئوزياً عادياً في :

- الانقسام الميوزي الأول  
 الانقسام الميوزي الثاني  
 الانقسام الغير مباشر  
 الانقسام الاختزالي

4- المادة المستخدمة في تثبيت الخلايا أثناء الطور الاستوائي عند تحضير النمط النووي هي :

- الإيثانول.  
 الكولشيسين.  
 محلول ملحي.  
 الهيبارين.



33- تفرز إحدى العضيات التالية صفيحة وسطى عند انشطار السيتوبلازم في الخلية النباتية :  
 الميتوكوندريا  
 الريبوسومات  
 الشبكة الاندوبلازمية  
 جهاز جولجي

34- يحدث في المرحلة الثالثة من الإصابة بسرطان القولون:  
 يكون الورم صغير و يبقى مكانه في الطبقة الداخلية من جدار القولون  
 لا يحاط الورم بأوعية دموية  
 يظهر الورم محاط بالكثير من الأوعية الدموية و تنتشر خلاياه للغدد اللعابية و الأعضاء المحيطة بالقولون  
 يتسبب المرض بأورام سرطانية في الكبد أو الرئتين أو العظام أو الدماغ

35-العبارات التالية تعبر عن ما يحدث في الطور النهائي للخلية النباتية ما عدا:  
 تكون النوية  
 تكون الصفيحة الوسطية  
 تختفي خيوط المغزل  
 تختصر السيتوبلازم

36- التثوهات الكروموسومية عبارة عن خلل في:  
 عدد الكروموسومات  
 تركيب الكروموسومات  
 بنية الكروموسومات  
 جميع ما سبق

37- الصيغة الكروموسومية الطبيعية للمرأة هي:

XY+44

XX+44

XXY+44

XO+45

WWW.KweduFiles.Com

38- يحدث في حالة وحيد الكروموسومي:

نقص زوج كروموسومي الصيغة الكروموسومية

نقص كروموسوم من أحد أزواج الصيغة الكروموسومية

إضافة كروموسوم مماثل لزوج كروموسومي الصيغة الكروموسومية

خلل في تركيب كروموسوم الأزواج الكروموسومية المتماثلة

39- يحدث في حالة التثلث الكروموسومي:

نقص أحد كروموسومات الجنس كما في حالة تيرنر

تمثل بحالة داون بوجود كروموسوم إضافي مماثل للزوج رقم 21

تمثل بحالة داون بوجود كروموسوم إضافي مماثل للزوج 23

يكون المشيخ الذكر فيها محتويا على 3 كروموسومات جنسية.

40- متلازمة تنشأ بسبب تشوه الكروموسومات و ينتج عنه زيادة في الكروموسوم X:

متلازمة تيرنر

متلازمة كلاينفلتر

السرطان

41- حالة متلازمة المواء ناتجة عن حدوث خلل في بنية الكروموسوم أثناء:

الإنتقال

الانقلاب  
 الزيادة  
 النقص

- 42- احد العمليات التي تنتج خلل في تركيب الكروموسوم بسبب فقدان جزء من الكروموسوم:  
 الإنتقال  
 الانقلاب  
 النقص  
 الزيادة

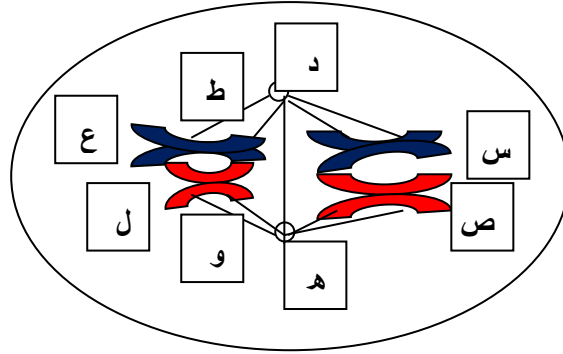
- 43- الخلايا الطبيعية في الجسم تقوم بإتباع مسار منظم يمثلته الترتيب:  
 الإنقسام-النمو-الأسماتة  
 الأسماتة-النمو-الإنقسام  
 النمو-الإنقسام-الأسماتة  
 النمو-الأسماتة-الإنقسام

- 44- تتميز الأورام الحميدة ( غير السرطانية ) بأنها:  
 لها القدرة على الإنتشار عبر الجهاز اللمفي  
 تصيب أعضاء أخرى من الجسم و تكون أورام سرطانية ثانوية  
 عادة ما تكون مغلقة بغشاء  
 تدمر الخلايا و الأنسجة المحيطة بها.

- 45- تتميز الأورام السرطانية الخبيثة بـ \_\_\_\_\_ :  
 عدم عدائية خلاياها السرطانية  
 عدم نقلها المرض إلى الأعضاء الأخرى من الجسم.  
 إمكانية أزالتها بالجراحة أو علاجها بالعقاقير أو الأشعة لتصغير حجمها للشفاء نهائيا.  
 تمثيلها بأورام سرطانية أولية و ثانوية.

WWW.KweduFiles.Com

- 46- الشكل التالي يمثل أحد مراحل الانقسام الخلوي ، أدرسه جيدا ثم أختار الاجابة الصحيحة للأسئلة التي تليه:



- 1- الشكل يمثل مرحلة:  
 استوائية | من الانقسام الميتوزي.  
 استوائية | | من الانقسام الميتوزي.  
 استوائية | من الانقسام الميوزي.  
 استوائية | | من الانقسام الميوزي.  
2- النمط النووي للرسم يمثل :  
 خلية جسدية تركيبية.  
 خلية جسدية منتجة للأمشاج.  
 خلية مشيج مذكر.

- خلية مشيخ مؤنث.
- 3- الشكل يوضح جنس الفرد الذي أخذت منه العينة لأن :
- التركيب س يماثل ص.
- التركيبان س، ص يماثلان التركيبان ع، ل.
- التركيب ل يختلف عن التركيب ع.
- التراكيب س، ص، ع، ل توجد بشكل زوجي.

- 4- يختلف التركيب ع عن التركيب ل في :
- الطول و اللون و الحجم و النشاط.
- الشكل و موقع السنتربول و نمط الخطوط المضيئة.
- الشكل و موقع السنتروسوم و نمط الخطوط المصبوغة و الطول.
- الشكل و موقع السنترومير و نمط الخطوط المصبوغة و الطول.

- 5- عدد الخلايا الناتج من الإنقسام التام لهذا الشكل:
- أربع خلايا منها خليتان غير فعاليتان.
- أربع خلايا فعالة نصفهم مخالف للنصف الآخر.
- أربع خلايا تضرر ثلاثة منهم و تبقى واحدة فعالة.
- أربع خلايا مسؤولة عن إنتاج جنس واحد.

6- يتكون كل من التركيب س، ص، ع، ل من جزئين ، في أحد المراحل البيئية هي:

- مرحلة النمو الأول G1.
- مرحلة النمو الثاني G2.
- مرحلة البناء و التصنيع S.
- مرحلة تضاعف السنتربولات.

7- الجينات المسؤولة عن الصفات المرتبطة بالذكورة يحملها التركيب:

- س ، ص معاً.
- س ، ع معاً.
- ص فقط.
- ل فقط .

السؤال الثاني : ضع علامة ( √ ) أمام العبارة الصحيحة وعلامة ( X ) أمام العبارة غير الصحيحة فيما يلي :-

- 1- ( ) يستخدم النمط النووي لتصنيف جنس الكائن أنثى أو ذكر.
- 2- ( ) أثناء تحضير النمط النووي تضاف مادة الكوليشيسين لتثبيت الخلايا في الطور الانفصالي.
- 3- ( ) تستخدم مادة الهيبارين عند تحضير النمط النووي لتحفيز الخلية على الإنقسام.
- 4- ( ) في تحضير النمط النووي يقوم العلماء بقص كل كرموسوم على حده لترتيب الكرموسومات.
- 5- ( ) تنقسم السنتروميرات و تنفصل الكروماتيدات في الطور الانفصالي من الإنقسام الميوزي.
- 6- ( ) تنفصل الكرموسومات المتماثلة و تبتعد الى أحد قطبي الخلية في الطور الانفصالي الثاني من الإنقسام الميوزي .
- 7- ( ) نواتج الإنقسام الميوزي اربع خلايا بنوية متماثلة مع الخلية الابوية .
- 8- ( ) الكرموسومات الجنسية عند الانثى متماثلة.
- 9- ( ) لا توجد سنتربولات في الخلية النباتية .
- 10- ( ) تختفي خيوط المغزل ويتكون غشاء نووي في الطور التمهيدي.

- 11-) ( لا تكون الخلايا البنيوية الناتجة من الانقسام الميوزي متماثلة . )
- 12-) ( الناتج النهائي للانقسام الميوزي هي اثنان من الخلايا البنيوية . )
- 13-) ( يحدث الانقسام الميوزي في الخلايا الجسدية . )
- 14-) ( الانقسام الميوزي الثاني ما هو إلا انقساماً ميتوزياً . )
- 15-) ( تظهر كروموسومات الرباعي في طور التمهيدي الأول . )
- 16-) ( الكروموسومات الجنسية تكون متماثلة للذكر والانثى . )
- 17-) ( تحتوي الخلية الجسدية لذبابة الفاكهة على 4 كروموسومات )
- 18-) ( عدد الكروموسومات الموجودة في الخلية التناسلية هو نصف عدد الكروموسومات الموجودة في الخلية الجسدية . )
- 19-) ( في الانقسام الخلوي تكون للمادة الوراثية DNA القدرة على مضاعفة نفسها . )
- 20-) ( كل كروموسوم مكون من كروماتيدين ملتصقين عند نقطة السنتروسوم . )
- 21-) ( يتضاعف الحمض النووي DNA في المرحلة البينية الوسطية للانقسام الميتوزي . )
- 22-) ( يحدث الانقسام الاختزالي في رحم انثى الإنسان لتكوين البويضات . )
- 23-) ( كل إنقسام ميتوزي أول يتبعه انقسام ميتوزي ثاني لتكوين الأمشاج . )
- 24-) ( الكروموسوم الصادي الذكري أطول من الكروموسوم الأنثوي السيني . )
- 25-) ( كلما كانت الخلايا صغيرة الحجم كانت مساحة سطحها كبيرة . )
- 26-) ( في طور التمهيدي للانقسام الميتوزي يزداد قصر وتغلظ الكروموسومات . )
- 27-) ( الإنقسام الميوزي يحدث في الخلايا الجسدية والهدف منه التكاثر . )
- 28-) ( الإنقسام الميتوزي يحدث في الخلايا الجسدية والهدف منه التكاثر . )
- 29-) ( الناتج النهائي لعملية الإنقسام الإختزالي خليتان في كل منهما نصف العدد الكروموسومي . )
- 30-) ( تنشأ حالة وحيد الكروموسومي نتيجة فقدان أحد الكروموسومات زوجاً كروموسومياً معيناً . )
- 31-) ( حالة متلازمة المواء ناتجة عن انتقال قطعة من الكروموسوم الي كروموسوم اخر )
- 32-) ( مرض مواء القطط من الأمراض الناتجة من خلل في بنية وتركيب الكروموسومات . )
- 33-) ( الصيغة الكروموسومية الطبيعية للمرأة هي (XX,44) . )
- 34-) ( الانتقال هو عملية يتم فيها فقدان جزء من الكروموسوم )
- 35-) ( سميت الأورام الخبيثة بالسرطانية لأن الأوعية الدموية المنتفخة حول الورم تشبه أطراف سرطان البحر . )
- 36-) ( متلازمة داون من الأمراض الناتجة من خلل في بنية وتركيب الكروموسومات . )
- 37-) ( تعد صبغات الطعام والمواد الحافظة من مسببات السرطان )
- 38-) ( التشوهات الكروموسومية عبارة عن خلل في عدد أو شكل الكروموسومات . )
- 39-) ( يتضاعف العدد الكروموسومي للكروموسومات إلى الضعف في حالة التثلاث الكروموسومي . )
- 40-) ( متلازمة كلاينفلتر تصيب الذكور دون الإناث بزيادة كروموسوم جنسي . )
- 41-) ( موت الخلية المبرمج ( الاستماتة) يحدث بسبب هرم الخلية فتقوم بعملية متعمدة تفكك فيها الخلية نفسها بنفسها . )

السؤال الثالث: أكتب بين القوسين الإسم أو المصطلح العلمي الذي تدل عليه كل من العبارات التالية:

- 1-) ( خارطة كروموسومية للكائن الحي (خلايا حقيقية النواة) . )
- 2-) ( مادة مضادة للتخثر تستخدم في تحضير النمط النووي . )
- 3-) ( مادة تعمل على إيقاف الإنقسام الخلوي في طور الإستوائى . )
- 4-) ( كروموسومات تتشابه في الطول والشكل من حيث موقع السنتروميرو في نمط الخطوط المصبوغة . )
- 5-) ( انقسام يحدث في الخلايا في المناسل لتكوين الأمشاج . )
- 6-) ( الفترة المحصورة بين بدء الخلية في الانقسام وبداية الانقسام التالي . )

- 7-) ( طور يأخذ القسم الأكبر من دورة الخلية . )
- 8-) ( نقطة اتصال الكروماتيدين في الكروموسوم . )
- 9-) ( كل زوج من الكروموسومات مكون من أربع كروماتيدات في الطور التمهيدي الأول . )
- 10-) ( طور من الانقسام الميوزي يعتبر من أطول الأطوار من حيث المدة وأكثرها أهمية )
- 11-) ( مرحلة من الانقسام الاختزالي تترتب أزواج الكروموسومات المضاعفة في وسط الخلية وعلي خط استوائها . )
- 12-) ( يتكون من سنتريولين يكون كل منهما في أحد قطبي الخلية وتمتد بينهما مجموعة من الخيوط الدقيقة في شكل مغزلي . )
- 13-) ( عملية تصاحب الطور النهائي لانقسام الخلية الحيوانية تبدأ كميزاب على سطح الخلية، ويزداد عمق هذا الميزاب تدريجياً حتى تنفصل كل خلية بنوية عن الأخرى . )
- 14-) ( طور في الانقسام الميوزي يتم خلاله تجمع الكروموسومات فرادى في مركز الخلية ثم تصطف عند مستوى استواء الخلية . )
- 15-) ( أزواج كروموسومات متماثلة )
- 16-) ( كروموسومات جنسية تحدد جنس الكائن الحي )
- 17-) ( خيوط رفيعة مكونة من الحمض النووي DNA وبروتين تكون متشابكة كثيرة الالتفاف داخل النواة . )
- 18-) ( طور من أطوار الانقسام غير المباشر بالخلية النباتية يتكون فيها صفيحة وسطية ثم جدار سيلوزي ابتدائي . )
- 19-) ( طور من الانقسام الاختزالي تصطف فيه الكروموسومات في مجموعتين متقابلتين على طول وسط الخلية . )
- 20-) ( فقدان جزء من الكروموسوم كما في حالة متلازمة المواء . )
- 21-) ( انتقال جزء من الكروموسوم واندماجه في الكروموسوم المماثل ل . )
- 22-) ( انتقال قطعة من أحد الكروموسومات الي كروموسوم آخر غير مشابه له . )
- 23-) ( انفصال جزء من الكروموسوم واستدارته ليعود ويتصل في الاتجاه المعاكس بالكروموسوم نفسه . )
- 24-) ( نوع من الأورام تكون عادة مغلقة بغشاء وتتصف بعدم عدائية خلاياها السرطانية . )
- 25-) ( نوع من الأورام السرطانية تهاجم الخلايا والأنسجة المحيطة بها وتدمرها . )
- 26-) ( مرض ينتج من وجود نسخة اضافية من كروموسوم 21 لدي الطفل . )
- 27-) ( متلازمة شائعة لدي الذكور الذين يمتلكون كروموسوم سيني X إضافيا علي الكروموسومين X و Y . )
- 28-) ( خلل في عدد أو شكل الكروموسومات يصاب بها حوالي خمسة من بين ألف ولادة حية . )
- 29-) ( حاله يحدث فيها تهرم الخلية وتقوم بعملية متعمدة تفكك بها الخلية نفسها . )
- 30-) ( حالة تشوه كروموسومي تنشأ نتيجة فقدان أحد الكروموسومات من زوج كروموسومي معين )

السؤال الرابع:

اختر من عبارات المجموعة ( ب ) ما يناسب عبارات المجموعة ( أ ) وأكتب الرقم في مربع الإجابة :

الإجابة	المجموعة ( أ )	المجموعة ( ب )
الإجابة	المجموعة ( أ )	المجموعة ( ب )
	= تحتوي على 23 كروموسوم DNA .	2- الخلايا الجسمية في الإنسان.
	- تختفي النوية ويتحلل الغشاء النووي . - تتجمع الكروموسومات في مركز الخلية ثم تصطف عند استواء الخلية . - ينقسم السنتروميير الذي يربط بين كل كروماتيدين . - يبدأ انشطار السيتوبلازم في الخلية.	2- الطور التمهيدي . 3- الطور البييني. 4- الطور الإنفصالي . 5- الطور الإستوائي .
الإجابة	المجموعة ( أ )	المجموعة ( ب )
	-الصيغة الكروموسومية الطبيعية للرجل	1- (XY,45) أو (XX,45)
	- الصيغة الكروموسومية لمتلازمة تيرنر	2- (YXX,44)
	-الصيغة الكروموسومية الطبيعية للمرأة	3- (XY,44)
	-الصيغة الكروموسومية لمتلازمة داون	4- (X,45)
	-الصيغة الكروموسومية لمتلازمة كلاينفلتر	5- (XX,44)

الإجابة	المجموعة ( أ )	المجموعة ( ب )
	الطور التمهيدي	1. تقوم الخلية بتصنيع العضيات في السيتوبلازم
	مرحلة النمو G1	2. تزداد الخلية في الحجم
	الطور الاستوائي	3. يزداد قصر وتغلظ الكروموسومات
	الطور النهائي	4. تتجمع الكروموسومات في وسط الخلية
	الطور الانفصالي	5. تتكون النويتين والغشاء النووي حول مجموعتي الكروموسومات
	مرحلة النمو G2	6. ينقسم السنتروميير مما يؤدي الى انفصال الكروماتيدات

الإجابة	المجموعة ( أ )	المجموعة ( ب )
	الصيغة الكروموسومية للخلايا الجسدية	1-كروموسومات جسميه
	ازواج كروموسومات متماثلة	2-كروموسومات جنسية
	الصيغة الكروموسومية للخلايا الجنسية	2n-3
	النمط النووي للإنسان	n-4
		5- 46 كروموسوم
		6-64 كروموسوم

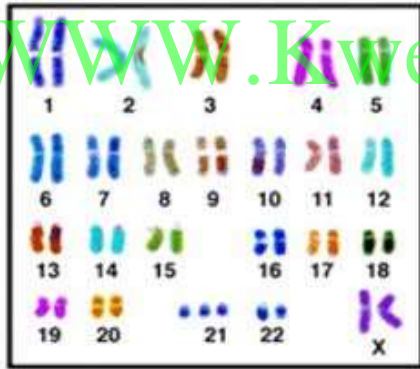
الإجابة	المجموعة ( أ )	المجموعة ( ب )
---------	----------------	----------------

1-النمو.	عبارة عن خارطة كروموسومية للكائن الحي.	
2- الطور الاستوائي.	طور يأخذ القسم الأكبر من دورة الخلية.	
3- الانقلاب.	طور تقوم فيه خيوط المغزل بترتيب الكروموسومات في منتصف الخلية.	
4- النمط النووي.	زيادة حجم الكائن الحي نتيجة ازدياد عدد الخلايا في جسمه.	
5- الطور البيئي.	انفصال جزء من الكروموسوم واستدارته ليعود ويتصل في الاتجاه المعاكس بالكروموسوم نفسه.	

السؤال الخامس :

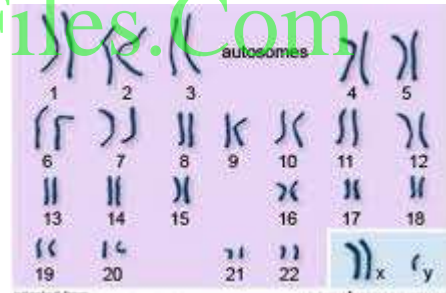
أدرس الاشكال التالية وأجب عما يلي :

(1) الخرائط الكروموسومية التالية توضح أمراض نتيجة خلل في انقسام الكروموسومات:



الشكل (2)

بينما الشكل (2) يوضح توزيع

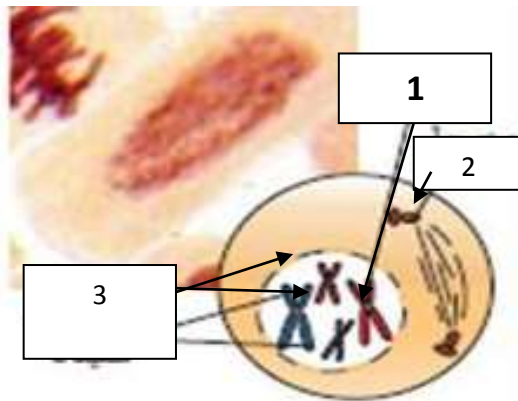


الشكل (1)

الشكل (1) يوضح توزيع الكروموسومات في متلازمة

الكروموسومات في متلازمة .....

(2) الشكل أمامك يمثل الطور التمهيدي في الانقسام الميتوزي .



أكمل البيانات:

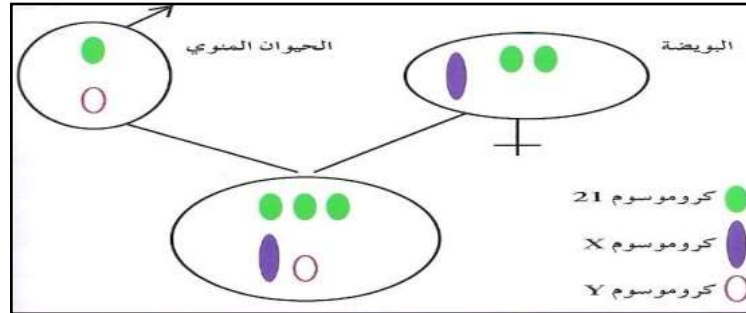
1-.....

2-.....

3-.....

(3) الشكل يوضح تشكل زيجوت ذات ثلاث كروموسومي في الانسان :

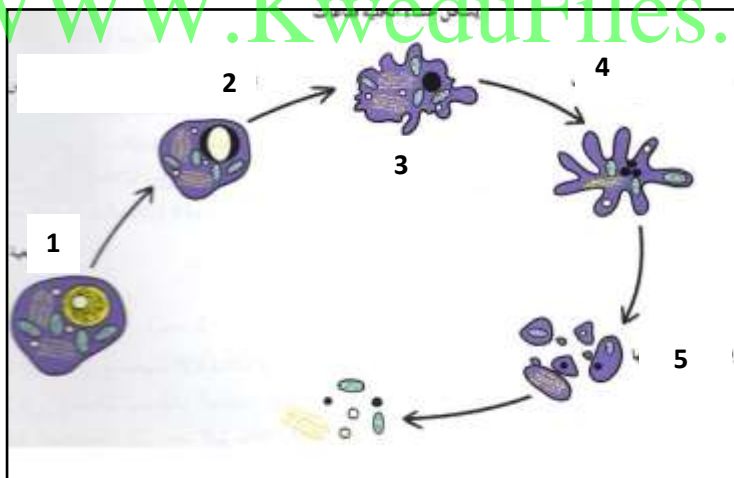
- 1- ما هو عدد الكروموسومات في البويضة؟ .....
- 2- ما اسم الحالة المرضية الناتجة من هذا الاندماج؟ .....



(4) الشكل يوضح مراحل استماتة الخلية:

- 1- متى تقوم الخلية بالاستماتة في الحالات الطبيعية؟ .....
- 2- ماذا نتوقع أن يحدث اذا فقدت الخلية قدرتها على الاستماتة؟ .....

WWW.KweduFiles.Com

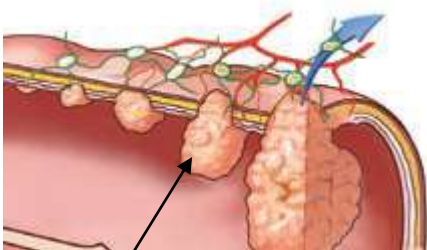


3- أكتب ما يحدث خلال مراحل الاستماتة المرقمة على الشكل

1. ....
2. ....
3. ....
4. ....
5. ....

(6) الشكل الذي أمامك يمثل مراحل سرطان القولون :

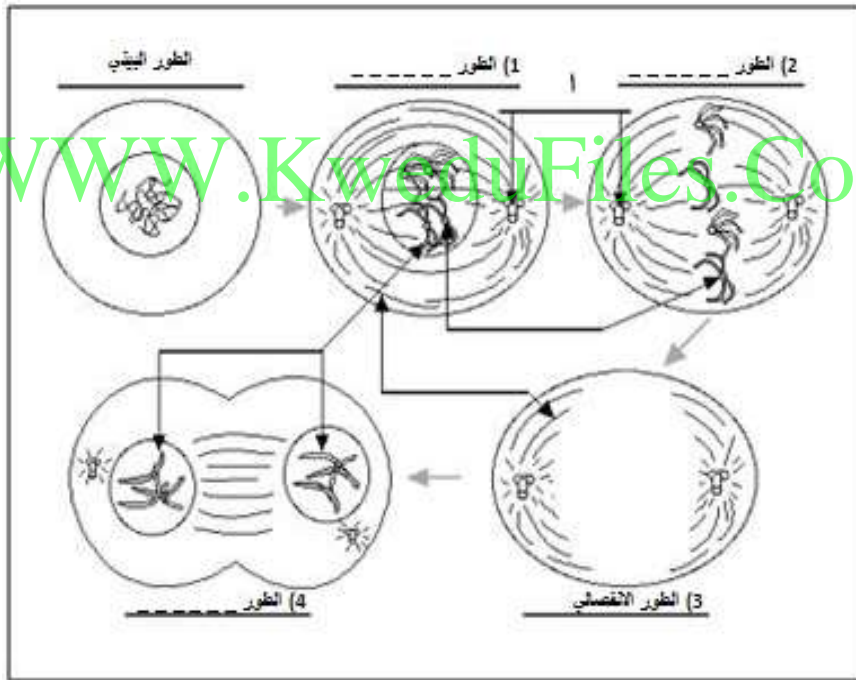
1. رقم (1) يشير الي اي مرحلة من مراحل سرطان القولون؟





2. هل يمكن استئصاله بواسطة عملية جراحية في هذه المرحلة؟

(7)- أمامك مخطط للانقسام الميوزي ، أكتب اسم الطور على كل خلية ثم أجب عن الأسئلة التالية لها :



1- ما هي مراحل الطور البييني ؟

أ- ..... ب- ..... ج- .....

2- السهم أ يشير إلى .....

3- في الطور 1 تلتصق الكروموسومات بخيوط المغزل بواسطة .....

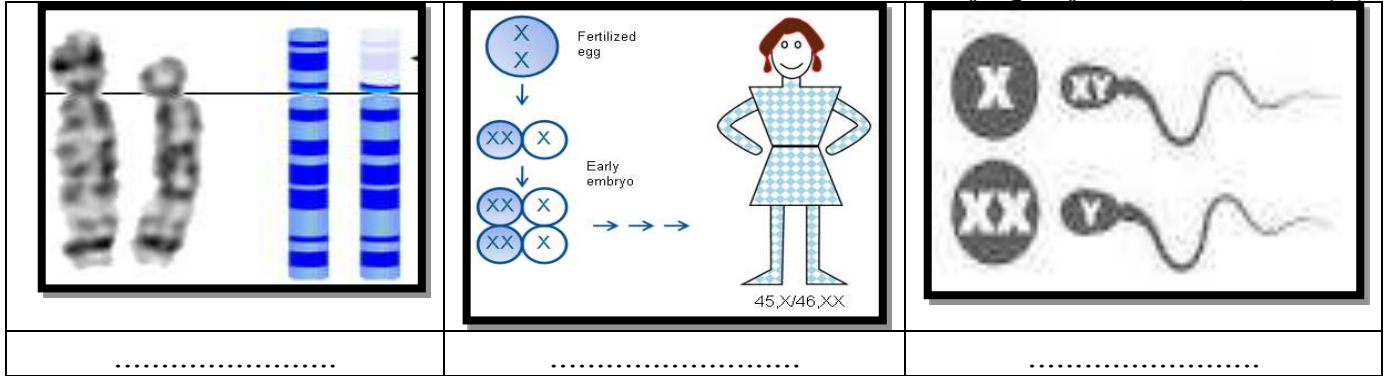
4- أكمل رسم الخلية في الطور الانفصالي موضحا شكل الكروموسومات.

5- ما سبب تسمية الطور رقم 3 بالطور الانفصالي ؟


6- ما هي الأطوار التي تمثلها الأرقام على المخطط ؟

1- ..... 2- ..... 3- ..... 4- .....

(8) ما إسم المتلازمة التي تنتج في الأشكال التالية:



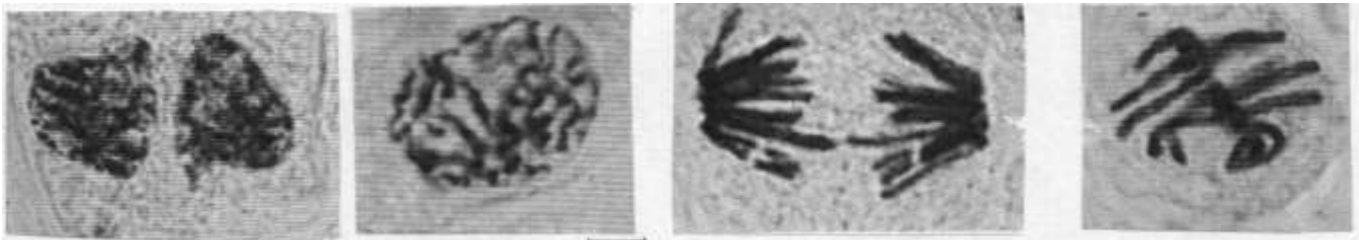
(9) الانقسام غير المباشر ( الميتوزي ) في الخلايا الحية طريقة عامة للتكاثر اللاجنسي في صور الحياة الدنيا وللنمو في صور الحياة الأرقى ، وعملية الانقسام الخلوي تتضمن انقساماً للنواة والسيتوبلازم .. من خلال الرسم المرفق ، اجب عن الأسئلة المطلوبة :



أ\_ حدد اسم المرحلتين المشار إليهما بأسمهم على الرسم ؟

( أ ) ..... ( ب ) .....


(10) رتب مراحل الانقسام الميتوزي التالية وذلك بكتابة الرقم المناسب واسم كل مرحلة أسفل الرسم :



أ\_ ما أهمية تكوين خيوط المغزل في الانقسام الخلوي ؟

ب\_ صف وضع الكروموسومات في المرحلة رقم ( 2 ) بعد الترتيب .

1

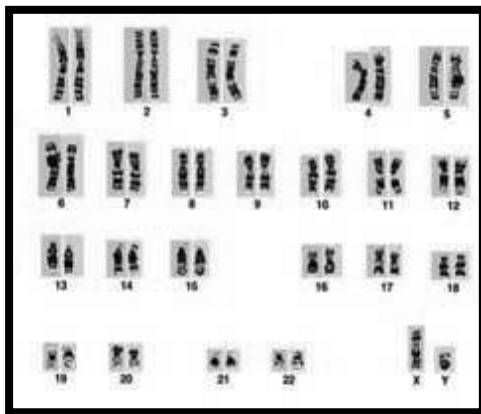


(11) الأشكال المقابلة تمثل ثلاثة أنماط نووية لخلايا بشرية - والمطلوب

www.KweduFiles.Com


- اكتب اسم النمط النووي الذي يمثله الشكل 1: .....

2

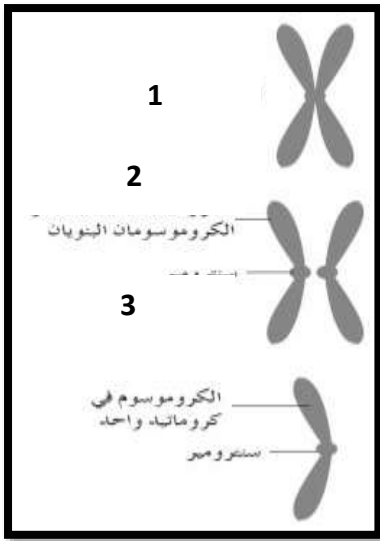


- اكتب اسم النمط النووي الذي يمثله الشكل 2: .....

3



- اكتب اسم النمط النووي الذي يمثله الشكل 3: .....



(12)- الأشكال المقابلة تمثل ثلاثة مراحل للطور الانفصالي بالخلية والمطلوب :

- الكروموسوم المضاعف رقم .....
- الكروموسومان البنيويان رقم .....
- الكروماتيد الواحد رقم .....

السؤال السادس :

( أ) الكلمات التالية متعلقة بمرض السرطان، ضع كل كلمة في الجدول الذي يناسبها:

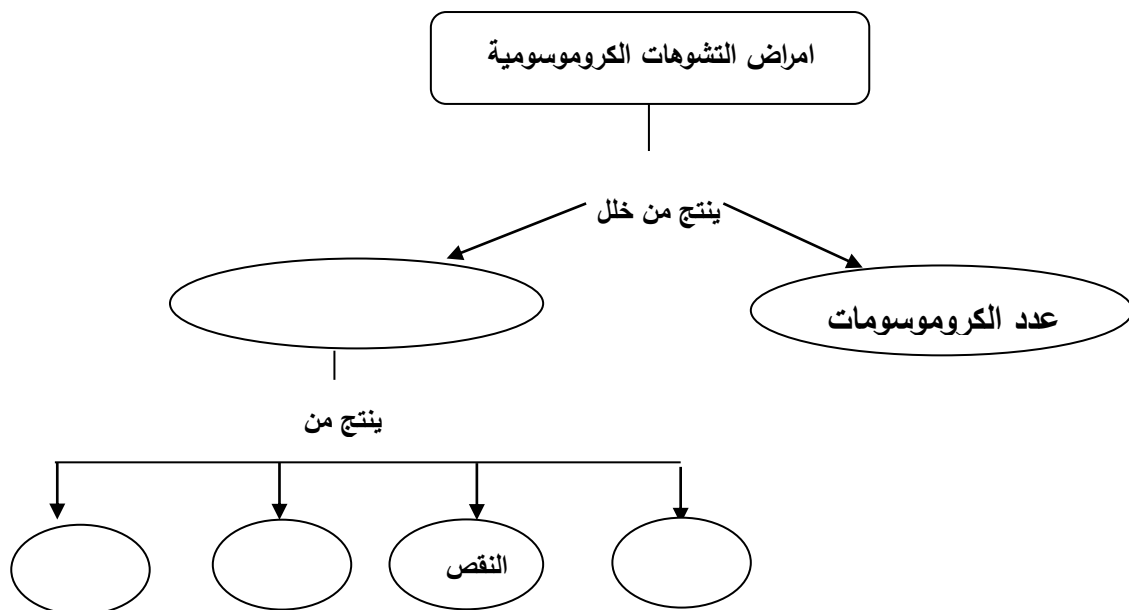
المواد الحافظة - ورم حميد - التدخين - الاستئصال الجراحي - أشعة أكس - ورم خبيث - الإشعاعات الأيونية

أنواعه	مسبباته		علاجه
	فيزيائية	كيميائية	

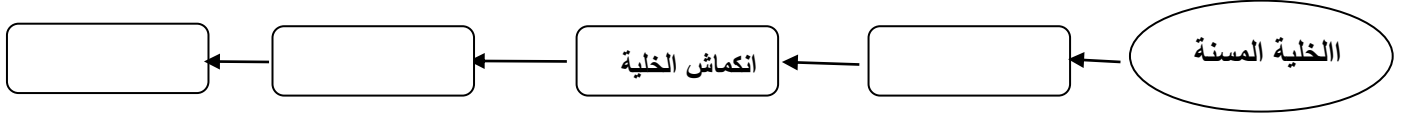
WWW.KweduFiles.Com

( ب) أكمل خرائط المفاهيم ادناه بإضافة المصطلحات التالية:

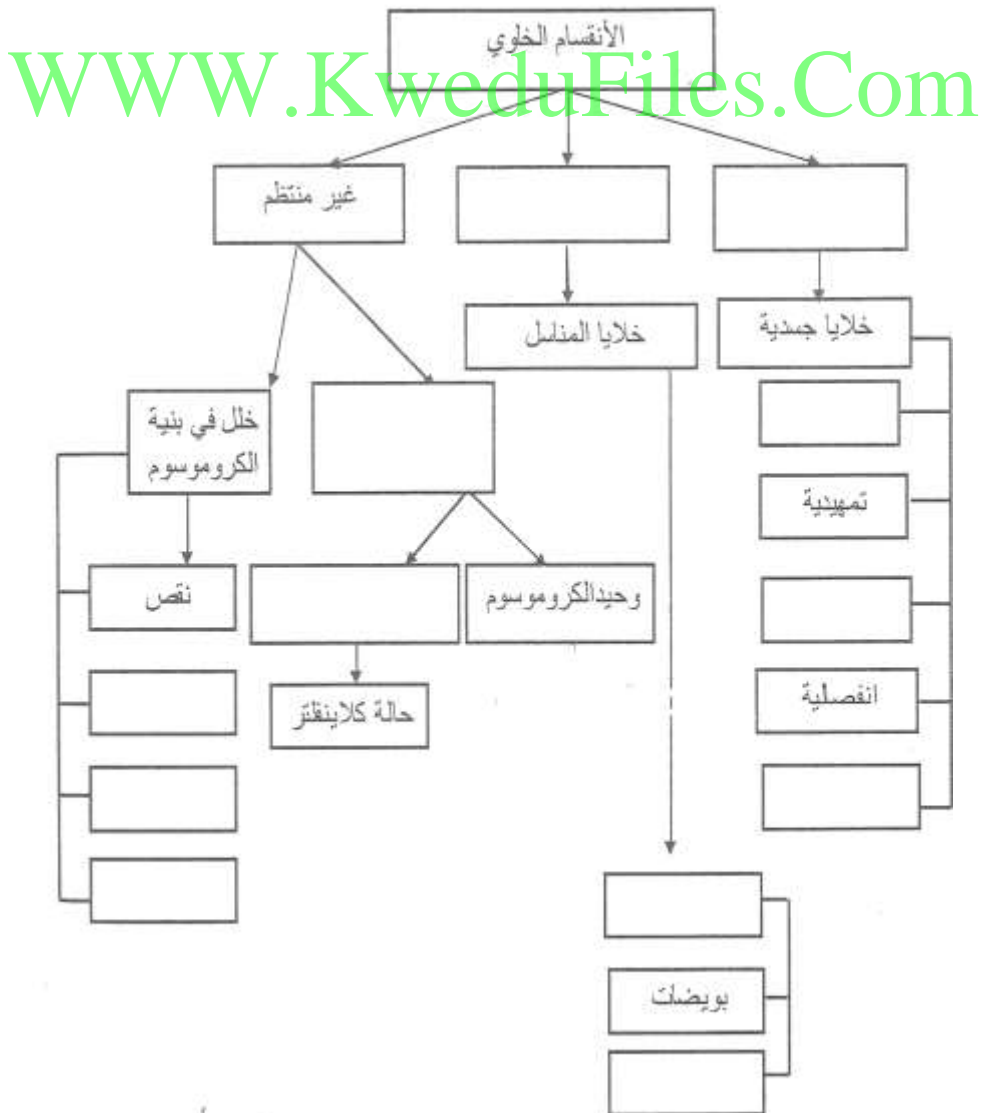
1- الانتقال - تركيب الكروموسومات - الزيادة - الانقلاب.



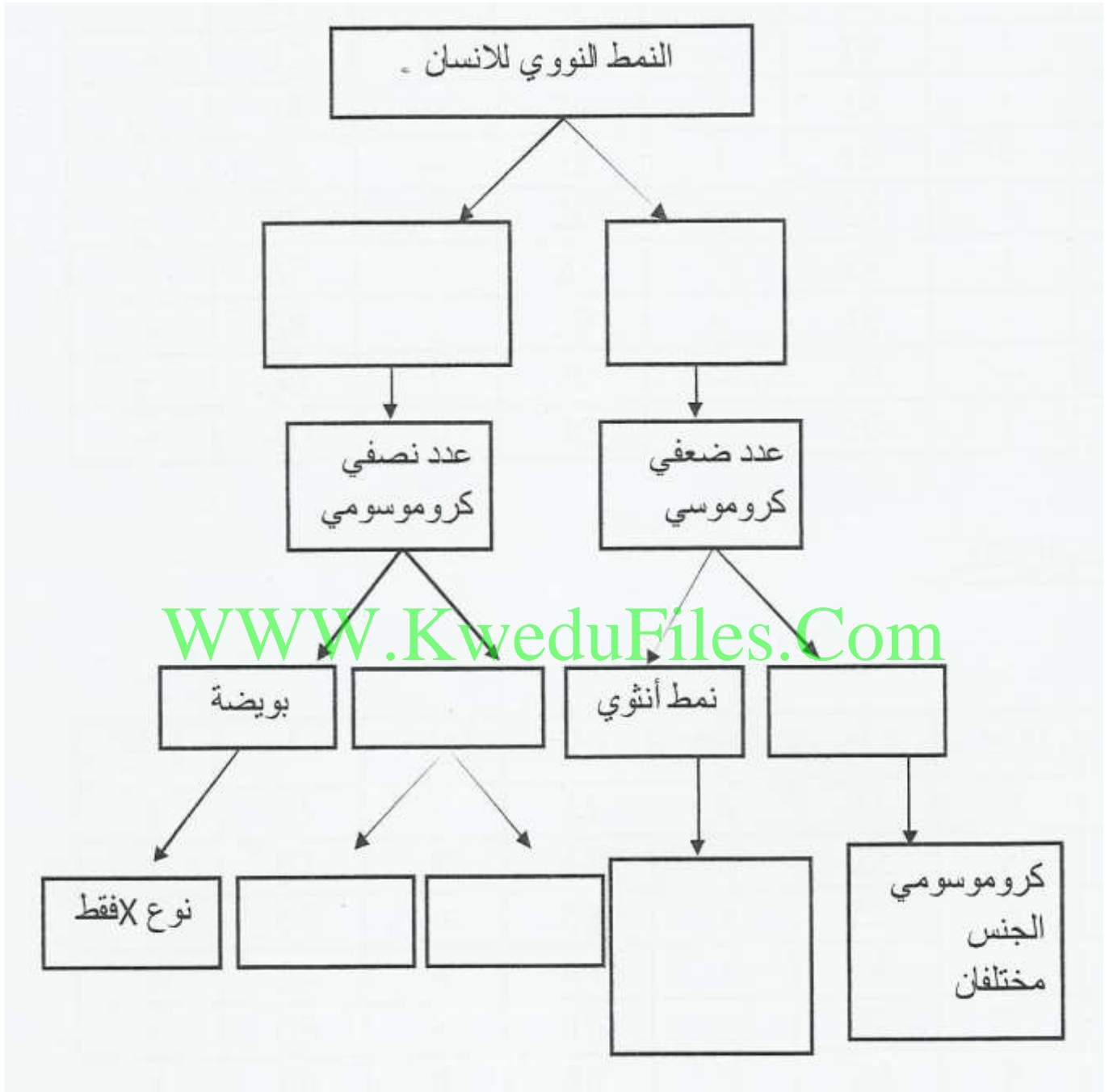
2- موت الخلية - تحطيم DNA - نمو الخلية - انقسامات غير منظمة - ابتلاع الخلية - تكاثر الخلية



ج-ميوزي-استوائية - تثليث كروموسوميزيادة -بينية -حبوب لقاح-إنقلاب-نهائية-ميتوزي-إنتقال -خلل في عدد الكروموسومات-حيوان منوي.



( د ) خلايا جسمية - حيوان منوي-خلايا مشيجية-نوع ٧- كروموسومي الجنس متشابهان-نمط ذكري -نوع X.



( ه ) صنف أسباب الاصابة بالسرطان وفقا لأنواعها:

المواد الحافظة - اشعة اكس - الاشعة فوق بنفسجية - السجائر- قطران الفحم -الفيروسات

العوامل البيولوجية	العوامل الكيميائية	العوامل الفيزيائية
.....	.....	.....
.....	.....	.....
.....	.....	.....

السؤال السابع : علل لما يأتي تعليلا علميا سليما:

- 1-تضاف مادة الهيبارين للمربي المحتوى على الدم عند تحضير النمط النووي.
- 2-إضافة مادة الكولشيسين على عينة الدم بالمربي عند تحضير النمط النووي.
- 3-عند حدوث الإنقسام الميتوزي ( غير المباشر ) لا بد من البدء بالمرحلة البينية الوسطية.
- 4- بالرغم من عدم تخصر السيتوبلازم في الخلية النباتية أثناء إنقسامها إلا أن الخلية الأم تنقسم إلى خليتين .
- 5- تنقسم الخلية النباتية على الرغم من عدم وجود جسم مركزي (سنترسوم).
- 6- إصابة بعض الاشخاص بالسرطان.
- 7- إصابة بعض الاطفال بمتلازمة داون
- 8-ظهور أعراض متلازمة المواء عند بعض الأطفال.

WWW.KweduFiles.Com

السؤال الثامن: قارن بين كل من :

الرجل	المرأة	اوجه المقارنة
		الصيغة الكروموسومية الطبيعية
التثلث الكروموسومي	وحيد الكروموسومي	سببها
متلازمة تيرنر	متلازمة كلاينفلتر	الجنس
		عدد الكروموسومات للخلية الصيغة الكروموسومية
الانقلاب	الزيادة	

		التعريف
الاورام الحميدة	الاورام الخبيثة	
		الاحاطة بغشاء نقل المرض لأعضاء أخرى الشفاء منه

وجه المقارنة	الانقسام الميتوزي	الانقسام الميوزي
المرحلة التمهيدية :		
المرحلة الاستوائية :		
المرحلة الانفصالية :		
المرحلة النهائية :		
الهدف من الانقسام :		
عدد الخلايا الناتجة :		
في أي خلايا جسم الحيوان يحدث :		
في أي خلايا جسم النبات يحدث :		
العدد الكروموسومي للخلايا الناتجة :		
وجه المقارنة	خلايا جلد الانسان	خلايا مبيض الانسان
نوع الانقسام :		
العدد الكروموسومي للخلايا الناتجة :		

وجه المقارنة	الزيجوت	حيوان منوي
العدد الكروموسومي :		



السؤال التاسع: ما أهمية :

- 1- إنقسام الخلايا .
- 2- الإنقسام الإختزالي في خلايا متك زهرة .
- 3- الطور البيني قبل الإنقسام الخلوي .
- 4- خيوط المغزل أثناء الإنقسام الخلوي

السؤال العاشر : ماذا تتوقع أن يحدث في الحالات التالية :

- 1- غياب الطور البيني في الانقسام غير المباشر .
- 2- اختفاء الجسم المركزي قبل انقسام الخلية الحيوانية .
- 3- انقسام السنتروميير في كل كروموسوم في المرحلة الانفصالية للانقسام الميتوزي .
- 4- إذا لم يختزل عدد الكروموسومات إلى النصف في الانقسام الميوزي .
- 5- اذا اتحد حيوان منوي به كروموسوم جنسي قصير ( Y ) مع بويضة.
- 6- إذا ترتبت الكروموسومات في صف واحد أثناء انقسام الخلية.
- 7- عدم انفصال الزوج الكروموسومي رقم 21 عند تكوين الأمشاج.
- 8- اتحاد حيوان منوي به الكروموسومين xy مع بويضة .
- 9- عندما يمر السرطان بالمرحلة الثالثة .

WWW.KweduFiles.Com

السؤال الحادي عشر: أرسم كل مما يلي :

أولاً : الانقسام الميوزي :

1- المرحلة الأستوائية لخلية تحتوي على 4 كروموسوم

2- المرحلة الانفصالية لخلية تحتوي على 4 كروموسوم

ثانياً : الانقسام الميوزي الأول:

1- المرحلة الاستوائية الخلية تحتوي 4 كروموسوم

WWW.KweduFiles.Com

2- المرحلة الانفصالية الخلية تحتوي على 4 كروموسوم