

تم تحميل هذا الملف من موقع المناهج الكويتية



الملف مذكرة إثرائية محلولة من علا

موقع المناهج ← المناهج الكويتية ← الصف السابع ← اجتماعيات ← الفصل الثاني

روابط مواقع التواصل الاجتماعي بحسب الصف السابع



روابط مواد الصف السابع على تلغرام

[الرياضيات](#)

[اللغة الانجليزية](#)

[اللغة العربية](#)

[التربية الاسلامية](#)

المزيد من الملفات بحسب الصف السابع والمادة اجتماعيات في الفصل الثاني

مذكرة موضوعية محلولة	1
حل الكتاب	2
حل الوحدة الرابعة في مادة الاجتماعيات	3
بنك اسئلة التربية سابع	4
مراجعات الصف السابع	5



الاجتماعيات

الكورس الثاني

7



موقع
المناهج الكويتية
almanahj.com/kw

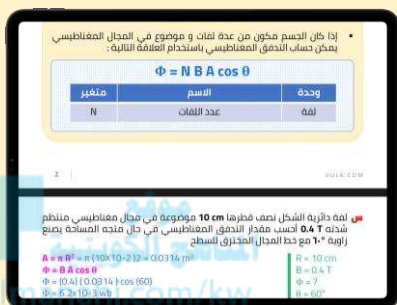
الاجتماعيات

الكورس الثاني

7

شلون تتفوق بحراستك

طريقة علا المتكاملة للدراسة تشمل الاستفادة من المذكرة و الفيديوهات و الاختبارات



⚠ علا تخلي المذكرة أقوى

تبي أعلى الدرجات؟ لا تعتمد على المذكرة بروحها - ادرس صح من الفيديوهات و الاختبارات

اختبارات ذكية تدريك

حل الاختبارات الالكترونية أول بأول عشان ترفع مستواك



فيديوهات تشرح لك

تابع الفيديوهات و انت تدرس المذكرة عشان تضبط الدرس



اشترك بالمادة

احرص على تفعيل اشتراكك عشان تستفيد كثر ما تقدر



اكتشف عالم التفوق مع باقات علا ادرس جميع مواد مرحلتك باشتراك واحد بسعر خيالي

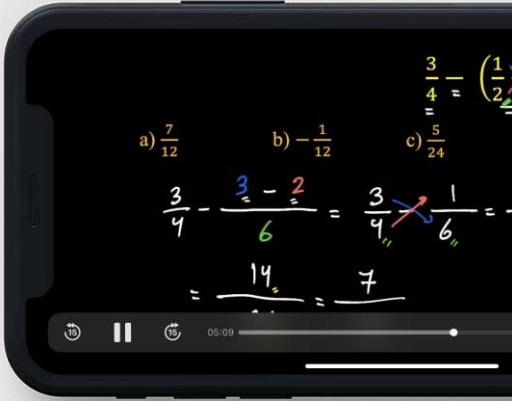
المنقذ

أقوى مذكرة صارت الحين أقوى و أقوى مع خاصية
المنقذ للمساعدة الفورية

شنو المنقذ؟

امسح الباركود بكاميرا تلفونك
وتعرف على طريقة استخدام المنقذ

المنهج الكويتية
almanahj.com/kw



شنو فائدة هالخاصية؟

أول ما تحتاج مساعدة بالمادة , المنقذ بينقذك .

امسح الباركود بكاميرا التلفون أو اضغط عليه إذا كنت فاتح
المذكرة من جهازك و يطلع لك فيديو الشرح.

01 الوطن العربي - ملامح بشرية واقتصادية

نمو السكان وتوزيعهم في الوطن العربي	5
الكثافة السكانية في الوطن العربي	10
الموارد الاقتصادية في الوطن العربي	14
الإنتاج الحيواني	23
الثروة المائية	27



02 الطاقة والثروة المعدنية

النفط والغاز الطبيعي	29
التعدين في الوطن العربي	39
المنظمات الاقتصادية الإقليمية والدولية	42

03 الإنتاج الصناعى والنقل

الإنتاج الصناعى	47
النقل في الوطن العربي	52
التبادل التجاري في الوطن العربي	56

04 قضايا وحلول نحو مستقبل عربى أفضل

المشكلات الأساسية في الوطن العربي	58
مشاكل استثمار المياه	61
التلوث البيئى	63
التنمية في الوطن العربي	69
التعاون والتضامن العربى لتحقيق التقدم والتنمية	72
دور دولة الكويت في العمل العربى المشترك	76



نمو السكان وتوزيعهم في الوطن العربي

أكمل العبارات التالية:

س تبلغ مساحة الوطن العربي حوالي 13.500 مليون كم2

س عدد الدول التي يتألف منها الوطن العربي 22 دولة

س يبلغ عدد سكان الوطن العربي حوالي 382.009 مليون نسمة تقريباً

س يتوزع سكان الوطن العربي بنسبة 70% في قارة تسمى أفريقيا

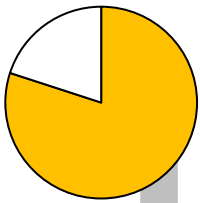
المناهج الكويتية

س يتوزع سكان الوطن العربي بنسبة 30% في قارة تسمى آسيا

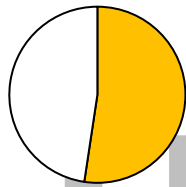
س يتوزع سكان الوطن العربي بين قارتي أفريقيا آسيا

اختياري:

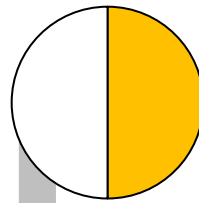
س نسبة سكان الوطن العربي في الجناح الآسيوي يمثلها الجزء المظلل في الدائرة البيانية التي تحمل الحرف:



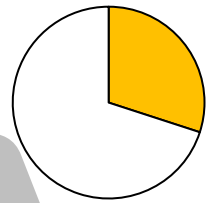
د



ج

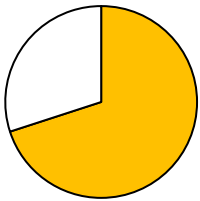


ب

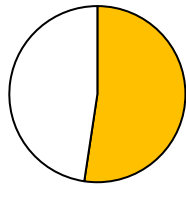


أ

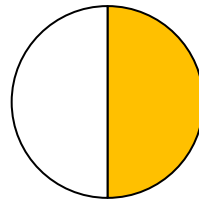
س نسبة سكان الوطن العربي في الجناح الأفريقي يمثلها الجزء المظلل في الدائرة البيانية التي تحمل الحرف:



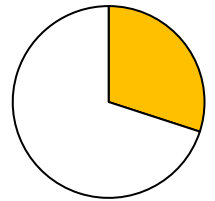
د



ج



ب



أ

أكمل:

س تعتمد دراسة السكان بصورة عامة على الإحصاءات السكانية

س عدد أهم الإحصائيات السكانية

- التعداد السكاني
- الإحصاء الحيوي

س عرف التعداد السكاني

قيام الدولة بإجراء تعداد لسكانها من حين لآخر

أكمل:

س تقوم الدول بإجراء تعداد لسكانها كل خمس سنوات أو 10 سنوات



س علل قيام الدولة بإجراء تعداد لسكانها

- الحصول على معلومات وافية عن أوضاع سكانها
- معرفة عددهم الإجمالي
- عدد كل جنس (ذكور وإناث) وأعمارهم

س عرف الإحصاء الحيوي:

يمكن أن يظهر السؤال في صيغة أخرى:
ماذا يستفاد من الإحصاء الحيوي في دول الوطن العربي

تسجيل المواليد والوفيات وحالات الزواج والطلاق

أكمل العبارات التالية:

س يتم الحصول على بيانات الإحصاء الحيوي من السجلات الرسمية للدولة

س العام الميلادي الذي أنشئت فيه الإدارة المركزية للإحصاء في الكويت 1963م

س أُجري أول تعداد سكاني في الكويت عام 1957م

س الجهة المسئولة عن أول تعداد سكاني في دولة الكويت تسمى الشؤون الاجتماعية



تدرب و تفوق
اختبارات الكترونية



لاحظ الجدول التالي ثم أجب عن الأسئلة التي تليه:

م	الدولة العربية	المساحة كم ²	عدد السكان (ألف نسمة)
1	المغرب	710.850	33.304.000
2	جيبوتي	23.200	939.000
3	السودان	1.882.000	37.402.000
4	الصومال	637.657	12.317.000
5	الجزائر	3.381.741	39.402.000
6	تونس	164.150	10.983.000

س استخلص من الجدول الدول العربية التي عدد سكانها أقل من 11 مليون نسمة

المنهج الكويتية
almanahj.com/kw

- جيبوتي
- تونس

س استخلص من الجدول أكبر الدول العربية مساحة

- الجزائر

س استخلص من الجدول أكبر الدول العربية مساحة

- الجزائر

س عدد الدول العربية التي يزيد عدد سكانها على 20 مليون نسمة

- مصر
- السودان
- المغرب
- السعودية
- الجزائر
- العراق

س عدد الدول العربية التي يقل عدد سكانها عن 5 مليون نسمة؟

- موريتانيا
- جيبوتي
- جزر القمر
- فلسطين
- لبنان
- الكويت
- البحرين
- قطر
- عُمان

أكمل العبارات التالية:

س عدد سكان الوطن العربي في الجناح الأفريقي 231.384 مليون نسمة

س عدد سكان الوطن العربي في الجناح الآسيوي 150.925 مليون نسمة

س قارن بين مساحة الدول التالية بعدد سكانها :

دولة	مساحة الدولة	عدد سكانها
الكويت	17.818 كم ²	3.715 مليون نسمة
مصر	1.009.450 كم ²	86.814 مليون نسمة
ليبيا	1.665.000 كم ²	5.912 مليون نسمة

س علل اختلاف عدد السكان من دولة عربية لأخرى

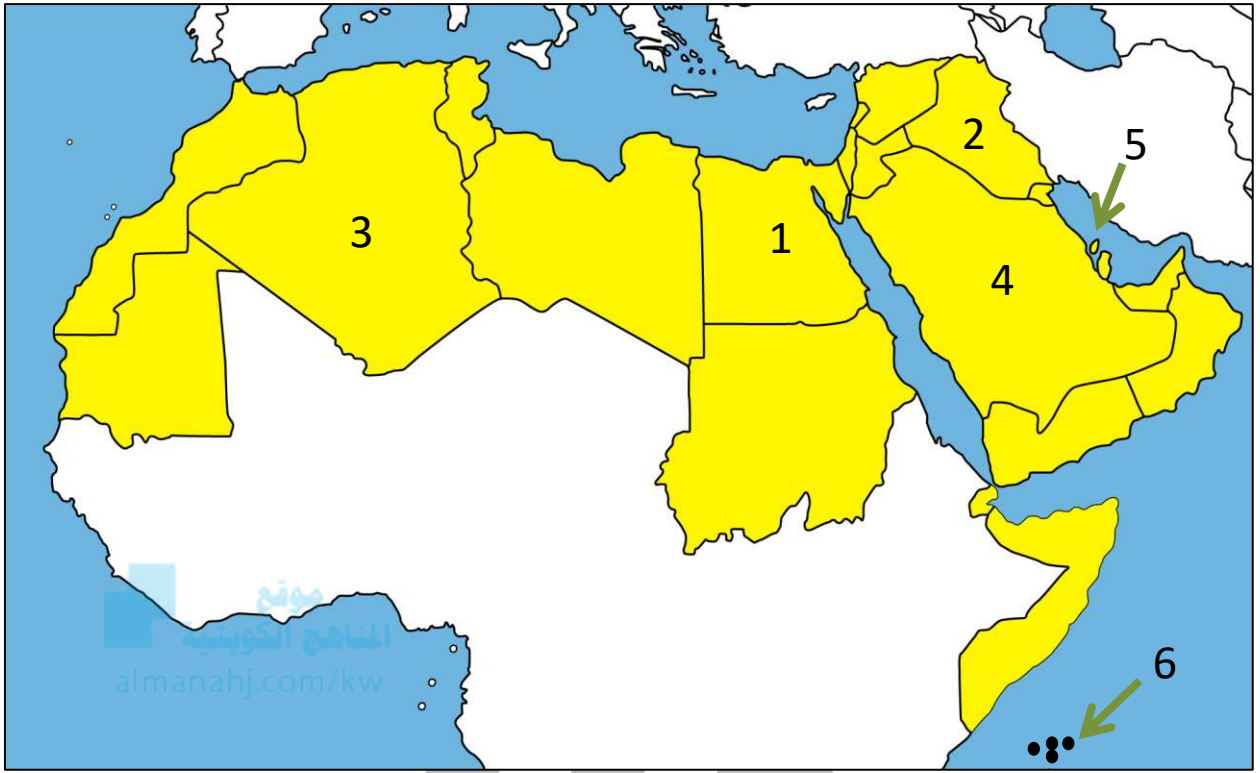
- المساحة الكلية
- العوامل الطبيعية والبشرية

موقع
المناهج الكويتية
almanahj.com/kw



U U L A

لاحظ خريطة الوطن العربي الصماء ثم اكتب الرقم الدال على كلاً مما يلي:



- س أكبر دولة عربية من حيث المساحة يمثلها الرقم 3 (الجزائر)
- س أصغر دولة عربية من حيث المساحة يمثلها الرقم 5 (البحرين)
- س أكثر الدول العربية سكاناً حسب إحصاء عام 2014 م يمثلها الرقم م 1 (مصر)
- س أصغر دولة عربية من حيث عدد السكان يمثلها الرقم 6 (جزر القمر)
- س الدولة العربية الآسيوية الأولى من حيث عدد السكان يمثلها الرقم 2 (العراق)
- س الدولة العربية الآسيوية الأولى من حيث المساحة يمثلها الرقم 4 (السعودية)
- س الدولة العربية الآسيوية الأقل في عدد السكان يمثلها الرقم 5 (البحرين)
- س الدولة العربية الأفريقية الأقل في عدد السكان يمثلها الرقم 6 (جزر القمر)



تدرب و تفوق
اختبارات الكترونية



الوطن العربي - ملامح بشرية واقتصادية

الكثافة السكانية في الوطن العربي

عرف المفاهيم التالية:

س الكثافة السكانية:

نسبة عدد السكان الكلي في دولة ما إلى المساحة الكلية للدولة

س الكثافة السكانية العامة:

عدد السكان الكلي ÷ المساحة الكلية

موقع
الماناهج الكويتية
almanahj.com/kw

استخرج الكثافة السكانية العامة للدول العربية التالية:

دولة	مساحة الدولة	عدد سكانها (بألف نسمة)
الكويت	17.818 كم ²	3.715 مليون نسمة
موريتانيا	1.030.700 كم ²	3.546 مليون نسمة
البحرين	712 كم ²	1.399 مليون نسمة

س الكثافة السكانية العامة لدولة الكويت

$$208 = 17.818 \div 3.715.000 \text{ نسمة كم}^2$$

س الكثافة السكانية العامة لدولة موريتانيا

$$3 = 1.030.700 \div 3.546.000 \text{ نسمة كم}^2$$

س الكثافة السكانية العامة لمملكة البحرين

$$1964 = 712 \div 1.399.000 \text{ نسمة كم}^2$$

اختر الإجابة الصحيحة

س نسبة عدد السكان الكلي في دولة ما أو منطقة ما إلى المساحة الكلية لهذه الدولة أو المنطقة

- الكثافة السكاني
- الهجرة
- النمو السكاني
- التوزيع السكاني

س بعض الدول العربية تعاني من مشكلة سوء توزيع السكان فيها و في مقدمتها دولة تسمى

- لبنان
- البحرين
- الكويت
- مصر

س علل تعاني مصر من سوء توزيع السكان فيها

بسبب تركز السكان على مساحة صغيرة جداً في وادي النيل ودلتاه



س عدد أقسام مناطق الوطن العربي من حيث الكثافة



س علل وجود مناطق شبة خالية من السكان في الوطن العربي ؟
لعدم توافر مقومات الحياة مثل المياه والتربة الصالحة للزراعة

س عدد المناطق المناخية التي يقل فيها السكان

ممكن أن يظهر السؤال في صيغة أخرى:
المناطق التي لا يرغب السكان في العيش فيها



■ المناطق الجبلية



■ المناطق الصحراوية

س عدد المناطق التي يجذب السكان للعيش فيها



حول مصادر المياه ▪ المناطق السهلية ذات المناخ المعتدل ▪

تدرب و تفوق

اختبارات الكترونية

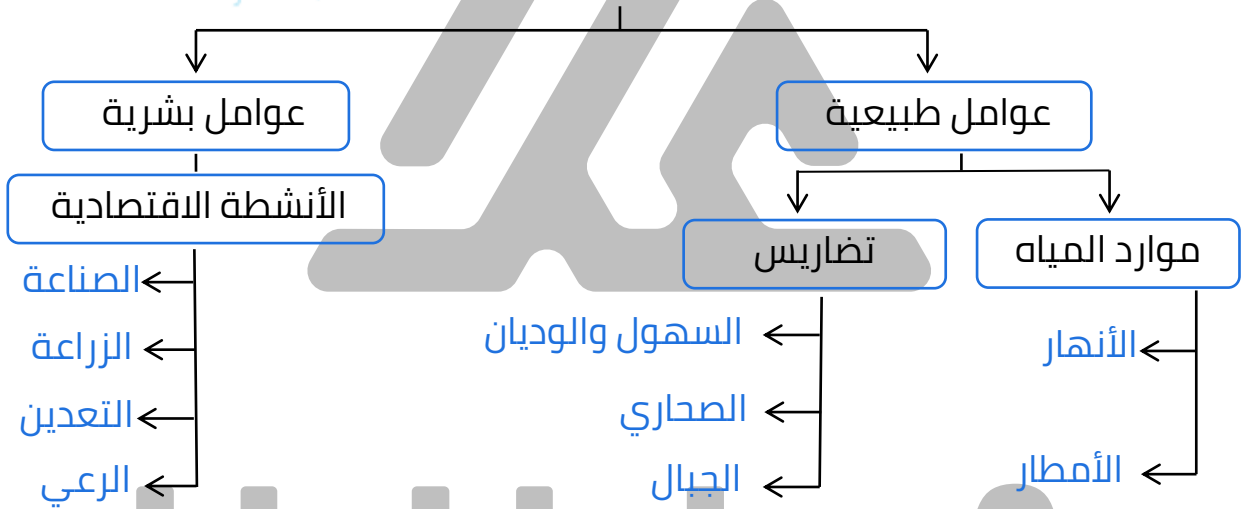


س العوامل المؤثرة في توزيع السكان

ممكن أن يظهر السؤال في صيغة اخرى: فرق



موقع
البحر الكويتية
almanahj.com/kw




س علل ارتفاع الكثافة السكانية في بعض مناطق دول الوطن العربي

- لتمنعها بمقومات طبيعية ومناسبة ملائمة
- الثروات الطبيعية
- طرق المواصلات

س كيف تغلب الإنسان على صعوبة العيش والزراعة في الجبال؟

- بفضل التطور العلمي استطاع الإنسان التغلب عليها والعيش فيها
- حول الجبال إلى مدرجات وزرعها
- شق العديد من الطرقات



س أكتب مدلول الصورة المقابلة

الزراعة على المدرجات الجبلية في اليمن

س كيف تغلب تمكن الإنسان من العيش في الصحراء؟

استطاع الإنسان استغلال ثروات الصحراء الطبيعية



س أذكر أسماء المدن والدول التي نشأت ونمت في الصحراء؟

- الكويت
- الإمارات

س أكمل العبارات التالية:

س أكبر تجمع للسكان يكون حول مصادر المياه والأنهار --- البحار ---

س المناخ المعتدل عامل جذب --- السكان ---



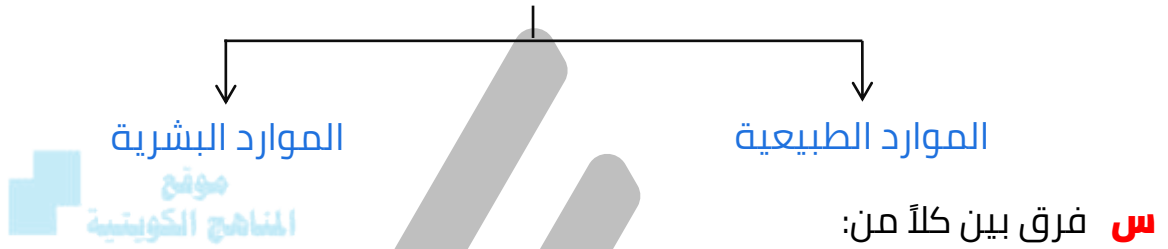
تدرب و تفوق
اختبارات الكترونية



الموارد الاقتصادية في الوطن العربي

الإنتاج الزراعي في الوطن العربي

س عدد أنواع الموارد الاقتصادية



الموارد البشرية	الموارد الطبيعية
ترتبط بالسكان من حيث أعدادهم وتوزيعهم ومناسبة أعدادهم لمساحة الأرض التي يستغلونها	الثروات التي منحها الله لإقليم من دون أن يكون للإنسان أي دور في وجودها

س عدد الثروات الطبيعية في الوطن العربي



الثروة: المراعي



الثروة: الغابات



الثروة: الثروات المعدنية



الثروة: الموارد المائية

س عدد - الموارد الاقتصادية في الوطن العربي

- إنتاج الغذاء
- الإنتاج الحيواني
- الطاقة و الثروة المعدنية
- الإنتاج الصناعي
- النقل والتبادل التجاري

أكمل العبارات التالية:

س. القطاع الذي يحتل المرتبة الأولى من حيث الأهمية في اقتصاد الوطن العربي يسمى **القطاع الزراعي** .

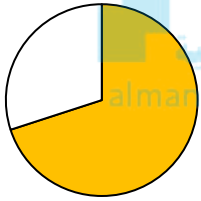
س. النسبة المئوية للقطاع الزراعي من الاقتصاد العربي **50%** .

س. النسبة المئوية للقطاع الصناعي من الاقتصاد العربي **20%** .

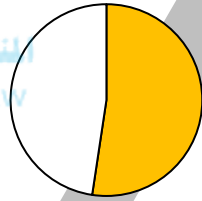
س. النسبة المئوية لقطاع الخدمات العامة من الاقتصاد العربي **30%** .

اختياري:

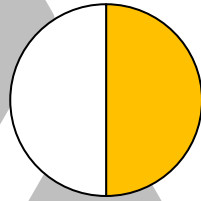
س. النسبة المئوية للقطاع الزراعي من الاقتصاد العربي يمثلها الجزء المظلل في الدائرة البيانية :



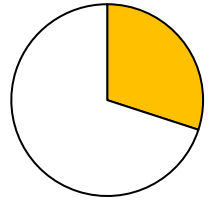
د ○



ج ○



ب ○



أ ○

س. علل أهمية القطاع الزراعي في اقتصاد الأقطار غير المنتجة للنفط؟ (فوائد)

ممكن أن يظهر السؤال في صيغة أخرى: فوائد

- يوفر الغذاء
- يوفر العمل
- يوفر المواد الأولية لكثير من الصناعات

س. علل اختلاف (تنوع) المنتجات الزراعية من دولة عربية إلى أخرى؟

- اختلاف المناخ
- اختلاف التربة
- مدى توافر المياه

س. عدد المنتجات الزراعية التي يصدرها الوطن العربي للخارج؟

- القطن
- الصمغ العربي
- الزيتون
- الحمضيات

أكمل الجدول التالي:

س المناطق الزراعية في دولة الكويت :



في الجنوب	في الشمال
مزارع الوفرة	مزارع العبدلي



تدرب و تفوق
اختبارات الكترونية



س عدد مقومات الإنتاج الزراعي:

موقع
المناخ الكويتية
almanahj.com/kw
مقومات بشرية

مقومات طبيعية

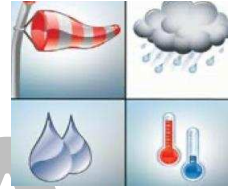
س عدد مقومات الإنتاج الزراعي الطبيعية

التضاريس

المياه

التربة

المناخ



س عدد مقومات الإنتاج الزراعي البشرية

التقدم العلمي

جهد الإنسان

رأس المال



استنتج الرابط الأكبر:

س التربة + المياه + التقدم التكنولوجي = مقومات الإنتاج الزراعي

اختياري:

س مقومات الإنتاج الزراعي الطبيعية هي :

- رأس المال
- التقدم التكنولوجي
- التوزيع السكاني
- المناخ

س عدد مصادر المياه الرئيسية في الوطن العربي

- مياه الأنهار
- الأمطار
- المياه الجوفية

تدرب و تفوق

اختبارات الكترونية

موقع
المناهج الكويتية
almanahj.com/kw



س المحاصيل الزراعية في الوطن العربي

الحبوب الغذائية الغلات الصناعية والتجارية الفواكه والثمار

أكمل العبارات التالية:

س أهم المزروعات في الوطن العربي وتشغل مساحة كبيرة من الأراضي المزروعة تسمى الحبوب الغذائية

س تختلف كمية إنتاج الحبوب الغذائية في الوطن العربي حسب كمية الأمطار

س تتنافس مصر والسعودية على احتلال المركز الأول في زراعة نوع من الحبوب يعرف باسم القمح

س علل تعد الحبوب الغذائية من أهم المزروعات في الوطن العربي
تشغل مساحة كبيرة من الأراضي المزروعة

الغلات النقدية

الغلات التي تدخل في الصناعة وتزرع بغرض التجارة والحصول على نقد

أكمل:

س المحاصيل الزراعية التي تتطلب ظروفاً مُناخية خاصة وتتركز في حوض البحر المتوسط تسمى الفواكه وثمار

س علل تتركز زراعة الحمضيات والمواالح في حوض البحر المتوسط لأنها تتطلب ظروف مُناخية خاصة متوفرة في حوض البحر المتوسط



س علل انتشار زراعة النخيل بكثرة في السعودية لملائمة الظروف الطبيعية لزراعة النخيل

صنف الغلات التالية حسب الجدول:

(الأرز - العنب - الشمندر - الشعير - البن - الموز - القمح - الذرة - زيت الزيتون - قصب السكر - التمور - الحمضيات (المواالح) - الموز

الحبوب الغذائية	فواكه وثمار	غلات صناعية وتجارية
الشعير - الأرز - القمح الذرة	العنب - التمور الحمضيات (المواالح) الموز	البن - الشمندر الزيتون - قصب السكر

استنتج المفهوم الأكبر للعبارات التالية:

س الشعير + الأرز + القمح = الحبوب الغذائية

س العنب التمور + الموز + الحمضيات = فواكه وثمار

س البن + الشمندر + الزيتون = غلات نقدية

س الأرز + الموز + الزيتون = المحاصيل الزراعية في الوطن العربي

س أكتب مدلول الصورة المقابلة
سوق المباركية بالكويت



تدرب و تفوق
اختبارات الكترونية

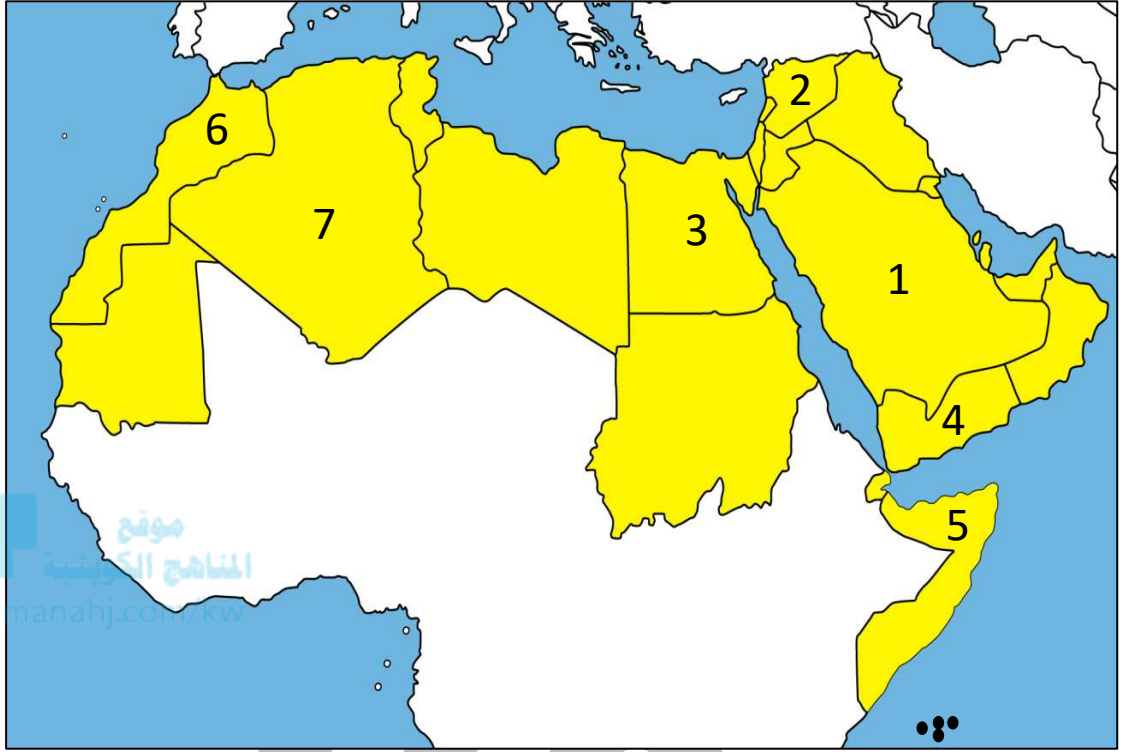
موقع
المناهج الكويتية
almanahj.com/kw



U U L A



لاحظ خريطة الوطن العربي الصماء ثم اكتب الرقم الدال على كلاً مما يلي



- س الدولة العربية التي تحتل المركز الأول في إنتاج القمح يمثلها الرقم **3** ---
- س الدولة العربية التي تحتل المركز الأول في الذرة الشامية - الأرز - القطن قصب السكر - الموالح يمثلها الرقم **3** ---
- س الدولة العربية التي تحتل المركز الأول في إنتاج الشعير يمثلها الرقم **6** ---
- س الدولة العربية التي تحتل المركز الأول في إنتاج البن يمثلها الرقم **4** ---
- س الدولة العربية التي تحتل المركز الأول في إنتاج العنب يمثلها الرقم **2** ---
- س الدولة العربية التي تحتل المركز الأول في إنتاج التمور يمثلها الرقم **1** ---
- س الدولة العربية التي تحتل المركز الأول في إنتاج الموز يمثلها الرقم **5** ---

س عدد - المشكلات التي تعاني منها الزراعة في الوطن العربي



عرف المفاهيم التالية:

الزراعة التقليدية

هي الزراعة التي تعتمد على الطرق البدائية



ملغى

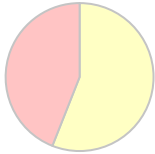
الزراعة الحديثة

هي الزراعة التي تعتمد على الطرق الحديثة والتكنولوجيا



أكمل:

س تبلغ نسبة المساحة المزروعة في الوطن العربي من المساحة القابلة للزراعة 56%



المساحات المزروعة

المساحات القابلة للزراعة

س عدد - أسباب عدم استغلال الأراضي الصالحة للزراعة في الوطن العربي

- نقص موارد المياه
- إتباع الأساليب التقليدية في الزراعة
- اعتماد بعض الأراضي الزراعية على الأمطار



تدرب و تفوق
اختبارات الكترونية

موقع
المناهج الكويتية
almanahj.com/kw



U U L A



الإنتاج الحيواني

س عدد أنواع الثروة الحيوانية في الوطن العربي

- الثروة الرعوية
- تربية الدواجن والطيور
- الثروة المائية

س اذكر نتيجة امتلاك الوطن العربي أعداد متنوعة من الثروة الحيوانية
تساهم في موارد الدخل لكثير من الدول العربية

س عدد أماكن تربية الثروة الحيوانية في الوطن العربي

- المراعي
- الأراضي الزراعية



موقع
المناهج الكويتية
almanahj.com/kw

س أذكر أنواع الثروة الرعوية التي يمتلكها الوطن العربي

- الأبقار
- الأغنام
- الماعز
- الإبل

اختر الإجابة الصحيحة

س أكثر الحيوانات انتشاراً في المراعي العربية تسمى:

- الأغنام
- الأبل
- الأبقار
- الماعز

س الصورة المقابلة تمثل إحدى حيوانات الثروة الرعوية في الوطن العربي تسمى:



- الأغنام
- الماعز
- الأبقار
- الأبل

س الصورة المقابلة تمثل إحدى حيوانات الثروة الرعوية في الوطن العربي تسمى:



- الأغنام
- الماعز
- الأبقار
- الأبل


س الصورة المقابلة تمثل إحدى حيوانات الثروة الرعوية في الوطن العربي تسمى :



- الأبقار
- الأبل

- الأغنام
- المعاز

س الصورة المقابلة تمثل إحدى حيوانات الثروة الرعوية في الوطن العربي تسمى :



- الأبقار
- الأبل

- الأغنام
- المعاز

س علل الإنتاج الحيواني في الوطن العربي ثروة قابلة للزيادة والنمو



- إذا تدخل الإنسان بعملة ووسائله الحديثة لرعايتها
- استغلالها وتحسين أنواعها
- إعداد الغذاء الكافي لها

س تحتل الأغنام العربية مكاناً مهماً ضمن الثروة الرعوية

- الأكثر انتشاراً في المراعي العربية
- أكثر الحيوانات المستأنسة والملائمة لمراعي الوطن العربي
- لأهمية منتجاتها بالنسبة للسكان
- لأنها مصدر أساسي من مصادر الثروة القومية

س علل الأغنام أكثر الحيوانات الملائمة لمراعي الوطن العربي

لتحملها الجفاف والانتقال

س علل امتلاك الصومال 6.6% من ثروة الوطن العربي من الإبل

لانتشار المراعي الصحراوية بالصومال

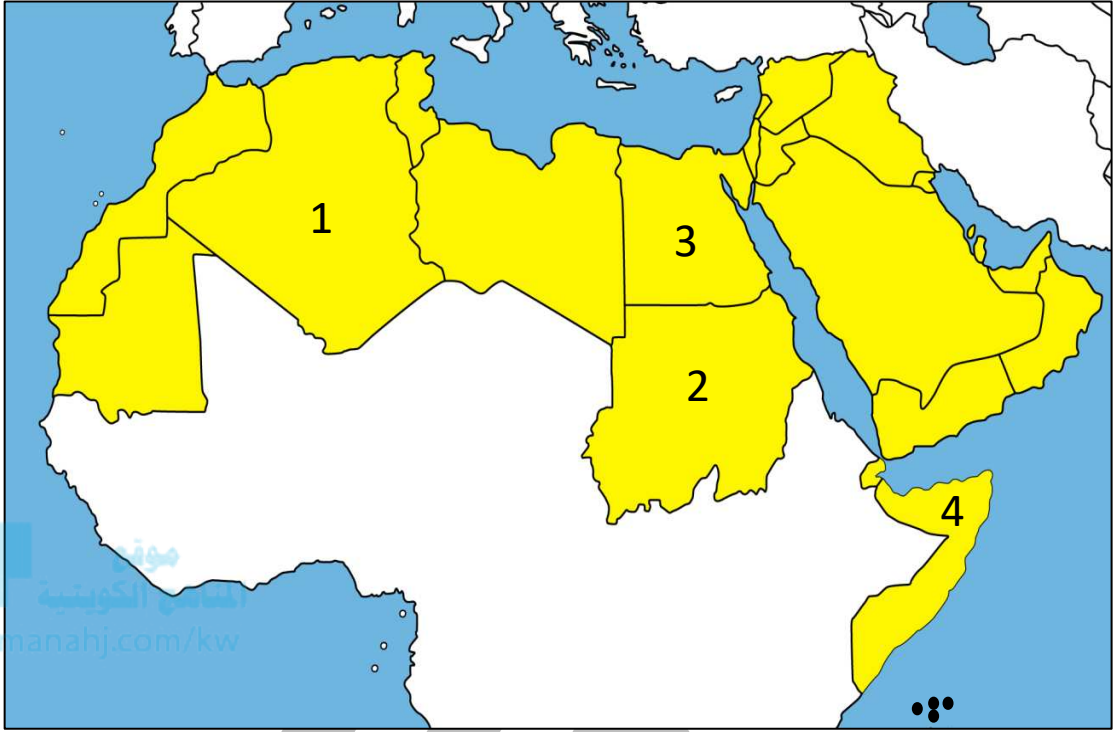


تدرب و تفوق

اختبارات الكترونية



لاحظ خريطة الوطن العربي الصماء ثم اكتب الرقم الدال على كلاً مما يلي:



- س الدولة العربية التي تحتل المركز الأول في تربية الأبقار يمثلها الرقم 2
- س الدولة العربية التي تحتل المركز الأول في تربية الماعز يمثلها الرقم 2
- س الدولة العربية التي تحتل المركز الأول في تربية الأغنام يمثلها الرقم 2
- س الدولة العربية التي تحتل المركز الأول في تربية الإبل يمثلها الرقم 4

س عل أهمية الثروة الحيوانية

- مصدر للحوم والألبان
- توفير فرص عمل
- تمد التربة بالأسمدة العضوية
- مصدر للدخل

س لاحظ الجدول التالي , ثم قم بعملية حسابية لإنتاج الوطن العربي من الثروة الرعوية:

أبقار	أغنام	ماعز	إبل	المجموع بالمليون رأس
45	116.66	64	49	274.66

س علل تربية الدواجن والطيور لها دور مهم في إنتاج الغذاء في الوطن العربي

- تنتشر تربيتها في جميع الدول العربية
- إنتاجها يكفي حاجة السكان المحلية

س عدد العوامل التي ساعدت على انتشار مزارع الدواجن في الوطن العربي

- سهولة تربيتها
- توافر الأعلاف



تدرب و تفوق
اختبارات الكترونية

موقع
المناهج الكويتية
almanahj.com/kw



U U L A

الثروة المائية



س علل تنوع الثروة المائية في الوطن العربي

لأن دول الوطن العربي دول بحرية لها سواحل ومسطحات مائية واسعة منها مالحة ومنها العذبة

س أكمل : المكان الذي تستطيع عند زيارته التعرف على الثروات المائية في دولة الكويت والوطن العربي يسمى --- **المركز العلمي** ---



انشأته مؤسسة الكويت للتقدم العلمي سنة 2000
Founded by Kuwait Foundation for the Advancement of Sciences in 2000

almanahj.com/kw

س أذكر الثروات المائية في المركز العلمي مستعيناً بالصورة التالية



القواقع



الشعاب المرجانية



الإسفنج



اللؤلؤ

س ما أهميتها الاقتصادية

- تساهم في دخل الدول
- تقوم عليها كثير من الصناعات

اقرأ الجدول جيداً , ثم أجب:

الرقم	الدولة	الإنتاج (ألف طن)
1	اليمن	157
2	مصر	1374
3	موريتانيا	644
4	المغرب	1246
5	تونس	123
6	الجزائر	122
7	عُمان	206
8	الإمارات	73

س رتب الدول الخمس الأولى في الإنتاج السمكي ترتيباً تنازلياً
مصر - المغرب - موريتانيا - عُمان - اليمن

س أكبر دولة عربية في الإنتاج السمكي
مصر

س علل : تساهم مصر بأكثر من ثلث الإنتاج العربي من الأسماك
تمتلك سواحل طويلة على البحر المتوسط والبحر الأحمر والبحيرات ونهر النيل

س كيف يمكن تنمية الثروة السمكية

- توفير سفن الصيد الحديثة
- توفير الكوادر الفنية العاملة

موقع
المنهج الكويتية
almanahj.com/kw



تدرب و تفوق
اختبارات الكترونية

U U L A



الطاقة والثروة المعدنية النفط والغاز الطبيعي

س عدد أهم الصناعات في الوطن العربي



الصناعات التعدينية



الصناعات الاستخراجية



الصناعات الحرفية



س علل- أهمية الثروة المعدنية في الوطن العربي محلياً وعالمياً

- ينتج العديد من الخامات المعدنية
- مصادر الطاقة الأساسية لقيام الصناعة بكافة أنواعها

س عدد مصادر الطاقة والثروة المعدنية في الوطن العربي



عرف المفاهيم التالية:

الطاقة

قوي محرقة للآلات وعنصر مهم للتقدم والتطور الاقتصادي في جميع المجالات

النفط

بقايا عضوية على هيئة نباتات وحيوانات دقيقة وتحولت بالضغط والحرارة إلى صورتها الحالية

الغاز الطبيعي

غاز مصاحب للنفط الخام أو يوجد منفرداً تتم إيسالته لاستخدامات عديدة

س علل النفط والغاز الطبيعي من أهم مصادر الطاقة

- تقوم عليهم صناعات مهمة لا غنى عنها
- مصدر مهم بالنسبة لاقتصاد الدول العربي (الأموال)

س ما اسم مصدر الطاقة الذي تمثله الصورة المقابلة

النفط



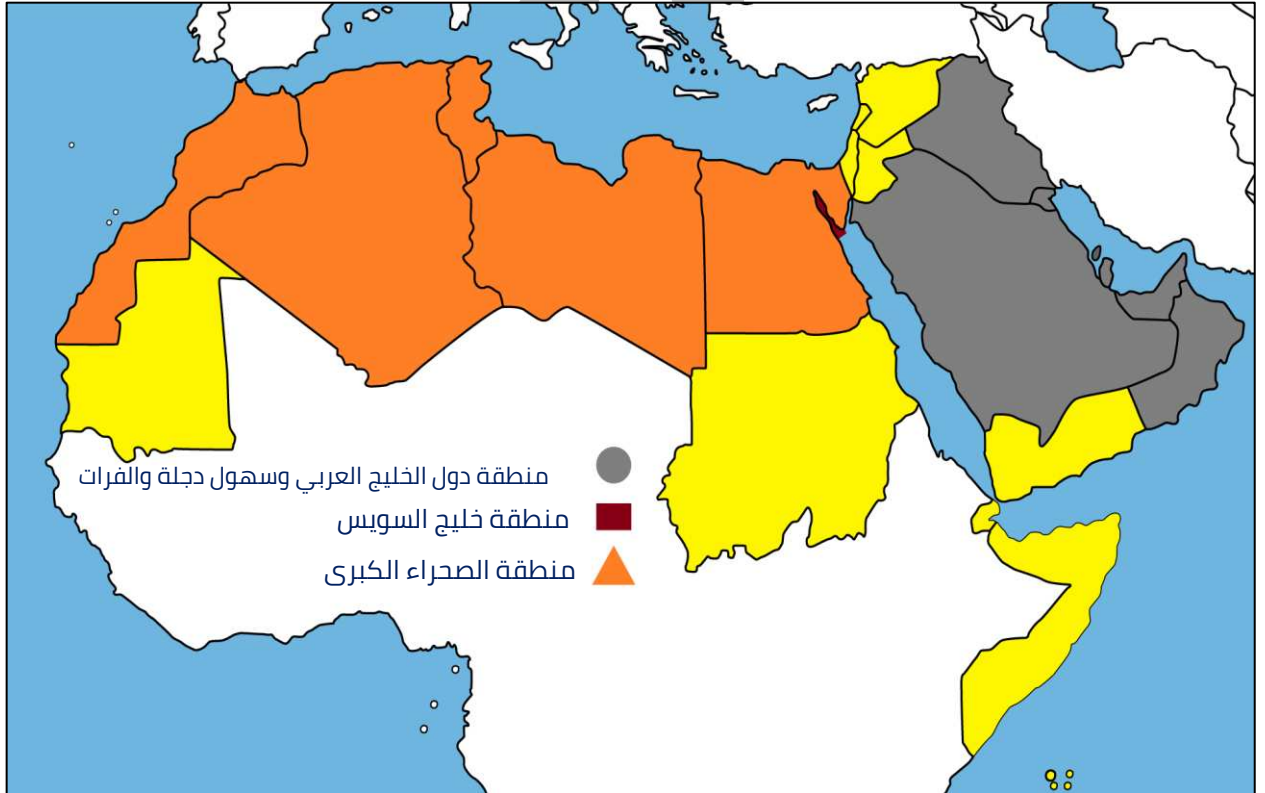
س علل أهمية النفط بالنسبة للدول العربية

- قوة محركة للآلات والمصانع
- مصدر لرؤوس الأموال
- مادة خام للعديد من الصناعات
- أساس لمشاريع التنمية وال عمران

س عدد المناطق الرئيسية التي تتركز فيها معظم الحقول النفطية في الوطن العربي

المنهج الكويتي
almanahj.com/kw

- منطقة دول الخليج وسهول دجلة والفرات
- منطقة الصحراء الكبرى
- منطقة خليج السويس



اختر الإجابة الصحيحة :

س المراكز التي يحتلها الوطن العربي في مجال إنتاج النفط واحتياطيه و الغاز الطبيعي على مستوى العالم :

- الأولى ○ الثانية ○ الثالثة ○ الرابعة

س منطقة إنتاجها 80 % من إنتاج الوطن العربي من النفط:

- خليج السويس ○ الخليج العربي
○ هضبة نجد ○ الصحراء الكبرى

س منطقة إنتاجها 18% من إنتاج الوطن العربي من النفط:

- خليج السويس ○ الصحراء الكبرى
○ هضبة نجد ○ الخليج العربي



س منطقة إنتاجها 4.7 % من إنتاج الوطن العربي من النفط:

- خليج السويس ○ الخليج العربي
○ هضبة نجد ○ الصحراء الكبرى



تدرب و تفوق
اختبارات الكترونية

أكمل العبارات التالية:



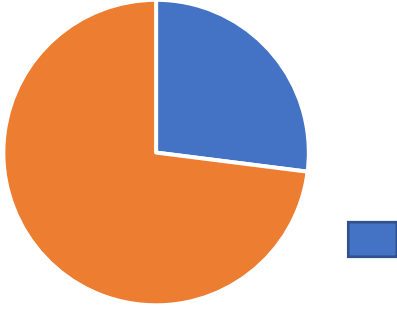
س نسبة احتياط النفط الخام في دول الوطن العربي بالنسبة للعالم تبلغ 55%

س نسبة احتياط الغاز الطبيعي في دول الوطن العربي بالنسبة للعالم تبلغ 27.5%

س نسبة إنتاج النفط الخام في دول الوطن العربي بالنسبة للعالم تبلغ 30%

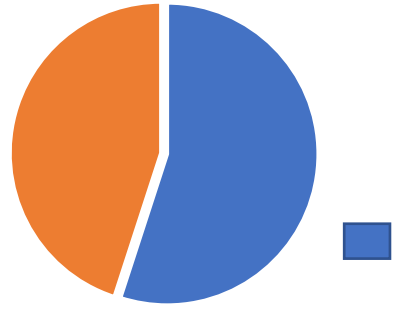
س نسبة إنتاج الغاز الطبيعي في دول الوطن العربي بالنسبة للعالم تبلغ 16.5%

س أكتب مدلول الأشكال التالية :



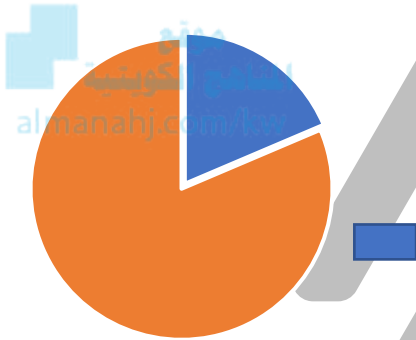
دول الوطن العربي 27.5 %

احتياط الغاز الطبيعي في الوطن العربي بالنسبة للعالم



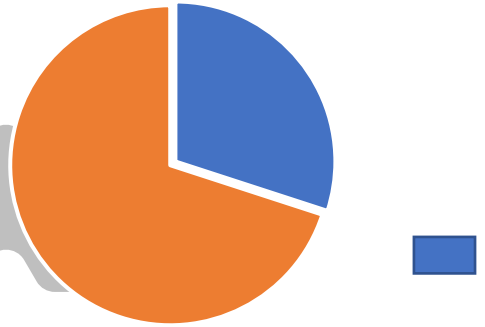
دول الوطن العربي 55 %

احتياط النفط الخام في الوطن العربي بالنسبة للعالم



دول الوطن العربي 30 %

إنتاج الغاز الطبيعي في الوطن العربي بالنسبة للعالم



دول الوطن العربي 30 %

إنتاج النفط الخام في الوطن العربي بالنسبة للعالم



تدرب و تفوق
اختبارات الكترونية



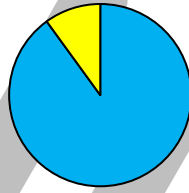
ادرس الجدول التالي ثم نفذ المطلوب منك

الجناح	إنتاج النفط	احتياطي النفط	إنتاج الغاز الطبيعي	احتياطي الغاز الطبيعي
الآسيوي	88%	90%	66.5%	82%
الأفريقي	12%	10%	33.5%	18%

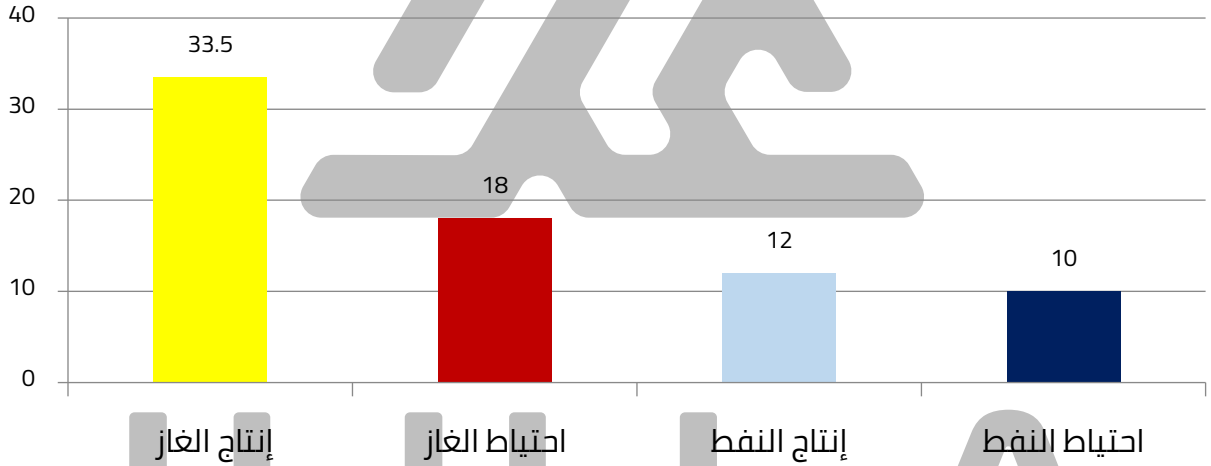
س أكثر جناح عربي في إنتاج واحتياطي النفط في قارة آسيا

س حول نسب احتياطي النفط لدائرة بيانية


موقع
المناهج الكويتية
almanahj.com/kw

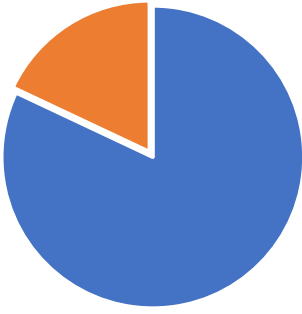


س حول بيانات الجناح الأفريقي تنازلياً لأعمدة بيانية



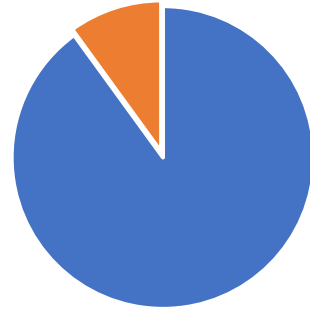
س حول بيانات الجناح الآسيوي لأعمدة بيانية





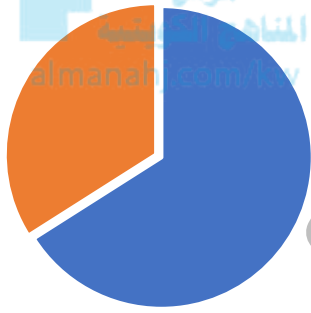
الجناب الأسيوي 82%
الجناب الأفريقي 18%

احتياط الغاز الطبيعي في
الجناب الآسيوي والأفريقي



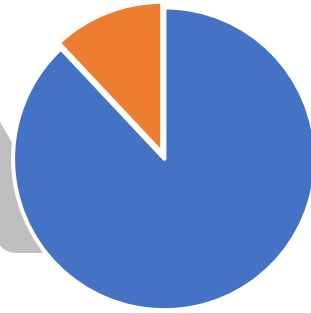
الجناب الأسيوي 90%
الجناب الأفريقي 10%

احتياط النفط الخام في
الجناب الآسيوي والأفريقي



الجناب الأسيوي 66.5%
الجناب الأفريقي 33.5%

إنتاج الغاز الطبيعي في
الجناب الآسيوي والأفريقي



الجناب الأسيوي 88%
الجناب الأفريقي 12%

إنتاج النفط الخام في
الجناب الآسيوي والأفريقي



تدرب و تفوق
اختبارات الكترونية

لاحظ جدول إنتاج دول الوطن العربي عام 2014م ثم أجب عما يليه من أسئلة:

م	الدولة العربية	إنتاج النفط ألف برميل / يوم	إنتاج الغاز مليار متر مكعب
1	الإمارات	2794	54.2
2	الجزائر	1193	81.7
3	السعودية	9701	102.4
4	العراق	3110	9
5	قطر	703	204.6
6	الكويت	2866.8	15



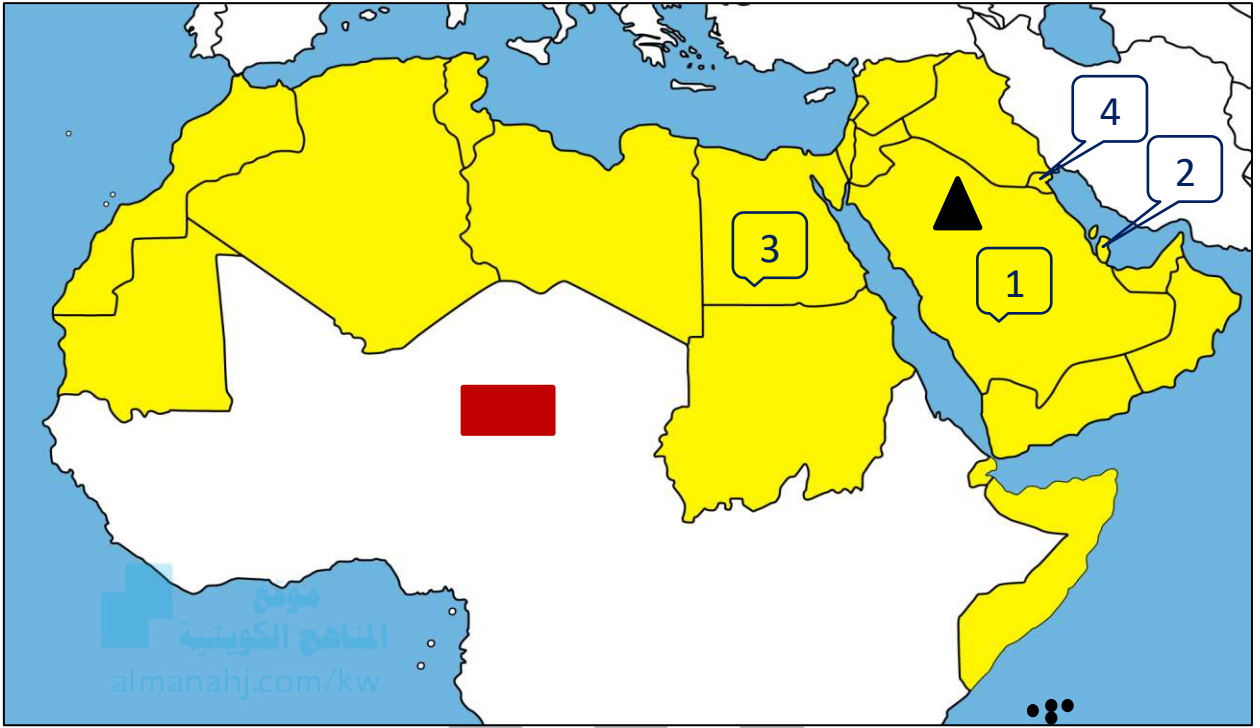
س رتب تنازلياً الدول الثلاث الأولى في إنتاج النفط
السعودية - العراق - الكويت

س ظلل في الجدول المقابل الدولة الأولى في إنتاج الغاز

س رتب تنازلياً الدول الثلاث الأولى في إنتاج الغاز
قطر - السعودية - الجزائر

U U L A

لاحظ خريطة الوطن العربي ثم نفذ المطلوب:



س أكثر جناح عربي في إنتاج واحتياطي النفط في القارة التي يمثلها الرمز ▲

س أكثر الدول العربية إنتاجاً واحتياطاً للنفط حسب إحصاء عام 2014 م يمثلها الرقم **1**

س الدولة العربية الأولى في إنتاج واحتياطي الغاز الطبيعي يمثلها الرقم **2**

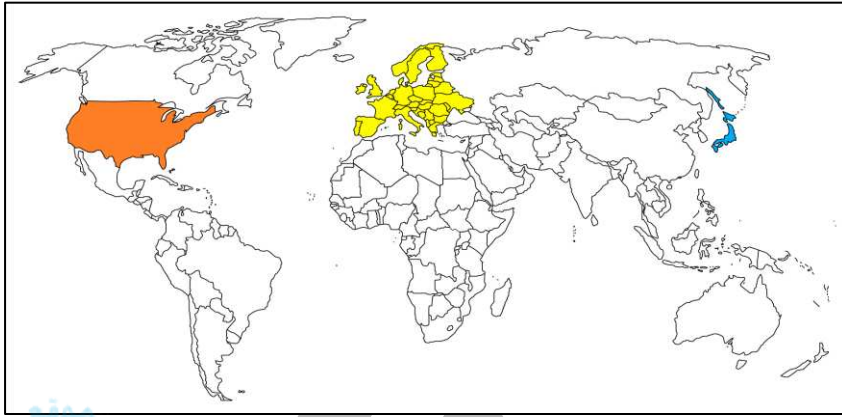
س الدولة العربية التي تحتل المرتبة الثالثة في إنتاج واحتياطي النفط في الوطن العربي يمثلها الرقم **4**

س عل معظم صادرات دول الخليج العربية من النفط الخام
قلة التطور الصناعي

س علل يتمتع النفط العربي بمكانة مهمة على المستوى العالمي؟

ممكن أن يظهر السؤال في صيغة اخرى: الدول المستوردة للنفط العربي

لأهميته للدول الصناعية المتقدمة في أوروبا واليابان والولايات المتحدة الأمريكية



س عدد الأسباب التي أعطت النفط العربي أهمية عالمية؟ (مميزات النفط العربي)

ممكن أن يظهر السؤال في صيغة اخرى: مميزات النفط العربي

- ضخامة الإنتاج
- انخفاض تكلفه الإنتاج
- ارتفاع نسبة احتياطي النفط
- قرب حقول النفط للأسواق العالمية

س أكتب أثر العائدات النفطية على الاقتصاد العربي بوجه عام والخليجي بوجه خاص

- زيادة الدخل القومي
- قيام الصناعات المرتبطة بالصناعات النفطية
- توفير فرص العمل

س علل يطلق على الغاز الطبيعي اسم الطاقة النظيفة

ممكن أن يظهر السؤال في صيغة اخرى: أكمل

لا ينتج عن احتراقه ملوثات



توليد الكهرباء



تحليه مياه البحر



طهي الطعام



تدرب و تفوق
اختبارات الكترونية

موقع
المناهج الكويتية
almanahj.com/kw



U U L A

التعدين في الوطن العربي



س اذكر المعادن المهمة في الوطن العربي



المنجنيز




الفوسفات



الحديد



النحاس



الزئبق

لاحظ خريطة الوطن العربي ثم نفذ المطلوب:

س نسبة إنتاج الوطن العربي من الفوسفات بالنسبة للعالم 25%

س نسبة إنتاج الوطن العربي من الحديد بالنسبة للعالم 1.2%

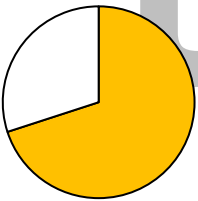
س نسبة إنتاج الوطن العربي من الزئبق بالنسبة للعالم 6.6%

س نسبة إنتاج الوطن العربي من النحاس بالنسبة للعالم 13%

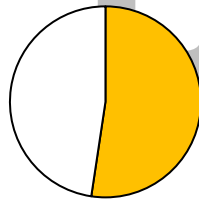
س نسبة إنتاج الوطن العربي من المنجنيز بالنسبة للعالم 3.3%

اختياري:

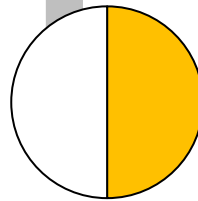
س نسبة إنتاج الوطن العربي من الفوسفات بالنسبة للعالم يمثلها الجزء المظلل في الدائرة البيانية التي تحمل الحرف



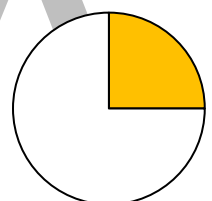
د



ج



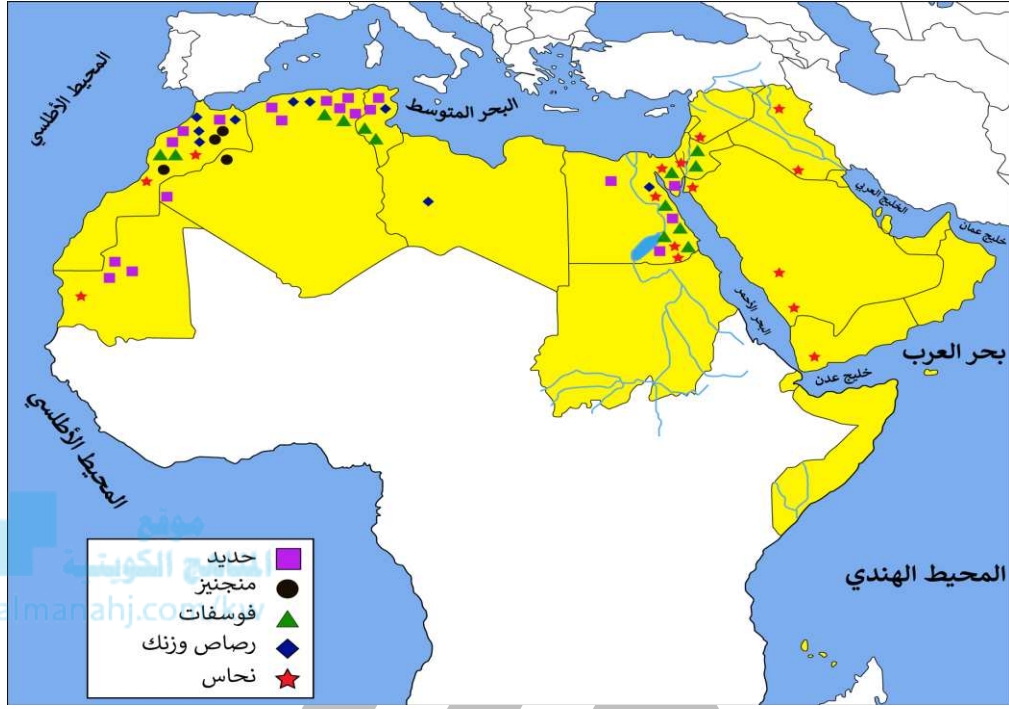
ب



أ

لاحظ الخريطة جيداً ثم نفذ المطلوب منك :

س اكتب مدلول الخريطة المقابلة

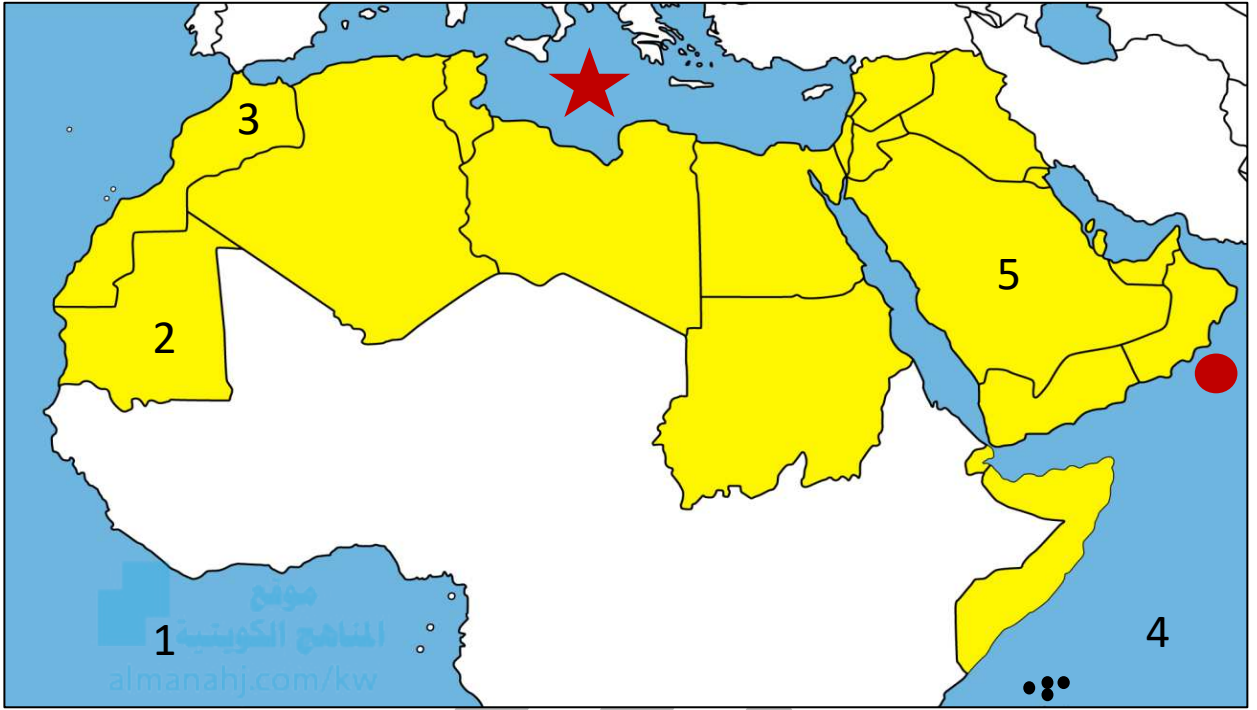


توزيع المعادن في الوطن العربي

س أكمل الجدول التالي

المعدن	الدول العربية المنتجة للمعدن
الفوسفات	مصر - الأردن - تونس - الجزائر - المغرب
الحديد	مصر - تونس - الجزائر - المغرب - موريتانيا
النحاس	العراق - اليمن - السعودية - سوريا - فلسطين - المغرب - موريتانيا
الرصاص	مصر - ليبيا - تونس - الجزائر - المغرب

لاحظ خريطة الوطن العربي ثم نفذ المطلوب:



س الدولة التي تحتل المركز الأول عربياً في إنتاج الحديد يمثلها الرقم 2 .

س الدولة العربية التي تحتل المركز الأول عربياً في إنتاج الفوسفات والنحاس والرصاص والمنجنيز يمثلها الرقم 3 .

س الشكل (●) على الخريطة يشير إلى بحر اسمه بحر العرب .

س الشكل (★) على الخريطة يشير إلى بحر اسمه البحر المتوسط .

س المحيط الهندي على الخريطة يمثله الرقم 4 .

س المحيط الأطلسي يمثل على الخريطة الرقم 1 .



تدرب و تفوق

اختبارات الكترونية

المنظمات الاقتصادية الإقليمية والدولية



س علل إنشاء منظمات عربية وعالمية للدول المصدرة للنفط

- زيادة الإنتاج
- احتكار الشركات العالمية لإنتاجه ونقله وتكريره
- الحفاظ على حقوق الدول المصدرة للنفط

أكمل العبارات التالية:

س الشعار المقابل يمثل منظمة تسمى **أوبك** **OPEC**

المناهج الكويتية
almanahj.com/kw



س المدينة التي تأسست فيها منظمة أوبك عام 1960 م تسمى **بغداد**

س الشعار المقابل يمثل منظمة تسمى **أوبك**



U U L A

ممكن أن يظهر السؤال في صيغ اخرى: أكمل - اختياري - صوب

المعيار	منظمة أوبك	منظمة أوابك
التعريف	منظمة الدول المصدرة للنفط	منظمة الأقطار العربية المصدرة للنفط
سنة التأسيس	1960م	1968 م
المقر	فيينا	الكويت
عدد الدول	11 دولة	11 دولة
عدد الدول المؤسسة	خمس دول عالمية	ثلاث دول عربية 
أهداف المنظمة	<ul style="list-style-type: none"> الحرص على استقرار أسعار النفط في الأسواق العالمية 	<ul style="list-style-type: none"> تعميق التعاون الاقتصادي في صناعة النفط تأمين وصول النفط إلى الأسواق الاستهلاكية تطوير الصناعات البترولية تبادل الخبرات
اللجان والأجهزة	<ul style="list-style-type: none"> المؤتمر مجلس المحافظين الأمانة العامة 	<ul style="list-style-type: none"> المجلس الوزاري المكتب التنفيذي الأمانة العامة

منظمة أوبك	منظمة أوبك	المعيار
الكويت - ليبيا - السعودية	الكويت - السعودية - العراق إيران - فنزويلا	الدول المؤسسة
قطر - الإمارات- الجزائر - العراق سوريا - مصر - تونس - البحرين	قطر - الإمارات -الجزائر- نيجيريا أنغولا - الأكوادور	الدول الأعضاء بالإضافة للدول المؤسسة
<ul style="list-style-type: none"> منظمتين للدول المصدرة للنفط عدد أعضائهما 11 دولة تشارك بينهما الدول الكويت والسعودية وقطر و العراق والإمارات والجزائر في المنظمتين يوجد جهاز الأمانة العامة 		التشابه بينهما



تدرب و تفوق
اختبارات الكترونية

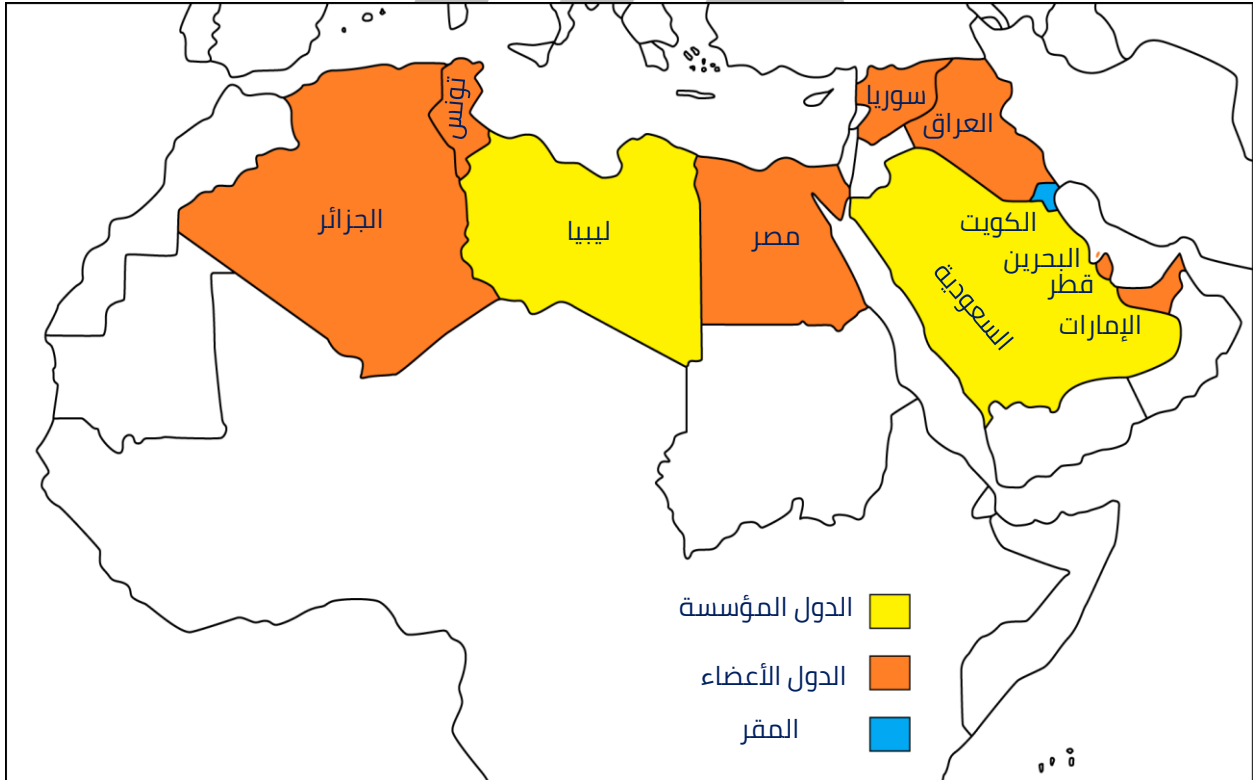
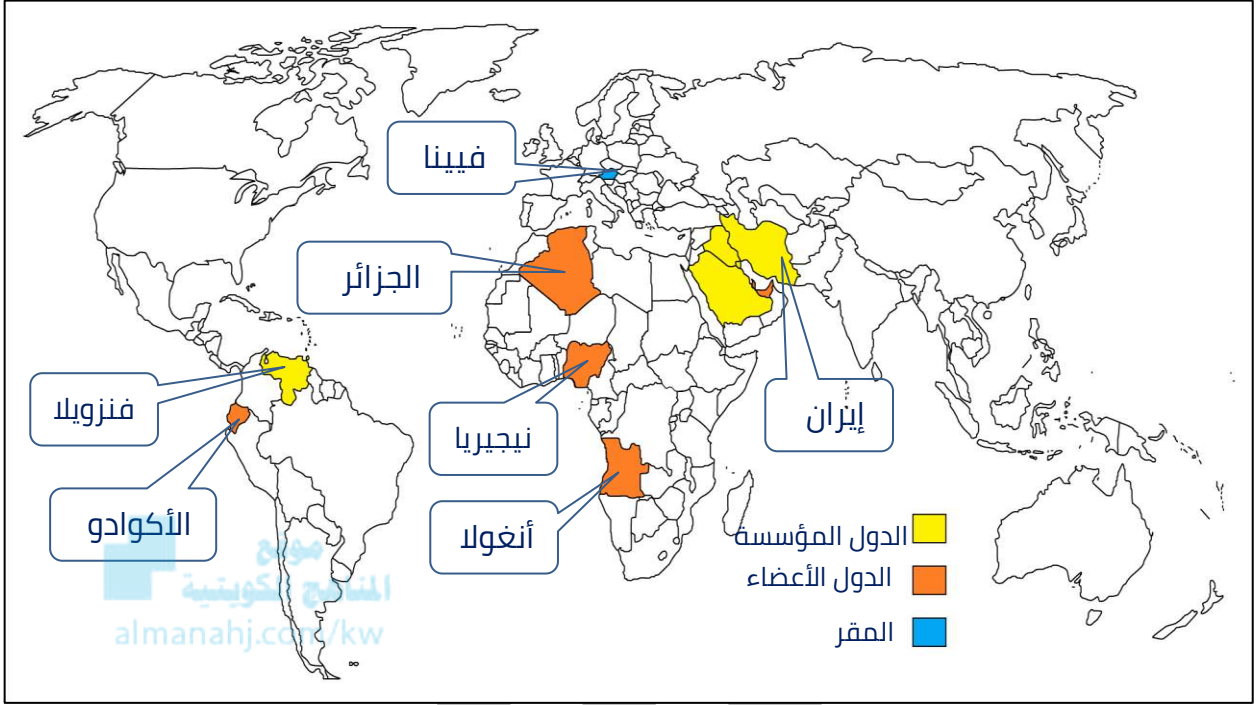


س صنف الدول الأعضاء في منظمة أوبك تبعاً للقارة التي تنتمي إليها كل دولة حسب الجدول :

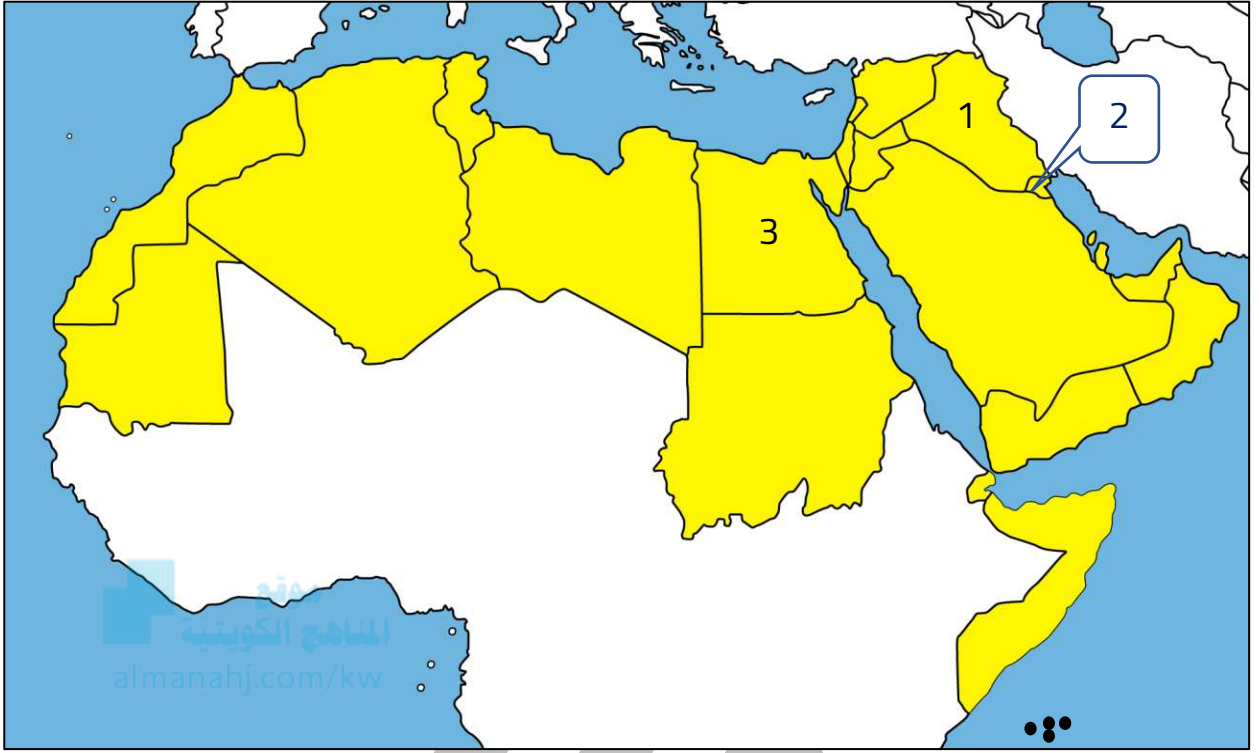
الكويت - السعودية - العراق - إيران - فنزويلا - قطر - الإمارات -
الجزائر - نيجيريا - أنغولا - الأكوادور

أمريكا الجنوبية	أفريقيا	آسيا
فنزويلا - الأكوادور	الجزائر - نيجيريا - أنغولا	الكويت - السعودية - العراق - إيران - قطر - الإمارات

خريطة الدول المصدرة للنفط أوبك



لاحظ خريطة الوطن العربي جيداً ونفذ المطلوب منك بكل دقة :



س المدينة التي تأسست فيها منظمة الدول المصدرة للنفط يمثلها الرقم 1

س الدولة التي يقع فيه المقر الدائم لمنظمة أوبك يمثلها الرقم 2

اختر الإجابة الصحيحة :

س المقر الدائم لمنظمة الدول المصدرة للنفط مدينة :

- بغداد ○ **فيينا** ○ باريس ○ القاهرة ○

س عدد الدول الأعضاء في منظمة أوبك :

- 11 دولة ○ 12 دولة ○ 13 دولة ○ 14 دولة ○

س العام الميلادي الذي تأسست فيه منظمة أوبك :

- 1958 م ○ 1968 م ○ 1969 م ○ 1972 م ○



تدرب و تفوق
اختبارات الكترونية



الإنتاج الصناعي والنقل

الإنتاج الصناعي

عرف

الصناعة

تحويل المواد الأولية إلى سلع تباع في الأسواق

س عدد مراحل الصناعة



س فرق بين مراحل الصناعة

توزيع	تحويل وتصنيع	مواد أولية
الأسواق	الآلات ومعدات - مواد غذائية - أثاث	حديد - نحاس - طيب - خشب

عرف

مقومات الصناعة

العوامل التي تساعد على تحويل المادة الخام إلى سلع استهلاكية

س عدد مقومات الصناعة في الوطن العربي

- مقومات طبيعية
- مقومات بشرية

س عدد مقومات الصناعة الطبيعية

- المواد الخام: (معدنية - حيوانية - نباتية - غابات - محاصيل زراعية)
- الطاقة: (البتروول - غاز طبيعي - طاقة كهرومائية - طاقة متجددة الشمس والرياح)

س عدد مقومات الصناعة البشرية

- رؤوس الأموال
- المهارة والخبرة
- وسائل النقل
- الأيدي العاملة
- السوق

س أكتب مقومات الصناعة الطبيعية والبشرية في الشكل المقابل



س عدد أنواع الصناعات في الوطن العربي

الصناعات التعدينية
الصناعات التجميعية
الصناعات البتروكيمياوية

الصناعات الاستخراجية
الصناعات التحويلية
الصناعات الحرفية

س فرق بين كلاً من:

ممكن أن يظهر السؤال في صيغ أخرى: **عرف** **أكمل**

الصناعات التعدينية	الصناعات الاستخراجية
تنقية الخامات المعدنية وتحويلها إلى صفائح أو سبائك صالحة لتنفيذ صناعات معدنية مختلفة	استخراج مصادر الطاقة كالنفط والغاز والفحم والمعادن والأملاح من باطن الأرض وإعدادها للتصنيع

س أكتب نوع الصناعة التي مثلها الصور التالية:



صناعة تحويلية



صناعة تعدينية



صناعة استخراجية

س عدد أهم الدول العربية في الصناعات التعدينية

المغرب ▪ مصر ▪ موريتانيا ▪ السعودية

أكمل:

س ترتبط الصناعات التعدينية بـ الخامات المعدنية



تدرب و تفوق
اختبارات الكترونية



عرف

الصناعات التحويلية

هي تقوم على تحويل المواد الأولية من معدنية نباتية وحيوانية إلى سلع استهلاكية صالحة للاستعمال



الصناعات الإنشائية
مشتقات النفط المكررة
صناعة الخشب والأوراق

س عدد أمثلة للصناعات التحويلية

- الصناعات الغذائية
- الصناعات البتروكيمياوية
- المنسوجات

س عدد الصناعات التي تقوم على المحاصيل الزراعية في الوطن العربي

- الصناعات الغذائية
- تعليب الفواكه والخضار

س علل أهمية الصناعات التحويلية

تؤمن حاجات الإنسان من مسكن وغذاء ولباس وأدوات وآلات

عرف

الصناعات التجميعية

هي عملية تركيب وجمع المواد المصنعة على اختلاف مصادرها كي نحصل على سلع متنوعة
مثال : صناعة تجميع السيارات



تدرب و تفوق
اختبارات الكترونية

أكمل العبارات التالية:

يمكن أن يظهر السؤال في صيغ أخرى: عرف اختياري



س تعد من الصناعات الأولى في العالم تسمى الصناعات الحرفية

س الصناعة التي تستخدم مواد أولية محلية وتعتمد على المجهود البشري تسمى الصناعات الحرفية

س عدد أنواع الصناعات الحرفية



▪ صناعة السجاد ▪ صناعة البشوت ▪ صناعة الخوص ▪ صناعة الفخار

المنهج الكويتي
almanahj.com/kw

أكمل العبارات التالية:

س الصناعات التي تعتمد بنسبة كبيرة على النفط والغاز تسمى الصناعات البتروكيماوية

س يستخرج من النفط مشتقات مثل الكيروسين والديزل والكبريت البنزين

س تتركز صناعة البتروكيماويات في الوطن العربي في دول الخليج العربي و شمال أفريقيا

س من الصناعات البتروكيماوية التي تقوم على الغاز الطبيعي صناعة تسمى إطارات السيارات

س عدد أنواع الصناعات البتروكيماوية



▪ صناعة الاسمنت



▪ صناعة أنابيب البلاستيك



▪ صناعة الأسمدة

س عدد أهداف الصناعات البتروكيمياوية في الوطن العربي

- تنوع مصادر الدخل للدولة المنتجة
- توفير المواد الأولية للصناعات التحويلية لتأمين حاجات القطاعات الاستهلاكية خاصة مجال البناء
- تطوير الصناعات البتروكيميائية إلى تقنيات متخصصة وعالية

س اختر من المجموعة (أ) ما يناسبها من المجموعة (ب) بوضع الرقم في مكانة الصحيح

الرقم	المجموعة (أ)	الرقم المناسب	المجموعة (ب)
1	الصناعات التجميعية	3	صناعة الأسمدة
2	الصناعات التعدينية	1	قطع السيارات
3	الصناعات البتروكيمياوية	2	صفائح النحاس
4	الصناعات التحويلية	4	الصناعات الغذائية
5	الصناعات الاستخراجية	6	صناعة البشوت
6	الصناعات الحرفية	5	النفط

س صنف الصناعات حسب أنواعها في الجدول التالي:
(تعليب الفواكه والخضار - الأثاث - استخراج المعادن - زجاج - أنسجة صوفية -
قطع الأخشاب - أسمنت - صيد الأسماك - الرخام - زيوت وبلاستيك - صهر
الحديد)

صناعات تحويلية	صناعات استخراجية
تعليب الفواكه والخضار - زجاج قطع الأخشاب الأثاث - أنسجة صوفية - أسمنت صهر الحديد - زيوت وبلاستيك	استخراج المعادن - الرخام - صيد الأسماك

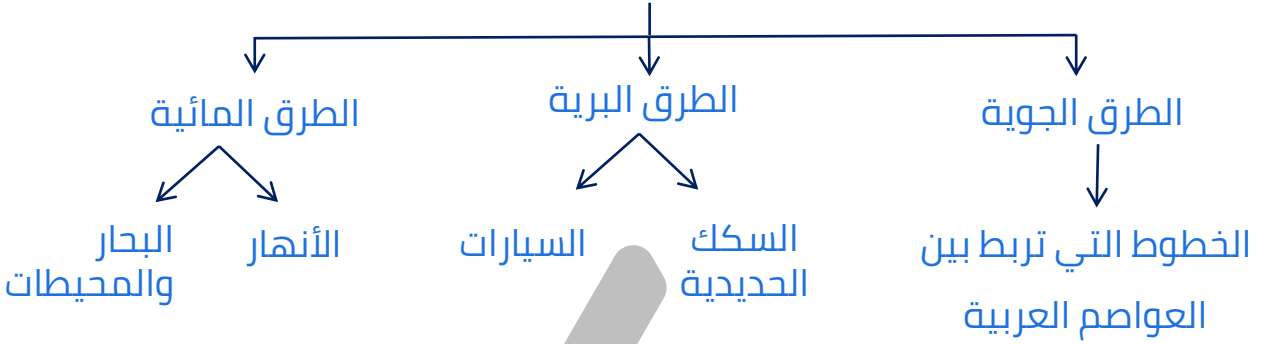


تدرب و تفوق
اختبارات الكترونية

النقل في الوطن العربي



س عدد طرق النقل في الوطن العربي



س علل- تعد وسائل النقل والمواصلات من المقومات الاقتصادية الأساسية

- تسهم في استغلال وتنمية الموارد الاقتصادية
- التبادل التجاري ودرجة نشاطه يعتمد على مدى توافر و سهولة سبل النقل ووسائله الثلاث

أكمل العبارات التالية:

س درجة نشاط التبادل التجاري تعتمد على مدى توافر وسهولة سبل **النقل** ---

س طرق النقل التي تشتمل على طرق السكك الحديدية (القطارات) والسيارات والشاحنات تسمى **البرية** ---



س علل - تسهم السكك الحديدية في نقل البضائع بكميات قليلة في الوطن العربي

لأن الوطن العربي يمتلك سكك حديدية قليلة ومنفصلة

س علل السيارات والشاحنات أكثر وسائل طرق النقل البري انتشاراً

- قلة التكاليف
- سهولة النقل
- سرعة الوصول

أكمل العبارات التالية:

س تشتمل على طرق النقل المائي بواسطة الأنهار وطرق النقل الخارجي في البحار والمحيطات تسمى طرق النقل المائية.

س يقتصر النقل النهري في الوطن العربي على نهري دجلة والفرات ونهر النيل.

س عدد - أنواع طرق النقل المائية

- النقل النهري
- النقل البحري

س علل قلة حجم النقل النهري بالنسبة لباقي وسائل النقل في الوطن العربي

- قلة الأنهار في الوطن العربي
- الاعتماد على طرق النقل التقليدية

موقع
المناهج الكويتية
almanahj.com/kw

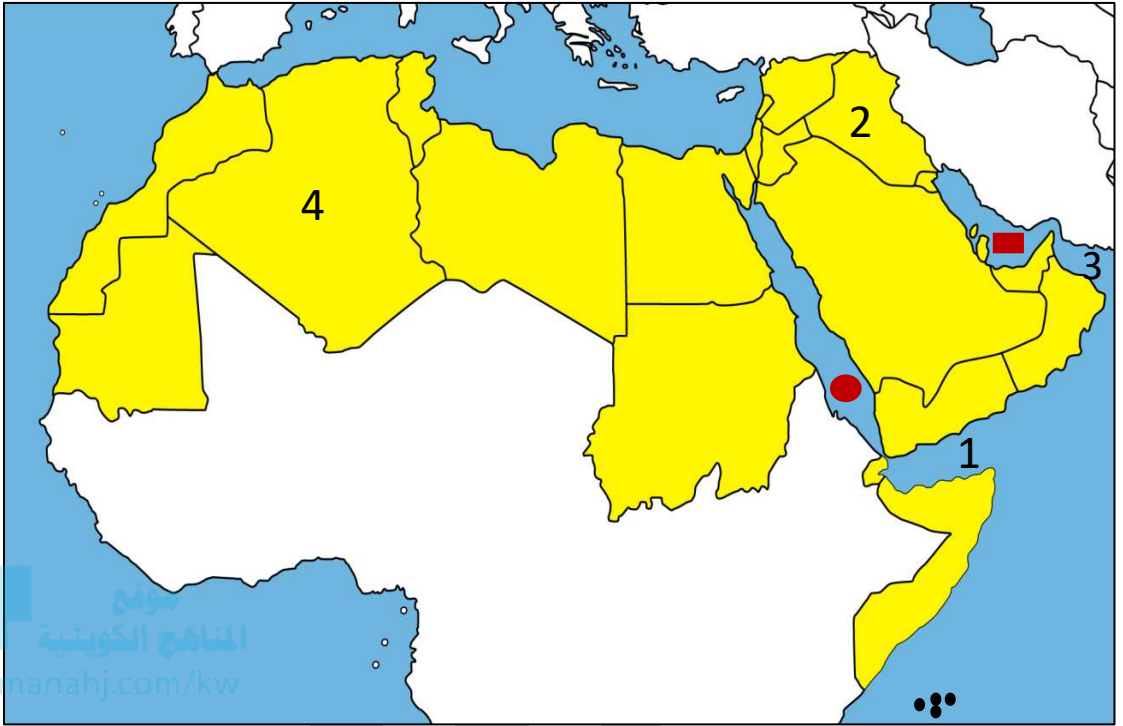


تدرب و تفوق
اختبارات الكترونية

U U L A



لاحظ خريطة الوطن العربي الصماء ثم أجب عن الأسئلة التي تليها :



س دولة عربية يقع فيها نهري دجلة والفرات يمثلها الرقم 2 .

س ارسم مسار نهر النيل على خريطة الوطن العربي

س الشكل (●) على الخريطة يشير إلى بحر اسمه الأحمر .

س الشكل (■) على الخريطة يشير مسطح مائي الخليج العربي .

س خليج عدن على الخريطة يمثلها الرقم 1 .

س خليج عمان يمثلها على الخريطة الرقم 3 .

س علل إنشاء العديد من الموانئ التجارية والنفطية في الوطن العربي

لأن الوطن العربي يتمتع بسواحل ومنافذ بحرية طويلة

س عرف طرق النقل الجوية

هي الخطوط التي تربط بين الدول العربية وتستخدم فيها الطائرات

س عدد مميزات طرق النقل الجوي

- توفير الوقت
- من الوسائل السريعة لربط الدول العربية
- نقل البضائع سريعة التلف

س على اهتمام الدول العربية بتحديث شبكات المواصلات

- لتزيد الوحدة والتجارة
- انتشار العمران في الدول العربية

س فرق بين كل من :

ممكن أن يظهر السؤال في صيغ اخرى: **عرف** **اختياري** **صوب**

طرق النقل المائية	طرق النقل البرية
تتضمن على طرق النقل المائي بواسطة الأنهار وطرق النقل الخارجي في البحار والمحيطات	طرق النقل التي تتضمن على طرق السكك الحديدية (القطارات) والسيارات والشاحنات



تدرب و تفوق
اختبارات الكترونية

U U L A



التبادل التجاري في الوطن العربي

عرف المفاهيم التالية:

التبادل التجاري

عملية التصدير والاستيراد بين الدول

التجارة البينية

التبادل التجاري بين الدول العربية

المصدات

السلع التي تنتقل من دولة إلى دولة أخرى

الواردات

السلع التي تشتريها الدولة من الخارج لسد احتياجاتها

أكمل العبارات التالية:

س الأسواق التي تحتل المكانة الأولى بالنسبة لتجارة الواردات العربية هي أسواق دول أخرى

س الأسواق التي تحتل المكانة الأولى بالنسبة لتجارة المصدات العربية هي الأسواق الأوروبية

س نسبة المصدات بين الدول العربية 8%

س نسبة الواردات بين الدول العربية 7.4%

س أذكر السلع التي يتم استيرادها وتصديرها بين الدول العربية

- المواد الغذائية
- الأثاث

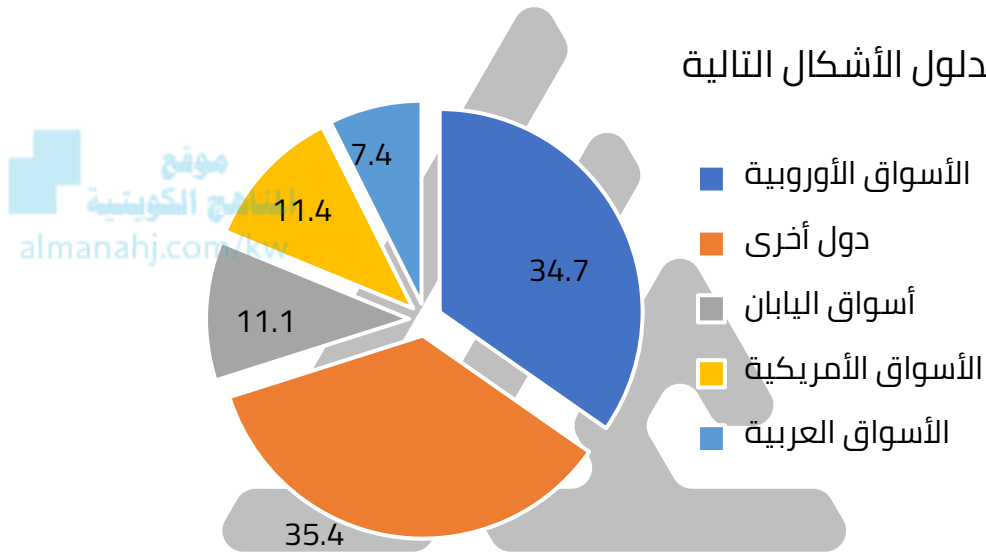
س علل قلة التبادل التجاري بين دول الوطن العربي؟

- العلاقات التجارية بين الدول العربية حجمها وقيمتها محدودة
- تشابه الإنتاج الزراعي والحيواني في كثير من الدول العربية

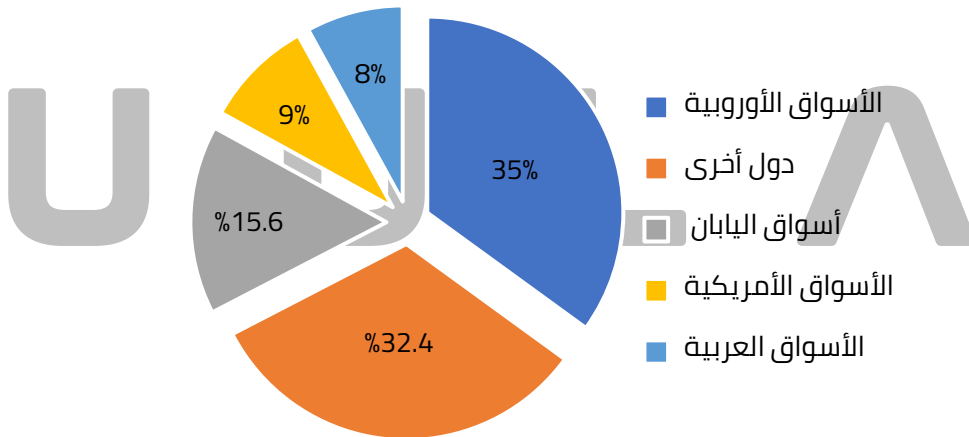
س أكتب مقترحاتك لتنمية التجارة بين الدول العربية

- تبادل السلع الموجودة بين الدول العربية بدلاً من استيرادها من الدول الأجنبية
- التعاون الاقتصادي العربي
- إلغاء الرسوم الجمركية
- إنشاء منطقة التجارة الحرة

س أكتب مدلول الأشكال التالية



الواردات العربية



الصادرات العربية



تدرب و تفوق
اختبارات الكترونية



قضايا وحلول نحو مستقبل عربي أفضل

المشكلات الأساسية في الوطن العربي

س عدد المشكلات الأساسية في الوطن العربي

- المشكلات المرتبطة بالزراعة
- مشاكل استثمار المياه
- التلوث البيئي

س عدد العقبات التي تواجه الإنتاج الزراعي في الوطن العربي

يمكن أن يظهر السؤال في صيغة أخرى: **أذكر**

- عدم استغلال الأراضي القابلة للزراعة
- اتباع طرق الزراعة التقليدية
- زحف الرمل (التصحر) وانجراف التربة
- الرعي الجائر
- تلوث التربة وارتفاع نسبة الملوحة بالتربة

س علل التصحر أحد المشكلات المرتبطة بالزراعة

بسبب زحف الرمال وانجراف التربة

س علل عدم استغلال الأراضي القابلة للزراعة في الوطن العربي

- ندرة مياه الري
- تذبذب الأمطار
- قلة الأيدي العاملة

س علل تلوث التربة في الوطن العربي

- الإسراف في استخدام المبيدات الحشرية
- ارتفاع نسبة الملوحة

س أكتب مقترحاتك للتغلب على مشاكل الزراعة في الوطن العربي

- استغلال كل الأراضي الصالحة للزراعة
- استخدام الأساليب الحديثة في الزراعة
- مكافحة التصحر والرعي الجائر



موقع
المناهج الكويتية
almanahj.com/kw



تدرب و تفوق
اختبارات الكترونية

أكمل العبارات التالية:



س هيئة في دولة الكويت تهتم بالقطاع الزراعي تسمى
الهيئة العامة للزراعة والثروة السمكية

س الشعار المقابل يمثل الهيئة العامة للزراعة والثروة السمكية

س عل- موقع الوطن العربي يعرضه بشكل أساسي لمشكلة التصحر
لأن الوطن العربي يقع في المناطق الجافة وشبه الجافة



أكمل:
س موقع الوطن العربي في المناطق الجافة وشبه الجافة يعرضه بشكل
أساسي لمشكلة تسمى التصحر


اقرأ العبارة التالية ثم أجب عما يليها من أسئلة :

" موقع الوطن العربي في المناطق الجافة وشبه الجافة يعرضه بشكل
أساسي لمشكلة تسمى التصحر "

س استخرج من العبارة السابقة مشكلة ... ثم عرفها

(مشكلة التصحر) : هو زحف رمال الصحراء على المناطق الجافة وشبه الجافة

س عدد أسبابها (كيف تتحول الأراضي الزراعية إلى أرض صحراوية غير منتجة)



▪ طبيعية (زحف الرمال)



▪ بشرية (الرعي الجائر)

س عل السودان والصومال أكثر الدول العربية تهديداً بالتصحر
لوقوعهم في المناطق الجافة وشبه الجافة

س مكافحة التصحر ضرورة ملحة لعلاج مشاكل الزراعة

س أكتب مقترحاتك لعلاج مشكلة التصحر في الوطن العربي

- زراعة الأشجار كمصدات للرياح
- استخدام طرق ري حديثة

س عدد الخطط الاستراتيجية التي اعتمدها الدول العربية لتكثيف العمل الزراعي وتطويره

- اعتماد التكنولوجيا الحديثة
- تأصيل البذور
- استعمال الأسمدة المناسبة

س عدد النتائج المترتبة على الخطط الاستراتيجية لتكثيف العمل الزراعي في الوطن العربي

المنهج القومي
almanahj.com/kw

- زيادة الإنتاج عن طريق الأساليب العلمية
- زيادة المساحات المزروعة
- إقامة مشروعات الري

س ما النتائج المترتبة على : غياب سياسة زراعية على الصعيد العربي

- تشابه المحاصيل وتنافسها في الأسواق العربية
- غياب محاصيل أخرى أساسية يمكن إنتاجها محلياً

س فرق بين كل من:

محاصيل زراعية يستوردها الوطن العربي من الخارج	محاصيل زراعية ينتجها الوطن العربي
الأرز	القمح - الشعير



تدرب و تفوق
اختبارات الكترونية

قضايا وحلول نحو مستقبل عربي أفضل

مشاكل استثمار المياه



س علل تدني وفرة المياه في الوطن العربي

يمكن أن يظهر السؤال في صيغة أخرى: عدد - أسباب تدني وفرة المياه في الوطن العربي

- النمو السريع للسكان
- 50% من الموارد المائية في العالم العربي تأتي من خارج حدوده
- الطرق التقليدية المستخدمة في استغلال المياه
- الشبكات المؤهلة لنقل المياه شبكات قديمة
- افتقار الدول العربية إلى برامج لإدارة المياه

س علل - النمو السريع للسكان في الوطن العربي مسؤول عن تدني نسبة المياه

لأنه يشكل ضغطاً متزايداً على المياه المتوفرة لكل فرد **موقع**
مناهج الكويتية
almanahj.com/kw

س علل- الموارد المائية التي تأتي من خارج الوطن العربي مسؤولة عن تدني وفرة المياه

- تشكل 50% من الموارد العربية
- تتحكم دول المنبع فيها
- غياب تشريعات دولية تضمن حقوقنا

س عدد - الطرق التقليدية المستخدمة المسؤولة عن تدني نسبة المياه في الوطن العربي

- استخدام الري بالغمر
- الاستهلاك غير المسؤول في مجالات المياه

س علل - افتقار الدول العربية إلى برامج لإدارة المياه

لأنها لا تستخدم الأدوات الاقتصادية اللازمة لترشيد الاستخدام المتزايد من المياه

اختياري:

س النسبة المئوية للموارد المائية التي من خارج حدود الوطن العربي تبلغ:

50%

43%

31%

20%

س عدد طرق الحفاظ على ثروة المياه في الوطن العربي

- ترشيد استخدام المياه
- تطوير استعمال مياه الصرف الصحي المعالجة في الزراعة
- إقامة البحيرات والسدود لتجميع مياه الأمطار
- الحد من هدر المياه في عمليات الري
- تنظيم عملية الاستفادة من المياه الجوفية
- توقيع الاتفاقيات مع الدول المشاركة ودول المنبع لتحقيق مصالح الدول العربية

س عدد – الوسائل الحديثة للحد من هدر المياه في عمليات الري

- الرش بالتنقيط
- الرش المحوري

موقع
المناهج الكويتية
almanahj.com/kw



تدرب و تفوق
اختبارات الكترونية

U U L A



قضايا وحلول نحو مستقبل عربي أفضل

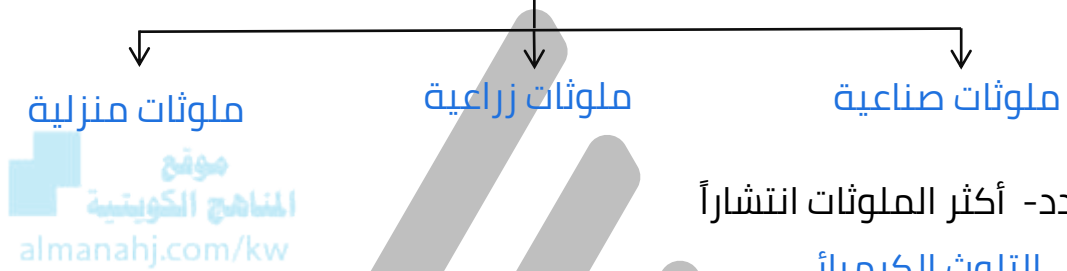
التلوث البيئي

عرف

التلوث

هو الضرر الذي يلحق بالتربة والهواء والماء

س عدد مصادر تلوث عناصر البيئة



س عدد- أكثر الملوثات انتشاراً

- التلوث الكيميائي
- الملوثات الصادرة عن البقايا الصلبة
- تراكم النفايات
- المواد البلاستيكية

أكمل العبارات التالية :

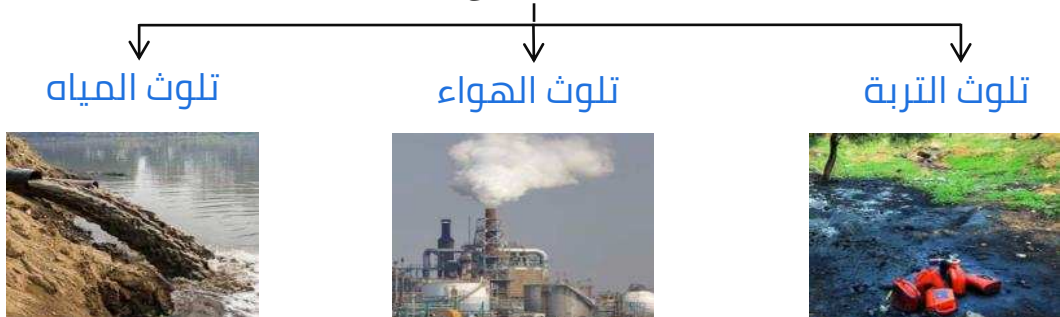
س من أكثر الملوثات انتشاراً تسمى التلوث الكيميائي ..

س من أكثر الملوثات انتشاراً التلوث الكيميائي مثل الغازات السامة ..

س عدد مصادر الغازات السامة

- الصادرة من محطات التحلية
- دخان المصانع
- عوادم السيارات

س عدد - أنواع التلوث



س عدد أسباب التلوث

- القاء النفايات
- دخان المصانع
- المجاري الصحية غير المعالجة

س التلوث البيئي مشكلة عالمية " دلل على صحة العبارة "

- التلوث البيئي أهم وأخطر المشاكل التي تواجه العالم
- عقد أكبر مؤتمر للأمم المتحدة عام 1992م وحضرة أكثر من 100 رئيس دولة

اختياري:

س عقدت قمة الأرض عن مشكلة التلوث البيئي عام:

- 1991 م ○ 1992 م ○ 1993 م ○ 1999 م



س عقد مؤتمر قمة الأرض عام 1992 م في دولة:

- البرازيل ○ إيطاليا ○ إنجلترا ○ فرنسا

س المؤتمر الذي عقد في مدينة ريودي جانيرو عام 1992م لمناقشة مشكلة التلوث البيئي عرف باسم:

- فرساي ○ مشكلة العصر
○ قمة الأرض ○ قمة المناخ



س صوب ما تحته خط :

م	العبارة	التصويب
1	من أهم وأخطر المشاكل التي تواجه شعوب العالم اليوم تسمى التلوث الجوي	البيئي
2	مشكلة تلوث البيئة مشكلة إقليمية	عالمية
3	حضر قمة الأرض عام 1992م أكثر من 50 رئيس دولة	100



تدرب و تفوق
اختبارات الكترونية



**مصنع لفرز
النفايات
ومعالجتها**

س النتيجة:

إعادة تدويرها
وتصنيعها



**شاطئ ملوث
بالنفايات**

س النتيجة:

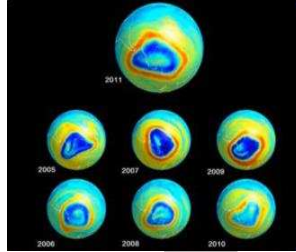
القضاء على
الثروة البحرية



**ثقب في طبقة
الأوزون**

س النتيجة:

مخاطر تهدد
الحياة البشرية
almanahj.com/kw



**حرق آبار النفط
في دولة الكويت
عام 1991م**

س النتيجة:

تلوث البيئة
الكويتية



س عدد أسباب ثقب في طبقة الأوزون

- المواد الكلورية
- أكسيد الكربون
- الدخان المتصاعد من المصانع

أكمل العبارات التالية:

ممكن أن يظهر السؤال في صيغة اخرى: **عرف**

س الطبقة الجوية التي تحمي الأرض من الإشعاعات فوق البنفسجية الضارة تسمى **الأوزون**

س طبقة الأوزون تحمي الأرض من إشعاعات تسمى **فوق البنفسجية**

س المواد الغازية الموجودة في وسائل التبريد وتكرير المياه وتؤدي لثقب الأوزون تسمى **الكلورية**

س الغاز الناتج عن عوادم السيارات ويؤدي إلى ارتفاع متزايد في حرارة الأرض يسمى **أكسيد الكربون**

أكتب مما درست النتائج السلبية:

- س** أوكسيد الكربون الناتج عن عوادم السيارات
- يؤدي إلى ارتفاع متزايد في حرارة الأرض
 - تغيير مناخي يهدد بإغراق بعض المدن

س الدخان المتصاعد من المصانع

- تلوث الهواء والتربة والماء
- يهدد الحياة على الأرض



تدرب و تفوق
اختبارات الكترونية



موقع
المناهج الكويتية
almanahj.com/kw

عرف

التوازن البيئي

بقاء عناصر البيئة في حالة من التوازن

س ما النتيجة المترتبة على التوازن البيئي

بقاء عناصر الطبيعية في حالة من التوازن لتؤدي وظائفها على أكمل وجه

س دلل: للإنسان دور في المحافظة على التوازن البيئي

- زراعة الأشجار
- إبعاد المصانع عن المناطق السكنية



س أكمل : عناصر البيئة عناصر البيئة تعمل كمنظومة واحدة مثل جسم الإنسان

س علل عناصر البيئة تعمل كمنظومة واحدة

لأن الخلل في عنصر من عناصر نظام بيئي معين يؤدي إلى اضطراب في وجود بقية العناصر فيه

س عدد الخطوات نحو سياسة بيئية فاعلة

- حماية الموارد الطبيعية
- توليد طاقة نظيفة
- تنمية الوعي البيئي

ما هي مقترحاتك:

س حماية الموارد الطبيعية

- الاستخدام السليم للموارد بعيداً عن الاستخدام السيئ
- المحافظة على نظافة الموارد لتصبح قادرة على تجديد مواردها

س علل- أهمية المحافظة على نظافة الموارد الطبيعية

- لتصبح قادرة على تجديد مواردها
- التخلص من مخاطر التصحر
- تلاشي تلوث الشواطئ



س كيف يمكننا توليد طاقة نظيفة

- إعادة تجديد محطات الطاقة القديمة
- الاعتماد على مصادر الطاقة البديلة

س عدد مصادر الطاقة البديلة

ممكن أن يظهر السؤال في صيغة اخرى: **أذكر**

- الشمس
- الرياح
- المياه

س اكتب مدلول الصور التالية



مصادر الطاقة المتجددة الشمس والرياح

أكمل:

س تعد الرياح والشمس من مصادر الطاقة المتجددة .

س ما هي مقترحاتك :
نحو سياسة بيئية فاعلة لتنمية الوعي البيئي .

- الاستعمال الأمثل للموارد الماء والكهرباء
- فرز النفايات
- الحرص على نظافة الأماكن العامة
- التوقف عن تدمير النباتات

موقع
المناهج الكويتية
almanahj.com/kw



تدرب و تفوق
اختبارات الكترونية



U U L A



قضايا وطول نحو مستقبل عربي أفضل

التنمية في الوطن العربي

عرف

التنمية

تعني التطور والتطوير وهي عملية تتطلب التخطيط والمشاركة من الجميع



س أكتب مدلول الصورة المقابلة

موقع
المنهاج الكويتية
almanahj.com/kw



الصورة توضح التعاون العربي

س عدد أساليب (محاور) التنمية في الوطن العربي

- التنمية الاقتصادية
- التنمية المستدامة
- التنمية البشرية


س عدد أهداف التنمية الاقتصادية

- استخدام العلم في زيادة الإنتاج
- تحقيق التكامل بين الدول العربية في الإمكانيات والحاجات

س أكتب مدلول الصور التالية



صناعة الزيوت النباتية في المملكة المغربية



استخدام التكنولوجيا في صناعة الأقمار الصناعية

س عدد أهداف التنمية البشرية ؟

يمكن أن يظهر السؤال في صيغ أخرى:
كيف يتم توظيف قدرات الإنسان العربي لبناء مجتمع المعرفة

- الاهتمام بالطفل العربي ورعايته
- توفير فرص العمل والرعاية الصحية
- رفع كفاءة الثروة البشرية علمياً وفكرياً
- تعميق المشاركة في الرأي والديمقراطية

س البشر هم الثروة الحقيقية للأوطان " فسر العبارة في ضوء دراستك"
المجتمعات لا يمكن أن تتقدم أو تنمو اقتصادياً أو سياسياً أو اجتماعياً بدون إعداد
للقوى البشرية

موقع
المناهج الكويتية
almanahj.com/kw



س عدد المشكلات التي تواجه التنمية البشرية

- ضعف الاستفادة من القدرات البشرية في المنطقة العربية
- مشكلة الأمية
- نقص ومحدودية مشاركة المرأة في المنظمات السياسية
- الاختلاف الكبير في مستويات المعيشة بين دولة وأخرى

عرف

التنمية المستدامة

عبارة عن برامج تحسين نوعية الحياة ولا تتحقق إلا بمشاركة جميع المواطنين



س عدد أهداف التنمية المستدامة

- القضاء على الفقر
- القضاء التام على الجوع
- التعليم الجيد
- الصحة الجيدة

س أكتب عن جوهر التنمية المستدامة

الحرية - المعرفة - العمل الجماعي - الإبداع - الكفاءة - لا المحسوبة
- حقوق المرأة - حقوق الطفل

اختر الإجابة الصحيحة :

س أشهر العلماء العرب خارج الوطن العربي في تخصص الكيمياء الدكتور:

- معاذ الشلال
○ طه حسين
○ أحمد زويل
○ حافظ إبراهيم

س أشهر العلماء العرب خارج الوطن العربي في تخصص البيولوجيا الدكتور :

- مجدي يعقوب
○ طه حسين
○ حافظ إبراهيم
○ فاروق الباز

س فرق بين كل من

أهداف التنمية البشرية	أهداف التنمية الاقتصادية
<ul style="list-style-type: none">الاهتمام بالطفل العربي ورعايتهتوفير فرص العمل والرعاية الصحية	<ul style="list-style-type: none">استخدام العلم في زيادة الإنتاجتحقيق التكامل بين الدول العربية في الإمكانيات والحاجات



تدرب و تفوق
اختبارات الكترونية

U U L A



قضايا وطول نحو مستقبل عربي أفضل

التعاون والتضامن العربي لتحقيق التقدم والتنمية

عرف المفاهيم التالية:

س التضامن العربي

هو العمل على توثيق الصلات بين الدول والشعوب العربية وحماية مصالحها السياسية والاقتصادية الثقافية



المنتدى
almanahj.com/kw

س جامعة الدول العربية

منظمة إقليمية للدول العربية

أكمل العبارات التالية:

س المدينة التي تم تشكيل جامعة الدول العربية فيها تسمى القاهرة



س الصورة المقابلة تمثل منظمة عربية تسمى جامعة الدول العربية

س تشكلت جامعة الدول العربية في 22 مارس عام 1945م

س يبلغ عدد الدول الأعضاء المؤسسين لمنظمة جامعة الدول العربية ست دول

س انضمت اليمن لجامعة الدول العربية في 5 مايو عام 19٤٠م

س العام الميلادي الذي انضمت فيه دولة الكويت لجامعة الدول العربية 1961م

س عدد الدول الأعضاء في جامعة الدول العربية الآن 22 عضواً

س عدد أهداف جامعة الدول العربية

- توثيق العلاقات بين دول الأعضاء
- تنسيق التعاون في ما بينها
- الحفاظ على سيادة واستقلال الدول الأعضاء
- النظر في شؤون ومصالح الدول العربية

س عدد أبرز مؤسسات منظمة جامعة الدول العربية

- مجلس الوحدة الاقتصادية العربية
- المنظمة العربية للتنمية الزراعية



س أكتب مدلول الصورة المقابلة
اجتماع وزراء الخارجية العرب

س علل - الصناديق الإنمائية العربية علامات مضيئة للتعاون العربي

- أهم المصادر لتوفير التمويل الميسر
- مساندة الجهود الإنمائية الاقتصادية والاجتماعية في عدد من الدول العربية



س عدد أهم الصناديق الوطنية

يمكن أن يظهر السؤال في صيغة اخرى: الإنمائية العربية - قارن

اسم الصندوق	الصندوق الكويتي للتنمية الاقتصادية العربية	صندوق أبوظبي للتنمية	الصندوق السعودي للتنمية
سنة التأسيس	1961م	1971م	1974م
الشعار			

س عدد مساهمات (أهداف) الصناديق الإنمائية العربية

- تقديم القروض
- تقديم المنح
- التمويل المشترك
- تقديم المساعدات الاقتصادية للدول العربية



تدرب و تفوق
اختبارات الكترونية

أكمل العبارات التالية:

س منظمة إقليمية للدول الخليجية تسمى مجلس التعاون لدول الخليج العربية

س الشعار المقابل يمثل منظمة إقليمية تسمى مجلس التعاون لدول الخليج العربية

س أعلن قيام مجلس التعاون لدول الخليج العربية في 25 مايو عام 1981م

س أعلن قيام مجلس التعاون لدول الخليج العربية في مدينة أبوظبي

س مظهر جديد ومتقدم من مظاهر دعم التضامن بين الدول العربية وفق مبادئ مدرسة يسمى مجلس التعاون الخليجي

س عدد الدول الأعضاء في مجلس التعاون لدول الخليج العربية 6 دول (الكويت - السعودية - الإمارات - قطر - البحرين - عمان)





اجتماعات قادة دول مجلس التعاون الخليجي

موقع
المناهج الكويتية
almanahj.com/kw



تدرب و تفوق
اختبارات الكترونية



U U L A



قضايا وحلول نحو مستقبل عربي أفضل

دور دولة الكويت في العمل العربي المشترك

أكمل :

س قدمت دولة الكويت الكثير من المساعدات المادية للدول العربية و الإسلامية على - تقديم دولة الكويت الكثير من المساعدات المادية للدول العربية والإسلامية

- انطلاقاً من مبادئ الدين الإسلامي
- المساهمة في مشاريع التنمية الضرورية

س اقرأ الآية الكريمة ثم اجب عما يليها من أسئلة
(الَّذِينَ يُنْفِقُونَ أَمْوَالَهُمْ فِي سَبِيلِ اللَّهِ ثُمَّ لَا يُتْبِعُونَ مَا أَنْفَقُوا مَنًّا وَلَا أَدَىٰ ۗ لَهُمْ أَجْرُهُمْ عِنْدَ رَبِّهِمْ وَلَا خَوْفٌ عَلَيْهِمْ وَلَا هُمْ يَحْزَنُونَ)

س الآية الكريمة تدل على شكل من مساهمات دولة الكويت للدول العربية والإسلامية يسمى المساهمات الاقتصادية -

س عدد- أشكال مساهمات دولة الكويت للدول العربية والإسلامية

- سياسية
- ثقافية
- اقتصادية
- دينية

س أكتب مدلول الصور التالية:

ممكن أن يظهر السؤال في صيغة أخرى:
عدد المنظمات العربية التي شاركت فيها دولة الكويت لتنفيذ المشاريع التنموية العربية



المنظمة العربية للتربية والثقافة والعلوم (ألكسو)



المنظمة العربية للتنمية الصناعية والتعدين



المنظمة العربية للتنمية الصناعية والتعدين

س دل- نجاح سياسة دولة الكويت في المجال العربي

لأنها شاركت في عدة منظمات عربية مثل المنظمة العربية للتنمية الزراعية والمنظمة العربية للتنمية الصناعية والتعدين ومنظمة ألكسو

أكمل العبارات التالية:

س الدولة التي يوجد بها مقر المنظمة العربية للتنمية الزراعية تسمى السودان

س الدولة التي يوجد بها مقر المنظمة العربية للتنمية الصناعية والتعدين تسمى المغرب

س الدولة التي يوجد بها مقر المنظمة العربية للتربية والثقافة والعلوم تسمى تونس

اختياري:

س المنظمة العربية للتربية والثقافة والعلوم تسمى:

موقع
المناهج الكويتية
almanahj.com/kw
○ اليونيسيف

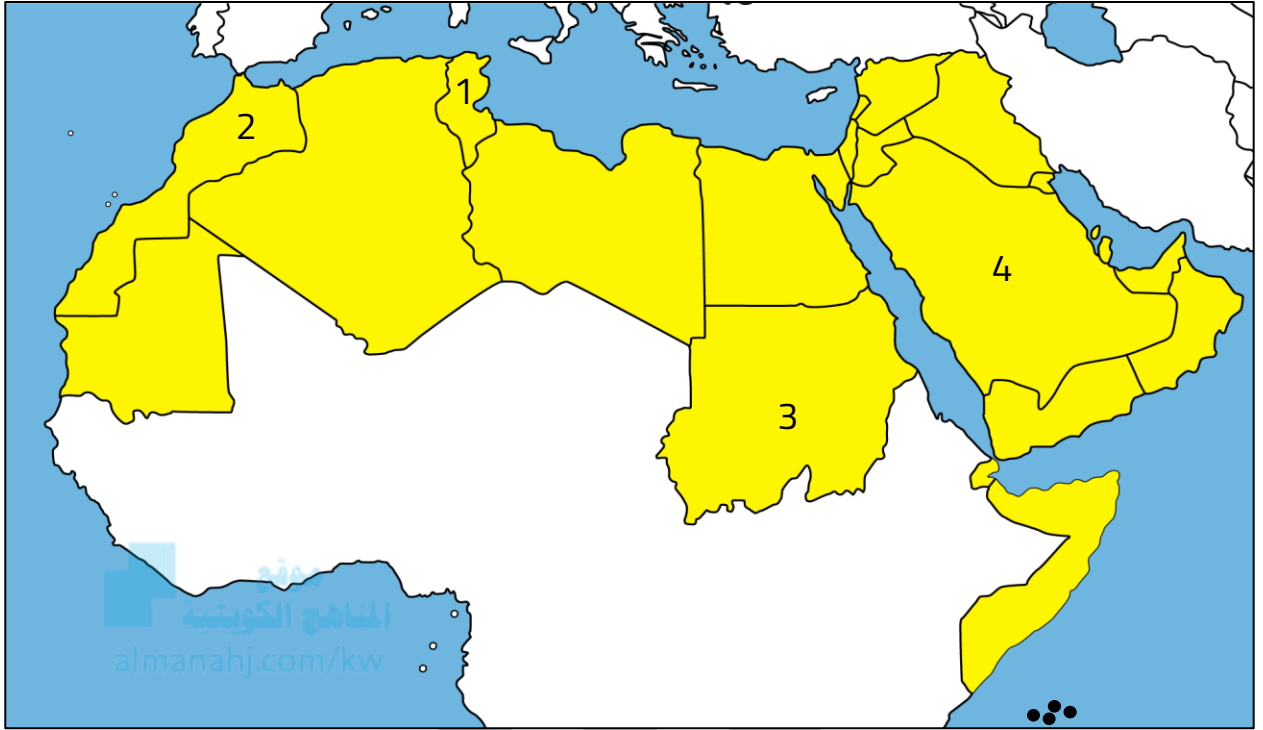
○ اليونسكو

○ إيسيسكو

○ ألكسو

U U L A

لاحظ خريطة الوطن العربي الصماء ثم اكتب الرقم الدال على كلاً مما يلي :



س الدولة التي يوجد بها مقر المنظمة العربية للتنمية الزراعية تحمل الرقم 3

س الدولة التي يوجد بها مقر المنظمة العربية للتنمية الصناعية و التعدين تحمل الرقم 2

س الدولة التي يوجد بها مقر المنظمة العربية للتربية والثقافة والعلوم تسمى 1



تدرب و تفوق

اختبارات الكترونية

أكمل العبارات التالية:

س أول مؤسسة للتنمية في الوطن العربي تسمى
الصندوق الكويتي للتنمية الاقتصادية العربية



س صاحب فكرة تأسيس الصندوق الكويتي للتنمية الاقتصادية
العربية الشيخ جابر الأحمد الصباح



س الصندوق الكويتي للتنمية الاقتصادية العربية تأسس في
عهد الشيخ عبدالله السالم الصباح

س تأسس الصندوق الكويتي للتنمية الاقتصادية العربية في 31 ديسمبر عام
1961 م

اختياري:

س الوزارة التي ترأسها صاحب السمو الشيخ جابر الأحمد الصباح عام 1961 م:
○ المالية ○ الخارجية ○ التخطيط ○ الداخلية

س الوزارة التي يتبعها الصندوق الكويتي للتنمية الاقتصادية العربية:
○ المالية ○ الخارجية ○ التخطيط ○ الداخلية

س عدد أهداف (مساهمات) الصندوق الكويتي للتنمية الاقتصادي العربية

- المساهمة في تحقيق مشاريع التنمية الضرورية الخاصة بالمجالات الصحية والاجتماعية
- تقديم المساعدات اللازمة في حالات الكوارث والنكبات
- دعم قضايا الأمة العربية الإسلامية



تدرب و تفوق
اختبارات الكترونية



س عدد أهم المؤتمرات الاقتصادية العربية التي استضافتها دولة الكويت

- القمة العربية الاقتصادية والتنمية والاجتماعية
- المؤتمر الدولي للمانحين لدعم الوضع الإنساني في سوريا (1 - 2 - 3)

س اكتب مدلول الصور المقابلة :



القمة العربية الاقتصادية والتنمية والاجتماعية

أكمل العبارات التالية:

س استضافت دولة الكويت القمة العربية الاقتصادية والتنمية والاجتماعية 19- 20- يناير عام 2009

س صاحب مبادرة عقد القمة العربية الاقتصادية والتنمية والاجتماعية عام 2009م هو الشيخ صباح الأحمد الصباح

س أكبر وأهم مؤتمر قمة عربية منذ تاريخ نشأة جامعة الدول العربية يسمى القمة العربية الاقتصادية والتنمية والاجتماعية القمة العربية الاقتصادية والتنمية والاجتماعية

س الدولة التي عقد فيها أكبر وأهم مؤتمر قمة عربية منذ تاريخ نشأة جامعة الدول العربية تسمى دولة الكويت

س القمة العربية التي تعتبر بوابة الخير للعمل الاقتصادي العربي عام 2009م تسمى القمة العربية الاقتصادية والتنمية والاجتماعية

س أبرز أولويات مؤتمر القمة العربية الاقتصادية والتنمية والاجتماعية سنة 2009م هي إعادة تعمير غزة

س ما النتائج المترتبة على الغزو الإسرائيلي الغاشم لقطاع غزة عام 2009م

- قتل الآلاف من الأبرياء
- تدمير البنية التحتية

س عل عقد القمة الاقتصادية التنموية العربية

- العالم العربي يمر بمرحلة حرجة وتحديات خطيرة
- تدمير قطاع غزة بعد تعرضه للغزو الإسرائيلي

س دلل- ايمان الشيخ صباح الأحمد أن العالم العربي يمر بمرحلة حرجة وتحديات خطيرة عام 2009م

- التحديات لم تقتصر على أمن وسلامة واستقلال الدول العربية
- الأخطار مست الأوضاع الاقتصادية والتنموية والاجتماعية والثقافية

س عدد أهم أهداف القمة الاقتصادية التنموية العربية

- إنشاء بنك عربي لتمويل شتى المشاريع التنموية
- القضاء على البطالة والفقر
- الاستثمار الاقتصادي بين الدول العربية
- الاعتناء بالعنصر البشري والتنمية المستدامة

س علل- حظيت مبادرة الشيخ صباح الأحمد باستضافة الكويت المؤتمر الدولي الأول لمانحي سوريا ترحيب عربي ودولي عام 2013م

لأهميته الكبيرة في ذلك الوقت الذي يعاني فيه الشعب السوري من ظروف معيشية بالغة السوء والتعقيد

س أكمل الجدول التالي :

الدولة التي عقد فيها	العام الميلادي	المؤتمر
الكويت	2013م	المؤتمر الدولي الأول للمانحين لدعم الوضع الإنساني في سوريا
	2014م	المؤتمر الدولي الثاني للمانحين لدعم الوضع الإنساني في سوريا
	2015م	المؤتمر الدولي الثالث للمانحين لدعم الوضع الإنساني في سوريا



س ماذا تمثل صورة اليد التي في الشعار المقابل:
مد يد العون والمساعدة

س أكتب مدلول الصورة المقابلة:
كلمة الشيخ صباح الأحمد في افتتاح المؤتمر



تدرب و تفوق
اختبارات الكترونية

U U L A