

تم تحميل هذا الملف من موقع المناهج الكويتية



مذكرات الإبداع

الملف مذكرة مفيدة للوحدة الأولى (البيئة الطبيعية)

موقع المناهج ← المناهج الكويتية ← الصف التاسع ← اجتماعيات ← الفصل الأول

روابط مواقع التواصل الاجتماعي بحسب الصف التاسع



روابط مواد الصف التاسع على تلغرام

[الرياضيات](#)

[اللغة الانجليزية](#)

[اللغة العربية](#)

[التربية الاسلامية](#)

المزيد من الملفات بحسب الصف التاسع والمادة اجتماعيات في الفصل الأول

<a href="#">مسودة كتاب الطالب اجتماعيات لعام 2018</a>	1
<a href="#">نموذج احابة اختبار لعام 2017تعليم خاص</a>	2
<a href="#">نموذج احابة اختبار لمنطقة العاصمة لعام 2016 في مادة الاجتماعيات</a>	3
<a href="#">مراجعة رائعة للفصل الاول في مادة الاجتماعيات</a>	4
<a href="#">حل تقويم الكورس الاول في مادة الاجتماعيات</a>	5

مذكرات

# الإبلاغ

الاجتماعيات


٢٠٢٤-٢٠٢٣

للتوصيل

٦٦٨٩٨٤٨١

الصف التاسع

الفصل الدراسي الاول



## الوحدة الاولى : البيئة الطبيعية

### أولاً : مفهوم البيئة الطبيعية

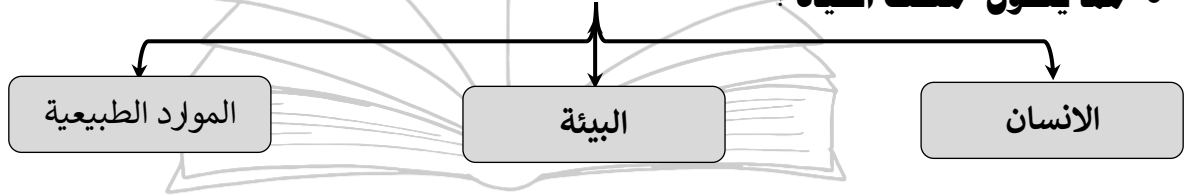
#### • عرف المفاهيم الآتية :-

- ١- **البيئة**: هي الاطار الذي يعيش فيه الانسان ويحصل فيه على مقومات حياته ويتفاعل فيها مع عناصر البيئة
- ٢- **البيئة الطبيعية**: كل ما يحيط بالإنسان من ظاهرات حية وغير حية ليس للإنسان دخل في وجودها
- ٣- **التوازن البيئي**: هو التفاعل المستمر بين مكونات البيئة لحفظ استقرارها النسبي في زمن محدد

#### • اذكر أقسام البيئة ؟

حيية	غير حية
هي الكائنات الحية التي تعيش في تلك البيئة ( انسان - حيوان - نبات )	تتمثل في التربة والماء والضوء والحرارة والرطوبة والرياح

#### • مما يتكون مثلث الحياة ؟



- العلاقة بين اضلع مثلث الحياة علاقة **تبادلية واعتمادية** في نفس الوقت

#### • ماذا يحدث لو ، أو ما النتائج المترتبة على :

- أصبحت العلاقة بين اضلاع مثلث الحياة **تنافسية وتدميرية** .

- يعني ذلك الحكم بالموت على الإنسان على سطح الأرض

#### • اذكر مميزات البيئة الطبيعية ؟

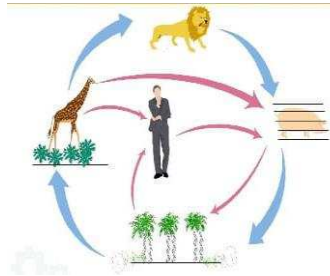
١- العلاقة التبادلية بين عناصر البيئة الطبيعية

٢- التوازن البيئي

٣- وحدات بيئية كاملة ضمن حدود جغرافية

#### • برهن او دلي على عدم التوازن البيئي :-

- التصحر - قطع الاشجار - مشكلة التلوث



## • اذكر خصائص الكائنات الحية :-

١- التكاثر ٢- الحركة

٣- النمو ٤- الاستجابة

٥- الايض ٦- الاخراج

٧- التغذية

## • أكمل الجمل التالية بما يناسبها :

١- الإطار الذي يعيش فيه الإنسان ويحصل فيه على مقومات حياته يعرف بـ البيئة .٢- كل ما يحيط بالإنسان من ظاهرات حية وغير حية ليس له دخل في وجودها يعرف البيئة الطبيعية٣- التفاعل المستمر بين مكونات البيئة لحفظ استقرارها النسبي في زمن محدد يعرف التوازن البيئي٤- العالم الذي استخدم علم البيئة الطبيعية كمفهوم جديد يدرس في الجامعات يسمى هنري ديفيد .٥- القرن الميلادي الذي أصبح فيه علم البيئة الطبيعية تخصصا علميا هو منتصف القرن التاسع عشر٦- الصورة المقابلة لعالم استخدم مصطلح البيئة الطبيعية كتخصص علمي ويسمى هنري ديفيد

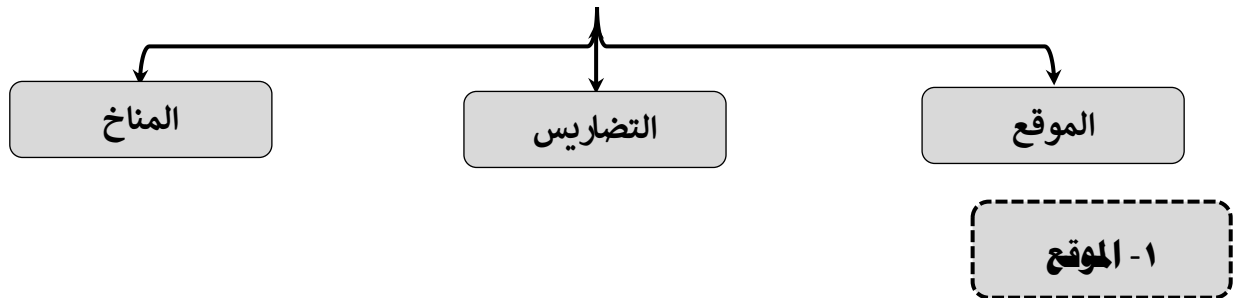
## - من أول من استخدم مصطلح ( علم البيئة الطبيعية )

(عالم الطبيعة ( هنري ديفيد ) هو الذي استخدم علم الطبيعة كمفهوم جديد يدرس في الجامعات

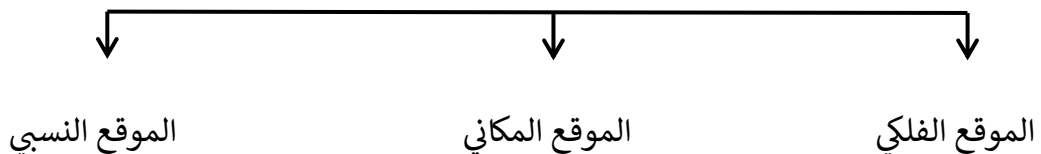


في منتصف القرن التاسع عشر الميلادي (

## ثانيا : عناصر البيئة الطبيعية



## • ما أقسام الموقع ؟



١- **الموقع الفلكي** : ( هو موقع الدولة بالنسبة لخطوط الطول ودوائر العرض )

وجه المقارنة	خطوط الطول	دوائر العرض
العدد	٣٦٠	١٨٠
خط الأساس	جرينتش	خط الاستواء
الخصائص	- يقسم خط جرينتش (صفر) العالم الي نصفين شرقي وغربي - خط طول ١٨٠ هو خط التاريخ الدولي	- يقسم خط الاستواء (صفر) العالم الي نصفين شمالي وجنوبي
الاهمية	- تفيد في معرفة الوقت	- تحديد الأقاليم المناخية

• **عرف خط التاريخ الدولي؟**

- هو خط طول ١٨٠ ومنه يبدأ اليوم وينتهي اليه .

• **حدد الموقع الفلكي لدولة الكويت ؟**

- تقع دولة الكويت ما بين دائرتي عرض ٢٨،٤٥ - ٣٠،٠٥ درجة شمال خط الاستواء وبين خطي طول ٤٦،٣٠ - ٤٨،٣٠ درجة شرق جرينتش

٢- **الموقع المكاني** : ( هو موقع الدولة في مكان معين )

- **أين تقع دولة الكويت ؟**

- في الجهة الجنوبية الغربية بالنسبة لقارة آسيا ، وفي جهة الشمال الشرقي بالنسبة لشبه الجزيرة العربية وفي الشمال الغربي بالنسبة للخليج العربي.

٣- **الموقع النسبي** : ( هو موقع الدولة بالنسبة لليابس والماء )

- الكويت تحدها من جهة الشمال والشمال الغربي جمهورية العراق ، ومن جهة الجنوب والجنوب الغربي المملكة العربية السعودية ، ومن جهة الشرق المسطح المائي الخليج العربي السعودية

• **أكمل الجمل التالية بما يناسبها:**

١- موقع الدولة بالنسبة لخطوط الطول ودوائر العرض يعرف بـ **الموقع الفلكي**

٢- موقع الدولة في مكان معين يعرف بـ **الموقع المكاني**

٣- موقع الدولة بالنسبة لليابس والماء يعرف بـ **الموقع النسبي**

٤- تمتد دولة الكويت بين دائرتي عرض ٢٨،٤٥ إلى ( ٣٠،٠٥ ) شمال خط الاستواء

٥- تمتد دولة الكويت بين خطي طول ٤٦،٣٠ إلى ( ٤٨،٣٠ ) شرق خط جرينتش

٦- خط الطول الأساسي ورقمه (صفر) يعرف باسم **خط جرينتش**



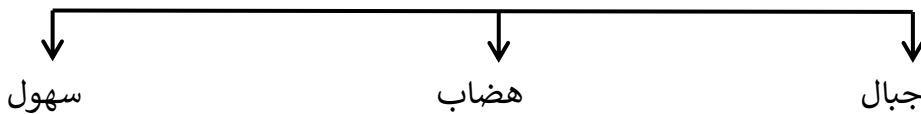
- ٧- خط العرض الأساسي ورقمه (صفر) يعرف باسم خط الاستواء
- ٨- خط طول ١٨٠ والذي يبدأ منه اليوم يسمى خط التاريخ الدولي
- ٩- أكبر دول العالم من حيث المساحة هي روسيا
- ١٠- أصغر دول العالم من حيث المساحة تسمى الفاتيكان
- ١١- مساحة دولة الكويت تقدر بنحو ١٧,٨١٨ كم مربع
- ١٢- تقع دولة الكويت بالنسبة لقارة آسيا جهة الجنوب الغربي
- ١٣- تقع دولة الكويت بالنسبة لشبه الجزيرة العربية جهة الشمال الشرقي
- ١٤- تقع دولة الكويت بالنسبة للخليج العربي جهة الشمال الغربي
- ١٥- الدولة التي تحد دولة الكويت من جهة الشمال والشمال الغربي هي العراق
- ١٦- الدولة التي تحد دولة الكويت من جهة الجنوب والجنوب الغربي هي السعودية
- ١٧- المسطح المائي الذي يحده دولة الكويت من جهة الشرق هي الخليج العربي

### • أكتب الاسم الدال على الأشكال التالية :



### ٢- التضاريس

- عرف المفاهيم الآتية :-
- ١- التضاريس : هي الملامح الرئيسية لشكل سطح الأرض ( مرتفعات ومنخفضات وأودية وسهول )
- ٢- التعرية : هي عملية نحت وتشكيل سطح الأرض ونقل المفتتات وأرسابها في مكان آخر
- تنقسم التضاريس إلى :-



### • ما هي العوامل المؤثرة في التضاريس ؟

- الانسان
- النباتات
- الحرارة
- الامطار
- الرياح

• **عرف المفاهيم التالية :-**

- ١- **الجبال** : هي كل مرتفع من الأرض وله قمة لا يقل ارتفاعها عن ١٠٠٠ متر، ويمثل ١٢% من القارات.
- ٢- **الهضاب** : أرض مرتفعة سطحها مستو، ويمتد على مساحة كبيرة وتمثل ٣٣% من القارات ،
- ٣- **السهول** : هي مساحة كبيرة من سطح الأرض وتتميز باستوائها وقلة ارتفاعها تمثل ٤١٪ من القارات .

• **تنقسم السهول إلى :-**

( سهول ساحلية - سهول فيضية (نهرية) )

• **علل لما يأتي :-**

١- **تعد السهول افضل مناطق الاستقرار البشري ؟ او عدد أهمية السهول**

- تعتبر موانئ طبيعية.
- سهولة بناء المساكن عليها.
- تركيز السكان فيها لسهولة التنقل

٢- **تتخذ الجبال شكلا مسننا**

- بسبب عوامل التعرية الشديدة

٣- **الجبال أقل المظاهر التضاريسية صلاحية للاستقرار البشري**

- لصعوبة التنقل- صعوبة بناء المساكن عليها- صعوبة الزراعة فيها

• **عدد مميزات أشجار السهول الاستوائية ؟**

- قشرتها سميقة لتحميها من الحرائق .
- جذورها عميقة لامتصاص المياه الجوفية
- لها اشواك تحمي أوراقها من الحيوانات

القارات	الجبال	الهضاب	السهول
اسيا	الهيملالايا - عسير- الحجاز	نجد - التبت	سيبريا
افريقيا	اطلس	اثيوبيا	سهل نهر النيل
اوروبا	الالب - اسكندنافيا	بافاريا	الاوروبي العظيم
امريكا الشمالية	روكي - الابلاش	الدرع الكندي	السهول الوسطي
امريكا الجنوبية	الانديز	البرازيل	السلفاس - البمباس
استراليا	السلاسل الشرقية	كمبرلي	



# مذكرات الابداع