

ورقة عمل لمادة بلادي الكويت / الصف الرابع
الوحدة الثانية: نشأة بلادي الكويت درس ١ : قصة بلادي الكويت (١)

السؤال الثاني : أكتب تعليق مناسب للصورة مما درست :



السؤال الأول : أكمل الفقرة التالية باختيار الكلمة الصحيحة من بين القوسين بوضع دائرة حولها :

نحن نعيش في دولة الكويت واسمها يعني

تصغير الكلمة (الكوت □ القرن) وهو الحصن

الصغير الذي يستخدم لـ (تخزين - صناعة)

الأسلحة و المون ، و لدولة الكويت اسم قديم و شائع

هو (القصور - القرين) لكنه اختلف تدريجيا .

ورقة عمل لمادة بلادي الكويت / الصف الرابع الوحدة الثانية: نشأة بلادي الكويت درس ٢ : قصة بلادي الكويت (٢)

السؤال الأول : أكمل العبارات التالية بما يناسبها فيما درست :

١- هاجرت مجموعة من الأسر العربية و بينها آل الصباح من منطقة الهدار في

٢- اتجه آل الصباح في هجرتهم من الهدار إلى شبه جزيرة

٣- هاجر آل الصباح من منطقة الهدار إلى شبه جزيرة قطر بسبب

٢- غادر آل الصباح من شبه جزيرة قطر إلى منطقة الصبيبة بواسطة السفن عن طريق

السؤال الثاني :- صل بين المجموعتين برسم خط بينهما :-

انتقل آل الصباح من شبه منطقة الهدار إلى شبه جزيرة قطر بواسطة

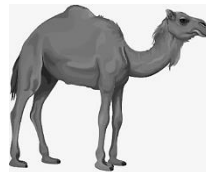
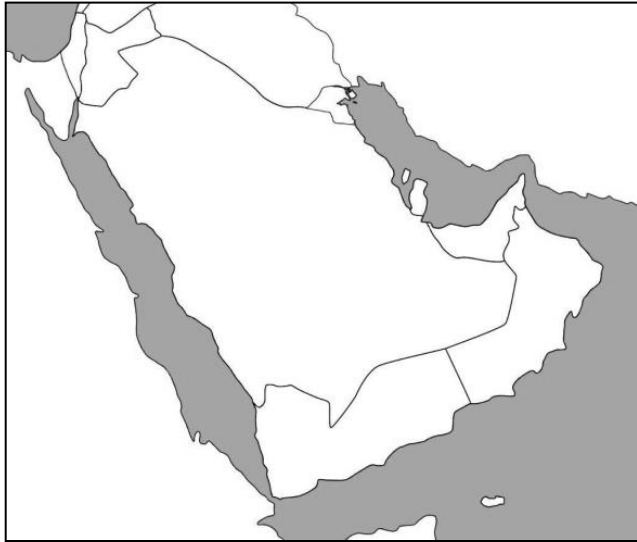
انتقل آل الصباح من شبه جزيرة قطر إلى الكويت بواسطة

السؤال الثالث : عين على خريطة شبه الجزيرة العربية الصماء الرموز التالية :

● على موقع منطقة الهدار .


▲ شبه جزيرة قطر .

▬ ظل دولة الكويت .



ورقة عمل لمادة بلادي الكويت / الصف الرابع الوحدة الثانية: نشأة بلادي الكويت درس ٣ : حكام بلادي الكويت

السؤال الثالث :
صل بين المجموعتين برسم خط بينهم :



المدرسة
المباركية



سور الكويت
الثالث



القصر الأحمر

السؤال الأول :
ضع علامة (٧) أمام العبارات الصحيحة وعلامة (×) أمام العبارات الخاطئة :

م	العبرة	العلامة
١	أول حاكم لبلادي الكويت هو الشيخ صباح بن جابر .	
٢	أصبحت دولة الكويت أرضاً جاذبة للسكان لموقعها المميز وازدهار التجارة مع حكم آل الصباح .	
٣	معركة الرقة البحرية حدثت في عهد الشيخ عبدالله الثاني .	
٤	المدرسة الأحمدية افتتحت في عهد الشيخ جابر الأحمد .	
٥	تحرير دولة الكويت حدث عام ١٩٩٠م .	
٦	لقب الشيخ جابر الأحمد بأمير الإنسانية .	

السؤال الثاني : لاحظ الصورة ثم أكتب الحدث التاريخي الدال عليها :



.....
.....

ورقة عمل لمادة بلادي الكويت / الصف الرابع
الوحدة الثانية: نشأة بلادي الكويت درس ٤ : الاتفاقية الكويتية البريطانية عام ١٨٩٩م

السؤال الأول : ضع علامة ٧ في المربع الدال على صورة الشيخ مبارك الصباح :-

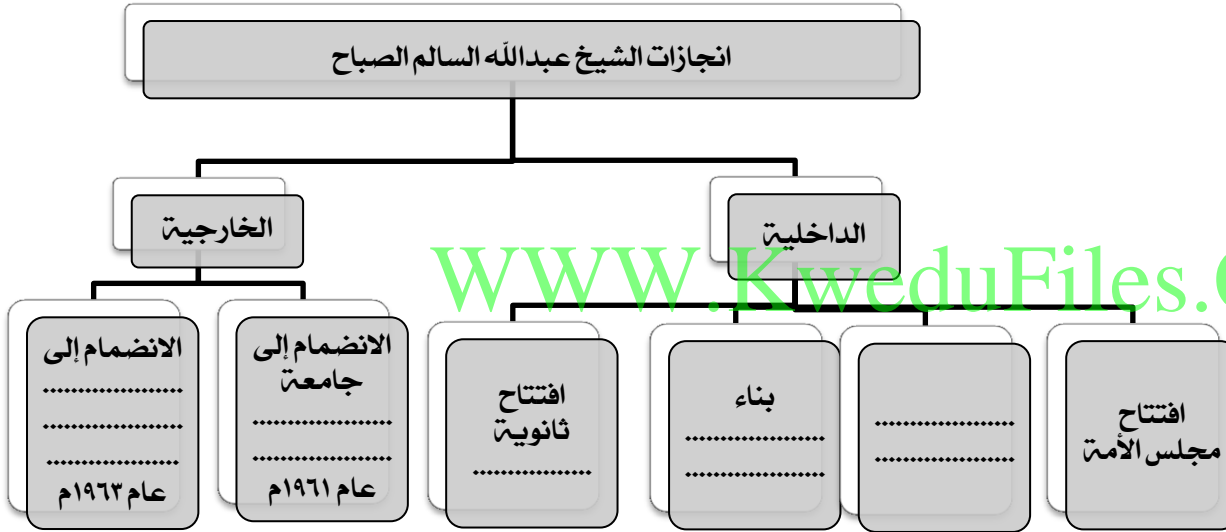


السؤال الثاني : صوب ما تحته خط في العبارات التالية :

م	العبرة	التصويب
١	أصبحت إمارة الكويت ذات مكانة قوية في عهد الشيخ محمد الصباح.	
٢	لقب الشيخ مبارك الصباح بعدة ألقاب منها أبو الدستور.	
٣	وقع الشيخ مبارك الصباح اتفاقية عام ١٨٩٩م مع الهند.	
٤	من شروط الاتفاقية الكويتية البريطانية ١٨٩٩م التزام بريطانيا بحماية البحرين.	

ورقة عمل لمادة بلادي الكويت / الصف الرابع الوحدة الثانية: نشأة بلادي الكويت درس 5: استقلال بلادي الكويت

السؤال الثاني : أكمل المخطط السهمي التالي :



السؤال الأول : ضع علامة ✓ في المربع الدال على صورة الشيخ عبدالله السالم الصباح :-



السؤال الثالث : رتب العبارات التالية لتكون التعريف الصحيح للاستقلال :-

(الداخلية و - مسؤولية الدولة - ادارة شؤونها - الخارجية- بصورة مباشرة عن)

الاستقلال هو

.....

.....

السؤال الرابع : أملأ الفراغات التالية بما يناسبها فيما درست :

رغب الشيخ عبدالله السالم في تحويل إمارة الكويت إلى دولة ، وكان أهم شروط ذلك إلغاء اتفاقية لتغير الظروف وسير إمارة الكويت نحو فوقع الشيخ عبدالله السالم مع المقيم البريطاني اتفاقية ، وبذلك حصلت دولة الكويت على استقلالها في تاريخ ولقب الشيخ عبدالله السالم بـ



وزارة التربية
الإدارة العامة لمنطقة حولي التعليمية
مدرسة السلام . أ. بنات
2018 - 2019



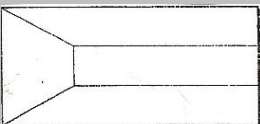

ورقة عمل لمادة بلادي الكويت / الصف الرابع الوحدة الثانية: نشأة بلادي الكويت درس ٦: رموز بلادي الكويت (١)

السؤال الأول: من خلال دراستك للنشيد الوطني الكويتي - كون فقرة مناسبة باستخدام الكلمات التالية :-

(٢٥ فبراير ١٩٧٨م - الشيخ جابر الأحمد الصباح - أحمد العدواني - ابراهيم الصولت)

WWW.KweduFiles.Com

السؤال الثالث: قارن بين كل من :

العلم الحديث	العلم القديم	أوجه المقارنة
		
		الشكل و اللون
		سنت الاستخدام

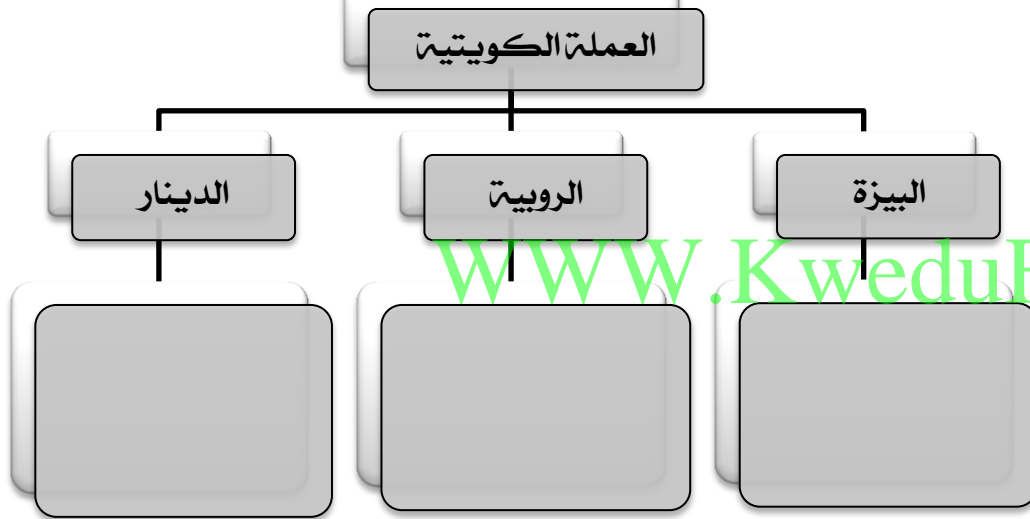
السؤال الثاني: علل :-

أهمية النشيد الوطني للدولة.

اعداد المعلمة: زينب بن نخي
رئيس الشعبة: ناهد الظفيري

ورقة عمل مادة بلادي الكويت / الصف الرابع الوحدة الثانية: نشأة بلادي الكويت درس ٧: رموز بلادي الكويت (٢)

السؤال الثاني: أكمل المخطط السهمي التالي بكتابة معلومات مهمة عنها:



السؤال الثالث: أجب على الأسئلة التالية بمساعدة الصورة :-



١- لون شعار دولة الكويت.

٢- ما هي مكونات الشعار؟
.....
.....
.....

٣- ما أهمية الشعار لدولة الكويت؟
.....
.....

السؤال الأول: رتب شعارات دولة الكويت التالية زمنياً ثم
أكمل المعلومات المرتبطة بها :-

(١٩٤٠م - ١٩٦٢م - ١٩٢١م - أحمد الجابر - عبدالله السالم)

اعتمد في عام

في عهد الشيخ



الشعار

.....

اعتمد في عام



الشعار

.....

اعتمد في عام

في عهد الشيخ



الشعار

.....

استخدم بعد الاستقلال



وزارة التربية
الإدارة العامة لمنطقة حولي التعليمية
مدرسة السلام . أ. بنات
2018 - 2019



ورقة عمل لمادة بلادي الكويت / الصف الرابع الوحدة الثانية: نشأة بلادي الكويت درس ٨ : سكان بلادي الكويت

السؤال الثاني : صل بين المجموعتين برسم خطا بينهما :

عدد السكان
مساحة الدولة

الزيادة الطبيعية

عدد الموالي - عدد الوفيات

الزيادة غير
الطبيعية

الزيادة الناتجة عن الهجرة

الكثافة
السكانية

السؤال الرابع : أجب على الأسئلة التالية :

١- ما فائدة التعداد السكاني ؟

٢- علل : عدد الذكور أكثر من عدد الاناث في دولة الكويت .

٣- أكتب ما تعرف عن أول تعداد سكاني في دولة الكويت .

السؤال الأول : ظلل الخيار الصحيح من بين الخيارات التي تلي كل عبارة :-

١- عدد سكان دولة الكويت في بداية نشأتها كان لا يتجاوز :

٤ آلاف نسمة	٥ آلاف نسمة	٦ آلاف نسمة	٧ آلاف نسمة
-------------	-------------	-------------	-------------

٢- زاد عدد سكان دولة الكويت بعد ظهور وتصدير :

الحديد	الكالسيوم	النفط	الماء
--------	-----------	-------	-------

٣- عدد سكان دولة الكويت الحالي يبلغ حوالي :

٢,٢٠٠,٠٠٠ نسمة	٣,٣٠٠,٠٠٠ نسمة	٤,٤٠٠,٠٠٠ نسمة	٥,٥٠٠,٠٠٠ نسمة
----------------	----------------	----------------	----------------

السؤال الثالث : ضع إشارة أو في الدائرة :

١- عدد السكان الذكور عدد السكان الاناث في دولة الكويت .

٢- عدد السكان الكويتيين عدد السكان غير الكويتيين .

ورقة عمل لمادة بلادي الكويت / الصف الرابع الوحدة الثانية: نشأة بلادي الكويت درس ٩ : محافظات بلادي الكويت

السؤال الثاني : لاحظ خريطة محافظات دولة الكويت الصماء ثم نفذ المطلوب :

- لون محافظة الجهراء باللون الوردي
- لون محافظة الأحمدية باللون الأزرق
- لون محافظة الفروانية باللون الأصفر
- لون محافظة العاصمة باللون الأخضر
- لون محافظة مبارك الكبير باللون البنفسجي
- لون محافظة حولي باللون البرتقالي



رئيس الشعبة: فاهد الظفيري

اعداد المعلمة: زينب بن نخي

السؤال الأول : اختر من المجموعة (ب) ما يرتبط بالمجموعة (أ) بوضع الرقم في المكان المناسب :

(أ)	(ب)
١- أكبر محافظة كويتية.	() الأحمدية
٢- أصغر محافظة كويتية.	() حولي
٣- أكثر محافظة كثافة سكانية	() العاصمة
٤- يتركز الكويتيون في محافظة	() الجهراء
٥- أحدث محافظة كويتية	() مبارك الكبير
٦- محافظة توجد فيها المقار الرئيسية للحكم.	() الفروانية

السؤال الأول : ظلل الخيار الصحيح من بين الخيارات التي تلي كل عبارة :-

١- يبلغ عدد محافظات دولة الكويت :

٤ محافظات	٥ محافظات	٦ محافظات	٧ محافظات
-----------	-----------	-----------	-----------

٢- الجزر الكويتية تتبع إداريا محافظة ::

العاصمة	الجهراء	حولي	الأحمدية
---------	---------	------	----------