

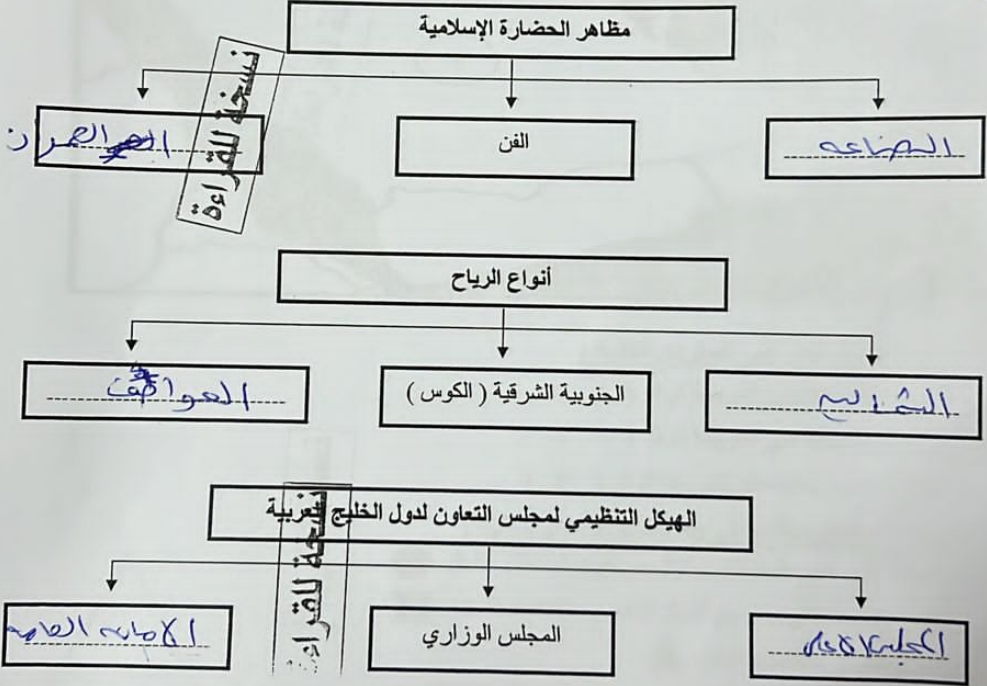
تابع / السؤال الأول موضوعي :

(ج) أكمل العبارات بما يناسبها فيما درست :

نسخة للقراءة

- ١- القرن الميلادي الذي ظهر فيه الإسلام السابع
- ٢- الجزيرة التي ظهرت بها الحضارة الهلينستية تسمى فيلاديا
- ٣- الاسم الذي يطلق على نهاية موسم القوس على اللؤلؤ القمال
- ٤- القمة الخليجية السابعة والعشرون سميت بقمة الشيخ حاجر
- ٥- الحضارة التي عُثر بها على العديد من أفران صهر المعادن تسمى صجان
- ٦- المدينة التي أعلن فيها قيام مجلس التعاون لدول الخليج العربية اسمها ادج طيبي

(د) أكمل المخططات السهمية التالية:



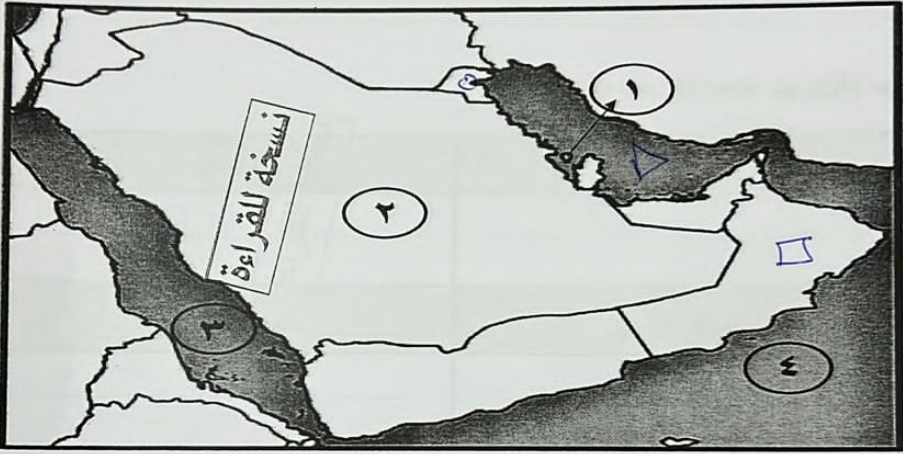
تابع / السؤال الأول موضوعي :

(هـ) صنف الأنشطة التي مارسها سكان دول الخليج العربية في الجدول التالي :

(الرعي - صناعة السفن - الزراعة - صيد الأسماك - الحرف اليدوية - الغوص على اللؤلؤ)

الأنشطة البرية	الأنشطة البحرية
.....	.....
.....	.....
.....	.....

(و) لاحظ خريطة شبه الجزيرة العربية التي أمامك ثم نفذ المطلوب منك :



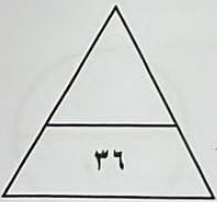
١- اكتب الرقم الدال على العبارات التالية :

- هضبة نجد يمثلها على الخريطة الرقم ( ٢ )
- بحر العرب يمثلها على الخريطة الرقم ( ٤ )
- حضارة لمون يمثلها على الخريطة الرقم ( ١ )

٢- حدد على الخريطة ما يلي باستخدام الأشكال التالية :

- المنطقة التي هاجر إليها العتوب ( آل صباح ) باستخدام الشكل ●
- الدولة الخليجية التي يوجد بها الجبل الأخضر باستخدام الشكل ■
- الخليج العربي باستخدام الشكل ▲

مجموع درجات السؤال الأول بالحروف



- السؤال الثالث (مقالى) يتكون من (أ - ب - ج):

(أ) اقرأ الفقرة التالية ثم أجب عما يليها من أسئلة:

تكمن أهمية الخليج العربي في موقعه المتميز في قلب العالم القديم (آسيا - أفريقيا - أوروبا) كطريق تجاري، وممر مائي عالمي، مما جعله نواة لوحدات سياسية جذبت للخليج العربي العديد من الهجرات في أزمان مختلفة، ومن هذه الهجرات هجرة المعاضيد إلى قطر، وقبائل الأزد إلى عُمان، والقواسم إلى رأس الخيمة.

- استخرج من الفقرة السابقة ما يلي:

١- أهمية موقع الخليج العربي.

٢- اثنتين من الهجرات لمنطقة الخليج العربية.

(ب) قارن بين كل من:

نبات حوْلي	نبات مَعْمر	أوجه المقارنة
		التعريف
		مثال

(ج) علل لما يلي:

١- انصرف سكان منطقة الخليج العربية عن حرفه الغوص على اللؤلؤ.

٢- كانت حياة السكان في البيئة الصحراوية لمنطقة الخليج العربية قاسية وخشنة.

انتهت الأسئلة؛؛ نرجو لكم النجاح والتوفيق.

مجموع درجات السؤال الثالث بالحروف

**السؤال الثاني (مقالى) يتكون من (أ - ب - ج):**

**(أ) لاحظ الشعار الذى أمامك ثم أجب عن الأسئلة التالية:**



نسخة للقراءة

١- ما اسم التنظيم السياسي الذي يمثله الشعار؟

٢- كم عدد الدول الأعضاء في هذا التنظيم السياسي؟

٣- اذكر أهداف مجلس التعاون لدول الخليج العربية.

**(ب) فَرِّق بين كل مما يلي من حيث التعريف:**

المجدي	التوخذة
.....	.....
الموقع القلبي	الموقع النسبي
.....	.....

نسخة للقراءة

**(ج) عدد لما يلي:**

١- السمات والصفات المشتركة بين دول مجلس التعاون لدول الخليج العربية.

٢- العوامل المؤثرة في نشأة الحضارات بمنطقة الخليج العربية.

نسخة للقراءة

مجموع درجات السؤال الثاني بالحروف



وزارة التربية  
الإدارة العامة لمنطقة الجاهراء التعليمية  
التوجيه الفني للاجتماعيات

امتحان الفترة الدراسية الأولى  
لمقرر الكويت ودول الخليج العربية  
للسف السادس المتوسط

العام الدراسي: ٢٠٢٣م / ٢٤  
الزمن: ساعة وخمسة وأربعون  
عدد الأوراق: (٥) ورقات

أجب عن جميع الاسئلة

- السؤال الأول (موضوعي) يتكون من (أ-ب-ج-د-ه-و):

(أ) ضع علامة (✓) أمام العبارة الصحيحة وعلامة (×) أمام العبارة غير الصحيحة:

م	العبارات	العلامة
١	يبلغ عدد خطوط الطول ١٨٠ خطأ .	×
٢	يتصف مناخ منطقة الخليج العربية بأنه صحراوي قاري .	✓
٣	العام الذي حصلت فيه دولة الكويت على استقلالها ١٩٩١ م .	×
٤	البلد الخليجي الوحيد الذي لم يتعرض للاستعمار المملكة العربية السعودية .	✓
٥	ألغيت معاهدة الحماية التي وقعت مع بريطانيا في عهد الشيخ صباح السالم الصباح .	×
٦	أفضل أنواع السفن المستعملة في رحلة السفر لقدرتها على نقل الحمولة الكبيرة الجاليوت .	×

(ب) ضع خطأ تحت الخيار الصحيح من بين الخيارات التي تلي كل عبارة:

- ١- عُرف الخليج العربي قديماً بالبحر :  
- الأحمر - المتوسط - الأبنى - الأسود
- ٢- الشهر الذي يبدأ فيه موسم الغوص على اللؤلؤ :  
- مايو - يونيو - يوليو - أغسطس
- ٣- أول دولة أوروبية استعمارية وصلت للخليج العربي واحتلت أجزاء منه :  
- فرنسا - هولندا - البرتغال - بريطانيا
- ٤- من الغلات الزراعية التي تم إنتاجها في منطقة الخليج العربية :  
- التمور - الفراولة - الزيتون - الموز
- ٥- الجهة التي تقع فيها منطقة الخليج العربية بالنسبة لجزيرة آسيا :  
- الشمالية الشرقية - الشمالية الغربية - الجنوبية الشرقية - الجنوبية الغربية
- ٦- العام الذي تم فيه انطلاق السوق الخليجي المشترك :  
- ٢٠٠٥ م - ٢٠٠٦ م - ٢٠٠٧ م - ٢٠٠٨ م