

تم تحميل هذا الملف من موقع المناهج الكويتية



منطقة حولي التعليمية

الملف نموذج إجابة منطقة حولي التعليمية

[موقع المناهج](#) ← [المناهج الكويتية](#) ← [الصف التاسع](#) ← [علوم](#) ← [الفصل الأول](#)

روابط مواقع التواصل الاجتماعي بحسب الصف التاسع



روابط مواد الصف التاسع على تلغرام

[الرياضيات](#)

[اللغة الانجليزية](#)

[اللغة العربية](#)

[التربية الاسلامية](#)

المزيد من الملفات بحسب الصف التاسع والمادة علوم في الفصل الأول

مسودة كتاب الطالب علوم لعام 2018	1
تلخيص كورس اول في مادة العلوم	2
بنك اسئلة الوحدة الثانية في مادة العلوم	3
بنك اسئلة الوحدة الاولى في مادة العلوم	4
المواضيع المعلقة في مادة العلوم لعام	5

تم التحميل من شبكة ياكويت التعليمية



Telegram:
[ykuwait_net_home](https://t.me/ykuwait_net_home)



وزارة التربية
الإدارة العامة لمنطقة حولي التعليمية
مراقبة الامتحانات وشؤون الطلبة

موقع
المناهج الكويتية
almanahj.com/kw

العام الدراسي 2024 / 2025 م
امتحان الفترة الدراسية الأولى

نموذج الإجابة

العلوم

المرحلة المتوسطة
الصف التاسع

السؤال الأول : اختر الإجابة الصحيحة علمياً لكل من العبارات التالية و ضع علامة (✓)

في المربع المقابل لها: ($8 = 1 \times 8$ درجة)

1. إنتاج البويضات في الجهاز التناسلي الأنثوي يتم كل : ص 18

20 يوم 22 يوم 24 يوم 28 يوم

2. جميع ما يلي من وظائف الرحم عدا : ص 18

احتضان الجنين تغذية الجنين إنتاج البويضات حماية الجنين

3. تغيرات تطورية تم انتقاؤها عن طريق الطبيعة بشكل مستمر ومنتظم وغير عشوائي: ص 51

الطفرة الإنتخاب الطبيعي الإنتخاب الصناعي التكاثر

4. الشغل الذي يبذله الشخص على الحقيبة في الشكل المقابل يساوي: ص 67

صفر 6 J 8 J 12 J

5. المصباح الأكثر إضاءة هو: ص 75

80W 60W 40W 20W

6. الصخور المشبعة بالنفط تتميز بأنها ذات كثافة : ص 88

عالية متوسطة منخفضة منخفضة جداً

7. وجود النفط بكميات قليلة في الصخور النارية يدل على: ص 98

هجرة النفط تكون النفط تجمع النفط مصيدة النفط

8. جميع البوليمرات التالية طبيعية عدا: ص 116

النشا البروتينات السليلوز النايلون

السؤال الثاني: أكتب بين القوسين كلمة (صحيحة) للعبارة الصحيحة وكلمة (خطأ) للعبارة

غير الصحيحة لمأتي: ($8 = 1 \times 8$ درجات)

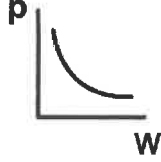
1. اتساع منطقة الحوض من مظاهر البلوغ عند الفتى . ص 24

(.....خطأ.....)

2. عندما تصعد سلماً فإنك تبتدئ شغلاً لرفع جسمك إلى أعلى . ص 71

(.....صحيحة.....)

3. الرسم البياني المقابل يوضح العلاقة بين الشغل والقدرة . ص 72



(.....خطأ.....)

4. مصيدة النفط عبارة عن خزان صخري ذو نفاذية ومسامية منخفضة. ص 84

(.....خطأ.....)

5. الحركات الأرضية تساعد على هجرة النفط. ص 97

(.....صحيحة.....)

6. البوليستر من البوليمرات الصناعية. ص 116

(.....صحيحة.....)

7. البلاستيك الحراري يمكن صهرة وإعادة تشكيله. ص 117

(.....صحيحة.....)

8. الألياف الطبيعية تتصهر قبل احتراقها. ص 121

(.....خطأ.....)

تم التحميل من شبكة ياكويت التعليمية



Telegram:
ykuwait_net_home

السؤال الثالث (أ) : في الجدول التالي اختر العبارة أو الشكل من المجموعة (ب) وأكتب رقمها أمام

مايناسبها من عبارات المجموعة (أ) : (6 = 1 × 6 درجات)

رقم	المجموعة (أ)	المجموعة (ب)
10	* الهرمون المسؤول عن المظاهر الجنسية الذكرية.	ص 16-18 1- الأستروجين
	* الهرمون المسؤول عن المظاهر الجنسية الأنثوية.	2- البروجسترون 3- التستوستيرون
1	* عملية فقد جزء من الكروموسوم ما يحمله من جينات	ص 46 1- النقص
	* عملية تكرار جزء من الكروموسوم أكثر من مرة.	2- الزيادة 3- الانقلاب
3	* رمز القوة.	ص 67 W-1
	* رمز الإزاحة.	d-2 F-3

تم التحميل من شبكة ياكويت التعليمية



Telegram: ykuwait_net_home

السؤال الثالث (ب) : أكتب المصطلح العلمي الدال على العبارات التالية : (4 = 1 × 4 درجات)

- عملية حيوية تقوم من خلالها الكائنات الحية بإنتاج أفراد جديدة من النوع نفسه . (..... التكاثر.....) ص 15
- أقصر مسافة في خط مستقيم بين نقطة البداية ونقطة نهاية الحركة . (..... الإزاحة.....) ص 67
- مقدار الشغل المنجز خلال وحدة الزمن . (..... القدرة.....) ص 72
- مادة طويلة ورفيعة وخيطية الشكل تتميز بالمرونة ويمكن غزلها على شكل خيوط وأنسجة . (..... الليف.....) ص 120

السؤال الرابع (أ) : علل لما يأتي تعليلا علميا دقيقاً : ($3 \times 2 = 6$ درجات)

1. القطعة الوسطى في الحيوان المنوي تحوي الميتوكوندريا. ص 25

لتوليد الطاقة اللازمة لحركة الحيوان المنوي

.....

2. الشغل الذي يبذله الشخص على الحائط يساوي صفراً. ص 64-67

لأن الحائط لم يتحرك مسافة باتجاه القوة

.....

3. الألياف الطبيعية نحتاج لعملية كي دائم. ص 121

لأنها تتجهض بسرعة

.....



12

6

موقع
المناهج الكويتية
almanahj.com/kw

السؤال الرابع (ب) : قارن بين كل مما يلي : ($3 \times 2 = 6$ درجات)

وجه المقارنة	القدرة	الشغل
وحدة القياس	<u>الوقت</u>	<u>الجول</u>
وجه المقارنة	نظرية النشأة العضوية للنفط	نظرية النشأة غير العضوية للنفط
وجود بقايا كائنات حية (يوجد - لا يوجد)	<u>يوجد</u>	<u>لا يوجد</u>
وجه المقارنة	انتقال النفط إلى المصائد القريبة	انتقال النفط خارج صخور المصدر
نوع الهجرة (أولية - ثانوية)	<u>ثانوية</u>	<u>أولية</u>

ص 70

ص 90

ص 97

6

السؤال الخامس (أ) : أجب عن الأسئلة التالية :

12

(1) اختر أي مما يلي لا ينتمي للمجموعة بوضع خط مع ذكر السبب: ($4 = 2 \times 2$ درجات)

أ) المبيض - الرحم - قناتا فالوب - غدة البروستاتا . ص 16-17

السبب: لأنه من أجزاء الجهاز التناسلي.....الذكري.....والباقي من أجزاء الجهاز التناسلي.....الأنثوي.....

ب) حرير طبيعي - نايلون - صوف - كتان . ص 121

السبب : لأنه من الألياف.....الصناعية.....والباقي من الألياف.....الطبيعية.....

(2) أكمل خرائط المفاهيم التالية بما يناسبها : ($2 = 1 \times 2$ درجة)

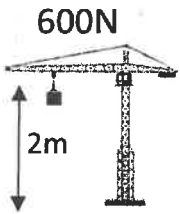
ص 45

أنواع الطفرات

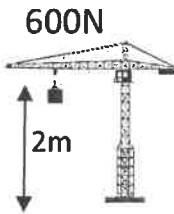
طفرة.....جينية.....

طفرة.....كروموسومية.....

السؤال الخامس (ب) : ادرس الرسومات التالية جيدا ثم أجب عن المطلوب : ($6 = 2 \times 3$ درجات)



خلال 30 ث
(2)



خلال 15 ث
(1)

1- رفعت الآلتان الموضحتان في الشكل أكياس من الرمل خلال أزمنة مختلفه.

ص 71

- الآلة ذات القدرة الأعلى رقم (1) .

- السبب:.....لأن الزمن المستغرق أقل لإنجاز الشغل نفسه.....



القدرة P=1800 W
(2)



القدرة P=1200 W
(1)

2- ذهب أحمد لشراء مكنسة كهربائية ، فوجد المكنستين الموضحتين في الشكل

تتصح أحمد بشراء المكنسة رقم (2) .

السبب :.....لأنها الأعلى قدرة / أو لأنها توفر الكهرباء.....

3- بعد رج القنينة المبينة في الشكل المقابل . ص 95

نפט

- الملاحظة : النפט.....يطفو.....على سطح الماء .

ماء

- ما العامل الذي يؤدي إلى هجرة النפט في هذه التجربة؟.....الكثافة / الوزن النوعي.....

انتهت الأسئلة، مع دعائنا لكم بالتوفيق