

تم تحميل هذا الملف من موقع المناهج الكويتية



منطقة مبارك الكبير التعليمية

الملف نموذج أسئلة منطقة مبارك الكبير التعليمية

[موقع المناهج](#) ← [المناهج الكويتية](#) ← [الصف الثامن](#) ← [اجتماعيات](#) ← [الفصل الأول](#)

روابط مواقع التواصل الاجتماعي بحسب الصف الثامن



روابط مواد الصف الثامن على تلغرام

[الرياضيات](#)

[اللغة الانجليزية](#)

[اللغة العربية](#)

[التربية الاسلامية](#)

المزيد من الملفات بحسب الصف الثامن والمادة اجتماعيات في الفصل الأول

مسودة كتاب الطالب في مادة الاجتماعيات لعام 2018	1
خطة توزيع منهج العام الجديد في مادة الاجتماعيات	2
حل الوحدة الاولى في مادة الاجتماعيات	3
ورقة عمل في مادة الاجتماعيات	4
ورقة عمل في مادة الاجتماعيات	5

السؤال الثالث (موضوعي) يتكون من (أ - ب) :

(أ) صنف الجوامع أو المساجد حسب مكاتها الصحيح في الجدول الذي يليها:


- جامعة الزيتونة - الجامع الأزهر - مسجد السلطان أحمد - مسجد عمر بن الخطاب - المسجد الأموي

المدينة	دمشق	دومة الجندل	تونس	القاهرة	إسطنبول
الجامع					
أو					
المسجد					

(ب) اختر من المجموعة (أ) ما يناسبها المجموعة (ب) بوضع الرقم الصحيح في المكان المناسب:

المناهج الكويتية
almanahi.com/kw

م	المجموعة (أ) اسم العالم	الرقم المناسب	المجموعة (ب) اسم الكتاب
١	الكندي	-----	الصيدلة في الطب
٢	الإدريسي	التربية	البخلاء
٣	الخوارزمي	وزارة	الهندسة
	أبو بكر الرازي	منطقة مبارك الكبير التعليمية	نزهة المشتاق في اختراق الافاق
	البيروني	مدرسة فاطمة بنت عبد الملك م. بنات	الحاوي في الطب
		-----	الجبر والمقابلة



رأيت الحضارة الإسلامية شعباً عديدة على مدار تاريخها من العرب والفرس والترك والأفارقة والآسيويين والهنود والأوربيين وغيرهم باحترام عاداتهم وتقاليدهم وخصوصياتهم بل استفادت منها، مما كان له الأثر الكبير على جوانب عدة من الحياة في الدولة الإسلامية وبالذات العلمية منها وتميزت الحضارة الإسلامية بخصائص عديدة كالعالمية والشمولية.

١- عرف ما تحته خط:

- الحضارة:

٢- اذكر خصائص الحضارة الإسلامية.

(ب) عدد لكل مما يلي:

١- جهود المسلمين في الزراعة.

٢- مميزات المظاهر العمرانية في الحضارة الإسلامية.

(ج) علل لما يلي:

١- قلة عدد السكان في المناطق الجبلية في دول العالم الإسلامي.

٢- تنوع المناخ في دول العالم الإسلامي.



www.almanahj.com/ku



- ٢ - هضبة :
- ٣ - أهل الذمة:
- ٤ - احتياطي النفط:
- ٥ - غلات نقدية:

(ب) اذكر ثلاث لكل مما يلى :

١- أهمية السهول .

٢- العوامل التي أدت إلى ازدهار العلم وظهور العلماء.

موقع
المنهج الكويتية
almanahj.com/kw

التربية
وزارة
الإدارة العامة لمنطقة مبارك الكبير التعليمية
مدرسة فاطمة بنت عبدالمطلب م/١١١

(ج) قارن بين كل من حسب المطلوب منك في الجدول التالي :

أوجه المقارنة	قصر عمرة	قصر الرصافة
الدولة	-----	-----
الخليفة الذي بناه	-----	-----

انتهت الأسئلة

١٥

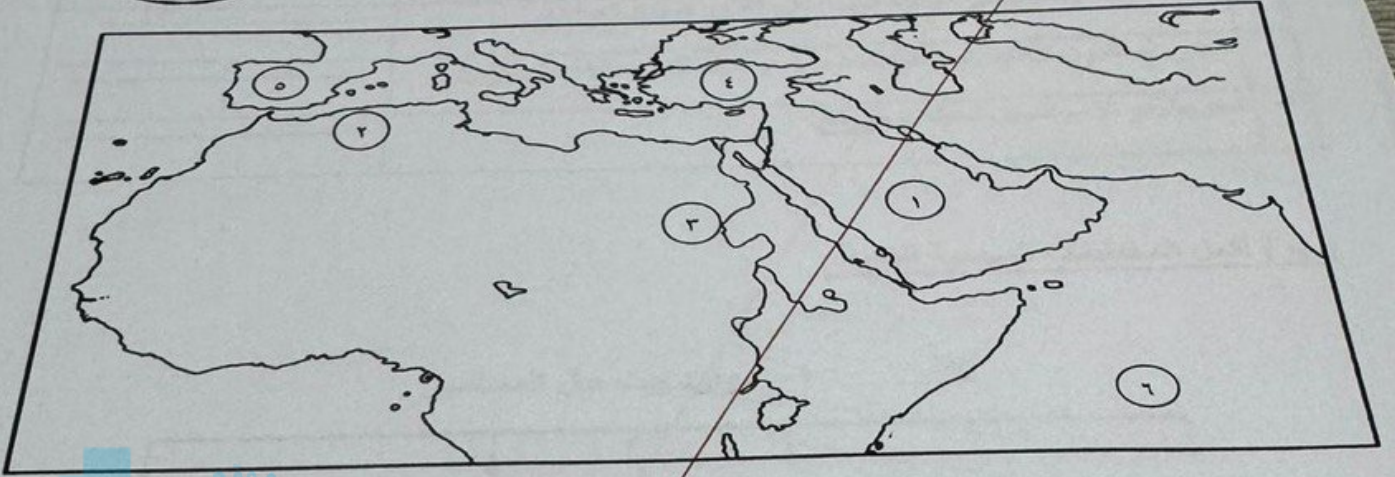


امتحان لمقرر الفترة الدراسية الأولى للصف الثامن لمادة الاجتماعيات
(دولة الكويت والعالم الاسلامي)



السؤال الأول (موضوعي) يتكون من (١ - ب) :

(أ) أمامك خريطة العالم الاسلامي اكتب الأرقام الدالة على العبارات التالية :



١- سهول نهر النيل يمثلها على الخريطة الرقم -----

٢- جبال أطلس يمثلها على الخريطة الرقم -----

٣- هضبة نجد يمثلها على الخريطة الرقم -----

المحيط الهندي يمثلها على الخريطة الرقم -----

بلاد الاندلس يمثلها على الخريطة الرقم -----

أكمل العبارات التالية بما يناسبها:

حاكم بعد الرسول صلى الله عليه وسلم اسمه -----

أو منخفض طبيعي على سطح الأرض يسمى -----

مسلم الذي ألف كتاب الحيوان أسمة -----

تين في الإسلام مسجد يسمى -----

لقب فيه الشيخ صباح الأحمد بقائد العمل الإنساني -----

م	العبرة	التصويب
١	الدولة الإسلامية الوحيدة التي تقع في قارة أمريكا الجنوبية هي <u>المالديف</u> .	-----
٢	الخليفة الثالث للمسلمين اسمه <u>عمر بن الخطاب</u> .	-----
٣	قامت الدولة الإسلامية في المدينة المنورة في القرن <u>السابع الميلادي</u> .	-----
٤	اجتمع المسلمون لاختيار أول حاكم بعد وفاة الرسول ﷺ في سقيفة <u>بني النجار</u> .	-----
٥	مجريط هو الاسم السابق لمدينة <u>برشلونة</u> .	-----

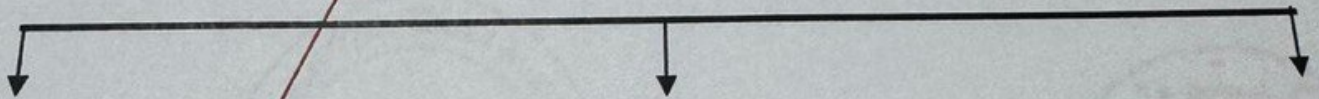
(ب) أكمل المخططات السهمية التالية :

١- **مصادر بيت مال المسلمين**



الموقف الإسلامي

٢- **المظاهر الاقتصادية في الحضارة الإسلامية**



التجارة

