



نموذج اختبار وأوراق عمل للوحدة التعليمية الثالثة للمصف الأول

www.KweduFiles.Com

رئيسة قسم العلوم
ريهام الفرس



نموذج اختبار للوحدة التعليمية الثالثة




السؤال الاول : ضع علامة (✓) أمام العبارة الصحيحة و علامة (x) أمام العبارة الخاطئة :

١- في الحالة الصلبة  ()

٢- يستخدم الماء بشكل صحيح  ()

4

السؤال الثاني : اختاري الاجابة الصحيحة من بين الخيارات التالية :

١-    ()



()



()



()



()

٢- مادة في الحالة الغازية :



()



()

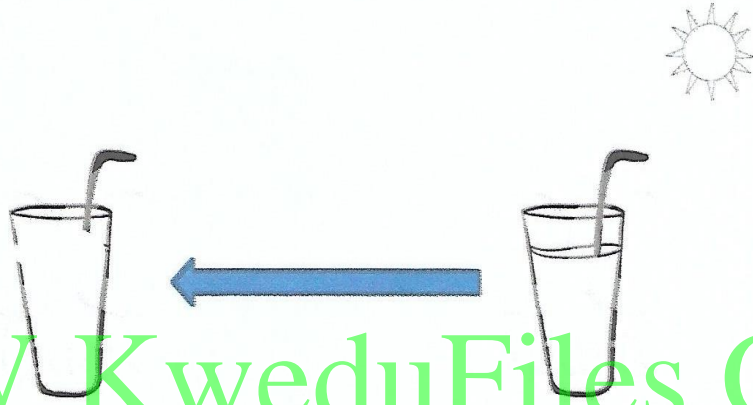


()



()


السؤال الثالث : ارسمي ماذا يحدث لكوب العصير ؟



WWW.KweduFiles.Com

أوراق عمل

لَوْنِ السَّهْمِ الدَّالِّ عَلَى الْحَرَارَةِ بِاللُّونِ الْأَحْمَرِ. لَوْنِ السَّهْمِ الدَّالِّ عَلَى الْبُرُودَةِ بِاللُّونِ الْأَزْرَقِ.



www.KweduFiles.Com

ارسمي ماذا تتوقعين ان يحدث لقمينة الماء بعد مرور اسبوع :

