




وزارة التربية
الإدارة العامة لمنطقة الأحمدية التعليمية
مدرسة هدية الابتدائية بنين



www.KweduFiles.Com

الوحدة الثالثة

للمصف الرابع



• أ. سماح محمد

• أ. شيمة المطيري


إعداد المعلمة

إشراف رئيسة القسم

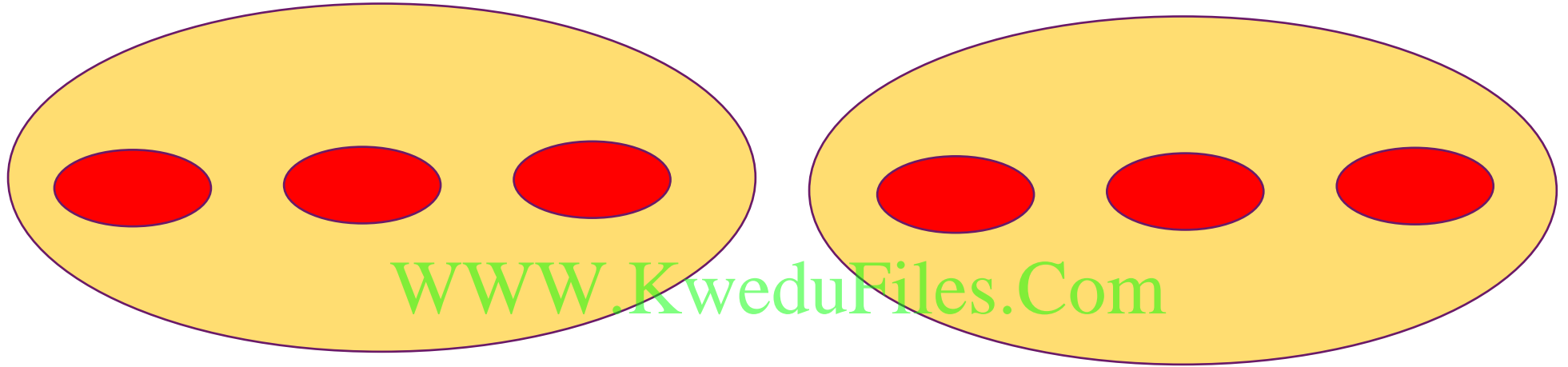
• ضرب الكسوف بنتائج كيزيد من الكسوف



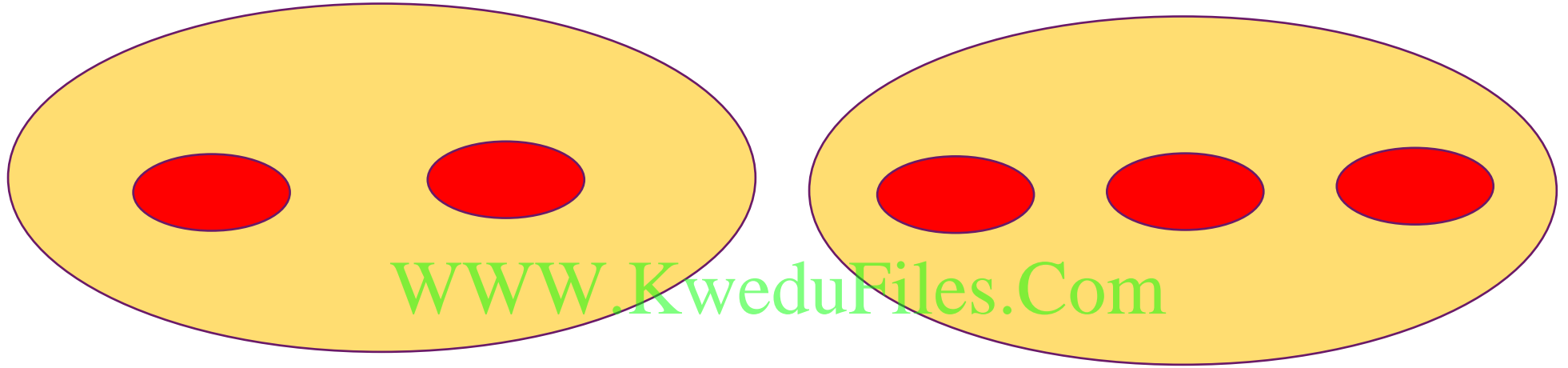
بند (۱-۳)




اكتب عبارة جمع مناسبة وعبارة ضرب إن أمكن



اكتب عبارة جمع مناسبة وعبارة ضرب إن أمكن



اكتب عبارة جمع مناسبة وعبارة ضرب إن أمكن




اكتب عبارة ضرب مناسبة



عدد السيارات كلها = _____ سيارة

اكتب عبارة ضرب مناسبة



WWW.KweduFiles.Com

عدد المكعبات كلها = _____ مكعب

أوجد الناتج

$$\underline{\hspace{2cm}} = \sqrt{\hspace{1cm}} \times 4$$

$$\underline{\hspace{2cm}} = 5 \times 6$$

أوجد الناتج

٩

٧

٣

×

٧

×

www.KweduFiles.Com

أوجد الضعف لكل عدد



٤


WWW.KweduFiles.Com



٩

أكمل

WWW.KweduFiles.Com



مُنْخَرَجَاتٌ

مُدْخَلَاتٌ

أكمل

مُدخَلَات

١٨

مُدخَلَات

٥
٨

WWW.KweduFiles.Com

٩ ×

أكمل

٩

٥

٦

×

WWW.KweduFiles.Com

√

لديك ٣ سيارات حمراء و سيارات

خضراء أكثر منها بمرتين ، فكم

WWW.KweduFiles.Com

عدد كل السيارات الخضراء ؟

يوفر ياسر ٣ دنانير بالأُسبوع ويوفر

حمد ٦ دنانير بالأُسبوع هل ما يوفره

WWW.KweduFiles.Com

ياسر في ٤ أسابيع يساوي ما يوفره

حمد في أسبوعين ؟ فسر إجابتك




اختر الإجابة الصحيحة بوضع


العددان اللذان ناتج ضربهما ٤ ٥ هما

WWW.KweduFiles.Com


٤,٥




٩,٦



٨,٥



٦,٧






اختر الإجابة الصحيحة بوضع


V مجموعات وفي كل مجموعة 5 لاعبين

أياً مما يلي يعبر عن العدد الإجمالي للاعبين


$$5 - V$$




$$5 + V$$



$$5 \div V$$




$$5 \times V$$



• الضرب في الأعداد
WWW.KweduFiles.Com
مضامنتها

بند (٢-٣)



أوجد الناتج

$$\underline{\hspace{2cm}} = ٦٠ \times ٤$$

$$\underline{\hspace{2cm}} = ٣ \times ٦٠٠$$

أوجد الناتج

$$\underline{\hspace{2cm}} = 7 \dots \times 1$$

WWW.KweduFiles.Com

$$\underline{\hspace{2cm}} = 2 \dots \times 9$$

أوجد الناتج

٨ . . .

٥

٨

×

٣

.

×

www.KweduFiles.Com

أوجد الناتج

٥

٤٠٠

٦٠٠ ×

٤ ×

WWW.KweduFiles.Com

أكمل

٩

٧

٤

×

WWW.KweduFiles.Com

٥.

أكمل

^

٦

٣

×

WWW.KweduFiles.Com

) . .

إذا علمت أن ناتج ضرب ٣ في ٩

يساوي ٢٧ فما ناتج ضرب

WWW.KweduFiles.Com

٣ في ٩٠٠




كم دقيقة في ٤ ساعات؟

WWW.KweduFiles.Com



مفاهيم الضرب

بند (۳-۳)



أكمل

$$\underline{\hspace{2cm}} = ٤٨ \times ١$$

WWW.KweduFiles.Com

$$\underline{\hspace{2cm}} = \sqrt{\hspace{1cm}}$$

$$\underline{\hspace{2cm}} \times ٥ = ٥ \times ٦$$

أوجد الناتج

$$\underline{\hspace{2cm}} = ٢ \times ٢ \times ٢$$

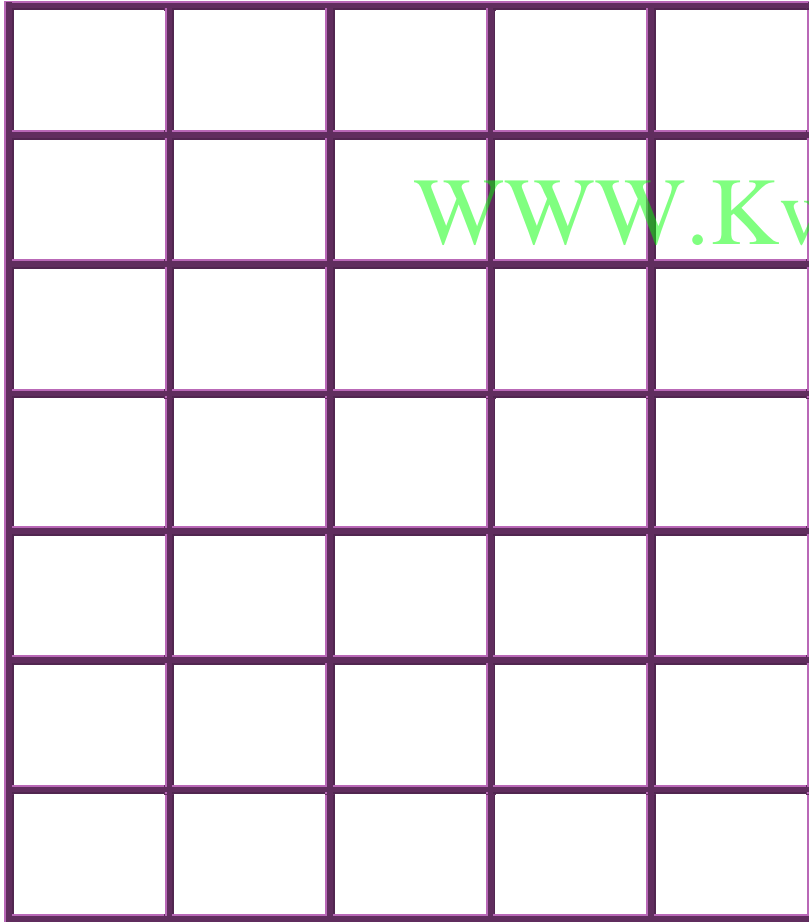
WWW.KweduFiles.Com

$$\underline{\hspace{2cm}} = ٢ \times ٨ \times ٥$$


$$\underline{\hspace{2cm}} = ٢ \times ٣ \times ١٠$$

استعن بالشبكة والأقلام الملونة

لإيجاد ناتج 4×2



WWW.KweduFiles.Com



أكمل

$$(\square + 3) \times 4 = \sqrt{\quad} \times 4$$

$$(\square \times 4) + (3 \times 4) =$$

$$\square + \square =$$

$$\square =$$

WWW.KweduFiles.Com

أكمل

$$(\square + \square) \times 9 = \square \times 9$$

$$(\square \times 9) + (\square \times 9) =$$

$$\square + \square =$$

$$\square$$

يقول فالح أن ناتج ضرب ٧ في ٨


هو ناتج $(٣ \times ٧) + (٥ \times ٧)$.

هل توافقه الرأي؟ وضح ذلك.

• الضرب في عدد مكون من رقمين من رقمين

WWW.KweduFiles.Com

بند (٣-٤)



أوجد الناتج مستخدماً الشبكة الموضحة

$$= 13 \times 6$$


www.KweduFiles.Com

أوجد الناتج باستخدام الجمع المتكرر

$$= 31 \times 3$$

WWW.KweduFiles.Com

اكتب عبارة الضرب المناسبة



A large, empty, rounded rectangular box with a purple border, intended for writing the multiplication expression.

أوجد الناتج

٦٤

٤ ×

٥٣

٢ ×

WWW.KweduFiles.Com

أوجد الناتج

$$= 12 \times 7$$

www.KweduFiles.Com

$$= 3 \times 19$$

كم عدد الأيام في ٢١ أسبوع؟

WWW.KweduFiles.Com




• الضرب في عدد مكون من رقمين من ثلاثة

WWW.KweduFiles.Com

أرقام

بند (٣-٥)



أوجد الناتج

٨٠٣

٤ ×

١٦٧

٥ ×

WWW.KweduFiles.Com

أوجد الناتج

$$= 132 \times 9$$

WWW.KweduFiles.Com

$$= 2 \times 428$$

أكمل

١ ٤٤	٢٠	١٣	×
			٣

www.KweduFiles.Com

أكمل

١.٢	٧١	١.٢	×
	٤٢٦	٦.٢	

يَتَكُون مَبْنَى مُوَاقِف مُتَعَدِدَةٌ

الأدوار من ٤ طوابق وفي كل طابق

WWW.KweduFiles.Com

١١٥ موقف .

كم عدد مواقف هذا المبنى ؟

• استکشاف ضرب عددين رقمي

www.KwediFiles.Com

بند (۳-۶)



أوجد الناتج

٢٦

٣٥

×

WWW.KweduFiles.Com

أوجد الناتج

٧٤

٢٢

×

WWW.KweduFiles.Com

أوجد الناتج

$$\begin{array}{r} 84 \\ 16 \\ \hline \end{array}$$

WWW.KweduFiles.Com



تدفع لها قسطاً شهرياً بقيمة

١٦ دينار نظير اشتراكها بخدمة

WWW.KweduFiles.Com

الانترنت ، كم ديناراً تدفع بالسنة ؟

• ضربی نمائین نمکون رمز کی منہما

من رقمین

بند (۷-۳)



أكمل

٣ ٧

٢ ٦ ×

WWW.KweduFiles.Com



٢

√ +



٦

أكمل

٥ ١

٤ ٩ ×

WWW.KweduFiles.Com



٥

٤

+

٩



أوجد الناتج

٩٠

WWW.KweduFiles.Com

١٥ ×

أوجد الناتج

٨٢

www.KweduFiles.Com

×

أوجد الناتج

$$= 54 \times 33$$

WWW.KweduFiles.Com


أوجد الناتج

$$= ١٢ \times ٣٧$$

WWW.KweduFiles.Com

ضوابط ثلاثة أصفاء

بند (٣-٨)



بين ٣ طرق مختلفة لتجميع

WWW.KweduFiles.Com

العوامل في

$$٦ \times ٨ \times ٣$$

ما هي أسهل الطرق لإيجاد

نتج $5 \times 20 \times 9$ ؟

فسر إجابتك .

أوجد الناتج

$$\underline{\hspace{2cm}} = 7 \times 7 \times 7$$

WWW.KweduFiles.Com

$$\underline{\hspace{2cm}} = 2 \times 11 \times 5$$

$$\underline{\hspace{2cm}} = 25 \times 3 \times 4$$

ما ناتج

$$4 \times 0 \times (9 \times 5) \times (8 \times 7)$$

WWW.KweduFiles.Com

ذهنياً؟ فسر إجابتك.

اكتب ثلاثة أعداد مختلف من


عندك بحيث يكون ناتج ضربها

WWW.KweduFiles.Com

أكبر من ١٠٠ وأصغر من ٢٠٠

الكتاب الثاني الخطوط

بند (۳-۹)



استخدم الحساب الذهني لإيجاد الناتج

$$\underline{\hspace{2cm}} = 3 \times 38$$

WWW.KweduFiles.Com

استخدم الحساب الذهني لايجاد الناتج

$$\underline{\hspace{2cm}} = ٤٥ \times ٦$$

WWW.KweduFiles.Com

استخدم الحساب الذهني لايجاد الناتج

$$\underline{\hspace{2cm}} = 4 \times 99$$

WWW.KweduFiles.Com

أوجد ناتج 6×39

ذهنياً بطريقتين مختلفتين .

www.kwedufiles.com

كيف تستخدم $6+3$.

لايجاد ناتج 7×36 ؟
WWW.KweduFiles.Com