



وزارة التربية

الإدارة العامة لمنطقة حولي التعليمية

التوجيه الفني للاجتماعيات

إجابة امتحان الفصل الدراسي الأول

لمقرر بلادي الكويت

الصف الخامس الابتدائي

( ٢٠١٧-٢٠١٦ )

زمن الاختبار

ساعة

عدد الأوراق ٥



السؤال الأول : ( موضوعي ) يتكون من ( أ - ب )

( أ ) ظل المربع الصحيحة للعبارات التالية : لكل بند درجة

١- أكبر الجزر الكويتية هي جزيرة اسمها :

فيلكا

كبر

٢- الموسم الذي يستمر انخفاض الحرارة لمدة ٤٠ يوم يسمى: ص

الوسم

سهيل

٣- الحاكم الذي لقب بأبو الدستور هو شيخ اسمه: ص ٥٣

أحمد الجابر

صباح السالم

الصباح

الصباح

٤- حصلت الكويت على استقلالها في عام: ص ٣

١٩٦٢م

١٩٦٣م

٥- الحيوان الذي يطلق عليه سفينة الصحراء اسمه: ص ٤٤

الخروف

الغزال



٦- تلال من الرمال تتراكم في الصحراء بفعل الرياح اسمها:


التلال

السيخات

تابع اجابة امتحان بلادي الكويت | للصف الخامس الابتدائي | الفصل الدراسي الأول | ٢٠١٦ - ٢٠١٧

تابع السؤال الاول :

(ب) - لون السهم الصحيح في الخيارات التالية : لكل بند درجة



١- تمثل الصورة جهاز يقوم بقياس




٢- تمثل الخريطة المناطق المسموحة



٣- خطوط وهمية تقسم الكرة الأرضية إلى شمال وجنوب



٤- تقع الكويت في المنطقة



٥- وكالة أشادت بجهود العرب بعلم الفضاء



٦- أول حقل نفطي اكتشف في الكويت هو

**السؤال الثانى : يتكون من ( أ - ب ) :**

**( أ ) : صنف الأحداث المناسبه لكل حاكم ممايلي : لكل بند درجة**

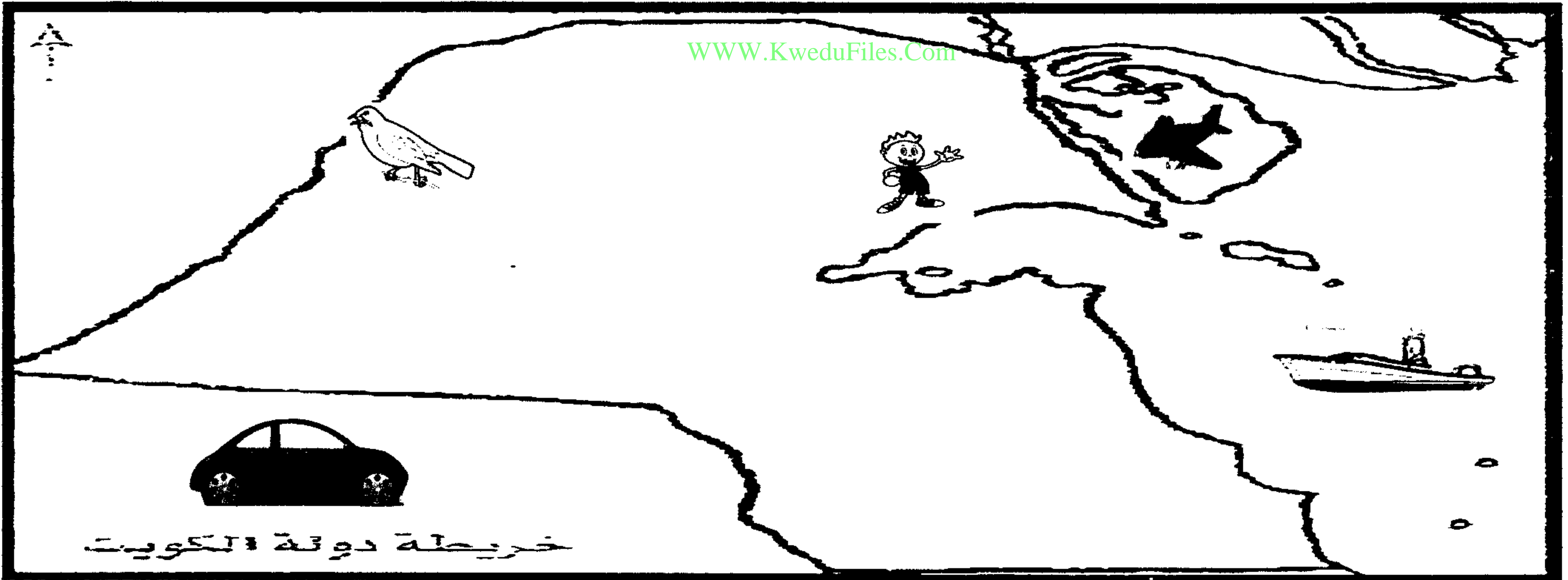
- |                             |                                 |
|-----------------------------|---------------------------------|
| ١ - افتتاح المدرسة الأحمدية | ٤ - استقلال دولة الكويت         |
| ٢ - تصدير أول شحنة نפט      | ٥ - أول مجلس شورى               |
| ٣ - صدور عملة جديدة الدينار | ٦ - رفع علم الجديد لدولة الكويت |

ص ٥٢

ص ٥٠

الشيخ عبدالله السلام الصباح	الشيخ أحمد الجابر الصباح
صدور عملة جديدة الدينار	افتتاح المدرسة الاحمدية
استقلال دولة الكويت	تصدير أول شحنة نפט
رفع علم الجديد لدولة الكويت	أول مجلس شورى

**(ب) : لاحظ خريطة دولة الكويت ثم أجب عن الأسئلة التالية : لكل بند درجة**



- ١ - الدائرة تمثل منطقة رعوية اسمها ... العبدلي.....٤٦
- ٢ - السفينه تبحر على خليج اسمه ( الخليج العربي ) ص ٢١
- ٣ - الطائرة هبطت على جزيرة كويتية اسمها ( بوبيان ) ص ٢٦
- ٤ - الولد يقف على تل هو ( جال الزور ) ص ٢٦
- ٥ - تقف السيارة على دولة مجاورة هي ( المملكة العربية السعودية ) ص ٢١
- ٦ - الطائر يقف على وادي ( الباطن ) ص ٢٦



السؤال الثالث : ويتكون من ( أ - ب )

( أ ) لاحظ الصور ثم أجب عن الأسئلة التالية : لكل بند درجة

١ - اذكر المشكلة التي تواجه المناطق المسموح بها للرعي ؟  
الرعي الجائر ص ٤٧

٢ - اقترح حلول للمشكلة السابقة ؟ ص ٤٧  
من رأي المتعلم

( ب ) أجب عن الأسئلة التالية :

١ - عرف ما يلي : لكل بند درجة

\*سبخات: أراض منخفضة قليلة المياه تنمو فيها النباتات الملحية ص ٢٧  
\*الجوزاء: موسم سنوي تثار فيه رياح السموم حيث تكون فيه الرياح شديدة الحرارة  
٢- ما أهمية مواقع النجوم عند أهل الكويت قديما ؟ ص لكل بند درجة ٣٦  
- معرفة الاتجاهات الاصلية / معرفة أحوال المناخ

٣ - اذكر عناصر المناخ ؟ ص ٣٢ لكل بند درجة يكتفي بثلاث نقاط

الرطوبة والضغط

الرياح

الامطار

الحرارة .

٨

تابع اجابة امتحان بلادي الكويت | للصف الخامس الابتدائي | الفصل الدراسي الأول ٢٠١٦-٢٠١٧

السؤال الرابع ويتكون من ( أ - ب )

( أ ) قارن بين كل من : لكل بند درجة ص ٤٠

وجه المقارنه	النباتات المعمره	النباتات الحولية
التعريف	نباتات ذات جذور عميقة تمتاز صفات تعينها على الاستفادة من المياه القليلة.	نباتات تتكاثر بعد سقوط الامطار ودورة حياتها قصيرة.
الأمثلة	العرفج الشنان.	كحيل الهرم الثيل

( ب ) علل لما يلي :

١ - تسمية رياح السموم بهذا الاسم ؟ ص ٣٧ لكل بند درجة لشدة حرارة الجو

٢ - تميز العرب بعلم الفلك ؟ ٣٦ لكل بند درجة

WWW.Kwedu.com

لصفاء جو الجزيرة العربية

٣ - قلة الغطاء النباتي في دولة الكويت ؟ ص لكل بند درجة ٤٠

- ارتفاع درجة الحرارة

- قلة المياه / كثرة حدوث العواصف الترابية

مع تمنياتنا لكم بالنجاح

٨

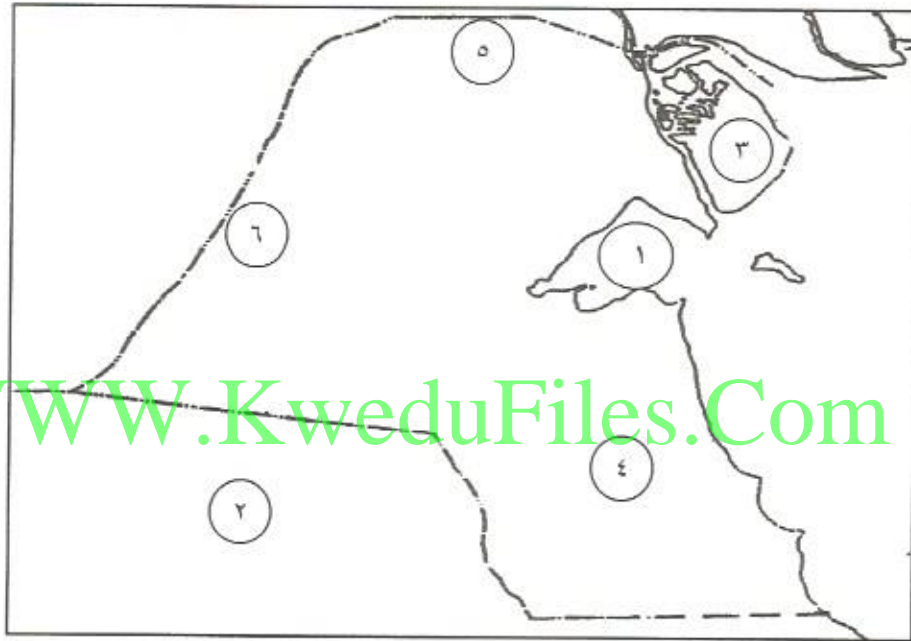
## نموذج الاجابة

(اجب عن جميع الأسئلة )

السؤال الأول : و يتكون من ( أ - ب )

أ - امامك خريطة دولة الكويت الصماء اكتب الأرقام الدالة على الأسماء التالية في الجدول المرفق:

٦ × ١ = ٦ درجات) ص ٢٦ - ص ٤٦



المملكة العربية السعودية	العبدي	تلال وارة	جون الكويت	وادي الباطن	جزيرة بوبيان
٢	٥	٤	١	٦	٣

ب - اكمل العبارات التالية بما يناسبها مما درست : ٦ × ١ = ٦ درجات

- ١- تم قيام أول مجلس للشورى في دولة الكويت عام ١٩٢١م... ص ٥٠
- ٢- تعرف الأمطار الرعدية التي تسقط في مارس وأبريل ومايو باسم... السرايات.. ص ٣٣
- ٣- قسم العالم الي مناطق مناخية حسب قربها أو بعدها عن خط يسمى .... خط الاستواء.. ص ٣٤
- ٤- الحيوان الذي يطلق عليه سفينة الصحراء اسمه .. الجمل .. ص ٤٤
- ٥- الموسم الذي يشهد بداية سقوط الأمطار ويبشر بالفتح ووفره الخضرة يسمى .. الموسم.. ص ٣٦
- ٦- حاكم دولة الكويت الذي تولى الحكم بعد وفاة عمه الشيخ سالم المبارك هو.. الشيخ أحمد الجابر... ص ٥٠

**السؤال الثاني : و يتكون من ( أ - ب ) :**

**أ - ضع خطاً تحت العنصر المناسب من بين الخيارات التي تلي كل عبارة :  $٦ \times ١ = ٦$  درجات**

١- الوكالة الفضائية التي أشادت بجهود العرب في علوم الفضاء هي : ص ٣٦

أ- اليونسكو      ب- ناسا      ج - مجلس الأمن      د- الأمم المتحدة

٢ - المنطقة المناخية التي تقع فيها دولة الكويت : ص ٣٤

أ- الباردة الجنوبية      ب- المعتدلة الجنوبية      ج - الحارة      د- الباردة الشمالية

٣ -الموسم الذي تهب خلاله رياح السموم شديدة الحرارة يسمى : ص ٣٦

أ-الجوزاء      ب- سهيل      ج - المربعانية      د- المرزم

٤- تم تصدير أول شحنة من النفط الكويتي عام : ص ٢٠

أ- ١٩٣٢م      ب- ١٩٣٦م      ج - ١٩٤٢م      د- ١٩٤٦م

٥- اكتشف أول بئر نفطي في دولة الكويت عام ١٩٣٦م في منطقة : ص ٥٠

أ-بحرة      ب- الروضتين      ج -برقان      د- واره

٦- حاكم دولة الكويت الذي يطلق عليه لقب ( أبو الدستور ) هو : ص ٥٣

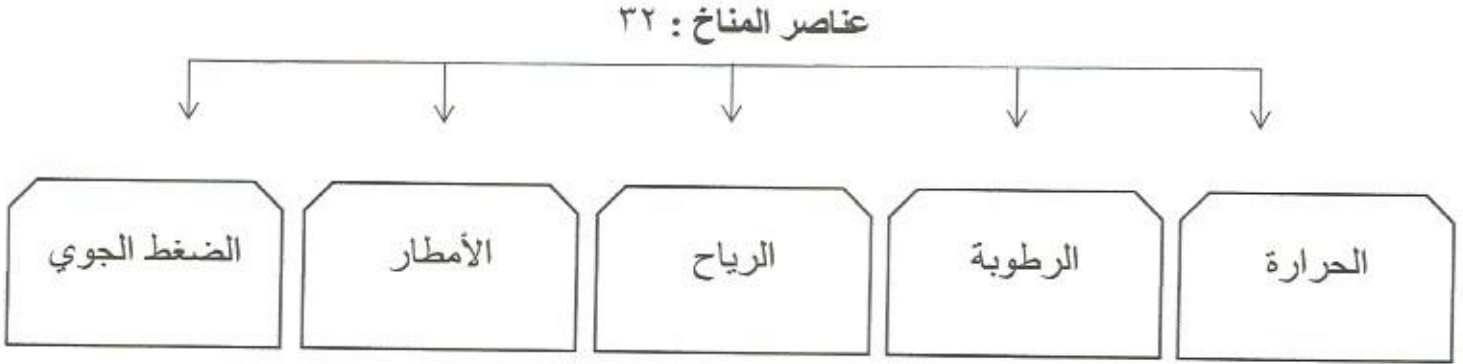
أ- الشيخ أحمد الجابر ب- الشيخ عبدالله السالم      ج - الشيخ صباح السالم      د- الشيخ جابر الاحمد

**ب - اختر للمجموعة ( أ ) ما يرتبط بها من المجموعة ( ب ) بوضع الرقم المناسب :  $٦ \times ١ = ٦$  درجات**

المجموعة ( أ )	الرقم المناسب	المجموعة ( ب )
١- الرعي الجائر ص ٤٧	٣	موسم يشهد فيه البرد ويستمر انخفاض الحرارة ٤٠ يوماً .
٢- الاستقلال ص ٥٣	٦	امتداد تأثير الصحراء على المناطق الرعوية والزراعية .
٣- المربعانية ص ٣٦	-	موقع القارة أو الدولة بالنسبة لخطوط الطول ودوائر العرض .
٤- الدستور ص ٥٢	٥	تلال من الرمال تتراكم في الصحراء بفعل الرياح .
٥- الكتبان الرملية ص ٢٧	١	الافراط في الرعي .
٦- التصحر ص ٤٧	٢	مسؤولية الدولة بصورة مباشرة عن ادارة شؤونها الداخلية والخارجية .
	٤	وثيقة مكتوبة تتكون من مجموعة من المواد التي تنظم العلاقة بين الحاكم والمحكوم .

السؤال الثالث : و يتكون من ( أ - ب ) :

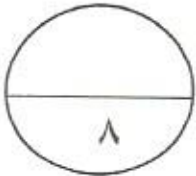
أ - عدد عناصر المناخ في الشكل التالي : ( ٤ = ١ × ٤ ) ( يكتفى بأربع نقاط )



[WWW.KweduFiles.Com](http://WWW.KweduFiles.Com)

ب - أكتب نقطتين لكل من : ( ٤ = ١ × ٤ )

- ١- العوامل التي تؤدي إلى اختلاف المناخ بين مناطق العالم . ص ٣٤
  - الموقع بالنسبة لدوائر العرض .
  - توزيع اليابس والماء .
  - الارتفاع عن مستوى سطح البحر .
- ٢- مجالات استفادة أهل الكويت من معرفتهم لمواقع النجوم . ص ٣٦
  - معرفة الاتجاهات الأصلية .
  - معرفة أحوال المناخ .





السؤال الرابع : و يتكون من ( أ - ب ) :

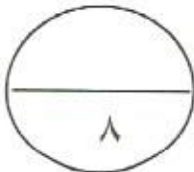
أ - علل لما يلي : ( يكتفى بنقطة لكل منهم ) ( ٤ = ١ × ٤ )

- ١- النباتات الطبيعي في دولة الكويت يعيش في بيئة صحراوية صعبة . ص ٤٠
  - كثرة العواصف الترابية .
  - ارتفاع نسبة التبخر .
  - قلة الأمطار وعدم انتظامها .
  - ارتفاع نسبة سطوع الشمس .
- ٢- تميز سكان شبه الجزيرة العربية بعلوم الفلك . ص ٣٦
  - لصفاء جوها .
- ٣- تحتفل دولة الكويت في ٢٥ فبراير من كل عام . ص ٥٣
  - لأنه تاريخ جلوس الشيخ عبدالله السالم على كرسي الحكم وذلك تكريما له .
- ٤- أهمية دوائر العرض على سطح الكرة الأرضية . ص ١٨
  - لنتمكن من خلالها تحديد نوع المناخ لأي دولة في العالم .

ب - اذكر أمثلة للإنجازات الداخلية والخارجية لحاكم دولة الكويت الشيخ عبدالله السالم من خلال الجدول التالي : ص ٥٢ ( يكتفى بنقطتين لكل مجموعة )

الانجازات الخارجية	الانجازات الداخلية
<ul style="list-style-type: none"><li>- إلغاء معاهدة الحماية واستبدالها بمعاهدة تعاون وصداقة مع بريطانيا .</li><li>- الانضمام للجامعة العربية</li><li>- الانضمام لهيئة الامم المتحدة</li></ul>	<ul style="list-style-type: none"><li>- رفع العلم الجديد</li><li>- اصدار عملة جديدة</li><li>- انشاء المجلس التأسيسي لإعداد الدستور الكويتي .</li><li>- اجراء أول انتخابات نيابية .</li><li>- افتتاح مجلس الأمة</li></ul>

انتهت الأسئلة





وزارة التربية

الإدارة العامة لمنطقة الأحمدى التعليمية  
التوجيه الفني للاجتماعيات

امتحان نهاية الفترة الدراسية الأولى  
مادة بلادي الكويت للصف الخامس الابتدائي  
العام الدراسي ٢٠١٦ / ٢٠١٧ م

الزمن : ساعة وربع  
عدد الأوراق : ٥ أوراق

### السؤال الأول ( موضوعي ) يتكون من ( أ ، ب ) :

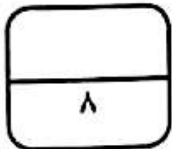


( أ ) أكمل العبارات التالية بما يناسبها :-

١. القارة التي تحمل الرمز ( أ ) في الشكل المقابل تسمى -----
٢. الأمطار الرعدية التي تسقط في مارس وأبريل ومايو تسمى -----
٣. الوكالة العالمية التي أشادت بجهود العرب في مجال الفلك تسمى -----
٤. الحاكم العاشر لدولة الكويت هو الشيخ -----

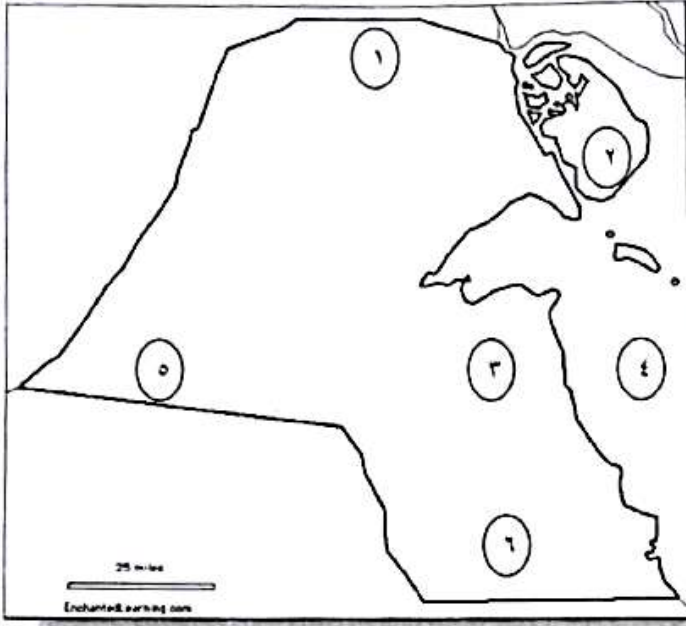
### ( ب ) ظلل الحرف (أ) إذا كانت العبارات صحيحة والحرف(ب) إذا كانت العبارات خاطئة:-

العبارة	( أ )	( ب )
١- تبلغ عدد دوائر العرض ١٨٠ دائرة شمالاً وجنوباً.	( أ )	( ب )
٢- دولة الكويت تقع في المنطقة الباردة.	( أ )	( ب )
٣- الدكتور صالح العجيري هو عالم فلك كويتي.	( أ )	( ب )
٤- منح امتياز التنقيب عن النفط في دولة الكويت للشركات الأجنبية عام ١٩٤٣ م .	( أ )	( ب )



مجموع درجات السؤال الأول-----

السؤال الثاني ( موضوعي ) يتكون من ( أ ، ب ) :



( أ ) لاحظ خريطة دولة الكويت ثم أكمل ما يلي :-

\* جزيرة بوبيان الكويتية يمثلها الرقم -----

\* الخليج العربي يمثله الرقم -----

\* تلال برقان يمثلها الرقم -----

\* منطقة العبدلي الرعوية يمثلها الرقم -----

( ب ) ضع خطا حول العنصر الذي لا ينتمي للمجموعة:

١- أدوات قياس عناصر المناخ :

أ- جهاز الحرارة      ب- جهاز الضغط الجوي      ج- جهاز المطر      د- جهاز منع الصواعق

٢- المواسم السنوية في دولة الكويت :

أ- سهيل      ب- المربعانية      ج- أسيا      د- الثريا

٣- مجموعة الزواحف والقوارض :

أ- الصقر      ب- الجربوع      ج- العقرب      د- الحيه

٤- الإنجازات الداخلية للشيخ عبد الله السالم الصباح :

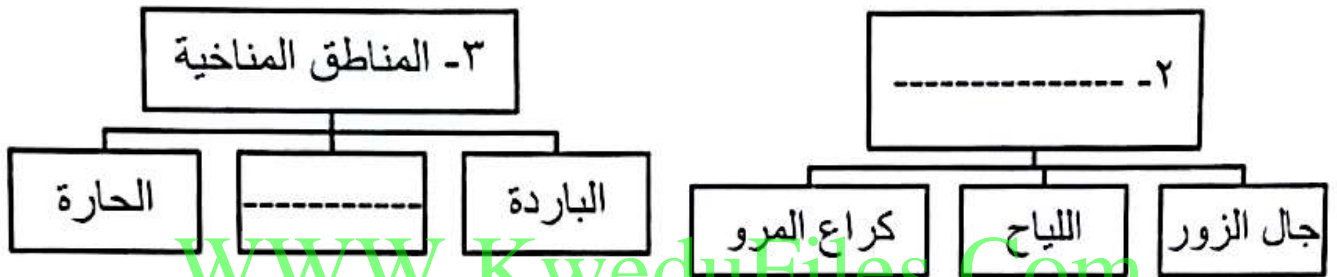
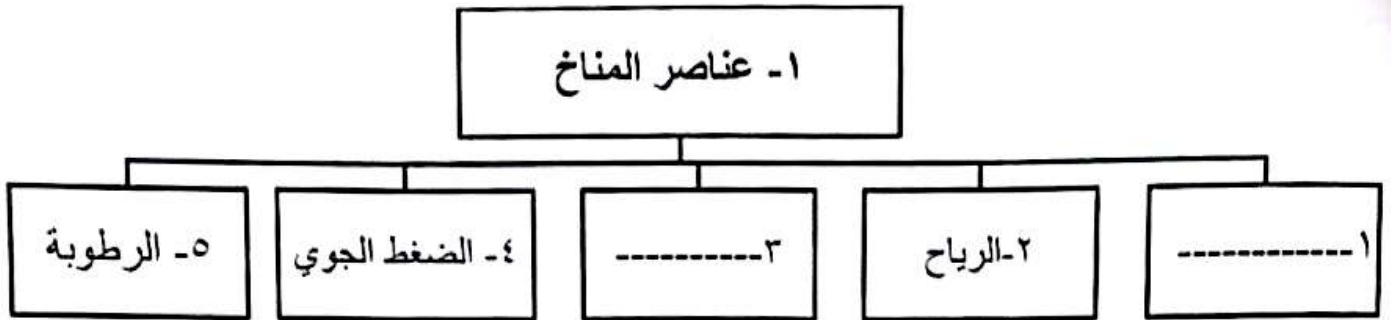
أ- رفع العلم الجديد      ب- أنشاء المجلس التأسيس      ج- اكتشاف النفط      د- إجراء الإنتخابات

مجموع درجات السؤال الثاني -----

٨

السؤال الثالث ( موضوعي ) يتكون من ( أ ، ب ) :

( أ ) أكمل المخططات التالية بما يناسبها مما درست :-



( ب ) صحح ما تحته خط في العبارات التالية :-

١- افتتحت المدرسة الأحمدية في عام ١٩١٢م. ....

٢- أحد النباتات المعمرة في دولة الكويت يسمى الكحيل. ....

٣- أول بئر نفطي أكتشف في دولة الكويت هو برقان. ....

٤- العملة النقدية الحالية لدولة الكويت هي الدرهم. ....

٨

مجموع درجات السؤال الثالث .....

السؤال الرابع (مقالى) : يتكون من ( أ ، ب ، ج ) :

( أ ) عرف المفاهيم التالية :-

١- السبخات : .....

٢- النباتات الحولية : .....

٣- الدستور : .....

( ب ) علل ما يلى :-

١- أهمية خطوط الطول .

.....\*

٢- أهمية مواقع النجوم لأهل الكويت قديماً .  
[WWW.KweduFiles.Com](http://WWW.KweduFiles.Com)

.....\*

٣- تحتفل دولة الكويت بالعيد الوطنى فى تاريخ ٢٥ / فبراير كل عام.

.....\*

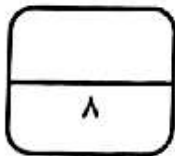
( ج ) ما النتائج المترتبة على كل من :-

١- عدم وجود تضاريس مختلفة فى دولة الكويت على الغطاء النباتى.

.....\*

٢- الرعى الجائر فى دولة الكويت .

.....\*



مجموع درجات السؤال الرابع .....

السؤال الخامس ( مقال ) يتكون من ( أ ، ب ) :

( أ ) أكتب فيما يلي :-

١- العوامل المؤثرة في مناخ مناطق العالم .

.....\*

.....\*

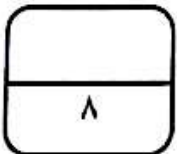
٢- الإنجازات الخارجية التي حدثت في عهد الشيخ عبد الله السالم الصباح .

.....\*

.....\*

( ب ) قارن بين كل مما يلي :-

وجه المقارنة	الأدبية الحافة في دولة الكويت	المنخفضات في دولة الكويت
الأمثلة	.....	.....
	.....	.....
الأنواع	الثديات في دولة الكويت	الأحياء البحرية في دولة الكويت
	.....	.....



مجموع درجات السؤال الخامس.....

انتهت الأسئلة

تمنياتنا لكم بالتوفيق والنجاح

**أجب عن جميع الأسئلة التالية :**

**أولاً : الأسئلة الموضوعية : السؤال الأول يتكون من ( أ - ب - ج - د )**

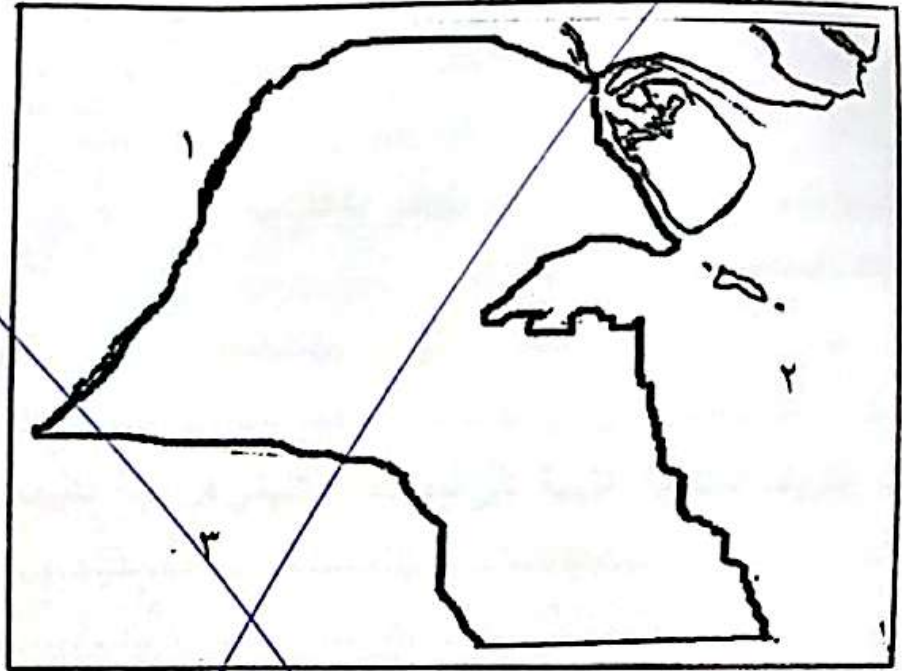
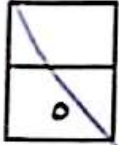
**( أ ) ضع علامة (✓) أمام العبارة الصحيحة وعلامة (×) أمام العبارات الخاطئة :**

- ( ١ ) تقع دولة الكويت ضمن المنطقة المناخية المعتدلة ( )
- ( ٢ ) الموسم يدل على بداية الأمطار ويبشر بالفتح ( )
- ( ٣ ) خط الطول الرئيسي يطلق عليه خط الإستواء ( )
- ( ٤ ) الأمطار الرعدية يطلق عليها اسم السرايات ( )
- ( ٥ ) عدد دوائر العرض يبلغ ١٨٠ دائرة ( )

**ب) اختر البديل المناسب من بين البدائل التي تلي كل عبارة :**

- ( ١ ) يصنف العنكبوت ضمن مجموعة ( الزواحف والقوارض - الحشرات - الطيور - الثدييات )
- ( ٢ ) أول بئر نفطي في دولة الكويت ( برفان - بحرة - الرنقة - درة )
- ( ٣ ) تم تصدير أول شحنة من النفط في دولة الكويت عام ( ١٩٤٣ - ١٩٤٤ - ١٩٤٥ - ١٩٤٦ م )
- ( ٤ ) تم افتتاح المدرسة الأحمدية في عهد الشيخ ( أحمد الجابر - جابر الأحمد - صباح السالم - عبدالله السالم )
- ( ٥ ) انضمت دولة الكويت للجامعة العربية عام ( ١٩٦٠ - ١٩٦١ - ١٩٦٢ - ١٩٦٣ م )

٥) لاحظ خريطة دولة الكويت الصماء ثم نفذ المطلوب :-



أ- اكتب مدلول الأرقام التالية :

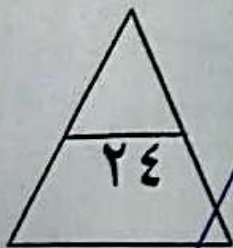
- الخليج العربي يمثل على الخريطة الرقم ( )
- الدولة التي تحد دولة الكويت من جهة الجنوب والجنوب الغربي يمثلها الرقم ( )

ب- حدد على الخريطة ما يلي :-

- وادي الباطن بالرمز

- تلال كراع المرو بالرمز

- أكبر الجزر الكويتية بالرمز





٥

ج، اكمل العبارات التالية بما يناسبها :

- ١) رياح يثار فيها الغبار تهب في فصل الصيف تسمى .....
- ٢) العام الذي حصلت فيه دولة الكويت على استقلالها عام ..... م .
- ٣) الدولة التي تحد دولة الكويت من جهة الشمال والشمال الغربي تسمى .....
- ٤) حيوان من الثدييات التي تتكيف مع مناخ الصحراء و يعرف بسفينة الصحراء يسمى .....
- ٥) الشيخ الذي لقب بأبو الاستقلال وأبو الدستور يسمى الشيخ .....

د، صل من المجموعة (أ) بما يناسبها من المجموعة (ب) بوضع الرقم بالمكان المناسب :

٤

(أ) الظاهرة المناخية	الرقم المناسب	(ب) الجهاز المستخدم في قياسها
١- الحرارة	( )	- دارة الرياح
٢- الضغط الجوي	( )	- جهاز قياس الحرارة
٣- المطر	( )	- جهاز قياس الضغط
٤- الرياح	( )	- جهاز قياس المطر
	( )	- جهاز قياس الرطوبة

السؤال الثاني المقالي ويتكون من ( أ ، ب ، ج ) :-

أ) عرف مايلي :

- (١) كئبان رملية : .....
- (٢) موقع فلكي : .....

ب) علل لما يأتي : (يكتفى بنقطتين)

(١) اختلاف المناخ بين مناطق العالم .

- .....
- .....

(٢) أثرت الظروف المناخية القاسية على نمو الغطاء النباتي في دولة الكويت .

- .....
- .....

ج) اكتب نقطتين فقط حول كل من :

(١) أهم الأحداث في عهد الشيخ أحمد الجابر .

- .....
- .....

(٢) أنواع الحياة الحيوانية في دولة الكويت .

- .....

(٣) فوائد مواقع النجوم لأهل الكويت قديما .

- .....

د) فرق بين كل مما يلي :-

دوائر العرض	خطوط الطول
نباتات معمرة ( الدائمة )	نباتات حولية

٢

:

:

٤

١٦



وزارة التربية  
إدارة الشؤون التعليمية  
مؤابية الامتحانات وشؤون الطلبة



نموذج الإجابة

المرحلة الابتدائية

اختبارات نهاية الفصل الدراسي الأول

المادة : الاجتماعيات

الصف : الخامس

العام الدراسي

2016 / 2017

وزارة التربية

الإدارة العامة لمنطقة مبارك الكبير التعليمية

التوجيه الفني للاجتماعيات

العام الدراسي: ٢٠١٧/١٦م

الفصل الدراسي: الأول

عدد الأوراق: ٤



الإجابة النموذجية لامتحان نهاية الفصل للصف الخامس للاجتماعيات بلادي الكويت



السؤال الأول: يتكون من ( أ - ب ):

أ- أختَر الخيار الصحيح من بين الخيارات التي تلي كل عبارة بوضع خطأ تحتها:

- ١- يبلغ عدد دوائر العرض. ص ١٨  
٦٠ دائرة - ٩٠ دائرة - ١٨٠ دائرة - ٣٦٠ دائرة
- ٢- أكبر الجزر الكويتية مساحة تسمى. ص ٢٧  
جزيرة عوهة - جزيرة بوبيان - جزيرة فيلكا - جزيرة وربة
- ٣- أكتشف حقل برقان في عام. ص ٥٠  
١٩٣٤م - ١٩٣٦م - ١٩٣٧م - ١٩٣٨م
- ٤- عقدت دولة الكويت معاهدة حماية في عام ١٨٩٩م مع دولة. ص ٥٢  
السعودية - بريطانيا - العراق - مصر
- ٥- صدرت اول عملة كويتية جديدة في عهد الشيخ عبدالله السالم والعملة. ص ٥٢  
الدينار - الريال - الجنيه - الروبية
- ٦- يبلغ عدد خطوط الطول. ص ١٨  
٦٠ دائرة - ٩٠ دائرة - ١٨٠ دائرة - ٣٦٠ دائرة

ب- ضع علامة ( √ ) أمام العبارة الصحيحة وعلامة ( × ) أمام العبارة الخاطئة مما يلي:

- ١- قسم العالم الى مناطق مناخية حسب البعد أو القرب من خط جرينتش. ( × ) ص ٣٤
- ٢- العوامل المؤثرة في المناخ الموقع بالنسبة لخطوط الطول. ( × ) ص ٣٤
- ٣- أثرت الظروف المناخية القاسية على نمو الغطاء النباتي في دولة الكويت. ( √ ) ص ٤٠
- ٤- ينتشر الفقع بكثرة في موسم الربيع. ( √ ) ص ٤٣
- ٥- الحيوان الذي يطلق عليه سفينة الصحراء هو السلحفاة. ( × ) ص ٤٤
- ٦- كان لاختلاف درجة الحرارة في دولة الكويت اثر في الحيوانات. ( √ ) ص ٤٤

السؤال الثاني : يتكون من ( أ - ب ) :

أ- أمامك خريطة تضاريس دولة الكويت حدد عليها المدلولات التالية بوضع الرقم المناسب في المكان المناسب:

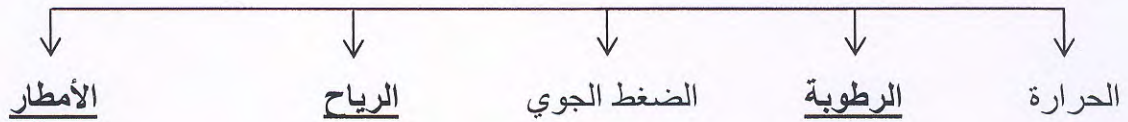


- ١- المملكة العربية السعودية.ص٤٦
- ٢- الخليج العربي.ص٤٦
- ٣- وادي الباطن.ص٢٦
- ٤- أم نقاب.ص٢٦
- ٥- برقان.٢٦
- ٦- جزيرة بوبيان.٤٦



ب- يتكون من ( أ - ب ) :

أ- أكمل المخطط السهمي التالي :



ب- اختر من القائمة ( أ ) ما يناسبها من القائمة ( ب ) بوضع الرقم المناسب في المكان المناسب :

الرقم	القائمة ( أ ) ص٣٦	الرقم المناسب	القائمة ( ب ) ص٣٦
١	الثريا	٣	استمرار الحرارة وبداية الرطوبة
٢	الجوزاء	٢	رياح السموم وتكون شديدة الحرارة
٣	المرزم	١	البوارح حيث يثار فيها الغبار
			ينكسر الحر وتنخفض درجة الحرارة



السؤال الثالث: يتكون من ( أ - ب ):

أ- عرف المفاهيم التالية:

١. الكثبان الرملية. ص ٢٧

هي تلال من الرمال تتراكم في الصحاري بفعل الرياح.

٢. الطقس. ص ٣٢

هو وصف حالة الجو لفترة زمنية قصيرة.

٣. الرعي الجائر. ص ٤٧

هو الإفراط في الرعي.

٤. امتياز التنقيب. ص ٥٠

هو إعطاء الدولة حق البحث والتنقيب عن النفط وبيعه لشركة أجنبية متخصصة تشارك الدولة في قسط من العائدات المالية لمدة معينة.

ب- أجب عما يلي:

[WWW.KweduFiles.Com](http://WWW.KweduFiles.Com)

(١) عدد الانجازات الخارجية للشيخ عبدالله السالم الصباح. ص ٥٢

أ- إلغاء معاهدة الحماية ١٨٩٩ مواستبدالها بمعاهدة صداقة ١٩٦١ م.

ب- الانضمام للجامعة العربية ١٩٦١ م.

ج- الانضمام لهيئة الأمم المتحدة ١٩٦٣ م.

(٢) العوامل المؤثرة في مناخ بلادي. ص ٣٤

أ- الموقع بالنسبة لدوائر العرض.

ب- توزيع اليابس والماء.

ت- الارتفاع عن مستوى سطح البحر.





السؤال الرابع: يتكون من ( أ - ب ):

أ- علل لما يأتي :

- (١) أهمية مواقع النجوم . ص ٣٦  
معرفة الاتجاهات الأصلية و معرفة أحوال المناخ.
- (٢) ضعف الغطاء النباتي في دولة الكويت. ص ٤٠  
ارتفاع درجة الحرارة - ارتفاع سطوع الشمس - العواصف الترابية - ارتفاع نسبة التبخر - قلة الأمطار
- (٣) انتشار ظاهرة التصحر في دولة الكويت . ص ٤٧  
الإفراط بالرعي الجائر.
- (٤) تسمية موسم المربعانية بهذا الاسم. ص ٣٧  
شدة البرد وانخفاض الحرارة لمدة ٤٠ يوما.

ب - فرق بين كل من ( النباتات الحولية - النباتات المعمرة ) حسب الجدول التالي:

من حيث	نباتات حولية ( موسمية )	نباتات معمرة ( دائمة )
التعريف	نباتات تتكاثر بعد سقوط المطر وتكتمل دورة حياتها في فترة زمنية قصيرة	نباتات ذات جذور عميقة تمتاز بصفات تعينها على الاستفادة من المياه القليلة وتزدهر في فصل الربيع
أمثلة	نبات كحيل	نبات العرفج

انتهت الأسئلة

مع أطيب التمنيات لكم بالنجاح والتوفيق،،،