

تم تحميل هذا الملف من موقع المناهج الكويتية



مدرسة التميز النموذجية

الملف مراجعة شاملة من مدرسة التميز النموذجية

[موقع المناهج](#) ← [المناهج الكويتية](#) ← [الصف السادس](#) ← [اجتماعيات](#) ← [الفصل الأول](#)

روابط مواقع التواصل الاجتماعي بحسب الصف السادس



روابط مواد الصف السادس على تلغرام

[الرياضيات](#)

[اللغة الانجليزية](#)

[اللغة العربية](#)

[التربية الاسلامية](#)

المزيد من الملفات بحسب الصف السادس والمادة اجتماعيات في الفصل الأول

نموذج اجابة اختبار لمنطقة مبارك الكبير عام 2016	1
اوراق عمل مهمة في مادة الاجتماعيات	2
بنك اسئلة ممتاز في مادة الاجتماعيات	3
بنك معلومات مهم في مادة الاجتماعيات	4
تلخيص اجتماعيات بشكل مبسط	5



مراجعة مادة الاجتماعيات

الفصل الدراسي الأول 2024 – 2025 م

لـلـصـف (السادس)



إعداد
قسم الاجتماعيات



الخصائص الطبيعية لمنطقة الخليج العربي

س / أين تقع منطقة الخليج العربي؟ وما أهميته؟

- تقع في الجهة الجنوبية الغربية من قارة آسيا.
- وتقع شمال شرق شبه الجزيرة العربية.
- تمتد فلكياً عبر 16 درجة عرضية شمال خط الاستواء و25 خط طول شرق خط جرينتش.

س / أهمية موقع الخليج العربي تكمن في:

- تقع في موقع استراتيجي مهم (وسط العالم).
- تتحكم بأهم طرق التجارة العالمية.

س / أكمل: يمتد الموقع الفلكي لمنطقة الخليج العربية عبر 16 درجة عرضية شمال خط الاستواء و..... 25 خط طول شرق خط جرينتش.

س / عرف الخليج العربي؟

- هو ذراع مائي لبحر العرب، ويمتد من خليج عمان جنوباً حتى شط العرب شمالاً.



س / ما أنواع الموقع؟

- الموقع المكاني (الجغرافي).
- الموقع الفلكي.
- الموقع النسبي.

س / حدد موقع الكويت بالنسبة للعالم؟

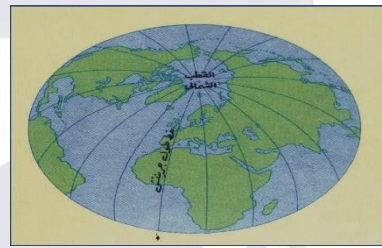
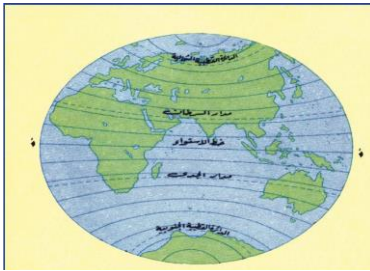
- تقع وسط العالم.

س / ما الفرق بين الموقع الفلكي والموقع النسبي؟

الموقع النسبي	الموقع الفلكي
هو الموقع بالنسبة للماء واليابسة.	هو الموقع بالنسبة لخطوط الطول ودوائر العرض.

س / قارن بين خطوط الطول ودوائر العرض؟ مع التوضيح بالرسم؟

دوائر العرض	خطوط الطول
<p>التعريف: دوائر وهمية ترسم على سطح الأرض وتقسّم الأرض إلى قسمين شمالي وجنوباً. العدد: 180 دائرة. الأهمية: 1. تحدد الموقع الفلكي. 2. تحدد المناطق الحرارية.</p>	<p>التعريف: خطوط وهمية ترسم على سطح الأرض وتقسّم الكرة الأرضية إلى قسمين شرقي وغربي. العدد: 360 خط. الأهمية: 1. تحديد الموقع الفلكي. 2. تحدد الوقت والزمن على سطح الأرض.</p>



س / ما هي الجهات الفرعية؟ ثم حددها على الشكل المقابل؟

الجهات الفرعية: هي التي تقع بين جهتين أصلية وهي: -

1. الشمال الشرقي.
2. الجنوب الشرقي.
3. الشمال الغربي.
4. الجنوب الغربي.

خمسة وعشرون عاماً من التميز

س / ضع كلمة (صح) أو (خطأ) أمام العبارات التالية:

الإجابة	العبرة
صح	تقع منطقة الخليج العربية في موقع متوسط من العالم، وقد ساعد موقعها على اتساع نشاط سكانها التجاري والتواصل الحضاري والثقافي.
خطأ	عدد خطوط الطول 280 خطاً.
صح	الموقع النسبي هو الموقع بالنسبة للماء واليابس.



مظاهر السطح والمناخ في الخليج العربي

س / ما أشكال السطح في الخليج العربي؟

1. الجبال.
2. التلال.
3. الهضاب.
4. السهول.

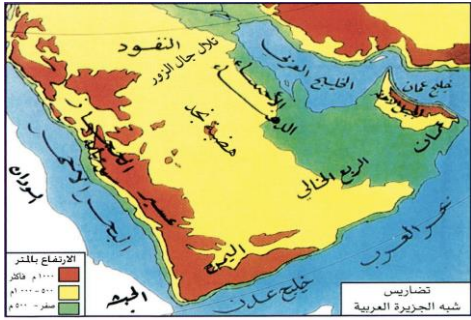
س / عرف المفاهيم التالية:

1. **الجبل**: هو كل مرتفع له قمة لا يقل عن 1000 متر.
2. **التلال**: كل مرتفع له قمة لا يزيد عن 1000 متر.
3. **الهضبة**: أرض مرتفعة سطحها مستوي وتمتد لمساحة كبيرة.
4. **السهول**: أجزاء فسيحة منبسطة تتميز باستوائها وقلة ارتفاعها.

س / لاحظ الخريطة المقابلة ثم أكمل الجداول التالي:

التلال	الجبال
جال الزور	جبال عسير والحجاز الجبل الأخضر (عمان)

السهول	الهضاب
سهل تهامة سهول الأحساء	هضبة نجد



شكل (٤) خريطة توضح تضاريس منطقة الخليج العربية

س / عرف المناخ. وما مناخ الخليج العربي؟

المناخ: هو حالة الجو في مكان ما لفترة زمنية طويلة.

مناخ الخليج العربي: (صحراوي قاري).

س / صف مناخ منطقة الخليج العربي؟

- ارتفاع الحرارة إلى أتر من 40 م. وتنخفض في الشتاء إلى أقل من 4 م.
- الأمطار قليلة وغير منتظمة تسقط في الشتاء ما عدا الجبل الأخضر وجبال عسير فأمطارها صيفية.
- الصيف: طويل (حار، جاف، رطب).
- الشتاء: قصير جداً (يمتاز بالدفء).

س / قارن بين فصل الصيف والشتاء في الخليج العربي حسب الجدول التالي:

وجه المقارنة	فصل الصيف	فصل الشتاء
درجة الحرارة	أكثر من 40 درجة مئوية	أقل من 4 درجة مئوية
طول الفصل	طويل يمتد لمعظم شهور السنة	قصير جداً
حالة الجو	حار وجاف ورطب	دافئ وأمطار قليلة

س / ما أنواع الرياح التي تهب على الخليج العربي؟

1. الرياح الشمالية.
2. الرياح الجنوبية الشرقية (الكوس).
3. رياح الزوابع (العواصف الترابية).

س / علل: الحياة النباتية والحيوانية في الخليج العربي فقيرة جداً.

- نظراً لقلة الأمطار.
- سيادة المناخ الصحراوي.

س / ما أقسام النبات الطبيعي في الخليج العربي؟ ثم فرق بينهما.

2. النبات الحولي	1- النبات المعمر
هي نباتات يرتبط وجودها بموسم سقوط المطر ثم تموت بعد انتهاء الموسم. مثل: (الخبيزة، الحويدان، العنصيل).	هي نباتات متوفرة طوال العام، لأنها تتحمل الجفاف والحرارة لجذورها الطويلة وأوراقها الشوكية وتخزينها للماء. مثل: (الصبار، العرفج، الرمث، الشندا).

س / ما أهم الحيوانات التي تعيش في بيئة الخليج العربي؟

1. حيوانات مستأنسة (الإبل، الأغنام، الماعز).
2. حيوانات غير مستأنسة كالزواحف (السحلية، الضب، الثعبان).
3. حيوانات برية (الغزلان، الثعالب وغيرها).

الخصائص البشرية لمنطقة الخليج العربي قديماً

س / علل لما يأتي:

1. كانت حياة السكان في منطقة الخليج العربي قاسية وخشنة.

- لفقر التربة.

- قلة الموارد خاصة المياه.

2. فقر النباتات والحياة الحيوانية في الخليج العربي.

- قلة المياه (البيئة الصحراوية)

- الحرارة الشديدة

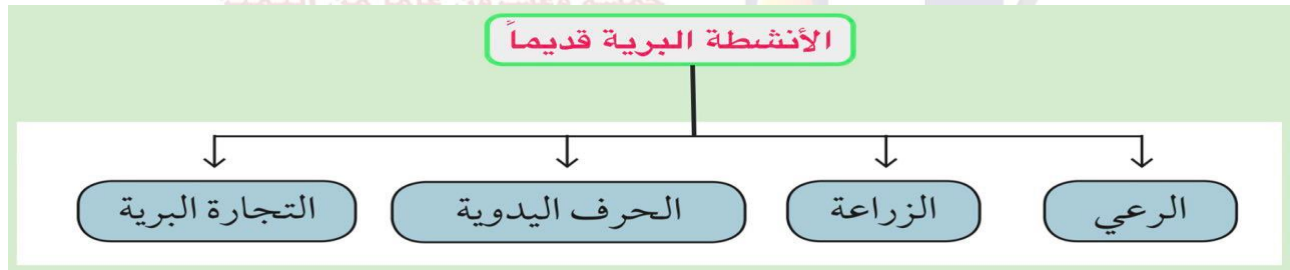
3. تشابه الأعمال التي يقوم بها أبناء منطقة الخليج العربي.

- لتشابه الظروف الجغرافية البيئية والمناخية.

س / أذكر أهم الأنشطة والأعمال لسكان الخليج العربي قديماً؟

(ب) الأنشطة البحرية		(أ) الأنشطة البرية	
3. الغوص على	1. صيد الأسماك	3. الحرف اليدوية	1. الرعي
	اللؤلؤ		الزراعة
4. التجارة	2. صناعة السفن	4. التجارة البرية	2. الزراعة
	البحرية		

س / ارسم مخطط يوضح أهم الأنشطة البرية لسكان منطقة الخليج العربي قديماً؟



• الرعي:

- تعتمد هذه الحرفة على ما ينمو من نباتات وحشائش بعد سقوط المطر.

- كما يستفاد من النباتات المعمرة كمراقب الإبل والأغنام.

• الزراعة:

- أقام سكان منطقة الخليج العربية مناطق زراعية تزخر بإنتاج بعض الغلات الزراعية (كالتمور، والخضروات الورقية، القمح).
- رغم الظروف الطبيعية القاسية وقلة موارد المياه العذبة في منطقة الخليج إلا أنها شهدت انتشار الواحات الزراعية القائمة على مياه الأمطار المياه الجوفية.

س / عرف ما يلي:

1. **الواحة:** منطقة تقع في الصحراء فيها مياه عذبة صالحة للزراعة.
2. **المياه الجوفية:** هي المياه التي توجد في باطن الأرض.

• الحرف اليدوية:

- مارس أبناء منطقة الخليج العربية العديد من الحرف اليدوية لسد حاجاتهم الأساسية.

س / ما هي أهم المهن والحرف اليدوية لسكان دول الخليج قديماً؟

- * حياكة السدو
- * صناعة الخوص
- * خياطة البشوت

س / اكتب الاسم المناسب أسفل الصورة؟



خياطة البشوت



حياكة السدو



صناعة الخوص

• التجارة البرية:

س / علل: ازدهار منطقة الخليج العربي كمحطة تجارية وحلقة وصل بين الشرق والغرب.

- بسبب موقع الخليج العربي المتوسط بين طرق التجارة البرية القديمة (مصر، الشام، العراق، اليمن)

س / اكتب بالرقم أسماء المسطحات المائية على خريطة شبه الجزيرة العربية:



1. الخليج العربي.
2. البحر الأحمر.
3. البحر العربي.
4. خليج عدن.
5. خليج عمان.

الأنشطة البحرية في الخليج العربي قديماً

س / ارسم مخطط لأهم الأنشطة البحرية لسكان الخليج العربي قديماً:



س / ما هي أهم وسائل الصيد قديماً؟

1. الميذار (السنارة).
2. الحظرة.
3. القرقور.
4. الشباك.

س / ما هي أنواع الأسماك؟

1. الزبيدي.
2. الهامور.
3. السبيطي.
4. الميذ.
5. الشعم.
6. الشعري.

من خلال الفقرة السابقة أجب عن التالي:

س / ما الفرق بين الدشة والقفال؟

- **الدشة:** هي بداية موسم الغوص ويبدأ أوائل الصيف (شهر يونيو).
- **القفال:** هو نهاية موسم الغوص في (شهر سبتمبر).

س / علل: انصراف سكان الخليج العربي عن حرفة الغوص على اللؤلؤ؟

- بسبب اكتشاف النفط.
- ظهور اللؤلؤ الصناعي.

س / ما المصدر الأساسي الذي اعتمد عليه اقتصاد الخليج العربي قبل اكتشاف النفط؟

- الغوص على اللؤلؤ.

س / أذكر أهم أعضاء طاقم سفينة الغوص على اللؤلؤ قديماً؟

المهنة	أهم الأعمال
النوخذة	ريان السفينة
المجدي	رئيس البحرية
الغواص	الذي يغوص في أعماق البحر بحثاً عن اللؤلؤ
السيب	الذي يسحب الغاصة من أعماق البحر.
النهام	هو مطرب السفينة
الرضيف	صغار السن وهم المساعد للسيب في السفن الكبيرة
التبابة (تباب)	الصبية الذين يعملون على ظهر السفينة لاكتساب الخبرة
(طواش)	هم تجار اللؤلؤ.

س / عرف ما يلي:

1. **القلاف**: هو صانع السفينة.
2. **سفينة البغلة**: هي أفضل أنواع السفن المستعملة في رحلة السفر لمتانتها وقدرتها على نقل حمولة كبيرة وقلة تعرضها للأخطار.

س / أذكر أشهر السفن القديمة في الخليج العربي؟

1. البوم
2. البغلة.
2. السنوك.
3. الجالبوت
4. الشوعي وغيرها من السفن.

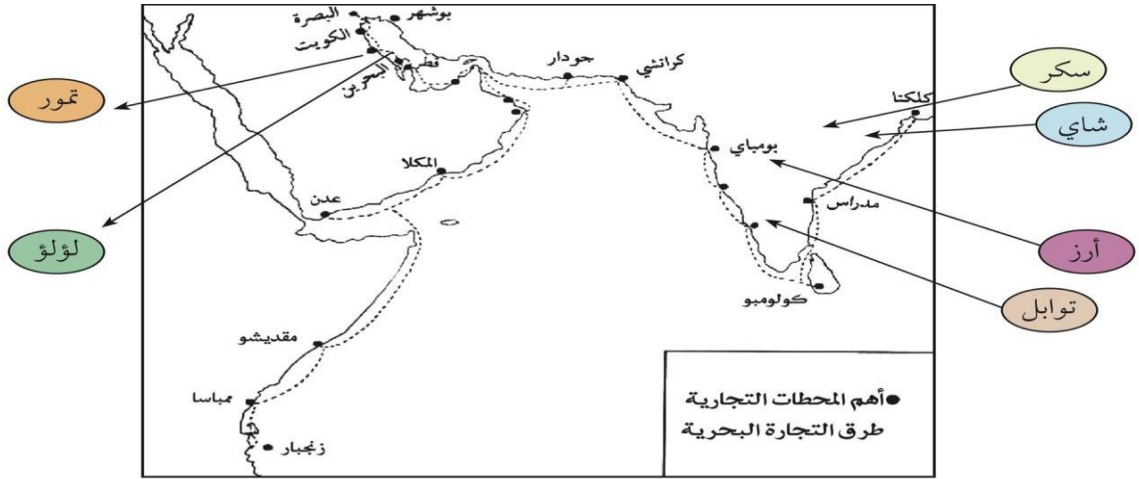
س / ما المقصود بالمسطحات المائية؟

- جميع أشكال المياه على سطح الأرض مثل (المحيطات، البحار، البحيرات، الخلجان، الأنهار وغيرها).

س / علل: ازدهار منطقة الخليج العربية في التجارة البحرية؟

- موقع الخليج العربي المتوسط بين طرق التجارة.
- إطلالها على مسطحات مائية مهمة.

س / شاهد الخريطة المقابلة ثم أكمل الجدول التالي:



شكل (٧) خريطة توضح أهم المحطات التجارية وطرق التجارة البحرية التي مارسها سكان منطقة الخليج العربية قديماً

1. اهم الصادرات والواردات الخليجية قديماً:

الواردات	الصادرات
السكر - الشاي	التمور
الأرز - التوابل	اللؤلؤ

2. أسماء المدن التي وصل اليها التجار قديماً:

المدن في القارة الهندية	المدن في أفريقيا
بومباي	مقديشو
مدراس	ممباسا
كولومبو	زنجبار
كلكتا	

خمسة وعشرون عاماً من التميز

دول الخليج العربية تتطور حضارياً وسياسياً

س / عرف ما يلي:

1. القرن: يساوي مائة عام.
2. الحضارة: جميع أنشطة الإنسان التي تعكس تطور وتقدم المجتمع في جميع نواحي الحياة.

س / ما عدد السنوات والقرون التي امتدت خلالها حضارات الخليج العربي؟


- عدد القرون حوالي (40 قرن).
- عدد السنين حوالي (4000 عام).

س / أكمل الفراغات التالي:

1. عرف الخليج العربي قديماً بـ البحر الأدنى أو بحر شروق الشمس
2. الحضارة التي اشتهرت بصهر المعادن هي حضارة مجان
3. الحضارة الخليجية التي اشتهرت بالأختام هي حضارة دلمون

س / ما هي أهم الحضارات التي ظهرت بالخليج العربي؟

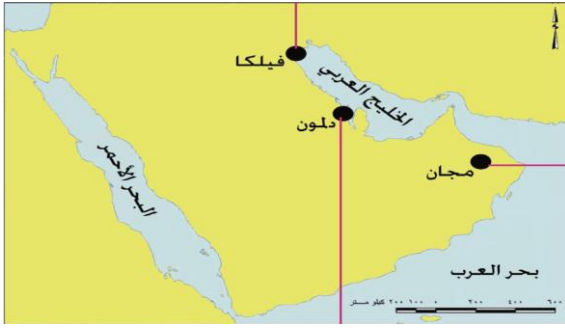
1. الحضارة الهيلينستية (فيلكا) في الكويت.
2. حضارة دلمون في البحرين.
3. حضارة مجان في سلطنة عمان.



علل: منطقة الخليج قديماً مصدراً لجذب السكان؟

- كان الخليج العربي ملتقى الحضارات الكبرى في الشرق.
- عثر فيها على الكثير من المواقع الأثرية.

س / حدد حضارات الخليج على الخريطة المقابلة؟



س / أكتب أسم الحضارة والدولة أمام الخرائط التالية:



الحضارة: مجان
الدولة: سلطنة عمان



الحضارة: الهليستية
الدولة: فيلكا (الكويت)



الحضارة: دلمون
الدولة: البحرين

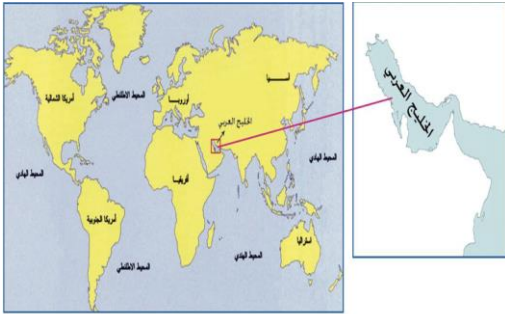
س / رتب حضارات الخليج العربي حسب موقعها من الشمال إلى الجنوب؟

1. الحضارة الهليستية

2. حضارة دلمون

3. حضارة مجان

س / ما العوامل المؤثرة في نشأة حضارات الخليج العربي؟



شكلاً (١٣) خريطة توضح موقع دول الخليج العربية بالنسبة للعالم

- الموقع المتميز للخليج العربي.
- الموارد المائية مثل الأمطار والآبار قليلة العمق (القليب)
-

س / ما المقصود بالقليب (الجليب)؟

يطلق على البئر عند سكان دول الخليج.

س / اختر من المجموعة (أ) ما يناسب المجموعة (ب) بوضع الرقم في المكان المحدد؟

السبب (أ)	الرقم	النتيجة (ب)
1- توفر أبار مياه الشرب وبعق قليل.	2	- استقرار السكان.
2- وجود بيئة طبيعية ملائمة.	3	- ظهور علاقات تجارية.
3- الموقع الجغرافي المميز	1	- سهولة الحصول عليها.
	—	- كبر مساحات الصحراء.

الحضارة الإسلامية في منطقة الخليج العربية

من خلال العبارة السابقة أجب عن التالي:

س/ ضع علامة (صح) او علامة (خطأ) أمام العبارات التالية مستعينا بالفقرة السابقة:

1. ظهر الإسلام في القرن العاشر الميلادي. (x)
2. شارك أبناء منطقة الخليج العربية في نشر الإسلام فقط. (x)
3. لم يتأثر سكان منطقة الخليج العربية بمظاهر الحضارة الإسلامية. (x)
4. ساهم سكان منطقة الخليج العربية في نشر الإسلام في جنوب شرق آسيا. (✓)

س/ ما المناطق التي ساهم فيها سكان شبه الجزيرة العربية بنشر الإسلام؟

1. الهند وساحل مكران.
2. الساحل الشرقي لأفريقيا.
3. جنوب شرق آسيا.

س/ أكمل الفراغات التالية:

1. النشاط الذي أسهم في نمو منطقة شبه الجزيرة العربية هو النشاط التجاري.
2. ما يثبت على اهتمام أبناء منطقة الخليج بالحضارة الإسلامية إعداد متاحف التراث الإسلامي
3. العامل الذي أسهم في ازدهار مدن الخليج العربية الموقع الجغرافي كوسيط تجاري


س/ ما أهم المتاحف المتخصصة في التراث الإسلامي؟ وماذا تحوي داخلها؟

1. متحف دار القرآن (البحرين).
2. دار الآثار الإسلامية (الكويت)
3. متحف الشارقة للحضارة الإسلامية.

تحتوي على: الكثير من آثار الحضارة العربية الإسلامية. **مسة وعشرون عاماً من التميز**




دار الآثار الإسلامية في الكويت



متحف الشارقة للحضارة الإسلامية



متحف دار القرآن في مملكة البحرين



شكل (١٥) صور توضيح مظاهر الحضارة الإسلامية

س / ما المجالات التي شملتها الحضارة الإسلامية؟

1. مجال العمارة.
2. مجال الصناعة.
3. مجال الفن.

س / صنف مظاهر الحضارة الإسلامية في الشكل المقابل بوضع الرقم في الجدول في المكان المناسب؟

الصناعة	الفن	العمارة
3 - 1	6	2
7 - 5	8	4



س / لاحظ الخريطة التالية ثم نفذ المطلوب؟

1. الكويت على الخريطة يمثلها الرقم. (2)
2. البحر العربي يمثلها على الخريطة الرقم. (3)
3. الخليج العربي على الخريطة يمثلها الرقم. (4)
4. المكان الذي انطلق منه الإسلام يمثلها على الخريطة الرقم. (1)

خمسة وعشرون عاماً من التميز

تطور الحياة السياسية وظهور الدولة الحديثة

س / علل: حدوث هجرات قديمة الى منطقة الخليج العربي؟



1. الموقع وسط العالم الذي لعب دور الوسيط التجاري.
2. قيام سكان المنطقة بممارسة أنشطة بحرية واستقرارها.

س / ما هي أهم الهجرات نحو الخليج العربي؟

1. آل الصبح وآل خليفة إلى (الكويت)
2. المعاضيد إلى (قطر)
3. القواسم إلى (رأس الخيمة)
4. قبائل الأزد من آل البوسعيد واليعاربة إلى (عمان)
5. بني ياس إلى (أوظبي)

س / علل لما يأتي:

1. ظهور الوحدات السياسية في الخليج العربية؟

- هجرات قبائل العتوب العربية نحو الخليج العربي.
- الموقع الجغرافي والأنشطة البحرية التي ساعدت في استقرارها.

2. ظهور مرحلة جديدة لدول الخليج العربية وتأثيرها في السياسة الخارجية؟

- بسبب اكتشاف النفط والبدء في تصديره.

س / أكمل الجدول التالي: (السبب والنتيجة)

السبب	النتيجة
الموقع الجغرافي	جذب الهجرات إلى منطقة الخليج العربية
اكتشاف النفط	بداية مرحلة جديدة لدول الخليج وتأثيرها في السياسة الدولية.

خمسة وعشرون عاماً من التميز

س / شاهد خريطة العالم المقابلة ثم أجب:

1. حدد موقع الخليج العربي؟

- يقع الخليج العربي وسط العالم القديم (آسيا، أفريقيا، أوروبا)
- يقع الخليج العربي جنوب غرب قارة آسيا.
- ويقع شمال شرق شبه الجزيرة العربية

2. أكتب حقيقتين من خلالها؟

- يحتل الخليج العربي موقعاً استراتيجياً.
 - موقع الخليج العربي ساعد السكان في العمل بالتجارة.
- س / أكمل الجدول التالي:

المنطقة التي هاجروا إليها	أسم القبيلة
الكويت والبحرين	- العتوب (أل الصباح
سلطنة عمان	- وال خليفة)
قطر	- قبائل الأزد.
راس الخيمة	- المعاضيد
أبو ظبي	- القواسم
	- بنو ياس

س / حدد على الخريطة المقابلة خط سير هجرة العتوب من منطقة الهدار بنجد إلى مناطق الخليج المختلفة؟

س / شاهد الشكل المقابل ثم أكتب أسماء دول الخليج العربية؟



1. المملكة العربية السعودية.
2. سلطنة عمان.
3. الإمارات العربية المتحدة.
4. إمارة الكويت
5. قطر
6. مملكة البحرين.

المنافسة الاستعمارية الأوروبية على الخليج العربي

س / ما المقصود بالاستعمار؟

الاستعمار: سيطرت دولة قوية على دولة ضعيفة من أجل استغلال موقعها وثرواتها.

س / أكمل الفراغات التالية:

1. أول دولة أوروبية وصلت للخليج العربي واحتلت أجزاء منها هي. (البرتغال)
2. الدولة الاستعمارية التي أحكمت سيطرتها على الخليج العربي هي. (الإنجليز)
3. حدثت المنافسة الاستعمارية على منطقة الخليج العربية في القرن. (15 الميلادي)


س / علل: المنافسة الاستعمارية على منطقة الخليج العربية منذ القرن 15 الميلادي؟

- لاستغلال الموقع الجغرافي.
- لاستغلال ثروات وموارد المنطقة.

س / ما الاسلوب الذي من خلاله سيطر الإنجليز على الخليج العربي؟

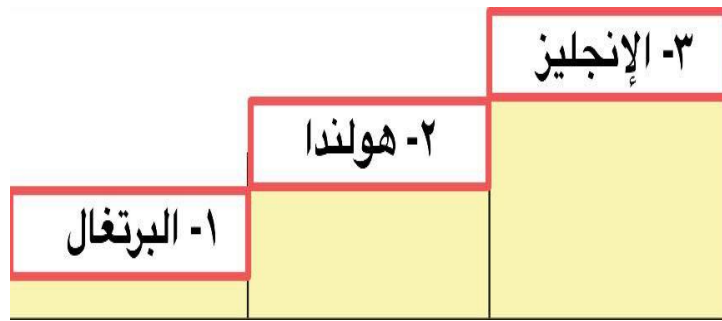
- المعاهدات والاتفاقيات.

س / حدد على الخط الزمني (فترة المنافسة الاستعمارية)؟



س / رتب الدولة الاستعمارية الأوروبية زمنياً تصاعدياً حسب وصولها إلى الخليج العربي؟

1. البرتغال.
2. هولندا.
3. الإنجليز.



اتفاقية الحماية 1899م:

س/ ما المقصود باتفاقية الحماية 1899 م؟

- هي اتفاقية سرية وقعها الشيخ مبارك الصباح بطلب منه مع بريطانيا، وبموجبها تعهدت بريطانيا بحماية الكويت والتزام الكويت بعدم التعامل مع أي دولة أخرى.

س/ ما أهم بنود هذه الاتفاقية؟

1. حماية بريطانيا للكويت من أي خطر خارجي.
2. ألا تتنازل أو تبيع أو تؤجر الكويت جزء من أراضيها لأي دولة أخرى دون موافقة بريطانيا.

س/ أكمل الجدول التالي: (اتفاقية الحماية 1899م)

السنة	أطراف الاتفاقية	أسلوب الاستعمار
1899م	الكويت × بريطانيا	اتفاقية حماية

س/ ما أهم أسباب عقد الشيخ مبارك الصباح لاتفاقية الحماية 1899م؟

1. التهديد العثماني المستمر على الكويت.
2. النزاعات والخلافات المتجاورة وظهور تحالفات في المنطقة هدد الكويت.
3. إيقاف نفوذ الدول الاستعمارية الأخرى على الكويت مثل فرنسا وألمانيا.
4. محاولة الشيخ مبارك الصباح لإظهار دولة الكويت قوة إقليمية.
5. لفرض الضرائب على البضائع الأجنبية الداخلة إلى الكويت أو العابرة منها.

خمسة وعشرون عاماً من التميز

مرحلة الاستقلال والتطور

س / أكمل الفراغات التالية:

1. بدأت شعوب الخليج العربية بالتححرر من التبعية البريطانية في النصف الثاني من القرن. (العشرين).
2. العام الميلادي الذي حصلت فيه الكويت على استقلالها من بريطانيا. (1961م)
3. حصلت دولة الكويت على استقلالها في عهد الشيخ. (عبد الله السالم الصباح)

س / ما المقصود باستقلال؟

الاستقلال: هو تحرر الدولة من المستعمر الأجنبي وقيامها بمسؤولية إدارة شؤونها
س / شاهد الصورة المقابلة ثم أكمل البطاقة التالية:



هيا نكمل البطاقة التالية:

اقترح عنوان للصورة اتفاقية استقلال الكويت

تاريخ الصورة: 19 / يونيو / 1961م.

اسم حاكم الكويت في هذه الفترة: الشيخ عبد الله السالم.

الطرف الأجنبي الذي وقع المعاهدة: بريطانيا

س / عرف الديمقراطية؟

الديمقراطية: تعني حكم الشعب لنفسه.

س / أكمل الفراغات التالية:

1. عرف سكان منطقة الخليج العربية مبادئ حقوق الإنسان منذ ظهور (الإسلام).
2. العام الميلادي الذي أصدرت فيه الكويت وثيقة الدستور الكويتية هو (1962م).
3. أصدرت منظمة الأمم المتحدة الإعلان العالمي لحقوق الإنسان عام (1948م)

س / دلل: الكويت دولة عربية إسلامية ملتزمة بمبادئ حقوق الإنسان؟

- نظمت الكويت حقوق الإنسان ومبدأ الديمقراطية منذ الاستقلال بإصدار وثيقة الدستور الكويتي 1962م.

س / أكمل الفراغات التالية:

1. أول دولة خليجية حصلت على استقلالها هي. (الكويت).
2. البلد الخليجي الوحيد الذي لم يتعرض للاستعمار هو. (السعودية)
3. العام الميلادي الذي تم فيه إعلان قيام المملكة العربية السعودية هو. (1932م).

س / أكمل الجدول التالي: (تاريخ استقلال الدول الخليجية)؟

الدولة	دولة الكويت	مملكة البحرين	دولة قطر	سلطنة عمان	دولة الإمارات
سنة الاستقلال	1961م	1971م	1971م	1971م	1971م

س / لاحظ خريطة دول الخليج العربية ثم سجل داخل المربعات الدولة وسنة الاستقلال؟



قيام مجلس التعاون الخليجي



شكل (٢٠) صور توضح معالم دول الخليج العربية

س / أذكر دول الخليج العربية (مرتبة تنازلياً حسب المساحة)

1. المملكة العربية السعودية.
2. سلطنة عمان.
3. الإمارات العربية المتحدة.
4. الكويت.
5. قطر.
6. مملكة البحرين.

س / ما أهم المناطق السياحية في دولة الكويت؟

- توجد في الكويت الكثير من المعالم السياحية أهمها:
(جزيرة فيلكا، أبراج الكويت، برج التحرير، المركز العلمي، الأفنيوز
حديقة الشهيد، متحف الكويت الوطني، الجزيرة الخضراء، بيت المرايا، سوق المباركية وغيرها)

قيام مجلس التعاون الخليجي:

(أعلن قيام مجلس التعاون لدول الخليج العربية في 25 مايو 1981 في مدينة أبو ظبي، واتخذت مدينة الرياض مقراً له، وذلك لما بين هذه الدول من علاقات أهداف وصفات مشتركة أهمها، التراث والانتماء والدين الإسلامي واللغة العربية والعادات والتقاليد).

من خلال العبارة السابقة أجب عن التالي:

س / عرف مجلس التعاون الخليجي؟

- منظمة سياسية اقتصادية تضم ست دول عربية خليجية أنشأت عام 1981م.

خمسة وعشرون عاماً من التميز

س / أكمل الفراغات التالية:

1. أعلن قيام مجلس التعاون الخليجي في ٢٥ مايو لعام. (١٩٨١م).
2. المدينة التي أعلن منها قيام مجلس التعاون الخليجي هي (أبو ظبي).
3. عدد الدول التي يضمها مجلس التعاون الخليجي. (ست دول).
4. المقر الرئيس لمجلس التعاون الخليجي هو مدينة. (الرياض).

س / ما هي الصفات المشتركة التي ساعدت في نشوء هذا المجلس

1. الدين الإسلامي.
2. اللغة العربية.
3. العادات والتقاليد.
4. الهدف المشترك.

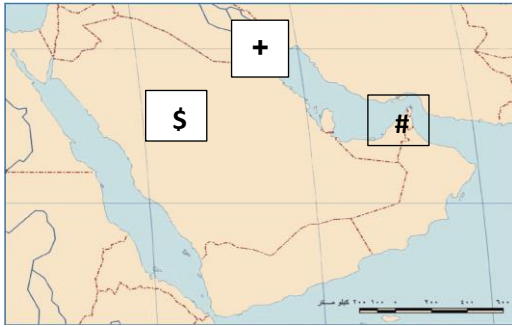


س / أرسم شكلاً توضيحياً يبين الهيكل التنظيمي لمجلس التعاون الخليجي؟



نشاط:

* شاهد الخريطة التالية ثم نفذ المطلوب:



س / حدد على الخريطة ما يلي:

1. الدولة التي أعلن فيها مجلس التعاون الخليجي بالرمز (#)
2. الدولة التي اتخذت موقراً دائماً لمجلس التعاون الخليجي بالرمز (\$)
3. دولة كان حاكمها صاحب المقترح لإنشاء مجلس التعاون الخليجي بالرمز (+)

خمسة وعشرون عاماً من التميز

أهداف وانجازات مجلس التعاون الخليجي



س / ماذا يمثل الشكل المقابل؟

- شعار مجلس التعاون الخليجي.

س / ما العناصر الأساسية التي يتكون منها؟

1. الخريطة السياسية لدول الخليج العربية.
2. شكل سداسي للألوان المشتركة لدول الخليج العربية.
3. البسمة واسم المنظمة (مجلس التعاون لدول الخليج العربية)

س / لاحظ الصورة المقابلة ثم أجب عن التالي:

1. ما أسم التنظيم السياسي الذي تمثله الصورة المقابلة؟
- مجلس التعاون لدول الخليج العربية.
2. سم المكان والزمان الذي عقدت فيه قمة الخليج الذي تمثله الصور؟
الصورة الأولى: عقدت في الكويت عام (2013م)
الصورة الثانية: قمة جدة التشاورية عام (2016م).



س / شاهد الصورة المقابلة ثم أجب:



1. من صاحب الصورة؟ وما دورة في إنشاء مجلس التعاون الخليجي؟

- الشيخ جابر الأحمد الجابر الصباح.

دوره في إنشاء مجلس التعاون الخليجي: وجه دعوة عام 1976م إلى إنشاء
بهدف تحقيق التعاون في جميع المجالات، وإيجاد نوع من الاتحاد على أسس

2. أكتب نبذة عن سيرة المغفور له جابر الأحمد الجابر الصباح؟

- ولد (٢٩ مايو ١٩٢٦م، وتوفي ١٥ يناير ٢٠٠٦م.

- الحاكم (١٣ للكويت)، والحاكم (٣ بعد الاستقلال).

- أصدر أول عملة في الكويت تحمل توقيعه.

- تولى عدة مناصب كان من أهمها: (مسؤولاً على منطقة الأحمدية، رئيس دائرة المال والأموال

العامة، وزيراً للمالية والصناعة، ببيع ولياً للعهد في مجلس الأمة).

- في ١٩٦٧م أصبح حاكماً عرفياً للكويت.

- تولى حكم الكويت في ٣١ ديسمبر ١٩٧٧م بعد وفاة الشيخ صباح السالم.

- في عهده قام النظام العراقي بغزو الكويت ٢ / ٨ / ١٩٩٠. وتم التحرير في ١٩٩١م.

س / شاهد الصورة المقابلة ثم أجب:



القمة السابعة والعشرون بالرياض ١٠ / ١٢ / ٢٠٠٦
(قمة الشيخ جابر الأحمد الصباح رحمه الله)

1. ماذا تمثل الشخصيات الظاهرة في الصورة المقابلة؟

- قادة مجلس التعاون لدول الخليج العربية.

2. أكمل البيانات التالية:

- أسم القمة: قمة الشيخ جابر الأحمد الجابر الصباح.

- مكانها وتاريخها: الرياض (10 / 12 / 2006م).

- عدد الدول المشتركة بها: ست دول.

3. لماذا سميت القمة باسم هذه الشخصية؟

- نظراً لذكرى رحيل الشيخ جابر الأحمد الجابر الصباح



س / ما أهم إنجازات مجلس التعاون لدول الخليج العربية؟

1. إقامة الاتحاد الجمركي.
2. انطلاق السوق الخليجي المشترك في يناير ٢٠٠٨م.
3. التنسيق في المجال السياسي في المحافل الدولية لكل القضايا.
4. وثيقة التطوير الشامل للتعليم.
5. اتفاقية الدفاع المشترك، وتعزيز قوة درع الجزيرة.
6. إعلان البيئة البحرية في الخليج العربي منطقة بحرية خاصة.
7. صد العدوان العراقي ودحره وطرده، وتحرير دولة الكويت.
8. السياسة الزراعية المشتركة.

س / صنف الانجازات السابقة بوضع الرقم حسب الجدول التالي:

الإنجازات الاقتصادية	الإنجازات الثقافية	الإنجازات السياسية	الإنجازات العسكرية
8 ، 2 ، 1	4	6 ، 3	7 ، 5

نشاط:

س / شاهد الخريطة السابقة ثم نفذ المطلوب:



1. ارسم اتجاه الشمال في أعلى الخريطة.
2. اكتب أسماء دول مجلس التعاون الخليجي في مكانها الصحيح؟
3. ما وسائل النقل التي يمكن أن تستخدمها إذا أردت السفر إلى سلطنة عمان؟
- وسائل النقل (البري، البحري، الجوي).



مدرسة التميز النموذجية
(ابتدائي - متوسط - ثانوي)
الجهاز الفني التربوي

منصات التميز التعليمية

لزيارة منصة التميز التعليمية في اليوتيوب امسح الباركود التالي :



لزيارة منصة التميز التعليمية في تليجرام امسح الباركود الخاص بقناة كل فصل مما يلي :



الصف الرابع



الصف الثالث



الصف الثاني



الصف الأول



الصف التاسع



الصف الثامن



الصف السابع



الصف السادس



الصف الخامس



الصف الثاني عشر
أدبي



الصف الثاني عشر
علمي



الصف الحادي عشر
علمي



الصف الحادي عشر
أدبي



الصف العاشر



لزيارة صفحتنا في تويتر

لزيارة صفحتنا في الإنستغرام

عنواننا : خيطان - ق ٤ - ش ١٠٠