

تم تحميل هذا الملف من موقع المناهج الكويتية



مدرسة التميز النموذجية

الملف بنك أسئلة مدرسة التميز النموذجية

موقع المناهج ← المناهج الكويتية ← الصف السابع ← اجتماعيات ← الفصل الأول

روابط مواقع التواصل الاجتماعي بحسب الصف السابع



روابط مواد الصف السابع على تلغرام

[الرياضيات](#)

[اللغة الانجليزية](#)

[اللغة العربية](#)

[التربية الاسلامية](#)

المزيد من الملفات بحسب الصف السابع والمادة اجتماعيات في الفصل الأول

كتاب الطالب في مادة الاجتماعيات للعام الدراسي 2018	1
حل الوحدة الاولى في مادة الاجتماعيات	2
تلخيص رائع في مادة الاجتماعيات	3
حل الوحدة الثانية في مادة الاجتماعيات	4
تلخيص ممتاز في مادة الاجتماعيات	5

7



مدرسة التميز النموذجية

(ابتدائي - متوسط - ثانوي)

بنك الأسئلة

الاجتماعيات

الصف السابع



خمسة وعشرون عاماً من التميز

2025 / 2024
الفصل الدراسي الأول



الاجتماعيات



السؤال الأول : اذكر المصطلح العلمي:-

- ١- مجرى مائي صناعي ضيق يشق لأغراض الري أو النقل. (.....)
- ٢- ممر مائي ضيق يصل بين مسطحين مائيين . (.....)
- ٣- هو الموقع ذو المكانة المهمة بين دول لعالم. (.....)
- ٤- هي المياه التي توجد في باطن الأرض . (.....)
- ٥- هو الموقع بالنسبة لليابس والماء . (.....)
- ٦- هو كل مرتفع له قمة لا يقل ارتفاعه عن ١٠٠٠ متر. (.....)
- ٧- أرض مرتفعة سطحها مستوي . (.....)
- ٨- مساحة كبيرة من الأرض تتميز باستوائها وقلة ارتفاعها . (.....)
- ٩- هو حالة الجو في مكان ما لفترة زمنية قصيرة . (.....)
- ١٠- هو حالة الجو في مكان ما لفترة زمنية طويلة . (.....)
- ١١- هو النبات الذي ينمو تلقائياً دون تدخل الإنسان . (.....)
- ١٢- هو وزن الهواء فوق أي مكان . (.....)

السؤال الثاني : صحح ما تحته خط:-

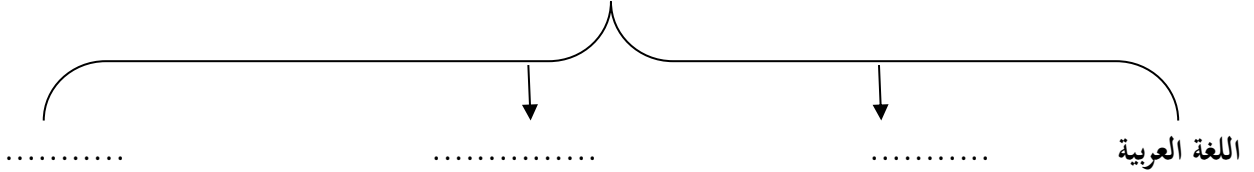
- ١- الفاصل البحري بين الجناح الآسيوي والجناح الأفريقي للوطن العربي يسمى البحر المتوسط. (.....)
- ٢- تتصل قارة آسيا بقارة أفريقيا عن طريق قناة السويس. (.....)
- ٣- الدولة العربية التي تتكون من مجموعة جزر تسمى جيبوتي. (.....)
- ٤- العام الميلادي الذي انضمت فيه جزر القمر إلى جامعة الدول العربية هو ١٩٩٥ . (.....)
- ٥- عدد دول الوطن العربي تبلغ ٢٤ . (.....)
- ٦- تبلغ مساحة الوطن العربي حوالي ١٦ مليون كم ٢ . (.....)
- ٧- دائرة العرض الرئيسية في العالم تسمى مدار السرطان. (.....)
- ٨- خط الطول الرئيسي في العالم يسمى خط الاستواء. (.....)
- ٩- عدد دول الجناح الأفريقي يبلغ ٢٠ دولة. (.....)
- ١٠- عدد دول الجناح الآسيوي يبلغ ٢٢ دولة. (.....)
- ١١- المسطح المائي الذي يحد الوطن العربي من الغرب يسمى البحر الهندي. (.....)
- ١٢- الدولة العربية التي يوجد بها الجبل الأخضر تسمى الجزائر. (.....)
- ١٣- الدولة العربية التي يوجد بها جبال مرة تسمى السعودية. (.....)
- ١٤- الدولة العربية التي يوجد بها جبال الأحجار تسمى ليبيا. (.....)



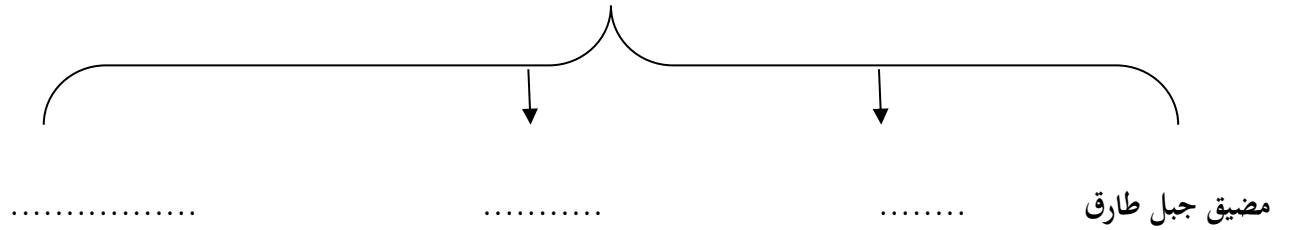
- ١٥- الدولة العربية التي يوجد بها جبال شيخا دار تسمى الأردن (.....)
- ١٦- المياه التي توجد في باطن الأرض تسمى المياه العذبة . (.....)
- ١٧- أكثر الأشكال التضاريسية انتشاراً في الوطن العربي هي الجبال . (.....)
- ١٨- الدولة التي توجد بها هضبة الشطوط تسمى المغرب . (.....)
- ١٩- الدولة التي يوجد بها هضبة نجد تسمى السودان . (.....)
- ٢٠- الرياح المحلية التي تهب على مصر تعرف باسم رياح السموم . (.....)
- ٢١- الاسم الذي يطلق على حشائش الأستبس في بلاد المغرب هو البراري . (.....)
- ٢٢- الدولة التي يوجد بها سهل دجلة والفرات تسمى الأردن . (.....)
- ٢٣- أكبر هضبة عربية تقع في الجناح الأفريقي تسمى هضبة شبه الجزيرة العربية . (.....)

السؤال الثالث : أكمل المخططات السهمية التالية

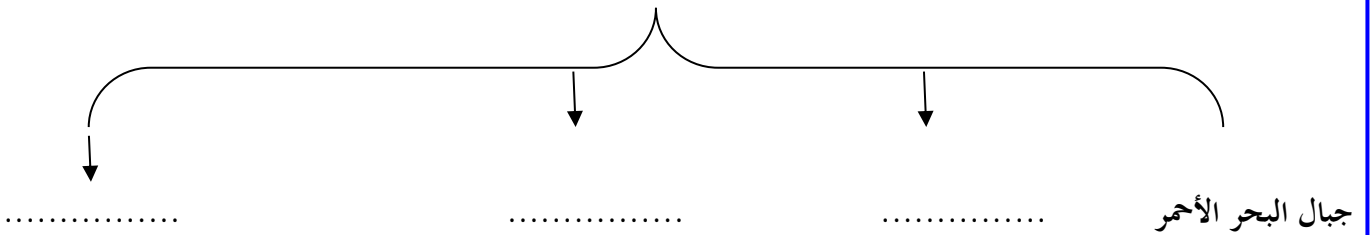
١- مقومات الهوية العربية



٢- أهم المضائق والقنوات في الوطن العربي



٣- جبال الوطن العربي





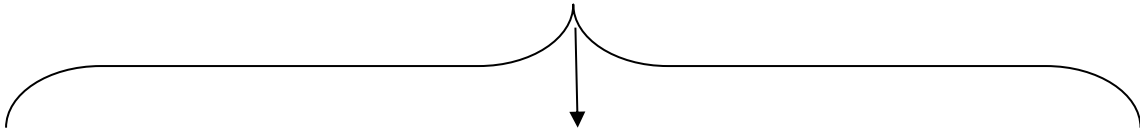
٤- الهضاب في الوطن العربي



.....

هضبة شبه الجزيرة العربية

٥- أنواع النبات الطبيعي في الوطن العربي

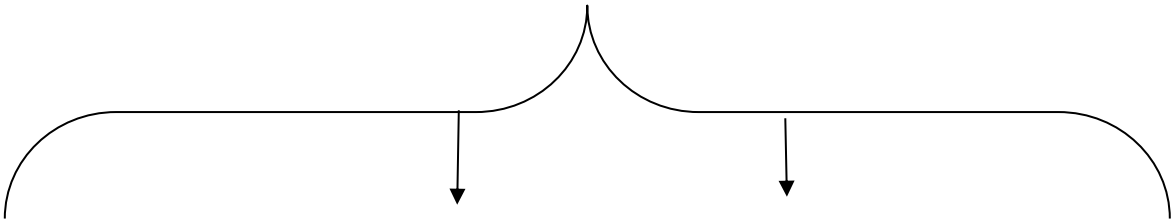


.....

.....

الغابات

٦- عناصر المناخ



.....

.....

.....

درجة الحرارة

السؤال الرابع : صنف ما يلي-

١- الهضاب التالية حسب الجدول:

هضبة بادية الشام - هضبة الشطوط - هضبة نجد - هضبة الصحراء الكبرى

الهضاب في الجناح الأفريقي	الهضاب في الجناح الآسيوي

٢- صنف السهول التالية حسب الجدول

سهول نهر النيل - سهول الخليج العربي - سهول نهر دجلة والفرات - سهول نهر أم الربيع

السهول في الجناح الأفريقي	السهول في الجناح الآسيوي

٣- صنف أنواع الرياح حسب الدولة التي تهب عليها

رياح الهبوب - رياح الطوز - رياح الخماسين - رياح السموم

السودان	الكويت	السعودية	مصر

**السؤال الخامس : فرق بين كل مما يلي:-**

١- خطوط ودوائر العرض حسب الجدول

أوجه الفرق	خطوط الطول	دوائر العرض
التعريف		
العدد		
الخط الرئيسي		
الأهمية		

(٢) فرق بين السهول الفيضية والسهول الساحلية حسب الجدول

أوجه الفرق	السهول الفيضية	السهول الساحلية
التعريف		
أمثلة		

٣- فرق بين الغابات المدارية والغابات المعتدلة حسب الجدول

أوجه الفرق	الغابات المدارية	الغابات المعتدلة
الموقع المكاني		
أهم أشجارها		



٤- فرق بين حشائش السافانا والأستبس حسب الجدول

أوجه الفرق	السافانا	الأستبس
الحجم		
الموقع المكاني		
الحيوانات التي تربي عليها		

السؤال السادس :- اكتب فيما يلي:-

١- عدد الأهمية الجغرافية للوطن العربي

أ-

ب-

٢- عدد الأهمية الاقتصادية للوطن العربي

أ:

ب:

٣- عدد مقومات الهوية العربية

أ:

ب:

٤- عدد العوامل المؤثرة في المناخ في الوطن العربي

أ: ب

ج: د

٥- عدد العوامل المؤثرة في تنوع النبات الطبيعي في الوطن العربي

أ:

ب:

٦- أذكر طرق النباتات الصحراوية في التغلب على الجفاف

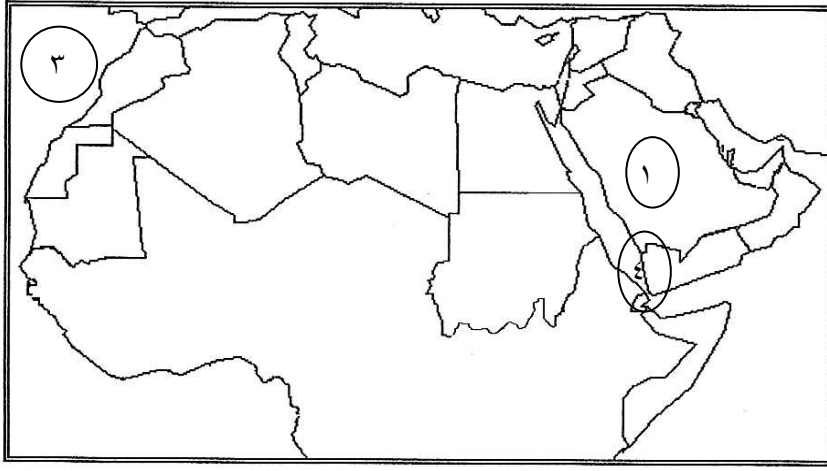
أ:

ب:



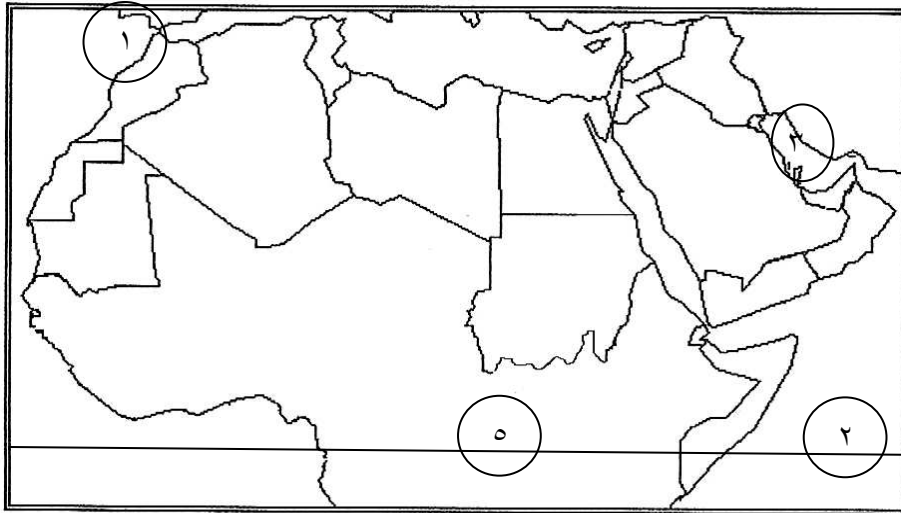
السؤال السابع : أمامك خريطة للوطن العربي اجب عما يلي :-
الشكل الأول

- ١- ظلل جبال عسير بالرمز #
- ٢- مضيق باب المندب يمثل الرقم.....
- ٣- دولة السعودية تمثل على الخريطة الرقم.....
- ٤- المحيط الأطلسي يمثل على الخريطة الرقم.....
- ٥- ارسم بالمسطرة خط جرينتش



الشكل الثاني

- ١- الخليج العربي يمثل على الخريطة الرقم.....
- ٢- المحيط الهندي يمثل على الخريطة الرقم.....
- ٣- الرقم (٥) يمثل دائرة عرض تسمى.....
- ٤- ظلل على الخريطة جبال الأحجار بالرمز \\\
- ٥- مضيق جبل طارق يمثل على الخريطة الرقم.....





السؤال الثامن : علل لما يأتي

١- تنافس الدول الاستعمارية في الاستيلاء على الوطن العربي منذ القرن ١٨ م

٢- الأهمية الحضارية والثقافية للوطن العربي

٣- المدن الساحلية أكثر اعتدالاً صيفاً وأدفى شتاءً

س٩: أكمل العبارات التالية بكلمة مناسبة مما درست :

١. قامت الحضارة الإسلامية على
٢. أهم مبادئ الإسلام
٣. عرفت الأبجدية في بلاد اليمن وكانت تتألف من حرف
٤. موقع حضارة دلمون الخليج العربي.
٥. أهم المناطق التي تبادلت معها اليمن التجارة و و
٦. كانت الأبجدية في بلاد اليمن تكتب بالخط
٧. يحد حضارة جنوب غرب الجزيرة العربية من الغرب بحر يسمى
٨. عرفت بأرض مقدسة عند الشعوب القديمة
٩. أهم معابد دلمون
١٠. قامت دولة معين من عام إلى عام
١١. عاصمة دولة معين
١٢. قامت دولة سبأ من عام إلى عام
١٣. أهم مدن دولة سبأ
١٤. أشهر ملوك سبأ
١٥. قامت دولة حمير من عام إلى عام
١٦. أهم مدن دولة حمير
١٧. أشهر سدود اليمن (جنوب غرب الجزيرة العربية) سد
١٨. أشهر المنتجات الزراعية باليمن و و
١٩. تقع شبه الجزيرة العربية في آسيا.



٢٠. تقع شبه الجزيرة العربية ضمن المناخ
٢١. أهم واردات بلاد الرافدين و و
٢٢. أهم صادرات بلاد الرافدين و و
٢٣. اشتهرت بلاد الرافدين بصناعة و
٢٤. العلوم التي برعت فيها بلاد الرافدين هي و و
٢٥. أهم الفنون في بلاد الرافدين و و
٢٦. يعد عصر الملك البابلي..... أهم العصور في تاريخ العراق القديم
٢٧. اعتمدت شريعة حمورابي على مبدأ.....
٢٨. أهم المحاصيل في مصر القديمة..... و.....
٢٩. أهم الصناعات التي برع فيها المصري القديم..... و.....
٣٠. أهم المعتقدات الدينية عند المصريين الاعتقاد في.....
٣١. تُستخدم حشائش الحلفا في صناعة..... و..... و.....
٣٢. تنقسم حشائش السافانا حسب كمية المطر إلى و..... و.....
٣٣. من أهم أنواع حيوانات الصحراء في الوطن العربي..... و..... و.....
٣٤. أهم الطيور في صحراء الوطن العربي و..... و.....

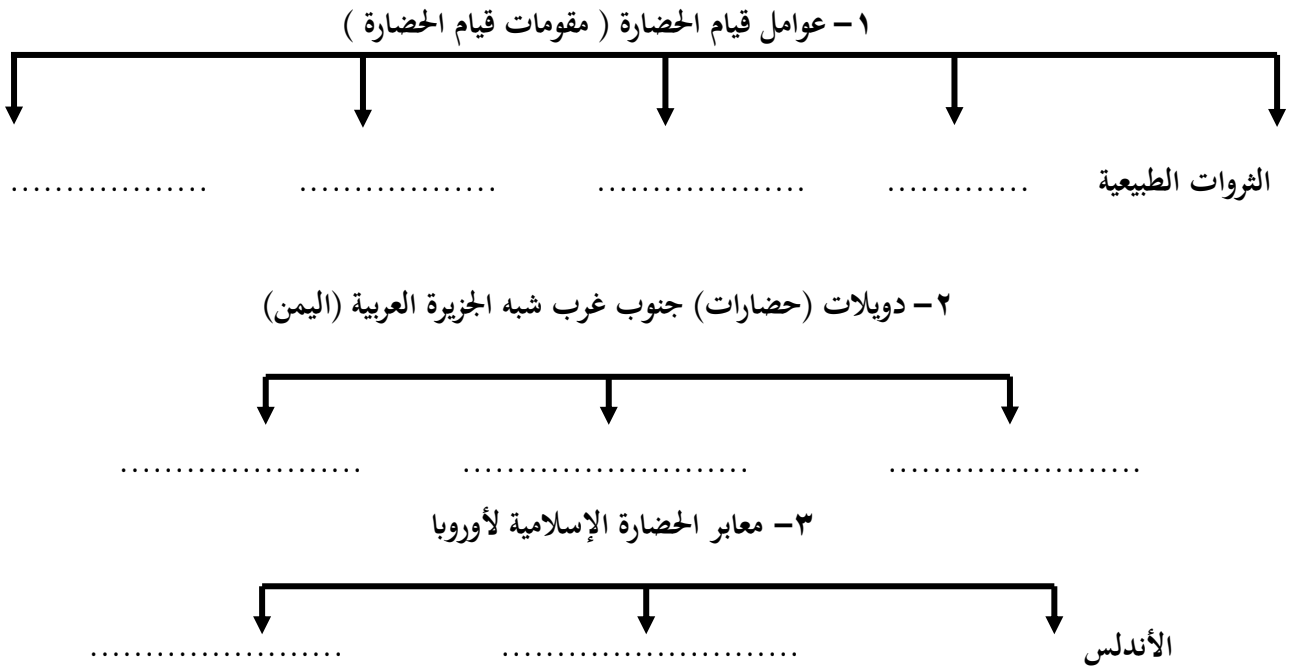
س١٠: صحح ما تحته خط فيما يلي :

١. () الحضارة الأكثر أثراً بين الحضارات العربية هي الحضارة البابلية
٢. () تمثال أبو الهول يمثل أسد جالس له رأس فيل
٣. () تعرف الحشائش المعتدلة في المغرب باسم المانجو
٤. () أشهر المعالم الدينية في فلسطين هي المسجد الكبير
٥. () يقع الجبل الأخضر في دولتين هما عمان و موريتانيا
٦. () اخترع السومريون كتابة عرفت باسم الهيروغليفية
٧. () الحرفة الرئيسية عند السومريون و البابليون هي صيد السمك
٨. () تعرف الحشائش المعتدلة باسم الموز
٩. () تعرف الحشائش الحارة باسم النخيل
١٠. () أطلق على البحرين قديماً اسم القرين



١١. () عرفت الكتابة المصرية القديمة باسم المسمارية
١٢. () يطلق اسم بلاد الرافدين (ما بين النهرين) على سوريا
١٣. () احتوت شريعة حمورابي على ٧٥٠ مادة
١٤. () أسياذ التجارة العربية هم العراقيون
١٥. () أشهر المعالم الدينية في المملكة العربية السعودية المسجد الأقصى

س ١١ : أكمل المخطط السهمي :



س ١٢ قارن بين الديانات السماوية الثلاثة من حيث ما هو موضح بالجدول :

وجه المقارنة	اليهودية	المسيحية	الإسلام
اسم النبي			
اسم الكتاب السماوي			

س ١٣ أكتب فيما يلي :

١ - العوامل التي ساعدت على قيام الحضارة المصرية القديمة ؟

١ - - ٢ -

٣ - - ٤ -



٢ - العلوم و الفنون التي برع فيها المصريون القدماء؟

٣- مميزات بلاد الرافدين ؟

١ - ٢ - ٣

٤- أهم الحضارات التي قامت في بلاد الرافدين :

١ - ٢ - ٣ - ٤ - ٥

٥- عوامل قيام الحضارة في بلاد اليمن

١ - ٢ - ٣

٦- الأنشطة الاقتصادية لحضارة دلمون ؟

س ٤ : علل لما يأتي :

١- قيام العديد من الحضارات بالوطن العربي ؟

٢- حرص المصريين القدامى على تحنيط جثث الموتى

٣- عرف سكان بلاد الرافدين الزراعة ؟

١ - ٢

٤ - عدم استقرار و تنقل سكان وسط شبه الجزيرة العربية ؟

٥- عاشت أوروبا عصور ظلام أثناء ازدهار الحضارة الإسلامية ؟

٦- ما النتائج المترتبة على اعتقاد المصري القديم في البعث و الخلود ؟

١- ٢ - ٣

س ٥ : عرف ما يأتي :

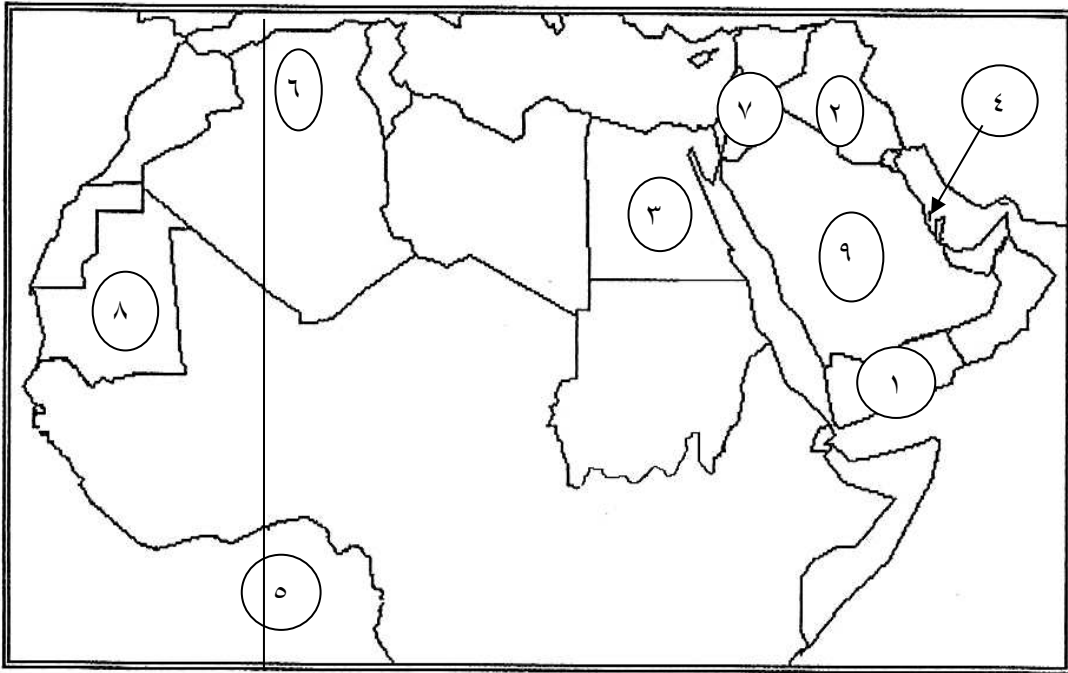
١ - النهر :

٢ - الأفلاج :



س ١٦ : حدد على الخريطة الظواهر التالية :

١. حضارة
٢. حضارة
٣. الحضارة.....
٤. حضارة
٥. خط
٦. جبال
٧. حضارة
٨. دولة
٩. هضبة.....





إجابة الإجتماعيات (الفصل الدراسي الأول)

إجابة السؤال الأول

- ١- القناة
- ٢- المضيق
- ٣- الموقع الاستراتيجي
- ٤- المياه الجوفية.
- ٥- الموقع النسي
- ٦- الجبل.
- ٧- الهضبة
- ٨- السهل
- ٩- الطقس
- ١٠- المناخ
- ١١- النبات الطبيعي
- ١٢- الضغط الجوي.

إجابة السؤال الثاني :

- ١- (البحر الأحمر)
- ٢- (شبه جزيرة سيناء)
- ٣- (جزر القمر)
- ٤- (١٩٩٣)
- ٥- (٢٢)
- ٦- (١٣,٥٠٠ مليون كم ٢)
- ٧- (خط الاستواء)
- ٨- (خط جرينتش)
- ٩- (١٠)
- ١٠- (١٢)
- ١١- (البحر الأبيض المتوسط)
- ١٢- (ليبيا - عمان)
- ١٣- (السودان)
- ١٤- (الجزائر)
- ١٥- (العراق)
- ١٦- (المياه الجوفية)
- ١٧- (الهضاب)
- ١٨- (الجزائر)
- ١٩- (السعودية)
- ٢٠- (الخمسين)
- ٢١- (الحلفا)

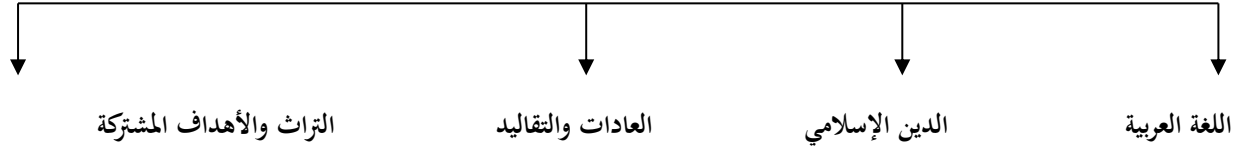


٢٢- (العراق)

٢٣- هضبة أفريقيا الشمالية (الصحراء الكبرى)

إجابة السؤال الثالث

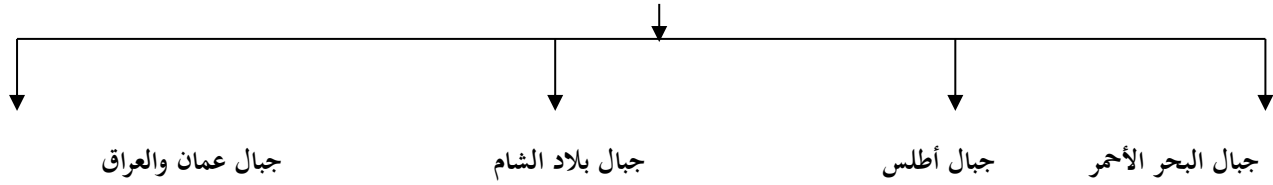
١- مقومات الهوية العربية




٢- أهم المضايق والقنوتات في الوطن العربي



٣- جبال الوطن العربي




٤- الهضاب في الوطن العربي





٥- أنواع النبات الطبيعي في الوطن العربي



٦- عناصر المناخ

**إجابة السؤال الرابع :**

١- الهضاب التالية حسب الجدول

هضبة بادية الشام - هضبة الشطوط - هضبة نجد - هضبة الصحراء الكبرى

الهضاب في الجناح الآسيوي	الهضاب في الجناح الأفريقي
هضبة بادية الشام	هضبة الشطوط
هضبة نجد	هضبة الصحراء الكبرى

٢- صنف السهول التالية حسب الجدول

سهول نهر النيل - سهول الخليج العربي - سهول نهر دجلة والفرات - سهول نهر أم الربيع

السهول في الجناح الآسيوي	السهول في الجناح الأفريقي
سهول الخليج العربي	سهول نهر النيل
سهول نهر دجلة والفرات	سهول نهر أم الربيع

٣- صنف أنواع الرياح حسب الدولة التي تهب عليها

رياح الهبوب - رياح الطوز - رياح الخماسين - رياح السموم

مصر	السعودية	الكويت	السودان
رياح الخماسين	رياح السموم	رياح الطوز	رياح الهبوب



إجابة السؤال الخامس :

١- خطوط ودوائر العرض حسب الجدول

دوائر العرض	خطوط الطول	أوجه الفرق
خطوط وهمية قسم الكرة الأرضية لقسمين جنوبي وشمال	خطوط وهمية تقسم الكرة الأرضية لقسمين شرقي وغربي	التعريف
١٨٠	٣٦٠	العدد
خط الاستواء	خط جرينتش	الخط الرئيسي
معرفة أحوال المناخ	معرفة التوقيت الزمني	الأهمية

(٢) فرق بين السهول الفيضية والسهول الساحلية حسب الجدول:

السهول الساحلية	السهول الفيضية	أوجه الفرق
الأراضي المنبسطة التي تجاور سواحل البحار والمحيطات	الأراضي المنخفضة التي تكونت من التربة التي حملتها مياه الأنهار	التعريف
سهول الخليج العربي سهول البحر المتوسط الغربية سهول المحيط الهندي	سهول نهر دجلة والفرات سهول نهر النيل سهول نهر الأردن	أمثلة

٣ - فرق بين الغابات المدارية والغابات المعتدلة حسب الجدول

الغابات المعتدلة	الغابات المدارية	أوجه الفرق
جبال أطلس - بلاد الشام مرتفعات شمال وشمال غرب العراق	مرتفعات عمان جنوب الصومال جنوب غرب السودان	الموقع المكاني
الأرز - العرعر - الصنوبر الحلبي - الفلين - البلوط - الزيتون	الساج - المهاوجني - التاك الأبنوس - الاثل - السنط - السدر - التمر الهندي	أهم أشجارها



٤- فرق بين حشائش السافانا والأستبس حسب الجدول

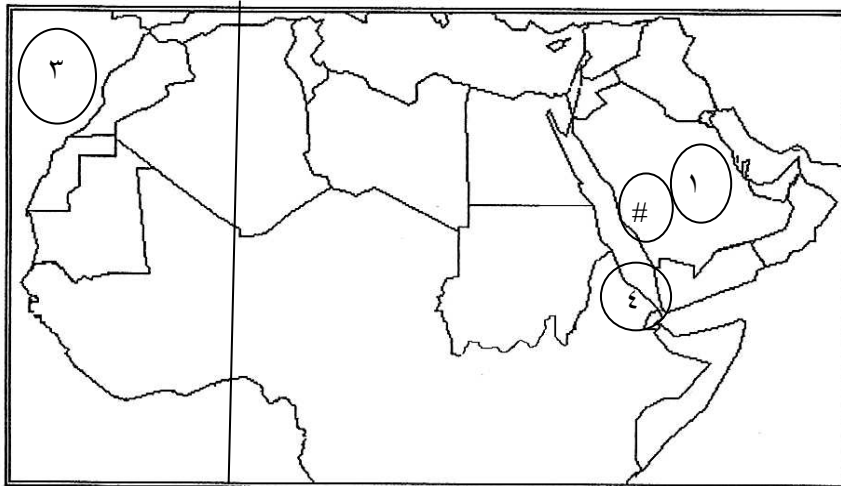
أوجه الفرق	السافانا	الأستبس
الحجم	طويلة - متوسطة - قصيرة	قصيرة
الموقع المكاني	السودان - الصومال - وجيبوتي - موريتانيا - اليمن	المغرب - العراق - تونس - الجزائر - ليبيا - سوريا
الحيوانات التي تربي عليها	أماشية	أغنام - ماعز - الخيول - الحمير

إجابة السؤال السادس :-

- ١- أ- يتميز بموقع استراتيجي مهم. ب- يطل على مسطحات مائية هامة
- ٢- أ- منطقة عبور لحركة الملاحة التجارية ب- ظهور النفط بكميات كبيرة
- ٣- أ- اللغة - الدين ب- العادات والتقاليد - التراث و الأهداف المشتركة
- ٤- أ- الموقع بالنسبة لدوائر العرض. ب التضاريس ج. الرياح د- القرب والبعد عن المسطحات المائية.
- ٥- عدد العوامل المؤثرة في تنوع النبات الطبيعي في الوطن العربي
 - أ- المناخ ب- نوع التربة
 - ٦- أ- جذور طويلة ب- تخزين الماء ج- أوراقها صغيرة .

إجابة السؤال السابع :الشكل الأول

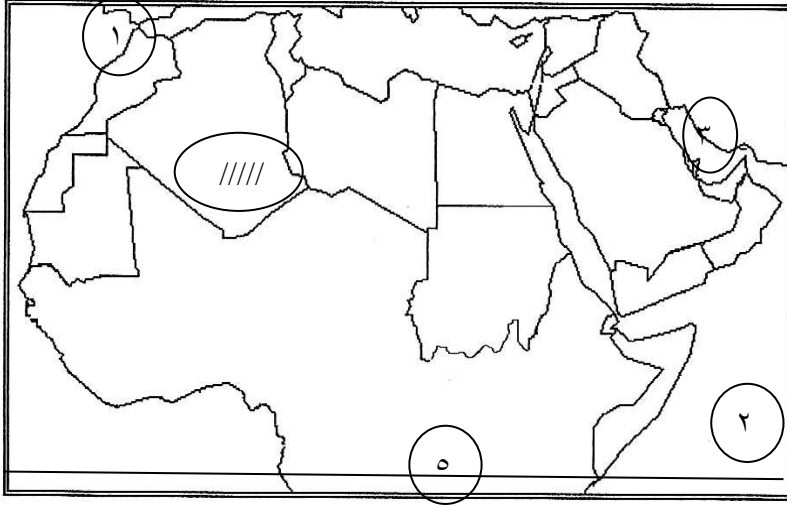
- ١- ظلل جبال البحر الأحمر في آسيا بالرمز #
- ٢- مضيّق باب المندب يمثل الرقم.....٤.....
- ٣- دولة السعودية تمثل علي الخريطة الرقم.....١.....
- ٤- المحيط الأطلسي يمثل علي الخريطة الرقم ٣
- ٥- ارسم بالمسطرة خط جرينتش.





الشكل الثاني

- ١- الخليج العربي يمثل علي الخريطة الرقم...٣..
- ٢- المحيط الهندي يمثل علي الخريطة الرقم...٢....
- ٣- الرقم (٥) يمثل دائرة عرض تسمى خط الاستواء
- ٤- ظلل علي الخريطة جبال الأحجار بالرمز \\\
- ٥- مضيق جبل طارق يمثل علي الخريطة الرقم...١..



إجابة السؤال الثامن :

- ١ نظراً لأهمية الموقع الجغرافي
- ٢ نزلت علي أرضه الديانات السماوية - قامت علي أرضه العديد الحضارات.
- ٣ بسبب القرب من المسطحات المائية.

إجابة السؤال التاسع

١. تعاليم الإسلام
٢. الشورى
٣. ٢٩
٤. وسط
٥. بلاد الشام وبلاد الرافدين وبلاد مصر القديمة
٦. بالخط المسند
٧. البحر الأحمر
٨. دلمون
٩. باربار
١٠. ١٣٠٠ إلى عام ٦٥٠ ق.م
١١. قرناو



١٢. ٩٥٠ - ١١٥ ق. م.
١٣. مأرب
١٤. الملكة بلقيس
١٥. ١١٥ ق. م إلى عام ٥٢٥ م
١٦. ريدان
١٧. مأرب
١٨. الموز واللبنان و القرفة
١٩. جنوب غرب .
٢٠. الصحراوي الحار
٢١. المعادن والأحجار والأخشاب
٢٢. المنتجات الزراعية والمنسوجات الصوفية
٢٣. الحلبي والأواني الفخارية
٢٤. الهندسة والحساب والفلك والطب
٢٥. النحت والبناء والرسم
٢٦. حمورابي
٢٧. السن بالسن والعين بالعين
٢٨. القمح والفواكه والكتان
٢٩. الأواني الفخارية و الورق والسفن
٣٠. البعث والخلود
٣١. الورق والحبال والحصر
٣٢. طويلة ومتوسطة وقصيرة
٣٣. الإبل و الماعز و الأغنام
- ٣٤ - الصقور والبوم والحباري

اجابة السؤال العاشر

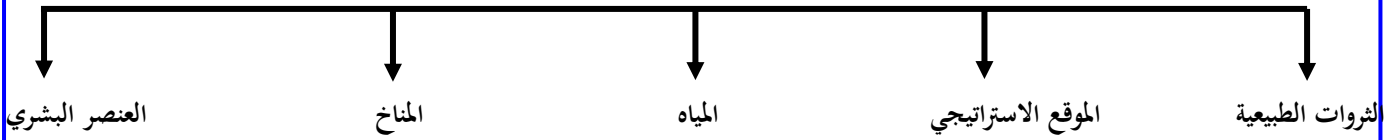
١. (المصرية القديمة)
٢. (انسان)
٣. (الحلفا)
٤. (الأقصى)
٥. (ليبيا)
٦. (المسمارية)
٧. (الزراعة)
٨. (الاستيس)



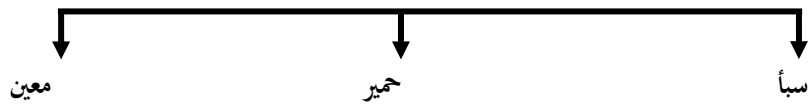
٩. (السافانا)
 ١٠. (آوال)
 ١١. (الهيروغليفية)
 ١٢. (العراق)
 ١٣. (مادة ٢٨٢)
 ١٤. (اليمينون)
 ١٥. (المسجد الحرام)

اجابة السؤال الحادي عشر : أكمل المخطط السهمي :

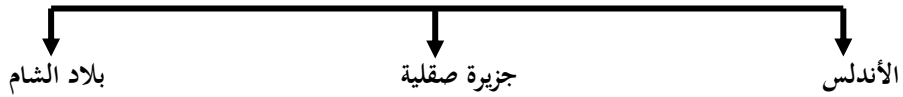
١ - عوامل قيام الحضارة (مقومات قيام الحضارة)



٢ - دويلات (حضارات) جنوب غرب شبه الجزيرة العربية (اليمن)



٣- معابر الحضارة الإسلامية لأوروبا



اجابة السؤال الثاني عشر : قارن بين الديانات السماوية الثلاثة من حيث ما هو موضح بالجدول :

وجه المقارنة	اليهودية	المسيحية	الإسلام
اسم النبي	موسى	عيسى	محمد
اسم الكتاب السماوي	التوراة	الإنجيل	القرآن الكريم



إجابة السؤال الثالث عشر :

- ١ - ١ . الموقع الاستراتيجي ٢ - المياه ٣ - المناخ ٤ - العنصر البشري
- ٢ - الفلك - الطب - الكيمياء - التحنيط - البناء - الكتابة
- ٣ - ١ - الموقع الاستراتيجي ٢ - وفرة المياه ٣ - خصوبة التربة
- ٤ - ١ - السومريون ٢ - الأكاديون ٣ - البابليون ٤ - الآشوريون ٥ - الكلدانيون
- ٥ - ١ - الموقع الاستراتيجي ٢ - وفرة المياه ٣ - خصوبة التربة
- ٦ - الزراعة - صيد الأسماك - الغوص على اللؤلؤ

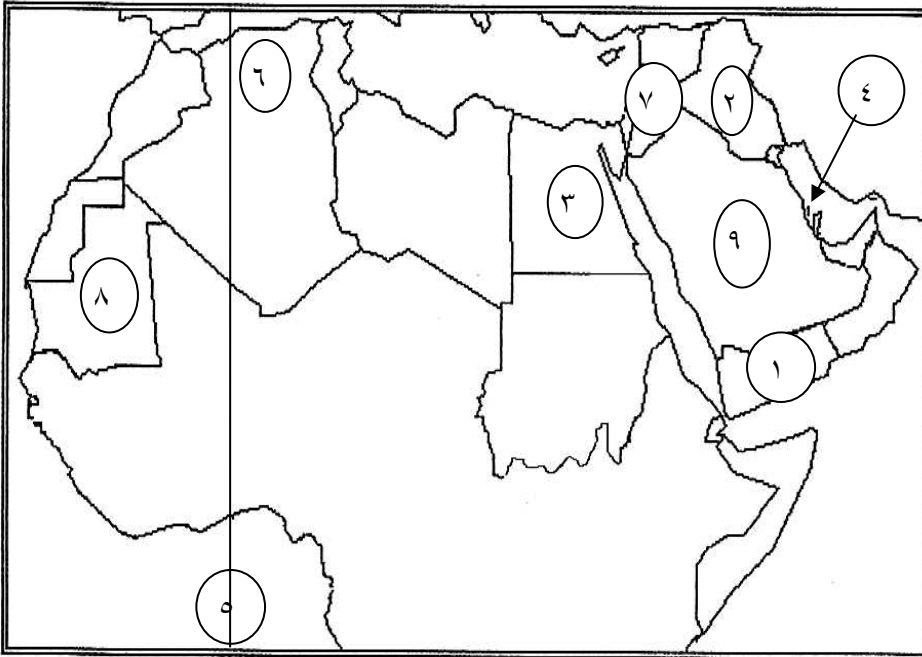
إجابة السؤال الرابع عشر :

- ١ بسبب توفر عوامل قيام الحضارة بالوطن العربي (خصوبة التربة - نهر النيل - اعتدال المناخ - امتداد الصحراء) .
- ٢ لاعتقادهم بالبعث والخلود
- ٣ ١ - خصوبة التربة ٢ - ووفرة المياه
- ٤ بسبب قسوة البيئة الصحراوية وقلة موارد المياه
- ٥ بسبب سيطرة الكنيسة على عقول الناس آنذاك
- ٦ ١ - تحنيط الموتى ٢ - الاهتمام ببناء القبور ٣ - بناء المعابد للآلهة

إجابة السؤال الخامس عشر :

- ١ . مجرى مائي عذب ينحدر على الدوام لينتهي في بحر أو نهر أكبر منه
- ٢ . مجرى مائي صغير في الأرض

إجابة السؤال السادس عشر ؟



- ١ . حضارة بلاد اليمن
- ٢ . حضارة بلاد الرافدين
- ٣ . الحضارة المصرية
- ٤ . حضارة دلمون
- ٥ . خط جرينتش
- ٦ . جبال أطلس
- ٧ . حضارة بلاد الشام
- ٨ . دولة موريتانيا
- ٩ . هضبة نجد