

تم تحميل هذا الملف من موقع ملفات الكويت التعليمية



[com.kwedufiles.www//:https](https://www.kwedufiles.com)

*للحصول على أوراق عمل لجميع الصفوف وجميع المواد اضغط هنا

* للحصول على أوراق عمل لجميع مواد الصف الثاني اضغط هنا

<https://kwedufiles.com/2>

* للحصول على جميع أوراق الصف الثاني في مادة رياضيات ولجميع الفصول, اضغط هنا

<https://kwedufiles.com/2math>

* للحصول على أوراق عمل لجميع مواد الصف الثاني في مادة رياضيات الخاصة بـ الفصل الثاني اضغط هنا

<https://www.kwedufiles.com/2math2>

* لتحميل كتب جميع المواد في جميع الفصول للـ الصف الثاني اضغط هنا

<https://www.kwedufiles.com/grade2>

[bot_kwlinks/me.t//:https](https://t.me/bot_kwlinks)

للحصول على جميع روابط الصفوف على تلغرام وفيسبوك من قنوات وصفحات: اضغط هنا

الروابط التالية هي روابط الصف الثاني على مواقع التواصل الاجتماعي

مجموعة الفيسبوك

صفحة الفيسبوك

مجموعة التلغرام

بوت التلغرام

قناة التلغرام

رياضيات على التلغرام

ورقة عمل: الأشكال المستوية

الاسم :

الصف : الثاني

التاريخ

١٤٤٢ / / هـ

أَصِلْ بَيْنَ النَّقَاطِ لِأَرْسَمِ الشَّكْلَ، ثُمَّ أَكْتُبْ اسْمَهُ:




٢



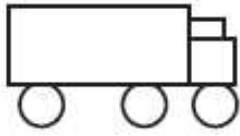
١



٤



٣

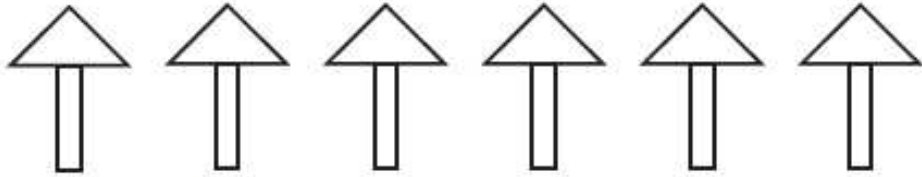


٥ رَسَمْتَ سَامِيَةَ الشَّكْلِ الْمُجَاوِرَ.

مَا عَدَدُ كُلِّ مِنَ الدَّوَائِرِ وَالْمُسْتَطِيلَاتِ فِي هَذَا الرَّسْمِ؟

دَوَائِرَ

مُسْتَطِيلَاتٍ



٦

اسْتَعْمَلْتُ سَعَادُ أَشْكَالًا مُخْتَلِفَةً فِي الرَّسْمِ. مَا عَدَدُ كُلِّ مِنَ الْمُسْتَطِيلَاتِ وَالْمَثَلَّاتِ

فِي هَذَا الرَّسْمِ؟

مَثَلَّاتٍ

مُسْتَطِيلَاتٍ