



وزارة التربية

الإدارة العامة لمنطقة الجهراء التعليمية

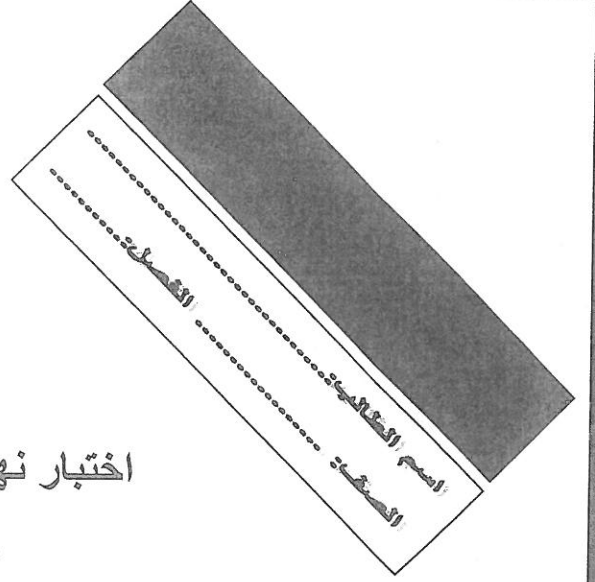


<http://www.ykuwait.net>

TELEGRAM: @ykuwait\_net\_home

اختبار نهاية الفصل الدراسي الثاني

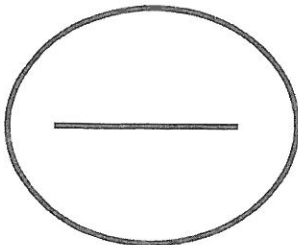
٢٠١٧ / ٢٠١٦



السادس	الصف
الاجتماعيات	المادة

المراجع	المصحح	الدرجة	رقم السؤال
			السؤال الأول
			السؤال الثاني
			السؤال الثالث
			السؤال الرابع
			السؤال الخامس
			السؤال السادس
			السؤال السابع
			السؤال الثامن
			السؤال التاسع
			السؤال العاشر
			المجموع

الدرجة بالحروف : .....



وزارة التربية

مكتب المدير العام  
الإدارة العامة لمنطقة الجهراء التعليمية



وزارة التربية

مكتب المدير العام  
الإدارة العامة لمنطقة الجهراء التعليمية



أجب عن جميع الأسئلة التالية :-

السؤال الأول ويتكون من ( أ - ب - ج - د - هـ - و - ز ) :

( أ ) أكمل العبارات التالية بما يناسبها مما درست :-

- ١- الدولة الخليجية الأعلى في الكثافة السكانية تسمى .....
- ٢- محصول زراعي للمملكة العربية السعودية تجربة رائدة في إنتاجه يسمى .....
- ٣- التلوث الذي يؤثر على طبقة الأوزون يسمى .....
- ٤- القوة العسكرية المشتركة التي تضم جميع دول مجلس التعاون الخليجي تسمى .....
- ٥- العام الذي تم فيه تصدير أول شحنة من النفط الكويتي ..... م .
- ٦- الهجرة العربية التي استقرت في قطر تسمى .....

( ب ) ضع خطاً تحت الخيار الصحيح من بين الخيارات التي تلي كل عبارة :-

١- أحد أهم الحقول النفطية في المملكة العربية السعودية :

- أ- الغوار      ب- مريان      ج- لخوير      د- سترة

٢- الدولة الخليجية التي تقع فيها حضارة دبا :

- أ- الإمارات      ب- عمان      ج- البحرين      د- قطر

٣- عدد الآبار النفطية التي أحرقتها العدوان العراقي في الكويت أثناء الغزو بلغ :

- أ- ٥٣٥ بئراً      ب- ٦٣٧ بئراً      ج- ٧٣٧ بئراً      د- ٨٣٨ بئراً

٤- المدينة الإماراتية التي هاجر إليها القواسم :

- أ- الفجيرة      ب- رأس الخيمة      ج- الشارقة      د- أبو ظبي

٥- العام الذي صدر فيه إعلان الدوحة لقيام السوق الخليجية المشترك :

- أ- ٢٠٠٢ م      ب- ٢٠٠٤ م      ج- ٢٠٠٦ م      د- ٢٠٠٨ م

٦- الممر المائي الذي يربط الخليج العربي بخليج عمان :

- أ- مضيق هرمز      ب- قناة السويس      ج- مضيق جبل طارق      د- مضيق باب المندب

تابع / السؤال الأول :-

ج) صنف أسماء المناطق حسب الجدول التالي لها :

( سهل تهامة - الجبيل - العبدلي - امسيعيد - ليوا - الشعبية )

مناطق زراعية	مناطق صناعية

د) صح ما تحته خط في العبارات التالية :-

- ١- بدأ التنقيب عن النفط في دولة الكويت عام ١٩٣٤م في حقل برقان. ( )
- ٢- أعلى دولة خليجية في نسبة الوافدين وفقاً لإحصاء ٢٠٠٦م قطر. ( )
- ٣- يرى العلماء أن العنف ظاهرة موروثة. ( )
- ٤- معظم الدول الخليجية تعرضت للاستعمار عدا عمان. ( )

هـ) أكتب المفاهيم أو المصطلحات الدالة عليها العبارات التالية :-

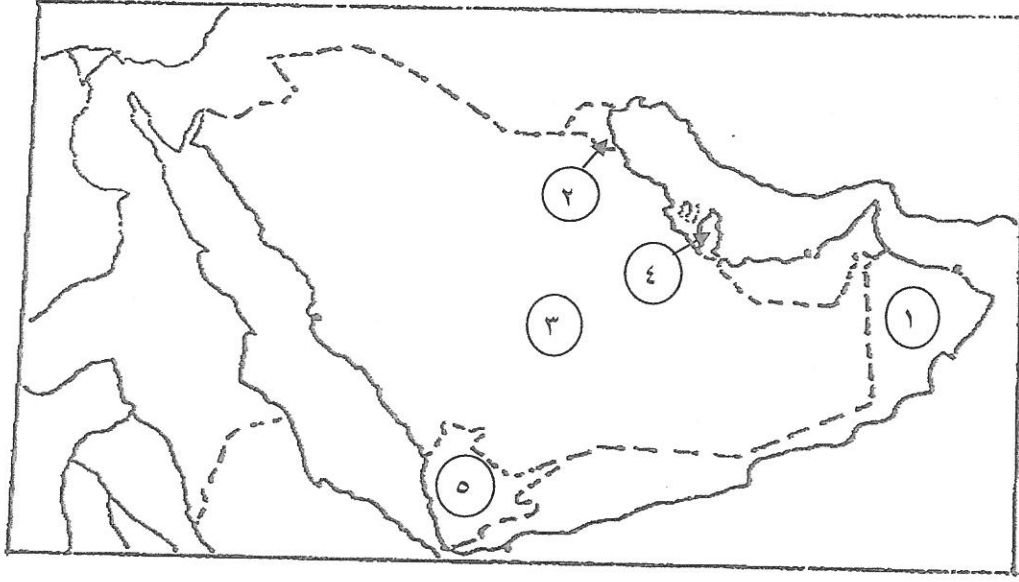
- ١- ( ) مجموعة من العادات والتقاليد والقيم في مجتمع من المجتمعات .
- ٢- ( ) تحويل المواد الخام إلى مواد يمكن الاستفادة منها .
- ٣- ( ) الضرر الذي يصيب عناصر البيئة الأساسية فتتحول إلى عناصر ضارة .
- ٤- ( ) كميات النفط المخزونة في باطن الأرض .

و) اختر للمجموعة ( أ ) ما يرتبط بها من المجموعة ( ب ) بوضع الرقم في المكان المناسب :-

الرقم	المجموعة ( أ )	الرقم المناسب	المجموعة ( ب )
١	تعاون سياسي		توحيد وتطوير المناهج التعليمية
٢	تعاون عسكري		زيادة التبادل التجاري
٣	تعاون اقتصادي		المناورات العسكرية المختلفة
٤	تعاون ثقافي		دورة كأس الخليج لكرة القدم
			إدانة احتلال الجزر الإماراتية الثلاث

تابع / السؤال الأول :-



ز) لاحظ خريطة دول الخليج العربي الصماء التي أمامك ثم أجب عن الأسئلة التي تأتيها :

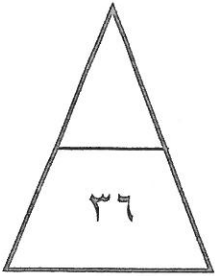


أولاً : اكتب الرقم الدال عليه العبارات التالية :-

- الدولة الخليجية الأكبر مساحة يمثلها على الخريطة الرقم .....
- مكان استقرار هجرة اليعاربة يمثلها على الخريطة الرقم .....
- منطقة الوفرة الزراعية يمثلها على الخريطة الرقم .....
- حقل دخان يمثلها على الخريطة الرقم .....

ثانياً : حدد كل مما يلي على الخريطة باستخدام الرموز التالية :-

- حضارة هيلي باستخدام الرمز 
- الخليج العربي باستخدام الرمز 



السؤال الثاني : ويتكون من ( أ ، ب ، ج ) :-

( أ ) فرق بين كل مما يلي :-

الواردات	الصادرات
الكثافة السكانية	النمو السكاني

( ب ) علل لما يأتي :-

١ - حاجة دول الخليج إلى إقامة العديد من الموانئ النفطية .

..... -

..... -

٢ - تلوث مياه الخليج العربي .

..... -

..... -

( ج ) عدد كل مما يلي :-

١ - المشكلات الإجتماعية التي تواجه دول الخليج العربي .

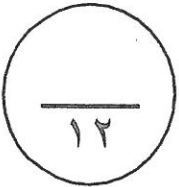
..... -

..... -

٢ - الروابط المشتركة بين أبناء دول الخليج العربي .

..... -

..... -



السؤال الثالث : ويتكون من ( أ ، ب ، ج ) :-

( أ ) اقرأ الفقرة التالية ثم أجب عما يليها من الأسئلة :-

" خرجت الهجرات العربية من قلب شبه الجزيرة العربية منذ أن سادت ظروف الجفاف الصحراوي ، إلى الساحل الغربي للخليج العربي الذي تميز بموقعه الجغرافي المهم بين قارات العالم القديم " .

- استخرج من الفقرة السابقة ما يلي :

١- عامل جذب للسكان لمنطقة الخليج العربية .

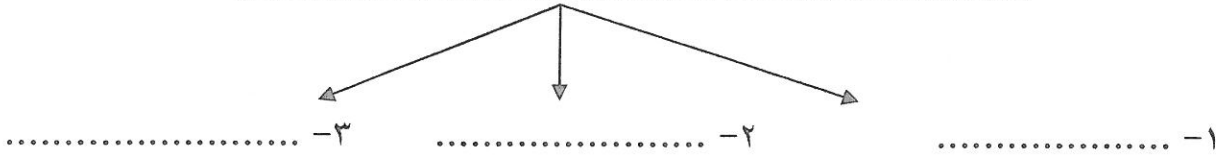
..... -

٢- عامل طرد للسكان من قلب شبه الجزيرة العربية .

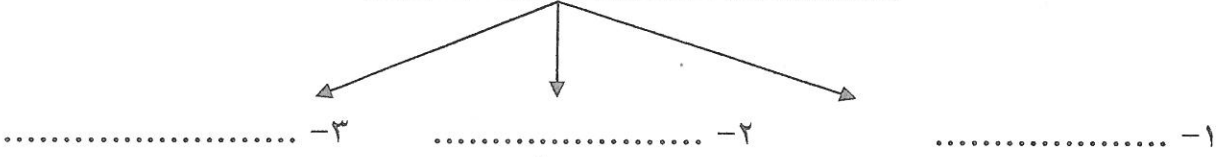
..... -

( ب ) أكمل المخططات السهمية التالية :-

١- أنواع الصناعات القائمة على النفط في مجلس التعاون الخليجي .



٢- التحديات التي تواجه دول الخليج العربي .



( ج ) نفذ ما هو مطلوب منك ما بين الأقواس :

١- تلوث التربة . ( النتائج )

..... -

..... -

٢- ارتفاع الدخل القومي لدول مجلس التعاون الخليجي . ( الأسباب )

..... -

..... -