

تم تحميل هذا الملف من موقع المناهج الكويتية



الملف نموذج إجابة منطقة الأحمدية التعليمية

[موقع المناهج](#) ⇐ [المناهج الكويتية](#) ⇐ [الصف السادس](#) ⇐ [اجتماعيات](#) ⇐ [الفصل الثاني](#)

روابط مواقع التواصل الاجتماعي بحسب الصف السادس



روابط مواد الصف السادس على تلغرام

الرياضيات	اللغة الانجليزية	اللغة العربية	التربية الاسلامية
---------------------------	----------------------------------	-------------------------------	-----------------------------------

المزيد من الملفات بحسب الصف السادس والمادة اجتماعيات في الفصل الثاني

مراجعة	1
مراجعة	2
مراجعة	3
مذكرة في مادة الاجتماعيات	4
مراجعة محلولة ومفيدة في مادة الاجتماعيات	5



وزارة التربية
الإدارة العامة لمنطقة الأحمدية التعليمية

ykuwait_3



نموذج إجابة امتحان الفترة الدراسية الثانية

مادة: الاجتماعيات

الصف: السادس

العام الدراسي ٢٠٢٢ - ٢٠٢٣

أجب عن جميع الأسئلة

السؤال الأول: (موضوعي) ويتكون من (أ - ب) (١٢ نقطة × درجة واحدة = ١٢ درجة)

أ- أكمل العبارات التالية بما يناسبها مما درست:

- ١- العام الذي بدأ فيه التنقيب عن النفط في دولة الكويت ١٩٣٤ م ص ٨٧
- ٢- الدولة الخليجية التي لها تجربة رائدة في إنتاج محصول القمح اسمها السعودية ص ٩٢
- ٣- الحضارة التي توجد في دولة قطر تسمى أم النار ص ١٠٥
- ٤- الدولة الخليجية الأعلى في نسبة الوافدين تسمى الإمارات ص ١١٢
- ٥- وحدة قياس شدة الضوضاء التي تتعرض لها الأذن البشرية تسمى الديسيبل ص ١٣٤
- ٦- الدرع الواقي للأحياء ضد خطر الأشعة فوق البنفسجية الضارة يسمى طبقة الأوزون ص ١٣٥

ب- اختر البديل الصحيح من بين البدائل التي تلي كل عبارة مما يلي وضع خطاً تحته:

- ١- تم تصدير أول شحنة من النفط الكويتي في عهد الشيخ:
 - أ - عبدالله السالم
 - ب - مبارك الصباح
 - ج - أحمد الجابر
 - د - جابر الأحمد
- ٢- توجد منطقة صحار الصناعية في دولة:
 - أ - عمان
 - ب - السعودية
 - ج - قطر
 - د - الإمارات
- ٣- أصغر دولة خليجية من حيث المساحة:
 - أ - الكويت
 - ب - البحرين
 - ج - الإمارات
 - د - السعودية
- ٤- صدر إعلان الدوحة بشأن قيام السوق الخليجية المشتركة في عام:
 - أ - ٢٠٠٥م
 - ب - ٢٠٠٦م
 - ج - ٢٠٠٧م
 - د - ٢٠٠٨م
- ٥- عدد الآبار النفطية الكويتية التي أحرقتها النظام العراقي البائد أكثر من:
 - أ - ٤٣٤ بئراً
 - ب - ٥٣٥ بئراً
 - ج - ٦٣٦ بئراً
 - د - ٧٣٧ بئراً
- ٦- العمالة المنزلية تمثل أحد مشكلات دول الخليج العربية:
 - أ - السياسية
 - ب - الاجتماعية
 - ج - الاقتصادية
 - د - الثقافية



السؤال الثاني : (موضوعي) و يتكون من (أ - ب)

(١٢ نقطة × درجة واحدة = ١٢ درجة)

أ - أكتب المفاهيم أو المصطلحات الدالة على العبارات التالية:

١ - (زراعة بدون تربة) الزراعة التي تتم في بيئة مائية أو رملية أو حصى أو نشارة خشب تضاف إليها المحاليل

الغذائية. ص ٩٤

٢- (الصناعة) تحويل المواد الخام إلى مواد يمكن الاستفادة منها . ص ٩٥

٣ - (السلالة) مجموعة من الناس تشترك فيما بينها في الصفات الجسمانية الرئيسية كلون الجلد و شكل الأنف و

شكل الشعر و طول القامة . ص ١٠٦

٤- (الكثافة السكانية) عدد السكان في الكيلو متر مربع ' وتقاس بقسمة عدد السكان على مساحة الدولة . ص ١١٤

٥- (التلوث) الضرر الذي يصيب عناصر البيئة الأساسية (هواء- ماء - تربة) فتنحول من عناصر مفيدة إلى

عناصر ضارة.

ص ١٣٣

المنهج الكويتية
almanahj.com/kw

٦- (العنف) السلوك العدوانى الموجه ضد الغير والذي يتسم بالتخريب والتدمير سواء كان ذلك السلوك أقالماً أو

أفعالاً.

ص ١٤٤



ب - أكمل المخططات السهمية التالية :

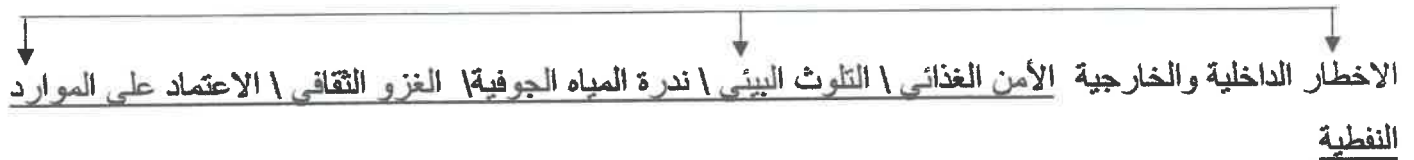
١- أنواع الصناعات القائمة على النفط في دول الخليج العربية ص ٩٦



٢- الروابط التي تربط دول الخليج العربية ص ١١٩



٣- التحديات التي تواجه دول الخليج العربية ص ١٣٢



السؤال الثالث : (موضوعي) ويتكون من (أ - ب - ج)

(٢ نقطة × درجة واحدة = ٢ درجة)

ص ١٣٤

أ- أختَر مصادر التلوث الهوائي وأكتبها في الجدول الذي يليها :

الصناعة - الضوضاء - السيارات - حرق النفايات - العواصف الترابية - ندرة المياه الجوفية - مياه الصرف الصحي

مصادر التلوث الهوائي
- الصناعة
- السيارات
- حرق النفايات
- العواصف الترابية

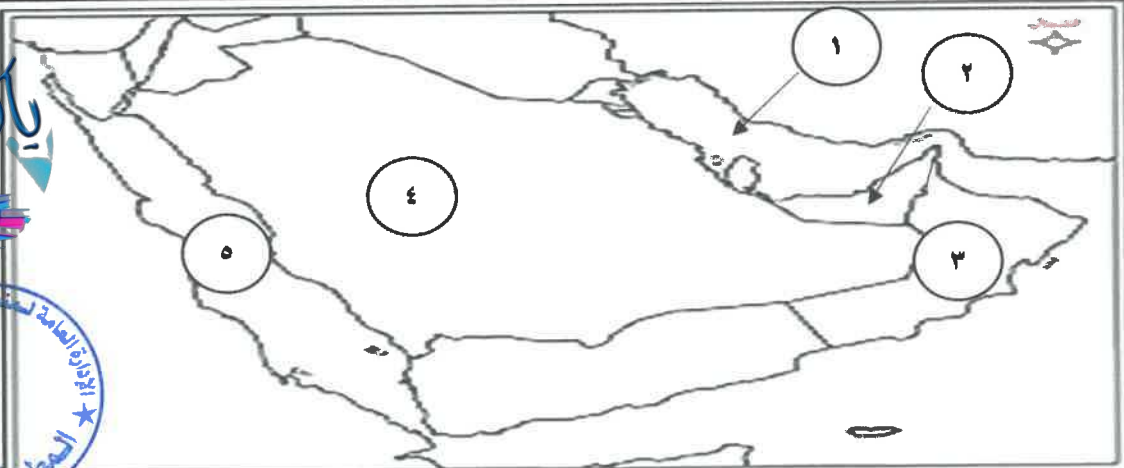
ب - صح ما تحته خط في العبارات التالية وذلك بكتابة الإجابة الصحيحة:

المناهج الكويتية

الرقم	العبرة	التصويب
١	إعادة تصدير البضائع المستوردة يسمى <u>الواردات</u> ص ٩٩	الترانزيت
٢	أكبر دول الخليج العربية مساحة تسمى <u>عمان</u> ص ١١٤	السعودية
٣	الجماعة التي هاجرت إلى دولة قطر هم <u>آل خليفة</u> ص ١٠٨	المعاضيد
٤	تعرضت الكويت إلى الغزو العراقي الغاشم سنة <u>١٩٩١م</u> ص ١٣٩	١٩٩٠م

ج - لاحظ خريطة دول الخليج العربية المقابلة ثم أكتب الرقم الدال أمام العبارات التالية:


ykuwait



- مسطح مائي تطل عليه جميع دول الخليج العربية يمثله على الخريطة الرقم (١) . ص ٩١
- الدولة التي يوجد فيها ميناء الفحل تحمل الرقم (٣) . ص ٩٧
- دولة هاجرت إليها قبائل القواسم يمثله على الخريطة الرقم (٢) . ص ١٠٨
- مقر مكتب التربية العربي يوجد في دولة خليجية تحمل الرقم (٤) . ص ١٣٠

السؤال الرابع: (مقالي) ويتكون من (أ - ب - ج)
 أ- فرق بين كل مما يلي :

احتياطي النفط ص ٨٨	١- إنتاج النفط ص ٨٨
<u>كميات النفط المخزونة في باطن الأرض</u>	<u>كميات النفط التي يتم استخراجها للاستفادة منها</u>

التلوث الأرضي(التربة) ص ١٣٤	٢- التلوث الضوضائي ص ١٣٤
<u>دخول مواد غريبة في التربة مما يلحق الضرر في خواصها ومكوناتها .</u> 	<u>الأصوات المتناغرة غير المرغوب فيها الناجمة عن مصادر داخلية وخارجية و تؤثر بشكل أو آخر على الصحة العامة ونوعية الحياة اليومية للإنسان.</u>

ص ١٣١

ب - قارن بين كل مما يلي حسب المطلوب في الجدول التالي :

		وجه المقارنة
<u>الثقافي</u>	<u>الاقتصادي</u>	نوع التعاون
١- <u>توحيد المناهج التعليمية و تطويرها .</u> ٢- <u>انشاء مكتب التربية العربي و مقره الرياض .</u> ٣- <u>اجتماع وزراء التربية والتعليم لدول الخليج العربية كل عامين لوضع السياسات التربوية .</u> (يكتفي بنقطة واحدة)	١- <u>صدور اعلان الدوحة بشأن قيام السوق الخليجي المشترك ٢٠٠٨م .</u> ٢- <u>زيادة التبادل التجاري .</u> (يكتفي بنقطة واحدة)	أحد مظاهر هذا التعاون 

ج- عرف ما يلي:

- ١- الدخل القومي: هو مجموع الدخول التي تحصل عليها الدولة خلال العام . ص ٩٥
- ٢- النمو السكاني: هو التغير الذي يحدث لعدد السكان نتيجة الزيادة الطبيعية و غير الطبيعية . ص ١١١
- ٣- الثقافة: مجموعة العادات و التقاليد والقيم في مجتمع من المجتمعات . ص ١١٨
- ٤- الصادرات: السلع و المنتجات التي تبيعها دولنا في الخارج . ص ٩٩

السؤال الخامس: (مقالى) ويتكون من (أ - ب) (٢ نقطة × درجة واحدة = ٢ درجة)
أ- علل لما يلي:

- ١- شهدت منطقة الخليج العربية بعد اكتشاف النفط نموا سكانيا فجائيا. ص ١١٠ (يكتفي بنقطتين)
 - ارتفاع دخل الفرد (ارتفاع الأجور) \ السماح للوافدين باصطحاب عائلاتهم
 - توفر فرص العمل \ توفر الرعاية الصحية \ زيادة عدد المواليد \ الأمن والأمان
- ٢- ظهرت الحاجة إلى إقامة العديد من الموانئ النفطية في دول الخليج العربية. ص ٩٠ (مطلوب النقطتين)
 - تزايد الإنتاج النفطي لدول الخليج العربية.
 - تزايد الطلب العالمي على النفط كمصدر أساسي للطاقة.
- ٣- تعرض مياه الخليج العربي للتلوث البحري. ص ١٣٦ (يكتفي بنقطتين)
 - مخلفات المصانع \ النفط ومشتقاته \ النفايات الخطرة
 - مياه الصرف الصحي غير المعالجة \ مياه الصرف الزراعي \ الأمطار الحمضية

مو (يكتفي بنقطتين)
المنهج الكويتية
almanahj.com/kw

ب- أكتب فيما يلي :

- ١- أهم الدول المستوردة للنفط الكويتي. ص ٩٠ (يكتفي بنقطتين)
 - الولايات المتحدة الأمريكية
 - هولندا \ اليابان
- ٢- مجالات التعاون العسكري بين دول مجلس التعاون الخليجي. ص ١٢٩ (يكتفي بنقطتين)
 - المناورات (التدريبات) العسكرية المختلفة.
 - إنشاء قوة مشتركة تضم جميع دول مجلس التعاون الخليجي (درع الجزيرة).
 - قبول أبناء دول مجلس التعاون في الكليات العسكرية.
 - المشاركة الفعلية في حرب تحرير دولة الكويت من النظام العراقي البائد.
- ٣- حلول لعلاج مشكلة العنف. ص ١٥٠ (يكتفي بنقطتين)
 - الاهتمام الجاد بالقرآن الكريم والسنة النبوية الشريفة.
 - الاهتمام بالقراءة والمطالعة بدلا من أصدقاء السوء.
 - القدوة الحسنة من كل المحيطين بالشباب المتعلمين أو اتباع أساليب الحوار و التفاهم في علاج المشكلات أو الخلافات.

