

تم تحميل هذا الملف من موقع المناهج الكويتية



منطقة حولي التعليمية

الملف نموذج إجابة منطقة حولي التعليمية

[موقع المناهج](#) ← [المناهج الكويتية](#) ← [الصف السادس](#) ← [اجتماعيات](#) ← [الفصل الثاني](#)

روابط مواقع التواصل الاجتماعي بحسب الصف السادس



روابط مواد الصف السادس على تلغرام

[الرياضيات](#)

[اللغة الانجليزية](#)

[اللغة العربية](#)

[التربية الاسلامية](#)

المزيد من الملفات بحسب الصف السادس والمادة اجتماعيات في الفصل الثاني

مراجعة	1
مراجعة	2
مراجعة	3
مذكرة في مادة الاجتماعيات	4
مراجعة محلولة ومفيدة في مادة الاجتماعيات	5



وزارة التربية
الإدارة العامة لمنطقة حولي التعليمية
مراقبة الامتحانات وشؤون الطلبة

تم التحميل من شبكة ياكويت التعليمية



Telegram:
ykuwait_net_home

موقع
سماح الكويتية

almanahj.com/kw

العام الدراسي 2023 / 2024 م
اختبار نهاية الفصل الدراسي الثاني

نموذج الإجابة

الإجتماعيات

المرحلة المتوسطة
الصف السادس

نموذج الإجابة



وزارة التربية

امتحان نهاية الفترة الدراسية الثانية العام الدراسي: ٢٠٢٣/٢٠٢٤ م

الإدارة العامة لمنطقة حولي التعليمية مقرر / الكويت ودول الخليج العربية الزمن : ساعة و ٤٥ دقيقة

التوجيه الفني للاجتماعيات

الصف السادس المتوسط

عدد الصفحات : ٥

تم التحميل من شبكة ياكويت التعليمية



Telegram: ykuwait_net_home

أجب عن جميع الأسئلة

السؤال الأول (موضوعي) : ويتكون من (أ - ب - ج - د - هـ - و - ي) :
(أ) ظلل الخيار الصحيح من بين الخيارات التي تلي كل عبارة مما يلي : (٦ درجات)

١ - أول حقل بدأ التنقيب فيه عن النفط في دولة الكويت عام ١٩٣٤م : ص ٨٧			
برقان	الروضتين	<u>بحرة</u>	الزور
٢ - المحصول الزراعي التي كانت للمملكة العربية السعودية تجربة رائدة في إنتاجه : ص ٩٢			
<u>القمح</u>	الأرز	الفروالة	التفاح
٣ - مجموعة من العادات والتقاليد والقيم في مجتمع من المجتمعات : ص ١١٨			
التراث	<u>الثقافة</u>	السلالات	التاريخ المشترك
٤ - المدينة التي تم فيها الإعلان عن قيام السوق الخليجية المشتركة : ص ١٣٠			
الكويت	المنامة	أبوظبي	<u>الدوحة</u>
٥ - العام الميلادي الذي تعرضت فيه دولة الكويت للغزو العراقي الغاشم : ص ١٣٩			
١٩٨٨م	١٩٨٩م	<u>١٩٩٠م</u>	١٩٩١م
٦ - الطبقة التي تمثل درع واقٍ للأحياء ضد خطر الأشعة فوق البنفسجية الضارة : ص ١٣٥			
طبقة الهواء	<u>طبقة الأوزون</u>	طبقة الملوثات	طبقة الضوضاء

(ب) صوّب ما تحته خط في العبارات التالية : (٦ درجات)

م	العبرة	التصويب
١	تم تصدير أول شحنة من النفط الكويتي عام ١٩٤٦م في عهد الشيخ صباح السالم ص ٩٠	أحمد الجابر
٢	السلع والمنتجات التي تبيعها دولنا إلى الخارج تسمى <u>الواردات</u> ص ٩٩	الصادرات
٣	أعلى دولة خليجية في نسبة الوافدين عام ٢٠٠٦م أسماها <u>دولة قطر</u> ص ١١٢	الإمارات
٤	الدولة الخليجية الوحيدة التي لم تتعرض للإستعمار أسماها <u>سلطنة عُمان</u> ص ١٢٠	السعودية
٥	العنف ظاهرة <u>موروثة</u> . ص ١٤٦	متعلمة
٦	قوة مشتركة تضم جميع دول مجلس التعاون الخليجي تسمى <u>عاصفة الصحراء</u> ص ١٢٩	درع الجزيرة

تابع السؤال الأول (موضوعي) :

(ج) صنف ما يلي حسب ما يناسبه في الجدول الذي يليه : (٦ درجات)

- ١- مظاهر التعاون بين دول مجلس التعاون الخليجي : ص ١٢٩-١٣٠
(توحيد المناهج التعليمية - إدانة إحتلال الجزر الإماراتية الثلاث - مناصرة قضية فلسطين)

التعاون الثقافي	التعاون السياسي
- توحيد المناهج التعليمية	- إدانة إحتلال الجزر الإماراتية الثلاث - مناصرة قضية فلسطين

- ٢- الحضارات التالية حسب موقعها في دول الخليج العربية :
(تاروت _____ دلمون _____ أم النار) ص ١٠٥

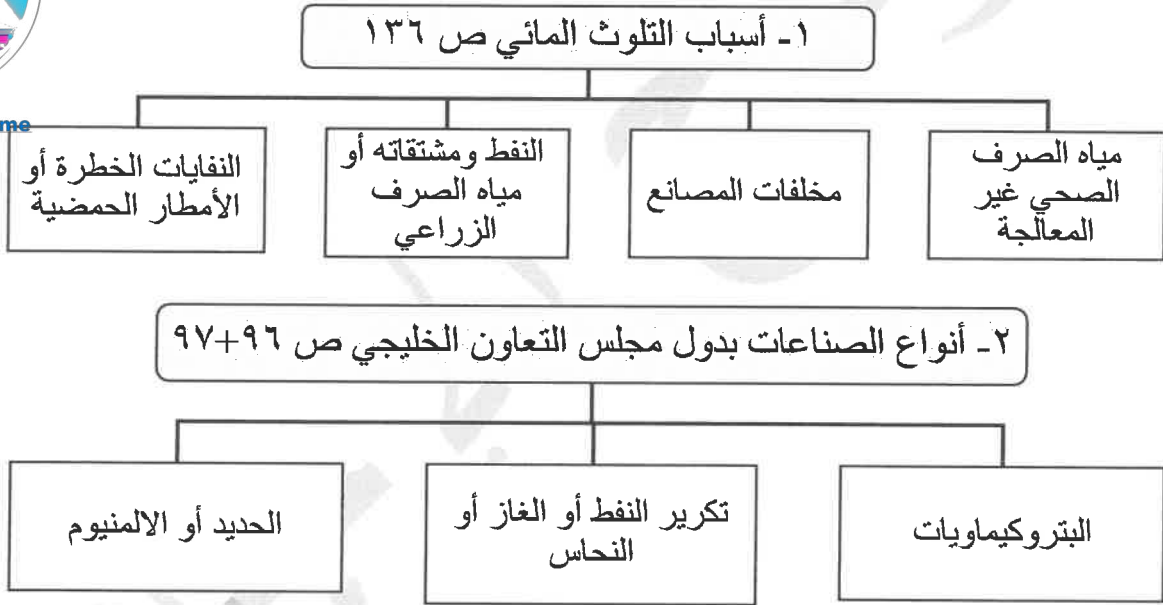
السعودية	قطر	البحرين
تاروت	أم النار	دلمون

تم التحميل من شبكة باكويت التعليمية



Telegram: ykuwait_net_home


(د) أكمل المخططات السهمية التالية : (٥ درجات)



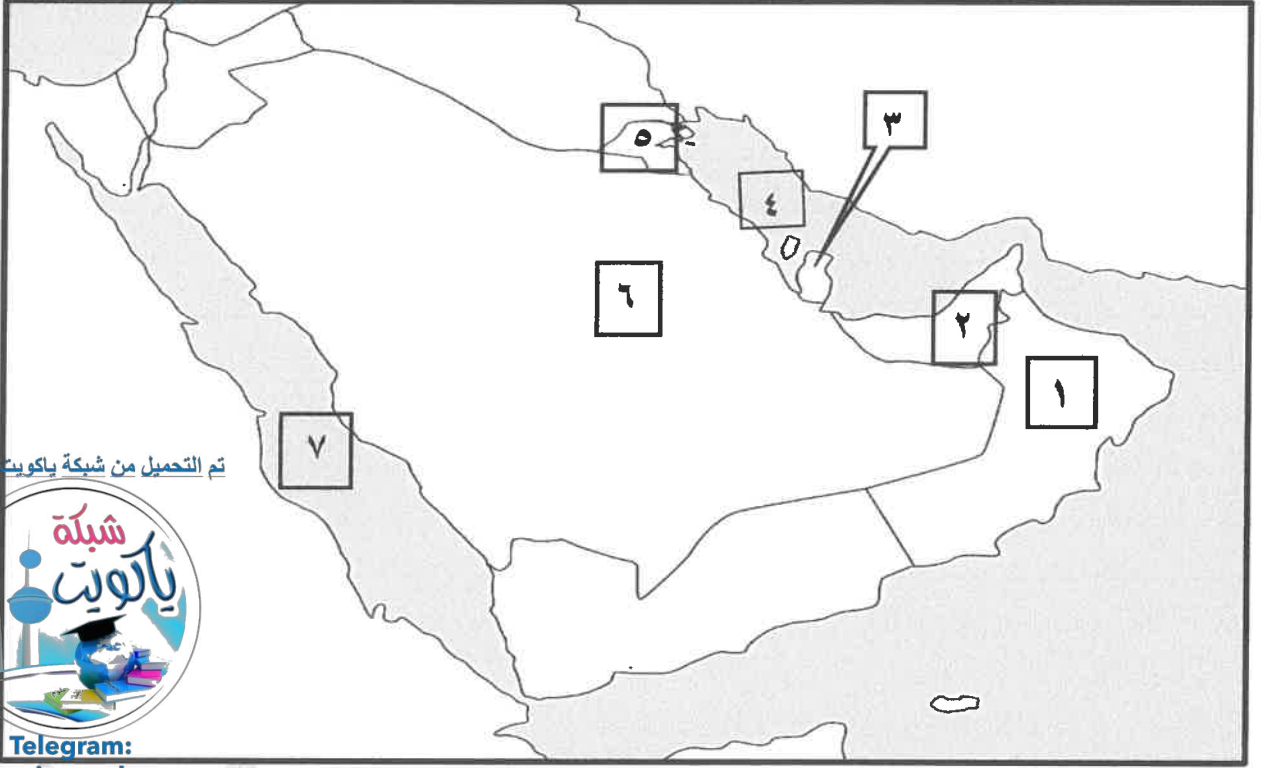
(هـ) ضع علامة (√) أمام العبارة الصحيحة وعلامة (×) أمام العبارة الخاطئة (٤ درجات)

العلامة	العبارة
×	١- مملكة البحرين أعلى دولة خليجية في نسبة إنتاج النفط في دول مجلس التعاون الخليجي . ص ٨٨
√	٢- الكثافة السكانية تقاس بقسمة عدد السكان على مساحة الدولة . ص ١١٤
×	٣- عدد الآبار النفطية الكويتية التي فجرها وأحرقها النظام العراقي البائد أكثر من ٥٢٠ بئرا. ص ١٣٩
√	٤- الطباخ والسائق والمربية من وظائف العمالة المنزلية . ص ١٤٢

تابع السؤال الأول (موضوعي) :
(و) ضع عنواناً مناسباً للصور التالية : (٣ درجات)



- ١- (الإسلام واللغة العربية) ص ١١٩ ٢- (لا للعنف) ص ١٤٩ ٣- (الدكتور صالح العجيري) ص ١٢٢
(ي) أمامك خريطة دول الخليج العربية الصماء أكتب الرقم الدال على العبارات التالية : (٦ درجات)



تم التحميل من شبكة ياكويت التعليمية



Telegram:

kuwait_net_home

- ١- حقل برفان النفطي يقع في الدولة التي يمثلها على الخريطة الرقم (٥) ص ٩١
٢- سهل الباطنة الزراعي يقع في الدولة التي يمثلها على الخريطة الرقم (١) ص ٩٢
٣- الدولة التي هاجر إليها المعاضيد يمثلها على الخريطة الرقم (٣) ص ١٠٨
٤- منطقة جبل علي الصناعية تقع في الدولة التي يمثلها على الخريطة الرقم (٢) ص ٩٧
٥- الخليج العربي يمثل على الخريطة الرقم (٤) ص ٩١
٦- حقل الغوار النفطي يقع في الدولة التي يمثلها على الخريطة الرقم (٦) ص ٩١

السؤال الثاني (مقالى) : ويتكون من (أ - ب - ج) :

(أ) اقرأ الفقرة التالية ، ثم أجب عما يليها من أسئلة : (٤ درجات)

شهدت منطقة الخليج العربية بعد إكتشاف النفط نمواً سكانياً مضطرباً. نتيجة لأسباب عدة أهمها " ارتفاع دخل الفرد - توفر الرعاية الصحية - توفر فرص العمل " مما شجع على استقطاب الهجرات الداخلية والخارجية .

١ - ضع عنواناً مناسباً للفقرة .

"النمو السكاني في دول الخليج العربي " وكل ما يراه المصحح مناسباً ص ١١٠

٢ - علل شهدت منطقة الخليج العربية بعد إكتشاف النفط نمواً سكانياً مضطرباً. ص ١١٠ + ١١١ (يكتفى بثلاث نقاط)



- الأمن والأمان

- ارتفاع دخل الفرد

- توفر الرعاية الصحية

- ارتفاع الأجور

- توفر فرص العمل

- السماح للوافدين باصطحاب عائلاتهم

- زيادة عدد المواليد

(ب) أكتب نقطتين لكل مما يلي : (٤ درجات)

١ - الروابط الثقافية التي تربط بين سكان دول الخليج العربية. ص ١١٧ + ١٢٠ (يكتفى بنقطتين)

- وحدة الأصل - العادات والتقاليد - الدين واللغة - التاريخ المشترك

٢ - التحديات التي تواجه دول الخليج العربية. ص ١٣٢. (يكتفى بنقطتين)

- الأخطار الداخلية والخارجية - الأمن الغذائي - التلوث البيئي

- ندرة المياه الجوفية - الإعتدال على الموارد النفطية - الغزو الثقافي

(ج) عرّف المفاهيم التالية : (٤ درجات)

م	المفهوم	التعريف
١	إحتياطي النفط	كميات النفط المخزونة في باطن الأرض . ص ٨٨
٢	الترانزيت	إعادة تصدير البضائع المستوردة . ص ٩٩
٣	التلوث	هو الضرر الذي يصيب عناصر البيئة الأساسية (هواء - ماء - تربة) فتتحول من عناصر مفيدة إلى عناصر ضارة . ص ١٣٣
٤	الصناعة	تحويل المواد الخام إلى مواد يمكن الإستفادة منها . ص ٩٥

السؤال الثالث (مقالى) : ويتكون من (أ - ب - ج) :

(٤ درجات)

(أ) لاحظ الصورة التي أمامك ثم أجب عن الأسئلة التي تليها:

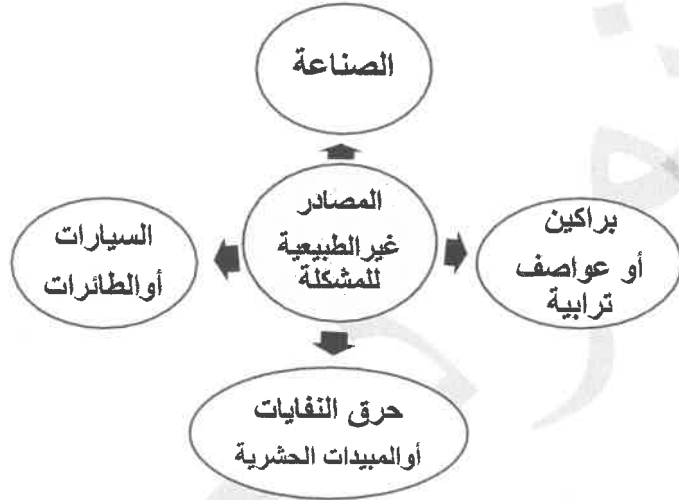


١- أكتب نوع المشكلة الموضحة في الصورة . ص ١٣٣ (درجة)

مشكلة البيئة أو التلوث الهوائي (وكل ما يراه المصحح مناسباً)

٢- أكمل الخريطة الذهنية للمصادر غير الطبيعية للمشكلة .

ص ١٣٣ (٣ درجات) (يكتفى بثلاث نقاط)



تم التحميل من شبكة ياكويت التعليمية



Telegram:
ykuwait_net_home

(ب) فرق بين كل مما يلي : يكتفى بنقطتين (٤ درجات)

حلول لعلاج مشكلة العنف ص ١٥٠	حلول لعلاج مشكلة العمالة المنزلية ص ١٥٠
- الإهتمام الجاد بالقران والسنة النبوية .	- الإهتمام الجاد بالقران والسنة النبوية .
- القراءة والمطالعة بدلا من أصدقاء السوء .	- يتحمل كل فرد مسؤوليته في الأسرة .
- القدوة الحسنة واتباع اساليب الحوار.	- جعل مهمة الخادم مقتصرة على دوره الاساسي .

(ج) عدد ما يلي : (٤ درجات)

- ١- أسباب قيام دول الخليج العربية بإقامة العديد من الموانئ النفطية . ص ٩٠
- بسبب تزايد الإنتاج النفطي لدول مجلس التعاون من الحقول البرية والبحرية .
- تزايد الطلب العالمي كمصدر أساسي للطاقة .

٢- مظاهر التلوث الناتجة عن الغزو العراقي لدولة الكويت . ص ١٣٩ (يكتفى بنقطتين)

- تدمير للحياة الفطرية - تلوثاً هوائياً - كميات كبيرة من الدخان - تساقط الرذاذ النفطي على التربة
- تلوث التربة - تحول لون الرمال من اللون الأصفر إلى الأسود - الأثار الخطرة على صحة الإنسان والكائنات الحية .

- انتهت الإجابة -