

تم تحميل هذا الملف من موقع المناهج الكويتية



مدرسة التميز النموذجية

الملف أوراق عمل على الوحدة الخامسة

[موقع المناهج](#) ← [المناهج الكويتية](#) ← [الصف التاسع](#) ← [اجتماعيات](#) ← [الفصل الثاني](#)

روابط مواقع التواصل الاجتماعي بحسب الصف التاسع



روابط مواد الصف التاسع على تلغرام

[الرياضيات](#)

[اللغة الانجليزية](#)

[اللغة العربية](#)

[التربية الاسلامية](#)

المزيد من الملفات بحسب الصف التاسع والمادة اجتماعيات في الفصل الثاني

<a href="#">حل التقويم</a>	1
<a href="#">بنك اسئلة</a>	2
<a href="#">مذكرة فصل ثاني</a>	3
<a href="#">حل تقويم</a>	4
<a href="#">مذكرة مراجعة للصف الاسع</a>	5



# اوراق عمل اجتماعيات الوحدة الخامسة

موقع  
مدرسة التميز الكويتية  
almanahj.com/kw

الفصل الدراسي الثاني ( 2024 – 2025 م )

للمصف ( التاسع )



إعداد  
قسم الاجتماعيات



## ورقة عمل رقم 1

من خلال دراستك لدرس ( التحديات السياسية ) ص 113 من كتاب م اجب عن الأسئلة التالية.  
أسباب الازمات والمشكلات السياسية.

1 ..... 2.....

### 1. الأثار السلبية للأزمات السياسية.

1 .....

2 .....

3 .....

### 2. أسباب الهجرات غير المشروعة.

موقع  
المنهج الكويتية  
almanahj.com/kw

1 ..... 2 ..... 3 .....

### ب. اكتب فيما يلي.

#### 1. حقوق اللاجئين وطالبي اللجوء في المعاهدات الدولية.

1 .....

2 .....

3 .....

#### ج. اكمل العبارات التالية بما يناسبها مما درست.

1. أنشئت المفوضية السامية لشئون اللاجئين للأمم المتحدة عام ..... م

2. يوجد المقر الدائم للمفوضية السامية لشئون اللاجئين في مدينة .....

3. دخول الأشخاص لبلد ما دون القيام بالإجراءات القانونية تسمى .....

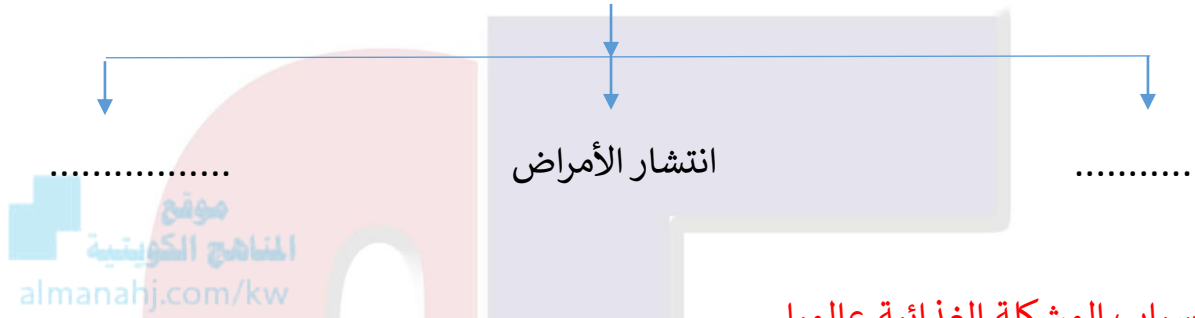


## ورقة عمل رقم 2

من خلال دراستك لموضوع ( التحديات الاقتصادية ) من ك م ص 118 اجب عن الأسئلة التالية

أ. اكمل المخطط السهمي التالي.

مظاهر المشكلة الغذائية



ب. أسباب المشكلة الغذائية عالمياً

1. ....
2. ....
3. ....

ج. اكتب المفهوم العلمي الدال على العبارات التالية.

1. نجاح جميع مراحل انتاج وتصنيع وتوزيع واعداد الغذاء (.....)
2. النقص في الغذاء من حيث الكم والنوع (.....)
3. الطرق المادية المستعملة في صناعة الأشياء وعملها (.....)
4. زحف التكنولوجيا وقدرتها على التفوق في مواجهة العنصر البشري (.....)
5. تطلق على الأفراد الذين يعيشون بدون عمل (.....)

خمسة وعشرون عاماً من التميز

د. علل لما يأتي.

تشهد مهن الزراعة وصيد الأسماك والتصنيع والخدمات العامة تراجعاً كبيراً في عدد الوظائف.

1. ....
2. ....

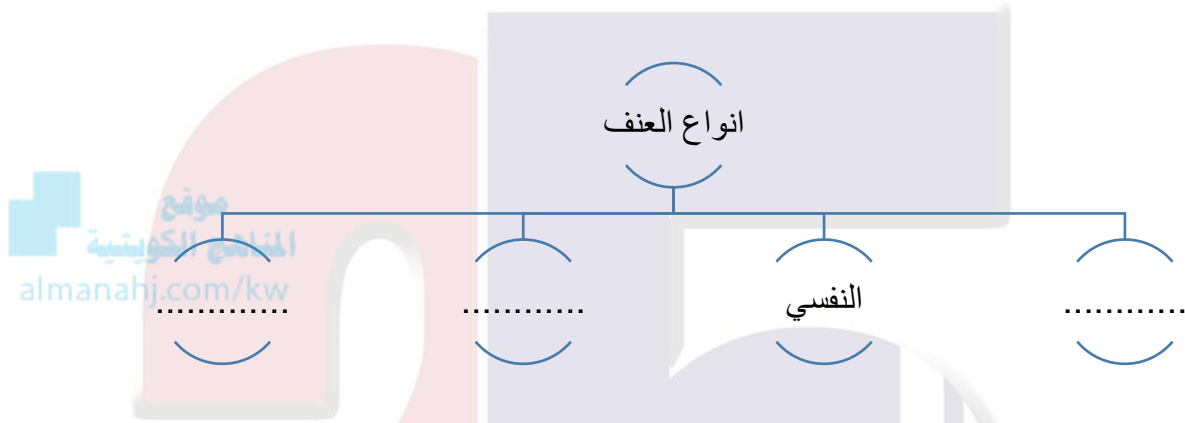




## ورقة عمل رقم (4)

من خلال دراستك لموضوع (التحديات الاجتماعية والثقافية) ص 127 اجب عن الأسئلة التالية.

أ. أكمل المخطط السهمي التالي:



ب. اكتب فيما يلي:

1. للمعاهدات الدولية الأساسية دور كبير في حماية حقوق الطفل.

1. ....
2. ....

2. استغلال وقت الفراغ.

1. ....
2. ....
3. ....

3. اذكر اثنين من القوانين الصارمة التي وضعتها دولة الكويت لمحاربة المخدرات.

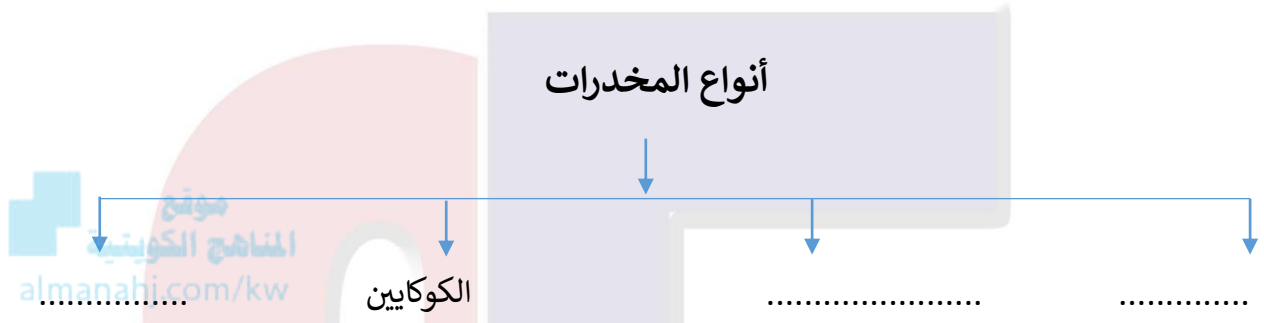
1. ....
2. ....



## ورقة عمل رقم 5

من خلال دراستك لموضوع ( التحديات الاجتماعية والثقافية ) ص 129 من ك م اجب عن الأسئلة التالية .

### أ. اكمل المخطط السهمي التالي.



ب. اكتب فيما يلي.

إيجابيات برامج التواصل الاجتماعي.

- 1 .....
- 2 .....
- 3 .....

سلبيات برامج التواصل الاجتماعي.

- 1 .....
- 2 .....
- 3 .....

ج. عرف مايلي.

قانون الجرائم الالكترونية .....

د. علل لما يأتي.

أصبحت وسائل التواصل الاجتماعي من الضروريات التي لا يمكن الاستغناء عنها.

- 1 .....
- 2 .....



## حل ورقة عمل رقم 1

من خلال دراستك لدرس ( التحديات السياسية ) ص 113 من ك م اجب عن الأسئلة التالية.

### أ. أسباب الأزمات والمشكلات السياسية.

1. أسباب سياسية 2. أسباب اقتصادية

#### 1. الاثار السلبية للأزمات والمشكلات السياسية.

1. سباق التسلح

2. تخصيص الميزانيات المالية الهائلة للأنفاق على شراء الأسلحة

3. انخفاض المستوى المعيشي للشعوب

#### 2. أسباب الهجرات غير المشروعة.

1. أسباب سياسية 2. أسباب اقتصادية 3. أسباب اجتماعية

### ب - اكتب فيما يلي.

#### حقوق اللاجئين وطالبي اللجوء في المعاهدات الدولية.

1. التمتع بجميع حقوق الانسان الأساسية

2. الحصول على شروط عمل عادلة

3. المساواة امام القضاء

خمسة وعشرون عاماً من التميز

#### ج. اكمل العبارات التالية بما يناسبها مما درست.

1. أنشئت المفوضية السامية لشئون اللاجئين للأمم المتحدة عام 1950م

2. يوجد المقر الدائم للمفوضية السامية لشئون اللاجئين في مدينة تسمى جنيف

3. دخول الأشخاص لبلد ما دون القيام بالإجراءات القانونية تسمى الهجرة غير المشروعة



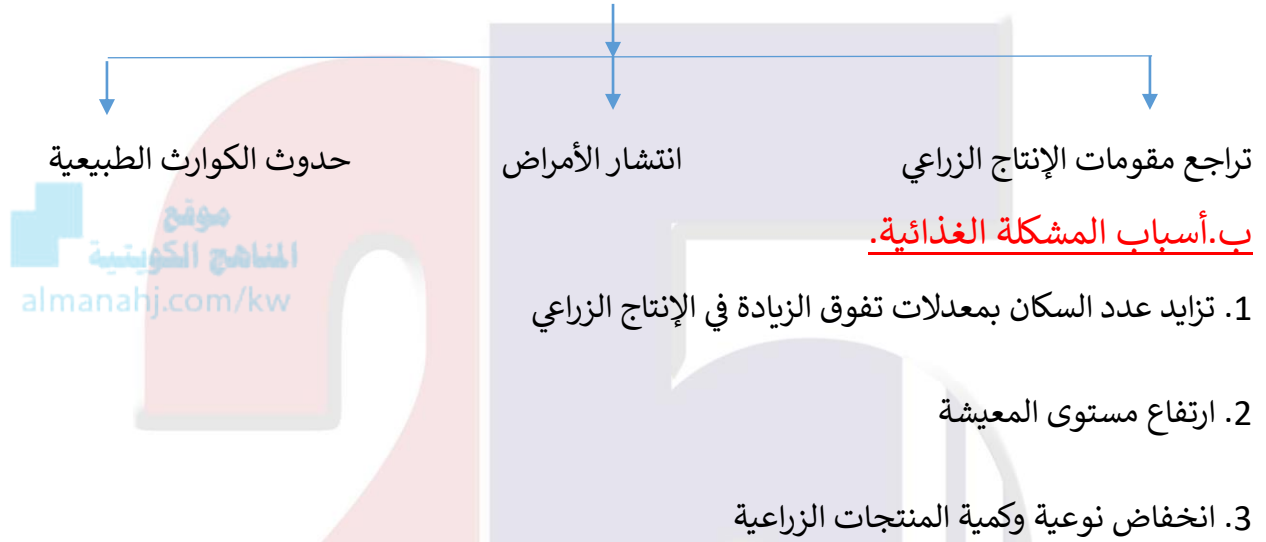


## ورقة عمل رقم 2

من خلال دراستك لموضوع ( التحديات الاقتصادية ) من ك م ص 18 اجب عن الأسئلة التالية :

أ. أكمل المخطط السهمي التالي.

مظاهر المشكلة الغذائية



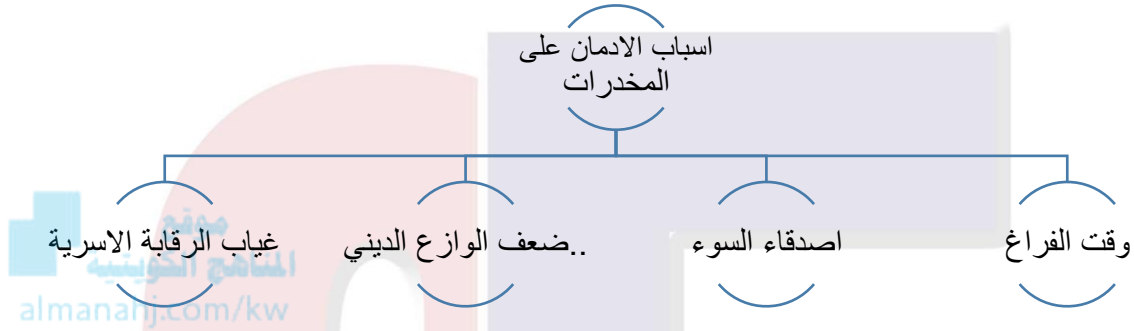
ج. اكتب المفهوم العلمي الدال على العبارات التالية.

1. نجاح جميع مراحل انتاج وتصنيع وتوزيع واعداد الغذاء ( الأمن الغذائي )
2. النقص في الغذاء من حيث الكم والنوع ( سوء التغذية )
3. الطرق المادية المستعملة في صناعة الأشياء وعملها ( التكنولوجيا )
4. تطلق على الأفراد الذين يعيشون بدون عمل ( البطالة )
5. حدوث نقص واضح في كمية الغذاء ونوعيته عن المعدلات المطلوبة ( مشكلة الغذاء )

### ورقة عمل التضاريس رقم 3

من خلال دراستك لموضوع (التحديات الاجتماعية ) من ك م ص 23 اجب عن الأسئلة الآتية.

#### أ- أكمل المخطط السهوي التالي:



#### ب - اجب عمائلي

#### خصائص المدمن:

1. الرغبة في تعاطي العقار المخدر
2. زيادة عدد الجرعات
3. اعراض نفسية وجسمية على المدمن

#### ج . صحح ما تحته خط بكتابة الإجابة الصحيحة بين القوسين.

خمسة وعشرون عاماً من التمييز

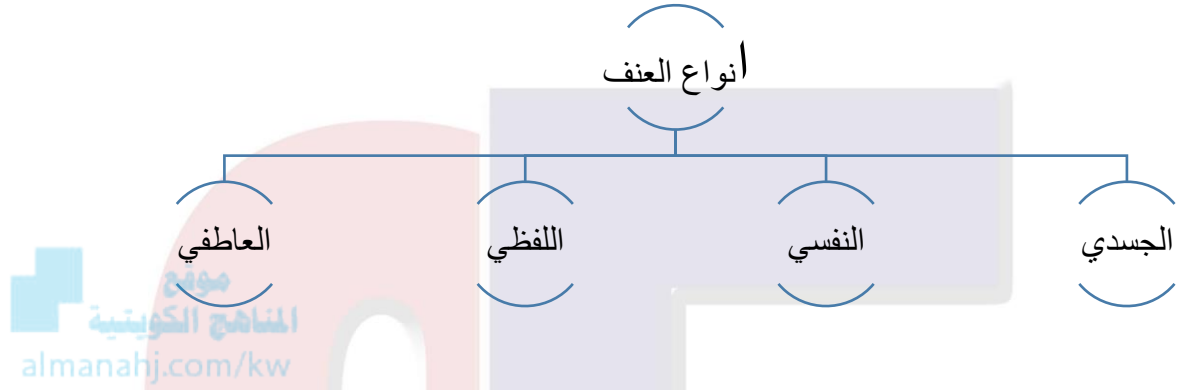
1. حالة نفسية واحيانا عضوية تنتج من التفاعل مع العقار يسمى العنف ( الإدمان )
2. العنف النفسي واللفظي والجسدي والعاطفي يمارس على الطفل يسمى البطالة ( العنف ضد الأطفال )
3. الطرق والوسائل التي تمكن الانسان من التواصل مع العالم الخارجي تسمى الذكاء الاصطناعي ( برامج التواصل الاجتماعي )



## ورقة عمل رقم المناخ (4)

من خلال دراستك لموضوع (التحديات الاجتماعية) ص 27 1 اجب عن الأسئلة الآتية.

أ. أكمل المخطط السهمي التالي.



ب. اكتب فيما يلي.

1. للمعاهدات الدولية الأساسية دور كبير في حماية حقوق الطفل.

1. اعلان جنيف لحقوق الطفل لعام 1924 م

2. اعلان الجمعية العامة لحقوق الطفل عام 1989 م

2. استغلال وقت الفراغ.

1. ممارسة الرياضة

2. حفظ القرآن

3. قراءة كتب وقصص مفيدة

3. اذكر اثنين من القوانين الصارمة التي وضعتها دولة الكويت لمحاربة المخدرات.

1. يعاقب بالإعدام والحبس المؤبد كل من استورد او جلب أي مواد مخدرة

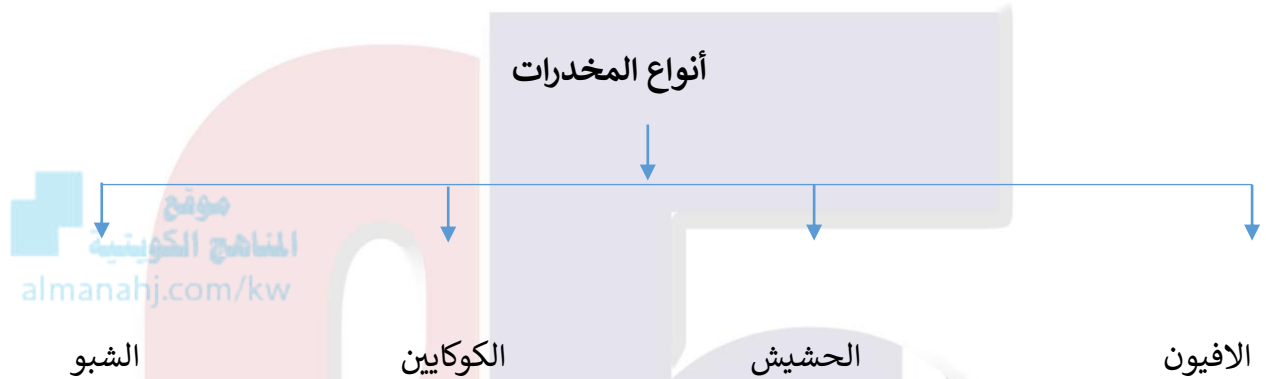
2. يعاقب بالحبس المؤبد وبغرامة لا تقل عن عشرة الاف دينار كل من حاز واحرز واشترى وباع اي مواد مخدرة



## حل ورقة عمل رقم 5

من خلال دراستك لموضوع ( أ لتحديات الاجتماعية والثقافية) ص 129 من ك م اجب عن الأسئلة التالية.

### أ. اكمل المخطط السهمي التالي.



### ب. اكتب فيما يلي.

#### 1. إيجابيات برامج التواصل الاجتماعي.

1. سهلت الحياة على الناس
2. ربط الأشخاص بعضهم ببعض
3. قربت المسافات

#### 2. سلبيات برامج التواصل الاجتماعي.

1. التجارة غير المشروعة
2. نقل الأخبار الكاذبة
3. ظاهرة التشهير بالناس

### 3. عرف مايلي.

قانون الجرائم الإلكترونية. كل من يقوم بإطلاق الشائعات والسب والقذف او الإساءة على شبكات التواصل الاجتماعي

### 4. علل لما يأتي.

أصبحت وسائل التواصل الاجتماعي من الضروريات التي لا يمكن الاستغناء عنها.

لأنها سهلت الحياة على الناس – وربطت الأشخاص بعضهم ببعض بالرغم من بعد المسافات





مدرسة التميز النموذجية  
(ابتدائي - متوسط - ثانوي)  
الجهاز الفني التربوي

# منصات التميز التعليمية

لزيارة منصة التميز التعليمية في اليوتيوب امسح الباركود التالي :



لزيارة منصة التميز التعليمية في تليجرام امسح الباركود الخاص بقناة كل فصل مما يلي :



الصف الرابع



الصف الثالث



الصف الثاني



الصف الأول



الصف التاسع



الصف الثامن



الصف السابع



الصف السادس



الصف الخامس



الصف الثاني عشر  
أدبي



الصف الثاني عشر  
علمي




الصف الحادي عشر  
علمي



الصف الحادي عشر  
أدبي



الصف العاشر



لزيارة صفحتنا في تويتر

لزيارة صفحتنا في الإنستقرام

عنواننا : خيطان - ق ٤ - ش ١٠٠