

تم تحميل هذا الملف من موقع المناهج الكويتية



الملف أوراق عمل تقييمية

[موقع المناهج](#) ⇨ [المناهج الكويتية](#) ⇨ [الصف الثاني](#) ⇨ [علوم](#) ⇨ [الفصل الثاني](#)

روابط مواقع التواصل الاجتماعي بحسب الصف الثاني



روابط مواد الصف الثاني على تلغرام

[الرياضيات](#)

[اللغة الانجليزية](#)

[اللغة العربية](#)

[التربية الاسلامية](#)

المزيد من الملفات بحسب الصف الثاني والمادة علوم في الفصل الثاني

| | |
|---|---|
| مخططات وملخصات لمادة العلوم | 1 |
| اوراق عمل مفيدة للطلاب في مادة العلوم | 2 |
| اوراق عمل ممتازة في مادة العلوم | 3 |
| مخططات ممتازة في مادة العلوم | 4 |
| نموذج للامتحان الاخير | 5 |



نماذج أوراق العمل التقييمية
الصف الثاني - الفترة الدراسية الثانية
العام الدراسي 2024-2025




وزارة التربية
التوجيه الفني العام للعلوم

نماذج أوراق العمل التقييمية للصف الثاني الابتدائي الفترة الدراسية الثانية

العام الدراسي
2025-2024

موقع
المنهج الكويتي
almanahj.com/kw



2

الصف الثاني



SCAN ME



فريق إعداد التوجيهات الفنية



نماذج أوراق العمل التقييمية
الصف الثاني – الفترة الدراسية الثانية
العام الدراسي 2024-2025



وزارة التربية
التوجيه الفني العام للعلوم

الاسم :

الفصل :

الدرجة النهائية : / 5

درس : كيف يحدث النهار و الليل ؟

السؤال الأول : اختر الإجابة الصحيحة علمياً بوضع علامة (✓) في المربع المقابل لها فيما يلي



- يحدث الليل و النهار نتيجة دوران الأرض حول :

نفسها أمام الشمس

نفسها أمام القمر

الشمس

القمر

2

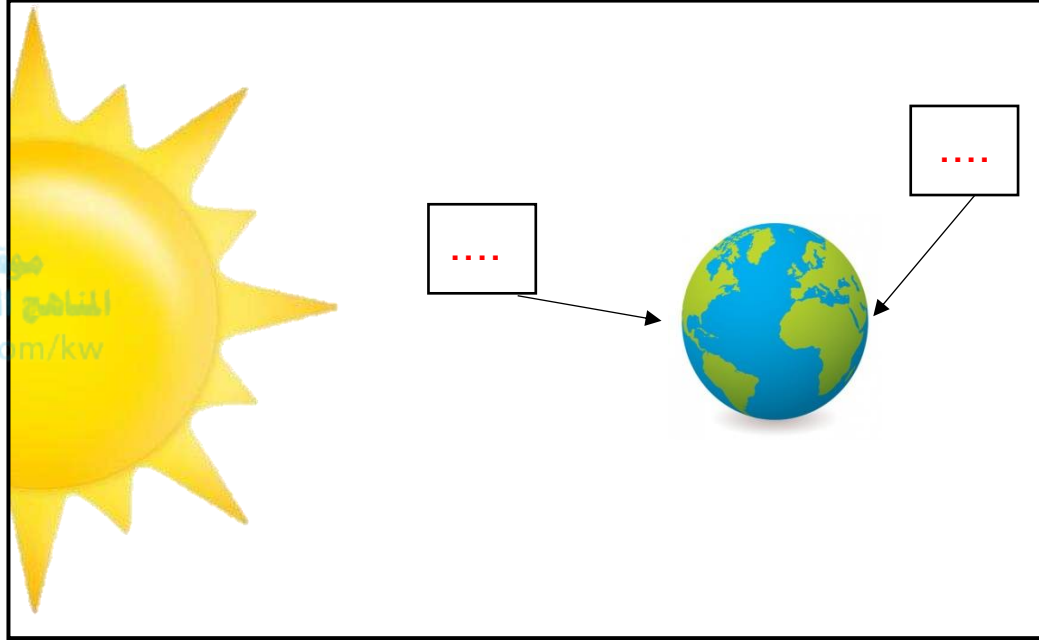
السؤال الثاني : ضع علامه (✓) امام العبارة الصحيحة و علامة (x) امام العبارة غير الصحيحة فيما يلي :

(1) تدور الأرض حول نفسها مرة كل سنة . ()

(2) الجزء المقابل للشمس يكون الوقت فيه نهار . ()

2

السؤال الثالث: أشر إلى الأجزاء المطلوبة منك بالرسم :



أشر بالرقم (1) لجزء الكرة الأرضية الذي يكون نهاراً

و أشر بالرقم (2) لجزء الكرة الأرضية الذي يكون ليلاً

الاسم :

الفصل :

الدرجة النهائية : / 5

درس : أي الأجسام يسمح بمرور الضوء ؟

السؤال الأول : اختر الإجابة الصحيحة علمياً بوضع علامة (✓) في المربع المقابل لها فيما يلي:

- أحد الأجسام التالية تسمح بمرور الضوء من خلالها :

موقع
المناهج الكويتية
almanahj.com/kw



2

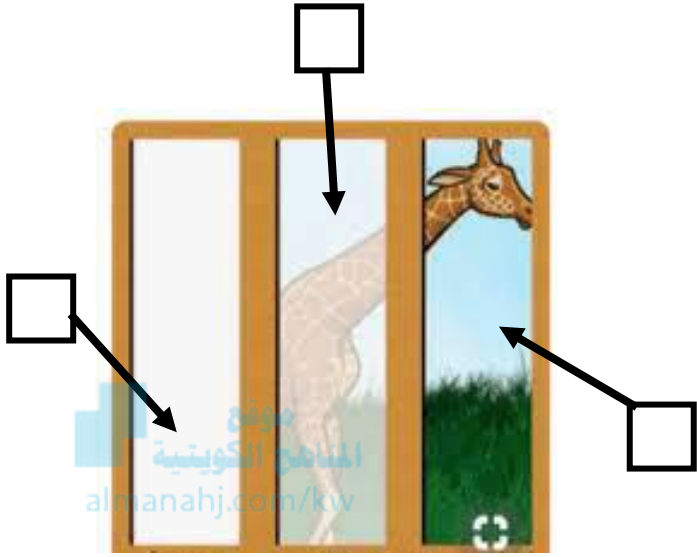
السؤال الثاني : ضع علامة (✓) أمام العبارة الصحيحة وعلامة (✗) أمام العبارة غير الصحيحة في كل مما يأتي:

(1) جميع الأجسام من حولنا معتمة. (.....)

(2) الماء من الأجسام الشفافة التي تسمح بمرور الضوء. (.....)

2

السؤال الثالث : أشر إلى الأجزاء المطلوبة بالرسم :



- أدرس الرسم الموضح أمامك ثم :

- أشر بالرقم (1) للجسم النصف شفاف .

- أشر بالرقم (2) للجسم المعتم .

الاسم :

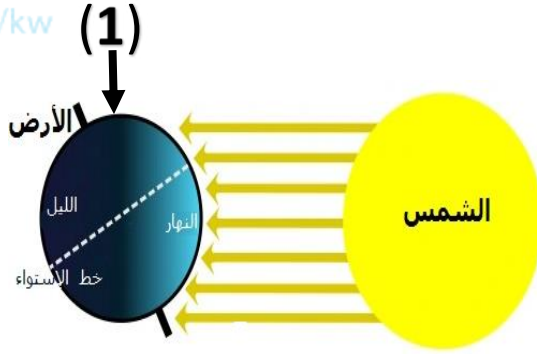
الفصل :

الدرجة النهائية : / 5

درس : كيف تحدث الفصول الأربعة ؟

السؤال الأول : اختر الإجابة الصحيحة علمياً بوضع علامة (✓) في المربع المقابل لها فيما يلي:

- جزء الكرة الأرضية المشار له بالرقم (1) يكون الفصل فيه



صيف

شتاء

ربيع

خريف

2

السؤال الثاني : أكمل العبارات التالية بما تراه مناسباً علمياً :

(1) تحدث ظاهرة الفصول الأربعة نتيجة دوران الأرض حول

(2) نلبس الملابس الثقيلة في فصل

2

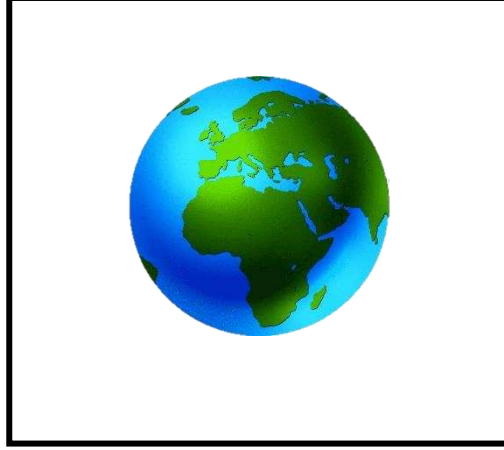


نماذج أوراق العمل التقييمية
الصف الثاني – الفترة الدراسية الثانية
العام الدراسي 2024-2025



وزارة التربية
التوجيه الفني العام للعلوم

السؤال الثالث : وضح بالرسم محور الكرة الأرضية بصورة صحيحة :



موقع
المنهاج الكويتية
almanahj.com/kw

1

الاسم :

الفصل :

الدرجة النهائية : /..... 5

درس : كيف تحمي نفسك من أشعة الشمس؟

السؤال الأول : اختر الإجابة الصحيحة علمياً بوضع علامة (✓) في المربع المقابل لها فيما يلي:



- اختر العنصر المختلف عن المجموعة الموضحة بالشكل

2

1

4

3

2

السؤال الثاني : أكمل العبارات التالية بما يناسبها من الكلمات

1 - يصاب الأطفال بحرق بالجلد عند التعرض لأشعة الشمس (المباشرة – غير المباشرة)

2 - القبعة تحمي الإنسان من أشعة الشمس . (فائدة – ضرر)

2

السؤال الثالث : لاحظ الصورة التالية , ثم أكمل الرسم بإضافة شيئين لحماية الطفل من أشعة الشمس القوية :



موقع
المنهج الكويتية
almanahj.com/kw



نماذج أوراق العمل التقييمية
الصف الثاني – الفترة الدراسية الثانية
العام الدراسي 2024-2025



وزارة التربية
التوجيه الفني العام للعلوم

الاسم :

الفصل :

الدرجة النهائية : / 5

درس : ما الموارد التي يمكن استخراجها من الأرض ؟

السؤال الأول : اختر الإجابة الصحيحة علمياً بوضع علامة (✓) في المربع المقابل لها فيما يلي:



- مورد طبيعي يستخدم كوقود للطائرات هو

الخشب

الفحم

النفط

الماء

2

السؤال الثاني : اختر من المجموعة (ب) ما يناسب المجموعة (أ) :

| الرقم | المجموعة (أ) | المجموعة (ب) |
|-----------|---------------------------------|--------------------------|
| (.....) | مورد طبيعي يستخدم لري المزروعات | (1) البنزين (2) الماء |
| (.....) | مورد يستخدم في تصنيع الأثاث | (1) الخشب (2) الفحم |

2

السؤال الثالث : أكمل البيانات على الرسم الموضح أدناه :

الرسم يوضح موارد طبيعية مختلفة





نماذج أوراق العمل التقييمية
الصف الثاني – الفترة الدراسية الثانية
العام الدراسي 2024-2025



وزارة التربية
التوجيه الفني العام للعلوم

الاسم :

الفصل :

الدرجة النهائية : / 5

درس : ما الذي يمكن إعادة تدويره ؟

السؤال الأول : اختر الإجابة الصحيحة علمياً بوضع علامة (✓) في المربع المقابل لها فيما يلي:



- يمكن تحويل جميع المواد التالية إلى مواد جديدة ما عدا :

بقايا الطعام

الأوراق المستخدمة

قنينة المياه

العلب الكرتونية

2

السؤال الثاني : أكمل العبارات التالية بما يناسبها علمياً :

(1) تحويل المواد التي نستخدمها لمواد جديدة يطلق عليه

(2) رمي النفايات بالأماكن المخصصة لها يضمن لك بيئة

2



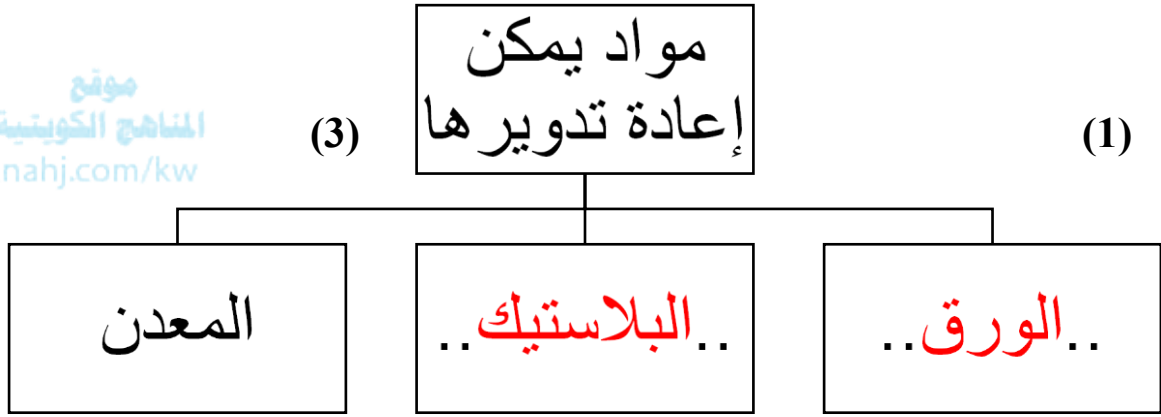
نماذج أوراق العمل التقييمية
الصف الثاني – الفترة الدراسية الثانية
العام الدراسي 2024-2025



وزارة التربية
التوجيه الفني العام للعلوم

السؤال الثالث: أكمل المنظم الشكلي الموضح أدناه :

موقع
المناهج الكويتية
almanahj.com/kw



الاسم :

الفصل :

الدرجة النهائية : / 5

درس : كيف نستخدم المغناطيس بأمان ؟

السؤال الأول : اختر الإجابة الصحيحة علمياً بوضع علامة (✓) في فيما يلي:

- من الإستخدامات غير الآمنة للمغناطيس :



2

السؤال الثاني : أكمل العبارات التالية بما يناسبها الكلمات بصورة صحيحة :

(1) ينصح باستخدام المغناطيس بطرق (آمنة – ضارة)


(2) الشكل (1) يمثل (مغناطيس – بوصلة)



الشكل (2)

2

السؤال الثالث : أكمل الجزء الناقص في البوصلة و حدد ما هو :



الاسم :

الفصل :

الدرجة النهائية : / 5

درس : كيف نستخدم البطارية بأمان ؟

السؤال الأول : اختر الإجابة الصحيحة علمياً بوضع علامة (✓) في المربع المقابل لها فيما يلي:

- المصباح الكهربائي سيضيء بقوة عند استخدام البطارية


موقع
المنهج الكويتية
almanahj.com/kw



2

السؤال الثاني : ضع بين القوسين علامة (✓) أمام العبارة الصحيحة وعلامة (X) أمام العبارة غير الصحيحة في كل مما يأتي :

(1) البطاريات المعرضة لأشعة الشمس القوية تحتفظ بقوتها . (.....)

(2) علامة تدل على عدم لعب الأطفال بالبطاريات . (.....) 

2

السؤال الثالث : أكمل الرسم لتوضح الطريقة المناسبة للمحافظة على البطارية و استخدامها بأمان :



الاسم :

الفصل :

الدرجة النهائية : / 5

درس : كيف يمكن نقل الأشياء ؟

السؤال الأول : اختر الإجابة الصحيحة علمياً بوضع علامة (✓) في المربع المقابل لها فيما يلي :

- آلة بسيطة تحتاجها لتسهيل حركة وسائل النقل .



2

السؤال الثاني : ضع علامة (✓) أمام العبارة الصحيحة وعلامة (x) أمام العبارة غير الصحيحة :

() 1) يساعدنا المستوى المائل على رفع العلم أعلى السارية .


() 2) العجلات مهمة لجميع أنواع الدراجات .

2

السؤال الثالث : صنف الصور التالية وفق ما هو مطلوب في الجدول:



4



3



2



1

| | | | |
|---|-----------------------|---|-----------------------|
|  | أشياء تحتاج للنقل إلى |  | أشياء تحتاج للنقل إلى |
| | | | |

1