



وزارة التربية
الإدارة العامة لمنطقة الاحمدى التعليمية
ثانوية جمانة بنت الحسن
قسم الاجتماعيات

WWW.KyeduFiles.Com
برنامج جازر التعليمي
مراجعة مادة

مبادئ علم الجغرافيا و علم الاقتصاد

للصف الحادي عشر – أدبي

WWW.KweduFiles.Com

العام الدراسي

٢٠١٧-٢٠١٨م

اعداد وتقدير المعلمة

منال العسال

WWW.KweduFiles.Com

الموجه الفني
عادل فهد الميلاس

مديرة المدرسة
نهاد اليوسف

رئيسة القسم
عنود الفودري

السؤال الأول أ- أكمل العبارات التالية بما يناسبها:-

- من فروع علم الجغرافيا ويتضمن دراسة كافة النواحي الجغرافية كالعلاقات المكانية للظواهر و الخصائص الطبيعية والبشرية والاقتصادية) وتعرف باسم الجغرافيا الإقليمية

- يطلق على الأشكال التضاريسية لسطح الأرض اسم الجيومورفولوجيا

- الشخص سواء طبيعيا أو معنويا الذي يقوم بتأليف ما تحتاجه عملية الانتاج يسمى

المنظم


- رغبات الفرد في سبيل الحصول على السلعة أو الخدمة تسمى الحاجة

- العالم الجغرافي القديم الذي اكد ان ميدان علم الجغرافيا لا شئ سوي الإنسان والبيئة يسمى فان ريبير

-مقياس الرسم (١ : ٥٠٠٠٠٠٠) يسمى المقياس النسبي

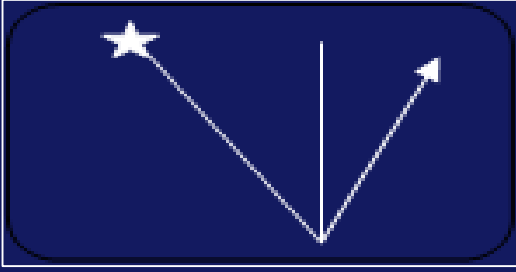
WWW.KweduFiles.Com

- اقرب الكواكب الصخرية الداخلية الى الشمس يسمى عطارد



-الشكل المقابل يمثل نوع من أنواع الكثران الرملية يطلق عليه اسم

الكثران الهلالية

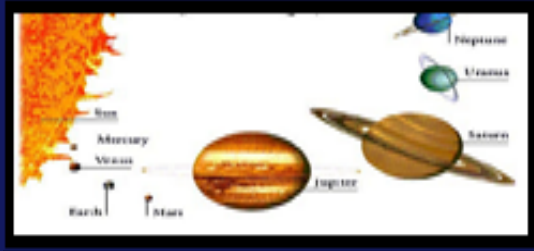


٥- الشكل المقابل يمثل احد عناصر الخريطة يسمى توجيه الخريطة



٦- الشكل المقابل يمثل نوع من المساقط يسمى الاسطواني

WWW.KweduFiles.Com



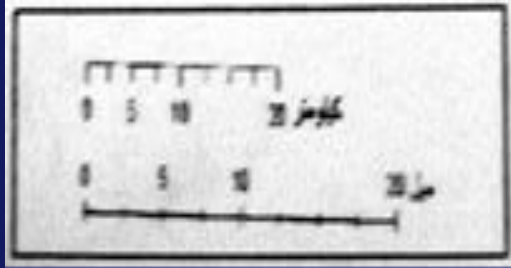
٧- يطلق على الشكل المقابل اسم المجموعة الشمسية



٨- يشير رقم (٢) في الشكل المقابل الى احد عناصر الخريطة
يسمى الخريطة الركنية

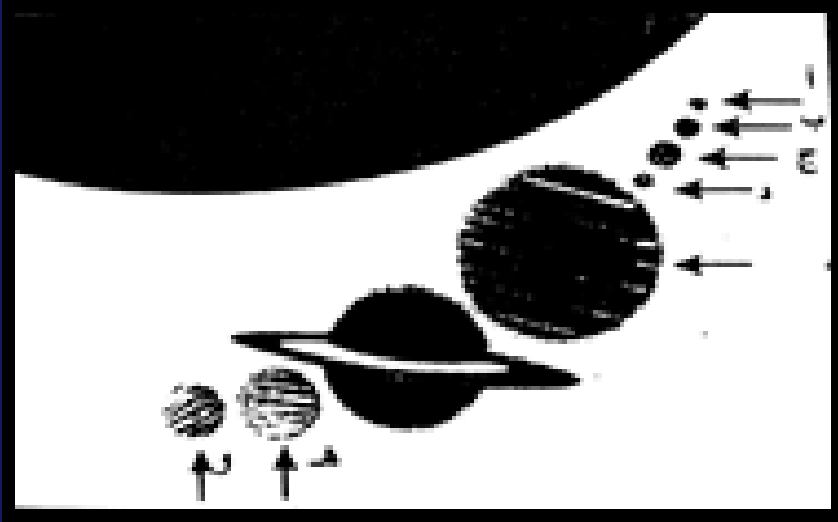


- تصنف الخريطة المقابلة حسب نوع مقياس الرسم الى خريطة ذات مقياس كبير




- مقياس الرسم في الشكل المقابل يعرف باسم مقياس خطى مقارن

- المجرة التي تقع ضمنها المجموعة الشمسية تسمى درب التبانة



- من الكواكب الصخرية (الداخلية) تحدث فية عواصف ترابية وتحتوي
صخوره الحديد والرمل والكالسيت يحمل في الشكل الحرف د

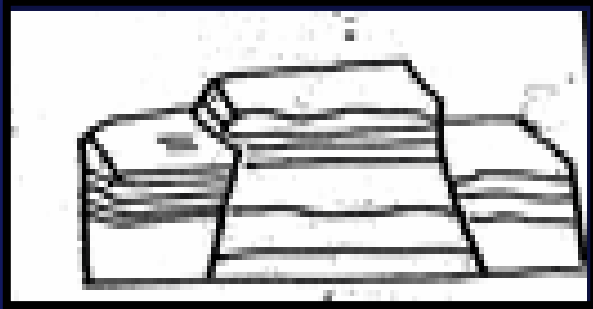


- الشكل المقابل يمثل نوع من أنواع الكثبان الرملية يطلق عليه
اسم الكثبان النجمية

- العالم الاقتصادي الذي نادى بالحرية الاقتصادية يسمى ادم سميث

- النظرية التي تؤكد على اتساع الكون ونشأته تسمى الانفجار العظيم

- أشعة شمسية غير مرئية وتتألف من الأشعة تحت الحمراء تسمى الحرارية



- الشكل المقابل يمثل أحد أنواع الانكسارات يسمى الهورست

- قارة يغطيها الجليد على شكل طبقة سميكة تبلغ مئات الأمتار تسمى القارة القطبية الجنوبية

- أهم خطوات البحث العلمي التي تمكن الباحث من التعرف على الجوانب التي لم تكن واضحة في معظم الكتب والمراجع تسمى الدراسة الميدانية

- الفصل الذي يحدث في نصف الكرة الجنوبي عندما تتعامد الشمس على خط الاستواء في ٢٢ سبتمبر من كل عام يسمى الربيع
WWW.KweduFiles.Com

- التي تتكون من صخور بازلتية وتتألف من السيليكات والماغنيسيوم في قشرة الأرض اسمها السيما

- أقل أنواع الزلازل حدوثاً وتنشأ على أعماق سحيقة من باطن الأرض تسمى الزلازل الجوفية (البلوتنية)

ب- أكتب المصطلح العلمي للمفاهيم التالية

- (الخريطة) عبارة عن صورة مصغرة لمظاهر سطح الأرض او لجزء منة ممثلة على لوحة مستوية بمقياس رسم معين

- (البركان) هو خروج المواد المنصهرة والغازات والأبخرة المحبوسة في جوف الأرض عبر مناطق الضعف الجيولوجي

- (علم الاقتصاد) هو احد العلوم الاجتماعية ويدرس سلوك الانسان بغرض الوصول لاشباع حاجاته المتعددة في ظل وجود موارد اقتصادية محدودة

- (السلع الاستهلاكية) هي السلع التي يستخدمها الفرد مباشرة لاشباع حاجاته

- (الكون) يقصد به مجموع الموجودات الكائنة في مختلف صور المادة والطاقة
والزمان والمكان

- (قانون الطلب) وجود علاقة عكسية بين الكمية المطلوبة للسلعة وسعرها مع ثبات

العوامل الأخرى. WWW.KwedaFiles.Com

- (مقياس الرسم) يقصد به النسبة بين القياسات على الخريطة وما يقابلها على الطبيعة

- (التعداد) العملية الكلية لجمع وتصنيف وتبويب المعلومات الديموغرافية والاقتصادية
والاجتماعية

(الببلوجرافيا) تخصص في تسجيل كل ما كتب عن موضوع معين على المستوى
العالمي

(النشاط الاقتصادي) عملية انتاج وتبادل السلع والخدمات بين البائع والمشتري

أختر الإجابة الصحيحة من بين البدائل التالية :-

١- كوكب غازي خارجي عملاق يشكل الهيدروجين فيه نسبة ٨٥% يسمى

- المشتري

- زحل

- اورانوس

WWW.KweduFiles.Com

٢- جميع المحددات التالية من محددات الطلب ما عدا

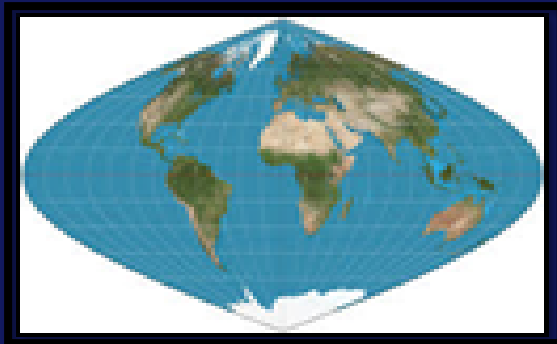
- الذوق

- الدخل

- تكاليف عناصر الإنتاج

- أسعار السلع الأخرى

- أسعار السلع الأخرى



٣- الشكل المقابل يمثل نوع من المساقط يسمى

- اسطواناني

- سانسون فلامستيد

- مريكطور

- مولفايدي


- الفرق الزمني بين كل خط طول هو :

- دقيقتان
- أربع دقائق
- ست دقائق
- ثمان دقائق



- الالتواء المرسوم امامك يمثل التواء

- مقلوب
- محذب
- مائل
- طية نائمة



- مقياس الرسم بالشكل المقابل يطلق عليه اسم

- المقياس المباشر
- المقياس النسبي
- المقياس الخطي
- المقياس الخطي المقارن


- يقصد بها تأثير العناصر الجوية في تفكك وتفتت وتحلل الصخور في موضعها تسمى

- التذرية

- التعرية

- التجوية

- البري



- الشكل المقابل يمثل نوع من أنواع الكثبان الرملية يطلق عليه اسم

- الكثبان الطولية

- الكثبان الهلالية

- الكثبان النجمية

- النباك



- الالتواء المرسوم امامك يمثل التواء

- محذب

- مقلوب

- مستلقي

- مائل

- حافة صخرية تشرف على البحر مباشرة بانحدار شديد تسمى
 - المسلات البحرية
 - الكهوف البحرية
 - الجروف البحرية
 - الاقواس البحرية
-



- نوع المسقط الذي تمثله الخريطة التي أمامك مسقط يسمى:
 - أسطواناني
 - ماركيتور
 - مولفايدي
 - سانسون فلامستيد
-

- هو الأرض المنخفضة التي تمتد على طول جانبي مجرى النهر
 - حوض النهر
 - مجرى النهر
 - وادي النهر
 - شبكة التصريف المائي
-

- وجود ندرة في الموارد الاقتصادية المتاحة بسبب حاجات الأفراد المتزايدة في ظل محدودية الموارد الاقتصادية

- الندرة
- المشكلة الاقتصادية
- الاختيار
- التضحية

- النظام الاقتصادي الذي يقوم على مبدأ العدالة الاجتماعية والتوزيع العادل للدخل هو

- النظام الإسلامي
- نظام اقتصاديات السوق
- النظام المختلط
- نظام اقتصاديات التخطيط المركزي

الجغرافيا المناخية أحد فروع الجغرافيا

- الإقليمية
- البشرية
- التاريخية
- الطبيعية

العام الميلادي الذي بدأت الكويت فيه بإصدار المجموعة الإحصائية السنوية :

١٩٦٤م -

١٩٦٨ -

١٩٦٢م -

١٩٦٦م -

عبارة عن اخاديد وقنوات طولية ضعيفة تفصل فيما بينها أشكال تشبه أضلع الحيوان

WWW.KweduFiles.Com
- المنخفضات الصحراوية

- النباك

- الكثبان الطولية

- الياردانج

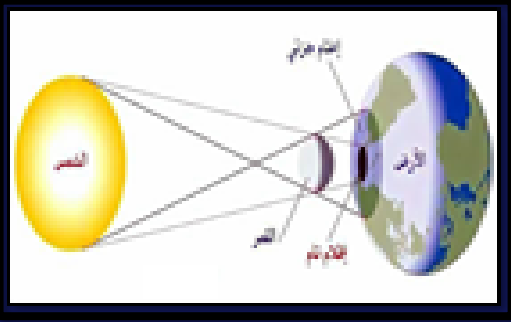
وجود علاقة طردية بين السعر والكمية المعروضة بافتراض ثبات العوامل الأخرى يسمى

- جدول الطلب

- قانون العرض

- جدول العرض

- قانون الطلب



- الشكل المقابل يمثل أحد نتائج دوران القمر حول الأرض يسمى
- خسوف القمر
 - الانقلاب الصيفي
 - كسوف الشمس
 - الاعتدال الربيعي

- العهد الذي ظهر فيه مصطلح الجغرافيا كوصف الأرض
- الحديث
 - الاعريقي
 - الإسلامي
 - الروماني

- الجغرافيا الاقتصادية أحد فروع الجغرافيا
- الطبيعية
 - البشرية
 - التاريخية
 - الإقليمية



إذا كان التوقيت في المنطقة (ص) السادسة من صباح يوم الاثنين
فكم يكون في المنطقة (س)
• السادسة من صباح يوم الثلاثاء - السادسة من مساء يوم الثلاثاء
السادسة من صباح يوم الأربعاء - السادسة من مساء يوم الأربعاء

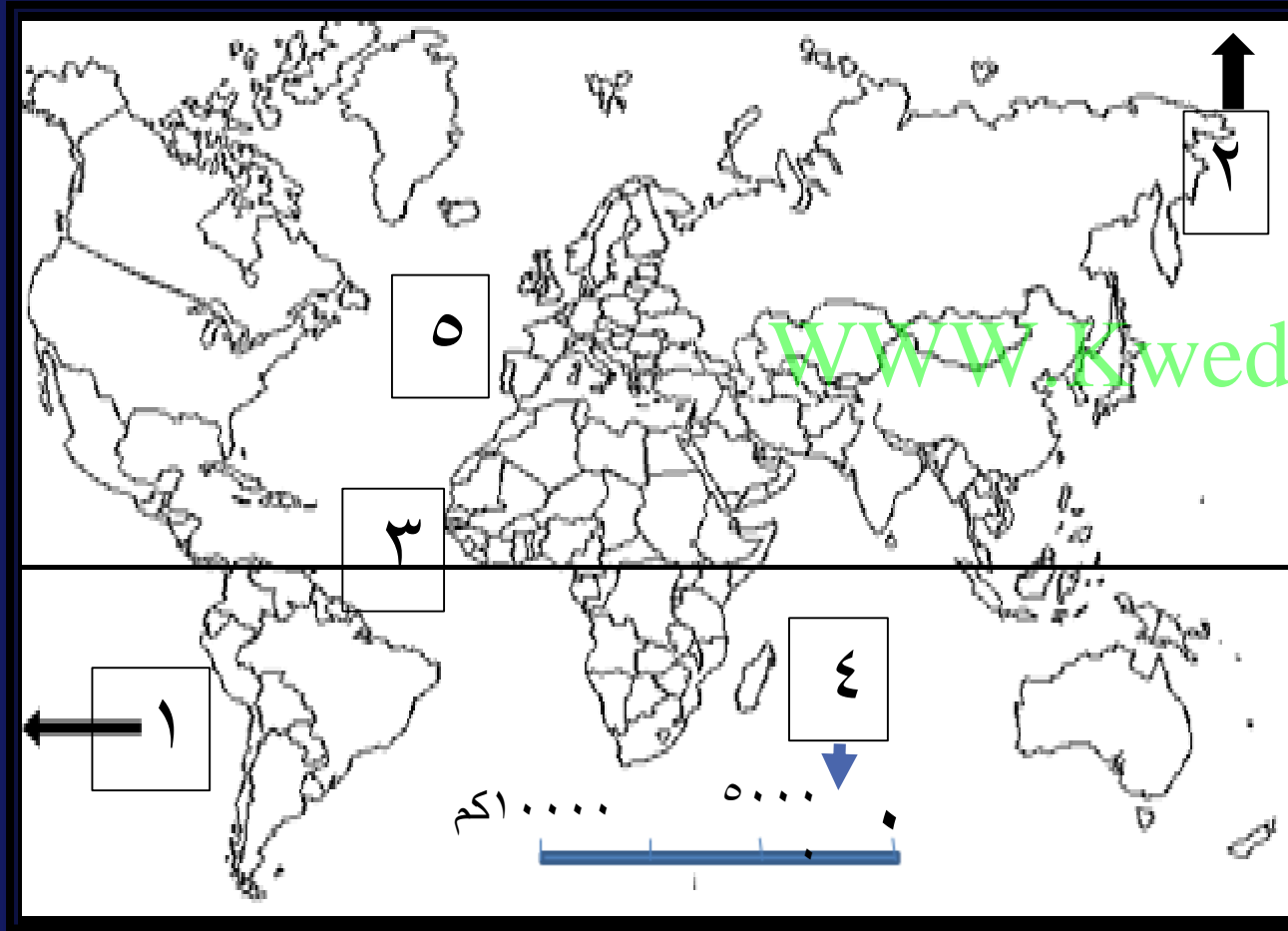
WWW.KweduFiles.Com

- عند عبور الطائرة خط ١٨٠ فاذا كانت الطائرة متجة شرقا وكانت الساعة الرابعة بعد
ظهر يوم الجمعة فيعدل التوقيت ليصبح
- الرابعة بعد ظهر يوم السبت
 - الرابعة من صباح يوم السبت
 - الرابعة بعد ظهر يوم الخميس
 - الرابعة من صباح يوم الخميس

اختر من العمود (أ) ما يناسب العمود (ب) بوضع الرقم في المكان المناسب:-

(أ)	الرقم	(ب)
١- النمو الاقتصادي	٤	الوسط الذي يتم من خلاله مبادلة السلع والخدمات بين البائعين والمشتريين بمقابل نقدي
٢- قوة العمل	٣	هو الارتفاع المستمر في المستوى العام لأسعار السلع والخدمات في فترة زمنية محددة
٣- التضخم	١	النسبة المئوية للزيادة في الناتج المحلي الاجمالي
٤- السوق	٥	خط وهمي يصل بين القطبين الشمالي والجنوبي
٥- المحور	٢	كل من هم بين عمر ١٨ عاما و ٧٠ عاما ولديهم القدرة والرغبة بالعمل

لاحظ خريطة العالم ثم اكتب الرقم الدال على العبارات التالية :-



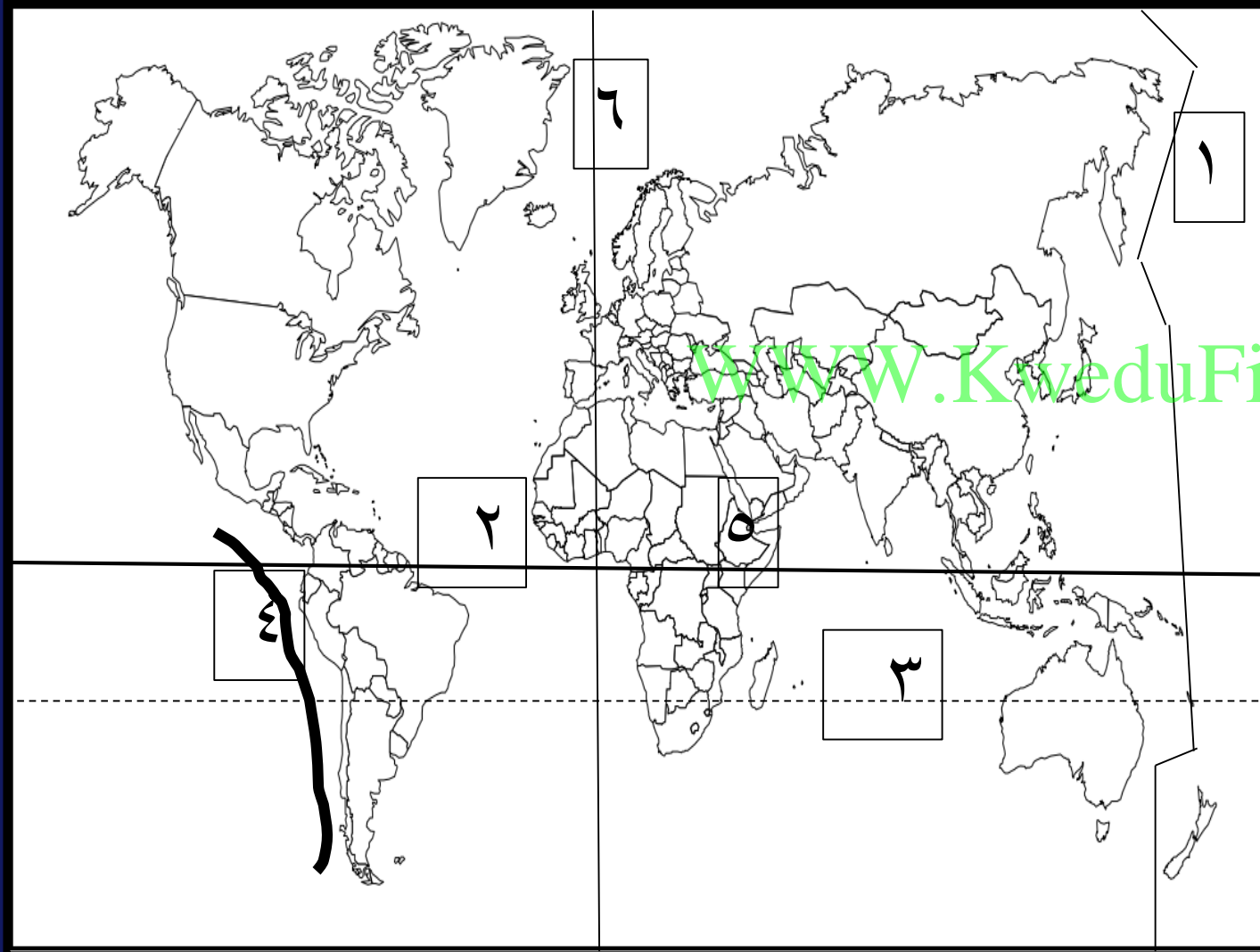
توجيه الخريطة من العناصر الأساسية
للخريطة ويحمل على الخريطة الرقم ٢

مقياس الرسم يمثله الرقم ٤

المحيط الاطلنطي يمثله الرقم ٥

دائرة العرض الرئيسية يمثله الرقم ٣

لاحظ خريطة العالم ثم اكتب الرقم الدال على العبارات التالية :-



* نطاق حلقة النار يمثلته الرقم ٤

خط جرينتش يمثلته الرقم ٦

* نطاق الاخدود الافريقي العظيم يمثلته الرقم ٥

مدار الجدي يمثلته الرقم ٣

خط التوقيت العالمي يمثلته الرقم ١

السؤال الثاني أ- علل لما يلي تعليلا صحيحا:-

- أهمية علم الجغرافيا في حياتنا

• عمليات التخطيط الإقليمي

• التوجيهات الجغرافية WWW.KweduFiles.Com

• عمليات التخطيط البيئي

السؤال الثانى أ- علل لما يلى تعليلا صحيحا:-

- تختلف الأنظمة الاقتصادية من دولة لأخرى

* على أساس ملكية الموارد الاقتصادية
WWW.KweduFiles.Com

* دور الدولة بالاقتصاد

* تحديد أسعار السلع والخدمات

أ- علل لما يلي تعليلا صحيحا:-

- أهمية دراسة علم الاقتصاد

يعتبر محور مهم واساسي للحياة اليومية للأفراد

يسعى لإيجاد الحلول المناسبة والتي تتوافق مع إمكانيات المجتمع

WWW.KweduFiles.Com

يحقق العدالة بين افراد المجتمع

يحقق ازدهار الدولة في كافة الجوانب التعليمية والصحية

أ- علل لما يلي تعليلا صحيحا:-

- للزلازل آثار ومخاطر تخريرية

يسبب ترحرح أو انتقالا لأجزاء من قشرة الأرض في الاتجاهين الأفقي والرأسي.

ترفع أو تخفض أجزاء من قاع البحر

WWW.KweduFiles.Com

حدوث تسونامي

خسائر فادحة في الممتلكات والأرواح

أ- علل لما يلي تعليلا صحيحا:-

- اختلاف أشكال الشبكات النهرية من نهر الى آخر

الظروف الجيولوجية .

درجة الانحدار

WWW.KweduFiles.Com

حجم وموسم المطر

نوع الغطاء النباتي في الحوض

أ- علل لما يلي تعليلا صحيحا:-

- أهم مميزات الاستشعار عن بعد .

توفر معلومات دقيقة بسهولة تامة يصعب الوصول اليها بالطرق الاعتيادية.

درجة الانحدار

WWW.KweduFiles.Com

توفر الجهد والمال والوقت

سرعة انجاز المشاريع التنموية للدولة

أ- علل لما يلي تعليلا صحيحا:-

- اختلاف العلماء بتصنيف وتسمية بلوتو ككوكب

* لصغر حجمه

* عدم انتظام مداره WWW.KweduFiles.Com

ب دئل على صحة العبارات التالية:-

- للصخور أهمية كبرى في حياتنا

تمثل المواد الخام التي نحتاجها في اعمال البناء

تعتبر مكامن لبعض مصادر الطاقة كالنفط

WWW.KweduFiles.Com

تعتبر مصدرا لبعض المعادن كالفوسفات

تعتبر مصدرا للمياه الجوفية

دلل على صحة العبارات التالية:-

- (نظرية الانفجار العظيم لنشأة الارض تقوم على الدليل المادي البين)

* الدليل القرآني قوله تعالى (والسماء بنيناها بأييد وإنا لموسعون)

WWW.KweduFiles.Com

* الدليل العلمي:-مقارنة صورة قديمة تم التقاطها للكون مع صورة

حديثة وجد ان جميع النجوم قد تحركت من مكانها

ب-دال على صحة العبارات التالية:-

- للكائنات الحية دورا هاما في عمليات التجوية الحيوية

* الأشجار مثلا تضرب بجذورها الصخر وتؤدي إلى توسيع الشقوق وفي النهاية تتفصل كتل الصخر

WWW.KweduFiles.Com

الحيوانات الأرضية كالجرذان والأرانب والحشرات تحفر ماويها في الأرض وتساعد على تفتيت الصخر

عندما تموت الكائنات النباتية والحيوانية تتعفن وتتحلل بقاياها تكون أحماضا عضوية تنشط عمليات التجوية الكيميائية .

ب-دلل على صحة العبارات التالية:-

- للبراكين أثرا كبيرا في النشاط البشري

نتيجة لخصوبة التربة البركانية

WWW.KweduFiles.Com

تخرج من المصهورات البركانية الكثير من المعادن المهمة

تستخدم مياه الينابيع والعيون الحارة في عمليات التدفئة.

- تستغل البراكين النشطة في السياحة مثل براكين هاواي وآيسلندا

ب دئل على صحة العبارات التالية:-

(مناطق الزلازل الرئيسية في العالم لا تتركز في نطاق واحد)

* نطاق سواحل المحيط الهادي (حلقة النار)

WWW.KweduFiles.Com

*النطاق الالبي

* نطاق حافة وسط الأطلنطي

* نطاق الأخدود الإفريقي العظيم

ب- دئل على صحة العبارات التالية:-

- للنمو الاقصادي أهمية داخل الدولة

توافر فرص العمل

زيادة الدخل

WWW.KweduFiles.Com

ارتفاع مستوى المعيشة.

ج- أكتب فيما يلي:-

- أهم ظاهرات السطح المرتبطة بفعل الرياح كعامل نحت .

الاشكال الصخرية

المنخفضات الصحراوية WWW.KweduFiles.Com

الياردانج

الجلاميد المصقولة

ج- أكتب فيما يلي:-

- محددات العرض .

تكاليف عناصر الانتاج

WWW.KweduFiles.Com

التطور التقني

الدعم والضرائب

ج- أكتب فيما يلي:-

- خصائص المشكلة الاقتصادية.

الندرة

الاختيار

التضحية

WWW.KweduFiles.Com

ج- أكتب فيما يلي:-

- العوامل المؤثرة في الطلب.

الذوق

WWW.KweduFiles.Com

الدخل

أسعار السلع الأخرى

توقعات الاسعار

ج- أكتب فيما يلي:-

- مراحل النشاط الاقتصادي.

مرحلة السلع والخدمات

WWW.KweduFiles.Com

مرحلة الانتاج

مرحلة الموارد الاقتصادية

ج- أكتب فيما يلي:-

- أنواع الأسواق

سوق احتكار القلة

سوق المنافسة الاحتكارية WWW.KweduFiles.Com

سوق الاحتكار

سوق المنافسة الكاملة

ج- أكتب فيما يلي:-

- أسس تصنيف الخرائط

مقياس الرسم

موضوع الخريطة

شكل الخريطة

WWW.KweduFiles.Com

أدرس الجدول التالي والذي يمثل بعض البيانات للدولة س في عام ٢٠١٥ م ثم أجب
عن الأسئلة التي تليه

الانتاج	السعر بالدينار الكويتي	العام
		٢٠١٥
٣٠٠٠	٥٠	السلعة x
١٥٠٠	٣٠	السلعة y

www.KweduFiles.Com

أحسب قيمة الناتج المحلي للدولة (س)

$$\text{الناتج الإجمالي المحلي للدولة (س) لعام ٢٠١٥ م} = ٣٠٠٠ \times ٥٠ + ١٥٠٠ \times ٣٠$$

١٩٥٠٠٠ دينار

أدرس الجدول التالي والذي يمثل بعض البيانات للدولة (س) في عام ٢٠١٥م (القيم بالمليون دينار كويتي)

الواردات	الصادرات	الاستثمار الاجمالي	الانفاق الحكومي	الاستهلاك
٥٥	٦٣	٨٠	٤٢	٣٧٠

WWW.KweduFiles.Com

أحسب الناتج المحلي الإجمالي للدولة (س)

إجمالي الناتج المحلي للدولة (س) لعام ٢٠١٥م = الإنفاق الاستهلاكي + الإنفاق الحكومي +
الإنفاق الاستثماري + الصادرات - الواردات

$$= 370 + 42 + 80 + 55 - 63 = 504 \text{ مليون دينار}$$

إذا بلغ الدخل القومي ٣٠٠ مليار دولار، وعدد السكان ٢٠ مليون نسمة، احسبى متوسط دخل الفرد؟

الناتج المحلي الاجمالي

WWW.KweduFiles.Com
عدد السكان

متوسط دخل الفرد =

$$\text{متوسط نصيب الفرد من الدخل} = \frac{300000000000}{20000000} = 15000 \text{ دولار}$$

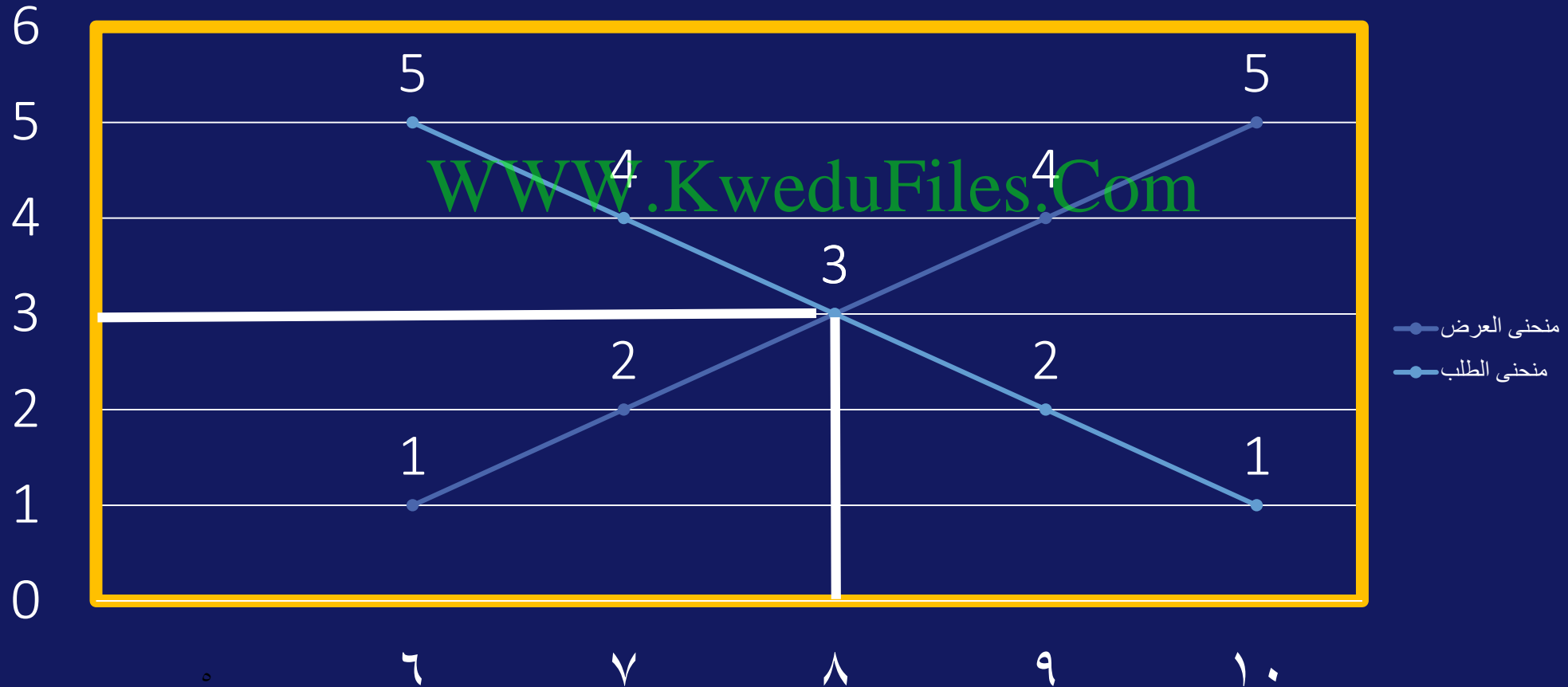
أدرس الجدول الذي أمامك لسلعة ما ثم أجب عن الأسئلة التي تليه

الكمية المطلوبة	الكمية المعروضة	السعر (دينار كويتي)
١٠	٦	١
٩	٧	٢
٨	٨	٣
٧	٩	٤
٦	١٠	٥

١- أرسم منحنى الطلب ومنحنى العرض في السوق
أوجد السعر والكمية المتوازنة في هذا السوق

١- أرسم منحنى الطلب ومنحنى العرض في السوق

أوجد السعر والكمية المتوازنة في هذا السوق سعر التوازن = ٣ كمية التوازن = ٨



اذا كان لدينا دولة يبلغ حجم السكان فيها ٢٠٠ مليون نسمة وتبلغ قوة العمل ١٠٠ مليون شخص في حين ان ٩٢ مليون عامل منهم موظفين ، احسبي معدل البطالة في الدولة

الحل

$$\text{قانون معدل البطالة} = \frac{\text{عدد العاطلين عن العمل}}{\text{قوة العمل}} \times ١٠٠$$

$$\text{عدد العاطلين} = ١٠٠ - ٩٢ = ٨ \text{ مليون}$$

$$= ٨\% = \frac{٨ \dots \dots \dots}{١٠ \dots \dots \dots} \times ١٠٠$$

كيفية حساب مسائل الزمن

الخطوة الأولى

حساب فرق الخطوط = اذا كانت المدينتان تقعان في الشرق **نطرح**
اما اذا كانت المدينتان تقعان في اتجاهين مختلفين (مدينة
في الشرق والأخرى في الغرب) **نجمع**

WWW.KweduFiles.Com

الخطوة الثانية

حساب فرق الزمن = ناتج الخطوة الأولى $\times 4$ دقائق $\div 60$ دقيقة

الخطوة الثالثة

حساب فرق التوقيت = ان تكون المدينة المطلوب معرفة توقيتها تقع في الغرب عندئذ **(نطرح)** والعكس
صحيح

بدأت مباراة كرة القدم في الرباط الواقعة على خط طول ١٥ غرباً في تمام الساعة السادسة مساءً فمتى يشاهدها جمهور دولة الكويت عند خط طول ٤٥ شرقاً

خطوات حل المسألة

١- فرق خطوط الطول = $٤٥ + ١٥ = ٦٠$ خط طول

٢- فرق الدقائق = $٤ \times ٦٠ = ٢٤٠$ دقيقة

٣- فرق الساعات = $٢٤٠ \div ٦٠ = ٤$ ساعة

٤- الوقت في الكويت = $٤ + ٦ = ١٠$ مساءً

تم عرض افتتاح مجلس الامة في تلفزيون دولة الكويت التي يمر بها خط الطول ٤٥ شرقاً الساعة الثامنة صباحاً فمتى يتم مشاهدة هذا الافتتاح في مسقط التي يمر بها خط الطول ٦٠ شرقاً

خطوات حل المسألة

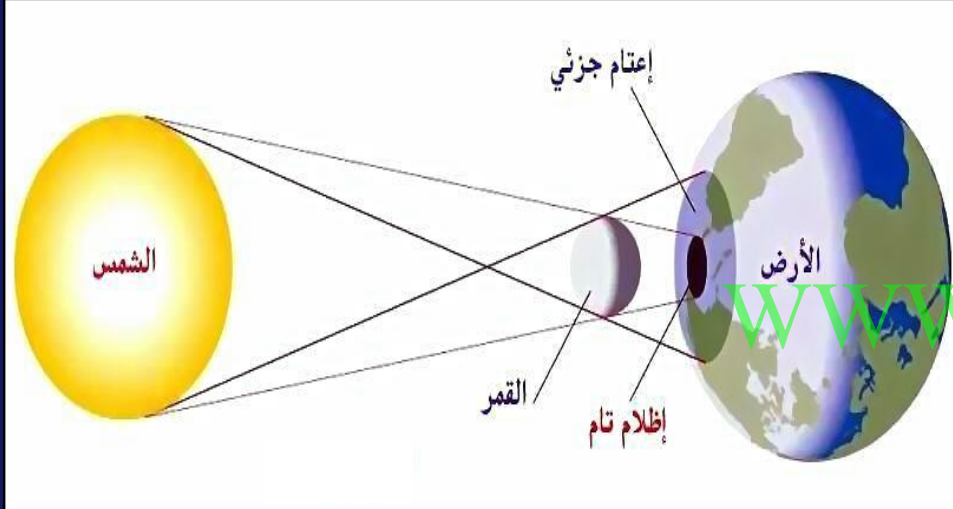
١- فرق خطوط الطول = $٦٠ - ٤٥ = ١٥$ خط طول WWW.KweduFiles.Com

٢- فرق الدقائق = $٤ \times ١٥ = ٦٠$ دقيقة

٣- فرق الساعات = $٦٠ \div ٦٠ = ١$ ساعة

٤- الوقت في مسقط = $١ + ٨ = ٩$ صباحاً

- أكتب اسم الظواهر في الأشكال التالية وأسباب حدوثها



الشكل (١)

www.KweduFiles.Com

الشكل رقم (١) اسم الظاهرة

كسوف الشمس

أسباب حدوثها

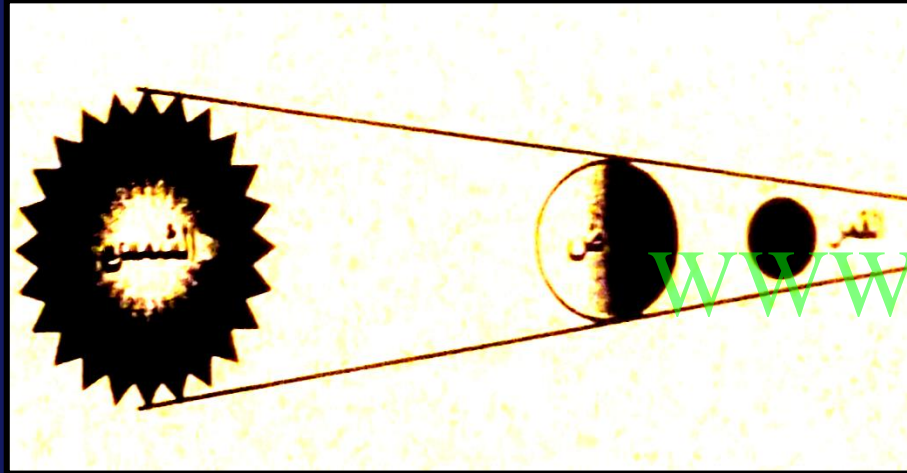
عند وقوع القمر بين الشمس والأرض

- أكتب اسم الظواهر في الأشكال التالية وأسباب حدوثها

الشكل رقم (١) اسم الظاهرة

خسوف القمر

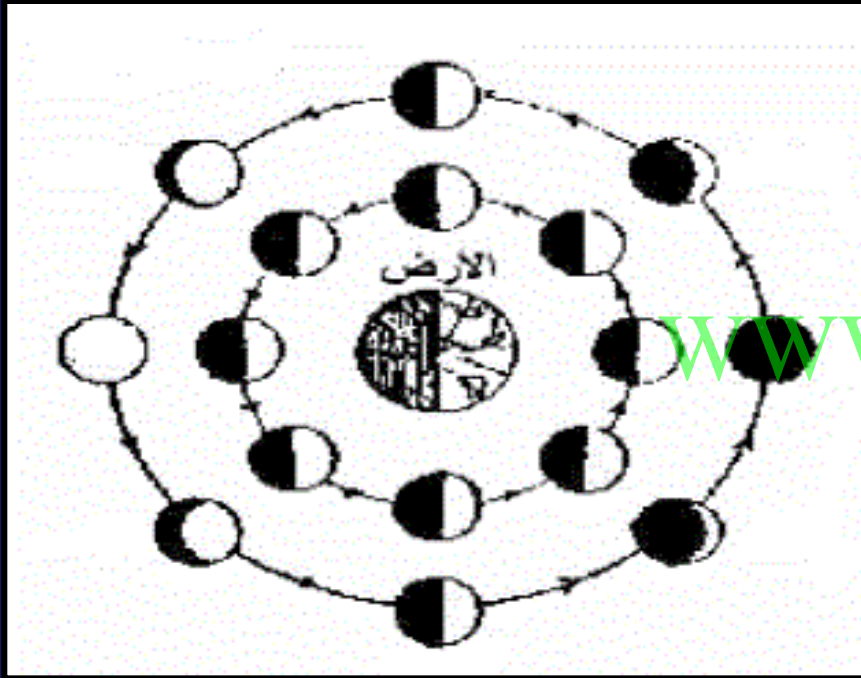
أسباب حدوثها



الشكل (٢)

عند وقوع الأرض بين الشمس والأرض

- أكتب اسم الظواهر في الأشكال التالية وأسباب حدوثها



الشكل (٣)

الشكل رقم (١) اسم الظاهرة

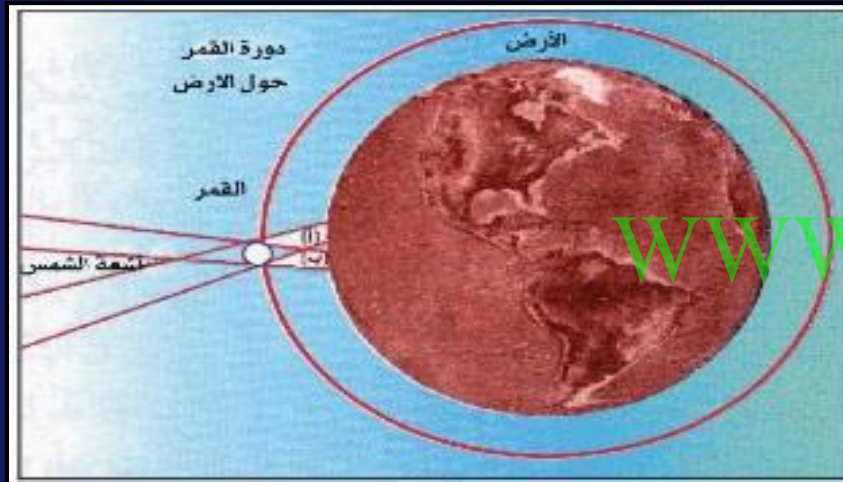
اختلاف أوجه القمر

أسباب حدوثها

نتيجة دوران القمر حول الأرض

- أكتب اسم الظواهر في الأشكال التالية وأسباب حدوثها

الشكل رقم (١) اسم الظاهرة



الشكل (٤)

الكسوف الحلقي للشمس

أسباب حدوثها

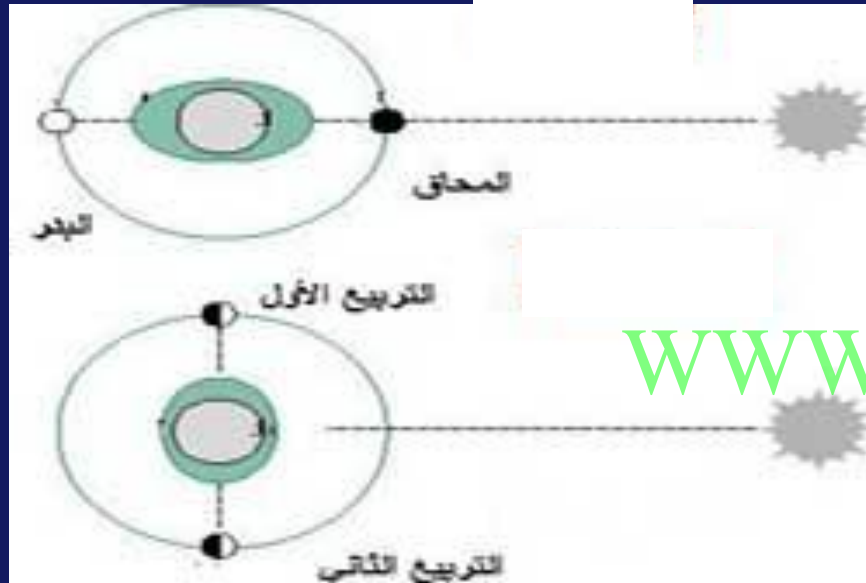
عند وقوع القمر بين الشمس والأرض بحيث يظهر من الشمس حلقة من الضوء تخفي داخلها قرص الشمس

- أكتب اسم الظواهر في الأشكال التالية وأسباب حدوثها

الشكل رقم (١) اسم الظاهرة

المد والجزر

أسباب حدوثها



الشكل (٥)

WWW.KweduFiles.Com

بسبب اختلاف قوة الجاذبية بين الشمس والقمر
وموقعهما بالنسبة للأرض

فرق بين كل من :-

النمو الاقتصادي	مورد العمل
النسبة المئوية للزيادة في الناتج المحلي الاجمالي	الجهد الذي يبذله الانسان سواء بدنيا أو ذهنيا لانتاج السلع والخدمات مثل العامل

WWW.KweduFiles.Com

النمو الاقتصادي	التنمية الاقتصادية
النسبة المئوية للزيادة في الناتج المحلي الاجمالي	مجموع السياسات التي تتخذها الحكومة والتي تؤدي الى زيادة النمو الاقتصادي بدافع ذاتي

قارن بين كل من :

وجه المقارنة	اتجاه الشمال الحقيقي	اتجاه الشمال الجغرافي
التعريف	هو الذي يشير الى نقطة القطب الشمالي الجغرافي	هو الموقع الذي تشير إليه الإبرة المغناطيسية الحرة
الرسم		

مع تمنياتى لكم بالنجاح والتوفيق

WWW.KweduFiles.Com