

تم تحميل هذا الملف من موقع المناهج الكويتية



الملف أوراق عمل تقييمية مجانية

[موقع المناهج](#) ⇨ [المناهج الكويتية](#) ⇨ [الصف الأول](#) ⇨ [علوم](#) ⇨ [الفصل الثاني](#)

روابط مواقع التواصل الاجتماعي بحسب الصف الأول



روابط مواد الصف الأول على تلغرام

[الرياضيات](#)

[اللغة الانجليزية](#)

[اللغة العربية](#)

[التربية الاسلامية](#)

المزيد من الملفات بحسب الصف الأول والمادة علوم في الفصل الثاني

الطرق الامنة في التعامل مع الماء	1
الماء والجليد وبخار الماء	2
أوراق عمل النمو	3
مذكرة مفيدة في مادة العلوم	4
مذكرة علوم	5



نموذج الإجابة لأوراق العمل التقييمية

الصف الأول - الفترة الدراسية الثانية

العام الدراسي 2024 - 2025




وزارة التربية
التوجيه الفني للعام للعلوم

نموذج إجابة أوراق العمل التقييمية للصف الأول الابتدائي

الفترة الدراسية الثانية

العام الدراسي
2025-2024

موقع
المنهج الكويتي
almanahj.com/kw



1

الصف الأول



SCAN ME



فريق إعداد التوجيهات الفنية

الاسم :

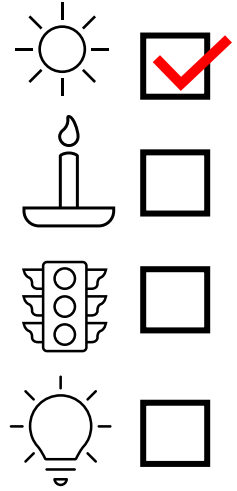
الفصل :

الدرجة النهائية : /..... 5

درس : مصادر الضوء من حولنا

السؤال الأول : اخترا لإجابة الصحيحة علمياً بوضع علامة (✓) في المربع المقابل لها فيما يلي

1. _ من مصادر الضوء الطبيعيه :



2

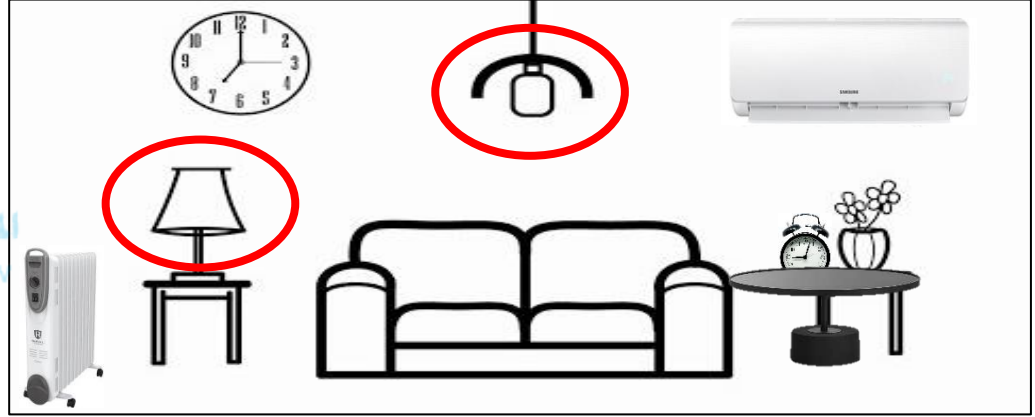
السؤال الثاني : ضع علامه (✓) امام العبارة الصحيحة و علامة (x) امام العبارة غير الصحيحة فيما يلي :

١- النظر الى الشمس مباشرة يعتبر سلوك صحيح . (X)

٢- النار تعطينا الضوء والحراره معاً. (✓)

2

السؤال الثالث : أشرب دائرة الى مصادر الضوء في الرسم التالي :



الاسم :

الفصل :

الدرجة النهائية : / 5

درس : مصادر الحرارة من حولنا

السؤال الأول : اختر الإجابة الصحيحة علمياً بوضع علامة (✓) في المربع المقابل لها فيما يلي:

- جهاز يصدر حرارة :



2

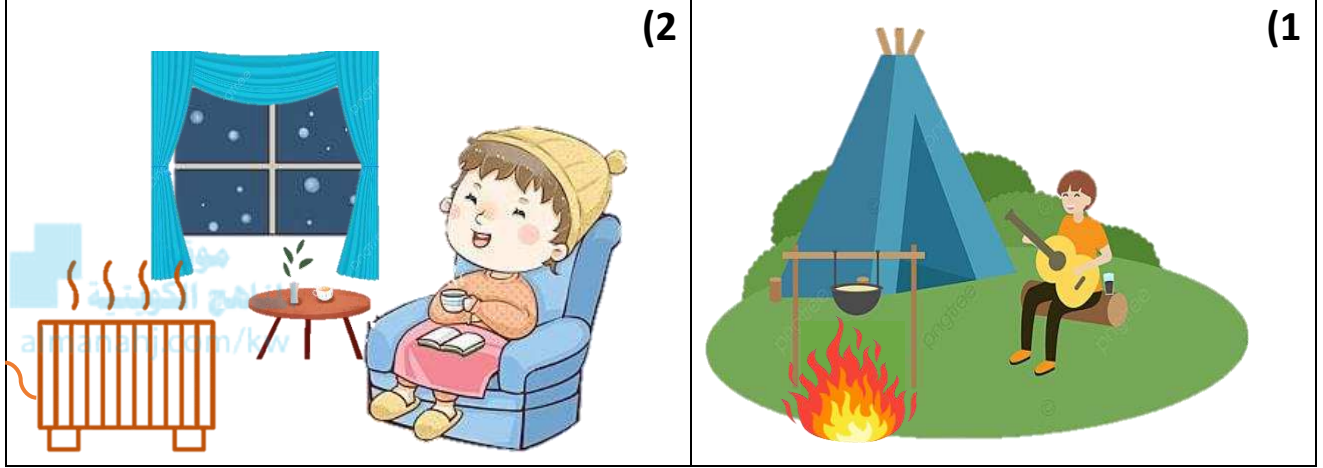
السؤال الثاني : ضع علامة (✓) أمام العبارة الصحيحة وعلامة (✗) أمام العبارة غير الصحيحة في كل مما يأتي:

(✓) (1) الابتعاد عن النار من السلوكيات الصحيحة .

(✓) (2) يمكن الاستفادة من مصادر الحرارة لتسخين الطعام

2

السؤال الثالث : أكمل الرسم بمصدر حرارة مناسب :



1

الاسم :

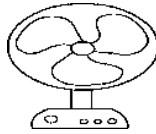
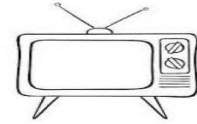
الفصل :

الدرجة النهائية : / 5

درس : كيف تعمل الأجهزة الكهربائية بأمان ؟

السؤال الأول : اختر الإجابة الصحيحة علمياً بوضع علامة (✓) في المربع المقابل لها فيما يلي:

- جهاز يعمل بواسطة البطارية :



2

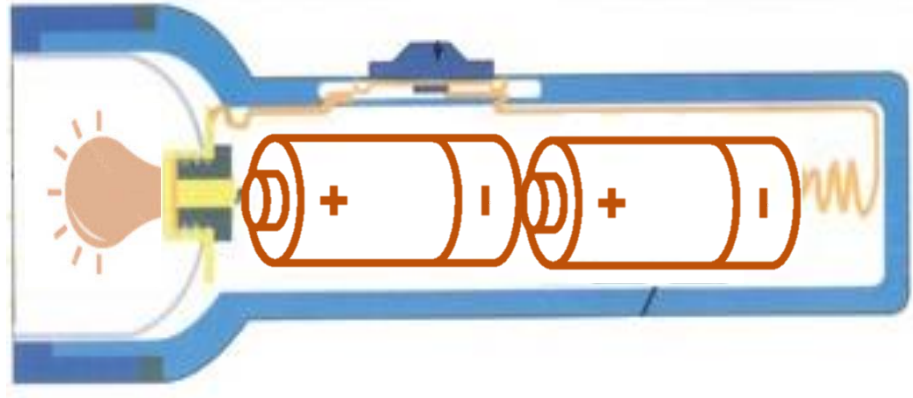
السؤال الثاني : أكمل العبارات التالية بما تراه مناسباً من الكلمات :

(1) المصباح اليدوي يطفأ عن طريق ال...مفتاح التشغيل .. (البطارية – مفتاح التشغيل)

(2) تعمل المدفئة في ليالي الشتاء بواسطة الكهرباء.... (البطارية – الكهرباء)

2

السؤال الثالث : أكمل الجزء الناقص بالرسم للاستفادة من الأداة الموضحة :



الاسم :

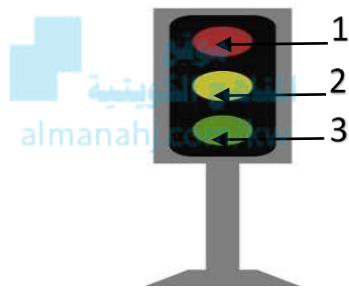
الفصل :

الدرجة النهائية : / 5

درس : استخدام التكنولوجيا (إشارة المرور)

في عبور الطريق بأمان

السؤال الأول : اختر الإجابة الصحيحة علمياً بوضع علامة (✓) في المربع المقابل لها فيما يلي:



1) إضاءة إشارة المرور التي تعني استعداد مشار لها بالرقم :

3 و 1

3 و 2

2

1

2

السؤال الثاني : ضع علامة (✓) امام العبارة الصحيحة وعلامة (x) امام العبارة غير الصحيحة

فيما يلي

(✓)

1) إشارة المرور لها ثلاث ألوان تساعد في تنظيم حركة المرور .

(X)


2) إشارة المرور المضيئة باللون الأحمر تعني سير السيارات .

2

السؤال الثالث : أشر إلى جزء الرسم المطلوب أدناه :

○ - أشر إلى إشارة المرور بعلامة ال

△ - أشر إلى إشارة المشاة بعلامة ال



الاسم :

الفصل :

الدرجة النهائية : / 5

درس : وضع قواعد السلامة

السؤال الأول : اختر الإجابة الصحيحة علمياً بوضع علامة (✓) في المربع المقابل لها فيما يلي:

- إحدى العلامات الإرشادية تبين أن أمامك عمال يشتغلون :



السؤال الثاني : أكمل العبارات التالية بما يناسبها من الكلمات بصورة صحيحة:

(1) تشير هذه العلامة إلى  عبور المشاة ----- (مدرسة - عبور المشاة)

(2) يجب عدم استخدام بوق السيارة بالقرب من --المستشفى-- (المستشفى - الحديقة)

السؤال الثالث : أكمل الرسم بإضافة العلامة الإرشادية المناسبة لتنظيم السير :



موقع
المنهج الكويتية
almanahj.com/kw

1

الاسم :


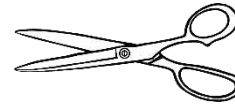
الفصل :

الدرجة النهائية : / 5

درس : ماذا يجذب المغناطيس ؟

السؤال الأول : اختر الإجابة الصحيحة علمياً لكل من العبارات التالية بوضع علامة (√) في المربع المقابل لها :

موقع
المناهج الكويتية
almanahj.com/kw



2


السؤال الثاني : ضع علامة (√) أمام العبارة الصحيحة و علامة (X) أمام العبارة غير الصحيحة :

1- للمغناطيس أشكال مختلفة. (√)

2- يجذب المغناطيس  (X)

2

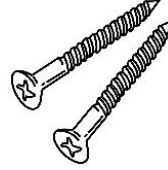
السؤال الثالث : صنف الأشياء التالية في مجموعتين حسب الجدول :



(4)



(3)



(2)



(1)

موقع
المناهج الكويتية
almanahj.com/kw

أشياء لا يجذبها المغناطيس	أشياء يجذبها المغناطيس
1،3	4،2

1

الاسم :

الفصل :

الدرجة النهائية : / 5

درس : أنا أصنع البوصلة

السؤال الأول : اختر الإجابة الصحيحة علمياً بوضع علامة (✓) في فيما يلي:



- البوصلة الموضحة أمامك تشير إلى إتجاه :

شرق

شمال

غرب

جنوب

2

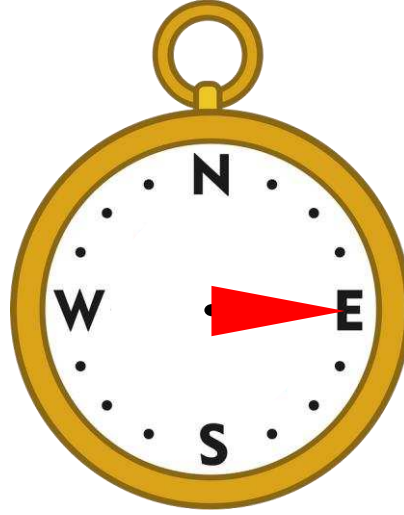
السؤال الثاني : أكمل العبارات التالية بما يناسبها الكلمات بصورة صحيحة :

(1) نستخدم البوصلة لتحديد الإتجاه (الوقت – الإتجاه)

(2) عدد الإتجاهات الأساسية أربعة (أربعة – خمسة)

2

السؤال الثالث : أكمل الجزء الناقص من رسم البوصلة لكي تشير إلى الاتجاه المطلوب منك :



تشير البوصلة لجهة الشرق

الاسم :

الفصل :

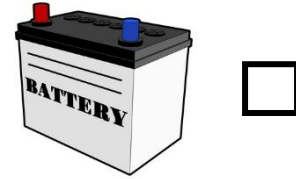
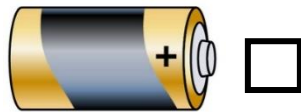
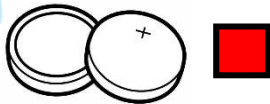
الدرجة النهائية : /..... 5

درس : كيف أستفيد من البطارية A

السؤال الأول : اختر الإجابة الصحيحة علمياً بوضع علامة (✓) في المربع المقابل لها فيما يلي:

1) تعمل ساعة اليد بواسطة :

موقع
المناهج الكويتية
almanahj.com/kw



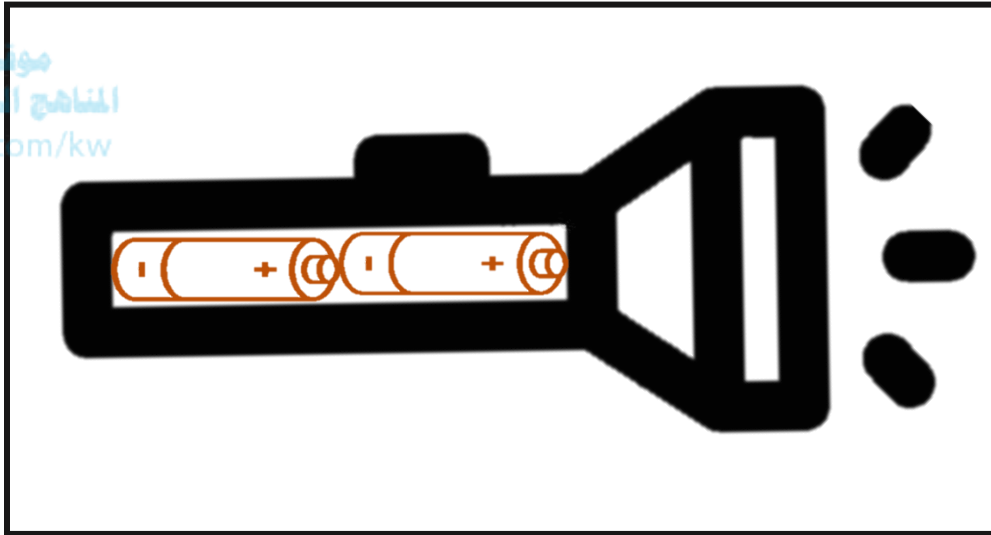
2

السؤال الثاني : اختر العبارة من المجموعة (ب) واكتب رقمها أمام ما يناسبها من عبارات في المجموعة (أ) :

المجموعة (ب)	المجموعة (أ)	الرقم
<p>-1</p>	المصباح الأشد إضاءة	...1...
<p>-2</p>		
<p>-3</p>	جهاز يعمل بالبطارية	...3...
<p>-4</p>		

2

**السؤال الثالث : ارسم الجزء الناقص بالرسم الموضح بصورة صحيحة بحيث تجعل المصباح
يضيء :**



1

الاسم :

الفصل :

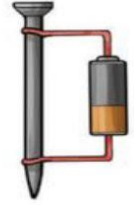
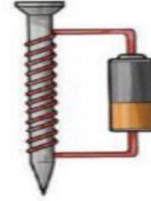

الدرجة النهائية : / 5

درس : كيف أستفيد من البطارية B

السؤال الأول : اختر الإجابة الصحيحة علميا بوضع علامة (✓) في المربع المقابل لها فيما يلي :

الشكل الذي يوضح المغناطيس الكهربائي بصورة صحيحة هو

موقع
المناهج الكويتية
almanahj.com/



2

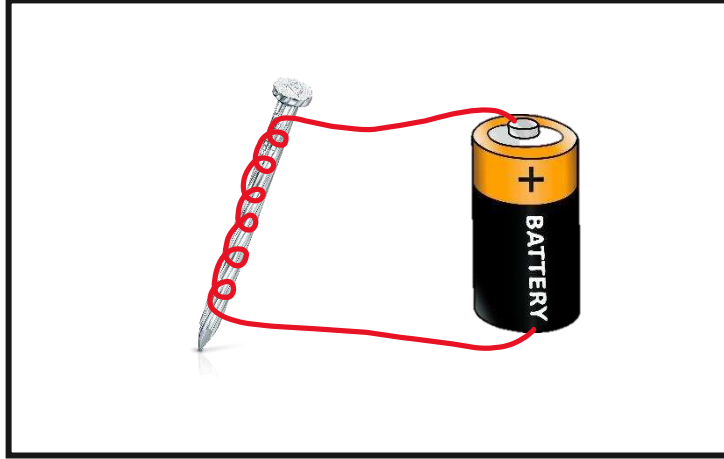
السؤال الثاني : ضع علامة (✓) أمام العبارة الصحيحة وعلامة (x) أمام العبارة غير الصحيحة :

1- نستخدم مسمار خشبي و بطارية لصنع مغناطيس كهربائي . (x)

2- يجذب المغناطيس الكهربائي الأشياء المصنوعة من بلاستيك . (x)

2

السؤال الثالث : أكمل الجزء الناقص في الرسم لتوضح طريقة صنع مغناطيس كهربائي :



درس : آلاتي البسيطة

الاسم :


الفصل :

الدرجة النهائية : / 5

السؤال الأول : اختر الإجابة الصحيحة علميا بوضع علامة (✓) في فيما يلي :

موقع
المناهج الكويتية
almanahj.com/kw

(1) اختر الآلة البسيطة المناسبة لرفع دلو الاسمنت لسطح المنزل :



2

السؤال الثاني : ضع علامة (✓) أمام العبارة الصحيحة وعلامة (X) أما العبارة غير الصحيحة :

(1) لنقل صندوق كبير الى السيارة نحتاج الى سلم . (X)

(2) نستخدم الآلات البسيطة عند تناول الطعام . (✓)

2

السؤال الثالث : أكمل الناقص في الرسم لتسهل عملية نقل الحقيبة :

رسم عجالات

موقع
المناهج الكويتية
almanahj.com/kw



1