



في الكيمياء

WWW.KweduFiles.Com

الفصل الدراسي الأول

الجدول الدوري للعناصر
رقم الذرة
رمز العنصر

1	H																	2	He																					
3	Li	4	Be															5	B	6	C	7	N	8	O	9	F	10	Ne											
11	Na	12	Mg															13	Al	14	Si	15	P	16	S	17	Cl	18	Ar											
19	K	20	Ca	21	Sc	22	Ti	23	V	24	Cr	25	Mn	26	Fe	27	Co	28	Ni	29	Cu	30	Zn	31	Ga	32	Ge	33	As	34	Se	35	Br	36	Kr					
37	Rb	38	Sr	39	Y	40	Zr	41	Nb	42	Mo	43	Tc	44	Ru	45	Rh	46	Pd	47	Ag	48	Cd	49	In	50	Sn	51	Sb	52	Te	53	I	54	Xe					
55	Cs	56	Ba	72	Hf	73	Ta	74	W	75	Re	76	Os	77	Ir	78	Pt	79	Au	80	Hg	81	Tl	82	Pb	83	Bi	84	Po	85	At	86	Rn							
87	Fr	88	Ra	104	Rf	105	Db	106	Sg	107	Bh	108	Hs	109	Mt	110	Ds	111	Rg	112	Cn																			
الفلزات metals	57	La	58	Ce	59	Pr	60	Nd	61	Pm	62	Sm	63	Eu	64	Gd	65	Tb	66	Dy	67	Ho	68	Er	69	Tm	70	Yb	71	Lu										
التشافف Actinide	89	Ac	90	Th	91	Pa	92	U	93	Np	94	Pu	95	Am	96	Cm	97	Bk	98	Cf	99	Es	100	Fm	101	Md	102	No	103	Lr										

الوحدة الاولى

الإلكترونات في الذرات والدورية الكيميائية

مكونات الوحدة

الفصل الأول: نماذج الذرة

الدرس 1-1: تطور نماذج الذرة

الدرس 1-2: توزيع الإلكترونات في الذرات

الفصل الثاني: الدورية الكيميائية

الدرس 1-2: تطور الجدول الدوري

الدرس 2-2: تقسيم العناصر

الدرس 2-3: الميول الدورية (التدرج في الخواص)



استخدم برنامج QR Code reader لقراءة الكود

الفصل الأول

نماذج الذرة

الدرس 1-1 تطور نماذج الذرة

الدرس 1-2 توزيع الإلكترونات في الذرة

www.kwedufiles.com

نموذج بور

وضع بور نموذجه من خلال دراسة طيف الانبعاث الخطي لذرات الهيدروجين



فروض بور

- 1- يدور الإلكترون حول النواة في مدار ثابت .
- 2- للذرة عدد من المدارات لكل منها نصف قطر ثابت وطاقة محددة ويمثل كل مدار مستوى طاقة معين ويحدده عدد الكم الرئيسي (n) له قيمة صحيحة من 1 إلى ∞ .
- 3- لا يشع الإلكترون طاقة ولا يمتصها ما دام يدور في المسار نفسه حول النواة .
- 4- ينتقل الإلكترون من مستوى طاقة إلى مستوى آخر إذا غير طاقته بما يتناسب مع طاقة المستوى الجديد .

النموذج الميكانيكي الموجي للذرة

توصل العالم النمساوي **شروينغر** إلى معادلة رياضية معقدة توضح :

- 1- مستويات الطاقة المختلفة التي يحتلها الإلكترون في ذرة الهيدروجين .
- 2- طبيعة حركة الإلكترون في كل مستوى طاقة حول النواة معتمدا على طبيعته الموجية .

⊗ ما المقصود بكل من :

1- السحابة الإلكترونية :

منطقة في الفضاء المحيط بالنواة ، يحتمل وجود الإلكترون فيها في كل الإتجاهات والأبعاد .

2- الفلك الذري :

المنطقة الفراغية حول النواة التي يكون فيها أكبر احتمال لوجود الإلكترون .

3- كم (كوانتم الطاقة) :

كمية الطاقة اللازمة لنقل الإلكترون من مستوى الطاقة الساكن فيه إلى مستوى الطاقة الأعلى التالي له .

⊙ علل يصعب تعيين موقع الإلكترون بالنسبة إلى النواة في أية لحظة وبأية وسيلة علمية ممكنة ؟

نظرا لطبيعة الحركة الموجية للإلكترون حول النواة في ابعادها الثلاثة .

كم (كوانتم الطاقة):

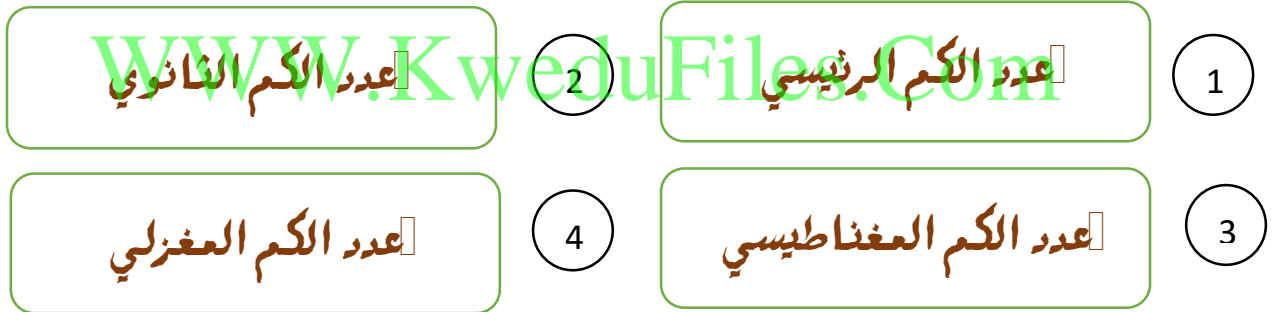


كمية الطاقة اللازمة لنقل الإلكترون من مستوى الطاقة الساكن فيه إلى مستوى الطاقة الأعلى التالي له.



تحدد أعداد الكم أحجام الحيز من الفراغ والذي يكون احتمال تواجد الإلكترون فيه أكبر، كما تحدد طاقة الأفلاك وأشكالها واتجاهاتها بالنسبة إلى محاور الذرة في الفراغ.

مخطط لأعداد الكم





عدد الكم الرئيسي n

1



يحدد مستويات الطاقة في الذرة، ويأخذ قيم صحيحة من 1 إلى ∞ .

رقم مستوى الطاقة	الرمز	عدد الكم الرئيسي n	عدد الإلكترونات $2n^2$
الأول	K	1	2
الثاني	L	2	8
الثالث	M	3	18
الرابع	N	4	32
الخامس	O	5	32
السادس	P	6	32
السابع	Q	7	-



www.KweduFiles.Com

مستويات الطاقة الرئيسية تختلف اختلافا كبيرا في الطاقة والاختلاف بينها في الطاقة ليس متساويا حيث يقل كلما بعدنا عن النواة

يحدد عدد الكم الرئيسي بعد مستوى الطاقة عن النواة وطاقة الإلكترونات التي تدور فيه فكلما زادت قبة عدد الكم الرئيسي زادت طاقة المستوى وطاقة الإلكترونات التي تدور فيه

تستخدم القاعدة $2n^2$ في حساب عدد الإلكترونات في كل مستوى طاقة متى المستوى الرابع ولا تستخدم بعد المستوى الرابع



عدد الكم الثانوي l

2



يحدد عدد تحت مستويات الطاقة في كل مستوى طاقة، ويأخذ القيم $0 \leq l \leq (n-1)$

المستوى الرئيسي	n	قيم l	تحت المستويات
K الأول	1	0	s
L الثاني	2	0,1	s,p
M الثالث	3	0,1,2	s,p,d
N الرابع	4	0,1,2,3	S,p,d,f



يرمز لتحت المستويات بالرموز: s, p, d, f

عدد تحت مستويات الطاقة في كل مستوى طاقة يساوي قيمة عدد الكم الرئيسي (n) ولا تزيد عن أربعة بعد مستوى الطاقة الرابع

تحت المستويات في مستوى الطاقة الواحد تختلف اختلافا بسيطا في الطاقة



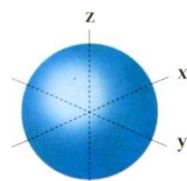
عدد الكم المغناطيسي (m_l)

3

يحدد عدد الأفلاك في تحت مستويات الطاقة واتجاهها في الفراغ. ويأخذ القيم $-l \leq m_l \leq +l$

www.KweduFiles.Com

عدد الأفلاك	m _l	رمز تحت المستوى	l	n	رمز المستوى
1	0	S	0	1	K
1	0	s	0	2	L
3	+1,0,-1	p	1		
1	0	s	0	3	M
3	+1,0,-1	p	1		
5	+2,+1,0,-1,-2	d	2		
1	0	s	0	4	N
3	+1,0,-1	P	1		
5	+2,+1,0,-1,-2	d	2		
7	+3,+2,+1,0,-1,-2,-3	f	3		

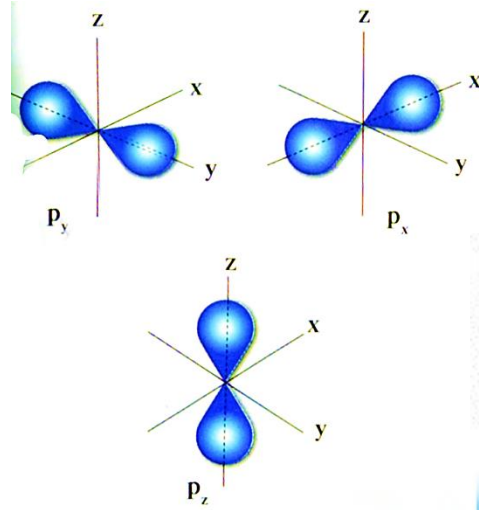


الفلك S

- يحتوي تحت المستوى S على فلك واحد كروي
- اتجاه وجود الإلكترون في أي اتجاه من النواة متساويا.

أفلاك p

- الكثافة الإلكترونية حول كل فلك منها تأخذ شكل فصين متقابلين عند الرأس حيث تنعدم الكثافة الإلكترونية.
- يتكون تحت المستوى p من 3 أفلاك لها نفس الشكل ومتساوية الطاقة وتختلف في اتجاهاتها التي تتركز فيها السحابة الإلكترونية.
- أفلاك p متعامدة (p_x ، p_y ، p_z)



عدد الكم المغزلي (m_s)

4

يحدد نوع حركة الإلكترون المغزلية حول محوره. ويأخذ القيم ($-1/2$ ، $+1/2$).



WWW.KweduFiles.Com **علل !!** يقل السافر بين الإلكترونيين في الفلك نفسه ؟

لان غزل احدهما يكون عكس الآخر وبالتالي ينشأ مجالان مغناطيسان متعاكسان في الاتجاه فيتجاذبان مغناطيسيا ويقبل التنافر بينهما .

علل :- لا يمكن للفلك الواحد أن يستوعب (3 الكترونات) أكثر من إلكترونين؟

إذا حاول إلكترون ثالث دخول الفلك ، فإن دورانه المغزلي سيكون دائماً الدوران نفسه لواحد من الإلكترونات الموجودة ، ولذلك فإنه سوف يطرد من منطقة هذا الفلك



تختلف مستويات الطاقة اختلافا كبيرا في الطاقة،

تحت المستويات في نفس مستوى الطاقة تختلف اختلافا بسيطا في الطاقة

أفلاك تحت المستوى الواحد متساوية في الطاقة ولها نفس الشكل وتختلف في

الاتجاه



من امتحانات الفترة الأولى 2013/2014

مبارك الكبير 2013/2014

مصطلح علمي :

عدد الكم الذي يحدد عدد الأفلاك في تحت مستويات الطاقة واتجاهاتها في الفراغ. (.....) الإجابة : عدد الكم المغناطيسي

ضع علامة (✓) في المربع المقابل للإجابة الصحيحة :

الإلكترونان في الفلك S يختلفان في قيمة أحد أعداد الكم :

الإجابة : المغزلي

الرئيسي الثانوي المغناطيسي المغزلي

علل :

WWW.KweduFiles.Com

بتسع تحت المستوى $6 \text{ } p$ إلكترونات فقط؟


الإجابة: لأنه يحتوي على 3 أفلاك وكل فلك يتسع لإلكترونين

ما المقصود بكل من :


كم (كواتم) الطاقة :

الإجابة : كمية الطاقة اللازمة لنقل الإلكترون من مستوى الطاقة الساكن فيه إلى مستوى الطاقة الأعلى التالي له.


مصطلح علمي :

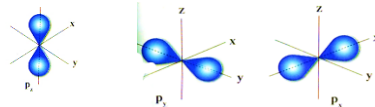
عدد الكم الذي يحدد مستويات الطاقة في الذرة. (.....) الإجابة : عدد الكم الرئيسي 

املأ الفراغات:

العدد الأقصى من الإلكترونات التي يمكن أن تتواجد في مستوى الطاقة **M** يساوي إلكترون. الإجابة: 18 

ضع علامة (✓) في العربع المقابل للإجابة الصحيحة


الرسم التالي يمثل أفلاك **p** واتجاهاتها في الفراغ حيث تتميز هذه الأفلاك بأنها: 



- مختلفة الطاقة وفي اتجاهاتها مختلفة ✓ متساوية الطاقة وفي اتجاهاتها مختلفة
 مختلفة الطاقة وفي نفس الاتجاه متساوية الطاقة وفي نفس الاتجاه


WWW.KweduFiles.Com

علل:-

ينتهي الترتيب الإلكتروني الفعلي الصحيح لذرة الكروم بتحت المستويات $4s^1, 3d^5$ ولا ينتهي بتحت المستويات $4s^2, 3d^4$ 

الإجابة : لان الذرة تكون أكثر إستقرارا عندما يكون تحت المستوى 3d نصف ممتلئ

ما المقصود ب:-

الفلك الذري :- 

الإجابة : المنطقة الفراغية حول النواة والتي يكون فيها أكبر احتمال لوجود الإلكترون

املاً الفراغات:

افلاك تحت المستوى p الثلاثة تختلف عن بعضها في اتجاهاتها الفراغية ولكنها متساوية في الإجابة: الطاقة

علل :-

لا يمكن للفلك الواحد أن يستوعب أكثر من إلكترونين.

الإجابة : إذا حاول إلكترون ثالث دخول الفلك ، فإن دورانه المغزلي سيكون دائماً الدوران نفسه لوحد من الإلكترونات الموجودة ، ولذلك فإنه سوف

يطرد من منطقة هذا الفلك

WWW.KweduFiles.Com
ما المقصود بـ:

الفلك الذري : سبق الإجابة عنه

الجبراه 2013/2014

املاً الفراغات:-

رقم مستوى الطاقة الذي يحتوي على تحت المستويات (s,p,d) يساوي الإجابة : 3

الفلك له شكل كروي ويكون فيه احتمال وجود الإلكترون في أي اتجاه من النواة متساوي . ؛ الإجابة: s

العاصمة 2014/2013

املاً الفراغات:-

الإجابة: المغزلي

الإلكترونات في فلك تحت المستوى $2s^2$ يختلفان في عدد الكم

علل:-

يتسع تحت مستوى الطاقة f لأربعة عشر إلكترون؟

الإجابة : لانه يحتوي على 7 أفلاك وكل فلك يتسع لإلكترونين

ما المقصود:-

الفلك الذري :-سبق الإجابة عليه

عدد الكم المغزلي- WWW.KweduFiles.Com

الإجابة: عدد يحدد نوع حركة الإلكترون المغزلية حول محوره، ويأخذ القيم $(+1/2, -1/2)$.

الفروانية 2013/2012

مصطلع علمي:-

كمية الطاقة اللازمة لنقل الإلكترون من مستوى الطاقة الساكن فيه الى مستوى الطاقة الأعلى التالي له . (.....)

سبق الإجابة عنه

املاً الفراغات:

أقصى عدد من الإلكترونات يمكن أن يشغل في تحت مستوى الطاقة $4p$ هو إلكترون. الإجابة : 6

إذا كانت قيم عدد الكم الثانوي في مستوى طاقة هي $1,2,3,4$ فإن عدد الكم الرئيسي n له يساوي

الإجابات الصحيحة : 4 أو 5 أو 6

من اختبارات فترة أولى 2014 / 2015

الفروانية :-

مصطلع : كمية الطاقة اللازمة لنقل الإلكترون من مستوى الطاقة الساكن فيه إلى مستوى الطاقة الأعلى التالي له.

(.....) مجاب عنه سابقا

املا الفراغات :- افلاك تحت المستوى p الثلاثة تختلف عن بعضها بالاتجاهات ولكنها متساوية في الإجابة: الطاقة

يختلف إلكتروني الفلك $3s^2$ في عدد الكم الإجابة : المغزلي

الأعمدي :-

مصطلع : عدد الكم الذي يحدد عدد تحت مستويات الطاقة في مستوى الطاقة (.....) الإجابة عدد الكم الثانوي

ضع علامة (✓) في العربع المقابل للإجابة الصحيحة

عدد الأفلاك في المستوى الرئيسي الثاني

6 2 4 8

تحت المستوى الموجود في المستوى الرئيسي الرابع وقيمة $l=2$ يرمز له بالرمز

4p 4d 3s 3p

مبارك الكبير :-

مصطلع علمي :- عدد الكم الذي يحدد عدد الأفلاك في تحت مستويات الطاقة واتجاهاتها في الفراغ. (.....) الإجابة : عدد الكم المغناطيسي

املا الفراغات :-

عدد الأفلاك في المستوى الرئيسي الثالث يساوي فلك الإجابة : 9

علل :- يتسع مستوى الطاقة الرئيسي الثاني L 8 إلكترونات فقط.

الإجابة : لأنه يحتوي على تحت المستوى s يتسع لإلكترونين وتحت المستوى p يتسع لـ 6 إلكترونات فيكون المجموع 8 إلكترونات

أو حسب القاعدة $2n^2$ وقيمة $n=2$

ما المقصود :- عدد الكم الثانوي مجاب عنه سابقا

التعليم الخاص :

مصطلع :- كمية الطاقة اللازمة لنقل الإلكترون من مستوى الطاقة الساكن فيه إلى مستوى الطاقة الأعلى التالي له. (.....) مجاب عنه سابقا

املأ الفراغات:-

الإجابة : المغزلي

يختلف إلكترونات الفلك $2s^2$ في عدد الكم

الإلكترونات في الفلك الواحد (مثل s, p_x, p_y, p_z) يختلفان في عدد الكم المغزلي بينما إذا كانا الإلكترونان في فلكين لنفس تحت المستوى (مثل p) فيختلفان في عدد الكم المغناطيسي



قارن بين :-

3d	4s	وجه المقارنة
		قيمة عدد الكم الرئيسي
		قيمة عدد الكم الثانوي
		عدد الأفلاك
		عدد الالكترونات التي يتسع لها
		أقل أمر أعلى طاقة

WWW.KweduFiles.Com : الإجابة

3d	4s	وجه المقارنة
3	4	قيمة عدد الكم الرئيسي
2	0	قيمة عدد الكم الثانوي
5	1	عدد الأفلاك
10	2	عدد الالكترونات التي يتسع لها
أعلى	أقل	أقل أمر أعلى طاقة

الجهراء:-

مصطلح:- عدد الكم الذي يحدد عدد الأفلاك في تحت مستويات الطاقة واتجاهاتها في الفراغ. (.....) مجاب عنه سابقا

املأ الفراغات:-

الإجابة: 18 إلكترون

أكبر عدد من الإلكترونات الذي يمكن أن يستوعبه المستوى الرئيسي الثالث M إلكترون

ضع علامة (✓) في المربع المقابل للإجابة الصحيحة :

الإلكترون الذي يوصف بعدد كم $l=1$ ويقع في المستوى الرئيسي الثاني L يوجد في تحت المستوى

الإجابة: 2p

3p

3d

2p

2s

علل:

لا يتنافر الإلكترونان في نفس الفلك بالرغم أن لهما نفس الشحنة .

الإجابة: لان غزل احدهما يكون عكس الآخر وبالتالي ينشأ مجالان مغناطيسان متعاكسان في الاتجاه فيتجاذبان مغناطيسيا ويقل التنافر بينهما

ما المقصود :- كم الطاقة مجاب عنه سابقا

العاصمة:-

ضع علامة (✓) في المربع المقابل للإجابة الصحيحة:-

النموذج الذري الذي افترض أن الإلكترون يدور حول النواة في مدار ثابت وأن للذرة عدة مدارات لكل منها نصف قطر ثابت وطاقة محددة يسمى نموذج

بور

طومسون

رذرفورد

دالتون

مصطلع:- كمية الطاقة اللازمة لنقل الإلكترون من مستوى الطاقة الساكن فيه إلى مستوى الطاقة الأعلى التالي له. (.....) مجاب عنه سابقاً

الإجابة : كروي

املأ الفراغات :- الفلك الوحيد في تحت المستوى S له شكل

علل:- يتسع تحت المستوى p لعدد 6 إلكترونات فقط.

الإجابة: لأنه يحتوي على 3 أفلاك وكل فلك يتسع لإلكترونان



الدرس 1-2 ترتيب الإلكترونات في الذرة

الترتيبات الإلكترونية: - الطرق التي تترتب بها الإلكترونات حول أنوية الذرات.



مخطط لقواعد الترتيبات الإلكترونية للذرات

مبدأ باولي للاستبعاد

2

مبدأ أوفباو (مبدأ البناء التصاعدي)

1

قاعدة هوند

3

مبدأ أوفباو (مبدأ البناء التصاعدي)

1



لا بد للإلكترونات أن تملأ تحت مستويات الطاقة ذات الطاقة المنخفضة أولاً ثم تحت مستويات الطاقة الأعلى.

1s → 2s → 2p → 3s → 3p → 4s → 3d → 4p → 5s → 4d → 5p → 6s → 4f → 5d → 6p → 7s → 5f → 6d → 5f

أفلاك تحت المستوى متعدد الأفلاك (p, d, f) متساوية دائماً في الطاقة.



أكتب الترتيب الإلكتروني الكامل (حسب تحت المستويات) لكل من:



H - الهيدروجين $1s^1$ - الفلور F و - الكلور Cl $1s^2, 2s^2, 2p^6, 3s^2, 3p^5$ - الصوديوم Na $1s^2, 2s^2, 2p^6, 3s^2, 3p^6$
 N - النيتروجين $1s^2, 2s^2, 2p^3$ - الأكسجين O $1s^2, 2s^2, 2p^4$ - الكربون C $1s^2, 2s^2, 2p^2$ - البورون B $1s^2, 2s^2, 2p^1$
 Ar - الأرجون $1s^2, 2s^2, 2p^6, 3s^2, 3p^6$ - النيون Ne $1s^2, 2s^2, 2p^6$ - الكريبتون Kr $1s^2, 2s^2, 2p^6, 3s^2, 3p^6, 4s^2, 3d^10, 4p^6$
 He - الهيليوم $1s^2$



عدد الألكترونات	قيمة l	مستوى الطاقة
1	0	s
3	1	p
5	2	d
7	3	f



ينص المبدأ على:

في ذرة ما لا يوجد إلكترونان لهما أعداد الكم الأربعة .

تطبيق على مبدأ باولي للاستبعاد :-

Ⓒ فيما يختلف ويتشابه الإلكترونان في تحت المستوى $2s$ (وفقا لقيم أعداد الكم الأربعة) ؟

m_s	m_l	l	n	
+1/2	0	0	2	الإلكترون الأول
-1/2	0	0	2	الإلكترون الثاني

Ⓒ فيما يختلف ويتشابه الإلكترونان في تحت المستوى $2p$ (وفقا لقيم أعداد الكم الأربعة) ؟

m_s	m_l	l	n	
+1/2	+1	1	2	الإلكترون الأول
+1/2	0	1	2	الإلكترون الثاني

Ⓒ فيما يختلف ويتشابه الإلكترونان في تحت المستوى $2p_x$ (وفقا لقيم أعداد الكم الأربعة) ؟

m_s	m_l	l	n	
+1/2	0	1	2	الإلكترون الأول
-1/2	0	1	2	الإلكترون الثاني



تنص القاعدة على:

الإلكترونات تملأ أفلاك تحت مستوى الطاقة الواحد، كل واحدة بمفردها باتجاه الغزل نفسه ثم تبدأ بالازدواج في الأفلاك تباعا باتجاه غزل معاكس .



يمكن استخدام قاعدة هوند لمعرفة عدد الإلكترونات المفردة في الذرة



علل لما يلي :-

لا يمكن للفلك الواحد أن يستوعب أكثر من إلكترونين؟ لأن ذلك سيكون مخالف لمبدأ الاستبعاد وسيكون لإلكترونين نفس الغزل ويحدث تنافر بينهما.

يتسع تحت المستوى s لإلكترونين؟ لأنه يتكون من فلك واحد.

يتسع تحت المستوى p لـ 6 إلكترونات؟ لأنه يتكون من 3 أفلاك.

يتسع تحت المستوى d لـ 10 إلكترونات؟ لأنه يتكون من 5 أفلاك.

يتسع تحت المستوى f لـ 14 إلكترون؟ لأنه يتكون من 7 أفلاك.

أكتب الترتيب الإلكتروني الكامل واحسب عدد الإلكترونات المفردة لكل من

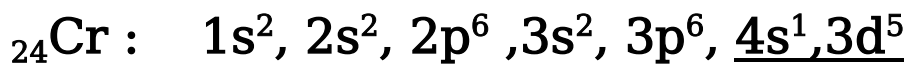
العنصر	الترتيب الإلكتروني الكامل	عدد الإلكترونات المفردة (غير المزدوجة) = قاعدة هوند
${}^6\text{C}$	$1s^2, 2s^2, 2p^2$	2
${}^{18}\text{Ar}$	$1s^2, 2s^2, 2p^6, 3s^2, 3p^6$	0
${}^5\text{B}$	$1s^2, 2s^2, 2p^1$	1
${}^{14}\text{Si}$	$1s^2, 2s^2, 2p^6, 3s^2, 3p^2$	2
${}^3\text{Li}$	$1s^2, 2s^1$	1
${}^9\text{F}$	$1s^2, 2s^2, 2p^5$	1
${}^{36}\text{Kr}$	$1s^2, 2s^2, 2p^6, 3s^2, 3p^6, 4s^2, 3d^{10}, 4p^6$	0

استثناءات في الترتيب الإلكتروني

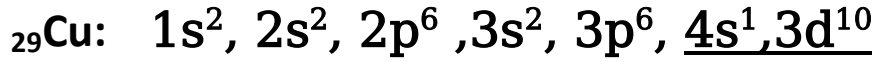


تكون تحت مستويات الطاقة الممتلئة كليا أو النصف ممتلئة أكثر ثباتا من تحت مستويات الطاقة الممتلئة جزئيا .

تطبيق : أكتب الترتيب الإلكتروني الكامل لكل من :-



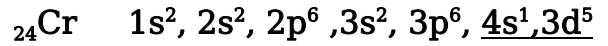
في حالة الكروم يكون كل من تحت المستويين 4S و 3d نصف ممتلئ وهي حالة أكثر ثباتا



في حالة النحاس يكون تحت المستوى 4S نصف ممتلئ و 3d ممتلئ تماما وهي حالة أكثر ثباتا .

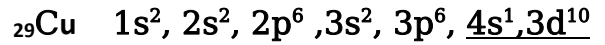
عمل :- تختلف الترتيبات الإلكترونية الفعلية للكروم ${}_{24}\text{Cr}$ والنحاس ${}_{29}\text{Cu}$ عن الترتيبات الإلكترونية المستنتجة باستخدام مبدأ أوفباو ؟

بالنسبة للكروم :



حالة أكثر ثباتا لان تحت المستويين 4s و 3d كلاهما نصف ممتلئ .

بالنسبة للنحاس :



حالة أكثر ثباتا لان تحت المستوى 4s نصف ممتلئ و تحت المستوى 3d تام الإمتلاء .

عمل :- ينتقل إلكترون واحد في ذرة البوتاسيوم ${}_{19}\text{K}$ إلى مستوى الطاقة الرابع بدلا من دخوله في مستوى الطاقة الثالث مع الإلكترونات الثمانية الموجودة أصلا في هذا المستوى ؟

وذلك لان تحت المستوى 4s يملأ قبل 3d

مراجعة الدرس 1-2



من اختبارات الفترة الأولى للأعوام السابقة لجميع المناطق

مصطلح علمي :-

- 1- في ذرة ما لا يوجد إلكترونان هما أعداد الكم الأربعة نفسها . (.....) الإجابة: مبدأ الاستبعاد لباولي
- 2- لا بد للإلكترونات أن تملأ تحت مستويات الطاقة ذات المنخفضة أولا ، ثم تحت مستويات الطاقة ذات الطاقة الأعلى . (.....) الإجابة: مبدأ أوفباو
- 3- الإلكترونات تملأ أفلاك تحت مستوى الطاقة الواحد ، كل واحدة بفردها باتجاه الغزل نفسه ثم تبدأ بالازدواج في الأفلاك تباعا باتجاه غزل معاكس . (.....)

الإجابة : قاعدة هوند

احلأ الفراغ :-

- 1- حسب قاعدة هوند فان عدد الالكترونات المفردة في ذرة النيتروجين 7N يساويإلكترون الإجابة: 3
- 2- الإلكترونان في تحت المستوى $3S^2$ يختلفان في قيمة عدد الكم الإجابة: المغزلي
- 3- عدد الإلكترونات المزدوجة في ذرة الصوديوم ${}_{11}\text{Na}$ يساوي إلكترون الإجابة: 10
- 4- الترتيب الإلكتروني الكامل للكور ${}_{17}\text{Cl}$ هو الإجابة: $1s^2, 2s^2, 2p^6, 3s^2, 3p^5$

5- قيمة عدد الكم الثانوي للإلكترون في تحت المستوى $4f^1$ تساوي

6- تحت المستوى الذي له قيمة $n=3$ ، $l=2$ يرمز له بالرمز

الإجابة: 3

الإجابة: 3d

ضع علامة (✓) في المربع المقابل للإجابة الصحيحة:-

1- في ذرة ما الإلكترونات الأكثر ارتباطا بالنواة تقع في مستوى الطاقة (الإجابة: K) (الأقرب من النواة فتكون إلكتروناته أكثر ارتباطا بالنواة)

K L M N

2- أحد العناصر التالية تقع إلكتروناته الخارجية في تحت المستوى np^1 هو (الإجابة: $13Al$)

$1s^2, 2s^2, 2p^6, 3s^2, 3p^1$

$12Mg$ $16S$ $13Al$ $20Ca$

3- عدد الإلكترونات المفردة (غير المزدوجة) في ذرة عنصر النيتروجين $7N$ (الإجابة : 3)

1 2 3 4

4- بيانات الجدول التالي تشير إلى :

اسم العنصر	الليثيوم Li	الصوديوم Na	السيليكون Si
عدد الإلكترونات غير المزدوجة	1	1	2

النموذج الميكانيكي مبدأ أوفباو مبدأ باولي للاستبعاد قاعدة هوند (الإجابة: هوند)

5- الترتيب الإلكتروني الفعلي لذرة الكروم $24Cr$ هو (الإجابة: $1s^2, 2s^2, 2p^6, 3s^2, 3p^6, 4s^1, 3d^5$)

$1s^2, 2s^2, 2p^6, 3s^2, 3p^6, 4s^2, 3d^5$ $1s^2, 2s^2, 2p^6, 3s^2, 3p^6, 4s^2, 3d^5$ $1s^2, 2s^2, 2p^6, 3s^2, 3p^6, 4s^1, 3d^5$ $1s^2, 2s^2, 2p^6, 3s^2, 3p^6, 4s^2, 3d^4$

6- تحت المستوى الموجود في المستوى الرئيسي الرابع وقيمة $l=2$ يرمز له بالرمز (الإجابة: 4d)

3p 3s 4d 4p

7- عدد الأفلاك تامة الامتلاء في الذرة التي لها الترتيب الإلكتروني $1s^2, 2s^2, 2p^6, 3s^2, 3p^3$ يساوي (الإجابة: 6)

3 4 5 6

8- عدد الإلكترونات المفردة في ذرة الأكسجين $8O$ (الإجابة: 2)

1 2 3 4

9- عدد الإلكترونات غير المزدوجة (المفردة) في ذرة عنصر الكروم $24Cr$ يساوي (الإجابة: ستة إلكترونات)

$1s^2, 2s^2, 2p^6, 3s^2, 3p^6, 4s^1, 3d^5$

إلكترون فقط إلكترونان خمس إلكترونات ستة إلكترونات

10- ذرة العنصر التي تحتوي علي إلكترونين في مستوى الطاقة الأول وست إلكترونات في مستوى الطاقة الثاني لها الترتيب الإلكتروني التالي:

$1s^2, 2s^2, 2p^4$ $1s^2, 2s^2, 2p^3$ $1s^2, 2s^2, 2p^5$ $1s^2, 2s^2, 2p^2$

الإجابة: $1s^2, 2s^2, 2p^4$

11- يعتمد الترتيب الإلكتروني المقابل على واحدة مما يلي: (الإجابة: مبدأ أوفباو)

مبدأ أوفباو قاعدة هوند قاعدة الثمانية

قاعدة هوند مبدأ باولي للاستبعاد قاعدة الثمانية

أجب عن الأسئلة التالية:



عناصر رموزها الافتراضية $11X$, $18Y$, $17Z$, $7M$

المطلوب: 1- أكتب الترتيب الإلكتروني الكامل (حسب مبدأ أوفباو) للعنصرين X , Z

2- أكتب الترتيب الإلكتروني للعنصر Y حسب الأفلاك (قاعدة هوند)

3- احسب عدد الإلكترونات المفردة (غير المزدوجة) في ذرة العنصر M

عناصر رموزها الافتراضية هي X, Y, Z, M

العنصر M ينتهي ترتيبه الإلكتروني بتحت المستوى $3p^2$

العنصر Z يحتوي المستوى الأول لذرتة على إلكترونين والمستوى الثاني على 5 إلكترونات

العنصر Y له الترتيب الإلكتروني الكامل $1s^2, 2s^2, 2p^4$

العنصر X عدده الذري 10

المطلوب :

1- الترتيب الإلكتروني الكامل للعنصر M

2- الترتيب الإلكتروني للعنصر Z حسب الأفلاك

3- العدد الذري للعنصر Y

4- عدد الإلكترونات المفردة في ذرة العنصر X

الإجابة

1- الترتيب الإلكتروني الكامل للعنصر M

$M: 1s^2, 2s^2, 2p^6, 3s^2, 3p^2$

2- الترتيب الإلكتروني للعنصر Z حسب الأفلاك : العدد الذري: 7

$Z: \begin{array}{c} 1s^2 \\ \uparrow \downarrow \\ 2s^2 \\ \uparrow \downarrow \\ 2p^3 \\ \uparrow \downarrow \uparrow \end{array}$

3- العدد الذري للعنصر Y حسب الأفلاك : 8

4- عدد الإلكترونات المفردة في ذرة العنصر X صفر (لا توجد إلكترونات مفردة)

$X: \begin{array}{c} 1s^2 \\ \uparrow \downarrow \\ 2s^2 \\ \uparrow \downarrow \\ 2p^4 \\ \uparrow \downarrow \uparrow \downarrow \end{array}$

الإجابة

1- الترتيب الإلكتروني الكامل (حسب مبدأ أوفباو)

$11X: 1s^2, 2s^2, 2p^6, 3s^2$

$17Z: 1s^2, 2s^2, 2p^6, 3s^2, 3p^5$

2- الترتيب الإلكتروني حسب الأفلاك (قاعدة هوند) :

$18Y: \begin{array}{c} 1s^2 \\ \uparrow \downarrow \\ 2s^2 \\ \uparrow \downarrow \\ 2p^4 \\ \uparrow \downarrow \uparrow \downarrow \\ 3s^2 \\ \uparrow \downarrow \\ 3p^6 \\ \uparrow \downarrow \uparrow \downarrow \uparrow \downarrow \end{array}$

3- حساب عدد الإلكترونات المفردة :
2 إلكترونات مفردة : $2p^4$
3 إلكترونات : $3p^5$
 $M: \begin{array}{c} 1s^2 \\ \uparrow \downarrow \\ 2s^2 \\ \uparrow \downarrow \\ 2p^3 \\ \uparrow \downarrow \uparrow \end{array}$

علل ما يلي :-



في ذرة البوتاسيوم $19K$ ينتقل إلكترون واحد إلى مستوى الطاقة الرئيسي الرابع $n=4$ بدلا من دخوله في مستوى الطاقة الرئيسي الثالث $n=3$



لان فللك تحت المستوى $4s$ أقل طاقة من أفلاك تحت المستوى $3d$ ولذلك يبأ $4s$ قبل $3d$



الترتيب الإلكتروني الفعلي للنحاس هو $1s^2, 2s^2, 2p^6, 3s^2, 3p^6, 4s^1, 3d^{10}$



حالة أكثر ثباتا لان تحت المستوى $4s$ نصف ممتلئ وتحت المستوى $3d$ تام الامتلاء.



يبأ تحت المستوى $4s$ بالإلكترونات قبل $3d$



لان $4s$ أقل طاقة من $3d$



الترتيب الإلكتروني الفعلي للكروم هو $1s^2, 2s^2, 2p^6, 3s^2, 3p^6, 4s^1, 3d^5$



حالة أكثر ثباتا لان تحت المستوى $4s$ نصف ممتلئ وتحت المستوى $3d$ نصف ممتلئ.



الفصل الثاني

الدورية الكيميائية

الدرس 1-2 تطور الجدول الدوري

WWW.KweduFiles.Com

الدرس 2-2 تقسيم العناصر تبعا للترتيب الإلكتروني

الدرس 1-3 العيول الدورية (التدرج في الخواص)





الدرس 2-1 تطور الجدول الدوري

✿ جدول مندليف :-

رتبت العناصر فيه حسب كتلتها الذرية.

✿ الجدول الدوري الحديث :-

اول من رتب العناصر حسب اعدادها الذرية هو موزلى.

في الجدول الدوري الحديث تترتب العناصر حسب اعدادها الذرية.

✿ يتكون الجدول الدوري الحديث من مجموعات ودورات.

الدورات: هي الصفوف الافقية في الجدول الدوري وعددها 7.

القانون الدوري :

عند ترتيب العناصر بحسب ازدياد العدد الذري، يحدث تكرار دوري للصفات الفيزيائية والكيميائية.

المجموعات: هي الأعمدة الرأسية في الجدول الدوري وعناصرها متشابهة في الخواص الكيميائية والفيزيائية وتتميز برقم وحرف (A أو B).

ما المقصود بالعناصر المثالية؟ (المجموعات من 1A إلى 8A)

هي العناصر التي تظهر مدى واسع لكل من الخواص الفيزيائية والكيميائية

تقسيم العناصر

أشباه فلزات

تمثل الحدود بين السلوك الفلزى واللافلزى وهي الخط المتعرج المرسوم بين البورون والاسنتانين

لها صفات متوسطة بين الفلزات واللافلزات مثلا تكون شبه موصلة أكثر من كونها عازلة مثل السيلكون والجيرمانيوم و البورون

لا فلزات

تشغل الجزء الأيمن العلوى من الجدول الدوري

ضعيفة التوصيل للكهرباء ليس لها لمعان غير قابلة للطرق والسحب والصلب منها هش قد تكون صلبة مثل الكبريت او غازية مثل الاكسجين او سائلة مثل البروم

فلزات

تقع يسار الجدول الدوري استثناء الهيدروجين فهو لا فلز

جيدة التوصيل للكهرباء لها لمعان و بريق قابلة للطرق والسحب جميعها صلبة عدا الزئبق Hg



الدرس 2-2 تقسيم العناصر تبعا للترتيب الإلكتروني

تقسم العناصر تبعا لترتيبها الإلكتروني إلى أربعة أنواع :

العناصر المثالية :

عناصر تكون فيها تحت المستويات S أو P مملئة جزئيا بالإلكترونات

تشمل عناصر المجموعات A

تسمى عناصر المجموعة 1A (الفلزات القلوية)

تسمى عناصر المجموعة 2A (الفلزات القلوية الأرضية)

تسمى عناصر المجموعة 7A (الهالوجينات)

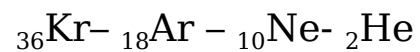
الغازات النبيلة :

عناصر ممتلئة فيها تحت المستويات الخارجية S و P بالإلكترونات

تقع في المجموعة 8A

لا تشترك في الكثير من التفاعلات الكيميائية لذلك يطلق عليها غازات نبيلة.

وضع الترتيب الإلكتروني الكامل لكل من :



العناصر الإنتقالية الداخلية :

عناصر فلزية حيث يحتوي كل من تحت المستوى S و تحت المستوى f المجاور له على إلكترونات .

العناصر الإنتقالية :

عناصر فلزية حيث يحتوي كل من تحت المستوى S و تحت المستوى d المجاور له على إلكترونات .

حدد موقع كل عنصر من العناصر التالية في الجدول الدوري مع تحديد اسم المجموعة (إن أمكن) مع تحديد نوع العنصر (غاز نبيل-مثالي-انتقالي-انتقالي داخلي)



ملاحظة : لتحديد نوع العنصر (عناصر المجموعات A) وتحديد نوع العنصر يجب كتابة الترتيب الإلكتروني الكامل للعنصر

العنصر	الترتيب الإلكتروني الكامل	موقع العنصر في الجدول الدوري	نوع العنصر
${}_{17}\text{Cl}$	$1s^2, 2s^2, 2p^6, 3s^2, 3p^5$	الدورة: 3 المجموعة: 7A	مثالي (لافلز-هالوجين)
${}_6\text{C}$	$1s^2, 2s^2, 2p^2$	الدورة: 2 المجموعة: 4A	مثالي (لافلز)
${}_{10}\text{Ne}$	$1s^2, 2s^2, 2p^6$	الدورة: 2 المجموعة: 8A	غاز نبيل (لافلز)
${}_{11}\text{Na}$	$1s^2, 2s^2, 2p^6, 3s^1$	الدورة: 3 المجموعة: 1A	مثالي (فلز)
${}_{32}\text{Ge}$	$1s^2, 2s^2, 2p^6, 3s^2, 3p^6, 4s^2, 3d^{10}, 4p^2$	الدورة: 4 المجموعة: 4A	مثالي (شبه فلز)



الدرس 2-3 العيول الدورية (التدرج في الخواص)

التدرج في نصف القطر الذري (الحجم الذري): -

ما المقصود بنصف القطر الذري؟



نصف القطر الذري: نصف المسافة بين نواتي ذرتين متماثلتين في جزيه ثنائي الذرة.

يقاس نصف القطر الذري بوحدَة pm البيكومتر

لا يمكن قياس قطر الذرة بطريقة مباشرة؟



الإجابة: لان ليس للذرة حدود واضحة تحدد حجمها.

⊗ التدرج في نصف القطر الذري تجاه الدورة:

علل: يقل الحجم الذري (نصف القطر الذري) كلما انتقلنا من يسار إلى يمين الدورة في الجدول الدوري (بزيادة العدد الذري)؟

الإجابة: لزيادة شحنة النواة بينما يظل مستوى الطاقة الرئيسي نفسه ودرجة الحجب تظل نفسها وبالتالي تزداد قوة جذب النواة ويتم سحب الإلكترونات الخارجية إلى مسافة أقرب من النواة ويتناقص الحجم الذري (تنكمش الذرة).

⊙ التدرج في نصف القطر الذري تجاه المجموعة:

علل: - يزداد الحجم الذري (نصف القطر الذري) كلما انتقلنا إلى أسفل المجموعة في الجدول الدوري (بزيادة العدد الذري)؟

الإجابة: للأسباب التالية:

- 1- زيادة عدد مستويات الطاقة.
- 2- زيادة درجة حجب النواة.
- 3- زيادة المسافة بين النواة والإلكترونات الخارجية.

زيادة في العدد الذري (من اليسار إلى اليمين)

نقص في الحجم الذري (نصف القطر)

حجب النواة ثابت - عدد مستويات الطاقة

زيادة في العدد الذري
(من أعلى لأسفل)
زيادة في الحجم الذري
(نصف القطر)
حجب النواة يزداد - عدد
مستويات طاقة يزداد

الجدول الدوري للعناصر																																			
1	2											10	11	12	13	14	15	16	17	18															
H	He											B	C	N	O	F	Ne																		
3	4	5	6	7	8	9	10	11	12	13	14	15	16	17	18																				
Li	Be	B	C	N	O	F	Ne	Na	Mg	Al	Si	P	S	Cl	Ar																				
19	20	21	22	23	24	25	26	27	28	29	30	31	32	33	34	35	36																		
K	Ca	Sc	Ti	V	Cr	Mn	Fe	Co	Ni	Cu	Zn	Ga	Ge	As	Se	Br	Kr																		
37	38	39	40	41	42	43	44	45	46	47	48	49	50	51	52	53	54																		
Rb	Sr	Y	Zr	Nb	Mo	Tc	Ru	Rh	Pd	Ag	Cd	In	Sn	Sb	Te	I	Xe																		
55	56	57	58	59	60	61	62	63	64	65	66	67	68	69	70	71	72																		
Cs	Ba	Hf	Ta	W	Re	Os	Ir	Pt	Au	Hg	Tl	Pb	Bi	Po	At	Rn																			
87	88	89	90	91	92	93	94	95	96	97	98	99	100	101	102																				
Fr	Ra	Rf	Db	Sg	Bh	Hs	Mt	Ds	Rg	Cn																									
																		103	104	105	106	107	108	109	110	111	112								
																		La	Ce	Pr	Nd	Pm	Sm	Eu	Gd	Tb	Dy	Ho	Er	Tm	Yb	Lu			
																		Ac	Th	Pa	U	Np	Pu	Am	Cm	Bk	Cf	Es	Fm	Md	No	Lr			



التدرج في طاقة التأين :

ما المقصود بطاقة التأين؟



طاقة التأين: هي الطاقة اللازمة للتغلب على جذب شحنة النواة ونزع إلكترون من ذرة في الحالة الغازية.

😊 التدرج في طاقة التأين تجاه الدورة:

علل:- تزداد طاقة التأين الأول للعناصر

المثالية كلما انتقلنا من يسار إلى يمين
الدورة في الجدول الدوري (بزيادة العدد
الذري) ؟

الإجابة: لان شحنة النواة تزداد بينما يظل تأثير الحجب
ثابت فيزداد جذب النواة للإلكترون فيصعب نزعه وتزداد
طاقة التأين .

😊 التدرج في طاقة التأين تجاه المجموعة:

علل:- تقل طاقة التأين الأول كلما انتقلنا إلى
أسفل المجموعة في الجدول الدوري (بزيادة
العدد الذري) ؟

الإجابة: لزيادة حجم الذرات وزيادة درجة حجب النواة
فيقل جذبها للإلكترون ويسهل نزعه فتقل طاقة التأين.



التدرج في الميل الإلكتروني :

ما المقصود بالميل الإلكتروني ؟



الميل الإلكتروني :- الطاقة المنطلقة عند إضافة إلكترون إلى ذرة غازية متعادلة لتكوين أيون سالب في الحالة الغازية .

😊 التدرج في الميل الإلكتروني تجاه الدورة :

علل :- يزداد الميل الإلكتروني كلما انتقلنا

من اليسار إلى اليمين في الدورة في الجدول
الدوري (بزيادة العدد الذري) ؟

الإجابة: لنقص الحجم الذري وثبات الحجب فيسهل
على النواة جذب الإلكترون المضاف.

علل: تميل بعض الذرات لاكتساب إلكترونات ؟

الإجابة: للوصول إلى حالة الاستقرار (طاقة اقل) .

😊 التدرج في الميل الإلكتروني تجاه المجموعة :

علل:- يتناقص الميل الإلكتروني كلما انتقلنا
إلى أسفل المجموعة في الجدول الدوري
(بزيادة العدد الذري) ؟

الإجابة: للأسباب التالية :

- 1- زيادة عدد مستويات الطاقة وزيادة الحجب.
 - 2- زيادة عدد المستويات المستقرة وعدد الإلكترونات
المتنافرة.
- وبالتالي يقل جذب شحنة النواة فيصعب جذب
الإلكترون المضاف ويقل الميل.

علل: الميل الإلكتروني للفلور أقل من الكلور بالرغم من أن للفلور نصف قطر أقل؟

الإجابة: لان الإلكترون المضاف سيتأثر بقوة تنافر مع الإلكترونات المتسعة الموجودة أصلا حول نواة ذرة الفلور.

علل : للمجموعة الخامسة عشر 5A ميل إلكتروني ضعيف كما أن للنيتروجين ميل إلكتروني موجب؟

الإجابة : لان تحت مستوياتها الخارجية نصف ممتلئة مما يحدث ثباتا نسبيا في تركيبها الإلكتروني.



✪ التدرج في الحجم الأيوني :

ذرات العناصر الفلزية لها طاقات تأين منخفضة ولذلك فهي تكون أيونات موجبة (كاتيونات) بسهولة.

بينما ذرات عناصر اللافلزات لها طاقات تأين عالية وبالتالي فهي تكون أيونات سالبة (أنيونات).



😊 التدرج في الحجم الأيوني تجاه الدورة:

بصفة عامة تقل أنصاف أقطار (أحجام) الأيونات كلما انتقلنا من يسار إلى يمين المجموعة .

😊 التدرج في الحجم الأيوني تجاه المجموعة:

بصفة عامة تزداد أنصاف أقطار (أحجام) الأيونات كلما انتقلنا من أعلى لأسفل المجموعة.

WWW.KweduFiles.Com

علل : الأيونات الموجبة (الكاتيونات) تكون أصغر حجما من الذرات المتعادلة التي تكونت منها

الإجابة : لان قوة جذب شحنة النواة الفعالة تصبح أكبر لفقده عدد من الإلكترونات (لزيادة شحنة النواة الموجبة)

علل : الأيونات السالبة (الأنيونات) تكون أكبر حجما من الذرات المتعادلة التي تكونت منها

الإجابة : لان قوة جذب شحنة النواة الفعالة تصبح اقل لزيادة عدد الإلكترونات (لزيادة الشحنة السالبة)



✪ التدرج في السالبية الكهربائية :

ما المقصود بالسالبية الكهربائية؟

السالبية الكهربائية : ميل ذرات العنصر لجذب الإلكترونات، عندما تكون مرتبطة كيميائيا بذرات عنصر آخر.



يعبر عن السالبية بوحدات مطلقة بمقياس باولنج .

😊 التدرج في السالبية الكهربائية تجاه الدورة :

تتزايد السالبية الكهربائية كلما اتجهنا من يسار إلى يمين
الدورة وذلك لصغر نصف القطر.

😊 التدرج في السالبية الكهربائية تجاه المجموعة :

تتناقص السالبية الكهربائية كلما اتجهنا من أعلى لأسفل
المجموعة وذلك لكبر نصف القطر.

تقع أقل العناصر في السالبية أسفل يمين الجدول (السيزيوم Cs) وأعلى العناصر في السالبية أعلى يسار الجدول (الفلور F)



ملخص الميول الدورية :-

الحجب ثابت

شحنة النواة تتزايد

نصف القطر يتناقص

طاقة التأين والميل الإلكتروني والسالبية الكهربائية تتزايد

الحجب يزداد
شحنة النواة تزداد
نصف القطر يزداد
طاقة التأين والميل
والسالبية تتناقص

الجدول الدوري للعناصر

1	2	3	4	5	6	7	8	9	10								
H	He																
3	4																
Li	Be																
11	12																
Na	Mg																
19	20	21	22	23	24	25	26	27	28	29	30	31	32	33	34	35	36
K	Ca	Sc	Ti	V	Cr	Mn	Fe	Co	Ni	Cu	Zn	Ga	Ge	As	Se	Br	Kr
37	38	39	40	41	42	43	44	45	46	47	48	49	50	51	52	53	54
Rb	Sr	Y	Zr	Nb	Mo	Tc	Ru	Rh	Pd	Ag	Cd	In	Sn	Sb	Te	I	Xe
55	56		72	73	74	75	76	77	78	79	80	81	82	83	84	85	86
Cs	Ba		Hf	Ta	W	Re	Os	Ir	Pt	Au	Hg	Tl	Pb	Bi	Po	At	Rn
87	88		104	105	106	107	108	109	110	111	112						
Fr	Ra		Rf	Db	Sg	Bh	Hs	Mt	Ds	Rg	Cn						
57	58	59	60	61	62	63	64	65	66	67	68	69	70	71			
La	Ce	Pr	Nd	Pm	Sm	Eu	Gd	Tb	Dy	Ho	Er	Tm	Yb	Lu			
89	90	91	92	93	94	95	96	97	98	99	100	101	102	103			
Ac	Th	Pa	U	Np	Pu	Am	Cm	Bk	Cf	Es	Fm	Md	No	Lr			

الجدول الدوري للعناصر

1																	2	
1	H																	He
2	3	4																
2	Li	Be																
3	11	12																
3	Na	Mg																
4	19	20	21	22	23	24	25	26	27	28	29	30	31	32	33	34	35	36
4	K	Ca	Sc	Ti	V	Cr	Mn	Fe	Co	Ni	Cu	Zn	Ga	Ge	As	Se	Br	Kr
5	37	38	39	40	41	42	43	44	45	46	47	48	49	50	51	52	53	54
5	Rb	Sr	Y	Zr	Nb	Mo	Tc	Ru	Rh	Pd	Ag	Cd	In	Sn	Sb	Te	I	Xe
6	55	56		72	73	74	75	76	77	78	79	80	81	82	83	84	85	86
6	Cs	Ba		Hf	Ta	W	Re	Os	Ir	Pt	Au	Hg	Tl	Pb	Bi	Po	At	Rn
7	87	88		104	105	106	107	108	109	110	111	112						
7	Fr	Ra		Rf	Db	Sg	Bh	Hs	Mt	Ds	Rg	Cn						
		57	58	59	60	61	62	63	64	65	66	67	68	69	70	71		
		La	Ce	Pr	Nd	Pm	Sm	Eu	Gd	Tb	Dy	Ho	Er	Tm	Yb	Lu		
		89	90	91	92	93	94	95	96	97	98	99	100	101	102	103		
		Ac	Th	Pa	U	Np	Pu	Am	Cm	Bk	Cf	Es	Fm	Md	No	Lr		

استخدم الجدول الدوري كلما لزم الأمر لحل الأسئلة التالية



مراجعة دروس الفصل الثاني



من اختبارات الفترة الأولى للأعوام السابقة لجميع المناطق



مصطلح علمي:



1- ترتيب العناصر بحسب ازدياد العدد الذري، بحيث يحدث تكرار دوري للصفات الفيزيائية والكيميائية. (.....)

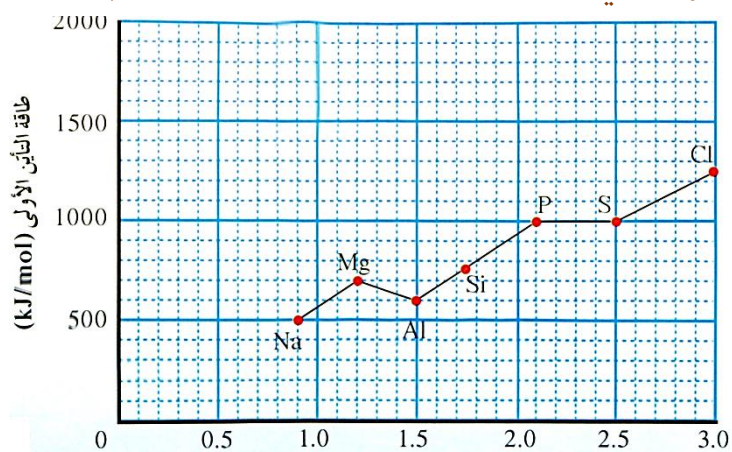
الإجابة: القانون الدوري

- 2 اسم يطلق على عناصر لافلزات المجموعة 7A في الجدول الدوري. (.....) الإجابة: الهالوجينات
- 3 ميل ذرات العنصر لجذب الإلكترونات عندما تكون مرتبطة كيميائيا بذرات عنصر آخر.
الإجابة: السالبة الكهربائية
- 4 عند ترتيب العناصر بحسب ازدياد العدد الذري، يحدث تكرار دوري للصفات الفيزيائية والكيميائية. (.....)
الإجابة: القانون الدوري
- 5 جدول رتبته فيه العناصر حسب الزيادة في العدد الذري. (.....) الإجابة: الجدول الدوري الحديث
- 6 جدول رتبته العناصر فيه حسب الكتل الذرية. (.....) الإجابة: جدول مندليف
- 7 الطاقة اللازمة للتغلب على جذب شحنة النواة، ونزع إلكترون من الذرة في الحالة الغازية. (.....)
الإجابة: طاقة التأين
- 8 كل عمود رأسي من العناصر في الجدول الدوري. (.....) الإجابة: المجموعة
- 9 نصف المسافة بين نواتي ذرتين متماثلتين في جزئ ثنائي الذرة. (.....) الإجابة: نصف القطر الذري
- 10 عناصر تتلى فيها تحت المستويات الخارجية S و P بالإلكترونات. (.....) الإجابة: الغازات النبيلة
- 11 كمية الطاقة المنطلقة عند إضافة إلكترون إلى ذرة غازية متعادلة لتكوين أيون سالب في الحالة الغازية.
الإجابة: الميل الإلكتروني
- 12 عناصر فلزية حيث يحتوي كل من تحت مستوى الطاقة S وتحت المستوى O المجاور له على إلكترونات. (.....)
الإجابة: العناصر الانتقالية
- 13 عناصر تكون فيها تحت المستويات S أو P ممتلئة جزئيا بالإلكترونات. (.....)
الإجابة: العناصر المتألفة
- 14 عناصر فلزية حيث يحتوي كل من تحت المستوى S وتحت المستوى f المجاور له على إلكترونات. (.....)
الإجابة: العناصر الانتقالية الداخلية
- 15 اسم يطلق على كل صف أفقي في الجدول الدوري. (.....) الإجابة: الدورة

املاً الفراغ: -

- 1 تسمى العناصر المجاورة للخط الفاصل بين السلوك الفلزي واللافلزي..... الإجابة: اشباه الفلزات
- 2 العناصر التي تتميز بإضافة إلكترونات إلى أفلاك تحت مستوى الطاقة f تسمى بالعناصر.....
الإجابة: الانتقالية الداخلية
- 3 نصف القطر الذري كلما انتقلنا من أعلى إلى أسفل المجموعة في الجدول الدوري بزيادة العدد الذري
الإجابة: يزداد

- 4- عناصر المجموعة 8A في الجدول الدوري الحديث تسمى الإجابة: الغازات النبيلة
- 5- كلما انتقلنا إلى أسفل المجموعة الواحدة في الجدول الدوري فإن نصف القطر الذري الإجابة: يزداد
- 6- الميل الإلكتروني لذرة الفلور من الميل الإلكتروني لذرة الكلور. الإجابة: أقل
- 7- تسمى عناصر المجموعة 8A التي تتلئ تحت مستوياتها الخارجية s و p بالإلكترونات بمجموعة الإجابة: الغازات النبيلة
- 8- أقل العناصر سالبية كهربائية هو الإجابة: السيزيوم Cs
- 9- طاقة التأين الأول للعناصر المثالية كلما تحركنا عبر الدورة من اليسار إلى اليمين. الإجابة: تزداد
- 10- أكبر العناصر في السالبية الكهربائية في الجدول الدوري هو عنصر الإجابة: الفلور F
- 11- يقع العنصر الذي ينتهي توزيعه الإلكتروني بـ $(3s^2)$ في المجموعة الإجابة: الفلزات القلوية الأرضية (2A)
- 12- العنصر الذي له أعلى ميل إلكتروني في الجدول الدوري هو عنصر الإجابة: الكلور Cl
- 13- تحتوي الدورة السادسة من الجدول الدوري على عنصرا. الإجابة: 32
- 14- عدد الإلكترونات في أعلى مستوى طاقة لذرات كل من الكربون والسيليكون يساوي، علما بأن كل من العنصرين ينتمي إلى المجموعة الرابعة 4A في الجدول الدوري الحديث. الإجابة: 4 إلكترونات
- 15- الميل الإلكتروني لذرة الكلور من الميل الإلكتروني لذرة الفلور. الإجابة: أعلى
- 16- نوع عنصر البوتاسيوم ^{19}K حسب ترتيبه الإلكتروني هو الإجابة: فلز مثالي
- 17- في الدورة الثانية حجم الذرة كلما تحركنا من اليسار إلى اليمين. الإجابة: يقل
- 18- العنصر الذي ينتهي ترتيبه الإلكتروني بتحت المستوى $3p^1$ له الرمز الكيميائي الإجابة: ^{13}Al
- 19- الأيون الذي حجمه أكبر من بين الأيونات التالية (P^{3-}, Cl^-) هو الإجابة: P^{3-}
- 20- مستعينا بالرسم التالي والذي يوضح العلاقة بين السالبية الكهربائية وطاقة التأين لعناصر الدورة الثالثة فإن ذرة العنصر التي لها أصغر نصف قطر ذري هي الإجابة: الكلور Cl



الإجابة: 2A (الثانية)

الإجابة: السيزيوم Cs

الإجابة: اشباه الفلزات

21- تقع عناصر الفلزات القلوية الأرضية في الجدول الدوري في المجموعة

22- أقل عناصر الجدول الدوري سالبية هو عنصر

23- السيليكون Si والجرمانيوم Ge من عناصر

تعلم: -

الترتيب الإلكتروني لأقرب غاز نبيل

الأعداد الذرية	شكل الترتيب	مثال
من 3 - 10	$[2\text{He}], 2s^2, \dots$	${}_{9}\text{F}: [2\text{He}], 2s^2, 2p^5$
من 11 - 18	$[10\text{Ne}], 3s^2, \dots$	${}_{17}\text{Cl}: [10\text{Ne}], 3s^2, 3p^5$
من 19 - 36	$[18\text{Ar}], 4s^2, \dots$	${}_{19}\text{K}: [18\text{Ar}], 4s^1$

24- العنصر الذي ترتيبه الإلكتروني $[18\text{Ar}], 4s^1, 3d^5$ يصنف على أنه من العناصر الإجابة: الانتقالية

25- العنصر الذي ترتيبه الإلكتروني $[54\text{Xe}]6s^2, 4f^1$ يصنف على أنه من العناصر الإجابة: الانتقالية الداخلية

علل ما يلي :-



الميل الإلكتروني لذرة الفلور أقل من الميل الإلكتروني لذرة الكلور



الإجابة: لان الإلكترون المضاف سيتأثر بقوة تنافر مع الإلكترونات التسعة الموجودة أصلا حول نواة ذرة الفلور .

تزداد طاقة التأين للعناصر المثالية بزيادة العدد الذري في الدورة



الإجابة: : لان شحنة النواة تزداد بينما يظل تأثير الحجب ثابت فيزداد جذب النواة للإلكترون فيصعب نزعها وتزداد طاقة التأين .



يزداد الحجم الذري (نصف القطر الذري) كلما انتقلنا الى أسفل في المجموعة (يزداد الحجم الذري أثناء التدرج من أعلى إلى أسفل في المجموعة في الجدول الدوري)

للأسباب التالية:

- 1- زيادة عدد مستويات الطاقة.
- 2- زيادة درجة حجب النواة.
- 3- زيادة المسافة بين النواة والإلكترونات الخارجية.



يقبل نصف القطر الذري عبر الدورة كلما تحركنا من اليسار إلى اليمين في الجدول الدوري.

لزيادة شحنة النواة بينما يظل مستوى الطاقة الرئيسي نفسه ودرجة الحجب تظل نفسها وبالتالي تزداد قوة جذب النواة ويتم سحب الإلكترونات الخارجية إلى مسافة أقرب من النواة ويتناقص الحجم الذري (تنكمش الذرة).



يتناقص الميل الإلكتروني من أعلى إلى أسفل في المجموعة في الجدول الدوري

للأسباب التالية :

- 1- زيادة عدد مستويات الطاقة وزيادة الحجب.
 - 2- زيادة عدد المستويات المستقرة وعدد الإلكترونات المتنافرة.
- وبالتالي يقل جذب شحنة النواة فيصعب جذب الإلكترون المضاف ويقل الميل.



تسمى عناصر المجموعة 8A أحيانا بالغازات النبيلة

لقدرتها المحدودة على تكوين روابط كيميائية أو لا تشترك في الكثير من التفاعلات الكيميائية



يتزايد الميل الإلكتروني من اليسار إلى اليمين في الدورة الواحدة بصفة عامة

لنقص الحجم الذري وثبات الحجب فيسهل على النواة جذب الإلكترون المضاف.

الذرات والدورية الكيميائية :

السؤال الأول اكتب بين القوسين الاسم أو المصطلح العلمي الذي تدل عليه كل من العبارات التالية

- (1) الفضاء المحيط بالنواة ويحتمل وجود الإلكترون فيها كل الاتجاهات (الالكترونية)
- (2) المنطقة الفراغية حول النواة التي يكون فيها أكبر احتمال لوجود الإلكترون.
- (3) الطاقة اللازمة لنقل الإلكترون من مستوى الطاقة الساكن فيه إلى مستوى الطاقة الأعلى التالي له.
- (4) يحدد مستويات الطاقة في الذرة ويأخذ أي قيمة عدد صحيح في المدى (الرئيسي)
- (5) الذي يحدد تحت مستويات الطاقة في مستوى الطاقة ويأخذ أي قيمة عدد صحيح $0 \quad n-1$
- (6) عدد كم يحدد نوع حركة الاكترون المغزلية حول محوره ويأخذ القيم $1/2 + 1/2 -$
- (7) عدد كم يحدّد عدد الأفلاك في تحت مستويات الطاقة واتجاهاتها ويأخذ أي قيمة عدد صحيح في المدى $- m +$
- (8) تحت مستوى له شكل كروي واتجاه محتمل واحد ويكون احتمال وجود الإلكترون في أي اتجاه من النواة متساوياً. (s)
- (9) تترتب بها الاكترونات حول أنويه الذرات. (الترتيبات الالكترونية)
- (10) ان تما تحت مستويات الطاقة ذات الطاقة المنخفضة اولا ثم تحت مستويات الطاقة ذات الطاقة الاعلى. www.KweduFiles.Com
- (11) لا يوجد الكترونان لهما اعداد الكم الاربعة نفسها.
- (12) الاكترونات تما تحت مستوى الطاقة الواحد كل الكترون بمفرده باتجاه الغزل نفسه ثم تبدأ (هوند)
- (13) عند ترتيب العناصر بحسب ازدياد العدد الذرى يحدث تكرار دورى للصفات الفيزيائية والكيميائية.
- (14)
- (15) الصفوف الافقية في الجدول الدوري.
- (16) 1A
- (17) 2A (الارضية)
- (18) 7A (الهالوجينات)
- (19) 8A (النبيلة)
- (20) عناصر تشغل الجزء الايمن وتتميز بضعف توصيلها للكهرباء.
- (21) عناصر تشغل الجزء الايد وتتميز بتوصيلها الجيد كهرباء.

- () (22) عناصر لها صفات متوسطة بين الفلزات واللافلزات وتستخدم كأشباه موصلات.
- (النبيلة) (23) فيها تحت المستويات الخارجية p s .
- (المثالية) (24) المستويات الخارجية P s جزئياً
- (الضعيفة) (25) بين أشباه الفلزات والفلزات الانتقالية لها سالبية كهربائية الانتقالية. p A
- (الانتقالية) (26) عناصر فلزية حيث يحتوي كل من تحت مستوى الطاقة s d
- (الانتقالية الداخلية) (27) عناصر فلزية حيث يحتوي كل من تحت مستوى الطاقة s f المجاور له
- () (28) نصف المسافة بين ذرتين متماثلتين (نوع واحد)
- (التآين) (29) الطاقة اللازمة للتغلب على جذب شحنة النواة، ونزع إلكترون من ذرة في الحالة الغازية
- (طاقة التآين) (30) غازية.
- (طاقة التآين) (31) من ايون بسيط غازي $(1+)$
- (طاقة التآين) (32) من ايون بسيط غازي $(2+)$
- (ميل) (33) كمية الطاقة المنطلقة عند إضافة إلكترون إلى ذرة غازية متعادلة لتكوين أيون سالب في الحالة الغازية.
- (السالبية الكهربائية) (34) ميل ذرات العنصر لجذب الإلكترونات عندما تكون مرتبطة كيميائياً بذرات عنصر آخر

www.KweeduFiles.Com : جملة الصحيحة و جملة الخطأ في كل مما يلي

- (1) يتنافر الإلكترونان نفس الفلك بالرغم ان لهما نفس الشحنة
- (2) يتسع تحت المستوى p
- (3) يتسع تحت المستوى d
- (4) نظراً لطبيعة الحركة الموجية للإلكترون حول النواة يسهل تعيين موقعه بالنسبة للنواة.
- (5) عدد تحت مستويات الطاقة الرئيسي (N) يساوى (4).
- (6) عندما ينتهى الترتيب (P^4) فانه يكون لديه
- (7) ينتقل الكترون واحد ذرة البوتاسيوم ^{19}K دخوله في
- (8) يملا تحت المستوى $(4s)$ $(3p)$.
- (9) يختلف الإلكترونان (P_x) قيمة عدد الكم
- (10) يختلف الترتيب (^{24}Cr) الترتيب المستنتج باستخدام مبدأ أوفباو
- (11) تتشابه الخواص الكيميائية والفيزيائية لكل من الصوديوم ^{11}Na والبوتاسيوم ^{19}K
- (12) الترتيب لذرة البوتاسيوم هو $[^{18}Ar]4s^1$
- (13) $8A$ النبيلة.


- (14) (8A) على العناصر التي تقع الكتروناتها الخارجية في p^6
- (15) ينتهي ترتيبه $(2p^3)$ يقع
- (16) لا تتغير
- (17) يزداد الحجم الذري كلما تحركنا من اليسار الى اليمين عبر الدورة الواحدة
- (18) تزداد طاقة التأين كلما اتجهنا الى
- (19) طاقة التأين الثانية من طاقة التأين الاولى للفلزات القلوية.
- (20) تزداد طاقة التأين المثالية كلما اتجهنا من اليسار الى اليمين
- (21) طاقة التأين الاول لعنصر البوتاسيوم أكبر من طاقة التأين الاول لعنصر الليثيوم.
- (22) الميل من الميل
- (23) يقل الميل الإلكتروني في مجموعه الجدول الدوري الحديث من اعلى الى أي بتزايد العدد الذري
- (24) حجم الايونات الموجبة (الكاتيونات) منها.
- (25) الايونات السالبة (الانيونات) تكون دائما حجما من ذراتها

: الفراغات في الجمل التالية بما يناسبها علميا

- (1) يرمز لتحت المستوى ويحتوي $4p$
- (2) h (العدد) 8 (2)
- (3) عدد الالكترونات غير المزدوجة عنصر النتروجين $7N$ هو (3)
- (4) $($ غير $)$ $6C$ هو 2
- (5) عدد الالكترونات المفردة (غير المزدوجة) في ذرة الألومنيوم Al 1
- (6) f يحتوي (7)
- (7) يشير كل عدد كم رئيسي $---$ رئيسي
- (8) الرئيسي الثالث يساوي (9)
- (9) كانت قيم اعداد الكم هي $(0, 1, 2, 3)$ الرئيسي (n) له يساوي (4)
- (10) قيمة $3p$ يساوي (1)
- (11) ذرة عنصر لها الترتيب $1s^2 2s^2 2p^6 3s^1$ قيمة (n) 3
- (12) اقصى عدد من الالكترونات يمكن ان يشغل تحت $(4p)$ هو (6)
- (13) $5B$ ترتيب $1S^2 2s^2 2P^1$ غير يساوي (1)
- (14) له الرمز M يتسع لعدد من الالكترونات يساوي (18)
- (15) مستوى الطاقة الذي له الرمز N يتسع لعدد من الالكترونات يساوي (32)

- (16) يكون --- ___ ---
- (17) p الثلاثة تختلف عن بعضها في اتجاهاتها الفراغية ولكنها متساوية في --- ___ ---
- (18) عدد افلاكه (5) هو d ---
- (19) $1s^2 2s^2 2p^6 3s^2 3p^6 4s^1 3d^{10}$ هو الترتيب --- ___ ---
- (20) $(n=4, l=0)$ فان هذا يدل علي تحت المستوى 4s ---
- (21) يحدد عدد الكم المغناطيسي عدد --- ___ --- في تحت مستويات الطاقة واتجاهها في الفراغ
- (22) s له شكل --- ___ --- واتجاه محتمل واحد ويكون احتمال وجود الالكترون في أي اتجاه من النواة متساويا
- (23) رتب مندليف العناصر في اعمدة حسب الزيادة في الكتل الذرية -
- (24) رتبت العناصر في الجدول الدوري الحديث تبعا للزيادة في --- ___ ---
- (25) عناصر الدورة الاولى من الجدول الدوري يساوي 2 ---
- (26) يساوي --- (32) ---
- (27) تسمى مجموعة العناصر اللافلزية 7A ومن بينها الكلور والبروم باسم --- (الهالوجينات) ---
- (28) 1A --- ___ ---
- (29) (2A) --- (الارضية) ---
- (30) ينتهي ترتيبه $(3s^2 3p^2)$ يقع --- () ---
- (31) 8A 7A 1A --- (المثالية) ---
- (32) الزرنيخ $33As$ والذي ينتهي ترتيبه $(4s^2 3d^{10} 4p^3)$ يقع --- () ---
- (33) عنصر السيلينيوم $34Se$ والذي ينتهي ترتيبه $(4s^2 3d^{10} 4p^4)$ يقع --- ___ ---
- (34) ينتمي عنصر الكربون $6C$ 4A وبذلك يحتوى مستوى الطاقة الاخير لذرته على عدد من الالكترونات يساوي (4) ---
- (35) تقع العناصر التي تمتلئ فيها تحت المستويات s,p --- ___ ---
- (36) تتميز العناصر الانتقالية الداخلية بإضافة الكترونات الى f ---
- (37) يعتبر ns^1 ينتهي ترتيبه 1A ---
- (38) ينتهي ترتيبه $(3s^2 3p^5)$ يقع 7A --- (الهالوجينات) ---
- (39) يوجد مجموعتان جميع عناصرها لافلزات تسميان الغازات النبيلة --- والهالوجينات ---

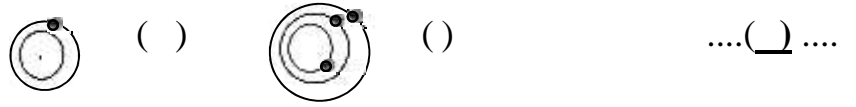
- (40) ينتهي ترتيبه بتحت المستوى p^2 فانه ينتمي -----
- (41) تقسم العناصر المثالية الى ثلاثة اقسام كبيرة هي -----
- (42) تسمى العناصر المجاورة للخط الفاصل بين السلوك الفلزي -----
- (43) الفلزات التي تقع بين الفلزات الانتقالية واشباه الفلزات تسمى الفلزات الضعيفة -----
- (44) B الانتقالية -----
- (45) العنصر الذي يقع في الدورة الرابعة والمجموعة الثانية هو الكالسيوم -----
- (46) العناصر الموصلة للكهرباء والقابلة للطرق والسحب في الجدول الدوري تسمى -----
- (47) العنصر اللافلزي السائل في الجدول الدوري هو -----
- (48) الغازات النبيلة 8A -----
- (49) بزيادة العدد الذرى (يزيد) تأثير -----
- (50) نصف القطر الذرى لعنصر النتروجين $7N$ من نصف القطر الذرى لعنصر الاكسجين $8O$ -----
- (51) يزيد ----- كلما اتجهنا من اليمين الى اليسار عبر الدورة الواحدة
- (52) () ----- (يقل) ----- كلما تحركنا من اليسار الى اليمين عبر -----
- (53) يزيد ----- القطر الذرى كلما هبطنا من الاعلى الى الاسفل مع زيادة العدد الذرى
- (54) يقع الارجون $18Ar$ نهاية الدورة الثالثة من الجدول بينما الصوديوم $11Na$ بدايتها، الاكبر فيهما هو عنصر (الصوديوم) -----
- (55) فانها تتحول ----- (ايون موجب او كاتيون) -----
- (56) فانها ----- (ايون أنيون) -----
- (57) طاقة التأين ----- () ----- (بزيادة العدد
- (58) التأين الاول لعنصر المغنسيوم ----- () ----- التأين الثاني للعنصر نفسه
- (59) طاقة التأين ----- () ----- الدورة الواحدة من اليسار الى اليمين (بزيادة العدد
- (60) الأيوني ----- () ----- ذرته
- (61) مستعينا بالرسم البياني يوضح العلاقة بين السالبية الكهربائية وطاقة التأين لعناصر الدورة الثالثة فان له -----
- هو ----- (الصوديوم) ----- لها
- (62) تسمى الطاقة التالية $Cl_{(g)} + e^- \rightarrow Cl_{(g)}^- + 348 \text{ kJ/mol}$ ----- الميل -----



(63) تسمى الطاقة التالية $\text{Na}_{(g)} + 496 \text{ kJ/mol} \rightarrow \text{Na}^+_{(g)} + e^-$ التأيين ----

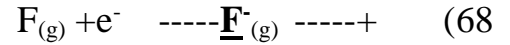
(64) التأيين الاول لذره المغنسيوم Mg الغازية ---- التأيين الثانية لأيون بسط غازي Mg^{2+}

(65) في الشكل المقابل احدى الذرتين يلزم لها أكبر طاقة تأين اولى لنزع الالكترتون منها والتي يرمز اليها بالحرف



(66) الفلزية لها طاقات تأين ----

(67) فان طاقة التأيين الاولى تكون ---- من طاقة التأيين الثانية



(69) العنصر الذي له أعلى ميل إلكتروني في الجدول الدوري هو عنصر ----

(70) الايون الذي حجمه اكبر من بين الايونات التالية ($\text{P}^{3-}, \text{Cl}^-$) هو P^{3-} ----

(71) دائما ما يكون للأيونات الموجبة (الكاتيونات) ---- تكونت منها

(72) دائما ما يكون للأيونات (الانيونات) حجما ---- تكونت منها

(73) الانيون S^{2-} ---- S

(74) يستخدم مقياس باولنج للتعبير عن ---- السالبية الكهربائية

(75) العناصر التي تقع في الجزء الايسر السفلي من الجدول الدوري لها (اعلى /) ---- سالبية كهربائية

(76) ساليبه كهربائية هو ----

(77) اقل العناصر ساليبه كهربائية في الجدول الدوري هو عنصر ---- السيزيوم

في المربع المقابل للإجابة الصحيحة التي تكمل كلا من الجمل التالية :

- (1) المعادلة الموجية يمكن تطبيقها على حركة الالكترتون هو: -
- (2) يشغل هو: -
- (3) الالكترتون الذي يوصف بأعداد ($m = -2$, $n = 3$) يمكن ان يوجد
- (4) واحد من القيم التالية لا يمث احدى قيم عدد الكم الرئيسي ()
- (5) مستعينا بقاعدة هوند فان عدد الالكترونات المفردة
- (6) مستعينا بقاعدة هوند فان عدد الالكترونات المفردة
- (7) الرئيسي ينقسم الى اقل عدد من تحت المستويات هو: -
-

(8) الرئيسي الثالث فان جميع العبارات التالية صحيحة ما عدا عبارة واحدة هي :-

- ينقسم الى ثلاث تحت مستويات
 يملأ بـ (18)
 ينقسم الى (9)
 يرمز له بالرمز (O)
(9) بيانات الجدول التالي تشير :-

السيليكون Si	الصوديوم Na	الليثيوم Li	عدد الالكترونات غير المزدوجة
2	1	1	

النموذج الميكانيكي الموجي
 قاعدة هوند
(10) الرئيسي N يساوي :-

9 18 16 32

(11) نفس الفلك يختلفان في قيمة :-

الرئيسي المغناطيسي

(12) ذره بها (8) d d نصف الممتلئة في هذه الحالة تساوي :-

(1) (2) (3) (4)

(13) يختلف الالكترونات $(2s^2)$ قيمة عدد الكم :-

الرئيسي المغناطيسي

(14) يختلف الالكترونات $(3p^2)$ قيمة عدد الكم :-

الرئيسي المغناطيسي

(15) عدد الالكترونات غير ^{24}Cr :-

(16) الرئيسي $n=3$ يحتوي (18) لأنه يحتوي :-

p s,p s,p,d s,p,d,f

(17) يعتمد الترتيب يلي :-

قاعدة هوند قاعدة الثمانية

(18) الاشكال التالية يمثل اربعة الكترونات p وهو :-



(19) ذرة الاكسجين ^8O $[2\text{He}]2s^2,2p^4$ يساوي :-

1 2 3 4

(20) الترتيب المقابل فان قيم اعداد الكم (n, m, m_s)

على الترتيب للإلكترون السادس :-

$(2,0,0,+1/2)$ $(2,1,0,+1/2)$ $(2,0,1,+1/2)$ $(2,0,0,-1/2)$

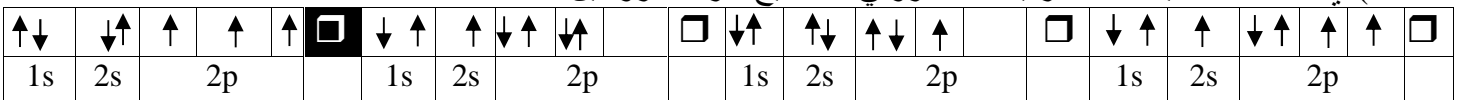
(21) $(n=4, =2)$ فان ذلك يعنى تحت المستوى :-

2s 4p 4d 4f

(22) تحت المستوى الذي له اقل طاقة من بين جميع تحت المستويات داخل أي مستوى رئيسي يكون :-

s p d f

(23) أي الاشكال التالية تمثل الترتيب الالكتروني الصحيح لذرة النتروجين :-



24) اوفباو (مبدأ البناء التصاعدي) وللماء الافلاك الذرية التالية فانه نتبع النموذج: -

- 1s, 2s, 2p, 3s, 3p, 3d, 4s 1s, 2s, 2p, 3s, 3p, 3d
1s, 2s, 2p, 3s, 3p, 4s, 4p, 3d **1s, 2s, 2p, 3s, 3p, 4s, 3d**

25) p متماثلة في جميع ما يلي عدا: -

-

26) واحد مما يلي فقط يعتبر عن الترتيب الالكتروني الصحيح لعنصر الكروم ^{24}Cr :-

- $1s^2 2s^2 2p^6 3s^2 3p^6 4s^1 3d^4$ $1s^2 2s^2 2p^6 3s^2 3p^6 4s^2 3d^4$
 $1s^2 2s^2 2p^6 3s^2 3p^6 4s^2 3d^5$ **$1s^2 2s^2 2p^6 3s^2 3p^6 4s^1 3d^5$**

27) ينتهي الترتيب الالكتروني لعنصر النحاس ^{29}Cu :-

- $[\text{Ar}]4s^2 3d^0$ $[\text{Ar}]4s^0 3d^{10}$ **$[\text{Ar}]4s^1 3d^{10}$** $[\text{Ar}]4s^2 3d^0$

28) العنصر الذي ينتهي ترتيبه الالكتروني $4s^2$ يكون عدده الذري: -

- (21) (18) **(20)** (8)

29) عدد البروتونات في الذرة التي لها الترتيب الالكتروني $[\text{Ar}]4s^2$:-

- 21 **20** 18 16

30) عدد الالكترونات المفردة غير المتزاوجة في ذرة الكبريت ^{16}S :-

- 6 5 3 **2**

31) p يختلفان في قيم أحد اعداد الكم وهو: -

- الرئيسي **لمغناطيسي**

32) العناصر التالية ينتهي ترتيبها

- ^{20}Ca ^{16}S ^{14}Si ^{13}Al

لها

33) على الكترونين

الترتيب :-

- $1s^2 2s^2 2p^5$ **$1s^2 2s^2 2p^4$** $1s^2 2s^2 2p^3$ $1s^2 2s^2 2p^2$

34) ينتهي الترتيب

- $[\text{Ar}] 4s^1 3d^5$ $[\text{Ar}] 4s^2 3d^3$ $[\text{Ar}] 4s^2 3d^2$ $[\text{Ar}] 4s^2$

35) يتسع له مستوى الطاقة الرئيسي

- 36 **32** 18 8

36) تحت المستوى الموجود في المستوى الرئيسي الرابع وقيمة $=2$ يرمز له

- 4d** 4p 3p 3s

37) ^{15}P :-

- 15 6 5 **3**

38) له اقل طاقة بين جميع تحت المستويات التالية: -

- 4f 3d **2p** 3s

39) الرمز الكيميائي والترتيب الإلكتروني لعنصر عدده الذري (19) هو: -

- $\text{K}:1s^2 2s^2 2p^6 3s^2 3p^6 4s^1$** $\text{P}:1s^2 2s^2 2p^6 3s^2 3p^5$ $\text{B}:1s^2 2s^2 2p^6 3s^2 3p^3$ $\text{P}:1s^2 2s^2 2p^6 3s^2 3p^3$

40) العنصر الذي له الترتيب الإلكتروني $1s^2 2s^2 2p^3$ يقع بالجدول الدوري في :-

- 3A 2 3A 3 5A 2 2A 1

41)العنصر الذي له الترتيب الإلكتروني $1s^2 2s^2 2p^6 3s^1$:

13 يسمى الصوديوم يعتبر عنصر انتقالي من الهالوجينات

42) ليف العناصر جدوله ترتيبا تصاعديا :-

الكتلة الذرية الاعداد الذرية

43) الحديث ترتيبا تصاعديا :-

الكتل الذرية الاعداد الذرية

44) جميع العناصر التالية تنتمي الى الدورة الرابعة من الجدول ويكون الترتيب الصحيح لهم من اليسار الى اليمين الى هو:-

20Ca 23V 26Fe 32Ga

26Fe 32Ga 23V 20Ca

45) العناصر التالية يعتبر عنصرا انتقاليا: -

8O 17Cl 20Ca 26Fe

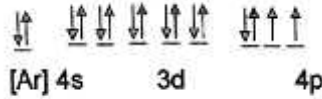
46) الكيميائي للغاز النبيل يقع الدورة الثانية هو:-

6C 7N 10Ne 14Si

47) يستخدم عنصري السيلكون والجرمانيوم في صناعة الشرائح الرقيقة لأجهزة الكمبيوتر والخلايا الشمسية وهما من عناصر :-

جميع ماسبق _____

48)العنصر الذي له الترتيب الإلكتروني :



يقع في الدورة الرابعة المجموعة السادسة يقع في الدورة الثالثة المجموعة السادسة

يقع في الدورة الرابعة المجموعة الثانية يقع في الدورة الرابعة المجموعة الرابعة

49) 7A :-

الفلزات القلوية الفلزات القلوية الارضية الغازات النبيلة الهالوجينات

50) العناصر التالية من الهالوجينات: -

8O 11Na 16S 17Cl

51) جميع عناصرها هي:-

IA 1A IIIA 3A VIIA 7A IIB 2B

هو:-

52) كل العناصر التالية عناصر انتقالية

النيون الحديد

53) بالنظر الى اخر تحت مستويين للترتيب $1s^2 2s^2 2p^6 3s^2 3p^6 4s^2 3d^1$ نستنتج انه يصنف كعنصر :-

غاز نبيل _____

54) تشترك الغازات النبيلة ذراتها:-

لها نفس العدد من الالكترونات

نشطة كيميائيا

55) يبدأ ظهور العناصر الانتقالية في :-

56) الجدول التالي يمثل احدى المجموعات في الجدول :-

19K	11Na	3Li	
-----	------	-----	--

فان المجموعة التي تقع فيها هذه :-

1A

2A

1B

2B

يعتبر عنصر البوتاسيوم $19K$:-

الفلزات القلوية الارضية الفلزات القلوية الغازات النبيلة العناصر الانتقالية

(58)العناصر المثالية لها صفات متوسطة بين الفلزات واللافلزات وتستخدم كأشباه موصلات :-

_____ العناصر الارضية النادرة الفلزات القلوية الهالوجينات

(59) (3) يشابه خواصه الكيميائية العنصر ذو العدد :

(2) (15) (18) (19)

(60) احدى العبارات التالية غير صحيحة فيما يخص الفلزات الضعيفة :-

هي فلزات تحت المستوى d لها ساليبه كهربائية أكبر من الفلزات القلوية

اقل صلابة من الفلزات الانتقالية الالومنيوم أحد هذه الفلزات

(61) يصنف العنصر ترتيبه الإلكتروني $[Xe]6s^24f^{11}$ في الجدول الدوري الحديث على انه :-

_____ غاز نبيل

(62) واحد مما يلي يعتبر من خواص عنصر الحديد ($26Fe$) :-

غاز نبيل _____ الانتقالية

(63) A,B,C تقع في دورة واحدة وفي ثلاث مجموعات متتالية بالجدول الدوري الحديث،

C نبيل، فإن رمز أيون العنصر B هو :-

B^+ B^- B^{2-} B^{3-}

(64) العناصر التالية من اشباه الفلزات ويستخدم بتصنيع الشرائح الرقيقة لأجهزة الكمبيوتر والخلايا الشمسية هو :-

الماغنسيوم الجرمانيوم

(65) العنصر الاكبر نصف قطر ذري من بين العناصر التالية هو :-

$12Mg$ $14Si$ $17C$ $18Ar$

(66) من بين العناصر التالية هو :-

$11Na$ $13Al$ $16S$ C 17

(67) لها نصف من ايوناتها كل زوج مما يلي هو :-

$8O, O^{2-}$ $19K, K^+$ $16S, S^{2-}$ $53I, I^-$

(68) الذرة التي لها أصغر نصف قطر ذري في الدورة الواحدة هي ذرة :-

الهالوجين الغاز النبيل شبه الفلز

(69) الجسيم الذي له أكبر نصف قطر مما يلي هو :-

Be Mg Ca Sr

(70) العنصر الذي له أكبر نصف قطر ذري في دورته هو :-

_____ الهالوجين الغاز النبيل

(71) كمية الطاقة التي يحتاجها ايون بسيط غازي (2^+) :-

طاقة التأين الاولي طاقة التأين الثانية طاقة التأين الثالثة طاقة التأين الكلية

(72) اقل ميل هي :-

الهالوجين شبه الفلز الغاز النبيل _____

(73) لها اعلى ميل من بين عناصر الدورة الثانية هي :-

3Li 6C 7N 8O

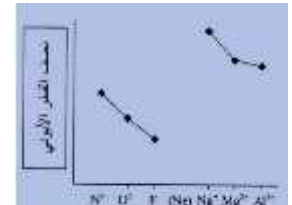

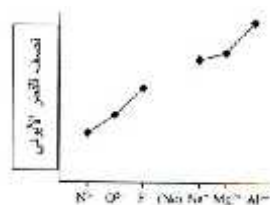

(74) يتناقص الميل المجموعة الواحدة لجميع الاسباب التالية عدا واحدا :-
 يتناقص الحجم الذري تدريجيا زيادة عدد مستويات الطاقة المستقرة

زيادة عدد الالكترونات المتنافرة زيادة عدد مستويات الطاقة الاصلية
 (75) أعلى ميل الكتر وني اول يمثله العنصر ينتهي ترتيبه الإلكتروني بتحت :-
 3s² 3p¹ 3p³ 3p⁵

(76) الذرة التي لها اقل ميل الكتروني من الذرات التالية:
 3Li 5B 7N 9F

(77) لا يون له أيوني الدورة الواحدة هو ايون: -
 شبه الفلز الهالوجين الغاز النبيل

(78) أي الاشكال التالية تبين تدرج نصف القطر الايوني من اليسار الي اليمين للأيونات ذات الترتيب الإلكتروني المتشابه:
 -



(78) عدد الالكترونات التي تحيط بنواة كل من Na⁺, Mg²⁺ هو :-

(1) (2) (8) (10)

(79) بصفة عامة واحد مما يلي فقط يحدث لخواص الايونات بالجدل الدوري: -

يحدث نقص تدريجي لحجم الايونات الموجبة كلما اتجهنا من اليسار الي اليمين في الدورة الواحدة

زياده تدريجيه لحجم الايونات الموجبة كلما اتجهنا من اليسار الي اليمين في الدورة الواحدة

تحدث زيادة تدريجية لحجم الايونات السالبة كلما اتجهنا من اليسار الي اليمين في الدورة الواحدة

يحدث نقص تدريجي لحجم الايونات السالبة كلما اتجهنا من اعلي الي اسفل في المجموعة الواحدة

(80) له اعلى ساليه كهربائية من العناصر التالية هو: -

النتروجين الاكسجين البوتاسيوم

(81) نصر الفلور ميل ذرة عنصر اخر يرتبط معها برابطة كيميائية , مما يدل على انه

:-

تأين ميل ساليه كهربائية

(82) ساليه كهربائية ينتهي ترتيبه الإلكتروني بتحت المستوي: -

2p⁵ 3p⁵ 4p⁵ 5p⁵

(83) ساليه كهربائية من بين العناصر التالية هو: -

9F الصوديوم 11Na 17Cl السيزيوم 55Cs

- (1) الالكترونية: - في الفضاء المحيط بالنواة ويحتمل وجود الإلكترون فيها في كل الاتجاهات .
- (2) : - الفراغية حول النواة التي يكون فيها أكبر احتمال لوجود الإلكترون.
- (3) : كمية الطاقة اللازمة لنقل الإلكترون من مستوى الطاقة الساكن فيه إلى مستوى الطاقة الأعلى التالي له.
- (4) الرئيسي: - يحدد مستويات الطاقة .
- (5) : - الكم الذي يحدد عدد تحت مستويات الطاقة رئيسي .
- (6) s : - تحت مستوى له شكل كروي واتجاه محتمل واحد ويكون احتمال وجود الإلكترون في أي اتجاه من النواة متساوياً.
- (7) المغناطيسي: - الكم الذي يحدد عدد الافلاك مستويات الطاقة واتجاهاتها .
- (8) : - كم يحدد نوع حركة الالكترون المغزلية حول محوره .
- (9) الترتيبات الالكترونية: - تترتب بها الالكترونات حول أنويه .
- (10) : - ان تملا تحت مستويات الطاقة ذات الطاقة المنخفضة ثم تحت مستويات الطاقة
- (11) - : ذرة ما لا يوجد الكترونان لهما اعداد الكم الاربعة نفسها
- (12) هوند: - الالكترونات تملا افلاك تحت مستوى الطاقة الواحد كل الكترون بمفرده باتجاه الغزل نفسه ثم تبدأ
- (13) $4p^3$ - : بالمستوى الرابع ويحتوي على ثلاثة الكترونات
- (14) : - ترتيب العناصر بحسب ازدياد العدد الذري، يحدث تكرار دوري للخواص الفيزيائية والكيميائية
- (15) النبيلة: - تمتلأ فيها تحت المستويات s, p .
- (16) المثالية: - فيها تحت المستويات s p جزئياً .
- (17) الانتقالية: - فلزية حيث يحتوي s d المجاور له على
- (18) لية الداخلية: - فلزية حيث يحتوي s f المجاور له على
- (19) : - عناصر لها صفات متوسطة بين الفلزات واللافلزات .
- (20) الضعيفة: - تقع بين أشباه الفلزات والفلزات الانتقالية.

- (21) () :- المسافة بين ذرتين متماثلتين (نوع واحد) في جز .
- (22) طاقة التآين: - ونزع إلكترون من ذرة في الحالة الغازية.
- (23) الميل : كمية الطاقة المنطلقة عند إضافة إلكترون إلى ذرة غازية متعادلة لتكوين أيون سالب بالحالة الغازية
- (24) السالبية الكهربائية: ميل ذرات العنصر لجذب الإلكترونات عندما تكون مرتبطة كيميائياً بذرات عنصر آخر

: علل لما يلي تعليلاً علمياً صحيحاً.

- (1) يصعب تحديد موقع الإلكترون بالنسبة للنواة في أي لحظة وبأي وسيلة علمية؟
سبب الحركة الموجية للإلكترون وسرعته العالية
- (2) لا يتنافى نفس الفلك بالرغم أن لهما نفس (يوجد الإلكترونان نفس الفلك الواحد رغم تشابه شحنتيهما)
يدور حول محوره باتجاه معاكس للآخر فينشئ مجالان مغناطيسيا
الاتجاه فيتجاذبا مغناطيسيا
- (3) الإلكترونان في الفلك الواحد يتحرك أحدهما عكس الآخر لتوليد مجالان مغناطيسيان متعاكسان في الاتجاه فيتجاذبا مغناطيسيا فيقل التنافر بينهما مما يساعد على وجود الكترونان في الفلك نفسه
- (4) لا يمكن لأي فلك أن يتسع لأكثر من الكترونين لأنه بهذه الحالة سوف يتشابه الكترونان بأعداد الكم الأربع وهذا لا يتفق مع مبدأ باولي للاستبعاد ويتنافر الإلكترون الثالث الجديد مع أحد الكترون الفلك ويطرده خارج الفلك
- (5) يتسع تحت المستوى p لأنه يحتوي على ثلاثة أفلاك وكل فلك يسع (2)
- (6) يتسع تحت المستوى d لأنه يحتوي على خمسة أفلاك وكل فلك يسع (2)
- (7) عدد الإلكترونات المفردة في ذرة النيتروجين $7N$ يساوي لأن آخر تحت مستوى يحتوي على ثلاث أفلاك وحسب قاعدة هوند الإلكترونات تملأ أفلاك تحت المستوى الواحد كل واحدة بمفردها ثم تبدأ بالازدواج في الأفلاك
- (8) يملأ تحت المستوى (4s) (3d) وحسب مبدأ أوفباو تملأ تحت المستويات الأقل طاقة أولاً
- (9) يتسع مستوى الطاقة الرئيسي 8 لأن السعة القصوى للإلكترونات بالمستوى الرئيسي (حتى الرابع) تحسب من العلاقة $2n^2$ وعليه فإن عدد الإلكترونات بالمستوى الرئيسي الثاني تساوي $(2 \times 2^2 = 8)$ يحتوي تحت المستويات (2s) (2p) وأربعة أفلاك .
- (10) عندما ينتهي الترتيب (P^4) فإنه يكون لديه الكترونين مفردين .

حسب قاعدة هوند تملأ أفلاك تحت المستوى P فرادى أولاً باتجاه الغزل نفسه ثم تبدأ بالازدواج يوجد به الكترونيين مفردين



(11) لماذا ينتقل الكترون واحد ذرة البوتاسيوم ^{19}K من أفلاك تحت المستوى $3d$ له طاقة أقل من أفلاك تحت المستوى $4s$ دخوله في

(12) يختلف الترتيب d يكون $[^{18}\text{Ar}]4s^2 3d^4$ عن الترتيب المستنتج باستخدام ^{24}Cr كان نصف ممتلئ ولذلك يكون ترتيبه $[^{18}\text{Ar}] 4s^1 3d^5$ وليس

(13) الترتيب d يكون ممتلئ كلياً فيكون $1s^2 2s^2 2p^6 3s^2 3p^6 4s^1 3d^{10}$ كان ممتلئ جزئياً

(14) s هو الأقل طاقة دائماً داخل رئيسي جديد دائماً يبدأ بتحت s رئيسي رئيسي

(15) لا يزيد عدد n عدد الكترونات يتحدد من العلاقة $2n^2$ ويحتوي على الأفلاك s, p, d المستوى الرئيسي الثالث (M) (18)

(16) تتشابه الخواص الكيميائية والفيزيائية لكل من الصوديوم ^{11}Na والبوتاسيوم ^{19}K لانهما يقعان في نفس المجموعة الأولى حيث يحتوي كل عنصر على الكترون واحد في مستوى الطاقة الأخير

(17) لأنها تكون عدد محدد من المركبات ولا تشتر في كثير من التفاعلات الكيميائية $8A$ النبيلة.

(18) يقل نصف القطر لذري من اليسار الى اليمين تدريجياً في الدورة الواحدة بزيادة العدد الذري لانها شحنة النواة دون زيادة مستويات الطاقة، درجة حجب النواة ثابتة، يزيد جذب النواة الخارجية

(19) يزداد نصف القطر () لعناصر المجموعة الواحدة بزيادة العدد الذري من اعلى الى لان عدد مستويات الطاقة يزداد، يصبح المدار اكبر، تزداد درجة حجب النواة، يقل جذب النواة الخارجية

(20) تقل طاقة التأين الأولى للعناصر المثالية كلما اتجهنا الى أسفل في مجموعة بالجدول الدوري لزيادة الحجم الذري، ويقع الالكترتون على مسافة ابعد من النواة، ويسهل نزع الالكترتون

(21) تزداد طاقة التأين الحجم الذري يقل وتزيد الموجبة، تأثير الحجب ثابت ويصبح جذب النواة الخارجية ي

(22) طاقة التأين الثانية من طاقة التأين الأولى للفلزات القلوية. بسهولة ويتكون كاتيون له التركيب غاز نبيل بين الثانية فان نزع الكترون من كاتيون له التركيب غاز نبيل يتطلب طاقة بكثير

(23) للفلزات القلوية قيم طاقة تأين منخفضة؟
بسبب وجود الكترون واحد ضعيف الارتباط بنواه الذرة

(24) الميل لذرة الفلور أقل من الميل
الإلكترون العاشر الجديد المضاف بقوة تنافر مع

(25) يتزايد الميل من اليسار إلى اليمين
لان الحجم الذرى يقل ويسهل على النواة جذب الإلكترون الجديد المضاف

(26) حجم الايونات الموجبة (الكاتيونات) دائما
بسبب فقدان الكترونات من الغلاف الخارجى للذرة مما ينتج عنه زيادة الجذب بواسطة النواة للإلكترونات المتبقية
منها.

(27) الايونات السالبة (الانيونات) حجما من ذراتها المتعادلة.
ن الذرة عندما تكتسب الكترون او أكثر يزداد عدد الإلكترونات فى المستوى الاخير وتقل قوة الجذب بين النواة الموجبة
والإلكترونات الخارجية

السؤال السابع : قارن بين كل زوج مما يلى حسب ما هـ

4p	3s	1) وجه المقارنة
4	3	قيمة (n)
3	1	
فصين متقابلين		
6	2	
p	s	2) وجه المقارنة
(-1, 0, +1)	(0)	قيم (m)
	قيمة عدد الكم الرئيسى	3) h
10	4	4d
2p	3f	5) وجه المقارنة
صحيح	غير صحيح	تسمية تحت المستوى (صحيح - غير صحيح)
		6) وجه المقارنة
M	K	
العناصر الانتقالية الداخلية	العناصر الانتقالية	7) وجه المقارنة
f	d	
الكبريت	المغنسيوم	8) وجه المقارنة
		(- -)
		حجب تأثير النواة (أصغر -)
		الميل الإلكتروني (أصغر -)
		9) وجه المقارنة
يزيد كلما اتجهنا الى أسفل	يقل كلما اتجهنا يمينا حتى الغازات النبيلة	()
يزيد الحجم الايوني لكل من الكاتيونات والانيونات	يقل الحجم الايوني لكل من الكاتيونات والانيونات	نصف القطر الايوني
يقل كلما اتجهنا الى أسفل	يزيد كلما اتجهنا يمينا حتى الغازات النبيلة	طاقة التأين

السالبية الكهربائية	يزيد كلما اتجهنا يمينا حتى الهالوجينات	يقبل كلما اتجهنا الى أسفل
تأثير الحجب		يزداد كلما اتجهنا الى أسفل
	كلما اتجهنا يمينا حتى الغازات النبيلة	كلما اتجهنا الى أسفل
10) وجه المقارنة	عنصر ينتهي تركيبه الإلكتروني $[2\text{He}]2s^2 2p^4$	عنصر ينتهي تركيبه الإلكتروني $[2\text{He}]2s^1$
السالبية الكهربائية (-)		
طاقة التأين (-)		
11) وجه المقارنة	البوتاسيوم K	الليثيوم Li
(-)		
12) وجه المقارنة	ايون المغنسيوم Mg^{2+}	ايون المغنسيوم Mg^+
طاقة التأين (-)		
13) وجه المقارنة	الاكسجين O	البريليوم Be
الميل الإلكتروني (أكبر -)		
14) وجه المقارنة	طاقة التأين	الميل الإلكتروني
(-)		
شحنة الايون الناتج عن الذرة		
(سالبه ومنطقة موجبه وممتصه)	-- موجب وممتصه ---	--- سالبه ---
15) الخاصية	${}_4\text{Be}$	${}_{20}\text{Ca}$
()	الدورة الثانية	
(- الاقل) طاقة تأين		
(- الاصغر) الحجم الأيوني		
تأثير حجب الإلكترونات عن (-)		
16) وجه المقارنة		الميل الإلكتروني
أسفل (يقبل /يزداد)	يزيد	يقبل
17) وجه المقارنة	${}_{17}\text{Cl}$	${}_{12}\text{Mg}$
طاقة التأين		
الميل الإلكتروني		
18) وجه المقارنة		
السالبية الكهربائية		
الميل الإلكتروني		
19) وجه المقارنة	اكسجين	الكبريت
(-)		
الميل الإلكتروني (أصغر -)		
20) وجه المقارنة	ماغنسيوم	كالمسيوم
(-)		
السالبية الكهربائية (أكبر -)		
21) وجه المقارنة		
(-)		
طاقة التأين (أكبر، أصغر)		
السالبية الكهربائية (أكبر، اصغر)		

البريليوم (Be)	الأكسجين (O)	24) وجه المقارنة
----- --	----- ---	الميل الإلكتروني (أكبر -)
الليثيوم ${}^3\text{Li}$	الأكسجين ${}^8\text{O}$	22) وجه المقارنة
---- ---	----- ---	نصف القطر الأيوني (أكبر -)
الليثيوم ${}^3\text{Li}$	${}^9\text{F}$	23) وجه المقارنة
---- ---	----- ---	(-)
----- $1s^2 2s^1$ -----	--- $1s^2 2s^2 2p^5$ ---	الترتيب الإلكتروني في تحت المستويات
----- 1---	----- 1-----	
----- صغير -----	--- كبير ---	طاقة التأين (كبير - صغير)
----- صغير -----	--- كبير ---	الميل الإلكتروني (كبير - صغير)
الكبريت	المغنسيوم	24) وجه المقارنة
		(- -)
		حجب تأثير (- -)
		الميل (- -)
${}^7\text{N}$	${}^4\text{Be}$	25) لخاصية
(5A)	(2A)	()
()	()	(-)
()	()	(-) سالبية كهربائية
		26) وجه
		(-)
		طاقة التأين ()
		السالبية الكهربائية ()
${}^9\text{F}$	${}^{17}\text{Cl}$	27) وجه المقارنة
---- ---	----- ---	(-)
-----	--- ---	الميل الإلكتروني (أكبر -)
-----	--- ---	السالبية الكهربائية (أكبر -)
	الصوديوم	28) وجه المقارنة
--- صغير ---	--- كبير ---	
--- كبير ---	--- صغير ---	طاقة التأين
--- كبير ---	--- صغير ---	السالبية الكهربائية
	الهالوجينات	29) وجه المقارنة
	الأرضية	البريليوم
		البوتاسيوم
		30) وجه
8A	الغازات النبيلة	النيون
1A		الصوديوم

تخير من العمود (ب) ما يناسب ()

()	()
الحالة الغازية (1)	-4
نصف قطر من الذرة الاصلية له (2)	-5 s
لنزع الكترون من ايون بسيط (1+) (3)	1- طاقة التأين الاولى
له طبيعة مزدوجة (4)	6- كاتيون Na^+
(5)	2- انيون Cl^-
قل نصف قطر من الذرة الاصلية له (6)	-8
(7) اقل العناصر سالبيه كهربائية	
(8) اعلى العناصر سالبيه كهربائية	

امامك رسم تخطيطي يمثل

الرسم التخطيطي				
5		2		
	8		7	
9		6		
	اكسجين		نتروجين	

من المجموعة (ب) واكتب رقمها امام ما يناسبها ()

()	()	()
m_s	2	عدد الكم الثانوي يحدد عدد تحت مستويات الطاقة
7	3	عدد الكم المغزلي يحدد نوع حركة الالكترون المغزلية حول محوره

5	عدد الالكترونات التي يمكن ان يستوعبه تحت المستوى 4d	4
6	عدد تحت المستويات في المستوى الرئيسي الرابع	5
3	f	6
4		10

بما هو مناسب من داخل القوسين (الفلزات القلوية - الهالوجينات) :

الخاصية	
ميل	الهالوجينات
ساليبه كهربائية	الفلزات القلوية
	الهالوجينات
	الفلزات القلوية

(1) لديك ثلاثة عناصر افتراضية (X, Z, Y) لها الترتيبات الإلكترونية التالية:-



1. ----- X

2. -----Al----- Y

3. -----Sc-----Z

4. يقع العنصر X -----

5. يقع العنصر Y -----

6. -----(B) ----- (B) (A) Z

7.

الايون X ⁻	X	وجه المقارنة
		(-)
Z	X	وجه المقارنة
		(-)

Y	X	وجه المقارنة
		الميل الإلكتروني (أكبر اقل)
		السالبية الكهربائية (أكبر -)

2) لديك العناصر التي رموزها الافتراضية التالية ($_{18}Z$, $_{11}X$, $_{24}W$, $_{16}Y$) _____

1. Y ---2---

2. الترتيب الإلكتروني للعنصر W لأقرب غاز نبيل ---- $[_{18}Ar]4s^13d^5$ ----

3. الغاز النبيل من بين العناصر السابقة هو Z ----

4. يقع العنصر X ---3--- بينما يقع العنصر Y -----

5. W حسب ترتيبه الإلكتروني ---

3) عنصري (X, Y) مرتبين في الجدول الدوري في دوره واحده العنصر Y يقع في المجموعة الثانية والعنصر X يقع :-

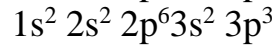
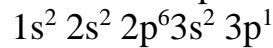
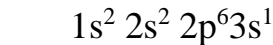
1. العنصرين (X, Y) من العناصر (مثاليه -انتقاليه)---مثاليه---

2. أين من العنصرين هو (X) ---بينما العنصر الأكبر في نصف القطر هو (Y) ---

3. قطر ايون العنصر (Y) ---من نصف قطر ذرته

4. العنصر الأقل سالبية كهربائية هو العنصر (Y) -----

4) لديك ثلاثة عناصر افتراضية (X, Z, Y) لها الترتيبات الإلكترونية التالية:-



$_{11}Z$ له الترتيب الإلكتروني

$_{13}Y$ له الترتيب الإلكتروني

$_{15}X$ له الترتيب الإلكتروني

1. أسماء العناصر ورموزها

Z : ----الصوديوم----- $_{11}Na$ ---

Y : ----الألمنيوم----- $_{13}Al$ ---

X : ---- $_{15}P$ ---

2. موقعها في الجدول الدوري

Z : يقع في الدورة -----

Y : يقع في الدورة -----

X : يقع في الدورة -----

3. قارن بين القطر الذري ونصف القطر الايوني للعنصر Z

-----Z

----- نصف القطر الايوني للعنصر Z

.4

----- (-) :X

----- (-) :Z

.5. العنصر الاقل سالبيه كهربة هو -Z-

.6. العنصر الأعلى طاقة تأين X-----

(5) لديك ثلاثة عناصر افتراضية (X , Z , Y) ينتهي ترتيبها الالكتروني كما يلي :-

-----3s²

-----3p⁴

----- 3p⁶

X ينتهي ترتيبه الالكتروني بتحت المستوى

Y ينتهي ترتيبه الالكتروني بتحت المستوى

Z ينتهي ترتيبه الالكتروني بتحت المستوى

1. X -----المغنسيوم-----

-----S-----Y , بينما اسم العنصر Z -----

--8A--

2. يقع العنصر X -----2A- Y -----6A- بينما يقع العنصر Z

3. اكتب تحت الاشكال التالية ايهما ذرة العنصر Y - انيون العنصر Y²⁻



-Y-



---انيون Y²⁻---

4. العنصر الفلزي من بين العناصر هو --X-- واللافلز هو --Y-- -Z--

5. العنصر الذي له اعلي سالبيه كهربائية من هذه العناصر هو --Y-- والعنصر الذي له اقل ميل الكتروني هو --X--

(6) لديك ثلاثة عناصر افتراضية (X , Z , Y) ترتيبها الالكتروني كما يلي :-

الترتيب الإلكتروني

[₁₀Ne]3s²

[₁₀Ne]4s²3d¹

[₁₀Ne]3s²3p⁵

₁₂Z

₂₁Y

₁₇X

1. (X , Z , Y) -- 17X --- اسكانديوم -- 21Y --- 12Z ---المغنسيوم ---

2. يقع العنصر ₁₂Z --- الثانية ---

3. ${}_{21}Y$ حسب الترتيب الالكتروني في تحت المستويات (مثالي -) (----)
4. ${}_{17}X$ حسب الترتيب الالكتروني في تحت المستويات (فلز -) (----)
5. ${}_{17}X$ --- ${}_{21}Y$ ---
- بينما السالبيه الكهربائيه لذرة العنصر ${}_{17}X$ --- ${}_{12}Z$ ---
6. ${}_{12}Z$ --- من نصف القطر الايوني ${}_{12}Z^{2+}$ (----)

(7) لديك ثلاثة عناصر افتراضية (X, Z, Y) لها الترتيبات الالكترونية التالية :-

الترتيب الالكتروني الكامل للعنصر X
 $1s^2 2s^2 2p^6 3s^1$
 Y ينتهي ترتيبه الالكتروني بـ
 $-----4s^1 3d^5$
 Z ترتيبه الالكتروني لأقرب غاز نبيل
 $[{}_{10}Ne]3s^2 3p^3$

1. X --- الصوديوم - الرمز الكيميائي للعنصر Y --Cr- Z هو - (----)
2. يقع العنصر X (----)
 العنصر الذي يقع في الدورة الثالثة والمجموعة الخامسة Z (----)
 العنصر الذي يعتبر من العناصر الانتقالية Y (----)
3. قارن بين كل من:

وجه المقارنة	Z	الايون Z^{3-}
(-)		
وجه المقارنة	Z	X
(-)		
وجه المقارنة	X	Z
الميل الالكتروني (مرتفع -)		
وجه المقارنة	Z	X
السالبيه الكهربائيه (اكبر -)		

(8) رموزها الافتراضية ينتهي ترتيبها الكتروني بـ (Z, Y, X)

X ينتهي ترتيبه الالكتروني بتحت المستوى $---4s^1$
 Y ينتهي ترتيبه الالكتروني بتحت المستوى $-----3s^2$
 Z ينتهي ترتيبه الالكتروني بتحت المستوى $----- 3p^4$

1. أسماء العناصر الثلاثة ورموزها

X: ----البوتاسيوم ---- ${}_{19}K$ ---

Y: ----المغنسيوم---- ^{12}Mg ----

Z: ----الكبريت---- ^{16}S ----

.2

X: يقع في الدورة -----

Y: يقع في الدورة -----

Z: يقع في الدورة -----

3. المقارنة بين القطر الذرى ونصف القطر الايوني للعنصر التالي:

X---- من نصف قطر الايون الموجب له

.4

	<input checked="" type="checkbox"/>	X
<input checked="" type="checkbox"/>		Z

5. وضح تدرج الخواص التالية في الجدول الدوري للعناصر السابقة (X , Z , Y)

اعلي العناصر السابقة سالبيه كهربائية هو Z-----

اقل العناصر السابقة في طاقة التأين الاولي X-----

9) لديك ثلاثة عناصر افتراضية (X , Z , Y) لها الترتيبات الالكترونية التالية :-

$1s^2 2s^2 2p^6 3s^2$

----- $3p^2$

$[\text{Ne}]3s^2 3p^4$

الترتيب الالكتروني الكامل للعنصر X

Y ينتهي ترتيبه الالكتروني بـ

Z ترتيبه الالكتروني لأقرب غاز نبيل

1. X --- الماغنسيوم ----

Y --- السيليكون --

Z --- الكبريت --

2. X -----

Y -----

Z -----

3. (Z) من نصف القطر الايوني له

4. Y (--) --

5. ---- -- (-) X

6. --- X---

7. السالبية الكهربية Z-----

10) لديك ثلاثة عناصر رموزها الافتراضية وترتيبها الالكتروني موضعا بجانبها :-

${}_{19}Z$ $[{}_{18}\text{Ar}]4s^1$	${}_{11}Y$ $[{}_{10}\text{Ne}]3s^1$	${}_3X$ $[{}_2\text{He}]2s^1$		1.
البوتاسيوم	الصوديوم	الليثيوم		
K	Na	Li		
(1A)	(1A)	(1A) ثانية		

2. ${}_{19}Z$ () من نصف قطر ايون ${}_{19}Z^+$

3. ${}_3X$ () ${}_{11}Y$ ()

4. العناصر ميلا الكترونيا من العناصر الثلاث السابقة هو العنصر ${}_3X$

5. اقل العناصر طاقة تأين من العناصر الثلاث السابقة هو العنصر ${}_{19}Z$

11) لديك ثلاثة عناصر افتراضية Z, Y, X لها ترتيبها الالكتروني كالتالي

${}_7X$

$1s^2 2s^2 2p^3$

${}_{12}Z$

$1s^2 2s^2 2p^6 3s^2$

${}_{15}Y$

$1s^2 2s^2 2p^6 3s^2 3p^3$

WWW.KweduFiles.Com

:-

1. X النروجي Z المغنسيوم Y P

2. ينتمي اليها العنصر Z الفلزات القلوية الارضية

3. العنصرين X Y ينتمي الى المجموعة 5A والدورة الثانية X

4. الشكل المقابل يوضح حجم الذرة Y والايون الناتج عنها

منهما يمثل ذرة العنصر والأخرى تمثل الايون



()



(الايون)

5. ما هـ Z بين العناصر (Z- Y-X)

6. كل زوج من العناصر التالية يكون له اقل طاقة تأين Y (Y -X) Z (Z -Y)

12) لديك ثلاثة عناصر افتراضية

$[\text{Ne}]3s^2 3p^5$

Z وترتيبه هو

----- $4s^2$

Y وينتهي ترتيبه

$1 s^2 2s^2 2p^6 3s^2 3p^6$

X وترتيبه هو

1. X هو _____ Y هو الكالسيوم الكيميائي Z هو Cl
2. Y من حيث هي 2A
3. رقم دورة العنصرين X , Y على الترتيب هما الدورة _____
4. الأيون له _____ Y
5. من بين العنصرين التاليين (Y,Z) هو Y
6. من العناصر السابقة هو Y
7. طاقة التأين للعنصر X من طاقة التأين للعنصر Z

(13) لديك ثلاثة عناصر افتراضية X , Y , Z لها الترتيبات الإلكترونية التالية

X ينتهي ترتيبه $----3s^1$
 Y ينتهي ترتيبه $--- 3s^2 3p^1$
 Z ينتهي ترتيبه $-----4s^1 3d^5$

:-

1. X صوديوم - Y (Al) - Z (24)
2. يقع العنصر X _____
3. يقع العنصر Y _____
4. Z - (A B) (B A) _____
3. قارن بين كل من _____

WWW.KweduFiles.Com

وجه المقارنة	X	الايون X^+
(-)		
وجه المقارنة	X	Z
(-)		
وجه المقارنة	X	Y
الميل (-)		
التأين (أكبر -)		

(14) لديك ثلاثة عناصر رموزها الافتراضية هي :-

X: ترتيبه هو $1 s^2 2s^2 2p^4$
 Y: ينتهي بالترتيب $-----3p^4$
 Z: الترتيب له هو $[Ne]3s^1$

1. X هو أكسجين هو O

- Y هو الكبريت رمزه هو S
Z هو الصوديوم هو Na
2. 6A الثانية X
6A Y
1A Z
3. الأيون له ___ X
4. (/) Z
5. (/) X
6. طاقة التأين للعنصر Z ___ بين للعنصر Y
7. الميل X ___ من الميل Y

15) لديك ثلاثة عناصر رموزها الافتراضية وترتيبها الإلكتروني موضحا بجانبها , والمطلوب الاجابة عن الاسئلة :-

Z $3s^2 3p^6$	Y $3s^2 3p^5$	X $3s^1$	
		الصوديوم	.1
Ar	Cl	Na	.2
8A - : - :	7A - : - :	1A - : - :	.3

1. () Y من نصف قطر ايون Y-

2. () X

3. () Y

4. العناصر ميلا الكترونيا من العناصر الثلاث السابقة هو العنصر Y

5. اقل العناصر طاقة تأين من العناصر الثلاث السابقة هو X

16) لديك ثلاثة عناصر افتراضية X , Y , Z

Z له الترتيب $1 s^2 2s^2 2p^6 3s^2 3p^6 4s^1$

Y ينتهي ترتيبه $----- 4s^1 3d^5$

X له الترتيب $[Ar]3d^{10}4s^2 4p^5$

1. X هو _____ Y هو _____ الكيميائي Z هو K

2. يقع العنصر X _____

3. يوجد فيها العنصر Y _____ هي

4. الأيون له _____ Z

5. العناصر السابقة يعتبر فلز Y وايهما يعتبر لافلز () X

6. العنصرين التاليين X , Z له ميل _____ Z

7. _____ Z

17) لديك ثلاثة عناصر افتراضية X , Y , Z ينتهي ترتيبها الإلكتروني كما يلي

X ----- $2s^2$

Y ----- $2p^6$

Z ----- $3d^1$

1. Ne Y سكانديوم Z بريليوم X :-
2. من حيث الدورة الثانية Y
3. ايهما اكبر بنصف القطر الذرة X ام الايون الناتج عنها؟ X
4. اى العناصر السابقة ليس من العناصر المثالية؟ Z
5. X — — — Y (— —)
- اختر من خواص التالية ما يناسب كل من المربعين السابقين

18) ثلاث عناصر رموزها الافتراضية (Z, Y, X) وهي

(X) ينتهي ترتيبه $-----3s^1$

(Y) 17

(Z) ترتيبه $[2He] 2s^2 2P^2$

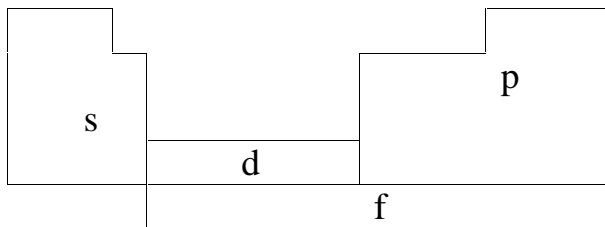
1. الترتيب (X) :- $1s^2 2s^2 2p^6 3s^1$

2. الترتيب لأقرب غاز نبيل للعنصر (Y) :- $[Ne] 3s^2 3p^5$

3.

تقسيم العنصرين	
Y	X
(Y, X)	

19) عناصر رموزها الافتراضية (C), (B), (A)



1. A ينتهي ترتيبه $2s^2$ فيكون موقعه s ينتمي اليها العنصر A الاقلاء الارضية

ما رقم دورته الثانية فيكون موقعه p تقع الالكترونات الخارجية للعنصر B p

فيكون موقعه d ما الترتيب (C) لأقرب غاز نبيل $[Ar] 4s^2 3d^1$ (C) الاسكانديوم

20) اربعة عناصر رموزها الافتراضية (X, Y, Z, M) وهي

(14) X

Y هو الكالسيوم
M ينتهي ترتيبه الإلكتروني $3p^1$ ----
Z من الغازات النبيلة
ما يـ :

1. ترتيب الإلكتروني الكامل للعنصر X $1s^2 2s^2 2p^6 3s^2 3p^2$
2. هل يعتبر العنصر Y
3. M...الالومنيوم.....
4. Y من بين العناصر التالية (P, Ar, K, Ca) ... Ca...

(21) الأشكال التي امامك تمثل أنصاف الاقطار الذرية لبعض العناصر

الأشكال التي امامك تمثل أنصاف الاقطار الذرية لبعض العناصر



Na



Mg



P



Cl



Ar

1. العنصر الذي له اقل جهد تأين Na... Na..... اما العنصر الذي له اكبر جهد تأين Ar.....
2. لعنصر الذي ينتهي ترتيبه np^6 هو Ar.....
3. العنصر الذي ترتيبه الإلكتروني $1s^2 2s^2 2p^6 3s^2 3p^3$ هو P.....
4. العنصر الذي ينتمي لعائله الهالوجينات هو Cl.....

(20) اربعة عناصر رموزها الافتراضية (X, Y, Z, M)

- (X) 13 - (Y) هو الكبريت
- (M) ينتهي ترتيبه الإلكتروني $4s^2$ --- (Z) من الغازات النبيلة

WWW.KweduFiles.Com

1. الترتيب الإلكتروني الكامل للعنصر X $1s^2 2s^2 2p^6 3s^2 3p^1$
2. هل يعتبر العنصر Y ()
3. M الكالسيوم.....
4. Z من بين الرموز التالية (He, P, K, Cu) He.....

(21) لديك العناصر التي رموزها الافتراضية التالية (${}_{3Z}, {}_{9X}, {}_{19L}, {}_{21Y}$)

1. (/) Z, Y, X
2. X (7)
3. الترتيب الإلكتروني لتحت مستويات العنصر L $1s^2 2s^2 2p^6 3s^2 3p^6 4s^2 3d^1$
4. يقع العنصر Z --- الثانية --- بينما يقع العنصر L
5. أي العنصرين التاليين (Z, L) له اعلى طاقة تأين --- Z ---
6. الأيوني لانيون X^- (/) () X
7. أي العنصرين التاليين (Z, X) له اقل سالبية كهربائية --- Z ---

الوحدة الثانية: الروابط الكيميائية

السؤال الأول اكتب بين القوسين الاسم أو المصطلح العلمي الذي تدل عليه كل من العبارات التالية

- (1) () .
- (2) (الترتيبات الالكترونية النقطية)
- (3) الذرات تميل الى بلوغ التركيب الإلكتروني الخاص بالغاز النبيل خلال عملية تكوين المركبات. (قاعدة الثمانية)
- (4) (الكاتيون)
- (5) (الانيون)
- (6) الايونات التي تتكون عندما تكتسب الهالوجينات الكترولونات.
- (7) قوة التجاذب التي تربط الايونات المختلفة في الشحنة.
- (8) المركبات المكونة من مجموعات متعادلة كهربائيا من الايونات المرتبطة مع بعضها الكترولوستاتيكية.
- (9) اقل نسبة عددية صحيحة من الكاتيونات الى الانيونات لأي عينة من مركب أيوني. (وحدة الصيغة)
- (10) تحدث المساهمة بالإلكترونات إذا اكتسبت الذرات في تكوين الرابطة التساهمية الترتيبات الالكترونية للغازات النبيلة. (قاعدة الثمانية الخاصة بالمركبات التساهمية)
- (11) رابطة حيث تتقاسم فيها الذرتان زوجا واحدا من الإلكترونات. (رابطة تساهمية احادية)
- (12) صيغ كيميائية توضح ترتيب الذرات في الجزيئات والايونات. (الصيغة البنائية)
- (13) ازواج الإلكترونات غير المشاركة بالروابط في المركبات التساهمية. (الكترولونات غير مرتبطة)
- (14) رابطة حيث تتقاسم فيها زوج من الذرات زوجين من الإلكترونات. (رابطة تساهمية ثنائية)
- (15) رابطة حيث تتقاسم فيها زوج من الذرات ثلاث ازواج من الإلكترونات. (رابطة تساهمية ثلاثية)

: امام الجملة الصحيحة وعلامة امام الجملة الخطأ في كل مما يلي

<input checked="" type="checkbox"/>	1) يحتوي كل من الكربون والسيليكون على اربعة الكترولونات تكافؤ بحسب الموقع في الجدول الدوري
<input checked="" type="checkbox"/>	2) لتطبيق قاعدة الثمانية على الفوسفور فانه يفقد (3) الكترولونات ويتحول ال كاتيون.
<input checked="" type="checkbox"/>	3) يتحد النتروجين مع المغنسيوم برابطة ايونية
<input checked="" type="checkbox"/>	4) نوع الرابطة الكيميائية بين ذرات الصوديوم وذرات اليود ايونية.
<input checked="" type="checkbox"/>	5) يتفاعل الصوديوم والكلور ليعطي مركب صيغته الكيميائية (NaCl)
<input checked="" type="checkbox"/>	6) يوريد البوتاسيوم KI التي تتميز بدرجات انصهار و غليان منخفضة.
<input checked="" type="checkbox"/>	7) الرابطة الكيميائية بين ذرات عناصر الاقلاء وذرات عناصر الهالوجينات رابطة ايونية
<input checked="" type="checkbox"/>	8) يتفاعل الليثيوم مع الاكسجين ليعطي مركب صيغته الكيميائية LiO_2
<input checked="" type="checkbox"/>	9) تتميز المركبات الايونية بدرجات انصهار عالية
<input checked="" type="checkbox"/>	10) الغرفة تكون بعض المركبات الايونية مواد صلبة بلورية.
<input checked="" type="checkbox"/>	11) مصهور كلوريد الصوديوم يوصل التيار الكهربائي.
<input checked="" type="checkbox"/>	12) الصيغة الكيميائية الصحيحة للمركب الذي يتكون من الزوج الأيوني (Na^+ , SO_4^{2-}) هي $Na_2(SO_4)$
<input checked="" type="checkbox"/>	13) في جزيء النتروجين N_2 تساهم كل ذرة بثلاثة الكترولونات للوصول الي الترتيب الإلكتروني للغاز النبيل ^{10}Ne
<input checked="" type="checkbox"/>	14) كوين جزيء الامونيا ترتبط ذرتان هيدروجين مع ذرة نتروجين واحدة
<input checked="" type="checkbox"/>	15) يحتوي كاتيون الامونيوم NH_4^+ على رابطة تساهمية تناسقية مصدرها زوج من الالكترولونات غير النتروجين في جزيء الامونيا.
<input checked="" type="checkbox"/>	16) يحتوي كاتيون الهيدرونيوم H_3O^+ على رابطة تساهمية تناسقيه مصدرها زوج الالكترولونات غير المرتبطة من ذره الهيدروجين في جزيء الماء.
	17)

السؤال الثالث: أملأ الفراغات في الجمل التالية بما يناسبها

- 1) ذرة عنصر الفوسفور تميل الى اكتساب--- (3) ---الكترولونات للوصول الى الترتيب الثماني.
- 2) الايونات التي تتكون عندما تكتسب ذرات الهالوجينات الالكترولونات تسمى بأيونات--- الهاليدات ---
- 3) ذرات العناصر الفلزية التي لها طاقات تأين منخفضة تكون ايونات ذات شحنات--- ---بسهولة.
- 4) ذرات العناصر اللافلزية التي لها ميل الكترولوني مرتفع تكون ايونات ذات شحنات--- ---بسهولة
- 5) في المركب الايوني BaO فان عدد الالكترولونات التي تفقدها كل ذره من ذرات Ba--- (2) ---
- 6) عدد الالكترولونات التي يجب ان يكتسبها ذره الكلور يساوى--- 1--- لتصل الى الترتيب الإلكتروني الثابت
- 7) درجة انصهار المركبات الأيونية تتميز بصفه عامه , بدرجات انصهار --- ---

- (8) تترتب الايونات المختلفة الشحنة في البلورة بحيث --- ___ --- قوي التجاذب بينهما الي الحد الأقصى
- (9) Y في الصيغة الافتراضية التالية X_2Y_3 --- 6 ---
- (10) XZ_2 يوصل التيار الكهربائي فان هذا المركب من المركبات -الأيونية -
- (11) جزيء الامونيا NH_3 رباعي الذرية يحتوي على زوج واحد من الكترونات التكافؤ غير التساهمية وفيه ---3--- روابط تساهمية احادية
- (12) الالكترونات المشتركة بين الذرات في جزيء الامونيا NH_3 --- ___ ---
- (13) يرتبط جزيء الامونيا مع كاتيون الهيدروجين H^+ برابطة تساهمية ---تناسقية---

في المربع المقابل للإجابة الصحيحة التي تكمل كلا من الجمل التالية

- (1) احد العناصر التالية لا يتبع في ترتيبه الإلكتروني قاعدة الثمانية وهو :-
الهيليوم الأكسجين الكالسيوم
- (2) عدد الالكترونات التي تفقدها ذرة الالومنيوم لتصل الى الترتيب الإلكتروني لأقرب غاز نبيل يساوى :-
- (3) عدد الالكترونات التي تكتسبها ذرة النتروجين المفردة لتصل الى الترتيب الإلكتروني لأقرب غاز نبيل يساوى :-
- (4) الترتيب الإلكتروني لأيون الأكسيد (O^{2-}) يشبه الترتيب الإلكتروني لذرة غاز :-
10Ne ^{11}Na ^{16}S ^{18}Ar
- (5) الترتيب الإلكتروني لكاتيون الكالسيوم Ca^{2+} مشابه للترتيب الإلكتروني لعنصر :-
 2He 4Be 18Ar ^{19}K
- (6) الترتيب الإلكتروني لأيون البوتاسيوم يشبه الترتيب الإلكتروني لذره غاز
 9F ^{10}Ne 18Ar ^{19}K
- (7) احدى العناصر التالية عندما تفقد إلكترونات تكافؤها تكون أيون يحمل ثلاث شحنات موجبة هو :-
 الكالسيوم الالومنيوم الصوديوم البوتاسيوم
- (8) حد المركبات التالية يعتبر مركب أيوني :-
 HCl NH_3 F_2 Mg_3N_2
- (9) تترتب الايونات نفسها في بلورة $NaCl$, بحيث يحاط كل كاتيون صوديوم بعدد من انيونات الكلوريد يساوى :-
 4 6 8 12
- (10) اي من ازواج من العناصر التالية تكون مركبا تساهميا :-
 البوتاسيوم والكبريت الصوديوم والكلور الهيدروجين والكلور الكالسيوم والنتروجين
- (11) أحد الجزئيات التالية يحتوي على رابطتين تساهميتين ثنائيتين وهو :-
 CO_2 H_2O N_2 CO

- 12) الماء جزيء ثلاثي الذرات وفيه: -
 رابطته تساهمية ثنائيه ورابطتان تساهميتان احاديتان
 رابطتان تساهميتان احاديتان
 رابطته تساهمية ثنائيه
 ثلاث روابط تساهمية احاديه

- 13) ترتيب ذرتي الاكسجين في جزيء الاكسجين برابطة: -
 تساهمية احادية
 تساهمية ثنائية
 تساهمية ثلاثية
 تساهمية تناسقية

- 14) احد الصيغ الكيميائية يحتوى علي نوعين من الروابط الكيميائية -
 HCl
 H₂O
 H₃O⁺
 NH₃

- 15) يحتوي اول اكسيد الكربون على روابط:
 تساهمية فقط
 ايونية فقط
 ايونية وتساهمية
 تساهمية وتساهمية تناسقية

:

- (1) - :
(2) الترتيبات الالكترونية النقطية: -
(3) قاعدة الثمانية: - الذرات تميل الى بلوغ التركيب الإلكتروني الخاص بالغاز النبيل خلال عملية تكوين المركب .
(4) الكاتيون (الايون الموجب): -
(5) الانيون (الايون السالب): -
(6) أنيون الهاليدات: - الايونات التي تتكون عندما تكتسب الهالوجينات الكترونات.
(7) الرابطة الايونية: - التجاذب التي تربط الايونات المختلفة في الشحنة.
(8) المركبات الايونية: - مركبات مكونة من مجموعات متعادلة كهربائيا مرتبطة ببعضها بقوى الكترولستاتيكية
(9) وحدة الصيغة: - نسبة عددية صحيحة من الكاتيونات الى الانيونات لأي عينة من مركب أيوني.
(10) قاعدة الثمانية الخاصة بالرابطة التساهمية: - المساهمة بالالكترونات إذا اكتسبت الذرات في تكوين الرابطة التساهمية الترتيبات الالكترونية للغازات النبيلة.
(11) الرابطة التساهمية الاحادية: - حيث تتقاسم فيها الذرتان زوجا واحدا من الالكترونات
(12) الرابطة التساهمية الثنائية: - حيث تتقاسم فيها زوج من الذرات زوجين من الالكترونات.
(13) الرابطة التساهمية الثلاثية: - حيث تتقاسم فيها زوج من الذرات ثلاث ازواج من الالكترونات.
(14) الالكترونات غير المرتبطة: - غير مشتركة في الروابط التساهمية.
(15) الصيغة البنائية: - صيغ كيميائية توضح ترتيب الذرات في الجزيئات والايونات.
(16) الرابطة التساهمية التناسقية: - تساهمية تساهم فيها ذرة واحدة بكل من الكترونات الرابطة.

السؤال السادس : علل لما يلي تعليلا علميا صحيحا.

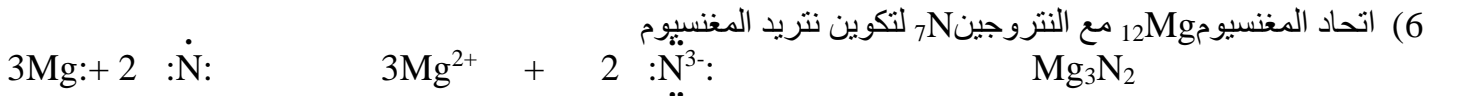
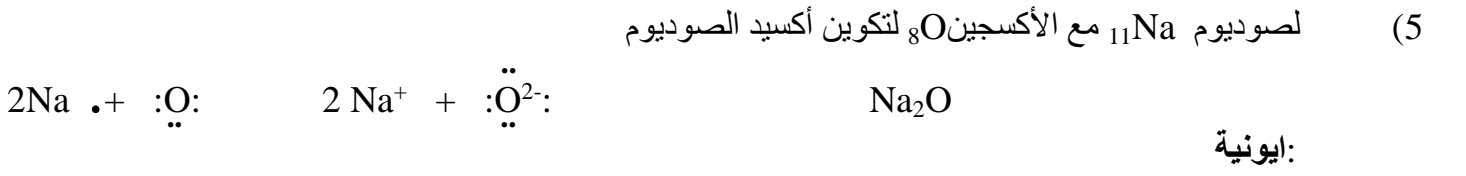
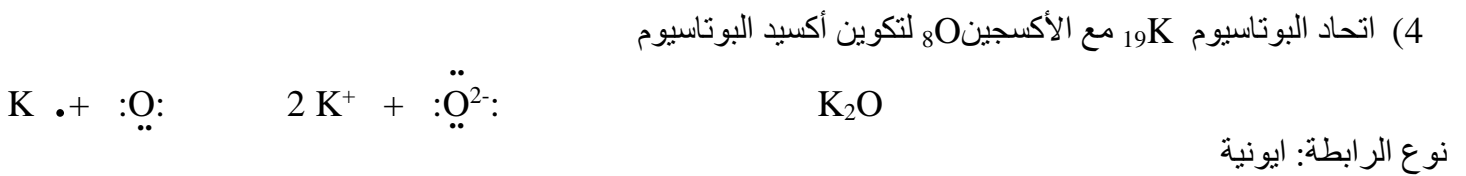
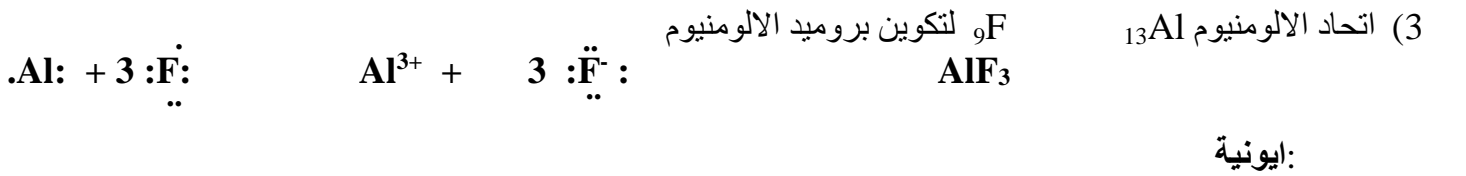

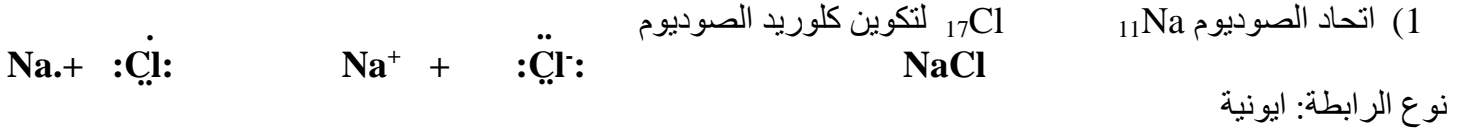
- (1) الماء جزيء ثلاثي الذرية وفيه رابطتان تساهميتان احاديتان.

لان يحتوي علي ذره اكسجين وذرتي هيدروجين وتساهم كل ذره هيدروجين بالكترون واحد وتساهم ذرة الاكسجين بالكترونين ليصل الجميع الي الترتيب الالكتروني لأقرب غاز نبيل له

السؤال السابع : قارن بين كل مما يلي

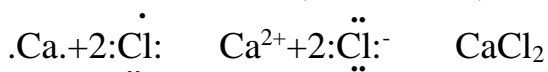
ايون الهاليد	ايون الاكسيد	(1) وجه المقارنة
N ₂	O ₂	(2) وجه المقارنة
	زوجين	عدد ازواج الالكترونات المشتركة بين الذرات

: باستخدام الترتيبات الالكترونية النقطية وضح



نوع الرابطة: ايونية

(7) مستخدما الترتيبات الالكترونية النقطية وضح طريقة الارتباط بين العنصرين ($_{17}\text{Cl}$, $_{20}\text{Ca}$)



نوع الرابطة بينهما --- ايونية ---

(8) مستخدما الترتيبات الالكترونية النقطية وضح طريقة الارتباط بين العنصرين ($_{8}\text{O}$, $_{1}\text{H}$)




-----تساهمية أحادية-----

(9) اتحاد ذرتي هيدروجين لتكوين جزيء الهيدروجين



نوع الرابطة: تساهمية احادية

(10) اتحاد ذرتي فلور لتكوين



: تساهمية احادية :

عدد الالكترونات غير المرتبطة: (6)

(11) اتحاد الهيدروجين مع الكلور لتكوين غاز كلوريد الهيدروجين



: تساهمية احادية :

عدد الالكترونات غير المرتبطة: (3)

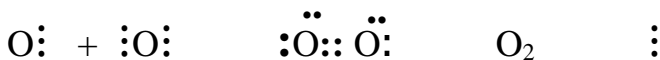
(12) اتحاد الهيدروجين مع النيتروجين لتكوين غاز الامونيا



: تساهمية احادية :

عدد الالكترونات غير المرتبطة: ()

(13) اتحاد ذرتي اكسجين لتكوين جزيء اكسجين



: تساهمية ثنائية :

عدد الالكترونات غير المرتبطة: ()

(14) اتحاد ذرة كربون وذرتي اكسجين لتكوين جزيء ثاني اكسيد الكربون



: تساهمية ثنائية :

عدد الالكترونات غير المرتبطة: ()

(15) اتحاد ذرتي نتروجين لتكوين جزيء النتروجين



تساهمية ثلاثية :

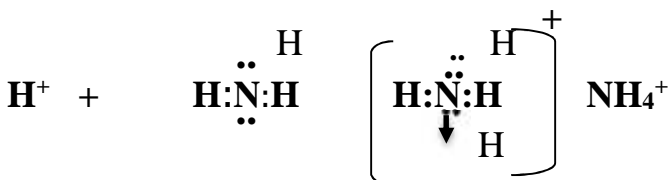
عدد الالكترونات غير المرتبطة: ()

(16) اتحاد ذرة كربون وذرة اكسجين لتكوين غاز اول اكسيد الكربون



تساهمية ثنائية وتساهمية تناسقية :

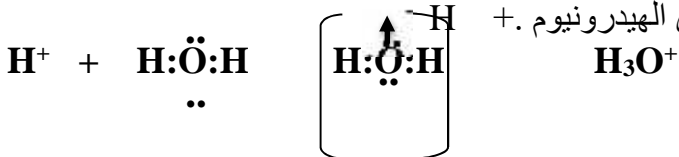
(17) اتحاد جزيء الامونيا مع كاتيون الهيدروجين لتكوين كاتيون الامونيوم



تساهمية تناسقية :

كم عدد الالكترونات غير المرتبطة في الكاتيون الناتج (صفر لاشيئ)

(18) اتحاد جزيء الماء مع كاتيون الهيدروجين لتكوين كاتيون الهيدرونيوم .



ما نوع الرابطة المتكونة: تساهمية تناسقية

كم عدد الالكترونات غير المرتبطة في الكاتيون الناتج ()

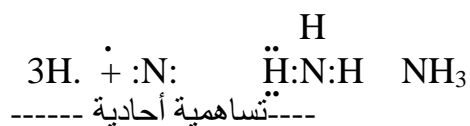
(19) لذي العناصر التالية (7N, 8O, 1H, 19K)

1. مستخدما الترتيبات الالكترونية النقطية وضح طريقة الارتباط بين العنصرين (8O , 19K)



نوع الرابطة بينهما --- أيونية ---

2. مستخدما الترتيبات الالكترونية النقطية وضح طريقة الارتباط بين العنصرين (7N, 1H)



السؤال التاسع: اكمل الجدول التالي بما هو مناسب

		الترتيب الإلكتروني	
2	الكالسيوم	$1s^2 2s^2 2p^6 3s^2 3p^6 4s^2$	Ca
8	النيون	$1s^2 2s^2 2p^6$	Ne
5		$1s^2 2s^2 2p^6 3s^2 3p^3$	P

الوحدة الثالثة : كيمياء العناصر

السؤال الأول اكتب بين القوسين الاسم أو المصطلح العلمي الذي تدل عليه كل من العبارات التالية

- (1) العناصر التي تقع الكترونها الخارجية في تحت مستوي الطاقة s. (s)
- (2) العناصر التي تقع الكترونها الخارجية في تحت مستوي الطاقة p. (p)
- (3) مجموعه العناصر في الجدول الدوري تسمى الفلزات القلوية وينتهي ترتيبها الإلكتروني (ns^1) (1A)
- (4) فلز يستخدم بعض السبائك لتنقية المعادن المصهورة وتبريد المفاعلات النووية. (الصوديوم)
- (5) مركبات الصوديوم يستخدم تسليك البالوعات من العوائق. (هيدروكسيد الصوديوم)
- (6) مركبات الصوديوم يستخدم تبيض الملابس وهو بديل لماء الاكسجين. (هيبوكلوريت الصوديوم)
- (7) مجموعه العناصر التي ينتهي ترتيبها الإلكتروني (ns^2) وتسمى الاقلاء الأرضية. (2A)
- (8) كاتيون تستخدمه الحيوانات المرجانية تكوين الشعاب المرجانية. (الكالسيوم)
- (9) لا يتغير تركيبها بالنار مثل اكسيد الكالسيوم CaO وأكسيد المغنسيوم MgO (الارضيات)
- (10) رئيسي منخفضة الكثافة ذات قوة الشد العالية وتستخدم تصنيع (المغنسيوم) والمركبات الفضائية.
- (11) تفاعل الجير الحي مع الماء. (إطفاء الجير الحي)
- (12) مجموعه عناصر بالجهة اليمنى بالجدول الدوري وينتهي ترتيبها الإلكتروني (np^1) (3A)
- (13) 3A ويستخلص من البوراك . ()
- (14) القشرة الارضية بصورة البوكسيت (الالومنيوم)
- (15) قطع الكورندوم الممزوجة بكميات ضئيلة من عناصر . (الاحجار الكريمة)
- (16) مجموعه العناصر التي ينتهي ترتيبها الإلكتروني (np^3) (5A)
- (17) مجموعه عناصر بالجهة اليمنى بالجدول الدوري وينتهي ترتيبها الإلكتروني (np^4) (6A)
- (18) عنصر يمثل 50% من كتلة القشرة الارضية, 60% . (الاكسجين)
- (19) غاز نحصل عليه بإمرار شرارة كهربائية غاز الاكسجين عند حدوث العواصف الرعدية. ()
- (20) عملية اتحاد المواد كيميائيا بالأكسجين. ()
- (21) مجموعه عناصر بالجهة اليمنى بالجدول الدوري وينتهي ترتيبها الإلكتروني (np^5) (7A)
- (22) مجموعه عناصر لافلزية في هالوجينات (7A)
- (23) عنصر يستخدم لتنقية امدادات مياه المدن السباحة ومياه الصرف . ()
- (24) مادة بلاستيكية تستخدم كعازل . (كلوريد بوليفينيل)

تبطين الطهي المانعة لالتصاق .

: لجملة الصحيحة و لجملة الخطأ في كل مما يلي

<input checked="" type="checkbox"/>	(1) وجود الكترولون ضعيف الارتباط بنواة ذرة الفلزات القلوية بسبب ارتفاع قيم التأين والسالييه الكهربائية
<input checked="" type="checkbox"/>	(2) يستخدم الصوديوم في تبريد المفاعلات النووية لأنه يمتص الحرارة بسرعة ويتميز بانخفاض درجة انصهاره وارتفاع درجة غليانه.
<input checked="" type="checkbox"/>	(3) 1A هي من اقل الفلزات المعروفة نشاطا وفاعليه
<input checked="" type="checkbox"/>	(4) تتفاعل الفلزات القلوية ببطاء مع الماء البارد منتجة محلولاً من هيدروكسيد الفلز وغاز الهيدروجين
<input checked="" type="checkbox"/>	(5) يتفاعل المغنسيوم مع الماء ويتكون مركب صيغته الكيميائية Mg OH.
<input checked="" type="checkbox"/>	(6) عند تفاعل الجير الحي (اكسيد الكالسيوم) مع الماء يسمى الناتج كربونات كالسيوم
<input checked="" type="checkbox"/>	(7) يستخدم الكلور والكربون في تكوين مادة التفلون التي تمنع التصاق الطعام بأواني الطهي
<input checked="" type="checkbox"/>	(8) تتفاعل الفلزات القلوية بشده مع الماء البارد منتجة محلولاً قاعدياً او قلوية بالإضافة لغاز الهيدروجين
<input checked="" type="checkbox"/>	(9) املاح الفلزات القلوية الأرضية أكثر ذوباناً في الماء من املاح الفلزات القلوية الأرضية

: التالية بما يناسبها علمياً

(1) يع فاعل الصوديوم مع الماء تفاعل _____
 (2) يمكن الحصول على اكسيد الكالسيوم من تسخين كربونات الكالسيوم

(3) يستخدم عنصر --- في صناعة مادة التفلون التي تمنع التصاق الطعام في اواني الطهي

$K + H_2O$		$KOH + H_2$	(4)
$Na + H_2O$		$NaOH + H_2$	(5)
$Na + O_2$		Na_2O	(6)
$K + O_2$		K_2O	(7)
$Na + Cl_2$		$NaCl$	(8)
$K + Cl_2$		KCl	(9)
$CaCO_3$	$900^\circ C$	$CaO + CO_2$	(10)
$CaO + H_2O$		$Ca(OH)_2$	(11)
$Ca(OH)_2 + CO_2$		$CaCO_3 + H_2O$	(12)
$Ca + H_2O$		$Ca(OH)_2 + H_2$	(13)
$Mg + H_2O$		$Mg(OH)_2 + H_2$	(14)

$Mg + O_2$	$\xrightarrow{\Delta}$	MgO	(15)
$Ca + O_2$	$\xrightarrow{\Delta}$	CaO	(16)
$Ca + Cl_2$		$CaCl_2$	(17)
$Mg + Cl_2$		$MgCl_2$	(18)
$Al + O_2$		Al_2O_3	(19)
$Al + HCl$		$AlCl_3 + H_2$	(20)
$Al + NaOH + H_2O$		$NaAlO_2 + H_2$	(21)
$N_2 + H_2$		NH_3	(22)
$N_2 + O_2$	$\xrightarrow[3]{C}$	NO	(23)
$Na + O_2$	$\xrightarrow{\Delta / \text{كمية قليلة}}$	Na_2O	(24)
$Na + O_2$	$\xrightarrow{\Delta / \text{كمية وفيرة}}$	Na_2O_2	(25)
$Cl_2 + H_2O$		$HCl + [O]$	(26)
$Br_2 + H_2O$		$HBr + O_2$	(27)

في المربع المقابل للإجابة الصحيحة التي تكمل كلا من الجمل التالية

- 1) أكسيد الصوديوم فوق أكسيد الصوديوم هيبوكلوريت الصوديوم كلوريد الصوديوم
- 2) عند تفاعل البوتاسيوم مع أكسجين الهواء الجوي يتكون : $K(OH)_2$ $KOH + H_2$ $KOH + H_2O$ K_2O
- 3) تفاعل الصوديوم مع الماء يتكون : $Na(OH)_2$ $NaOH + H_2$ $NaOH + H_2O$ $Na_2O + H_2$
- 4) عند تفاعل الصوديوم مع أكسجين الهواء الجوي ينتج مركب صلب هو : Na_2O Na_2O_2 NaO_2 NaO
- 5) الفلزات القلوية الأرضية : املاحها أكثر ذوبان في الماء من املاح الفلزات القلوية اقل صلابة من الفلزات القلوية هي عناصر المجموعة 1A تتفاعل مع الماء لتكون محاليل قلوية او قاعديه
- 6) عند امرار غاز ثاني اكسيد الكربون على ماء الجير لفترة قصيرة فانه يتعكر لتكون $CaCO_3$ $Ca(OH)_2$ CaO $CaCl_2$

7) الاسم الذي يطلق علي المجموعة التي تلي عناصر المجموعة الاولى في الجدول الدوري الحديث: -
 الانتقاليه الهالوجينات الاقلاء الأرضية

8) 3A وهو اكثرها انتشارا في القشرة الأرضية ويوجد في صورة خام البوكسيت او الكورنديم شديد الصلابة هو: -
 الألومنيوم الجاليوم الانديوم

9) احد الفلزات التالية يتفاعل مع الاحماض ومع القواعد وينتج ملحا :-
 Na Mg Al K

10) عند تفاعل الالمنيوم NaOH يتكون: -
 NaAlO₂+H₂ NaAlO+H₂O Al(OH)₃+NaO

11) احد عناصر المجموعة الثالثة (من اشباه الموصلات) ويوجد في الطبيعة على هيئة خامات البوركس :
 الجاليوم الانديوم الالومنيوم

1) s :- هي مجموعتي عناصر الفلزات القلوية وعناصر الفلزات القلوية الأرضية
2) الفلزات القلوية: - المجموعة الاولى وتحتوي على العناصر التي تقع إلكتروناتها الخارجية في تحت المستوى ns¹
3) الفلزات القلوية الارضية: - المجموعة الثانية وتحتوي على العناصر التي تقع إلكتروناتها الخارجية في تحت المستوى ns²

4) الارضيات: - لا يتغير تركيبها بالنار مثل اكسيد الكالسيوم CaO وأكسيد المغنسيوم MgO

5) طفاء الجير الحي: - الجير WWW.KweduFiles.Com

6) -: التي تقع إلكتروناتها الخارجية في تحت المستوى np¹

7) الاحجار الكريمة: - الممزوجة بكميات ضئيلة من عناصر .

8) -: التي تقع إلكتروناتها الخارجية في تحت المستوى np³

9) -: التي تقع إلكتروناتها الخارجية في تحت المستوى np⁴

10) -: عملية اتحاد المواد كيميائيا بالأكسجين.

11) -: تقع إلكتروناتها الخارجية np⁵

السؤال السادس علل لما يلي تعليلا علميا صحيحا

1) (1A) عدا الهيدروجين بصوره منفردة في الطبيعة لأنها نشطه فتتحد بسهولة مع غيرها من العناصر والايونات عديده الذرات مكونه مركبات

2) يقاوم الألومنيوم التآكل بقوة نتيجة تكوين طبقة واقية داخلية غير مسامية من أكسيد الألومنيوم عند تعرض سطحه لأكسجين الهواء



السؤال السابع: قارن بين كل مما يلي

20Ca	19K	4 (1)
------	-----	-------

CaO	K ₂ O	صيغة أكسيد الفلز
الهالوجينات	القلويات	(2) الخاصية
..... لافلزية..... فلزيه.....	فلزيه ام لافلزية
..... منخفضه.....	طاقة التأين الاول (مرتفعة /منخفضه)
.....يمين الجدول.....يسار الجدول.....	تقع على يمين الجدول الدوري ام يساره

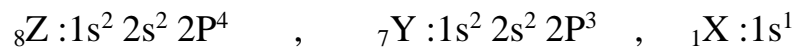
– وضع بكتابة المعادلات الكيميائية الرمزية فقط كلا مما يلي

K + H₂O		KOH + H₂	(1) ذوبان فلز البوتاسيوم
Na + H₂O		NaOH + H₂	(2) ذوبان فلز الصوديوم
Na + O₂		Na₂O	(3) تفاعل الصوديوم مع اكسجين الهواء
K + O₂		K₂O	(4) تفاعل البوتاسيوم مع اكسجين الهواء
Na + Cl₂		NaCl	(5) تفاعل الصوديوم مع الكلور
K + Cl₂		KCl	(6) تفاعل البوتاسيوم مع الكلور
CaCO₃	$\xrightarrow{900^\circ\text{C}}$	CaO + CO₂	(7) تسخين الحجر الجيري (كربونات الكالسيوم) (900)°C
CaO + H₂O		Ca(OH)₂	(8) تفاعل الجير (اكسيد الكالسيوم)
Ca(OH)₂ + CO₂		CaCO₃ + H₂O	(9) اكسيد الكربون الجير (هيدروكسيد الكالسيوم)
Ca + H₂O		Ca(OH)₂ + H₂	(10) تفاعل الكالسيوم مع الماء
Mg + H₂O		Mg(OH)₂ + H₂	(11) تفاعل المغنسيوم مع الماء
Mg + O₂	$\xrightarrow{\Delta}$	MgO	(12) حرق المغنسيوم الهواء (الاكسجين)
Ca + O₂	$\xrightarrow{\Delta}$	CaO	(13) حرق الكالسيوم الهواء (الاكسجين)
Ca + Cl₂		CaCl₂	(14) تفاعل الكالسيوم مع الكلور
Mg + Cl₂		MgCl₂	(15) الماغنسيوم مع
Al + O₂		Al₂O₃	(16) تعرض سطح الالمنيوم لأكسجين الهواء
Al + HCl		AlCl₃ + H₂	(17) تفاعل الالمنيوم مع حمض الهيدروكلوريك
Al + NaOH + H₂O		NaAlO₂ + H₂	(18) تفاعل الالمنيوم مع هيدروكسيد الصوديوم
H₂ + N₂		NH₃	(19) تفاعل النتروجين مع الهيدروجين
N₂ + O₂	$\xrightarrow{300^\circ\text{C}}$	NO	(20) تفاعل الاكسجين والنتروجين
Na + O₂	$\xrightarrow{\Delta / \text{كمية قليلة}}$	Na₂O	(21) احتراق الصوديوم كمية قليلة من الاكسجين
Na + O₂	$\xrightarrow{\Delta / \text{كمية وفيرة}}$	Na₂O₂	(22) احتراق الصوديوم كمية وفيرة من الاكسجين
Cl₂ + H₂O		HCl + [O]	(23)

$\text{Br}_2 + \text{H}_2\text{O}$		$\text{HBr} + \text{O}_2$	(24)
$\text{SO}_2 + \text{H}_2\text{S}$		$\text{H}_2\text{O} + \text{S}$	(25) معالجة ثاني أكسيد الكبريت بكمية زائدة من غاز كبريتيد الهيدروجين
$\text{SO}_3 + \text{H}_2\text{O}$		H_2SO_4	(26) ذوبان ثالث أكسيد الكبريت في الماء
$\text{Mg} + \text{Cl}_2$		MgCl_2	(27) تفاعل المغنسيوم مع الكلور

السؤال التاسع: اجب عن الاسئلة التالية

(1) ثلاث عناصر رموزها الافتراضية (Z, Y, X) والترتيب الإلكتروني الكامل لكل منهم هو



1. (Y) النتروجين الترتيب الإلكتروني لذرة العنصر (Y) لأقرب غاز نبيل $[\text{He}]2s^2 2p^3$

2. (Z) الاكسجين عدد الالكترونات غير المتزوجة لذرة العنصر (Z) (2)

3. تحديد عنصران من العناصر الثلاثة السابقة تستخدم صناعيا لتحضير مركبات هامة في انتاج الاسمدة الزراعية

مثل الامونيا (X, Y) وما الصيغة الكيميائية للامونيا NH_3

4. كتابة معادلة رمزية توضح اتحاد العنصرين (Y) (Z) (3000°C)



المعادلة الرمزية اكسيد النتريك WWW.KweduFiles.Com

(2) يقع عنصر الكلور في الدورة الثالثة و نظرا لنشاطه الكيميائي لا يوجد في الطبيعة في الحالة الحرة , ويمكن

استخلاصه من مركباته المذابة في ماء البحر على هيئة غاز لونه أخضر مصفر , يستخدم في تنقية إمدادات مياه

المدن وأحواض السباحة وفي مساحيق تبييض الملابس. والمط

1. اسم المجموعة في الجدول الدوري التي ينتمي اليها الكلور الهالوجينات

2. الترتيب الإلكتروني النقطي لذرة الكلور $:\ddot{\text{Cl}}:$

3. فسر مستعينا بالمعادلة الرمزية استخدام الكلور في ازالة الالوان

يذوب الكلور في الماء ليعطي ماء الكلور الذي يتحلل بواسطة اشعة الشمس وينتج اكسجين ذرى نشط يعمل على ازالة الالوان



(3) اقرا كل مما يلي جيدا ثم اكمل العمود الاخير

ما اسم العنصر، اكتب معادلة رمزية لتفاعل العنصر مع الاكسجين	استخداماته	اهم خصائصه		
: لومنيوم	صناعة هياكل	فلز متردد , له قوة ومرونة في صورته النقية , موصل جيد	3A	1.

$Al + O_2 \rightarrow Al_2O_3$:		للكهرباء , ومقاوم للتآكل في الجو نتيجة تكوين طبقة داخلية من أكسيده	
----------------------------------	--	--	--

4) اختر من المجموعة (أ) ما يناسبه ()

()	()	
(2)	أكثر الفلزات وفرة في القشرة الارضية وخاصة في صورة البوكسيت	1. هيبوكلوريت الصوديوم
(1)	منتج مهم لتبييض الملابس ويعتبر بديل عن ماء الاكسجين	2. الالومنيوم

()	()	
الألومنيوم	1	4 اقل العناصر سالبية كهربائية
هيبوكلوريت الصوديوم	2	3 ايونات تتكون عندما تكتسب ذرات الهالوجينات الكترول
الهاليدات	3	1 المجموعة الثالثة ينتهي ترتيبه الإلكتروني له بتحت المستوى $3p^1$
السيزيوم	4	2 أحد مركبات الصوديوم يستخدم في عمليه تبييض الملابس

5) عناصر اسمائهم، نتروجين، والومنيوم، صوديوم

من خلال دراستك لخواص العناصر السابقة ضع خطا تحت الإجابة الصحيحة من بين القوسين فيما يلي

1. يتفاعل الصوديوم مع الماء البارد منتجا محلولاً {حمضيا - قلويا} وانطلاق غاز صيغته الكيميائية $[CO-H_2]$

2. عنصر الالومنيوم فلز نشط عندما يتعرض سطحه لأكسجين الهواء الجوي تتكون طبقة من $[Al(OH)_3-Al_2O_3]$

ومن صفاتها أنها (_____ -)

3. يتحد غاز النتروجين بالأكسجين عند درجات الحرارة العالية جدا $3000^{\circ}C$ ليتكون غاز يسمى (ثاني أكسيد النتريك -

أكسيد النترية) وصيغته الكيميائية $[NO-NO_2]$

السؤال العاشر : اكتب الاسم او الصيغة الكيميائية كما هو مطلوب بالجدول التالي

صيغة الكيمياء	صيغة الكيمياء	صيغة الكيمياء	صيغة الكيمياء
NH_3	الامونيا	HCl	الهيدروكلوريك
$AlCl_3$	كلوريد الالومنيوم	SO_2	أكسيد الكبريت
$NaOH$	هيدروكسيد الصوديوم	$CaCO_3$	كربونات كالسيوم
K_2S	كبريتيد البوتاسيوم	CO_2	أكسيد الكربون
MgO	أكسيد المغنسيوم	NaH	هيدريد الصوديوم
Na_2CO_3	كربونات الصوديوم	H_2SO_4	كبريتيك

KCl	كلوريد البوتاسيوم	NaCl	كلوريد الصوديوم
MgO	اكسيد المغنسيوم	Mg(OH) ₂	هيدروكسيد المغنسيوم
H ₂ O		CH ₄	الميثان
----HF----	فلوريد الهيدروجين	----MgSO ₄ ---	--كبريتات المغنسيوم----
CaCl ₂	كلوريد الكالسيوم	---NH ₄ OH---	هيدروكسيد الامونيوم
		---Al(OH) ₃ ---	هيدروكسيد الالومنيوم

WWW.KweduFiles.Com

WWW.KweduFiles.Com