

تم تحميل هذا الملف من موقع المناهج الكويتية



عُلا

الملف مذكرة عُلا الإثرائية

[موقع المناهج](#) ← [المناهج الكويتية](#) ← [الصف العاشر](#) ← [تاريخ](#) ← [الفصل الأول](#)

روابط مواقع التواصل الاجتماعي بحسب الصف العاشر



روابط مواد الصف العاشر على تلغرام

[الرياضيات](#)

[اللغة الانجليزية](#)

[اللغة العربية](#)

[التربية الاسلامية](#)

المزيد من الملفات بحسب الصف العاشر والمادة تاريخ في الفصل الأول

مسودة كتاب الطالب لعام 2018	1
مذكرة ثانوية سلمان الفارسي	2
حل تقويم الكتاب في مادة التاريخ	3
نموذج احابة امتحان في مادة التاريخ للصف العاشر	4
مذكرة شهرزاد في مادة التاريخ	5

UULA
UULA
almanahj.com/kw



التاريخ

الكورس الأول


10

2024 - 2023

UULA.COM



UULA



التاريخ

الكورس الأول

2024 - 2023

UULA.COM

10



U U L A

حقق هدفك الدراسي

ريح بالك وارفع مستوى دراستك مع المذكرة الشاملة والفيديوهات التي تشرحها والاختبارات التي تدربك في منصة علا



س

ج

أ+

ندبة المعلمين يجابونك بأسرع وقت

ما فهمت؟ تواصل مع أقوى المعلمين واحصل على شرح لسؤالك

دروس يشرحها أقوى معلمي الكويت

فيديوهات مبسطة قصيرة تشرح لك كل شيء خطوة بخطوة

تفوق في القصير والفايل مع نماذج اختبارات سابقة

نماذج اختبارات سابقة مشروحة بالكامل تجهزك لاختباراتك



اكتشف عالم التفوق مع منصة علا

لتشترك بالمادة وتستمع بالشرح المميز صور أو اضغط على رمز الQR

المعلق



هذه المذكرة تغطي المادة كاملة.

في حال وجود أي تغيير للمنهج أو تعليق جزء منه يمكنكم مسح رمز QR للتأكد من المقرر.



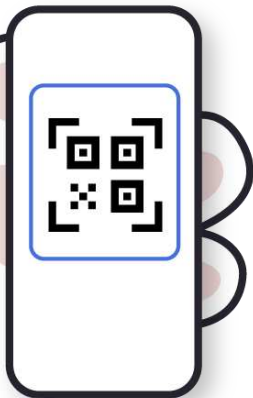
موقع
المناهج الكويتية
almanahj.com/kw

المنقذ



أول ما تحتاج مساعدة بالمادة ، المنقذ موجودا!

صور ال QR بكاميرا التلفون أو اضغط عليه إذا كنت تستخدم المذكرة من جهازك و يطلع لك فيديو يشرح لك.



قائمة المحتوى

01 معالم الكويت الجغرافية

01

- 5 الموقع والمساحة
6 التضاريس
9 جزر الكويت
11 الفناخ
13 السكان

02 معالم الكويت الاقتصادية والحضارية

02

- 16 الأنشطة الاقتصادية قديماً
18 الأنشطة الاقتصادية قديماً النشاط البحري
24 الأنشطة الاقتصادية قديماً النشاط البري
26 الأنشطة الاقتصادية قديماً: الحرف اليدوية
28 المعالم الحضارية لدولة الكويت



03 نشأة الكويت

03

- 32 نشأة الكويت 1613م
35 اختيار آل صباح لحكم الكويت
38 الحاكم الثاني الشيخ عبدالله الأول بن صباح بن جابر (1763 م - 1814 م)
40 الحاكم الثالث: الشيخ جابر الأول بن عبد الله الصباح: 1814 م - 1859 م
42 حكام الكويت (الرابع - الخامس - السادس)
44 النمو التجاري و الاقتصادي للكويت تحت حكم آل صباح

04 الكويت والتنافس الاستعماري

04

- 47 التنافس الاستعماري الأوروبي على منطقة الخليج العربي من القرن 16 - 19 م
49 التنافس الاستعماري الأوروبي على منطقة الخليج العربي من القرن 16 - 19 م
52 الشيخ مبارك الصباح (1896 م - 1915 م)

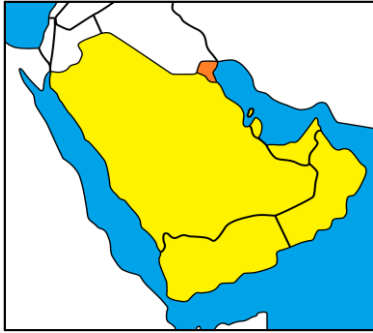
الموقع والمساحة



علل - أهمية دراسة موقع أي دولة

☆ ممكن أن يأتي السؤال بصيغ أخرى: عدد - أهداف

- إبراز القيمة الفعلية للدولة
- إبراز الكيفية التي تكون عليها المصالح الحيوية للدولة
- إبراز الدور الذي يمكن أن تمارسه الدولة



أكمل العبارات التالية:

تقع دولة الكويت بالنسبة لشبه الجزيرة العربية في جهة **الشمال الشرقي**

تقع دولة الكويت بالنسبة للخليج العربي في جهة **الشمال الغربي**

الدولة التي تحدها الكويت من جهة الشمال والغربي تسمى **العراق**

الدولة التي تحدها الكويت من جهة الجنوب والجنوب الغربي تسمى

المملكة العربية السعودية

المسطح المائي الذي يحدها دولة الكويت من ناحية الشرق يسمى

الخليج العربي

تقع الكويت بين خطي عرض **28.45 - 30.05** شمال خط الاستواء.

تقع الكويت بين خطي طول **46.30 - 48.30** شرق خط جرينتش.

تبلغ مساحة دولة الكويت حوالي **17,818** كم².



علل - أهمية الموقع الجغرافي المتميز للكيان السياسي لدولة الكويت

☆ ممكن أن يأتي السؤال بصيغة أخرى: عدد - خصائص الموقع الاستراتيجي المتميز للكيان السياسي لدولة الكويت

- موقعها الذي يمثل النهاية الطبيعية للطريق الملاحي البحري والتجاري الواقع على طريق الهند ومنطقة الشرق الأقصى
- تمثل البوابة والمدخل الطبيعي لشمال شرق الجزيرة العربية
- منطقة ترانزيت أو منطقة لتجارة العبور قليلة الضرائب
- نشاط دولة الكويت البحري والتجاري
- تميز الكويتيين بالمهارة في نقل التجارة بين موانئ الخليج وسواحل الهند والشرق الأفريقي

علل - الكويت البوابة والمدخل الطبيعي لشمال شرق الجزيرة العربية

- مركز لتجارة السكان الوافدين عليها من (نجد - الإحصاء - بادية الشام)
- تصريف البضائع منها

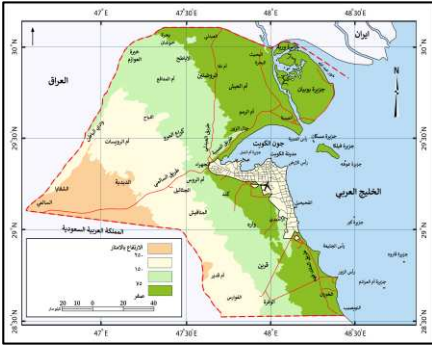
علل - الكويت أحد أهم الموانئ في شمال إقليم الإحصاء

بسبب نشاطها البحري والتجاري خاصة مع ظهورها البري وملحقاتها من الجزر



تدرب و تفوق

التضاريس

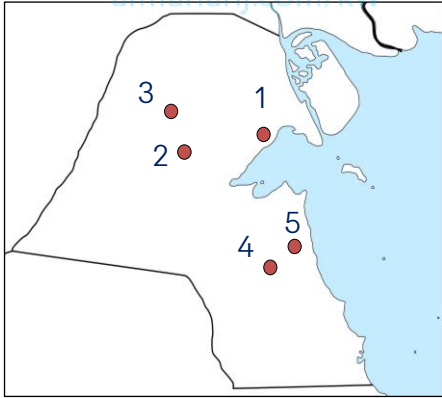


أكمل العبارات التالية:

- ❑ الخريطة المقابلة تمثل دولة الكويت الطبيعية
- ❑ ينحدر سطح دولة الكويت تدريجياً في اتجاه من الغرب إلى الشرق
- ❑ المسطح المائي الذي ينحدر سطح دولة الكويت اتجاهه يسمى الخليج العربي
- ❑ أعلى ارتفاع فوق مستوى سطح البحر في المناطق الغربية لدولة الكويت 300 متر

❑ عدد أنواع التضاريس في دولة الكويت

سهول أودية هضاب تلال



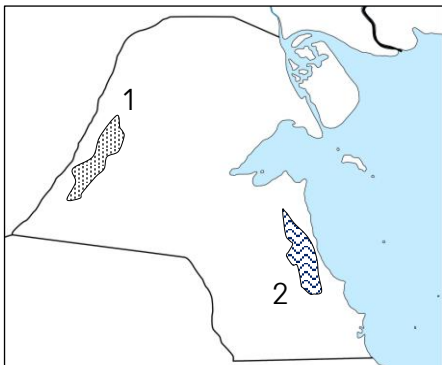
لاحظ خريطة دولة الكويت الصماء ثم نفذ المطلوب منك :

- ❑ الرقم (1) يمثل تل يصل ارتفاعه إلى 137 متر يسمى حافة جال الزور
- ❑ الرقم (2) يمثل تلال يبلغ ارتفاعها نحو 183م تسمى كراع العرو
- ❑ تلال اللياح يمثلها على الخريطة الرقم 3
- ❑ تل وارة يمثلها على الخريطة الرقم 4
- ❑ مدينة الأحمدى يمثلها على الخريطة الرقم 5

أكمل العبارات التالية:

☆ ممكن أن يأتي السؤال بصيغ أخرى: اختياري - عرف

- ❑ تل برقان وتل وارة في الجنوب من مدينة الأحمدى تأخذ شكل قباب
- ❑ الهضبة التي تأخذ الشكل الطولي وتمتد في اتجاه شمالي جنوبي لمسافة 30 كم تسمى هضبة الأحمدى
- ❑ أقصى ارتفاع لهضبة الأحمدى فوق سطح البحر حوالي 137 م
- ❑ وادي يفصل بين الحدود الكويتية العراقية لمسافة 150 كم يسمى الباطن
- ❑ الحدود التي يسير معها وادي الباطن بالنسبة لدولة الكويت تسمى الغربية



- ❑ اختياري : الحدود التي يسير معها وادي الباطن بالنسبة لدولة الكويت :
 الشمالية الجنوبية الشرقية الغربية

لاحظ خريطة دولة الكويت الصماء ثم نفذ المطلوب منك

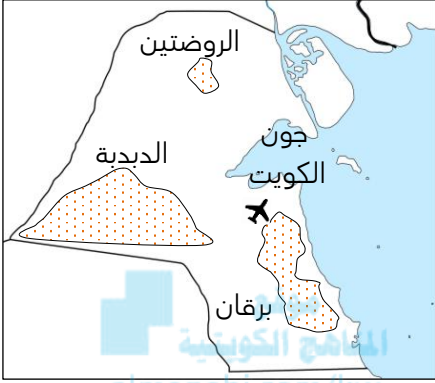
- ❑ هضبة الأحمدى يمثلها على الخريطة الرقم 2
- ❑ وادي الباطن يمثلها على الخريطة الرقم 1



أكمل العبارات التالية:

☆ ممكن أن يأتي السؤال بصيغة أخرى: **عرف - اختياري**

سهل يحتل مساحة كبيرة في غرب وجنوب دولة الكويت يسمى **سهل الدبدية**



سهل يقع في شمال الكويت وهي أرض منبسطة تنحدر نحو الشرق والشمال الشرقي يسمى **سهل الروضتين**

سهل يمتد من جون الكويت باتجاه الجنوب موازياً لخط الساحل يسمى **سهل برقان**

السهل الذي يقع فيه تلال وارة وبرقان والقرين يسمى **برقان**

ارتفاع سهل برقان بين الصفر عند الساحل وفي الداخل حوالي **100 م**

أكبر الحقول النفطية في دولة الكويت يسمى **حقل برقان**

علل - سهل برقان أشهر السهول الموجودة في دولة الكويت

بسبب اكتشاف النفط ويضم أكبر حقول النفط الكويتية حقل برقان

صنف المظاهر التضاريسية التالية في دولة الكويت حسب الجدول التالي
جال الزور - كراع المرو - اللياح - برقان - وارة - القرين - الباطن - الدبدية - الروضتين - الأحصدي

☆ ممكن أن يأتي السؤال بصيغة أخرى: **دلل على صحة العبارة - تتنوع وتتعدد التضاريس في الكويت**

سهول	هضاب	وديان	تلال
الروضتين - الدبدية - برقان	الأحصدي	الباطن	الجنوب
			الشمال
			برقان - وارة - القرين
			جال الزور - كراع المرو - اللياح

☆ اكتب المفهوم الدال على العبارات التالية:

☆ ممكن أن يأتي السؤال بصيغة أخرى: **عرف**

المفهوم	العبارة
هضبة الأحصدي	هضبة تأخذ الشكل الطولي وتمتد في اتجاه شمالي جنوبي لمسافة 30 كم
وادي الباطن	الحد الفاصل بين الحدود الكويتية العراقية بمسافة 150 كم ويسير مع الحدود الغربية للكويت
سهل الدبدية	سهل يحتل مساحة كبيرة في غرب وجنوب دولة الكويت
سهل الروضتين	يقع في شمال الكويت وهي أرض منبسطة تنحدر نحو الشرق والشمال الشرقي
سهل برقان	يمتد من جون الكويت باتجاه الجنوب موازياً لخط الساحل ويقع فيه تلال وارة وبرقان والقرين

☆ أكمل طبيعة الأراضي في دولة الكويت ذات طبيعة **صحراوية**

علل - تعتبر الزراعة في الكويت محصورة في بعض المناطق بسبب توافر المياه الجوفية

عدد - المناطق الصالحة للزراعة في دولة الكويت

- الفحيحيل
- المنقف
- الفنتاس
- الوفرة
- الجهراء
- أبو طليفة
- العقيلة
- الشعبية
- الدمنة

" الكويت جيولوجياً جزء من الكتلة العربية " دلل على صحة العبارة
تفصل بين العراق والهضبة الصحراوية المُكونة لشبه الجزيرة العربية

صوب ما تحته خط

التصويب	العبارة
رملية	يتكون سطح الكويت بشكل عام من سهول طينية
تلال	يتكون سطح الكويت من سهول رملية منبسطة تتخللها بعض الجبال قليلة الارتفاع
الشرق	ينحدر سطح الكويت نحو الشمال



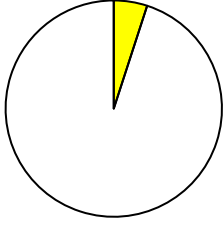
تدرب و تفوق

اختبارات الكترونية ذكية

جزر الكويت



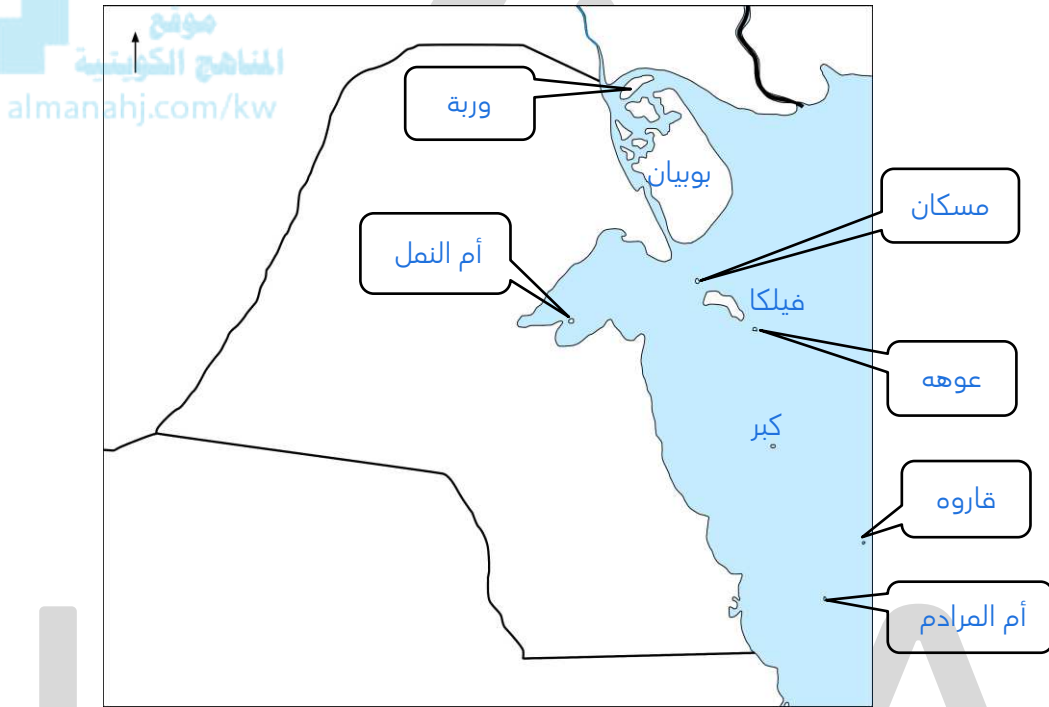
أكمل العبارات التالية:



- ١ عدد الجزر الكويتية 10 جزر
- ٢ أكبر الجزر الكويتية هي جزيرة بوبيان
- ٣ نسبة جزيرة بوبيان من المساحة الإجمالية لدولة الكويت 5%
- ٤ جزيرة أصبحت جزءً من ميناء منطقة الشويخ بعد ردم الجزء المحصور بينها وبين الساحل هي الشويخ

٥ رتب الجزر الكويتية حسب موقعها من الشمال إلى الجنوب في الجدول التالي

وربة	بوبيان	مسكان	فيلكا	أم النمل	عوهة	الشويخ	كبر	قاروة	أم المرادم
------	--------	-------	-------	----------	------	--------	-----	-------	------------



علل لما يلي:

- ١ جزيرتا وربة وبوبيان كانت مطمعاً ومطلباً دائماً للعراق لأن الجزيرتين ستمنح العراق منفذاً بحرياً مناسباً له على الخليج العربي

٢ جزيرة فيلكا لها أهمية تاريخية

☆ يمكن أن يأتي السؤال بصيغة أخرى: علل- فيلكا أهم الجزر الكويتية من حيث التاريخ

- تحتوي على دلائل أثرية ومعمارية قديمة
- الجزيرة الثانية من حيث المساحة
- ذكرها الرحالة الغربيون والمصادر اليونانية والرومانية القديمة
- عملت فيها بعثات استكشافية للكشف عن أثارها و طبيعة الحضارات فيها



❏ جزيرة فيلكا أصبحت غير مأهولة بالسكان بعد عام 1990 م

★ يمكن أن يأتي السؤال بصيغة أخرى: **أكمل**

بسبب أحداث الغزو العراقي البائد للكويت عام 1990 م

اختر الاجابة الصحيحة :

❏ أحد الجزر الكويتية كانت تسمى قديماً إيكاروس :

مسكان ○ وربة ○ **فيلكا** ○ أم النمل ○

❏ الجزر الكويتية غير مأهولة بالسكان قبل عام 1990م ما عدا جزيرة :

بوبيان ○ وربة ○ **فيلكا** ○ عوهه ○

❏ أولى الجزر التابعة لدولة الكويت من ناحية الشمال :

بوبيان ○ **وربة** ○ عوهه ○ فيلكا ○

❏ آخر الجزر الكويتية من ناحية الجنوب جزيرة :

أم النمل ○ كُبر ○ **أم المرادم** ○ قاروه ○
موقع المناهج الكويتية
almanom/kw قاروه

❏ جزيرة صغيرة المساحة تقع في ناحية الجنوب الشرقي من فيلكا والمسافة بينهما 12 ميل :

أم النمل ○ **عوهه** ○ قاروه ○ أم المرادم ○

❏ جزيرة تقع في الجنوب من جزيرة فيلكا وتبعد عنها 19.5 ميل :

كُبر ○ بوبيان ○ عوهه ○ أم النمل ○

❏ جزيرة كُبر مساحتها تقارب من مساحة جزيرة :

وربة ○ أم النمل ○ **عوهه** ○ فيلكا ○

❏ أصغر الجزر الكويتية مساحة :

عوهه و وربة ○ **مسكان و قاروه** ○ أم النمل وكُبر ○ مسكان وأم النمل ○

❏ الجزيرة الثانية من حيث المساحة في دولة الكويت :

وربة ○ **فيلكا** ○ أم النمل ○ عوهه ○



تدرب و تفوق

اختبارات الكترونية ذكية



علل - اختلاف المناخ بين مناطق دول العالم بسبب اختلاف الموقع الفلكي

دال على صحة العبارة " الموقع الفلكي له تأثير في مناخ دولة الكويت "

- مناخ قاري جاف قاسٍ
- ارتفاع درجات الحرارة أكثر أيام السنة
- وجود فصلين رئيسيين (الصيف - الشتاء)
- وجود فصلين ثانويين (الربيع - الخريف)

فرق بين المميزات المناخية لدولة الكويت في الفصول الأربعة

الشتاء	الصيف
<ul style="list-style-type: none"> دافئ قصير ممطر أحياناً متوسط درجة الحرارة 18 درجة وأحياناً تصل إلى الصفر المئوي الأمطار شتوية قليلة وغير منتظمة وتختلف من سنة إلى أخرى 	<ul style="list-style-type: none"> طويل حار جاف تهب رياح مثيرة للغبار ترتفع نسبة الرطوبة (أغسطس و سبتمبر) تصل درجة الحرارة إلى 50 درجة في الظل
الخريف	الربيع
<ul style="list-style-type: none"> ترتفع نسبة الرطوبة تقل درجة الحرارة نسبياً عن الصيف 	<ul style="list-style-type: none"> قصير معتدل

عدد- مميزات المطر في الكويت

- قليلة
- غير منتظمة
- تختلف من سنة إلى أخرى

علل - دولة الكويت إحدى المناطق المتميزة جغرافياً ومناخياً بمنطقة الخليج العربي

☆ ممكن أن يأتي السؤال بصيغة أخرى: عدد- مميزات مناخ دولة الكويت

- الجفاف
- قلة الرطوبة
- الانتقال السريع بين فصولها المختلفة (خاصة فصل الشتاء والصيف)

علل - جفاف وقلة الرطوبة في دولة الكويت

- نسبة التبخر عالية
- قلة الأمطار

" الموارد المائية في دولة الكويت شحيحة " دال على صحة العبارة

عانى سكانها منذ القدم من قلة المياه وارتفاع ملوحتها

عدد أهم المناطق التي تنحصر فيها المياه الصالحة للاستهلاك الآدمي بدولة الكويت




تدرب و تفوق

اختبارات الكترونية ذكية



عدد أنواع الرياح في دولة الكويت



قارن بين كل من :

☆ ممكن أن يأتي السؤال بصيغ أخرى: **أكمل - اختياري**

الرياح	الرياح الشمالية الغربية	الجنوبية الشرقية " الكوس "
المميزات	<ul style="list-style-type: none"> تهب معظم أيام السنة رياح جافة بفعل المرتفع السيبيري 	<ul style="list-style-type: none"> رطوبة دافئة تهب من الجنوب الشرقي وتتأثر بالمنخفض السوداني
الآثار	<ul style="list-style-type: none"> خفض درجة الحرارة صيفاً البرد القارس شتاءً 	<ul style="list-style-type: none"> رفع درجة الحرارة وتزيد الرطوبة في الصيف يعتدل الجو وتحمل معها المطر شتاءً

علل ما يلي :

تمتاز الرياح الشمالية الغربية بالجفاف بسبب المرتفع السيبيري المتمركز في شمال قارة آسيا

تمتاز الرياح الجنوبية الشرقية (الكوس) بأنها رطبة و دافئة بسبب تأثرها بالمنخفض السوداني

قارن بين كل من :

الرياح	السموم	العواصف الترابية " السرايات "
المميزات	<ul style="list-style-type: none"> رياح جافة تهب في الظهيرة تنخفض معها نسبة الرطوبة تهب من الشمال أو الشمال الشرقي في الصيف 	<ul style="list-style-type: none"> تهب في أواخر الربيع وأوائل الصيف
الآثار	<ul style="list-style-type: none"> ارتفاع درجة الحرارة صيفاً تثير الأتربة والرمال 	<ul style="list-style-type: none"> تثير الغبار مصحوبة عادة بعواصف رعدية يسقط بسببها المطر الشديد في أواخر الربيع وأوائل الصيف

علل - سقوط الأمطار في الكويت في أواخر الربيع وأوائل الصيف

بسبب السرايات (العواصف الترابية) تكون مصحوبة بعواصف رعدية يسقط بسببها المطر

اختر الإجابة الصحيحة :

الفترة الزمنية التي تهب فيها الرياح الشمالية الغربية على دولة الكويت

○ وقت الظهيرة ○ فصل الصيف ○ أواخر الربيع وأوائل الصيف ○ **معظم أيام السنة**

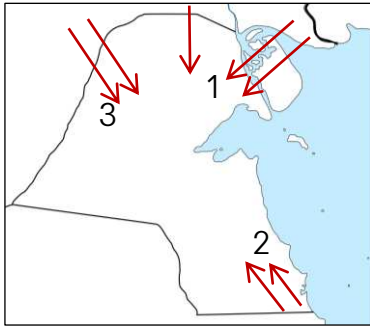
الفترة الزمنية التي تهب فيها رياح السموم دولة الكويت

○ **وقت الظهيرة** ○ فصل الشتاء ○ فصل الخريف ○ معظم أيام السنة

ظاهرة مناخية تهب في أواخر الربيع وأوائل الصيف

○ الشمالية الغربية ○ السموم ○ الكوس ○ **العواصف الترابية**

أمامك خريطة دولة الكويت اكتب الرقم الدال على العبارات التالية :



- ٢ _____ رياح الكوس يمثلها الرقم
 ٣ _____ الرياح الشمالية الغربية يمثلها الرقم
 1 _____ رياح السموم يمثلها الرقم

٢ اكتب المفهوم العلمي الدال على العبارات التالية

☆ ممكن أن يأتي السؤال بصيغة أخرى: **عرف**

المفهوم	العبرة
الرياح الشمالية الغربية	رياح تهب معظم أيام السنة وهي رياح تسبب انخفاض درجة الحرارة في فصل الصيف
الكوس (الجنوبية الشرقية)	رياح رطبة دافئة تهب من الجنوب الشرقي تسبب رفع درجة الحرارة وزيادة الرطوبة في فصل الصيف
السموم	رياح جافة جداً تهب وقت الظهيرة وتنخفض معها الرطوبة النسبية وذات درجات حرارة عالية
العواصف الترابية (السرايات)	تهب في أواخر الربيع وأوائل الصيف فتثير الغبار مصحوبة بعواصف رعدية يسقط بسببها المطر الشديد



تدرب و تفوق

اختبارات الكترونية ذكية



معالم الكويت الجغرافية

السكان

٢ " لم تكن الكويت منذ القدم منطقة مهجورة أو خالية من السكان " - دلل على صحة العبارة .

☆ ممكن أن يأتي السؤال بصيغة أخرى: **أكمل**

يعود الوجود البشري إلى أكثر من 4000 سنة ق. م و تشير بقايا الآثار الحضارية القديمة التي عثر عليها في أرض الكويت مثل فيلكا والصبية

٢ علل - ارتباط أصول السكان في الكويت ارتباطاً وثيقاً بالتركيبة السكانية لشبه الجزيرة العربية لأنها تقع ضمن الامتداد الجغرافي والسياسي للإقليم الذي يحتل المنطقة الغربية للخليج العربي

٢ عرف - إقليم البحرين _____ إقليم ممتد من جنوب البصرة شمالاً حتى عُمان جنوباً

٢ عدد- عناصر البناء السياسي التي افتقدتها الكويت قبل نزول العتوب بها

- السلطة
- الحدود السياسية

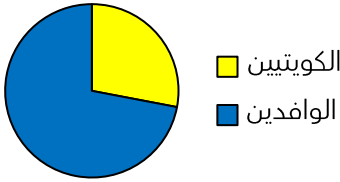
٢ علل - أهمية السلطة في البناء السياسي لأي دولة

- تضيي الطابع السياسي على المكان والرعية
- تدير شئونها وتحكمها
- يدين لها الجماعات بالولاء والانتماء
- تصنع الحدود السياسية للدولة

أكمل - أحد عناصر البناء السياسي التي تضيف الطابع السياسي على المكان والرعية وتدير شؤونها وتحكمها ويدين لها الجماعات بالولاء والطاعة تسمى السلطة

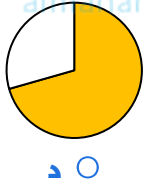
أكمل العبارات التالية :

- المعلومات السكانية لدولة الكويت في الفترات القديمة اقتصر على الرحالة
- العام الميلادي الذي جرى فيه أول تعداد سكاني في الكويت بشكل موثق 1957 م
- أمير الكويت الذي جرى في عهده أول تعداد سكاني للكويت هو الشيخ عبد الله السالم الصباح
- الدائرة التي قامت بأول تعداد سكاني في الكويت تسمى دائرة الشؤون الاجتماعية
- نسبة عدد السكان من غير الكويتيين (الوافدين) من إجمالي عدد السكان 2141465 نسمة عام 1990م 72%
- نسبة عدد السكان الكويتيين من إجمالي عدد سكان دولة الكويت عام 1990م 28%

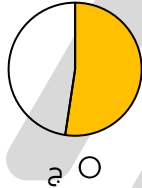


اختر الإجابة الصحيحة :

نسبة عدد السكان من غير الكويتيين (الوافدين) في دولة الكويت عام 1990 م يمثلها الجزء المظلل في الدائرة التي تحمل الحرف



د



ج

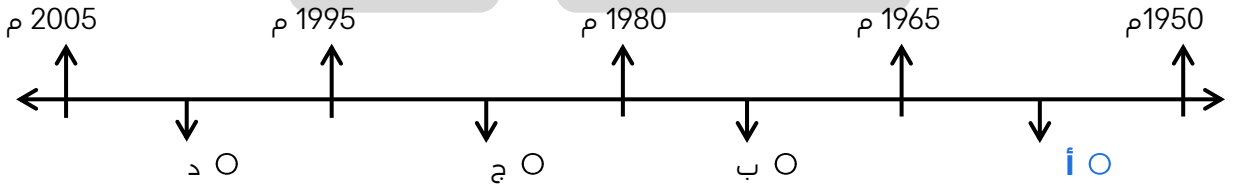


ب



أ

فترة حكم الشيخ عبد الله السالم الصباح يمثلها على المخطط الزمني الحرف



تدرب و تفوق

اختبارات الكترونية ذكية



علل - تعرض وضع السكان في الكويت لتغيرات كبيرة في عام 1990 م

☆ ممكن أن يأتي السؤال بصيغ أخرى:
فند العبارة - استمر وضع السكان في الكويت دون تغير عام 1990 م
علل - قلة عدد الوافدين بعد 1990م

نتيجة للاحتلال العراقي للكويت ▪ تبع ذلك هجرة وعودة الوافدين إلى أوطانهم

ما أثر الغزو العراقي لدولة الكويت عام 1990م على عدد السكان

تعرض وضع السكان في الكويت لتغيرات كبيرة وعودة كبيرة للوافدين العرب وغيرهم إلى أوطانهم

أدرس الجدول المقابل لعدد السكان في دولة الكويت ثم أجب عن الأسئلة التالية:

الإجمالي	الوافدون	الكويتيون	العام
4000052 نسمة	2789300 نسمة	1263100 نسمة	2014م

أكمل : حاكم دولة الكويت عام 2014م سمو الأمير الشيخ صباح الأحمد الصباح

أكمل الجهة التي أصدرت الإحصائيات السكانية عام 2014م تسمى المعلومات المدنية

استنتج حقيقة واحدة من الجدول

زيادة نسبة الوافدين على نسبة الكويتيين في عام 2014



موقع
المناهج الكويتية
almanahj.com/kw

تدرب و تفوق

اختبارات الكترونية ذكية

U U L A

الأنشطة الاقتصادية قديماً



❏ "عُرِفَ المجتمع الكويتي قديماً قبل اكتشاف النفط أنه مجتمع بسيط" - دلل على صحة العبارة

- تميز بالتلاحم والتكافل والعمل الجماعي
- مجتمع يعي مبدأ الشوري والحكم المشترك ضمان لوحده
- مجتمع تقبل الهجرات
- مجتمع اتسم بالمرونة والانفتاح على الثقافات المختلفة
- مجتمع في كل أزماته كان يظهر قدرة على المواجهة والتحدى
- مجتمع استطاع الحفاظ على وجوده وكيانه

❏ علل للتجارة دور مهم في انفتاح الكويت على الشعوب والثقافات المختلفة

كانت سفن الكويتيين تصل إلى سواحل الهند وسواحل أفريقيا



❏ أكمل: الأساس الذي قام عليه اقتصاد المجتمع الكويتي البسيط الغوص و

❏ علل تميز النشاط الاقتصادي للمجتمع الكويتي القديم بالتنوع

لأنه يجمع بين النشاط البري والبحري والزراعة في القرى الكويتية مثل الجهراء والفحيحيل

❏ فرق بين الأنشطة الاقتصادية للمجتمع الكويتي قديماً

النشاط البري	النشاط البحري
الرعي - الصيد - أعمال البداوة	الصيد - الغوص على اللؤلؤ صناعة السفن - التجارة البحرية

❏ دلل- للنشاط البحري والبري أثر كبير في المجتمع الكويتي قبل عصر اكتشاف النفط

- تكوين العادات والتقاليد
- تكوين التركيبة الاجتماعية
- تكوين البنية الاقتصادية

❏ عدد أهم الطرق التجارية القديمة

- طريق الحرير
- الخليج العربي

❏ علل- الأهمية الاقتصادية للخليج العربي قديماً

★ ممكن أن يأتي السؤال بصيغ أخرى:
علل- الخليج العربي طقعة اتصال ومحطة تبادل حضاري وإنساني لمختلف الشعوب التي استوطنت أراضيه
علل- الخليج العربي أهم الطرق التجارية قديماً

- يقع وسط قارات العالم القديم (آسيا - أفريقيا - أوروبا)
- وجود مضيق هرمز الذي يربط خليج عمان والخليج العربي .
- توفر الموارد الطبيعية البرية والبحرية (التمر - اللؤلؤ)
- توافر وسائل نقل التجارة براً وبحراً للبلدان المحيطة
- وجود قوة بشرية لها دور في الحراك الاقتصادي مع المناطق المجاورة



تدرب و تفوق

اختبارات الكترونية ذكية



عرف - طريق الحرير أحد أهم الطرق التجارية الدولية في العالم القديم يبدأ من الصين

اختياري : طريق الحرير أحد أهم الطرق التجارية الدولية في العالم القديم يبدأ من دولة :

- الهند ○ الصين ○ إندونيسيا ○ عُمان

فرق بين مسارات طريق الحرير

طريق الحرير البري	طريق الحرير البحري
يبدأ من الصين حتى أوروبا	يبدأ من ميناء كانتون الصيني ويعبر بحر الصين ثم يلتف حول شبه القارة الهندية ثم يدخل البحار المحيطة بشبه الجزيرة العربية ويتفرع لفرعين

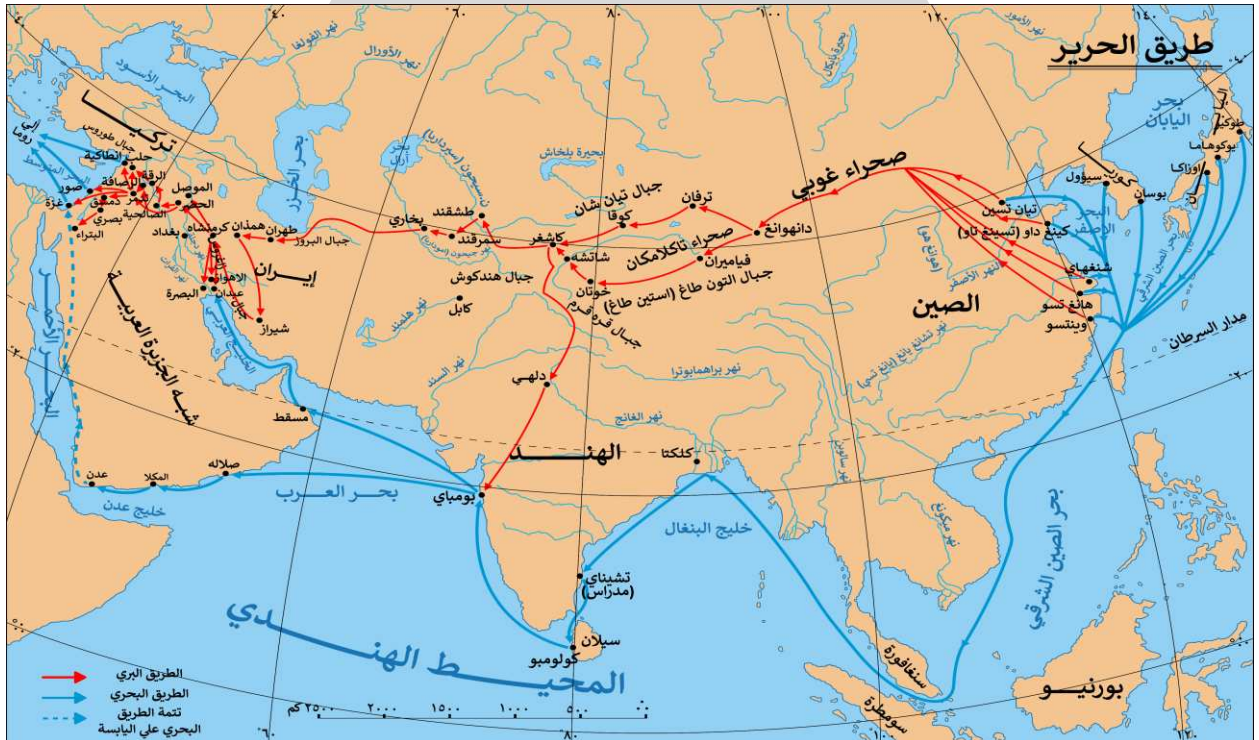
فرق بين كل من

الفرع الأول لطريق الحرير البحري	الفرع الثاني لطريق الحرير البحري
يتجه شمالاً إلى مياه الخليج العربي ليصل لبلاد فارس وبلاد بين النهرين	يتجه غرباً إلى اليمن والبحر الأحمر و منها للبحر المتوسط وشمال أفريقيا

اختياري : الميناء الذي يبدأ منه طريق الحرير البحري

- بومباي ○ شنغهاي ○ كانتون ○ مسقط

لاحظ الخريطة التي أمامك ثم نفذ المطلوب منك بكل دقة



- ← حدد مسار طريق الحرير البري بالرمز
← حدد مسار طريق الحرير البحري بالرمز

عدد أسماء المسطحات التي يمر بها طريق الحرير البحري

بحر الصين الشرقي - بحر الصين الجنوبي - خليج البنغال - المحيط الهندي - بحر العرب - الخليج العربي - خليج عدن - البحر الأحمر - البحر المتوسط

أكمل : الذراع الشرقي للمحيط الهندي في شبه الجزيرة العربية يسمى **الخليج العربي**



تدرب و تفوق

اختبارات الكترونية ذكية

معالم الكويت الاقتصادية والحضارية



الأنشطة الاقتصادية قديماً النشاط البحري

عدد - أنواع الأنشطة الاقتصادية في دولة الكويت قديماً



علل لما يلي :

اتجاه معظم السكان الكويتيين قديماً إلى العمل في النشاط البحري

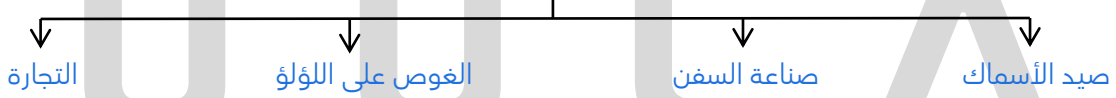
☆ يمكن أن يأتي السؤال بصيغة أخرى: علل - النشاط البحري هو النشاط السائد قديماً على الرغم من مشاركة النشاط البري

- قلة المياه العذبة
- مناخها القاسي
- أراضيها رملية
- أراضيها غير صالحة للزراعة

لعب المناخ دوراً مهماً في اتجاه معظم السكان الكويتيين قديماً إلى العمل في النشاط البحري

- وقوع دولة الكويت في منطقة صحراوية قليلة الموارد شحيحة الأمطار
- أرضها غير صالحة للزراعة

أكمل المخطط السهمي : أنواع الأنشطة الاقتصادية البحرية في الكويت قديماً



علل - انتعشت حرفة صيد الأسماك في دولة الكويت قديماً

- مصدر من مصادر الدخل قبل النفط
- السمك الغذاء الرئيسي للسكان
- مياه الخليج العربي كانت تعج بالأسماك
- الفائض من الأسماك كان يملح ويصدر
- تعدد وتنوع الأسماك شجع سكان الكويت على مزاوله الصيد

أهم أنواع الأسماك في دولة الكويت



❶ عدد أهم طرق صيد الأسماك قديماً في دولة الكويت

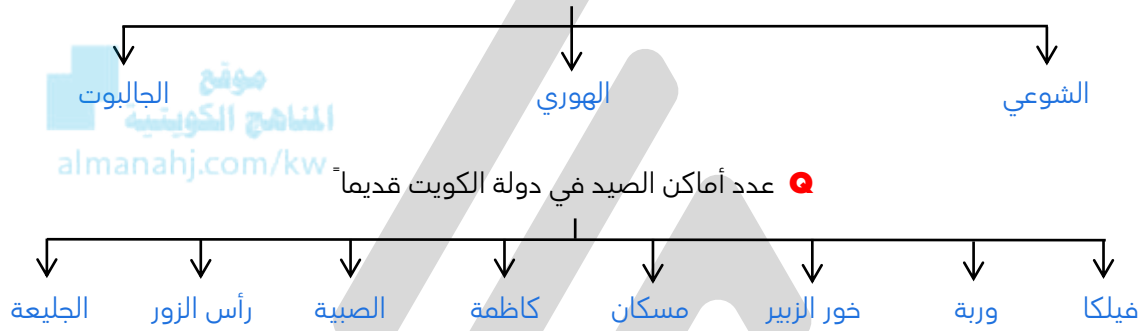


أكمل العبارات التالية :

☆ ممكن أن يأتي السؤال بصيغة أخرى: **عرف**

- ❶ طريقة من طرق صيد الأسماك قديماً في الكويت تصنع من القصب تسمى **الحظور**
- ❶ طريقة من طرق صيد الأسماك قديماً في الكويت بواسطة سنارة لوضع الطعم تسمى **الميدار**
- ❶ طريقة الصيد التي تتجمع فيها الأسماك حول سراج يحمله الصياد فيقوم بضربه بآلة حادة تسمى **القنبر أو الصيد بالإضاءة**

❶ عدد أنواع سفن الصيد في دولة الكويت قديماً



❶ عدد أماكن الصيد في دولة الكويت قديماً



❶ عدد العوامل التي ساعدت على ازدهار صناعة السفن

- هبوب الرياح الموسمية على منطقة الخليج العربي ساعد على دفع السفن
- توفر الأيدي العاملة لصناعة السفن
- تمتع الكويت بوجهة بحرية طويلة
- توفر مصادر الموارد المستخدمة في صناعة السفن
- براعة الاساتذة و القلائف

❶ علل - للموقع الجغرافي لدولة الكويت دور مهم في نشأة و تطور صناعة السفن

- هبوب الرياح الموسمية على منطقة الخليج العربي
- تمتع الكويت بواجهة بحرية طويلة

❶ فسر - تمتع الكويت بواجهة بحرية طويلة ساعد في تطور صناعة السفن

- وجود جون الكويت شمالاً
- انتشار الجزر في مياهاها
- وجود النقع والعمائر الساحلية

❶ فرق بين كل من

☆ ممكن أن يأتي السؤال بصيغة أخرى: **عرف**

العمائر الساحلية	الأستاذ	القلاف
مخازن المواد المستخدمة في صناعة السفن	يقوم بتصميم السفينة	يقوم بإعداد المواد اللازمة للصناعة ثم عملية بناء السفن

عدد أنواع السفن في دولة الكويت قديماً



" اعتزاز دولة الكويت بتراثها البحري " دلل على صحة العبارة

- اتخذت الكويت صورة سفينة البوم لتكون شعاراً للدولة
- شعار للعملة الوطنية
- تزيين المؤسسات بصور ومشاهد تعبر عن ارتباط الكويت وشعبها بتراثها البحري

اكتب مدلول الصور التالية :



العملة الوطنية



شعار الدولة



سفينة البوم



تدرب و تفوق

اختبارات الكترونية ذكية



علل - أهمية البحر قديماً بالنسبة للكويتيين الأوائل

- مصدر الخير والرزق
- لعب دوراً مهماً في تشكيل طبيعة وشكل المجتمع الكويتي

علل- لعب البحر دور مهم في تشكيل طبيعة وشكل المجتمع الكويتي لأنه وفر أنشطة معيشية مختلفة للسكان

علل- ارتباط حرفة الغوص على اللؤلؤ بحياة الكويتيين ارتباطاً وثيقاً منذ التأسيس

لأنها حرفة مارسها أهل الكويت منذ نشأة بلدهم وحتى أوائل الخمسينيات من القرن العشرين

أكمل العبارات التالية :

أشهر حرفة مارسها أهل الكويت منذ نشأة بلدهم وحتى أوائل الخمسينيات من القرن ٢٠ تسمى **الغوص على اللؤلؤ**

الدشة

بداية موسم الغوص يسمى

مايو

بداية موسم الغوص في دولة الكويت قديماً في شهر

القفال

نهاية موسم الغوص تسمى

أكتوبر

انتهاء موسم الغوص في دولة الكويت قديماً في سبتمبر أو شهر

الهيرات

الأماكن التي تكثر فيها منابت المحار المحتوي على اللؤلؤ تسمى

قماشة

من أهم مسميات اللؤلؤ في دولة الكويت قديماً دانة و

الحرفة الموسمية التي ضمت أغلب رجال الكويت وشبابها تسمى

حرفة الغوص على اللؤلؤ



✎ اكتب عن دور البقارة في حرفة الغوص على اللؤلؤ

- دخول مئات من السفن الشراعية إلى الأماكن التي تكثر فيها الهيرت
- يقوم البقارة بالغطس لجمع المحار من قاع الخليج العربي
- البحث عن حبات اللؤلؤ بأحجامه المختلفة
- بيع اللؤلؤ لتجار الكويت وخارجها

✎ عدد أشهر السفن المستخدمة في الغوص على اللؤلؤ

- يوم الغوص
- الجالوت
- البقارة
- السنوك
- الشوعي
- البتيل

علل لما يلي :

✎ كساد تجارة الغوص على اللؤلؤ في الكويت بسبب ظهور اللؤلؤ الصناعي بعد عام ١٩٢٨ م

✎ إصدار الشيخ أحمد الجابر الصباح قانون الغواصين عام ١٩٤٠ م

- لأهمية حرفة الغوص بالنسبة للكويتيين
- لتنظيم علاقة العمل بين النوخة والبقارة



✎ دلل على اهتمام الشيخ أحمد الجابر الصباح بحرفة الغوص على اللؤلؤ

إصدار قانون الغواصين عام ١٩٤٠ م لينظم علاقة العمل بين النوخة والبقارة

✎ عرف - قانون الغواصين قانون صدر عام 1940م لينظم علاقة العمل بين النوخة والبقارة

✎ عدد أهم المهن التي اشتهر بها العاملون على سفن الغوص



✎ عرف - النوخة قائد السفينة وربانها والمسئول عن طاقمها وتحديد أماكن الغوص

✎ عدد الصفات التي يجب أن تتوافر في النوخة

- القدرة على معرفة المسالك والطرق
- الإلمام بالاتجاهات البحرية
- اتخاذ جميع القرارات

عرف المفاهيم التالية :

✎ المجدي لقب كان يطلق على رئيس البقارة والمسئول عن إدارة السفينة

✎ الغيص الشخص الذي يغوص في قاع البحر بحثاً عن المحار

✎ السيب الشخص المنوط به سحب الغيص للسطح عند شد الأخير الجبل (الأيد) و مساعدة الغيص في فتح المحار

✎ النهام الشخص الذي ينشد المواويل تشجيعاً لطاقم السفينة في رحلتهم

✎ الرضيف صغار السن الذين يقومون ببعض الأعمال الأقل من السيب

✎ الطواش هو تاجر اللؤلؤ



اختياري : صاحب الحق في إعطاء إذن للبحارة بمغادرة السفينة هو :

- المجدمي ○ النهام ○ النوخذة ○ الطواش

العاملون في حرفة الغوص

- النوخذة الجعدي المجدمي الغيص السيب النهام الرضيف الطواش العزال التياب

دلل على صحة العبارة " حرفة الغوص لها تأثير على أهل الكويت "

- تقوية العلاقات بين السكان وتأسيس قيم الصدق
- الاحترام المتبادل وتكوين الأسرة الواحدة
- التعاون والتعاقد بالمجتمع
- الالتزام والطاعة والصبر

تدرب و تفوق

اختبارات الكترونية ذكية



موقع
المناهج الكويتية
almanahj.com/kw

أكمل : الركن الأساسي للاقتصاد الكويتي قديماً يسمى **التجارة**

علل لما يلي

أخذ الكويتيون بأسباب التجارة **لأنهم اعتبروها ضرورية لتعويضهم عن عجز طبيعة الكويت الصحراوية**

الكويت من المراكز المهمة في التجارة الدولية

- موقعها الجغرافي منحها بعداً استراتيجياً
- طاقة وصل تربط بين الشرق والغرب
- صناعة السفن والغوص على اللؤلؤ
- قلة الرسوم الجمركية
- نقطة ترانزيت لإعادة تصدير الواردات

جذب الكويت المزيد من التجارة والتجار لموانئها **بسبب قلة الرسوم الجمركية**

إقرار الرسوم الجمركية في الكويت **تبعاً لحالة البلاد المالية**

عرف - الترانزيت **إعادة تصدير الواردات**

أكمل العبارات التالية :

☆ ممكن أن يأتي السؤال بصيغ أخرى: **اختياري - عرف**

العام الميلادي الذي تأسست فيه دولة الكويت **1613 م**

بداية موسم السفر يسمى **الذشة**

بداية الذشة (موسم السفر) تكون في شهر **أغسطس (الثامن)**

نهاية موسم السفر يسمى **الإغلاق**

نهاية موسم السفر (الإغلاق) في شهر **مايو (الخامس)**

ينتهي موسم السفر مع هبوب رياح تعرف محلياً باسم **السرايات**

موسم السفر كان يبدأ بتوجه السفن إلى **البصرة**

علل - إغلاق موسم السفر في شهر مايو

بسبب هبوب الرياح الموسمية المسببة لهيجان المحيط الهندي وبرد العرب وعلو أمواجه

" جال الأسطول الكويتي التجاري مياه الخليج العربي والمحيط الهندي والبحر الأحمر " دال على صحة العبارة

- الهند وصل إلى (كراتشي - النيبار - الملبار - بومباي)
- الساحل اليمني وصل إلى (سيحوت - حضرموت - المكلا - عدن - البحر الأحمر)
- شرق أفريقيا وصل إلى (لامو - ممباسا - زنجبار)

فند - لم يتخذ حكام الكويت قديماً أي قرارات تساعد على النمو التجاري والاقتصادي

☆ ممكن أن يأتي السؤال بصيغ أخرى: عدد - الإجراءات التي اتخذتها السلطات الكويتية للاهتمام بالتجارة

- عدم رفع الضرائب والمكوس
- تقديم الكثير من التسهيلات
- توفير الرعاية والأمن
- الاهتمام بالتجارة البرية والنقل البري

عدد- النتائج المترتبة على الإجراءات التي اتخذتها السلطات الكويتية للاهتمام بالتجارة



- أصبحت الكويت بديلاً عن ميناء البصرة والقطيف الأعلى ضريبة
- جذب السفن
- جذب الوكالات التجارية للشركات الأوروبية

علل لما يلي :

- عمدت السلطة في الكويت قديماً على عدم رفع الضرائب والمكوس
- لاجتذاب التجار
- تشجيع السفن للرسو في ميناء الكويت

اهتمام السلطة الكويتية بالتجارة البرية والنقل البري

- لجعل التكامل التجاري بين النشاطين البحري والبري أكثر نشاطاً
- نقل التجار بضائعهم بصورة سريعة

شكلت التجارة البرية عنصراً مكملاً للنشاط التجاري البحري

- القوافل البرية كانت تنقل ما تأتي به السفن من بضائع إلى بغداد وحلب
- البضائع بعد ذلك تأخذ طريقها إلى أوروبا والمنافذ التجارية الأخرى

عدد أهم الواردات المحملة على السفن الكويتية

- الأسلحة
- الذخيرة
- الأرز
- الأقمشة
- الشعير
- القمح
- الرطب
- التبغ



تدرب و تفوق

اختبارات الكترونية ذكية

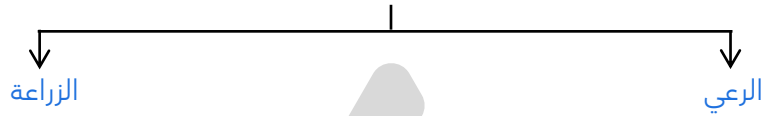


الأنشطة الاقتصادية قديماً النشاط البري

علل- التكامل بين النشاطين البري والبحري يمثل وجهاً لهذا المجتمع البسيط

- استطاع الطرفان الاستحواذ والعيش في المدن الكويتية والقرى
- المدن الكويتية والقرى صارت تضمهما معاً كنسيج واحد
- أهم ما يميز الكويت منذ تأسيسها عن غيرها من المناطق المجاورة

عدد- أنواع النشاط البري



أكمل العبارات التالية :

- الحرفة الأساسية لسكان البادية في دولة الكويت هي **الرعي**
- ترتبط حرفة الرعي في دولة الكويت بشكل أساسي بموسم **هطول الأمطار**
- تعتمد حرفة الرعي في دولة الكويت على نباتات موسمية مثل **جويدان** و **الربلة**
- تعتمد حرفة الرعي على نباتات معمرة مثل **الحمض** و **الثندا**
- صنف النباتات التالية حسب الجدول التالي
الحمض - جويدان - الثندا - الربلة

نباتات معمرة	نباتات موسمية
الحمض	جويدان
الثندا	الربلة

علل- تراجع حرفة الرعي في دولة الكويت في وقتنا الحالي **بسبب اكتشاف النفط**

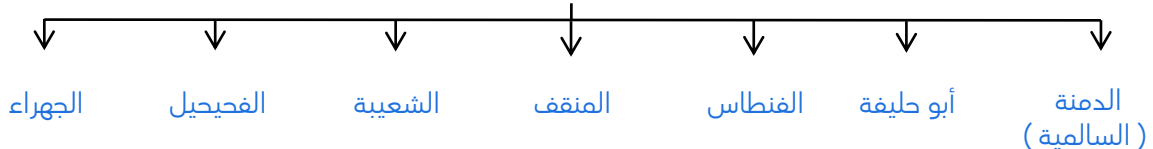
- عدد - الصعوبات التي تواجه الزراعة في دولة الكويت قديماً
- بلد صحراوي يعاني من شح المياه
- ارتفاع درجة الحرارة أغلب أيام السنة
- عدم خصوبة التربة

برهن - نجاح الكويتيين في التكيف مع البيئة قديماً وامتهان الزراعة

ممكن أن يأتي السؤال بصيغة أخرى: عدد الوسائل التي استخدمها الكويتيون لاعتداف مهنة الزراعة قديماً

- زراعة النباتات التي تتلاءم مع البيئة
- استغلوا مياه الأمطار القليلة
- استخدموا مياه الآبار السطحية
- قاموا بزراعة بعض الخضراوات مثل الطماطم

عدد أهم المناطق الزراعية في الكويت قديماً





موقع
المنهاج الكويتية
almanahj.com/kw

عدد - أهم المحاصيل التي تزرع في الكويت قديماً

- الخضراوات بجميع أنواعها
- الحبوب (القمح - الشعير)
- الأعلاف كالبرسيم (الجت)
- أشجار الأثل والسدر

أكمل : أشجار استخدمها الكويتيون قديماً كمصدات للرياح تسمى **أشجار الأثل**

عدد النباتات البرية المهمة التي تنمو في الكويت



تدرب و تفوق

اختبارات الكترونية ذكية

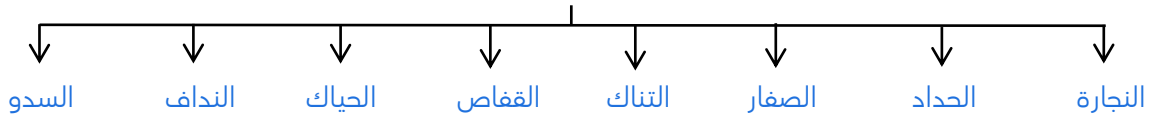


الأنشطة الاقتصادية قديماً الحرف اليدوية

علل - أهمية الحرف اليدوية في الكويت قديماً

- جزء من تراثنا القديم
- تلبية احتياجات الكويت الداخلية

عدد المهن الحرفية القديمة في الكويت



قارن بين كل من

أهم الأعمال	التعريف	الحرفة
الأبواب - النوافذ - التخوت - كرسي البرمة - ألعاب الأطفال مثل النبّاطة والدوامة الشداخة : تستخدم لصيد الفئران	حرفة يدوية لها دور في توفير مستلزمات البناء و المستلزمات المنزلية قديماً	النجار
المنقاش - الصخين - الجدوم - الهيّب - المنقاش - السكاكين - السلاسل - الدوّة	يقوم بصناعة المسامير اللازمة لصناعة السفن وأدوات البناء و الزراعة	الحداد
تلميع وتنظيف وطلاء القدور مرة أخرى من الداخل حتى تعود كالجديدة	يقوم بصنع وتلميع القدور المستخدمة في الطبخ المصنوعة من النحاس	الصفار
التنك - قوطي الجاز (الكروسين) العلب وأعطيتها - السطول - الطشوت	يقوم باستخدام الصفيح المعدنية لصنع المحقان و الدوة	التناك
الأقفاص - المنز - الأُسرة للكبار - الرك	يقوم باستخدام جريد النخل و يصنع بها أشكال مختلفة من الأقفاص	القفاص
<ul style="list-style-type: none"> حياكة العدول مفردها (العدل) المزاد ومفردها (المزودة من الزاد) المنسوجات الصوفية كالمفروشات والسجاد والعباءات النسائية و البشوت الرجالية 	حرفة تزاولها المرأة في البادية لحياكة الصوف	السدو

فرق بين كل من

النداف	الحياك
يقوم بتنجيد وصناعة المساند والفرش مستخدماً القطن	يقوم بخياطة الملابس كالبشوت

عرف المفاهيم التالية :

المفهوم	التعريف
الصخين	أداة تستخدم للفر
المنز	هو السرير الذي ينام فيه الطفل قديماً
الرك	صندوق به فتحة من أعلى لوضع بعض المأكولات
العدول (العدل)	عبارة عن ما يوضع على ظهر الدابة وتوضع فيه حاجات الراكب
المزاود	عبارة عن أكياس متوسطة لحفظ الطعام والملابس

اكتب مدلول الصور



حرف يدوية عمل بها الكويتيون قديماً

صنف الكلمات التالية حسب الجدول

الأبواب - السكاكين - التنك - الرك - العدول - خياطة الملابس

الحداد	النجار	القفاص	التناك	الحيك	السدو
السكاكين	الأبواب	الرك	التنك	خياطة الملابس	العدول



تدرب و تفوق

اختبارات الكترونية ذكية



المعالم الحضارية لدولة الكويت

❏ علل - لعبت دولة الكويت دوراً مهماً في التواصل الحضاري ما بين حضارات شمال الخليج وجنوبه
نتيجة لموقع دولة الكويت المميز على الخليج العربي

❏ دلل - تشير الدراسات الأثرية رصد آثار الإنسان القديم في مناطق مختلفة من أرض الكويت

- رصدت آثاره في جنوب الكويت (تل وارة والقرين - منطقة البرقان)
- تل الصليبيخات المماضي لساحل جون الكويت الجنوبي
- شمال الكويت (كاظمة والصبية) وجزيرة فيلكا

لاحظ خريطة دولة الكويت ثم نفذ المطلوب منك بكل دقة



❏ ظلل جزيرة فيلكا

❏ حدد المواقع التاريخية (منطقة تل وارة - سهل برقان - الصبية - كاظمة)

❏ عدد - أهم مراحل التطور الحضاري لدولة الكويت قديماً

- حضارة العبيد (منطقة الصبية)
- الحضارة الإغريقية (جزيرة أم النمل - جزيرة فيلكا)
- حضارة دلمون القديمة (جزيرة فيلكا)
- الحضارة الإسلامية (منطقة كاظمة - أم العيش - منطقة الشقاييا وادي الباطن)

❏ " لمنطقة الصبية قيمة وأهمية أثرية كبيرة " دلل على صحة العبارة

★ ممكن أن يأتي السؤال بصيغة أخرى: عدد أهم آثار حضارة العبيد الموجودة في منطقة الصبية



- تحتضن مئات المواقع الأثرية التي برهنت على وجود حضارة العبيد
- العثور على أقدم القرى السكنية في بحرة و طيبح شمال الصبية
- العثور على آبار المياه القديمة
- العثور على جرار فخارية
- العثور على الرعي الحجرية التي تستخدم في طحن الغلال
- العثور على أدوات للغزل وحياسة القماش ومساكن بيضاوية الشكل
- المدافن الركامية ذات الأشكال المختلفة الدائرية والمستطيلة

أكمل العبارات التالية :

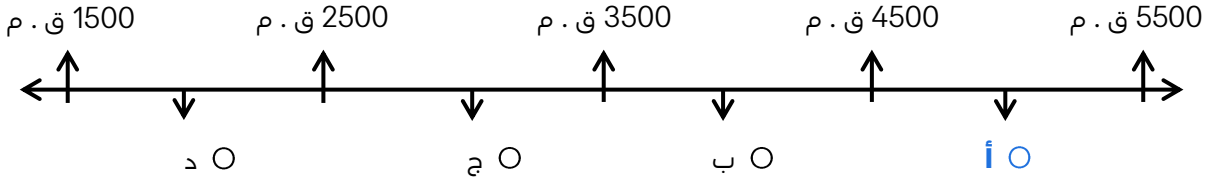
❏ يرجع تاريخ أقدم الحفريات الجيولوجية في منطقة الصبية إلى الفترة ما بين **15 و 20** مليون سنة

❏ الحضارة التي برهنت على استقلال منطقة الصبية عن حضارة بلاد الرافدين تسمى **العبيد**

❏ الصورة المقابلة تمثل أقدم قارب في منطقة الخليج العربي يسمى **قارب فخاري الصبية**



اختياري : حضارة العبيد على المخطط السهمي يمثلها الحرف



تدرب و تفوق

اختبارات الكترونية ذكية



عدد - أهم الاكتشافات في جزيرة أم النمل

- قبر على ساحل الجزيرة
- تمثال من الطين المحروق
- مذبح من الحجر الرملي مربع الشكل

اختر الإجابة الصحيحة :

وقعت أرض الكويت في فلك الحضارة الإغريقية في النصف الثاني من :
الألف الأول ق.م. الألف الثالث ق.م. الألف الثاني ق.م. الألف الرابع ق.م.

موقع
المنهج الكويتية
almanahj.com/kw

تمثال الطين المحروق في جزيرة أم النمل ينتمي للحضارة :

- العبيد
- دلمون
- الإغريقية
- بلاد الرافدين

الدلائل التي كشفت عن الحضارة الإغريقية في الكويت في جزيرتي :

- عوهه و وربة
- بوبيان و مسكان
- أم النمل و فيلكا
- أم المرادم و فيلكا

" لا توجد دلائل على الوجود الإغريقي في جزيرة فيلكا " فند العبارة



- عدد من المستوطنات كالقلعة الهلنستية
- تل الخزنة الذي كان مكاناً مقدساً عند الإغريق
- العملات النحاسية
- الكتابات على الصخور كحجر إيكاروس

أكمل العبارات التالية :

استمر الوجود الإغريقي على جزر جون الكويت حتى بداية القرن الأول ق.م.

بدأت أعمال التنقيب الأثري في جزيرة فيلكا عام 1958 م



تدرب و تفوق

اختبارات الكترونية ذكية



أكمل العبارات التالية :

أقدم آثار جزيرة فيلكا ترجع لحضارة تسمى دلمون

لعبت جزيرة فيلكا دوراً رئيسياً في منطقة الخليج خلال الألفين الثالث و الثاني ق.م.

جزيرة فيلكا مركزاً من مراكز حضارة تسمى دلمون

دلمون

- ❑ الحضارة التي لعبت دور الوسيط التجاري بين حضارات الهند وبلاد الرافدين تسمى _____
- ❑ علل- لعبت جزيرة فيلكا دوراً رئيسياً في منطقة الخليج العربي خلال الألفين الثالث والثاني قبل الميلاد

☆ يمكن أن يأتي السؤال بصيغة أخرى:
علل- الكويت همزة وصل بين حضارة بلاد الرافدين شمالاً وحضارة بلاد السند جنوباً

- مركزاً من مراكز حضارة دلمون القديمة
 - حضارة دلمون كانت تؤدي دور الوسيط التجاري بين حضارات الهند وحضارة بلاد الرافدين
- ❑ عدد أبرز آثار حضارة دلمون في جزيرة فيلكا
- مجموعة من الأختام المستديرة
 - معابد تنتشر حولها الوحدات السكنية
 - 400 ختم دلموني

❑ عدد استخدامات الختم الدلموني

- تستخدم كتعويذة
- ختم تجاري
- هوية لحاملها

❑ علل - تنوع الأهمية الأثرية في جزيرة فيلكا

- اكتشاف تل الخزنة الذي كان مكاناً مقدساً عند الإغريق
- اكتشاف 400 ختم دلموني

almanahj.com/kw



تدرب و تفوق

اختبارات الكترونية ذكية



❑ " صبغت الكويت بصبغة إسلامية منذ ظهور الإسلام " دلل على صحة العبارة

- وقعت معركة ذات السلاسل في منطقة كاظمة
- العثور على مسكوكات إسلامية أهمها عملة أموية
- مبان ترجع للفترة الإسلامية في منطقة أم العيش
- مستوطنات متتالية في منطقة الشقاييا و وادي الباطن

❑ أكمل الجدول التالي :

معركة ذات السلاسل	
12 هجرية	العام الهجري
كاظمة في الكويت	مكان المعركة
بين المسلمين والفرس	الأطراف
دخول الإسلام بلاد الرافدين وفارس والهند و وسط آسيا	النتيجة

أكمل العبارات التالية :

- ❑ العام الهجري الذي وقعت فيه معركة ذات السلاسل بين الفرس والمسلمين _____ 12
- ❑ العام الهجري المؤرخ على العملات الأموية المكتشفة في الكويت _____ 123
- ❑ منطقة الشقاييا ووادي الباطن تقع على طريق قديماً يسمى _____ الحج البصري (طريق الحج)

اكتب مدلول الصور التالية



مدفن مستطيل (الصبية)



معبد بحري
(جزيرة فيلكا)



خرز من الأصداف البحرية
(مدافن الصبية)



مدفن له جدار دائري في الصبية



طبعة ختم



أختام دائرية وأسطوانية

فرق بين أهم الآثار في المناطق التالية

الصبية	أم النمل	فيلكا	كاظمة	أم العيش	الشقايا ووادي الباطن
جرار فخارية	تمثال من الطين المحروق	عملات نحاسية	عملة أموية	ميان إسلامية	مستوطنات

اختياري :

مراحل التطور الحضاري لدولة الكويت من الأقدم إلى الأحدث

○ الإغريقية - العبيد - الدلمونية - الإسلامية

○ العبيد - الدلمونية - الإغريقية - الإسلامية

○ الدلمونية - العبيد - الإسلامية - الإغريقية

أكمل العبارات التالية

العام الميلادي الذي تم فيه آخر اكتشاف أثري في دولة الكويت

2016م

المنطقة التي تم فيها آخر اكتشاف أثري في دولة الكويت تسمى

منطقة بحرة الأثرية



تدرب و تفوق

اختبارات الكترونية ذكية

نشأة الكويت 1613م

أكمل العبارات التالية :

- ❶ جاءت تسمية الكويت من تصغير كلمة تسمى كوت
- ❷ القلعة أو الحصن الصغير يسمى كوت
- ❸ أطلق مؤرخو الجزيرة العربية على الحصون المتعددة ذات القلاع والأسوار اسم أكوات
- ❹ بعد اختيار الحاكم من آل صباح بدأت الكويت مسماها الجديد انتهاء الكوت إلى العتوب
- ❺ المرتفع أو التل الصغير يسمى القرن
- ❻ اسم كان يطلق قديماً في الكويت على مرتفع بهيئة القريب من قصر السيف يسمى القرين
- ❼ المرتفع الذي نشأت حوله وفوقه مدينة الكويت ويقع بالقرب من قصر السيف يسمى بهيئة

❶ عرف المفاهيم التالية

المفهوم	التعريف
الكوت	القلعة أو الحصن الصغير
القرن	المرتفع أو التل الصغير
القرين	هو اسم شائع في الجزيرة العربية يدل على المرتفع أو التل الصغير وربما كان القرين اسماً يطلق على مرتفع بهيئة القريب من قصر السيف والذي نشأت حوله وفوقه مدينة الكويت
مرتفع بهيئة	المرتفع الذي نشأت حوله وفوقه مدينة الكويت ويقع بالقرب من قصر السيف

❶ عدد الأسماء التي أطلقت على الكويت قديماً ▪ الكوت ▪ القرين

علل لما يلي :

- ❶ تسمية الكويت بهذا الاسم تصغيراً لكلمة كوت والتي تعني القلعة أو الحصن
- ❷ بناء القلاع قديماً في الكويت لحماية مدينة الكويت من الأخطار والأطماع الخارجية

تدرب و تفوق

اختبارات الكترونية ذكية

❶ أكمل : العام الميلادي الذي نشأت فيه الكويت هو 1613 م

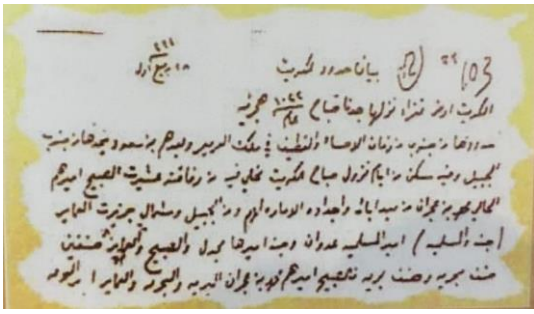
❶ دلل " نشأة الكويت في عام 1613 م "

استناداً لرسالة الشيخ مبارك الصباح حاكم الكويت السابع للمقيم السياسي البريطاني

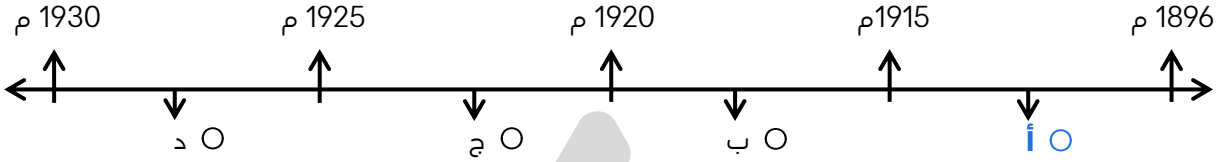


اكتب مدلول الصورة المقابلة

رسالة الشيخ مبارك : بيان حدود الكويت



اختياري : الفترة الزمنية التي تمثل فترة حكم الشيخ مبارك الصباح



أكمل العبارات التالية :

مجموعة أسر ذات ارتباط قبلي متماثل نزحوا من منطقة الهدار ليستقروا بالقرب من منطقة حصن الكوت عرفوا باسم

العتوب

المناهج الكويتية

almanahj.com/kw

الهدار

المنطقة التي خرجت منها العتوب في شبه الجزيرة العربية تسمى

بني خالد

القبيلة التي دخلوا في حمايتها العتوب تسمى

بني خالد

قبل انتهاء الكوت إلى العتوب كان تحت سيطرة قبيلة تسمى



عدد النتائج المترتبة على وقوع الكوت تحت حماية قبيلة بني خالد

- فرض سيطرتها على المنطقة
- أثرت على طبيعة وسمات وصفات وخصائص المجتمع الجديد
- أشاع مناخاً عاماً من الاستقرار

عدد سمات وخصائص المجتمع الجديد في منطقة الكوت

- تأسس بطرق سلمية بعيدة عن العنف السائد في المنطقة المحيطة
- البحر مصدر للرزق ومحور للعملية الإنتاجية
- مجتمع يقوم على دعائم اقتصادية مختلفة عن داخل شبه الجزيرة

عدد خطوات تنظيم المهاجرون لشؤون مجتمعهم الجديد (الكوت)

- قاموا طوعاً باختيار حاكماً للمجتمع الجديد
- اختيار صباح الأول حاكماً عليهم
- الحاكم يتحمل أعباء الحكم
- يقوموا هم بالإنتاج
- تمويل السلطة الحاكمة من حصيلة الإنتاج

علل - اختيار صباح الأول حاكماً للمجتمع الجديد لأنهم توسموا فيه الخير والصلاح

عرف المفاهيم التالية

العتوب مجموعة من العشائر أو الأسر التي تنتمي إلى عدة قبائل أبرزها قبيلة عنزة

قبيلة عنزة هي القبيلة العربية الكبرى التي كانت تستوطن منطقة نجد بشبه الجزيرة العربية

أكمل - أبرز القبائل التي تنتمي لها عشائر العتوب تسمى **عنزة**

عدد أسباب هجرة العتوب ■ القحط ■ الصراعات القبلية



أكمل العبارات التالية :

أول حاكم في تاريخ الكويت يسمى **صباح الأول**

المنطقة التي كان تسوطنها العتوب بشبه الجزيرة العربية تسمى **نجد**

مساكن العتوب في نجد تسمى **الأفلاج الهدار**

عدد - أشهر الأسر التي تنتمي للعتوب ■ آل صباح ■ آل خليفة ■ الجلاهمة

فسر- تسمية العتوب بهذا الاسم العتوب اسم يدل على الترحال وليس نسبياً



تدرب و تفوق

اختبارات الكترونية ذكية



أكمل : الدولة التي شكلت محطة الاستقرار الأولى بالنسبة للعتوب هي **قطر**

علل - شكلت قطر محطة الاستقرار الأولى بالنسبة للعتوب

- بسبب القحط الذي أصاب مناطقهم الأصلية
- الصراعات القبلية

أكمل العبارات التالية :

المنطقة التي استقر فيها العتوب في قطر بالقرب من الزبارة تسمى **الفريحة**

استقر العتوب في منطقة الفريحة بقطر لمدة **50 سنة**

" قبائل العتوب تعلموا أنشطة جديدة في منطقة الفريحة " (عددها)

- ركوب البحر
- الأنشطة المتعلقة به

علل - هجرة العتوب من قطر بسبب حدوث خلاف بين العتوب وآل مسلم حكام قطر آنذاك



لاحظ الخريطة التي أمامك ثم أجب عما يليها من أسئلة

ارسم أسهم على الخريطة المقابلة توضح (خط سير هجرة العتوب) من موطنهم الأصلي (الهدار) إلى محطة الاستقرار الأولى (قطر)



من خلال الخريطة التي أمامك : أذكر خط سير هجرة العتوب إلى الكويت

- من الهدار إلى قطر
- في قطر استقروا بالفريجة لمدة 50 سنة وتعلموا ركوب البحر
- حدث خلاف بين العتوب وآل مسلم حكام قطر و اتجهوا إلى جنوب البصرة ثم الصبية
- استقروا في منطقة الكوت أو القرين (الكويت) حالياً

عدد النتائج المترتبة - على حدوث الخلاف بين العتوب وآل مسلم حكام قطر

- هجرة العتوب
- اتجهوا إلى جنوب البصرة ثم إلى الصبية وأخيراً استقروا في منطقة الكوت أو القرين (الكويت حالياً)



تدرب و تفوق

اختبارات الكترونية ذكية



نشأة الكويت

اختيار آل صباح لحكم الكويت

دلل على صحة العبارة

" الكويت لم يحكمها أجني عن القوم الذين أسسوها ولم ينفرد بالأمم والنهي فيها أحد سواهم "

- الحكام الذين تولوا السلطة فيها من آل صباح
- لم يعرف قبلهم حاكم محدد حكم الكويت وإدارة شؤونها

عدد - الخصائص السياسية للكويت ومظاهر السيادة في البدايات الأولى بعد التأسيس

- الكويت لم يحكمها أجني عن القوم الذين أسسوها
- لم ينفرد بالأمم والنهي فيها أحد سواهم

اقرأ ثم أجب عما يلي :

دخلت ثلاث أسر عربية ذات شأن هي آل صباح وآل جلاهمة وآل خليفة تحدهم عوامل المصلحة والطموح في التحالف واستقرت على بقعة من الأرض على الساحل الشمالي الغربي من الخليج تسمى الكويت.

من القائل أحد موظفي شركة الهند الشرقية البريطانية (فرنسيس و اردن)

عدد أسباب اختيار الشيخ صباح الأول للحكم

☆ يمكن أن يأتي السؤال بصيغة أخرى: علل اختيار الشيخ صباح الأول للحكم

- سماته الشخصية من شجاعة و حكمة
- كانت الزعامة لوالده على قومه منذ أن كانوا بنجد
- طوال أيام العام مقيماً بالكويت وعمله في البر خلافاً للبقية كانوا يعملون في البحر

علل- اختيار الكويتيين هذه المنطقة رغم البيئة الصراوية الطاردة

- رغبة منهم في العيش الحر المستقل
- عدم التبعية لأحد

عدد - صفات المجتمع الكويتي الوليد في عهد الشيخ صباح الأول

- مجتمع حضري آمن
- مجتمع يتصف بالاقتصاد المنظم
- استقطب الكثير من سكان المناطق المجاورة

أكمل العبارات التالية :

حاكم الكويت الذي أصبحت في عهده الكويت مركز جذب سكاني يسمى صباح الأول

حاكم الكويت الذي بدأت في عهده تتحدد بقرية الترابيب التنظيمية للمجتمع الكويتي الجديد يسمى صباح الأول

almanahj.com/kw

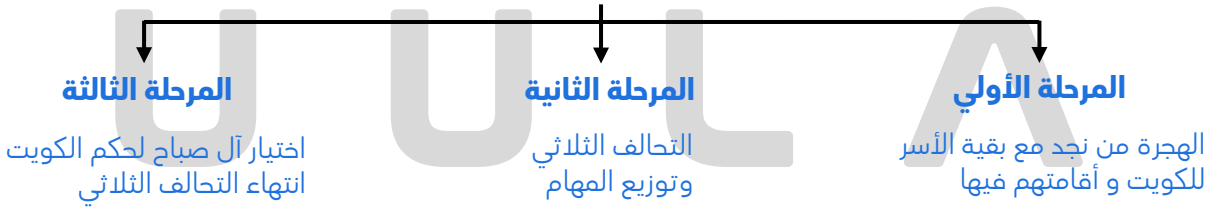
علل- خروج الهجرات الفردية من الصعراء المحيطة (البادية) إلى الكويت

بسبب حالة عدم الاستقرار التي تحدث في الصعراء

أكمل المخطط السهمي تقسيم المهام بين الأسر الثلاث الكبيرة



عدد مراحل تأسيس الحكم لآل صباح



اختياري : المرحلة التي شهدت اختيار آل الصباح لحكم الكويت وانتهاء التحالف الثلاثي

- المرحلة الأولى ○
- المرحلة الثانية ○
- المرحلة الثالثة ○

أكمل : قبيلة امتدت نفوذها من قطر جنوباً حتى حدود البصرة شمالاً بمحاذاة ساحل الخليج العربي تسمى بني خالد

عدد - النتائج المترتبة على ارتباط الكويت بنفوذ بني خالد

- استطاعت الكويت أن تتمتع بالأمن والرخاء
- استطاعت في ظل هذه الحماية أن تنجو من كثير من التهديدات والأخطار لمختلف القوى الإقليمية

عدد - التهديدات والأخطار المحيطة بالإمارة الوليدة (الكويت)

الصراع بين العثمانيين وبنو خالد

الصراع بين السعوديين وبنو خالد

دال على صحة العبارة - " التهديدات والأخطار المحيطة بالإمارة الوليدة (الكويت) كانت لها أثر إيجابي "

ممكن أن يأتي السؤال بصيغة أخرى:

الصراع بين العثمانيين وبنو خالد من جهة والسعوديين وبنو خالد من جهة أخرى له أثر إيجابي على الإمارة الوليدة

الصراعات شغلت هذه القوى عن الإمارة الوليدة (الكويت)

جعلتها تنمو وتزدهر في جو أكثر استقراراً وهدوءاً



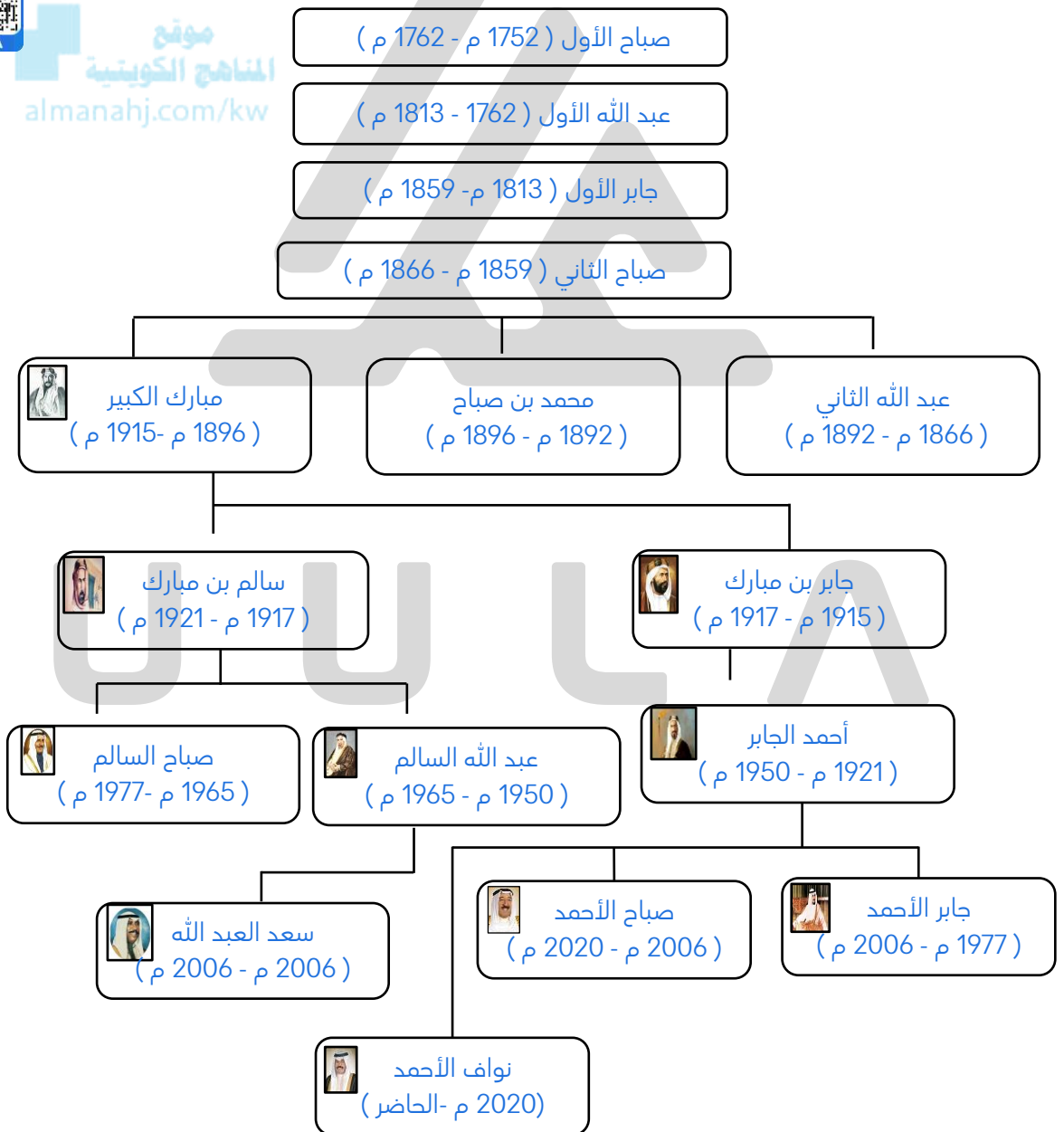
تدرب و تفوق

اختبارات الكترونية ذكية



حكام دولة الكويت

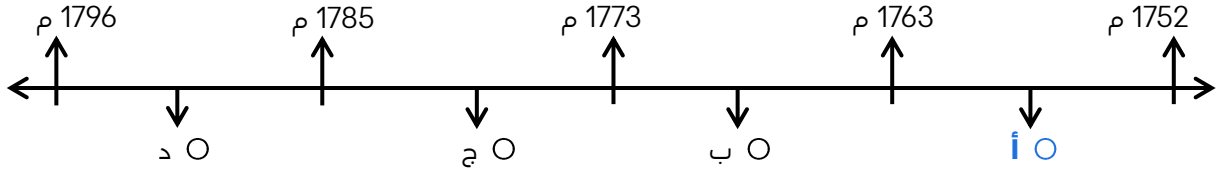
موقع
المناهج الكويتية
almanahj.com/kw



الحاكم الأول : الشيخ صباح الأول بن جابر (1752 م - 1763 م)

أكمل : الحاكم الأول للكويت يسمى الشيخ _____ صباح الأول بن جابر

اختياري : الحرف الذي يمثل فترة حكم الشيخ صباح الأول على المخطط الزمني التالي :



علل - يعد اختيار صباح الأول البداية الحقيقية لظهور الكويت كياناً سياسياً منظماً

ممكن أن يأتي السؤال بصيغ أخرى: ★

عدد أهم الأحداث التي وقعت في عهد الشيخ صباح الأول
عدد الأسباب التي جذبت المهاجرين إلى الكويت في عهد الشيخ صباح الأول



بدأت تجذب الكثير من المهاجرين
نظام حكم قائم على الشورى والعدل

العمل على توطيد الأمن ونشر العدل
تنظيم أمور السكان والبلدة الوليدة
ساهم في ترسيخ أنشطة الكويت التجارية



تدرب و تفوق

اختبارات الكترونية ذكية

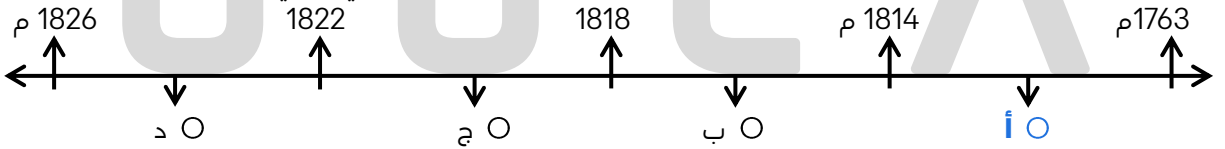


نشأة الكويت

الحاكم الثاني الشيخ عبدالله الأول بن صباح بن جابر (1763 م - 1814 م)

أكمل : الحاكم الثاني للكويت يسمى الشيخ _____ عبد الله الأول بن صباح

اختياري : الحرف الذي يمثل فترة حكم الشيخ عبد الله الأول على المخطط الزمني التالي



عدد - صفات الشيخ عبد الله الأول بن صباح

ذو سيرة حسنة ▪ نباهة وحزم ▪ قريب من الحق ▪ محب للعدالة

عدد - المناطق التي وصلت إليها تجارة الكويت في عهد الشيخ عبد الله الأول

الهند ▪ اليمن ▪ شرق أفريقيا ▪ العراق

عدد - أهم الأحداث التي وقعت زمن الشيخ عبد الله الأول

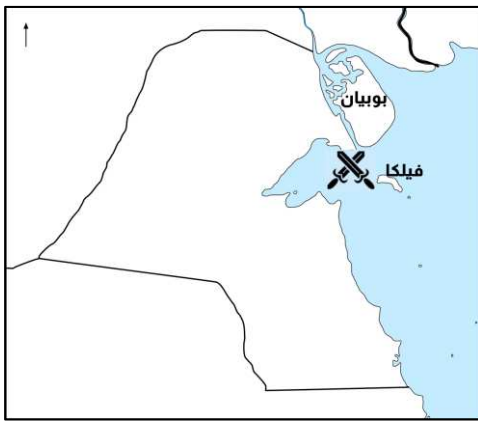
معركة الرقة ▪ بناء سور الكويت الأول عام 1797 م

أكمل العبارات التالية :

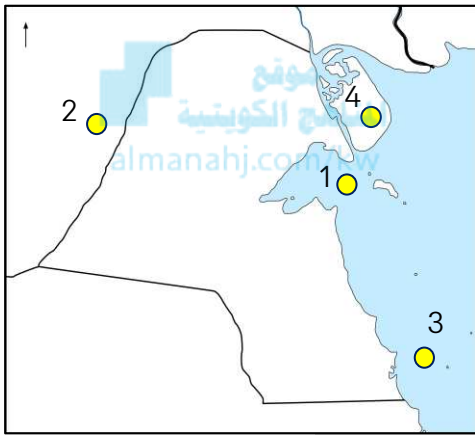
- ١٧٨٣ م العام الميلادي الذي وقعت فيه معركة الرقة هو _____
- أول معركة بحرية في تاريخ إمارة الكويت تسمى **معركة الرقة**
- محل معروف بقرب جزيرة فيلكا الكويتية يسمى **الرقة**
- أول امتحان حقيقي لقوة الكويت وقدرتها على الدفاع عن نفسها معركة تسمى **الرقة**

عدد - أسباب معركة الرقة البحرية

- ازدهار الكويت ونموها التجاري والاقتصادي أثار غيرة بني كعب
- تفضيل التجار لميناء الكويت
- رأى بني كعب ازدهار الكويت يؤثر على تجارتهم البحرية وتضييق معاملاتهم البحرية



معركة الرقة البحرية



اختياري : تعرضت البصرة لنكبات على يد الفرس في الفترة من

- ١٧٧٥ - ١٧٧٩ م () ١٧٧٤ - ١٧٧٨ م ()
١٧٧٦ - ١٧٧٧ م () ١٧٧٥ - ١٧٧٨ م ()

أكمل : القوة البحرية التي تمتلك أكبر الأساطيل وأقواها بشمال الخليج في عام ١٧٨٣ م تسمى **بني كعب**

اختياري : معركة الرقة البحرية على الخريطة المقابلة يمثلها الرقم

- ١ () ٢ () ٣ () ٤ ()

عدد - نتائج معركة الرقة البحرية

- استطاع الكويتيون إثبات قدرتهم أمام قوة بحرية كقوة بني كعب
- عاد الكويتيون بعد المعركة بالكثير من الذخيرة والمدافع ونصبوها على الشاطئ

علل - نصب الكويتيون المدافع على الشاطئ بعد معركة الرقة **تخليداً لانتصارهم**

أكمل الجدول التالي

معركة الرقة	
1783 م	السنة
الكويت × بني كعب	الأطراف
<ul style="list-style-type: none">ازدهار الكويت ونموها التجاري والاقتصادي أثار غيرة بني كعبتفضيل التجار لميناء الكويترأى بني كعب ازدهار الكويت يؤثر على تجارتهم البحرية وتضييق معاملاتهم البحرية	الأسباب
<ul style="list-style-type: none">استطاع الكويتيون إثبات قدرتهم أمام قوة بحرية كقوة بني كعبعاد الكويتيون بعد المعركة بالكثير من الذخيرة والمدافع ونصبوها على الشاطئ	النتائج

أكمل العبارات التالية :

حاكم الكويت الذي تم في عهده بناء السور الأول يسمى **عبدالله الاول بن صباح بن جابر**

العالم الميلادي الذي تم فيه بناء سور الكويت الأول 1797 م

علل - بناء سور الكويت الأول عام 1797 م لحماية المدينة من الأخطار الخارجية



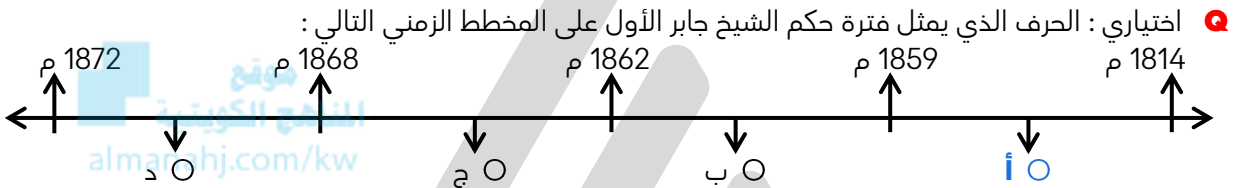
تدرب و تفوق

اختبارات الكترونية ذكية



نشأة الكويت

الحاكم الثالث : الشيخ جابر الأول بن عبد الله الصباح : 1814 م - 1859 م



صف أحوال الكويت قبل وفاة الشيخ عبد الله الأول بن صباح

- كانت الكويت قد رسخت وضعها وسيادتها في منطقة شمال الخليج العربي
- أصبح لها ما يميزها عن بقية الإمارات والمشيطات الموجودة

أكمل العبارات التالية :

تولى الشيخ جابر الأول حكم الكويت بعد وفاة أبوه الشيخ عبد الله الأول

الدولة التي كان يوجد بها الشيخ جابر الأول عند وفاة والده الشيخ عبد الله الأول هي البحرين

العام الميلادي الذي تم فيه تولي الشيخ جابر الأول حكم الكويت 1814 م

حاكم الكويت الثالث الذي اشتهر بجابر العيش هو الشيخ جابر الأول

عدد سمات وصفات الشيخ جابر الأول

- هادئ الطبع
- محب لقومه
- مشفق عليهم
- ذكي جداً
- اشتهر بجابر العيش

علل - الشيخ جابر الأول بن عبد الله الصباح اشتهر بجابر العيش لكرمه وكثرة ما يتصدق به على الفقراء والمساكين

اقرأ ثم أجب :

كان حليماً كريماً يضرب بكرمه المثل لكثرة ما يتصدق به على الفقراء والمساكين " وكان يطبخ الأرز للفقراء وله عريش قرب بيته يجتمعون فيه ويقدم لهم الطعام "

من المقصود بالعبارة الشيخ جابر الأول

علام تدل هذه العبارة كرمه وتصدقه على الفقراء

أكمل العبارات التالية :

١٤ العام الميلادي الذي قام فيه الكابتن البريطاني ج. بروكس برحلته للخليج _____ 1830 م

١٥ عمر الشيخ جابر الأول عند زيارة الكابتن البريطاني للخليج في عام 1830 م حوالي _____ الحادية والخمسين

١٦ عدد - أهم كتابات ج. بروكس عن الشيخ جابر بن عبد الله عام 1830 م

- ذكي جداً
- يحترمه قومه
- عائلة الشيخ من العائلات العريقة
- كانوا شيوخاً لقبيلة صغيرة لمدة أربعة أو خمسة قرون

اقرأ ثم أجب :

١٧ إن لأهل الكويت علينا حقاً عظيماً، ولو كانت تحت يدي ثروة طائلة لقمتم بحاجة الفقراء والمحتاجين منها إلى أن يموتوا

١٨ من القائل _____ الشيخ جابر الأول بن عبد الله الصباح

١٩ عدد - أهم أعمال الشيخ جابر الأول

☆ ممكن أن يأتي السؤال بصيغة أخرى: **أكمل**

- بناء السور الثاني عام ١٨١٤ م
- ساعد العثمانيين على إعادة البصرة بعد خروج القبائل على السلطة العثمانية
- رفض عرض مقدم من شركة الهند الشرقية البريطانية لإقامة محطة فحم لدولة الكويت عام 1841 م
- في عام 1839 م رفض الشيخ جابر الأول طلب نائب المقيم السياسي البريطاني في الخليج بأن تقوم الكويت برفع الراية الإنجليزية وإقامة مباني على أراضيها

٢٠ عدد مطالب نائب المقيم السياسي البريطاني في الخليج من الشيخ جابر الأول

- تقوم الكويت برفع الراية الإنجليزية
- إقامة بعض المباني على أراضيها

علل لما يلي :

٢١ رفض الشيخ جابر الأول طلبات المقيم السياسي البريطاني _____ لأنه في غير صالح الكويت

٢٢ تعد فترة حكم الشيخ جابر الأول فترة ازدهار بحري لإمارة الكويت

- تطورت صناعة السفن الكبيرة المعروفة باسم البغلة والبتيل
- استطاع الكويتيون الوصول إلى سواحل الهند واليمن لنقل البضائع



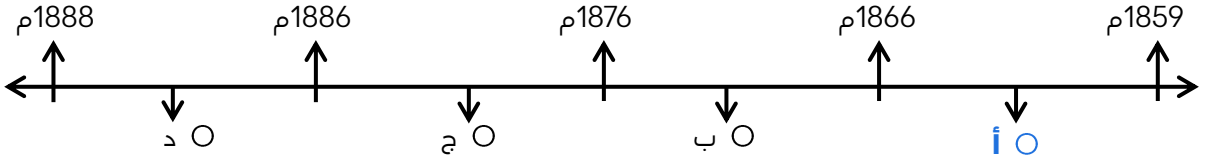
تدرب و تفوق

اختبارات الكترونية ذكية



حكام الكويت (الرابع - الخامس - السادس)

اختياري : الفترة الزمنية التي تمثل حكم الشيخ صباح الثاني بن جابر :



أكمل ما يلي :

حاكم الكويت الرابع الذي تقدمت التجارة في عهده يسمى الشيخ صباح الثاني بن جابر

حاكم الكويت الرابع الذي ألغى الرسوم احتراماً لرغبة أبناء شعبه يسمى الشيخ صباح الثاني بن جابر

علل - تقدمت التجارة في عهد الشيخ صباح الثاني بن جابر بشكل كبير



الموقع
الكويتية
almanahj.com/kw

نظام الحكم العادل في الكويت

إلغاء الرسوم على البضائع

أكمل ما يلي :

المعتمد البريطاني في الخليج الذي زار الكويت عام 1865 م والذي أشاد بالتقدم الاقتصادي والتجاري الذي حققته الكويت يسمى لويس بيلي

العام الميلادي الذي زار فيه المعتمد البريطاني في الخليج " لويس بيلي " دولة الكويت هو 1865 م

اقرأ ثم أجب عما يلي :

احتفظت الكويت بعهده باستقلالها دوماً حتى في الوقت الذي خضعت فيه هرمز ومسقط والبحرين والاحساء لحكم الأجنبي ، وإن أهل الكويت أكثر أهل الخليج حبا للحرية والإقدام

القائل الرحالة الأجنبي بكنجهام

المناسبة زيارة الكويت

عدد ما يلي :

أهم الزيارات المهمة التي حدثت في عهد الشيخ صباح الثاني بن جابر

زيارة المعتمد البريطاني في الخليج للكويت " لويس بيلي " عام 1865 م ▪ زيارة الرحالة بكنجهام

أهم الأعمال والأحداث في عهد الشيخ صباح الثاني بن جابر

- تقدم التجارة في عهده
- إلغاء الرسوم على البضائع
- التقدم الاقتصادي والتجاري
- النظام العادل للحكم في الكويت
- احتفاظ الكويت باستقلالها

تدرب و تفوق

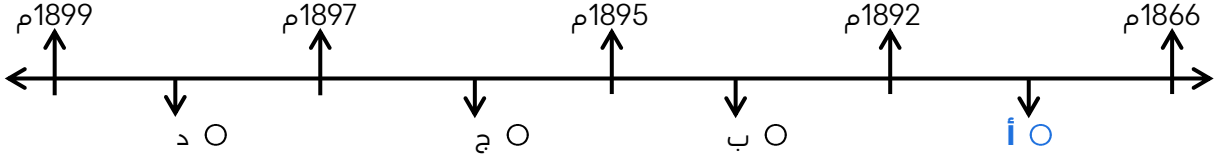
اختبارات الكترونية ذكية





الحاكم الخامس : الشيخ عبدالله بن صباح الثاني (1866م - 1892 م)

اختياري : الفترة الزمنية التي تمثل حكم الشيخ عبد الله بن صباح الثاني :



عدد - صفات الشيخ عبد الله بن صباح الثاني

- حسن السيرة ودمائه الأخلق
- كان محبوباً لدى الجميع

أكمل : العام الميلادي الذي ساعد فيه الشيخ عبد الله بن صباح الثاني حملة مدحت باشا على إقليم الإحساء
1871 م



عدد أهم الأحداث في عهد الشيخ عبد الله بن صباح الثاني

ممكن أن يأتي السؤال بصيغة أخرى: ★
عدد المساعدات التي قدمها الشيخ عبد الله بن صباح الثاني لحملة مدحت باشا عام 1871 م

- مساعدة العثمانيين في حملة مدحت باشا على إقليم الإحساء عام 1871 م
- ساند الحملة بأسطول بحري يقوده بنفسه
- جيش بري بقيادة شقيقه الشيخ مبارك

أكمل : الوالي العثماني الذي ذكر في مذكراته أن السفن الثمانية التي نقلت المؤن الحربية كانت تابعة لحاكم الكويت يسمى مدحت باشا



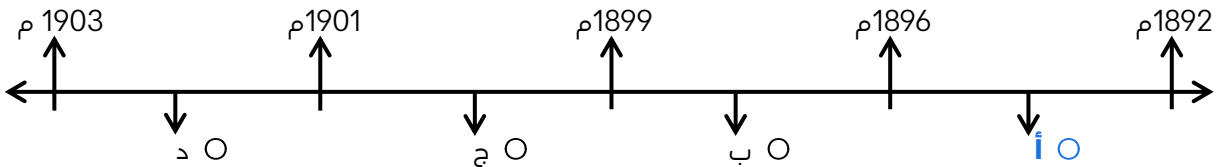
تدرب و تفوق

اختبارات الكترونية ذكية



الحاكم السادس : الشيخ محمد بن صباح (1892م - 1896م)

اختياري : الفترة الزمنية التي تمثل حكم الشيخ محمد بن صباح :



عدد - صفات الشيخ محمد بن صباح

- النزاهة
- الوقار
- التواضع

أكمل ما يلي :

حاكم الكويت الذي ساعده في الحكم أخواه الشيخان جراح ومبارك يسمى الشيخ محمد بن صباح

الشيخ الذي تولى الشؤون المالية في عهد الشيخ محمد بن صباح يسمى جراح

- الشيخ الذي تولى شؤون البادية والحيث في عهد الشيخ محمد بن صباح يسمى **مبارك**
- العام الميلادي الذي استقبل فيه الشيخ محمد بن صباح أسرة الأمير عبد الرحمن آل سعود **1891 م**
- مؤسس الدولة السعودية الثالثة يسمى **الملك عبد العزيز آل سعود**

أذكر الحدث السياسي في عهد الشيخ محمد بن صباح الثاني
ترحيبه وتسهيله لاستقرار أسرة الأمير عبد الرحمن آل سعود والد مؤسس الدولة السعودية الثالثة " الملك عبد العزيز آل سعود في دولة الكويت 1891 م

اختر للمجموعة (أ) ما يرتبط بها من المجموعة (ب) بوضع الرقم المناسب :

م	المجموعة (أ)	الرقم المناسب	المجموعة (ب)
1	تقدمت التجارة في عهده بشكل كبير وألغى الرسوم احتراماً لأبناء شعبه	3	الشيخ عبد الله الأول
2	ساعد العثمانيين في حملة " مدحت باشا " على إقليم الإحساء عام 1871م	1	الشيخ صباح الثاني بن جابر
3	وقعت معركة الرقة في عهده عام 1783 م	2	الشيخ عبد الله بن صباح الثاني
4		-	الشيخ جابر الأول



تدرب و تفوق

اختبارات الكترونية ذكية



نشأة الكويت

النمو التجاري و الاقتصادي للكويت تحت حكم آل صباح

عدد أهم القرارات التي اتخذها حكام الكويت و ساعدت على النمو التجاري والاقتصادي للكويت

☆ ممكن أن يأتي السؤال بصيغة أخرى: **فند**

- قلة الضرائب على البضائع القادمة للكويت
- تشجيع بناء سفن الغوص وتأمين طرق التجارة المارة عبر أراضيها
- اجتذاب الوكالات التجارية التابعة للشركات الأوروبية العاملة في الخليج العربي
- لعب التجار الكويتيون دور الوسيطاء التجاريين لبناء علاقات بين الدول المجاورة
- تعززت نزعة الاستقلال لدى حكام الكويت وتأكيد كيانهم المستقل

أكمل العبارات التالية :

- العام الميلادي الذي انتقلت فيه الوكالة البريطانية من البصرة إلى الكويت للمرة الأولى هو **1793 م**
- العام الميلادي الذي انتقلت فيه الوكالة البريطانية من البصرة إلى الكويت للمرة الثانية هو **1821 م**

❶ عدد - النتائج المترتبة على اهتمام حكام الكويت بالنمو التجاري والاقتصادي للكويت

- تعززت نزعة الاستقلال لدى حكام الكويت وتأكيد كيانه المستقل
- الاستقرار الأمني والسياسي والاقتصادي
- عُرف عن أهل الكويت السماحة والصدق والأمانة
- بروز كيانه واستقبالها للمزيد من الهجرات والسكان

❷ اشرح ما العلاقة بين الاستقرار الأمني والازدهار التجاري

الاستقرار الأمني والسياسي أدى إلى اجتذاب الوكالات التجارية التابعة للشركات الأوروبية العاملة في الخليج العربي حيث انتقلت الوكالة البريطانية من البصرة إلى الكويت مرتين

❸ علل - نمو وازدهار الكويت في ظل حكم آل صباح

☆ ممكن أن يأتي السؤال بصيغة أخرى: **عدد عوامل**



- موقع الكويت الاستراتيجي على الجزء الغربي للخليج العربي
- طبيعة نظام الحكم المعتمد على العدل والشورى والأمن
- وجود علاقات متوازنة مع القوى المجاورة
- التسهيلات التي كانت تمنح لتجار البادية
- النظام الاقتصادي وتوزيع المهام ما بين الغوص ونقل التمور وتجارة البادية
- الصفات التي تميز بها أهل الكويت من التسامح والانفتاح على الآخرين

❹ علل - لعب الموقع الاستراتيجي للكويت دوراً في نمو وازدهار دولة الكويت تحت حكم آل صباح

- تقع على الجزء الغربي للخليج العربي
- تقع في الجزء الشمالي الشرقي لشبه الجزيرة العربية

❺ عرف - تجارة المسابله هي التسهيلات التي كانت تمنح لتجار البادية

❻ علل - تجارة المسابله لها دوراً في نمو وازدهار الكويت

جعلت الكويت المقر الرئيسي للبضائع داخل الجزيرة العربية

❼ علل - النظام الاقتصادي الدقيق لعب دوراً في نمو وازدهار الكويت

- توزيع المهام ما بين الغوص ونقل التمور وتجارة البادية
- الأمانة التي يتحلّى بها التجار والعاملون معهم

دلل على صحة العبارة :

❶ " هوية الكويت تشكلت مبكراً منذ عملية التأسيس على يد العتوب "

- استطاعت أن تكون النواة الأولى للعديد من المجموعات السكانية
- اتخذت مسارها التدريجي نحو التحول لمركز جذب سكاني تحت حكم آل صباح

❷ علل - عملية تأسيس الكويت مثلت نموذجاً مختلفاً

☆ ممكن أن يأتي السؤال بصيغة أخرى: **فسر**

- لأن نظام الحكم فيها قائم على الشورى
- لم يكن على أساس الغلبة لأي شريحة مجتمعية أو تكتل سكاني
- لكن قام على أساس التجانس والاندماج والتكامل المدني

اكتب فقرة تاريخية مترابطة مستعيناً بالكلمات الآتية
((هوية الكويت - العتوب - النواة الأولى - حكم آل صباح))

إن هوية الكويت تشكلت مبكراً منذ عملية التأسيس التي جرت على يد العتوب حيث استطاعت أن تكون النواة الأولى التي سرعان ما استقطبت العديد من المجموعات السكانية الأخرى التي وفدت إلى أرض الكويت وتحولت لمركز جذب سكاني تحت حكم آل صباح



تدرب و تفوق

اختبارات الكترونية ذكية

موقع
المناهج الكويتية
almanahj.com/kw



U U L A



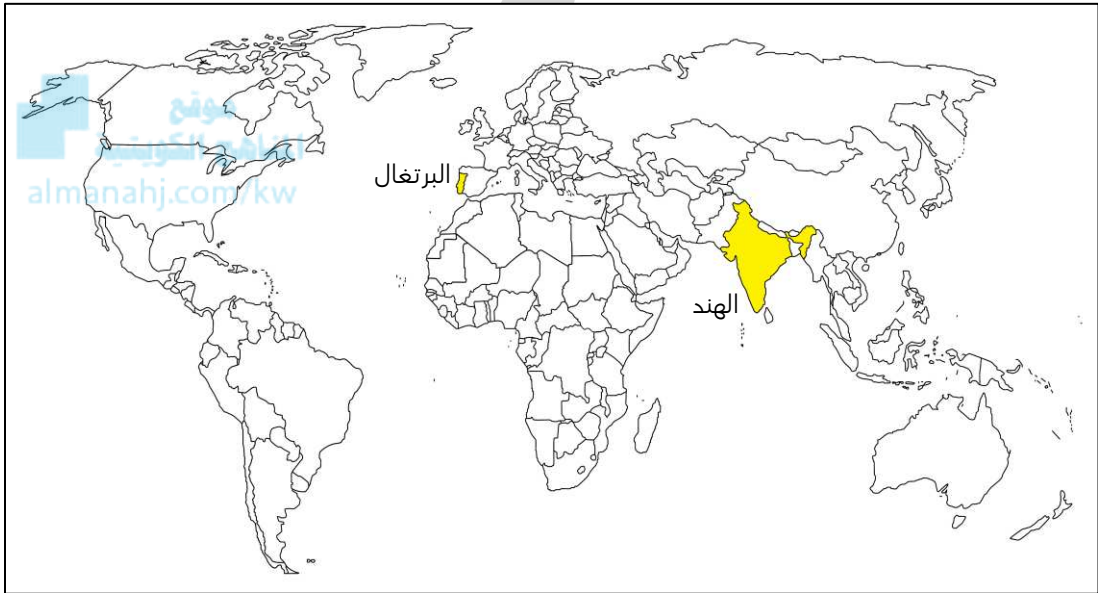
التنافس الاستعماري الأوروبي على منطقة الخليج العربي من القرن 16 - 19 م

❑ اختياري : سعى الأوروبيون بداية بالبرتغاليين للسيطرة على الخليج العربي في مطلع القرن
 ○ الرابع عشر ○ السادس عشر ○ الخامس عشر ○ السابع عشر

أكمل العبارات التالية :

❑ أول دولة أوروبية سعت للسيطرة على الخليج العربي في مطلع القرن السادس عشر هي البرتغال

❑ دولة تعد مركزاً للتوابل في جنوب شرق آسيا تسمى الهند



❑ علل - لعب البرتغاليون والهولنديون دوراً مهماً في تاريخ الاستعمار الأوروبي للخليج العربي في مطلع القرن السادس عشر

- لأنهم أدركوا الأهمية الاقتصادية للخليج العربي
- النهضة الملاحية التي شهدتها بلادهم
- العامل السياسي والديني
- العامل العلمي الذي كان له دوراً في حركة ونشاط العلوم الأوروبية وبخاصة علم الفلك والرياضيات

❑ عدد دوافع قيام حركة الكشوف الجغرافية

- دافع اقتصادية
- دافع ديني
- دافع ثقافي
- دافع علمي

أولاً: البرتغاليون

❑ أكمل : أسوأ النظم الاستعمارية في الخليج العربي يسمى الاستعمار البرتغالي

❑ علل - السيطرة البرتغالية من أسوأ النظم الاستعمارية في الخليج العربي

- مارس البرتغاليون سيطرتهم القسوى على الخليج العربي
- ظهور بعض الأنشطة المعادية لهم من العثمانيين

عدد - التغييرات التي وقعت على البرتغاليين في الشرق في أواخر القرن السادس عشر

- وصول سفن لدول أوروبية أخرى
- مشاركة البرتغاليين في الأرباح التي كانوا يحصلون عليها من تجارة الشرق
- ظهور الهولنديين في مياه الهند الشرقية
- بدأت إنجلترا في الظهور في نفس الاتجاه

علل لما يلي :

علل - التواجد البرتغالي في منطقة الخليج العربي تعرض للانهيار التدريجي

- المنافسة التجارية بينه وبين الهولنديين والإنجليز
- جهود اليعاربة في عُمان التي ساهمت في تصفية الوجود البرتغالي
- وقوع البرتغال نفسها تحت الاحتلال الأسباني

أهمية اليعاربة في منطقة الخليج العربي في أواخر القرن السادس عشر

ساهمت في تصفية الوجود البرتغالي في الخليج وطردهم من المنطقة

اتجاه الاستعمار البرتغالي إلى مهادة الدول المستعمرة

بسبب ظهور دول استعمارية أخرى في المنطقة مثل هولندا وإنجلترا بالإضافة إلى جهود اليعاربة في عُمان



تدرب و تفوق

اختبارات الكترونية ذكية



ثانيا : الهولنديين

أكمل العبارات التالية :

- عدد - الدولة التي برز وجودها بالشرق في أواخر القرن السادس عشر تسمى **هولندا**
- عدد - أهم الأعمال التي قام بها الهولنديين في منطقة آسيا وشرقها
- عدد - خروج أول أسطول هولندي إلى آسيا عام 1595 م
- عدد - إنشاء شركة الهند الشرقية المتحدة
- عدد - عقد معاهدات مع حكام منطقة الخليج العربي
- عدد - بناء القلاع وتعيين الحكام والقضاة في المواقع التابعة لهم
- عدد - اتخاذ الهولنديين من ميناء بندر عباس مركزاً تجارياً لهم لتجارة التوابل

أكمل العبارات التالية :

- عدد - الشركة التي تحرك الأسطول الهولندي لإنشائها في آسيا تسمى **الهند الشرقية المتحدة**
- عدد - عمل الهولنديون على عقد معاهدات مع حكام منطقة الخليج العربي باسم **الحكومة الهولندية**
- عدد - الميناء الذي اتخذته الهولنديين مركزاً تجارياً لهم يسمى **بندر عباس**
- عدد - التجارة التي سيطر عليها الهولنديين في الشرق تسمى **تجارة التوابل**

📌 **فند العبارة - استمر التفوق السريع للهولنديين في آسيا لفترة طويلة**

★ **يمكن أن يأتي السؤال بصيغة أخرى: علل - التفوق السريع للهولنديين في منطقة آسيا و الشرق لم يستمر طويلا**

بسبب التنافس الإنجليزي والهولندي الذي قضى على آمالهم في النهاية وأخرجهم من المنطقة



تدرب و تفوق

اختبارات الكترونية ذكية

الكويت والتنافس الاستعماري

التنافس الاستعماري الأوروبي على منطقة الخليج العربي من القرن 16- 19 م

ثالثا : البريطانيون



📌 **أكمل : المسطح المائي الذي كان مطمعا للاستعمار البريطاني يسمى الخليج العربي**

📌 **علل - زيادة حدة التنافس بين البريطانيين والهولنديين**

- بسبب تأسيس شركة الهند الشرقية الإنجليزية 1600 م
- انهيار النفوذ الهولندي والاستيلاء على ممتلكاتهم

عدد ما يلي :

📌 **الممتلكات الهولندية التي استولت عليها بريطانيا**

- ممتلكات هولندا في الهند واستولوا على سيلان
- المواقع التجارية الهولندية في الخليج العربي

📌 **النتائج المترتبة على انهيار النفوذ الهولندي**

- وضع البريطانيون يدهم على ممتلكات هولندا في الهند سيلان
- المواقع التجارية الهولندية في الخليج العربي
- قيام شاه فارس بمنح البريطانيين بعض الامتيازات
- ظهرت لبريطانيا الأهمية الاستراتيجية لمنطقة الخليج العربي

علل لما يلي :

📌 **اهتمام البريطانيين بالسيطرة على الخليج العربي**

- طريق حيوي لحماية إمبراطوريتهم في الهند
- القشرة الواقية التي تحمي مصالحهم

📌 **قيام بريطانيا بتوسيع نفوذها السياسي والعسكري في الخليج** لضمان تحقيق الانفراد بالخليج بشكل كامل

📌 **عدد الأعمال التي قام بها البريطانيون في منطقة الخليج**

- تأسيس مراكز تجارية لهم
- إنشاء مركز تجاري في البصرة الخاضعة للدولة العثمانية
- مركز للبريد البري المتجه من الهند إلى لندن

علل لما يلي :

- نقل مركز البريد و التجارة البريطاني من البصرة إلى الكويت في عام 1775م
 - بسبب الصراع القائم بين الدولة الفارسية والعثمانية بين عام 1775 م - 1779 م
 - الحصار الفارسي للبصرة عام 1775م
- اضطراب بريطانيا للعودة إلى الكويت مرة أخرى واتخاذها مقراً مؤقتاً لهم في الفترة ما بين (1793م - 1795 م)
 - بسبب المشاكل التجارية والسياسية بين العثمانيين والوكالة البريطانية

أكمل ما يلي :

- العام الميلادي الذي نقل فيه البريطانيون مركز البريد والتجارة إلى الكويت من البصرة للمرة الأولى هو **1775 م**
- العام الميلادي الذي نقل فيه البريطانيون مركز البريد والتجارة إلى الكويت من البصرة للمرة الثانية **1793 م**
- العام الميلادي الذي تم فيه توقيع اتفاقية الحماية بين الكويت وبريطانيا هو **1899 م**
- اتفاقية أصبحت الكويت بموجبها خاضعة للحماية البريطانية بشكل مباشر تسمى **اتفاقية الحماية 1899 م**
- دلل - أهمية الكويت بالنسبة لبريطانيا في نهاية القرن الثامن عشر الميلادي
 - أسس البريطانيون في الكويت مراكز تجارية لهم
 - نقل مركز البريد من البصرة للكويت مرتين عام 1775 م وعام 1793 م



تدرب و تفوق

اختبارات الكترونية ذكية



دلل كانت العلاقة الكويتية - العثمانية علاقة اسمية

- كانت علاقة قائمة على الولاء الديني بحكم أن الدولة العثمانية هي دولة الخلافة
- رفعت السفن الكويتية المبحرة إلى شواطئ بحر العرب والهند العلم العثماني
- لم يكن للعثمانيين أي سلطة إدارية أو سياسية أو عسكرية في الكويت
- من أدار شؤون الكويت الداخلية هم حكامها وأهلها

أكمل : العام الذي ساعدت فيه الكويت الدولة العثمانية بقيادة (مدحت باشا) بحملته لاستعادة إقليم الإحساء **1871 م**

- علل - مساعدة الكويت للدولة العثمانية في حملة مدحت باشا عام 1871 م
 - إعادة سيطرتها على إقليم الإحساء
 - تلطيف الأجواء بين الكويت والعثمانيين

أكمل : والي بغداد العثماني الذي أصدر فرمان يحدد فيه علاقة الكويت بالدولة العثمانية يسمى **مدحت باشا**

عدد ما يلي :

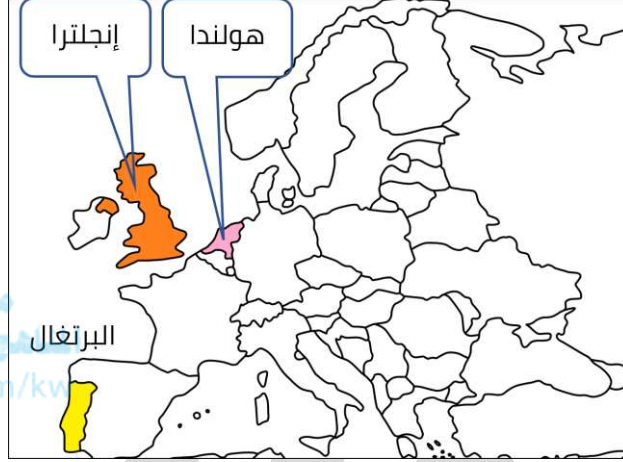
- الأسس التي حددها فرمان العثماني في علاقة الكويت بالدولة العثمانية
 - شيخ الكويت مستقل في شؤونه الداخلية
 - منح شيخ الكويت لقب قائم مقام
 - أهالي الكويت لا يلتزمون بدفع رسوم أو ضرائب إلى الباب العالي
 - الزام السفن الكويتية برفع العلم العثماني مع إعفائها من دفع الرسوم

أهم ما جاء في فرمان العثماني إلى شيخ الكويت

- شيخ الكويت مستقل في شؤونه
- سمح للكويت بممارسة قضائها الخاص
- لم يتضمن النص وجود قوات عسكرية أو جنود تابعين للدولة العثمانية
- لم يتدخل في فرض الحاكم واختياره

لاحظ خريطة أوروبا الصماء أمامك

حدد الدول الاستعمارية (البرتغال - هولندا - إنجلترا)



تدرب و تفوق

اختبارات الكترونية ذكية

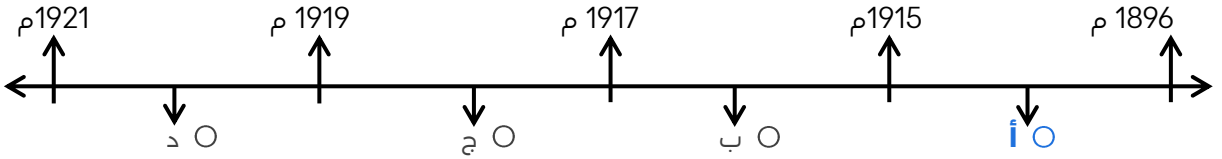
U U L A

الشيخ مبارك الصباح (1896 م - 1915 م)



أكمل : الصورة المقابلة تمثل الحاكم السابع لدولة الكويت ويسمى الشيخ مبارك الصباح

اختياري : الحرف الذي يمثل فترة حكم الشيخ مبارك الصباح :



علل - فترة حكم الشيخ مبارك فترة حاسمة في تاريخ الإمارة

☆ يمكن أن يأتي السؤال بصيغة أخرى : علل - الشيخ مبارك كان حاكماً مطلقاً للكويت

لأنه واجه خلال فترة حكمه واقعاً دولياً يموج بالتغيرات والخلافات والمطامع والتهديدات التي طالت وهددت إمارته ووجودها

المنهج الكويتي
almanahj.com/kw

علل - صارت الإمارة في ظل حكم الشيخ مبارك الصباح نحو المزيد من الاستقرار

- المحافظة على كيانها
- تماسك تكويناتها الاجتماعية

أولاً : الأوضاع الداخلية

دلل على صحة العبارة " بدأ الشيخ مبارك التعامل مع الأوضاع الداخلية والخارجية في إمارة الكويت بمنتهى الحذر والحيطه "

- بدأ في تشجيع التجارة
- رعاية مصالح الإمارة الاقتصادية والسكانية
- عمل على استغلال التوترات بين القوى الاستعمارية بهدف تأمين قدر من الأمن لإمارته

عدد أهم المجالات الداخلية في عهد الشيخ مبارك بن صباح

- حفظ الأمن وتشجيع التجارة
- التعليم
- الصحة
- الجيش

دلل على صحة العبارة " حرص الشيخ مبارك الصباح على حفظ الأمن وتشجيع التجارة "

☆ يمكن أن يأتي السؤال بصيغة أخرى:
فند - لم تلقى التجارة أي اهتمام من قبل الشيخ مبارك الصباح أثناء فترة حكمه

- إخراج قوات عسكرية لتأمين طرق القوافل التجارية وضمان سلامة الطرق داخل حدود إمارته
- عمل على تشجيع التجارة
- مراقبة الأسواق ومشكلات الأهالي
- يعاقب الخارجين على النظم المتبعة
- في بعض الأحيان يفتح خزائنه للتجار ويمدهم بالمال
- شجع على صناعة السفن الكبيرة
- التوسط لحل المشكلات التي تنشأ بين التجار



❏ دلل - اهتمام الشيخ مبارك الصباح بالتعليم أنشئت المدرسة المباركية عام 1911 م أول المدارس النظامية الأهلية

أكمل ما يلي :



❏ العام الميلادي الذي أنشأت فيه المدرسة المباركية هو 1911 م

❏ أولى المدارس النظامية الأهلية في الكويت تسمى المدرسة المباركية

❏ دلل - اهتمام الشيخ مبارك الصباح بالصحة
وافق علي تأسيس أول مستشفى عام 1911 م (المستشفى الأمريكي)

❏ أكمل : العام الميلادي الذي تأسست فيه المستشفى الأمريكي 1911 م

❏ دلل - اهتمام الشيخ مبارك الصباح بالجيش

وفر له ما يتوفر للجيش النظامية من عقيدة قتالية وتموين وإدارة وتشكيلات قتالية معتمداً على قبائل الكويت وسكانها



موقع
المنهاج الكويتية
almanahj.com/kw

تدرب و تفوق

اختبارات الكترونية ذكية



ثانياً : الأوضاع الخارجية

❏ عدد الأطماع الدولية تجاه الكويت في عهد الشيخ مبارك الصباح

▪ الروس ▪ الألمان ▪ الدولة العثمانية ▪ بريطانيا

الروس

❏ لخص الأطماع الروسية نحو تعزيز نفوذها في الكويت في نهاية القرن التاسع عشر الميلادي

- استغلال بعض المشاريع الروسية لإنشاء محطة للفحم وميناء لتزويد سفنها بالوقود
- جعل الكويت نهاية لخط سكة حديد مشروع كابنيست حيث كانت هذه المشاريع ستارا لأهداف سياسة غير معلنة

❏ عرف - (مشروع كابنيست) هو مشروع إنشاء محطة للفحم الحجري في الكويت لتزويد السفن الروسية بحاجتها من الوقود

❏ فرق بين السبب المعلن والسبب الحقيقي لخطوات روسيا للتأثير على الشيخ مبارك الصباح في القرن التاسع عشر الميلادي

السبب المعلن	السبب الحقيقي
محاولة استغلال بعض المشاريع التجارية لإنشاء محطة للفحم وميناء لتزويد سفنها بالوقود وجعل الكويت نهاية لخط سكة حديد	تعزيز نفوذهم في الكويت

- ❏ دال على صحة العبارة " تعامل الشيخ مبارك الصباح مع التحركات الروسية بكل حذر "
- حاول الاستفادة منها للحصول على مكاسب سياسية ودعم إقليمي له في مواجهة الأخطار القائمة
- أدرك أن الكفة تميل للجانب البريطاني قام برفض كافة المشاريع المقدمة من الروس
- عدم قبوله لعرض الروس لعقد اتفاقية حماية معه

الألمان

أكمل العبارات التالية:

- ❏ المشروع الألماني الذي رفضه الشيخ مبارك الصباح يسمى خط سكة حديد برلين- بغداد
- ❏ العام الميلادي الذي استقبل فيه الشيخ مبارك الصباح البعثة الألمانية 1900 م
- ❏ المنطقة التي استقبل فيها الشيخ مبارك الصباح البعثة الألمانية تسمى الجهراء
- ❏ علل - مجئ البعثة الألمانية للكويت عام 1900 م
- لإستطلاع الأمر حول مشروع خط سكة حديد برلين - بغداد الذي كان مقرر أن ينتهي عند أحد الموانئ على الخليج العربي في الكويت تحديداً
- ❏ علل - رفض الشيخ مبارك الصباح أن يكون للألمان أي مشاريع اقتصادية فوق أراضيهم
- لأنه مرتبط باتفاقية حماية مع الإنجليز

الدولة العثمانية

- ❏ عدد - أسباب رفض الشيخ مبارك الصباح مشروع سكة الحديد مع الدولة العثمانية
- ★ يمكن أن يأتي السؤال بصيغة أخرى: **علل**
- رأى الشيخ مبارك الصباح أن ذلك خطراً يهدد إمارته واستقلاله
- الدولة العثمانية كانت ستبعث موظفين وجباة ضرائب فتفقد بذلك استقلالها الذي ميزها منذ نشأتها
- ❏ دال - على براعة الشيخ مبارك الصباح السياسية بعلاقته مع الدولة العثمانية
- تعامل الشيخ مبارك مع طبيعة الوضع العثماني بنوع من المرونة وعدم التصادم المباشر
- عقد اتفاقية الحماية مع بريطانيا عام 1899م
- ❏ اكتب ردة فعل العثمانيين على عقد الشيخ مبارك اتفاقية الحماية 1899 م
- تهديد الشيخ مبارك نفسه بالنفي
- إرسال وحدات عسكرية للكويت
- ظلت التهديدات مستمرة طوال عهد الشيخ مبارك

- ❏ علل - فشل التهديدات والتحركات العثمانية ضد الشيخ مبارك
- بسبب وضوح موقف الشيخ مبارك بأنه غير مستعد عن تقديم أي تنازلات إقليمية لأي قوة أجنبية أخرى على أراضيهم

- ❏ برهن على عدم تبعية الكويت للدولة العثمانية عقد اتفاقية الحماية مع بريطانيا عام 1899م

عدد - الخطوات التي قام بها الشيخ مبارك في تأمين وضع الإمارة في مجمل تحركات السياسية

- اتخاذ خطوات أكثر جرأة خصوصاً تجاه الجانب البريطاني
- نجح في بث بذور الشك أنه في حالة عدم حصوله على اتفاق مع بريطانيا سيعقد اتفاق مع الدولة العثمانية أو روسيا
- نجح في عقد اتفاقية الحماية عام 1899م

علل - سعت بريطانيا للتقارب مع الشيخ مبارك

لأنها كان يهمها أن تنفرد بالسيطرة على طريق الخليج العربي المؤدي للهند

عدد- النتائج المترتبة على التقارب البريطاني مع الشيخ مبارك الصباح

- عقد اتفاقية الحماية بين بريطانيا والكويت في 23 يناير 1899م
- تدعيم واستقرار وتطور الأوضاع في الكويت
- دعم قدراتها في مواجهة الأخطار الخارجية والداخلية



موقع
المنهاج الكويتية
almanahj.com/kw

تدرب و تفوق

اختبارات الكترونية ذكية



اتفاقية الحماية 1899 م وآثرها على الكويت

علل ما يلي :

تزايد رغبة الشيخ مبارك في تأمين وضع إمارة الكويت عام 1899 م

بسبب قلق الشيخ مبارك الصباح من إقدام العثمانيين على ضم الإمارة بالقوة

أهمية اتفاقية الحماية 1899م لدولة الكويت

- حفظت للكويت حدودها من الأطماع في تلك الفترة
- تدعيم واستقرار وتطور الأوضاع في الكويت

عدد الجوانب الإيجابية والسلبية لاتفاقية الحماية 1899 م

☆ ممكن أن يأتي السؤال بصيغة أخرى: فرق

الجوانب السلبية لاتفاقية الحماية 1899 م	الجوانب الإيجابية لاتفاقية الحماية 1899 م
<ul style="list-style-type: none">▪ فقدت سيادتها فيما يتعلق بإدارة شئونها الخارجية▪ طبقت على الكويت عبارة (إمارة مستقلة تحت الحماية البريطانية)	<ul style="list-style-type: none">▪ المحافظة على كيائها السياسي▪ إيقاف تهديد الدول الاستعمارية لها▪ التمهيد لجعل الكويت تنمو بعيداً عن هذه الصراعات▪ بريطانيا ملتزمة بحماية الكويت والدعم المادي السنوي لها

علل - حرص بريطانيا على أن تبقى اتفاقية الحماية مع الكويت سرية

بسبب عدم رغبتها في إثارة الدولة العثمانية أو خلق توتر جديد بينها وبين القوى الأوروبية



معاهدة الحماية 1899 م



الشيخ مبارك الصباح

اقرأ الفقرة التاريخية التالية ثم أجب عما يليها :

(للكويت أهمية كبيرة بالنسبة لبريطانيا كمكان آمن ، لذلك سعت بريطانيا لتطوير وتوثيق علاقاتها مع الكويت من خلال عدة خطوات حتى توجت هذه العلاقة بعقد اتفاقية الحماية عام 1899م والتي نصت على أن يلزم حاكم الكويت (الشيخ مبارك الصباح) نفسه وراثيه وخلفه في الحكم بألا يتنازل أو يبيع أو يؤجر أو يرهن أو يعطي للاستغلال لأي غرض كان أي جزء من مقاطعته لأي حكومة أو رعايا أي سلطة بدون الموافقة السابقة للحكومة البريطانية)

المنهج الكويتية
almanahj.com/kw

ماهي أسباب توقيع اتفاقية الحماية

حماية دولة الكويت من أي اعتداء من الدول الاستعمارية الأجنبية (خاصة الألماني - الروسي - الدولة العثمانية)

اذكر بند من بنود اتفاقية الحماية

لا يتنازل أو يبيع أو يؤجر أي شيء من مقاطعته لأي حكومة بدون موافقة بريطانيا

ما أهمية الاتفاقية لدولة الكويت

- حماية أراضيها وحدودها من التدخل الأجنبي في شؤونها الداخلية
- الحفاظ على استقلالية دولة الكويت .



تدرب و تفوق

اختبارات الكترونية ذكية



الشيخ مبارك الصباح وقيام الدولة السعودية الثالثة 1902 م

أكمل - العام الميلادي الذي قامت فيه الدولة السعودية الثالثة 1902م

اكتب باختصار عن : مساعدة الشيخ مبارك الصباح لقيام الدولة السعودية الثالثة 1902م

- تجهز الأمير عبد العزيز آل سعود لمغادرة الكويت بعد أن هيا له الشيخ مبارك من الأسلحة والمؤن ما يعينه على تحقيق هدفه .
- تمكن الأمير عبدالعزيز من دخول الرياض
- أرسل الأمير عبد العزيز لوالده وللشيخ مبارك يخبرهما بنجاحه و يطلب من والده الإمام عبد الرحمن الحضور للرياض فغادر الكويت بعد استقرار دام تسع سنوات .



الشيخ مبارك الصباح وإلى جانبه الأمير عبد العزيز آل سعود

أكمل - عدد السنوات التي استقر بها عائلة عبد العزيز آل سعود في الكويت **9 سنوات**

لخص سياسة الشيخ مبارك الاستقلالية

- معالجته الضغوط السياسية والعسكرية على الإمارة رغم اتفاقية حماية بريطانيا
- تحركه المنفرد في كثير من الأحيان بدعم الأمير عبدالعزيز آل سعود ويسانده
- امتصاص وتخفيف التوتر مع العثمانيين وعدم التصادم العسكري معهم
- حماية الإمارة من حروب ومعارك قادها مثل الصريف في مارس 1901م - وهديّة مايو 1910م

موقع
المنهجية
almanahj.com/kw

حدد علي الخريطة التالية ما يلي : معركة الصريف - معركة هديّة - الرياض - الكويت - مدينة الجهراء



أكمل ما يلي :

العام الميلادي الذي وقعت فيه أحداث معركة الصريف **1901 م**

العام الميلادي الذي وقعت فيه أحداث معركة هديّة **1910 م**

- دلل " الشيخ مبارك كان يقف بقوة في وجه أي سياسة تنتقص من سيادة الكويت "
- عارض بشكل كبير عملية تعيين ممثل تركي في الكويت
 - حده نقاشه مع المعتمد البريطاني

(لقد قاومت هذا طيلة عمري ، وانت تطالبني بالموافقة على ذلك)

القائل : الشيخ مبارك الصباح

المناسبة : معارضة بريطانيا بتعيين ممثل تركي في الكويت

لخص سياسة الكويت الخارجية في عهد الشيخ مبارك الصباح

- عدم الالتزام تجاه أي قوة إقليمية أو دولية باستثناء بريطانيا
- كان جزءاً من ترتيب السياسات في المنطقة وطرفاً مؤثراً في معادلة القوى

برهن - على دور الشيخ مبارك الصباح في ترسيخ دعائم استقرار الامارة

- عقد اتفاقية الحماية مع بريطانيا
- تخفيف التوتر مع العثمانيين
- قام بعدة حروب ومعارك مثل الصريف 1901م وهدية في مايو 1910م)
- معارضاً تعيين ممثل تركي في الكويت

موقع
المناهج الكويتية
almanahj.com/kw

أكمل - العام الميلادي الذي توفي فيه الشيخ مبارك الصباح 1915 م

اختر الإجابة الصحيحة : استمرت فترة حكم الشيخ مبارك الصباح قرابة

- عشرة أعوام
- عشرون عام
- خمس عشرة عام
- خمس وعشرين عام



تدرب و تفوق

اختبارات الكترونية ذكية

U U L A