

تم تحميل هذا الملف من موقع المناهج الكويتية



التعليم الخاص

الملف نموذج أسئلة التعليم الخاص

[موقع المناهج](#) ← [المناهج الكويتية](#) ← [الصف السادس](#) ← [اجتماعيات](#) ← [الفصل الأول](#)

روابط مواقع التواصل الاجتماعي بحسب الصف السادس



روابط مواد الصف السادس على تلغرام

[الرياضيات](#)

[اللغة الانجليزية](#)

[اللغة العربية](#)

[التربية الاسلامية](#)

المزيد من الملفات بحسب الصف السادس والمادة اجتماعيات في الفصل الأول

<a href="#">نموذج احابة اختبار لمنطقة مبارك الكبير عام 2016</a>	1
<a href="#">اوراق عمل مهمة في مادة الاجتماعيات</a>	2
<a href="#">بنك اسئلة ممتاز في مادة الاجتماعيات</a>	3
<a href="#">بنك معلومات مهم في مادة الاجتماعيات</a>	4
<a href="#">تلخيص اجتماعيات بشكل مبسط</a>	5

أجب على جميع الأسئلة:

السؤال الأول: موضوعي ويتكون من ( أ - ب ) :

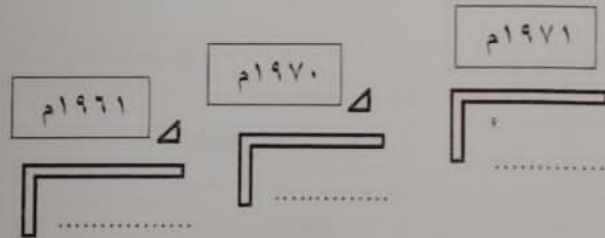
أ- ضع خطأ تحت الخيار الصحيح من بين الخيارات التي تلي كل عبارة :

- ١- أشكال سطح الأرض تعنى :  
أ- المناخ ب- الإقليم ج- البيئة د- التضاريس
- ٢- القرن الميلادي الذي ظهر فيه الإسلام :  
أ- السابع ب- السادس ج- الخامس د- الرابع
- ٣- الحضارة التي استوطنت في جزيرة فيلكا :  
أ- الفينيقية ب- الفرعونية ج- الهلينستية د- الآشورية
- ٤- نبات يرتبط وجوده بموسم سقوط المطر ( حولي ) :  
أ- العرفج ب- الخبيزة ج- الشندا د- الرمث
- ٥- المنطقة التي هاجر إليها القواسم :  
أ- رأس الخيمة ب- الشارقة ج- أبوظبي د- عجمان
- ٦- البلد الخليجي الوحيد الذي لم يتعرض للاستعمار :  
أ- البحرين ب- قطر ج- عمان د- السعودية

ب- رتب الأحداث التاريخية التالية ترتيباً تصاعدياً بكتابة الإجابة الصحيحة في المكان المناسب:

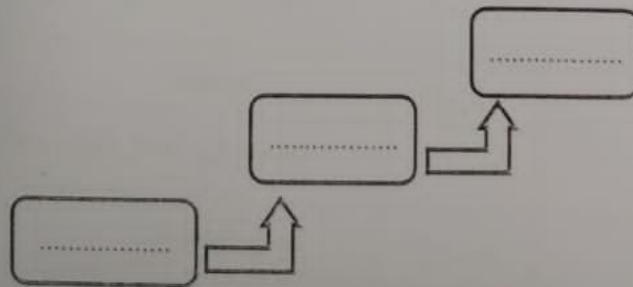
١- استقلال دول منطقة الخليج العربية.

( قطر - الكويت - عمان )



٢- الدول الاستعمارية التي توالى على منطقة الخليج العربية .

( انجلترا - البرتغال - هولندا )



السؤال الرابع : مقالي ويتكون من ( أ - ب - ج ) :

أ- فرق بين كلاً مما يلي:

الهضبة	الجيل
القفال	الدشة

موقع  
المنهج الكويتي  
almanahj.com/kw

ب- اكتب فيما يلي مما درست :

١- مظاهر الحضارة الإسلامية .

..... -  
..... -

٢- أنواع الرياح التي تهب على منطقة الخليج العربي.

..... -  
..... -

ج- علل لما يلي :

١- أهمية الموقع الجغرافي لمنطقة الخليج العربية .

..... -  
..... -

٢- كانت حياة السكان في البيئة الصحراوية لمنطقة الخليج العربية قاسية وخشنة.

..... -  
..... -

تابع / امتحان نهاية الفترة الدراسية الأولى / مقرر الكويت ودول الخليج العربية / الصف السادس / العلم الدراسي / ٢٠٢٤ - ٢٠٢٤

السؤال الخامس : مقالي ويتكون من ( أ - ب - ج ) :

أ- عرف المفاهيم والمصطلحات التالية :

١- الموقع النسبي :

٢- الواحة :

٣- المناخ :

٤- الديمقراطية :

موقع  
الامانة الكويتية  
almanahj.com/kw

ب- قارن بين كلا مما يلي حسب المطلوب في الجدول التالي :

معاهدة الاستقلال	معاهدة الحماية	أوجه المقارنة
		العلم
		اسم الحاكم

ج- لاحظ الشعر الذي أمامك ثم أجب على الأسئلة التالية:

١- متى تم إنشاء هذه المنظمة ؟

٢- أين يقع المقر الدائم لهذه المنظمة ؟

٣- اذكر اثنين من إنجازات هذه المنظمة .

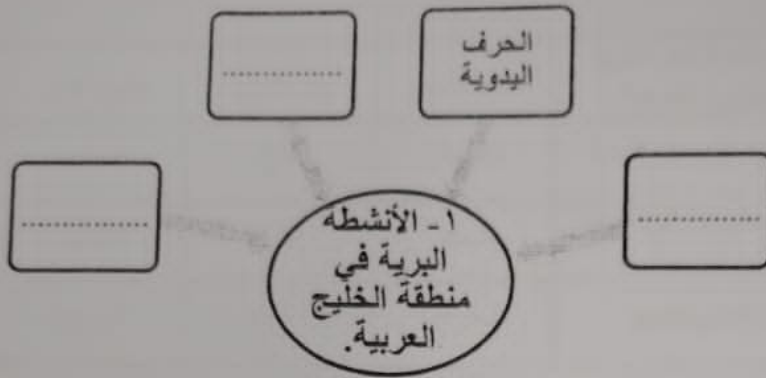


مجموع درجات السؤال المقالي الخامس:

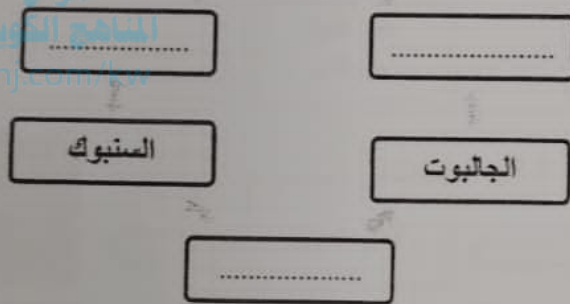
انتهت الأسئلة...

(٥)

السؤال الثاني: موضوعي ويتكون من ( ١ - ب ) :  
 أ- أكمل المخططات السهمية التالية بما يناسبها مما درست :



٢- أنواع السفن في منطقة الخليج العربية :



ب- اختر للمجموعة ( أ ) ما يرتبط بها من المجموعة ( ب ) بوضع الرقم في المكان المناسب :

م	المجموعة ( أ )	الرقم المناسب	المجموعة ( ب )
١-	الرضيف.	(.....)	- رئيس البحرية.
٢-	النوخذة.	(.....)	- مطرب السفينة .
٣-	القلاب .	(.....)	- صغار السن وهو المساعد للمسيب في السفن الكبيرة.
٤-	المجذمي.	(.....)	- يسحب الغاصة من أعماق البحر .
٥-	السبيب .	(.....)	- ربان السفينة.
٦-	النهام.	(.....)	- يغوص في أعماق البحر بحثاً عن اللؤلؤ.
		(.....)	- صانع السفينة .









تابع/ امتحن نهاية الفترة الدراسية الأولى/ مقرر التوثيق ودول الخليج العربية -الصف السادس 7- العام الدراسي ٢٠٢٤ - ٢٠٢٥

السؤال الثالث: موضوعي ويتكون من ( أ - ب - ج ) :

أ - ظلل الكلمة التي ( لا تنتمي ) إلى المجموعات التالية :

١	مسطحات مائية تطل عليها شبه الجزيرة العربية	البحر الأحمر	بحر العرب	خليج عدن	البحر المتوسط
٢	وسائل صيد الأسماك قديماً	الميدار	الفخ	الحظرة	القرقر
٣	البضائع المستوردة إلى منطقة الخليج العربية	السكر	الأرز	اللؤلؤ	التوابل
٤	قارات العالم القديم	استراليا	آسيا	أوروبا	أفريقيا

ب- اختر الصورة الصحيحة الدالة على العبارات التالية بتظليل السهم المناسب :

	←	خط الطول جرينتش	→	
	←	أثار دلمون	→	
	←	الطواش	→	
	←	معالم دولة الإمارات	→	

ج- لاحظ خريطة شبه الجزيرة العربية الصماء ثم اكتب الرقم الدال على العبارات التالية:



- الخليج العربي يمثلته على الخريطة الرقم (.....)
- حضارة مجان يمثلها على الخريطة الرقم (.....)
- مضبة نجد يمثلها على الخريطة الرقم (.....)
- سهل تهامة يمثلته على الخريطة الرقم (.....)

مجموع درجات السؤال الموضوعي الثالث: (٣)