

تم تحميل هذا الملف من موقع المناهج الكويتية



منطقة العاصمة التعليمية

الملف نموذج أسئلة منطقة العاصمة التعليمية

[موقع المناهج](#) ← [المناهج الكويتية](#) ← [الصف السادس](#) ← [اجتماعيات](#) ← [الفصل الثاني](#)

روابط مواقع التواصل الاجتماعي بحسب الصف السادس



روابط مواد الصف السادس على تلغرام

[الرياضيات](#)

[اللغة الانجليزية](#)

[اللغة العربية](#)

[التربية الاسلامية](#)

المزيد من الملفات بحسب الصف السادس والمادة اجتماعيات في الفصل الثاني

مراجعة	1
مراجعة	2
مراجعة	3
مذكرة في مادة الاجتماعيات	4
مراجعة محلولة ومفيدة في مادة الاجتماعيات	5

تابع / السؤال الأول :


د) اختر من القائمة التالية الاسم المناسب لصور أنواع التلوث ثم سجله أسفل الصورة :

(تلوث هوائي - تلوث تربة - تلوث إشعاعي - تلوث مائي - تلوث ضوضائي)







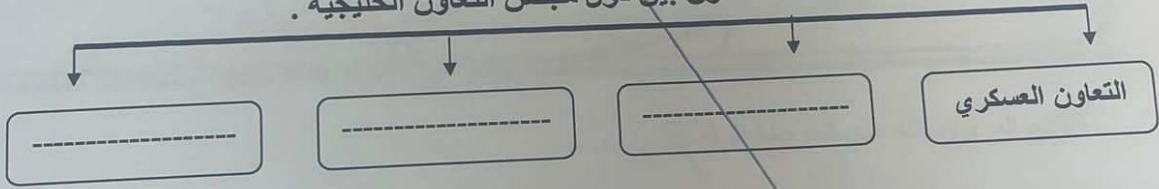


هـ) أكمل المخططات السهمية التالية :

١- الروابط التي تربط بين دول الخليج العربية .



٢- مجالات التعاون بين دول مجلس التعاون الخليجية .



و) اكتب المفهوم أو المصطلح الدال على كل عبارة مما يلي :

المفهوم / المصطلح	العبارات
	السلوك العدواني الموجه ضد الغير والذي يتسم بالتخريب والتدمير سواء كان السلوك أقوالاً أو أفعالاً .
	الضرر الذي يصيب عناصر البيئة الأساسية (هواء - ماء - تربة) فتتحول من عناصر مفيدة إلى عناصر ضارة .
	درع واق للأحياء ضد خطر الأشعة فوق البنفسجية الضارة .
	يزرع فيها الخضراوات في غير مواسمها وتقوم بحماية المحاصيل من تقلبات الطقس .
	التغيير الذي يحدث لعدد السكان نتيجة للزيادة الطبيعية وغير الطبيعية .

السؤال الثالث : ويتكون من (أ - ب - ج) :-

أ) اكتب فيما يلي :

١- أنواع الصناعات القائمة على النفط بدول مجلس التعاون الخليجي .

٢- مظاهر التعاون العسكري بين دول مجلس التعاون الخليجي .



ب) فرق بين كل مما يلي من حيث (التعريف) :

الواردات	الصادرات
احتياطي النفط	إنتاج النفط

ج) اذكر (اثنين) لكل مما يلي :

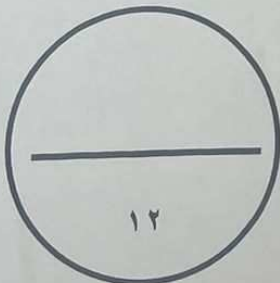
١- الدول المستوردة للنفط الكويتي .

٢- حلول لمشكلة العمالة المنزلية .

درجة السؤال الثالث بالحروف

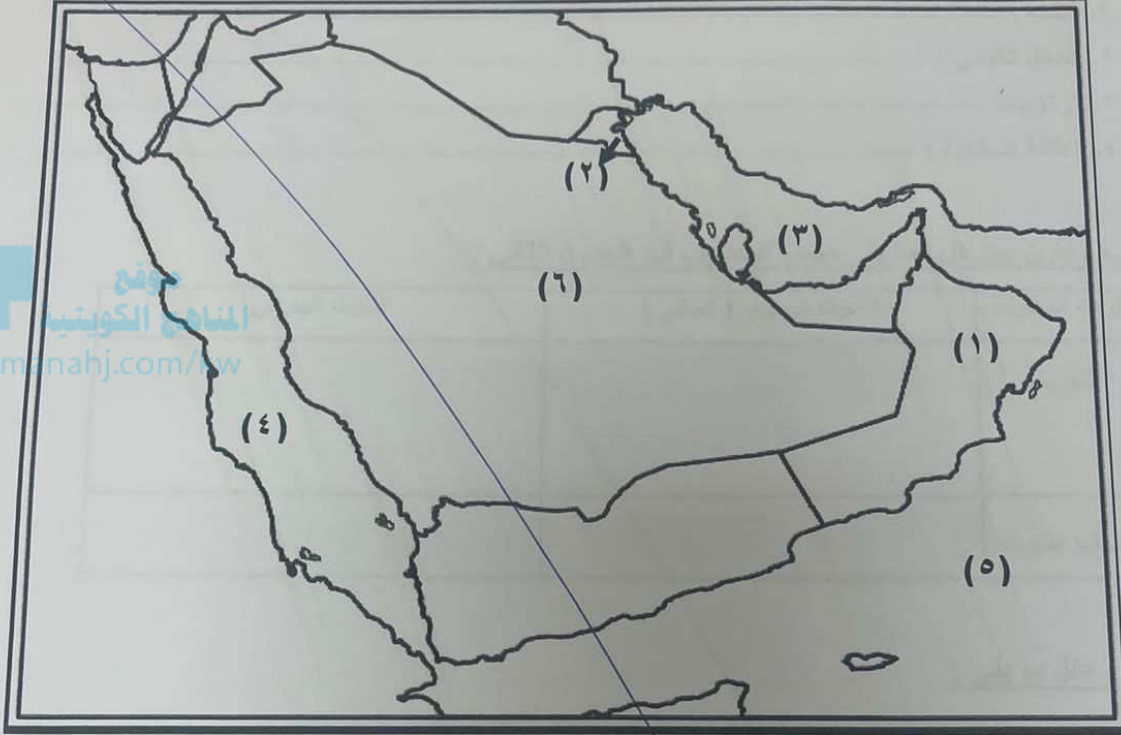
انتهت الأسئلة ،،

مع تمنياتنا لكم بالتوفيق ،،،،،



تابع / السؤال الأول

ي (لاحظ خريطة دول الخليج العربية التي أمامك ثم استعن بالأرقام التي عليها لإكمال العبارات التالية:



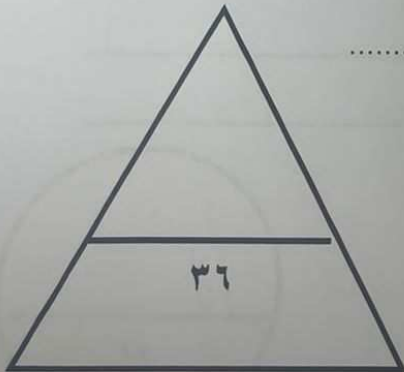
- الخليج العربي يمثل على الخريطة الرقم

- يوجد ميناء الفحل النفطي في دولة خليجية تحمل على الخريطة الرقم

- بحر العرب يمثل على الخريطة الرقم

- دولة خليجية لم تتعرض للاستعمار الأجنبي تحمل على الخريطة الرقم

- توجد منطقة الشعبية الصناعية في دولة خليجية تحمل الرقم



درجة السؤال الأول بالحروف

السؤال الثاني ويتكون من (أ - ب - ج) :

أ) عرف ما يلي :

- ١- الثقافة :
- ٢ - الدخل القومي :
- ٣ - ترانزيت:
- ٤- الكثافة السكانية :

ب) قارن بين كل مما يلي حسب المطلوب في الجدول التالي :-

التلوث الهوائي	التلوث البحري (المائي)	أوجه المقارنة
		التعريف
		أسباب التلوث

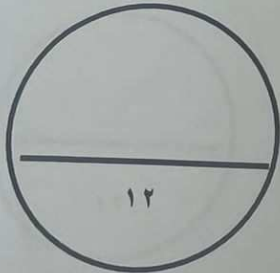
ج) علل ما يلي :

١ - شهدت منطقة الخليج العربي بعد اكتشاف النفط نمواً سكانياً فجانياً .

-
-

٢ - وجود مشكلة العنف عند المتعلمين .

-
-



درجة السؤال الثاني بالحروف