

تم تحميل هذا الملف من موقع المناهج الكويتية



الملف نموذج إجابة منطقة الفروانية

موقع المناهج ← المناهج الكويتية ← الصف التاسع ← اجتماعيات ← الفصل الأول

روابط مواقع التواصل الاجتماعي بحسب الصف التاسع



روابط مواد الصف التاسع على تلغرام

[الرياضيات](#)

[اللغة الانجليزية](#)

[اللغة العربية](#)

[التربية الاسلامية](#)

المزيد من الملفات بحسب الصف التاسع والمادة اجتماعيات في الفصل الأول

مسودة كتاب الطالب اجتماعيات لعام 2018	1
نموذج اجابة اختبار لعام 2017 تعليم خاص	2
نموذج اجابة اختبار لمنطقة العاصمة لعام 2016 في مادة الاجتماعيات	3
مراجعة رائعة للفصل الاول في مادة الاجتماعيات	4
حل تقويم الكورس الاول في مادة الاجتماعيات	5

موقع
المنهج الكويتية
almanahj.com/kw





أجب عن جميع الأسئلة التالية :

السؤال الأول : (موضوعي) ويتكون من (أ - ب - ج - د - هـ - و) :- (درجة لكل إجابة)

(أ) أكمل العبارات التالية بما يناسبها فيما درست :-

١- تقع دولة الكويت بالنسبة لقارة آسيا في الجهة الجنوبية الغربية . ص ٢٠

٢- كل مرتفع من الأرض وله قمة لا يقل ارتفاعها عن ١٠٠٠ متر يسمى جبل (الجبال) . ص ٢٤

٣- حالة الجو خلال فترة زمنية طويلة يسمى المناخ . ص ٢٧

٤- الصورة المقابلة توضح اعتماد دول مجلس التعاون الخليجي على المياه المحلاة بنسبة ٥٢% . ص ٧٨



٥- تم إطفاء آخر بئر نفطي عند تحرير الكويت من الغزو العراقي الغاشم في السادس من نوفمبر عام ١٩٩١ م . ص ٦٣

٦- يُطلق على منظمة الأمم المتحدة للتربية والعلوم والثقافة اسم اليونسكو . ص ١٠٦

(ب) أكمل المخططات السهمية الآتية :-

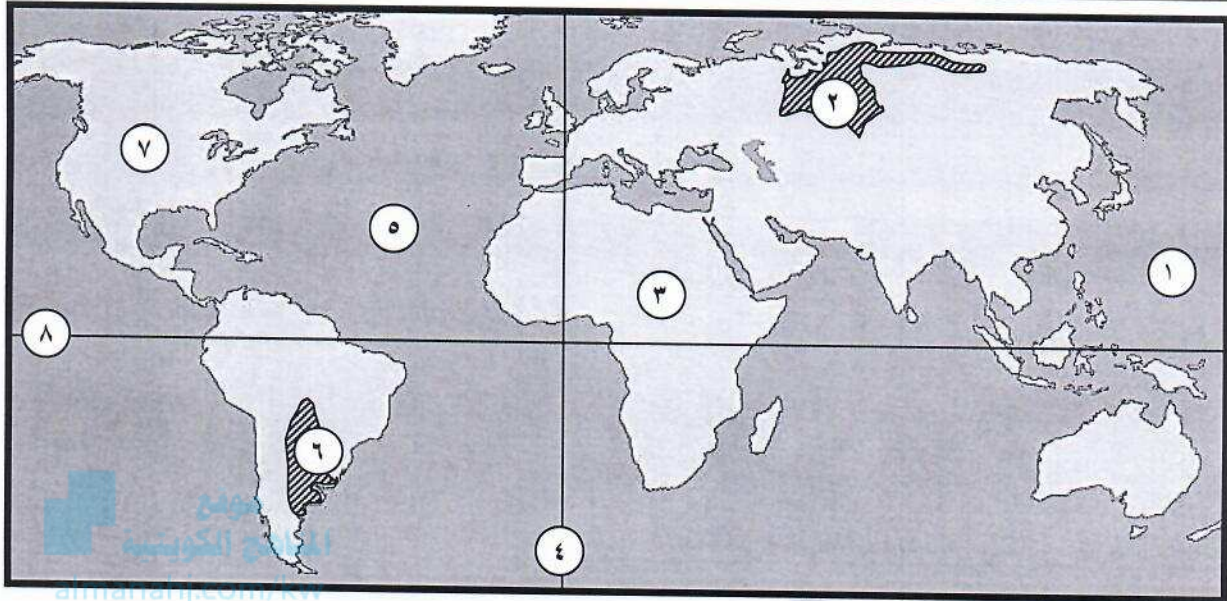


(ج) صنّف مميزات وعيوب التجارة الدولية الآتية حسب المطلوب في الجدول التالي :- ص ٩٩

((دعم النمو الاقتصادي - انتشار التلوث البيئي - تعزز العلاقات بين الدول - اختلاف العملات - توافر فرص العمل))

عيوب التجارة الدولية	مميزات التجارة الدولية
انتشار التلوث البيئي اختلاف العملات	دعم النمو الاقتصادي تعزز العلاقات بين الدول توافر فرص العمل

(د) لاحظ الخريطة التي أمامك ثم أجب عن الأسئلة التالية :-



- المحيط الهادي يمثل على الخريطة الرقم ١ . ص ٢٠
- قارة أفريقيا يمثلها على الخريطة الرقم ٣ . ص ٢٠
- سهول سيبيريا يمثلها على الخريطة الرقم ٢ . ص ٢٥
- خط الاستواء يمثل على الخريطة الرقم ٨ . ص ١٩

(هـ) اختر من المجموعة (أ) ما يناسبها من المجموعة (ب) بوضع الرقم المناسب أمامها :

المجموعة (ب)	الرقم	المجموعة (أ)
التلوث الهوائي	٤	١- ضجيج أعمال البناء وآلات المصانع . (ص ٦٩)
التلوث المائي	٣	٢- قطع الأشجار والرعي الجائر . (ص ٦٧)
التلوث الحراري		٣- التسريب النفطي أثناء تصدير البترول وغسل خزانات ناقلات البترول . (ص ٦٤)
التلوث الضوضائي	١	٤- ذرات الرماد والأتربة المؤثرة على عملية التنفس . (ص ٦٣)
تلوث التربة	٢	

(و) اختر البديل المناسب من بين البدائل التي تلي كل عبارة وضع تحته خط :-



١- الصورة المقابلة لعالم استخدم مصطلح علم البيئة الطبيعية يسمى : ص ١٦

* نوبل * وانجاري ماثي * هنري ديفيد * مايكل فالون *

٢- تقع الأقاليم المناخية الحارة في العالم بين دائرتي عرض : ص ٢٧

* خط الاستواء (صفر) - ٣٠ شمالاً وجنوباً * ٣٠ - ٤٠ شمالاً وجنوباً *

* ٤٠ - ٦٠ شمالاً وجنوباً * ٦٠ - ٩٠ شمالاً وجنوباً *

موقع
المناهج الكويتية
almanahj.com/kw

٣- نسبة ما تغطيه البحار والمحيطات من مساحة الكرة الأرضية حوالي : ص ٣٠

* ٤١ % * ٥١ % * ٦١ % * ٧١ % *

٤- عدد الآبار النفطية التي تعرضت لعمليات تفجير وحرق عند تحرير دولة الكويت من الغزو العراقي الغاشم عام ١٩٩١م :

* ٧٣٧ بئر * ٧٥٧ بئر * ٧٧٧ بئر * ٧٩٧ بئر * ص ٦٣

٥- تُعرف وحدة قياس ضغط الصوت باسم : ص ٦٩

* تشرنوبل * التندرا * الديسيبل * GPS *

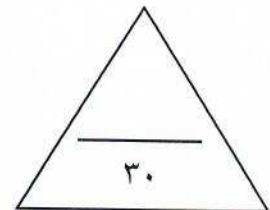
٦- الغاز الذي أدت زيادة كميته إلى اضطراب الأنظمة البيئية وحدثت ظاهرة الاحتباس الحراري يسمى : ص ٨٠

* الأكسجين * الكبريت * ثاني أكسيد الكربون * النتروجين *

٧- الصورة المقابلة تمثل أحد المشكلات المؤثرة في العلاقات الاقتصادية الدولية هي : ص ١٠١



* مشكلة الاحتباس الحراري * مشكلة الهجرة الدولية * مشكلة الغذاء * مشكلة الطاقة *



السؤال الثاني : (مقال) ويتكون من (أ - ب) :-

(أ) إقرأ الفقرة التالية ثم أجب عما يليها من أسئلة :

للبيئة الطبيعية أهمية كبيرة في حياتنا ، فهي محيطنا الذي نعيش فيه ، وتنقسم البيئة إلى قسمين هامين لا غنى لهما عن بعضهما ، وتعتبر أحد أضلاع مثلث الحياة ، حيث يجب أن يحافظ كل ضلع على العلاقة التبادلية والاعتمادية بينه وبين بقية أضلاع المثلث ، أما إذا تحولت العلاقة بينهم إلى علاقة تنافسية فإن ذلك يعني الموت للإنسان .

١- ماذا نقصد بالبيئة ؟ (درجة) ص ١٥

هي الإطار الذي يعيش فيه الإنسان ويحصل فيه على مقومات حياته ويتفاعل فيها مع عناصر البيئة الأخرى .

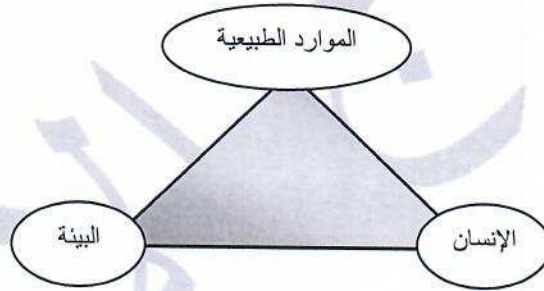
٢- عدد - أقسام البيئة . (درجتان - ويكتفى بكتابة المصطلحين فقط دون التعريف) ص ١٥

* البيئة غير الحية : تمثل (التربة والماء والضوء والحرارة والرطوبة والرياح) حيث تساعد هذه القوى الجسم على التكيف .

almanahj.com/kw

* البيئة الحية : وتمثل الكائنات الحية التي تعيش في تلك البيئة .

٣- ارسم مثلث توضح من خلاله أضلاع مثلث الحياة . (٣ درجات) ص ١٧



(ب) عرف ما يلي :

١- التضاريس : يقصد بها الملامح الرئيسية لشكل سطح الأرض من مرتفعات ومنخفضات وأودية وسهول . (درجة) ص ٢٣

٢- التلوث البيئي : أي تغير غير مرغوب فيه في الخواص الطبيعية أو الكيميائية أو البيولوجية للبيئة المحيطة والذي قد

يتسبب في إضرار الحياة والكائنات الأخرى . (درجة) ص ٦٢

٣- العلاقات الدولية : هي كافة التفاعلات الدولية وحركات الشعوب وتبادل السلع والأفكار وتشمل العلاقات السياسية

والاقتصادية والاجتماعية والثقافية . (درجة) ص ٩١

٤- المساعدات المالية : هي عبارة عن تقديم قروض أو منح مالية أو تبديل دين . (درجة) ص ١٠٥

السؤال الثالث : (مقال) ويتكون من (أ - ب) :-
(أ) علل لما يأتي :-

١- تعد السهول من أفضل مناطق الاستقرار البشري . (درجتان - يكتفى بإجابتين) ص ٢٤

* تعتبر موانئ طبيعية . * سهولة بناء المساكن عليها .

* تركز السكان فيها لسهولة التنقل .

٢- ندرة المياه في دول مجلس التعاون لدول الخليج العربية . (درجتان - يكتفى بإجابتين) ص ٧٨

* زيادة النمو السكاني . * التوسع العمراني والتنموي . * الموقع الجغرافي ذو المناخ الصحراوي .

* عدم وجود أنهار دائمة . * قلة سقوط الأمطار . * ارتفاع نسبة الملوحة بالمياه الجوفية .

almanahj.com/kw

٣- حدوث ظاهرة الاحتباس الحراري بكوكب الأرض . (درجتان - يكتفى بإجابتين) ص ٨٠

* التغيرات التي تحدث لمدار الأرض حول الشمس وما نتج عنها من تغير كمية الاشعاع الشمسي الذي يصل للأرض .

* التغير في نسب مكونات الغلاف الجوي . * الانفجارات البركانية . * إزالة الغابات بمساحات كبيرة .

* استعمال الوقود الأحفوري (نפט - فحم - غاز) ساهم في زيادة تركيز غاز ثاني أكسيد الكربون في الجو ، ونجم عنه

زيادة درجة حرارة الجو .

(ب) فرّق بين كل من :-

الموقع النسبي	الموقع المكاني
موقع الدولة بالنسبة لليابس والماء . (درجة) ص ٢٠	موقع الدولة في مكان معين . (درجة) ص ٢٠
التلوث الضوضائي المؤقت	التلوث الضوضائي المزمّن
يكون غير دائم ويستمر لفترات محدودة فقط ، مثل ضجيج الأماكن المزدحمة ، ويؤدي لحدوث بعض الأضرار البسيطة كالتعرض لضعف السمع المؤقت . (درجة) ص ٦٩	يكون بشكل مستمر وبدون توقف وينتج عنه خلل مستديم في السمع . (درجة) ص ٦٩

السؤال الرابع : (مقالى) ويتكون من (أ - ب) :-

(أ) أجب عن الأسئلة الآتية :-

١- عدّد - عناصر المناخ . (درجتان - يكتفى بإجابتين) ص ٢٧

- * الرياح .
* درجة الحرارة .
* الرطوبة .
* الضغط الجوي .
* الأمطار .

٢- ما هي مقترحاتك للمحافظة على المياه في دول العالم ؟ (درجتان - يكتفى بإجابتين) ص ٧٧

- * بناء محطات لتحلية مياه البحر .
* بناء محطات لمعالجة مياه الصرف .
* الحد من الإفراط في سحب المياه الجوفية .
* بناء السدود لتخزين مياه الأمطار .
* التوعية بوسائل الإعلام المختلفة بأهمية المياه .
* سن القوانين للحد من هدر المياه .
(أو أي إجابة يراها المصحح مناسبة) .

٣- عدّد - أشكال العلاقات الدولية . (درجتان - يكتفى بإجابتين) ص ٩١

- * علاقات سياسية .
* علاقات اقتصادية .
* علاقات اجتماعية .
* علاقات ثقافية .

(ب) قارن بين كل مما يلي :-

أوجه المقارنة	خطوط الطول ص ١٨	دوائر العرض ص ١٩
عددها	١٨٠ خط شرقاً - ١٨٠ خط غرباً أو ٣٦٠ خطاً (درجة)	٩٠ شمالاً - ٩٠ جنوباً أو ١٨٠ دائرة (درجة)
أهميتها	• تساعد على تعيين الزمن (معرفة الوقت) بين الأماكن على سطح الأرض . (درجة)	• تساعد على تقسيم الكرة الأرضية إلى أقاليم مناخية . (درجة)



انتهت الأسئلة ونرجو لك التوفيق