



وزارة التربية

الإدارة العامة لمنطقة الأحمدى التعليمية  
التوجيه الفني للإجتماعيات

العام الدراسي: ٢٠١٨/٢٠١٩م  
الزمن: ساعة و ٤٥ دقيقة  
عدد الأوراق: ( ٤ )

امتحان نهاية الفترة الدراسية الثانية  
لمقرر الكويت والعالم  
للسف التاسع

الإجابة  
النموذجية

نموذج الإجابة  
محتوى  
الفترة الدراسية الثانية

السؤال الأول : ( موضوعي ) يتكون من ( أ - ب - ج ) لكل نقطة درجة = ١٨ درجة

أ- أكمل العبارات التالية بما يناسبها مما درست : لكل اجابة درجة واحدة = ٦ درجات

١- أول مستوطنة بريطانية في استراليا كانت في مدينة تسمى: ص ٨٧

٢- الأداة التي تدير شؤون الدولة وتنظمها داخليا وخارجيا تسمى: ص ١٠٣

٣- يتكون التحالف الثلاثي من ألمانيا والنمسا ودولة أخرى تسمى : ص ١١٥

٤- عقد مؤتمر الصلح في باريس سنة ١٩١٩م في قصر يسمى: ص ١١٩

٥- مرض فيروسي يصيب الطيور، ينتقل إلى الانسان عن طريق الطيور المصابة يسمى: ١٣٦ أنفلونزا الطيور

٦- انضمت دولة الكويت إلى هيئة الأمم المتحدة في عام : ص ١٥٠

ب- اكتب المفاهيم والمصطلحات الدالة على العبارات التالية : لكل اجابة درجة واحدة = ٦ درجات

المصطلح أو المفهوم	العبارات
١- المشكلات السكانية	الصعوبات والعقبات التي تقف في وجه الطاقة البشرية بتعطيل حركتها دون القيام بدورها في الإنتاج والبناء. ص ٨٢
٢- السبخة	عبارة عن أرض تبخر عنها الماء وبقيت عليها طبقة مالحة . ص ٨٥
٣- الديمقراطية	كلمة يونانية تعني شكل من أشكال السلطة يكون الحكم بمقتضاه بيد الشعب . ص ١٠٤
٤- عصر النهضة	عصر التغييرات الكبيرة في كل ميادين الحياة المادية والفكرية . ص ١١٥
٥- الطاقة	القوى المحركة اللازمة لإدارة الآلات. ص ١٢٨
٦- الصندوق الكويتي للتنمية الاقتصادية	مؤسسة اقتصادية أنشأتها دولة الكويت في ديسمبر سنة ١٩٦١م لتوزيع المعونات المالية والفنية المقدمة للدول النامية . ص ١٤٤

ج- ضع دائرة حول العنصر الذي لا ينتمي للعبارات التالية : لكل اجابة درجة واحدة = ٦ درجات

١- العوامل الاقتصادية المؤثرة في توزيع السكان في العالم : ص ٨٣

د - الزراعة

ج- الصناعة

ب- التربة

أ- الرعي

٢- أهم مظاهر السطح في الهند : ص ٩٠

د - جزيرة هوكايدو

ج- نهر الكنج

ب- هضبة الدكن

أ- جبال الهملايا

٣- مبادئ الديمقراطية : ص ١٠٥

د - حكم الشعب

ج- المساواة

ب- الحرية

أ- الدكتاتورية

٤- موارد المال العام : ص ١٠٧

د - الممتلكات الخاصة

ج- القروض

ب- الضرائب

أ- الرسوم الجمركية

٥- دول المحور في الحرب العالمية الثانية : ص ١٢٤

د - اليابان

ج- فرنسا

ب- ايطاليا

أ- ألمانيا

٦- مصادر الطاقة المتجددة ( الدائمة ) : ص ١٢٩

د - الأمواج

ج- الرياح

ب- الشمس

أ- النفط


تابع / نموذج اجابة امتحان نهاية الفترة الدراسية الثانية - الصف التاسع - الاجتماعيات - " الكويت والعالم " - للعام الدراسي ٢٠١٨-٢٠١٩ م

**السؤال الثاني : ( موضوعي ) يتكون من ( أ - ب ) لكل نقطة درجة = ١٢ درجة**

**أ- اكتب مدلولات الصور التالية بالاستعانة بما يقابلها من عبارات : لكل اجابة درجة واحدة = ٦ درجات**



٢- معلم مهم من معالم الديمقراطية : ص ١٠٤  
**الانتخابات**



١- من وسائل الاتصال تمكن من جعل العالم يبدو أصغر حجما : ص ٩٥  
**التلفزيون**



٤- ظاهرة اكتشفت فوق القطب الجنوبي  
ص ١٣٤ .  
**ثقب الأوزون**



٣- دعى إلى قيام ألمانيا الكبرى واعتمد على  
القومية العنصرية : ص ١٢٢  
**هتلر**

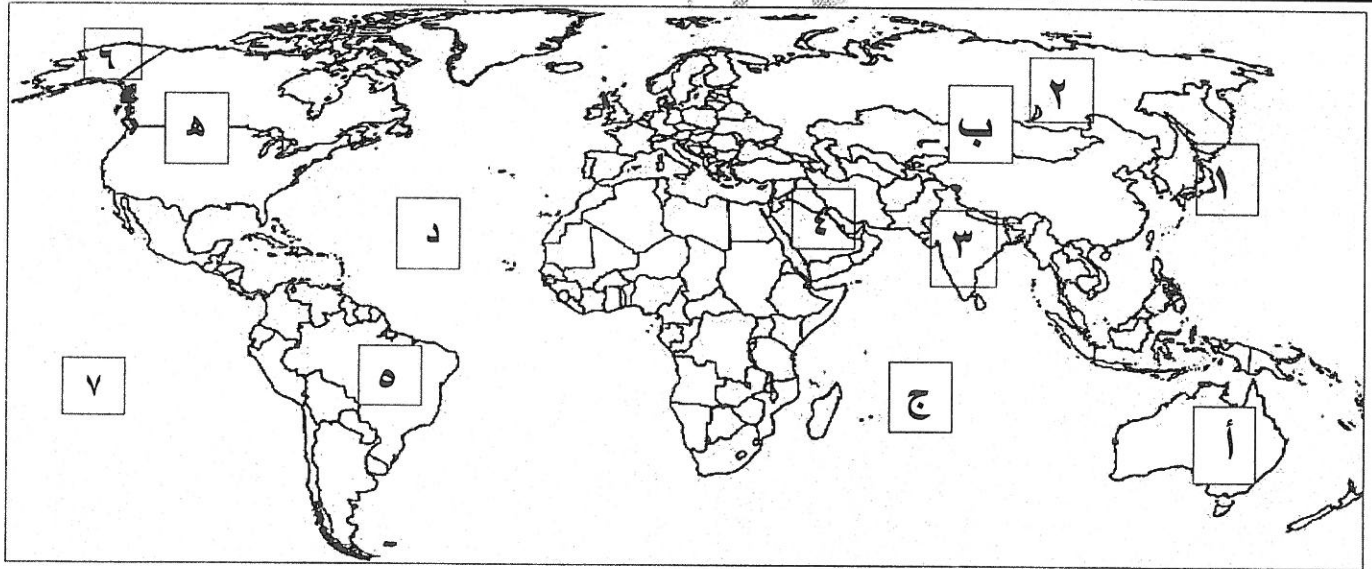


٦- يوم مهم في تاريخ دولة الكويت  
حدث في ٢٦ فبراير ١٩٩١ م:  
ص ١٤٨  
**تحرير دولة الكويت**



٥- ألقبت على مدينة هيروشيما اليابانية  
ص ١٢٥  
**القنبلة الذرية**

**ب - لاحظ الخريطة التالية ثم أجب عن المطلوب في العبارات التي تليها : لكل اجابة درجة واحدة = ٦ درجات**



- أكبر قارات العالم مساحة تحمل على الخريطة الحرف **ب** ص ٧٩
- المحيط الهندي يحمل على الخريطة الحرف **ج** ص ٨٩
- قارة استراليا تحمل على الخريطة الحرف **أ** ص ٧٩
- دولة قامت فيها الثورة الشيوعية سنة ١٩١٧ م تحمل على الخريطة الرقم **٢** ص ١٢٠
- دولة تعتبر المستورد الأول للنفط في قارة آسيا تحمل على الخريطة الرقم **١** ص ١٣٢
- موقع دولة الكويت يمثل على الخريطة الرقم **٤** ص ١٤٣

**السؤال الثالث : ( مقال ) يتكون من ( أ - ب - ج ) لكل اجابة درجة واحدة = ١٥ درجة**

أ - اقرأ الفقرة التالية ثم أجب عما يليها من أسئلة : ص ١٣٤

تحدث ظاهرة الاحتباس الحراري بسبب ملوثات الهواء كالمغازات والغبار ويعتبر غاز ثاني أكسيد الكربون هو الغاز الأساسي المسبب لظاهرة الاحتباس الحراري ، ويترتب عليها مجموعة من الآثار المناخية الضارة بالبيئة .

١- استخرج من الفقرة السابقة اسم الغاز الأساسي المسبب لظاهرة الاحتباس الحراري . (درجة واحدة)

-غاز ثاني أكسيد الكربون

٢- عدد الآثار المناخية المترتبة على ظاهرة الاحتباس الحراري ( مما درست ) . يكتفى بنقطتين (درجتان)

-ارتفاع درجة حرارة سطح الأرض مع ازدياد الملوثات الهوائية .

- حدوث الجفاف والتصحر في بعض المناطق.

- ذوبان الجليد في المناطق القطبية والمرتفعات الجبلية مما يؤدي لحدوث الفيضانات وارتفاع مناسيب مياه الأنهار والبحار والمحيطات.

ب-قارن بين مايلي : لكل اجابة درجة واحدة = ٦ درجات

وجه المقارنة	الحرب العالمية الأولى	الحرب العالمية الثانية
الفترة الزمنية	١٩١٤م - ١٩١٨م (درجة واحدة)	١٩٣٩م - ١٩٤٥م (درجة واحدة)
نتائج الحرب	- عقد مؤتمر الصلح في قصر فرساي لإقرار السلام في أوروبا. - اختفاء أربع امبراطوريات عريقة (الألمانية - الروسية - النمساوية - التركية) . - فرض غرامة مالية كبيرة على الدول المهزومة . - فرض القيود على الجيش والأسطول الألماني من حيث العدد والتسلح . - فقدان ألمانيا لأجزاء من أراضيها وتجريدها من كافة مستعمراتها. <u>يكتفى بنقطتين ص ١١٩-١٢٠ (درجتان)</u>	- عدلت خريطة أوروبا السياسية من جديد. - قضى على النازية والفاشية وحوكم زعمائها كمجرمي حرب. - انقسمت ألمانيا إلى قسمين (شرقية - غربية) - خرجت الولايات المتحدة والاتحاد السوفيتي من الحرب كأكبر دولتين في العالم - تراجعت قوة بريطانيا وفرنسا. <u>يكتفى بنقطتين ص ١٢٦ (درجتان)</u>

ج- اكتب اثنين لكل مما يلي : لكل اجابة درجة واحدة = ٦ درجات

١- أهم الصناعات اليابانية . (درجتان) يكتفى بنقطتين ص ٩٤

-وسائل النقل. - الصناعات الكيماوية. - الأجهزة والأدوات الكهربائية .

٢- العناصر التي تحدد الرأي العام. (درجتان) يكتفى بنقطتين ص ١٠٦

-وجود قضية أو مسألة تكون محل اهتمام الناس.

-وجود عدد من الأفراد لديهم اهتمام بالقضية ( وجود جمهور للرأي العام ).

-التعبير أو الإفصاح عن الرأي أو وجهة النظر سواء بالكلمة المكتوبة أو المنطوقة.

٣- جهود المؤسسات الخيرية الكويتية. (درجتان) يكتفى بنقطتين ص ١٤٥

- تقديم المساعدات المادية والعينية والهبات لضحايا الحروب والكوارث والمجاعات واللاجئين في أسرع وقت .

- إقامة مشاريع تنموية (زراعية- صناعية ) وتشغيل الأيدي العاملة .

-بناء المساجد والمراكز الإسلامية والمدارس والمستشفيات في كثير من دول العالم .


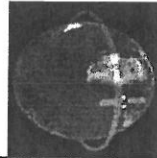


تابع /نموذج اجابة امتحان نهاية الفترة الدراسية الثانية - الصف التاسع - الاجتماعيات - "الكويت والعالم"- للعام الدراسي ٢٠١٨-٢٠١٩م



**السؤال الرابع : ( مقال ) يتكون من ( أ - ب - ج ) لكل اجابة درجة واحدة = ١٥ درجة**

**أ- فرق بين ما يلي : لكل اجابة درجة واحدة = ٤ درجات**

١- مميزات الأقمار الصناعية التالية حسب نوع المدار الذي تسلكه. ص ٩٦

	أقمار تدور حول الارض بموازاة خط الاستواء		أقمار تدور حول الارض من القطب إلى القطب.
هي قليلة الاستعمال وعالية الكلفة (درجة واحدة)		تتميز بقدرة على تغطية كل الأرض (درجة واحدة)	

٢- موقف المنظمات الدولية التالية من الغزو العراقي على دولة الكويت . ص ١٤٩

	مجلس التعاون لدول الخليج العربية يكتفى بنقطة واحدة (درجة واحدة)		منظمة المؤتمر الاسلامي يكتفى بنقطة واحدة (درجة واحدة)
- طالب فور وقوع الاعتداء بالانسحاب العراقي من دولة الكويت وعودة الشرعية - في البيان الختامي للقمة الحادية عشر التي عقدت في الدوحة أكد المجلس على ضرورة عودة الحق إلى أصحابه وعودة الشرعية. - وضع جميع الإمكانيات المادية والعسكرية لتحرير دولة الكويت.		-أدانت العدوان العراقي على دولة الكويت متمثلة بمؤتمر وزراء خارجية الدول الإسلامية -إصدار بيانا يشجب فيه العدوان ويطالب العراق بالانسحاب الفوري والالتزام بمبادئ ميثاق منظمة المؤتمر الإسلامي .	

**ب- برهن على صحة العبارات التالية : لكل اجابة درجة واحدة = ٦ درجات**

- ١- تعاني الدول النامية من مشكلات سكانية واقتصادية واجتماعية عديدة .  
- مشكلة سوء توزيع السكان .  
- مشكلة النمو السكاني السريع .
- ٢- تساهم التنمية الاجتماعية في تنمية الموارد البشرية.  
- رفع الكفاءة الإنتاجية للقوى البشرية .  
- توفير الخدمات العامة بأنواعها .  
- رفع مستوى المعيشة للسكان .
- ٣ - يعد النفط والغاز الطبيعي مادة استراتيجية مهمة في عصرنا الحاضر .  
- توفرها بكميات كبيرة في مناطق محددة .  
- سهولة نقلها وتخزينها .  
- يعتبران مادتان هامتان وقت السلم والحرب .

**ج- فسر المفاهيم والمصطلحات التالية : لكل اجابة درجة واحدة = ٥ درجات**

- ١- الاقيانوسيا : ص ٨٥ :قارة أستراليا والجزر المحيطة بها.
- ٢- الأسطول : ص ٩٤ :مجموعة من السفن.
- ٣- الادخار: ص ١٠٨ :اقتطاع جزء من الدخل بشرط يأخذ طريقه إلى الاستثمار.
- ٤- النازية : ص ١٢٣ : هي اختصار لكلمتين ألمانيتين تعني أولهما قومي أو وطني والثانية الاشتراكية (الاشتراكية الوطنية).
- ٥- المنظمة الاقليمية: ص ١٤٣ :مجموعة من الدول تقع في منطقة جغرافية معينة من العالم تنشأ بينها علاقات تدعو إلى تكوين منظمة للتعاون بينها في سبيل حل مشاكلها .

تم التحميل من:



انتهت الاجابة ،،،