

تم تحميل هذا الملف من موقع المناهج الكويتية



الملف نموذج اختبار تقويمي أول

[موقع المناهج](#) ← [المناهج الكويتية](#) ← [الصف العاشر](#) ← [رياضيات](#) ← [الفصل الثاني](#)

روابط مواقع التواصل الاجتماعي بحسب الصف العاشر



روابط مواد الصف العاشر على تلغرام

[الرياضيات](#)

[اللغة الانجليزية](#)

[اللغة العربية](#)

[التربية الاسلامية](#)

المزيد من الملفات بحسب الصف العاشر والمادة رياضيات في الفصل الثاني


<a href="#">ملخص</a>	1
<a href="#">مذكرة إثرائية محلولة من علام مع مراعاة الدروس المعلقة</a>	2
<a href="#">عاشر رياضيات حل الاحصاء</a>	3
<a href="#">عاشر رياضيات نموذج إجابة اختبار</a>	4
<a href="#">عاشر 2</a>	5

# نماذج

## الاختبار التقويمي الأول

### الصف العاشر

الفصل الدراسي الثاني



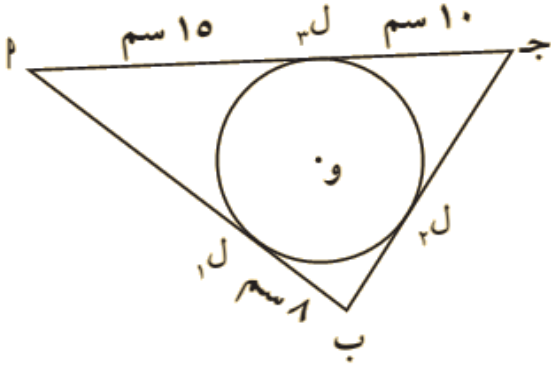
العام الدراسي

٢٠٢٤ / ٢٠٢٥ م





السؤال الأول:



في الشكل المقابل أوجد محيط المثلث P ب ج

.....  
.....  
.....  
.....

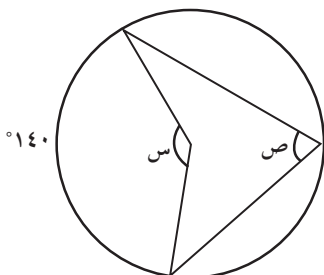
السؤال الموضوعي:

(١) ظلل (أ) إذا كانت العبارة صحيحة، وظلل (ب) إذا كانت العبارة خاطئة:

- (أ) (ب)

القطر العمودي على وتر في دائرة ينصفه وينصف كل من قوسيه.

(٢) ظلل رمز الدائرة الدال على الإجابة الصحيحة:



في الشكل المقابل، قيمة كل من س، ص على الترتيب هما:

- (أ) ٥٢٨٠، ٥١٤٠  
(ب) ٥٧٠، ٥٣٥  
(ج) ٥٤٠، ٥١٤٠  
(د) ٥٧٠، ٥١٤٠















