

تم تحميل هذا الملف من موقع المناهج الكويتية



الملف نموذج إجابة مبارك الكبير

[موقع المناهج](#) ← [المناهج الكويتية](#) ← [الصف السابع](#) ← [اجتماعيات](#) ← [الفصل الأول](#)

روابط مواقع التواصل الاجتماعي بحسب الصف السابع



روابط مواد الصف السابع على تلغرام

[الرياضيات](#)

[اللغة الانجليزية](#)

[اللغة العربية](#)

[التربية الاسلامية](#)

المزيد من الملفات بحسب الصف السابع والمادة اجتماعيات في الفصل الأول

<a href="#">كتاب الطالب في مادة الاجتماعيات للعام الدراسي 2018</a>	1
<a href="#">حل الوحدة الاولى في مادة الاجتماعيات</a>	2
<a href="#">تلخيص رائع في مادة الاجتماعيات</a>	3
<a href="#">حل الوحدة الثانية في مادة الاجتماعيات</a>	4
<a href="#">تلخيص ممتاز في مادة الاجتماعيات</a>	5

نموذج

الإجابة



وزارة التربية

نموذج إجابة امتحان نهاية الفترة الدراسية الأولى العام الدراسي : ٢٠٢١ / ٢٠٢٢

التوجيه الفني للاجتماعيات

لمقرر دولة الكويت والوطن العربي

الزمن : ساعة و ٤٥ دقيقة

الإدارة العامة لمنطقة مبارك الكبير التعليمية

للسف السابع

عدد الأوراق : ٦



أجب عن جميع الأسئلة :

السؤال الأول : موضوعي يتكون من ( أ - ب - ج - د - هـ - و - ز )  
( أ ) أكمل العبارات التالية بما يناسبها مما درست :- ( ٥ درجات لكل نقطة درجة )

١- أكبر الدول العربية في قارة آسيا تسمى المملكة العربية السعودية

٢- يصب نهر دجلة والفرات في مسطح مائي يسمى الخليج العربي

٣- المسطح المائي الذي يحد الوطن العربي من جهة الغرب يسمى المحيط الاطلسي

٤- أكثر الأشكال التضاريسية انتشارا في الوطن العربي تسمى الهضاب

٥- انضمت جمهورية جزر القمر إلى جامعة الدول العربية عام ١٩٩٣م

( ب ) ضع خطا تحت الخيار الصحيح من بين الخيارات التي تلي كل عبارة :- ( ٥ درجات لكل نقطة درجة )

١- من محطات تحلية مياه البحر في دولة الكويت محطة : ص ٦١

أ- رأس عبود      ب- أبو فنتاس      ج- الشويخ      د- العبدلي

٢- تقع جبال مرة في الجناح الأفريقي في دولة عربية : ص ٣٨

أ- عمان      ب- ليبيا      ج- السودان      د- المغرب

٣- نزل الوحي على سيدنا محمد صلى الله عليه وسلم عام : ص ٩٠

أ- ٦٠٩ م      ب- ٦١٠ م      ج- ٦١١ م      د- ٦١٢ م

٤- يطلق على حشائش الاستبس في بلاد المغرب العربي : ص ٥٢

أ- العرفج      ب- الصنوبر      ج- الحلفا      د- الصبار

٥- تمثل مساحة الوطن العربي من جملة مساحة العالم حوالي : ص ٢٣

أ- ١٠%      ب- ١٥%      ج- ٢٠%      د- ٢٥%

( ١ )



( ج ) اكتب المفاهيم أو المصطلحات الدالة على العبارات التالية :- ( ٥ درجات لكل نقطة درجة )

١	أي موقع ذي مكانة مهمة بين دول العالم .	الموقع الاستراتيجي ص ٢٨
٢	وزن الهواء فوق أي مكان	الضغط الجوي ص ٤٤
٣	موقع الدولة بالنسبة لليابسة والماء.	الموقع النسبي ص ٣٣
٤	الأراضي المنبسطة التي تجاور سواحل البحار والمحيطات .	السهول الساحلية ص ٤٢
٥	مجرى مائي صناعي ضيق يشق لأغراض الري أو النقل.	القناة ص ٢٨

( د ) صوب ما تحته خط في العبارات التالية وذلك بكتابة التصويب فيما بين القوسين : ( ٥ درجات لكل نقطة درجة )

- ١- يربط مضيق هرمز بين خليج عمان وخليج عدن . ص ٢٩ ( الخليج العربي )
- ٢- الدولة العربية التي يمر بها خط الاستواء تسمى المغرب . ص ٣٢ ( الصومال )
- ٣- يطلق على الرياح المحلية التي تهب على دولة الكويت اسم رياح الخماسين . ص ٤٨ ( الطوز )
- ٤- تقع جبال الأحجار في دولة عربية تسمى اليمن . ص ٣٨ ( الجزائر )
- ٥- القارة المجاورة للوطن العربي من جهة الشمال تسمى استراليا . ص ٣٣ ( أوروبا )







تابع / نموذج إجابة امتحان نهاية الفترة الدراسية الأولى - الكويت والوطن العربي - للصف السابع المتوسط - للعام الدراسي ٢٠٢١-٢٠٢٢  
( هـ ) صنف الأسماء التالية حسب الجدول: ( ٣ درجات ) ص ٩٠ ( ٣ درجات لكل نقطة درجة )

القرآن الكريم - التوراة - الإنجيل

الكتب السماوية	النبي	الديانة
القرآن الكريم	سيدنا محمد صلى الله عليه وسلم	الإسلام
الإنجيل	سيدنا عيسى عليه السلام	المسيحية
التوراة	سيدنا موسى عليه السلام	اليهودية

( و ) لاحظ الصور التي أمامك ثم اكتب اسم المعلم الحضاري التابع لها أسفل كل صورة. ص ٧٢-٧٣  
( ٣ درجات لكل نقطة درجة )

almanahj.com/kw



٢- اسد بابل



١- الاهرامات



٣- آثار تدمر



( ز ) لاحظ خريطة الوطن العربي الصماء ، ثم نفذ المطلوب فيما يلي :- ( ٤ درجات لكل نقطة درجة )

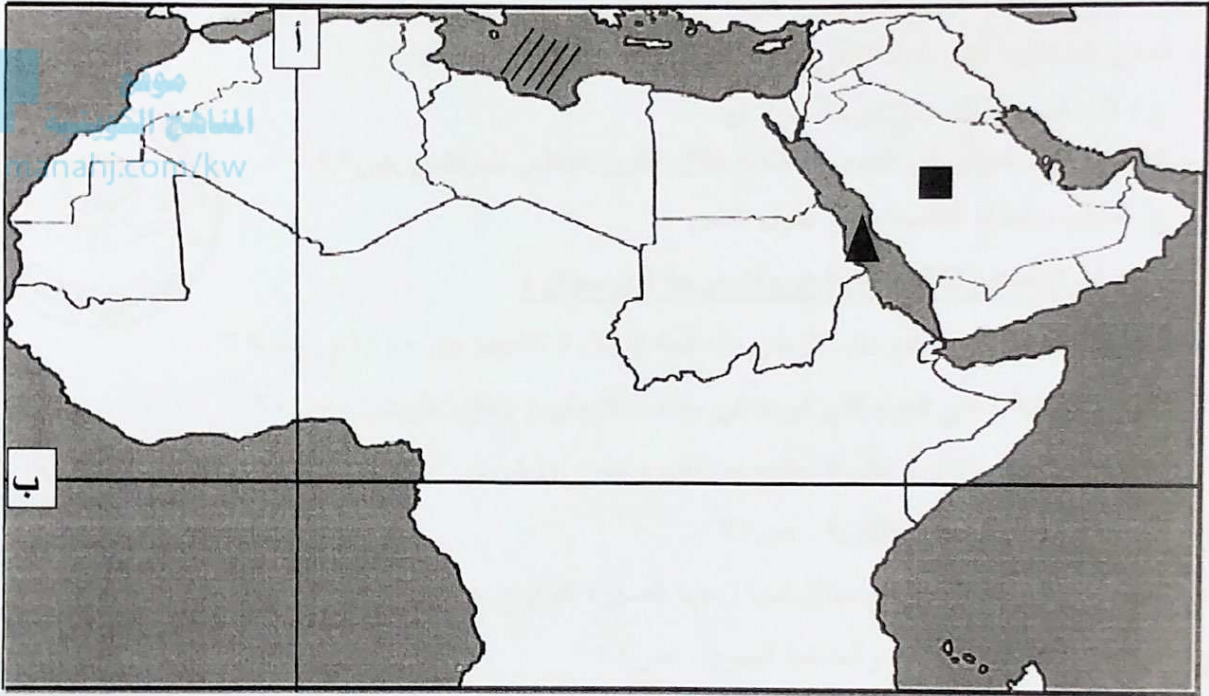


( ١ ) الرمز ▲ يمثل مسطح مائي يسمى البحر الاحمر ص ٤٢

( ٢ ) الرمز ■ يمثل هضبة تسمى نجد ص ٤٠

( ٣ ) خط الطول الرئيسي غرينتش يمثله على الخريطة الحرف ( أ ) ص ٣١

( ٤ ) ظل البحر المتوسط بوضع الشكل // // // // // ص ٣٣







**السؤال الثاني مقال: يتكون من ( أ - ب - ج ) .**

**( أ ) علل لما يلي : (٤ درجات لكل سؤال)**

- ١- تنافس الدول الاستعمارية في السيطرة على دول الوطن العربي . ص ٣٥  
ج / بسبب أهمية موقع الوطن العربي الجغرافية .
- ٢- الأهمية الاقتصادية للوطن العربي . ص ٣٥  
ج / أ- منطقة عبور لحركة الملاحة و التجارة العالمية ب- الجسر الذي يربط قارات العالم الثلاث (افريقيا - اسيا - أوروبا ) بمواردها الهائلة و الضخمة /سكان الوطن العربي يشكلون ٥٪ من سكان العالم/ظهور النفط بكميات كبيرة بمنطقة الخليج العربي و شبه الجزيرة العربية و بعض مناطق شمال افريقيا .
- ٣- المدن الساحلية أكثر اعتدالا في المناخ صيفا وأدنى شتاء . ص ٤٦  
ج / لأن البحر يلطف من درجة حرارتها
- ٤- كانت أوروبا تعيش في عصور مظلمة خلال القرن العاشر الميلادي . ص ٩٢  
ج / بسبب سيطرة الكنيسة على عقول الناس



**( ب ) عرف المفاهيم التالية :- (٥ درجات لكل سؤال)**

- ١- الجبل : هو كل ما ارتفع من الأرض وله قمة لا يقل ارتفاعها عن ١٠٠٠ م . ص ٣٨
- ٢- المياه الجوفية : هي المياه التي توجد في جوف الأرض ( باطن الأرض ) ص ٦٠
- ٣- الحضارة : كل ما يطرأ على المجتمع من تقدم وتطور وراقي في جميع نواحي الحياة الدينية والسياسية والاقتصادية والاجتماعية والفكرية . ص ٧١
- ٤- الطقس : هو حالة الجو في مكان لمدة زمنية قصيرة تتراوح بين يوم أو عدة أيام من حيث درجة الحرارة والرطوبة والأمطار والرياح والضغط الجوي . ص ٤٤
- ٥- النبات الطبيعي: هو النبات الذي ينمو تلقائيا عقب سقوط المطر دون تدخل من الإنسان . ص ٥١

**( ج ) قارن بين كل من حسب الجدول التالي ص ٥٢ : (٦ درجات لكل سؤال - يكفي مثال واحد)**

وجه المقارنة	الغابات المدارية الحارة	الغابات المعتدلة
الخصائص	١- ضخامة أشجارها وجذوعها ٢- تشابك أغصانها ٣- أوراقها العريضة وارتفاعها الكبير	١- عدم كثافتها ٢- بعضها يكون دائم الخضرة وبعضها الآخر تتساقط أوراقه في فصل الشتاء
أمثلة عليها	١- الساج ٢- الماهوجني ٣- التاك ٤- الأبنوس ٥- السدر ٦- الأثل ٧- السنط	١- الأرز ٢- العرعر ٣- الصنوبر الحلبي ٤- البلوط ٥- السنديان ٦- أشجار الزيتون ٧- التفاح ٨- الحمضيات ٩- فواكه برية أخرى
استخداماتها	البناء و صناعة الأثاث	صناعة الفلين



السؤال الثالث مقال: يتكون من ( أ - ب - ج ) .

( أ ) اكتب نقطتين فيما يلي :- ( ٦ درجات لكل نقطة درجة )

- ١- العوامل الرئيسية المؤثرة في تنوع النبات الطبيعي في الوطن العربي . ص ٥١ .  
أ- نوع التربة  
ب- المناخ
- ٢- المقومات الأساسية لقيام الحضارة . ص ٧٣

أ- الموقع الاستراتيجي ب- توافر مصادر المياه العذبة ج- اعتدال المناخ

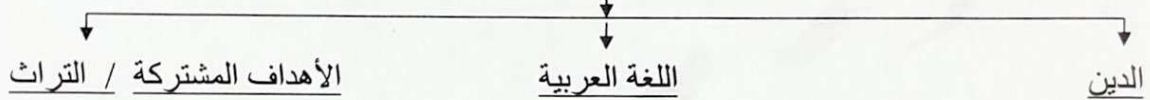
د- توافر الثروات الطبيعية هـ- توافر العنصر البشري

- ٣- مراكز الإشعاع التي ساهمت في انتقال الحضارة العربية الإسلامية إلى قارة أوروبا . ص ٩٢  
أ- الأندلس ب- جزيرة صقلية ج- بلاد الشام

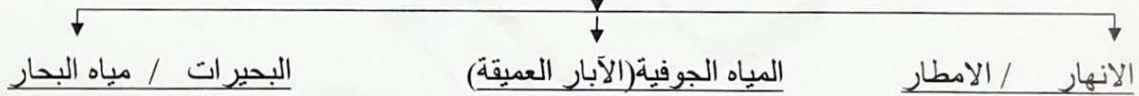


( ب ) أكمل المخططات السهمية التالية :- ( ٦ درجات لكل نقطة درجة )

مقومات الهوية العربية ص ٢٦



مصادر المياه في الوطن العربي ص ٥٧



( ج ) اقرأ العبارة التالية ثم اجب عما يليها من أسئلة :- ص ٣٦ ( ٣ درجات لكل نقطة درجة )

((تكمن الأهمية الحضارية و الثقافية للوطن العربي بأن قامت على أراضيها حضارات عديدة و هبطت على

ارضه الديانات السماوية التي انتشرت في انحاء العالم .))

١- عرف ما تحته خط: الوطن العربي: مجموعة الدول العربية التي يجمعها عدد من السمات المشتركة

(الدين و اللغة ) و يمتد ضمن قارتين من اكبر قارات العالم مساحة. ص ٢٢

٢- عدد الأهمية الحضارية و الثقافية للوطن العربي. ص ٣٦

أ-قامت على أراضيها حضارات عديدة ب- هبطت على ارضه الديانات السماوية .

انتهت الأسئلة ..... تمنياتنا بالتوفيق والنجاح

