

تم تحميل هذا الملف من موقع المناهج الكويتية



الملف نموذج اختبار تقويمي رابع

[موقع المناهج](#) ⇨ [المناهج الكويتية](#) ⇨ [الصف الثالث](#) ⇨ [رياضيات](#) ⇨ [الفصل الأول](#)

روابط مواقع التواصل الاجتماعي بحسب الصف الثالث



روابط مواد الصف الثالث على تلغرام

[الرياضيات](#)

[اللغة الانجليزية](#)

[اللغة العربية](#)

[التربية الاسلامية](#)

المزيد من الملفات بحسب الصف الثالث والمادة رياضيات في الفصل الأول

ورقة عمل حول الترتيب التنازلي والتصاعدي	1
ورقة عمل الوحدة الرابعة	2
نموذج اختبار تحصيلي (1)	3
اوراق عمل مهمة في مادة الرياضيات	4
مذكرة ممتازة في مادة الرياضيات	5

الاختبار التقويهي الرابع

للمصف الثالث

الفصل الدراسي الأول 2023 / 2024

بنود الاختبار	توزيع درجات الاختبار		درجة الاختبار	مدة الاختبار	موعد الاختبار
(٣-٤)	مقال	موضوعي	٥ درجات	لا تتجاوز ١٥ دقيقة من زمن الاختبار	الأسبوع
(٤-٤)					١٢
(٥-٤)					
(٦-٤)	٣	٢			
(٧-٤)					

إشراف المهوجه الفني : أ. شيهه الهطيري



اضبط اختبار نفسك

نموذج (ا)



أولاً:

أ أوجد الناتج :

$$\boxed{} = 4 \div 12$$

$$\boxed{} = 2 \div 18$$

موقع
المناهج الكويتية
almanahj.com/kw

ب كم ه في العدد ٤٠؟



ثانياً : ظلل (أ) إذا كانت العبارة صحيحة و ظلل (ب) إذا كانت العبارة غير صحيحة :

أ ب

$$8 = 4 \div 28$$

أ ب

$$0 = 0 \div 0$$

انتهت الأسئلة ...



إجابة نموذج (أ)



أولاً:

أ أوجد الناتج :

$$\boxed{3} = 4 \div 12$$

$$\boxed{9} = 2 \div 18$$

موقع
المناهج الكويتية
almanahj.com/kw

ب كم ٥ في العدد ٤٠؟

$$8 = 5 \div 40$$

ثانياً : ظلل (أ) إذا كانت العبارة صحيحة و ظلل (ب) إذا كانت العبارة غير صحيحة :

أ ب

$$8 = 4 \div 28$$

أ ب

$$0 = 0 \div 0$$

انتهت الأسئلة ...

نموذج (٢)



أولاً:



أ أكمل :

= × لأن = ٣ ÷ ١٨

المناهج الكويتية
almanahj.com/kw

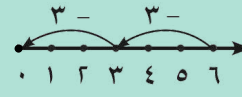
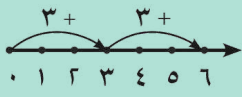
ب أوجد الناتج :

= ٥ ÷ ٣٥

= ٥ ÷ ٢٠

ثانياً : اختر الإجابة الصحيحة بوضع (✓)

• الشكل الذي يمثل ٦ ÷ ٣ فيما يلي هو :



٣٤



٣٥



١



= ١ ÷ ٣٤

انتهت الأسئلة ...



إجابة نموذج (٢)



أولاً:



أ أكمل:

$$18 = 6 \times 3 \quad \text{لأن} \quad 6 = 3 \div 18$$

المناهج الكويتية
almanahj.com/kw

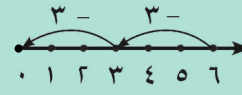
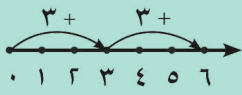
ب أوجد الناتج:

$$7 = 0 \div 30$$

$$4 = 0 \div 20$$

ثانياً: اختر الإجابة الصحيحة بوضع (✓)

• الشكل الذي يمثل $3 \div 6$ فيما يلي هو:



$$= 1 \div 34$$

34



30



1



انتهت الأسئلة ...