




وزارة التربية
الإدارة العامة لمنطقة الأحمدية التعليمية
مدرسة هدية الابتدائية بنين



www.KyeduFiles.Com
الوحدة الخامسة

للمصف الرابع



• أ. عزة علي

إعداد المعلمة

• أ. شيمة المطيري

إشراف رئيسة القسم


• استكشاف وتنمية وكتابة الكمبيوتر

www.KweduFiles.Com


بند (۵-۱)




اكتب رمز الكسر و الاسم اللفظي الذي يعبر عن الأجزاء المظلمة



WWW.KweduFiles.Com





اكتب رمز الكسر و الاسم اللفظي الذي يعبر عن الأجزاء المظلمة




WWW.KweduFiles.Com

اكتب رمز الكسر و الاسم اللفظي الذي يعبر عن الأجزاء المظلمة





www.KweduFiles.Com

اكتب رمز الكسر و الاسم اللفظي له الذي يمثل
عدد العناصر المحوطة من المجموعة





www.KweduFiles.Com



اكتب رمز الكسر و الاسم اللفظي له الذي يمثل عدد العناصر المحوطة من المجموعة



www.KweduFiles.Com



أكمل



◊
—
◊

)
—
◊

◊
—
◊


ما الكسر الذي يمثل العنب الأخضر في هذه
المجموعة ؟



اكتب رمز الكسر الذي عدد أيام

العطل الرسمية خلال الأسبوع؟

WWW.KweduFiles.Com



لون جزءاً واحداً ثم حوِّط الكسر الدال على الجزء الملون فيما يلي

$$\frac{1}{9} , \frac{1}{6} , \frac{1}{3}$$

WWW.KweduFiles.Com

• استكشاف الكسور المتكافئة

بند (٥-٢)

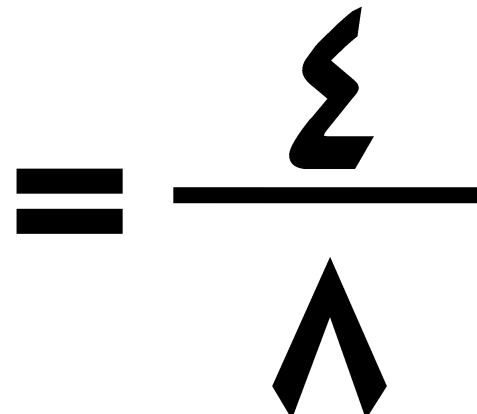
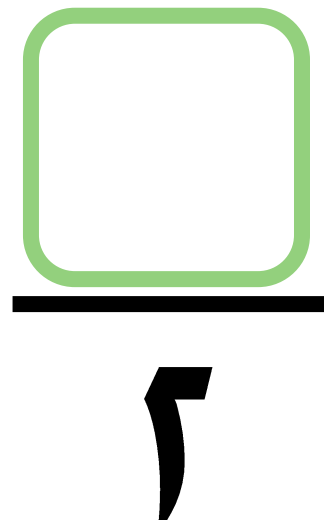



أكمل

)											
$\frac{1}{6}$		$\frac{1}{6}$		$\frac{1}{6}$		$\frac{1}{6}$		$\frac{1}{6}$		$\frac{1}{6}$	
$\frac{1}{12}$	$\frac{1}{12}$	$\frac{1}{12}$	$\frac{1}{12}$	$\frac{1}{12}$	$\frac{1}{12}$	$\frac{1}{12}$	$\frac{1}{12}$	$\frac{1}{12}$	$\frac{1}{12}$	$\frac{1}{12}$	$\frac{1}{12}$

$$\frac{\boxed{}}{12} = \frac{1}{6}$$

أكمل



لون ما يمثل الكسرين ثم اكتب متكافئان أو غير متكافئين

--	--	--

WWW.KweduFiles.Com


$$\frac{2}{3}$$

--	--	--	--	--	--	--	--	--

$$\frac{1}{9}$$

الكسيران _____

ابحث عن النمط ثم أكمل




$$\frac{\quad}{25} < \frac{\quad}{20} < \frac{1}{15} < \frac{4}{10} < \frac{2}{5}$$

www.KweduFiles.Com


الكسور في أبسط صورته

بند (٣-٥)




أكمل

1			
$\frac{1}{4}$	$\frac{1}{4}$	$\frac{1}{4}$	$\frac{1}{4}$
$\frac{1}{2}$		$\frac{1}{2}$	



2

$$= \frac{2}{4}$$



في أبسط صورة =

$$\frac{2}{4}$$

ضع في أبسط صورة ، استخدم رقائق الكسور أو ارسم صورة

www.KweduFiles.Com

$$\frac{\boxed{}}{\boxed{}} = \frac{3}{12}$$

ضع في أبسط صورة ، استخدم رقائق الكسور أو ارسم صورة

www.KweduFiles.Com

$$\frac{\square}{\square} = \frac{5}{14}$$

ضع في أبسط صورة ، استخدم رقائق الكسور أو ارسم صورة

www.KweduFiles.Com

$$\frac{\square}{\square} = \frac{1}{9}$$



اختر الإجابة الصحيحة بوضع

في أبسط صورة =

$$\frac{9}{18}$$

WWW.KweduFiles.Com

$$\frac{3}{9}$$


$$\frac{1}{2}$$

$$\frac{1}{3}$$


$$\frac{3}{6}$$

مقارنة الكسور

بند (٤-٥)



اكتب رمز العلاقة المناسب < أو > أو =



اكتب رمز العلاقة المناسب < أو > أو =


--	--	--	--	--

--	--	--	--	--

$$\frac{5}{5} \quad \bigcirc \quad \frac{3}{5}$$

حوظ رمز الكسر

استعن برفائق الكسور أو بخط الأعداد

$\frac{2}{\sqrt{}}$ 

$\frac{1}{\sqrt{}}$ ، $\frac{2}{\sqrt{}}$ ، $\frac{1}{\sqrt{}}$

حوظ رمز الكسر

استعن برفائق الكسور أو بخط الأعداد

www.KweduFiles.Com

$$\frac{2}{3}$$

$$\frac{1}{3} , \frac{4}{9} , \frac{4}{6}$$

يقول ظلال إن $\frac{3}{8} = \frac{3}{5}$

فهل توافقه الرأي؟ فسر إجابتك

WWW.KwedaFiles.Com

استغرق طلاء حائط $\frac{2}{3}$ ساعة

و استغرق طلاء سور $\frac{3}{4}$ ساعة





أي العمليين استغرق وقتاً أطول؟

ترتیب الکسور

بند (۵-۵)



رتب الكسور تنازلياً



رتب الكسور تصاعدياً

$$\frac{2}{1}, \frac{4}{1}, \frac{1}{2}$$

_____ ، _____ ، _____

رتب الكسور تنازلياً

$$\frac{2}{16} < \frac{3}{4} < \frac{5}{8} < \frac{1}{2}$$

WWW.KweduFiles.Com



أكمل لتحصل على ترتيب تصاعدي

$$\frac{3}{6} \quad \frac{3}{8}$$


www.KweduFiles.Com

أكمل لتحصل على ترتيب تنازلي

$$\frac{1}{15} > \frac{4}{9}$$

• حل المسائل / رسم صورة

بند (5-6)



حل حسن واجب الرياضيات في

$\frac{3}{5}$ ساعة و واجب العلوم في $\frac{1}{2}$ ساعة .
WWW.KweduFiles.Com

ساعة .

في أيهما استغرق وقتاً أطول؟

$\frac{1}{9}$ علبة الأقلام حمراء و $\frac{4}{9}$

العلبة زرقاء والبقية خضراء .

WWW.KweduFiles.Com

أي الأقلام أكثر: الحمراء أو

الزرقاء أو الخضراء ؟