

تم تحميل هذا الملف من موقع المناهج الكويتية



منطقة الفروانية التعليمية

الملف نموذج إجابة منطقة الفروانية

[موقع المناهج](#) ← [المناهج الكويتية](#) ← [الصف الثامن](#) ← [اجتماعيات](#) ← [الفصل الأول](#)

روابط مواقع التواصل الاجتماعي بحسب الصف الثامن



روابط مواد الصف الثامن على تلغرام

[الرياضيات](#)

[اللغة الانجليزية](#)

[اللغة العربية](#)

[التربية الاسلامية](#)

المزيد من الملفات بحسب الصف الثامن والمادة اجتماعيات في الفصل الأول

مسودة كتاب الطالب في مادة الاجتماعيات لعام 2018	1
خطة توزيع منهج العام الجديد في مادة الاجتماعيات	2
حل الوحدة الاولى في مادة الاجتماعيات	3
ورقة عمل في مادة الاجتماعيات	4
ورقة عمل في مادة الاجتماعيات	5



تم التحميل من شبكة ياكويت التعليمية

almanzhij.com.kw



Telegram:
[ykuwait_net_home](https://t.me/ykuwait_net_home)

الإلجابية
النموذجية



أجب عن جميع الأسئلة التالية:

لكل نقطة درجة واحدة

السؤال الأول (موضوعي): يتكون من (أ - ب - ج - د - هـ):

(أ) أكمل العبارات التالية بما يناسبها فيما درست:

- 1- العالم المسلم صاحب كتاب الصيدلة في الطب اسمه البيروني ص ١٨
- 2- أمير دولة الكويت الذي لقب بقائد العمل الإنساني اسمه الشيخ صباح الأحمد رحمه الله ص ٢٤
- 3- المنصب الإداري الذي استحدث في عهد الخليفة عمر بن الخطاب رضي الله عنه هو المحتسب ص ٢٥
- 4- الصدقة الجارية التي يوقفها المرء في حياته لوجوه الخير والبر اسمها الوقف الإسلامي ص ٢٩
- 5- المسجد الذي يوجد في القدس الشريف ويعتبر أولى القبلتين اسمه المسجد الأقصى ص ٣٣
- 6- الدولة الإسلامية الوحيدة في أمريكا الجنوبية اسمها سورينام ص ٥١

(ب) ظلل الخيار الصحيح من بين الخيارات التي تلي كل عبارة:

ص ٢١

1- اليوم الذي يتم فيه الاحتفال باللغة العربية من كل عام :

١٥ ديسمبر	١٦ ديسمبر	١٧ ديسمبر	١٨ ديسمبر
-----------	-----------	-----------	-----------

ص ٢٧

2- أهم الصناعات الخشبية التي تنسب إلى العرب صناعة:

الخزف	الأرابيسك	الزجاج	د- السلاح
-------	-----------	--------	-----------

ص ٣١

3- الشيخ الذي تم في عهده افتتاح المسجد الكبير في دولة الكويت:

صباح السالم	جابر الأحمد	صباح الأحمد	سعد العبد الله
-------------	-------------	-------------	----------------

ص ٣٨

4- أهم المراكز العلمية للحضارة الإسلامية في مدينة بخارى بدولة أوزبكستان:

المسجد الحرام	المسجد النبوي	بيت الحكمة	باي كاليان
---------------	---------------	------------	------------

5- أشهر المدن في أوروبا التي أقام بها المسلمون شبكة موارد المياه الجوفية وكانت تسمى قديماً مجريط: ص ٤٣

مدريد	روما	باريس	لندن
-------	------	-------	------

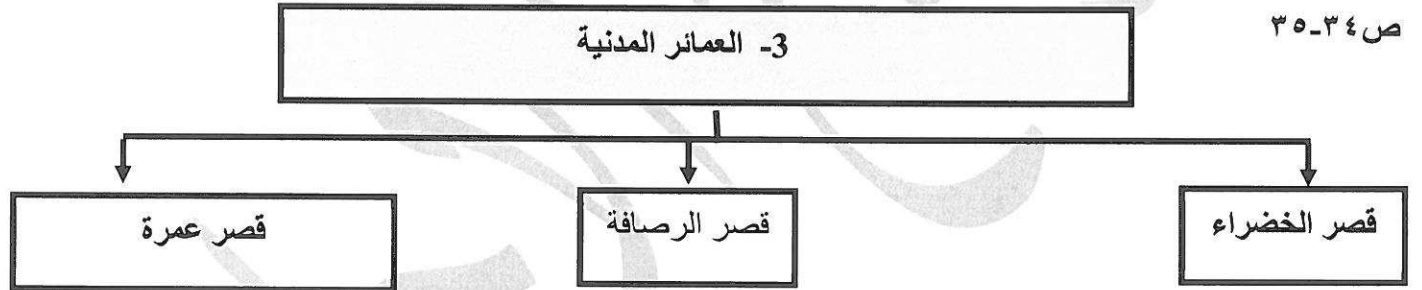
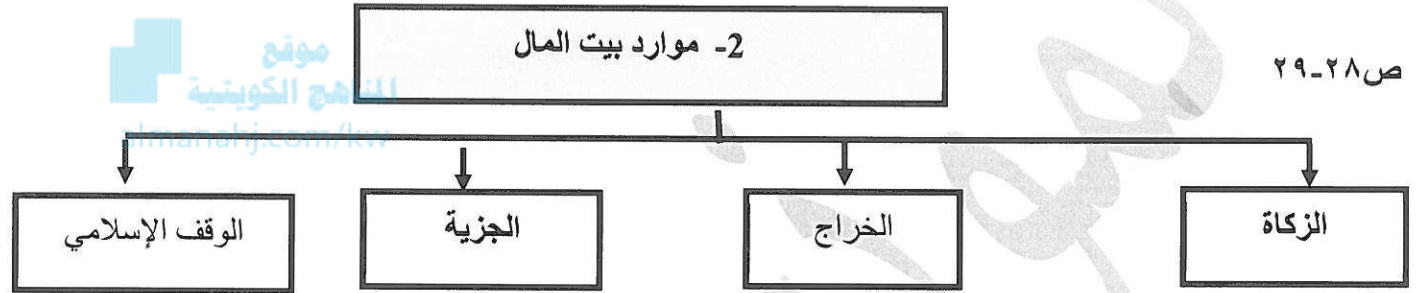
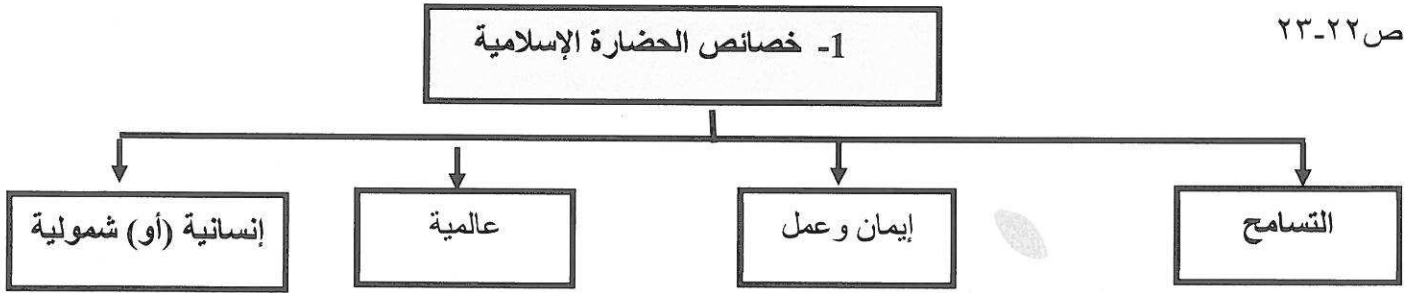
ص ٧٤

6- الدولة الإسلامية التي احتلت المركز الثاني عالمياً في الإنتاج البحري عام ٢٠١٤م:

مصر	المغرب	إندونيسيا	ماليزيا
-----	--------	-----------	---------

تابع/ امتحان مقرر الكويت والعالم الإسلامي - الصف الثامن المتوسط - نهاية الفترة الدراسية الأولى- العام الدراسي ٢٠٢٢م - ٢٠٢٣م
تابع السؤال الأول:

ج) املاً الفراغ في المخططات السهمية التالية:

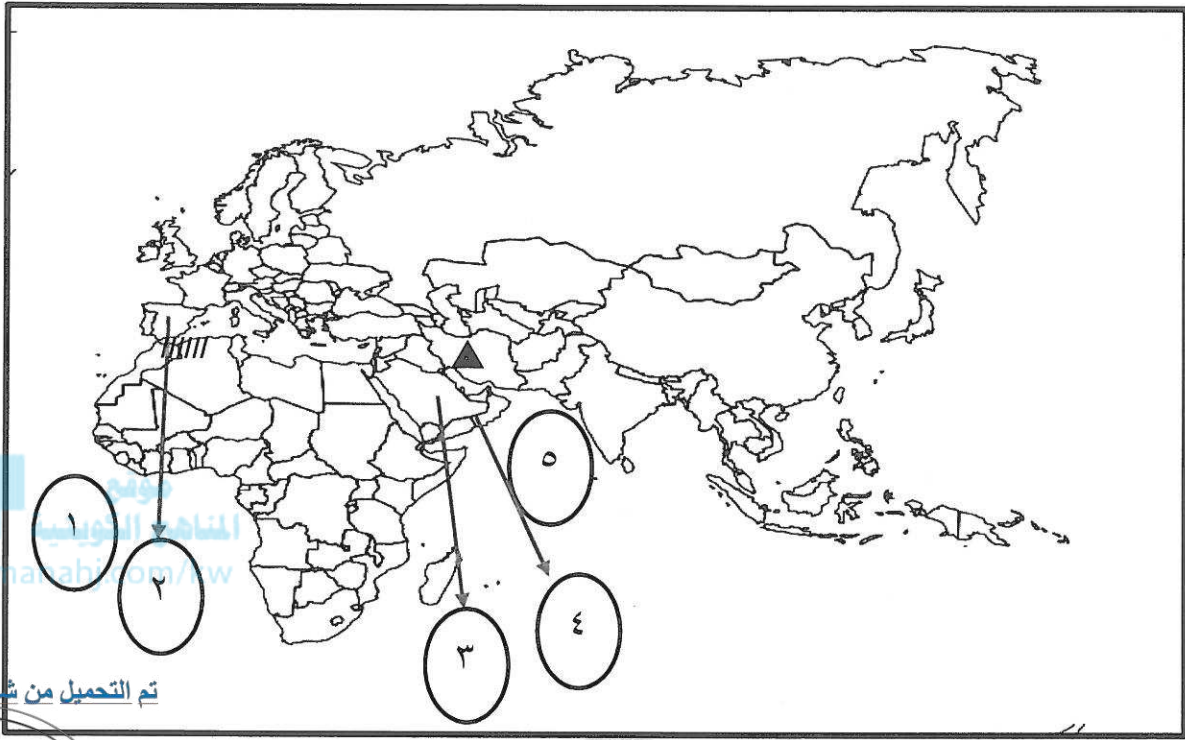


د) صنف الكلمات التالية إلى مكانها المناسب في الجدول الذي يليها:

(عسير- الصحراء الكبرى- النيل- مره- دجلة- نجد)

السهول النهرية ص ٥٩	هضاب ص ٥٦	جبال ص ٥٤، ص ٥٥
١- النيل	١- الصحراء الكبرى	١- عسير
٢- دجلة	٢- نجد	٢- مره

تابع/ امتحان مقرر الكويت والعالم الإسلامي - الصف الثامن المتوسط - نهاية الفترة الدراسية الأولى - العام الدراسي ٢٠٢٢م - ٢٠٢٣م
(هـ) لاحظ خريطة العالم الإسلامي الصماء ثم نفذ المطلوب:



تم التحميل من شبكة الكويت التعليمية

- أكتب الرقم أو الحرف الدال على العبارات التالية:

- ١- المحيط الأطلسي يمثله على الخريطة الرقم (١). ص ٥١
- ٢- الدولة التي يقع بها المسجد النبوي يمثلها على الخريطة الرقم (٣) ص ٣٨
- ٣- الدولة التي يسود بها المناخ الموسمي الحار يمثلها على الخريطة الرقم (٤) ص ٦٤
- ٤- مركز إشعاع حضاري إسلامي في أوروبا يمثله على الخريطة الرقم (٢) ص ٤١

- ما المظاهر الطبيعية التي تمثلها الرموز التالية على الخريطة السابقة:

- ١- الرمز /////////////// يمثل على الخريطة سلسلة جبال الأطلس ص ٥٤
- ٢- الرمز ▲ يمثل على الخريطة الهضبة الإيرانية ص ٥٦



السؤال الثاني (مقالى): يتكون من (أ- ب- ج)



(أ) لاحظ الصورة المقابلة ثم أجب عن الأسئلة التالية: ص ٢٤

- ١- من هي الشخصية الكويتية التي تظهر في الصورة؟
- الداعية الدكتور عبد الرحمن السميط رحمه الله. درجة واحدة
- ٢- عدد أهم المؤسسات والهيئات الخيرية في دولة الكويت: درجتين
- بيت الزكاة الكويتي.
- الهيئة الخيرية الإسلامية العالمية.

(ب) فرق بين كل مما يلي من حيث التعريف:

الوادي ص ٥٣	الجبل ص ٥٣
- حوض أو منخفض طبيعي على سطح الأرض.	- كل قمة لا يقل ارتفاعها عن ١٠٠٠ متر تقريبًا.
المناخ ص ٦٤	الطقس ص ٦٤
- حالة الجو خلال فترة زمنية طويلة.	- حالة الجو في مكان لمدة قصيرة تتراوح بين يوم أو عدة أيام.

(ج) علل لما يلي:

- ١- لقيت التجارة تشجيعًا كبيرًا في الحضارة الإسلامية.
- التبادل التجاري بين الدول المجاورة.
- لنشر الدين الإسلامي.
- يمتلك موقع العالم الإسلامي الاستراتيجي الكثير من الخطوط البرية والبحرية.
- ٢- قلة عدد السكان في المناطق الجبلية في العالم الإسلامي.
- انخفاض الضغط الجوي.
- صعوبة التنقل.
- شدة الانحدار.
- قلة وجود الأكسجين.

السؤال الثالث (مقالى): يتكون من (أ- ب- ج)

أ) اقرأ الفقرة التالية ثم أجب عما يليها من أسئلة:

(تعد الثروة الزراعية في العالم الإسلامي المصدر الرئيسي لإنتاج الغذاء ويعمل بها ٧٠ % من سكان العالم الإسلامي، وهناك عدة عوامل تساعد على الإنتاج الزراعي في دول العالم الإسلامي كالتربة الخصبة والمناخ).

١- اقترح عنواناً مناسباً للفقرة.

درجة واحدة

- أي عنوان يراه المصحح مناسباً.

٢- عدد العوامل التي ساعدت على زيادة الإنتاج الزراعي في دول العالم الإسلامي. (يكتفى بثلاث نقاط) ٣ درجات ص ٧٢

- التربة الخصبة.



- المناخ.

- وجود الآبار والبحيرات والأنهار.

- سقوط الأمطار.

- كثرة السكان والأيدي العاملة.

ب) أكتب فيما يلي:

١- الأسس التي انطلقت من خلالها الحضارة الإسلامية. ص ٢٠ (يكتفى بنقطتين) درجتين

- الدين الإسلامي.

- اللغة العربية.

- الحضارات الأخرى.

٢- العوامل التي لعبت دوراً في تنوع المناخ في دول العالم الإسلامي. ص ٦٣ (يكتفى بنقطتين) درجتين

- امتداد دول العالم الإسلامي في مساحات شاسعة.

- الموقع بالنسبة لدوائر العرض.

- الإطلالة على مسطحات مائية في معظم أجزاءه.

- التنوع في التضاريس من سهول وجبال ووديان.

لكل نقطة درجة واحدة

ج) عرف المفاهيم التالية:

ص ١٨

١- الحضارة:

كل ما يطرأ على المجتمع من تقدم وتطور ورقي سواء في الجانب المادي أو الجانب الروحي.

ص ٦٥

٢- الإقليم المناخي:

مساحة من الأرض تتصف بعناصر مناخية متشابهة.

تابع/ امتحان مقرر الكويت والعالم الإسلامي - الصف الثامن المتوسط - نهاية الفترة الدراسية الأولى - العام الدراسي ٢٠٢٢م - ٢٠٢٣م
السؤال الرابع (مقالى) : يتكون من (أ- ب- ج)

(أ) عدد ما يلي:

٥٨ ص درجتين (يكتفى بنقطتين)

١- أهمية السهول.

- استخدامها كموانئ طبيعية.

- تشييد المدن.

- تركيز السكان فيها لسهولة التنقل.

٣٧ ص درجتين (يكتفى بنقطتين)

٢- العوامل التي أدت إلى ازدهار العلم وظهور العلماء.

- تشجيع العلماء ورعاية وتمويل القيادات السياسية لهم.

- التنافس العلمي بين الدول الإسلامية.

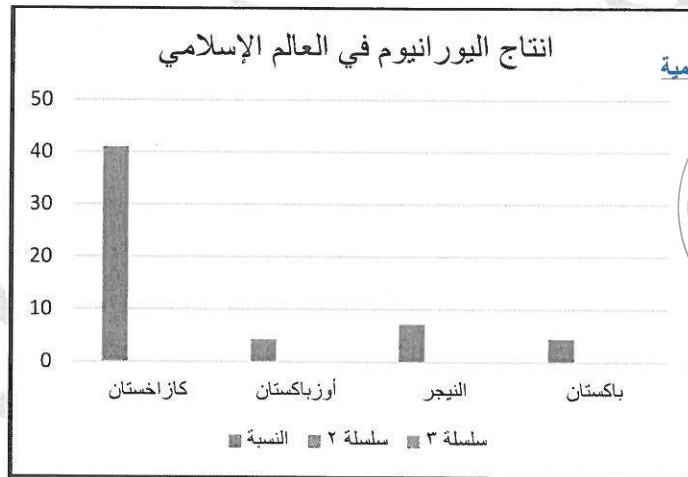
- حركة التعريب (الترجمة) للكتب القديمة اليونانية، والهندية، والفارسية، وغيرها.

- الرخاء الاقتصادية.

(ب) لاحظ الجدول الإحصائي الذي أمامك ثم اجب عن الأسئلة التالية: ص ٧٠

١- حول نسب إنتاج اليورانيوم في الجدول المقابل إلى رسم بياني (أعمدة) درجتين

إنتاج اليورانيوم	
النسبة	الدولة
٤١%	كازاخستان
٤,٣%	أوزباكستان
٧,٢%	النيجر
٠,١%	باكستان



تم التحميل من شبكة ياكويت التعليمية



٢- عدد أهم المعادن التي يمتلكها العالم الإسلامي غير اليورانيوم: ص ٧٠

درجتين (يكتفى بنقطتين)

- الذهب - الفضة - النحاس - القصدير - الفوسفات - الحديد

(ج) دال على صحة العبارات التالية:

١- أثر كتابات الإدريسي على الجغرافيين الأوربيين. درجة واحدة ص ٤٢

- اكتشاف كروية الأرض. - اكتشاف الأميركتين.

٢- دور دولة الكويت التجاري في العصور الإسلامية. (يكتفى بنقطة واحدة) درجة واحدة ص ٢٨

- أنه تم الكشف في دولة الكويت عن محطات لاستراحة قوافل الحجاج وهي تعود للعصر الإسلامي مثل: محطة الشجي (الشقايا حالياً) . ولقد كان يلقي الطريق اهتماماً من خلفاء الدولة العباسية.

- وفي جزيرة فيلكا رصدت قريتان تعودان للعصر الإسلامي، ازدهرتا بازدهار الطريق التجاري البحري عبر الخليج العربي، وهما قريتا القرينية في شمال الجزيرة والقصور في وسطها . وكانت تمارس فيهما التجارة والغوص على اللؤلؤ والزراعة والرعي .