

تم تحميل هذا الملف من موقع المناهج الكويتية



منطقة حولي التعليمية

الملف نموذج إجابة منطقة حولي التعليمية

موقع المناهج ← المناهج الكويتية ← الصف التاسع ← اجتماعيات ← الفصل الأول

روابط مواقع التواصل الاجتماعي بحسب الصف التاسع



روابط مواد الصف التاسع على تلغرام

[الرياضيات](#)

[اللغة الانجليزية](#)

[اللغة العربية](#)

[التربية الاسلامية](#)

المزيد من الملفات بحسب الصف التاسع والمادة اجتماعيات في الفصل الأول

<a href="#">مسودة كتاب الطالب اجتماعيات لعام 2018</a>	1
<a href="#">نموذج اجابة اختبار لعام 2017 تعليم خاص</a>	2
<a href="#">نموذج اجابة اختبار لمنطقة العاصمة لعام 2016 في مادة الاجتماعيات</a>	3
<a href="#">مراجعة رائعة للفصل الاول في مادة الاجتماعيات</a>	4
<a href="#">حل تقويم الكورس الاول في مادة الاجتماعيات</a>	5

تم التحميل من شبكة ياكويت التعليمية



Telegram:  
[ykuwait\\_net\\_home](https://t.me/ykuwait_net_home)

موقع  
المناهج الكويتية  
[almanahj.com/kw](http://almanahj.com/kw)



وزارة التربية  
الإدارة العامة لمنطقة حولي التعليمية  
مراقبة الامتحانات وشؤون الطلبة

العام الدراسي 2024 / 2025 م  
امتحان الفترة الدراسية الأولى

## نموذج الإجابة

### الإجتماعيات

المرحلة المتوسطة  
الصف التاسع

## نموذج الإجابة



العام الدراسي : ٢٠٢٤ / ٢٠٢٥ م  
الزمن : ساعة و ٤٥ دقيقة  
عدد الأوراق : ( ٦ )

امتحان نهاية الفترة الدراسية الأولى  
لمقرر الكويت و العالم  
للسف التاسع

وزارة التربية  
الإدارة العامة لمنطقة حولي التعليمية  
التوجيه الفني للإجتماعيات

### أجب عن جميع الأسئلة

**السؤال الأول ( موضوعي ) يتكون من ( أ - ب - ج - د - هـ - و ) : ( ٣٠ درجات )**

( أ ) ظلل الخيار الصحيح من بين الخيارات التي تلي كل عبارة مما يلي : ٦ درجات ( درجة لكل نقطة )

١- نسبة المياه المالحة على كوكب الأرض : ص ٦٤

٦٧ %	٧٧ %	٨٧ %	٩٧ %
------	------	------	------

٢- بيئة حضارية يمتلك فيها الإنسان قدرات علمية وتكنولوجية كبيرة تمكنه من استغلال مواردها : ص ٤٤

متقدمة	متوسطة	متذبذبة	نامية
--------	--------	---------	-------

٣- درجة التلوث الناتجة عن حادثة المفاعل النووي ( تشيرنوبل ) في الاتحاد السوفيتي السابق : ص ٦٢

المقبول	الخطر	المدمر	البسيط
---------	-------	--------	--------


٤- النشاط الموجه نحو الخارج لمعالجة مشاكل ما وراء الحدود للدولة : ص ٩٥

السياسة الخارجية	العلاقات الدولية	التجارة الدولية	التنمية الاجتماعية
------------------	------------------	-----------------	--------------------

٥- عدد الآبار النفطية الكويتية التي قامت القوات العراقية بحرقها عام ١٩٩١ م : ص ٦٣

٦٣٧	٧٣٧	٨٣٧	٩٣٧
-----	-----	-----	-----

٦- شعار منظمة الأغذية والزراعة للأمم المتحدة : ص ٦٨



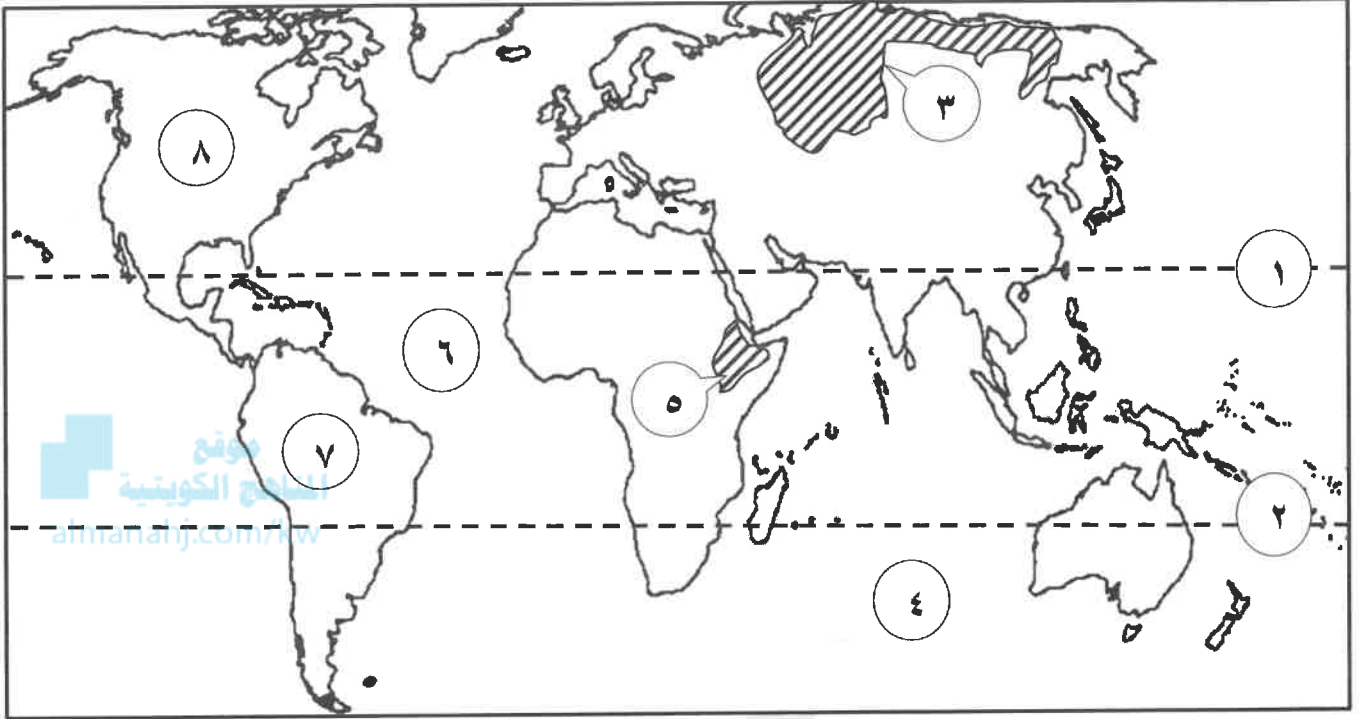
( ب ) صنف أسباب مشكلة التصحر في المكان المناسب بالجدول التالي : ٤ درجات ( درجة لكل نقطة )

( الري غير المتقن - زحف الكثبان الرملية - تعرية التربة - الإفراط في قطع الأشجار ) ص ٧٢

بشرية	طبيعية
- الري غير المتقن - الإفراط في قطع الأشجار	- زحف الكثبان الرملية - تعرية التربة

تابع / السؤال الأول ( الموضوعي ) :

( ج ) لاحظ خريطة العالم الصماء ، ثم أكتب الأرقام الدالة على العبارات التالية : ٥ درجات ( درجة لكل نقطة )



▪ مدار السرطان يمثله على الخريطة الرقم (.....) ص ١٩

▪ قارة أمريكا الجنوبية يمثلها على الخريطة الرقم (.....) ص ٢٠

▪ المحيط الأطلسي يمثله على الخريطة الرقم (.....) ص ٢٠

▪ سهول سيبيريا يمثلها على الخريطة الرقم (.....) ص ٢٥

▪ هضبة أثيوبيا يمثلها على الخريطة الرقم (.....) ص ٢٥

تم التحميل من شبكة ياكويت التعليمية



Telegram:  
ykuwait\_net\_home

( د ) صوب ما تحته خط في العبارات التالية : ٥ درجات ( درجة لكل نقطة )

م	العبرة	التصويب
١	أفضل البيئات المناخية ملائمة للعيش على الكرة الأرضية البيئة <u>الحارة</u>	المعتدلة ص ٣١
٢	أقوى المراحل التي مر بها الإنسان مع البيئة مرحلة <u>الزراعة</u>	التصنيع ص ٤٧
٣	أسست الناشطة الكينية وانجاري ماثاي حركة <u>التنمية المستدامة</u>	الحزام الأخضر ص ٥٣
٤	يساهم الإنترنت في تواصل البائع والمشتري لمتابعة الشحنات باستخدام <u>الطائرات</u>	GPS ص ١٠٠
٥	تقديم القروض أو المنح المالية أو تبديل دين بين الدول من المساعدات <u>الفنية</u>	المالية ص ١٠٥

تابع / السؤال الأول ( الموضوعي ) :

( هـ ) اكتب المفاهيم أو المصطلحات الدالة على العبارات التالية : ٤ درجات ( درجة لكل نقطة )

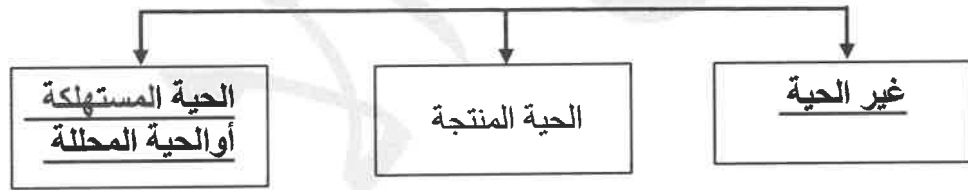
م	المفهوم أو المصطلح	العبرة
١	الاقتصاد البيئي	التوزيع الأمثل للموارد الطبيعية التي توفرها البيئة لعملية التنمية المستدامة . ص ٤٣
٢	الديسيبل ( decibel )	وحدة قياس ضغط الصوت. ص ٦٩
٣	أوبك	منظمة الدول المصدرة للنفط . ص ١٠٢
٤	التعاون الدولي	جهود مبذولة بين دول العالم من أجل تحقيق مصلحة الدول المتعاونة وفي سبيل تحقيق الأمن والسلم الدوليين ومواجهة التحديات السياسية والاجتماعية والاقتصادية والأمنية. ص ١٠٤

( و ) أكمل المخططات السهمية التالية بما يناسبها : ٦ درجات ( درجة لكل نقطة )

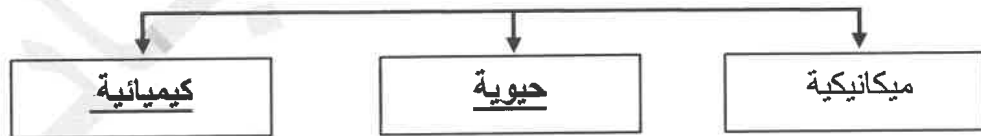
تم التحميل من شبكة باكويت التعليمية



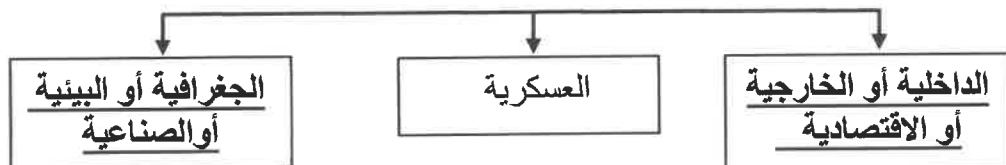
١- عناصر النظام الأيكولوجي ص ٤٩



٢- مصادر تلوث التربة ص ٦٧




٣- العوامل المؤثرة على العلاقات السياسية بين الدول ص ٩٤





## السؤال الثاني ( مقالي ) يتكون من ( أ - ب - ج ) : ( ١٠ درجات )

( أ ) لاحظ الدائرة البيانية التي أمامك ثم أجب عن الأسئلة التالية : ( ٤ درجات ) ص ٧٨



١- استخرج من الدائرة البيانية أكثر مصدر بنسبة المياه العذبة المنتجة في دول مجلس التعاون الخليجي . مياه التحلية ٥٢٪ (درجة)

٢- حول بيانات مصادر المياه التالية:

( مياه السدود - المياه الجوفية ) إلى جدول بياني .

(٣ درجات) (درجة على تصميم الجدول ودرجتان على البيانات) - ملاحظة يكون التصميم بأي شكل مقارب حسب فهم المتعلم

مصادر المياه العذبة	النسبة المئوية المنتجة
مياه السدود	١٨٪
المياه الجوفية	١٥٪

( ب ) علل لما يلي : ( ٤ درجات )

١- أهمية زراعة الأشجار على كوكب الارض . (يكتفى بنقطتين) ص ٥٢

- الحفاظ على المناخ وتخفيض ارتفاع درجة الحرارة وكمية التلوث . - توفير الأخشاب كمورد اقتصادي .
- مصدرا أساسيا لفلتره الهواء وإنتاج الاكسجين والتخلص من ثاني أكسيد الكريون . - توفير الغذاء .
- تخفف من سرعة الرياح . - الحد من ظاهرة التصحر وزحف الرمال .

٢- نشأة الحركة التجارية بين الدول . (يكتفى بنقطتين) ص ٩٩

- حاجة الدول المنتجة الى أسواق لتصريف منتجاتها ليعود بالنفع عليها وعلى سكانها .
- حاجة الدول المستهلكة لاستيراد السلع والخدمات وموارد الخام التي لا تتوفر في أراضيها .

( ج ) عرف المفاهيم التالية : ( درجتان )

م	المفهوم	التعريف
١	الكثافة السكانية	عدد السكان مساحة الدولة . ص ٤٤
٢	استئناس الحيوانات	الإعتناء بالحيوانات الداجنة وتوليدها ، بما فيها الأبقار والأحصنة والدجاج والماعز . ص ٤٦

## السؤال الثالث ( مقالي ) يتكون من ( أ - ب - ج ) : ( ١٠ درجات )

( أ ) اقرأ الفقرة التالية ثم أجب عن الأسئلة التي تليها : (درجتان) ص ٩١

العلاقات الدولية هي كافة التفاعلات الدولية وحركات الشعوب وتبادل السلع والأفكار وتشمل العلاقات السياسية والاقتصادية والاجتماعية والثقافية . وبالنسبة للبلدان فإن التواصل معها إما أن يكون بشكل مباشر عن طريق الدولة وسياسات الدولة وحكومتها والقادة المفوضين من الدولة ، أو يكون التواصل غير مباشر عن طريق المنظمات الدولية .

١- عرف ما تحته خط . ( درجة )

العلاقات الدولية : هي كافة التفاعلات الدولية وحركات الشعوب وتبادل السلع والأفكار وتشمل العلاقات السياسية والاقتصادية والاجتماعية والثقافية .

موقع  
المناهج الكويتية  
almanahj.com/kw

٢- استخرج من الفقرة السابقة أشكال التواصل بين البلدان . ( يكتفى بنقطة ) ( درجة )

- بشكل مباشر عن طريق الدولة وسياسات الدولة وحكومتها والقادة المفوضين من الدولة .
- التواصل غير مباشر عن طريق المنظمات الدولية .

( ب ) عدد ما يلي : ( ٤ درجات )

١- مميزات البيئة الجبلية . ( يكتفى بنقطتين) ص ٣٠

- تخزين المياه الطبيعية والثروات المعدنية المهمة .
- تعتبر بيئة طبيعية للحياة البرية .
- بيئة للسياحة .

٢- الموارد الطبيعية . ( يكتفى بنقطتين) ص ٤٣

- الغاز الطبيعي .
- الأشجار .
- الفحم .
- الرياح .
- النفط .
- الشمس .
- المياه .

( ج ) فرق بين كل مما يلي : ( ٤ درجات )

أضرار التلوث الضوضائي ( يكتفى بنقطتين) ص ٧٠	أضرار التلوث الهوائي ( يكتفى بنقطتين) ص ٦٣
<ul style="list-style-type: none"><li>- ضعف السمع</li><li>- ارتفاع ضغط الدم</li><li>- الشعور بالصداع والطنين في الأذن .</li><li>- الإصابة بالصمم</li></ul>	<ul style="list-style-type: none"><li>- التأثير على عملية التنفس لدى الإنسان والكاننات الحية .</li><li>- نشر كثير من الأمراض .</li><li>- الشعور بالإرهاق والتعب وعدم القدرة على بذل مجهود كبير .</li></ul>

## السؤال الرابع ( مقالي ) يتكون من ( أ - ب - ج ) : ( ١٠ درجات )

( أ ) قارن بين كل مما يلي وفق الجدول التالي : ( ٤ درجات )

الأقاليم المناخية الباردة ص ٢٨	الأقاليم المناخية الحارة ص ٢٧	أوجه المقارنة
الأقاليم الواقعة بين دائرتي عرض ٦٠° - ٩٠° شمالاً وجنوباً	الأقاليم الواقعة بين خط الاستواء ودائرة عرض ٣٠° شمالاً وجنوباً	الموقع بالنسبة لدوائر العرض
- انخفاض درجة الحرارة الى ما دون الصفر معظم أشهر السنة .	- ارتفاع درجة الحرارة .	المميزات المناخية ( درجة الحرارة )

( ب ) اكتب فيما يلي : ( ٤ درجات )

- العوامل المؤثرة في العلاقات الاقتصادية الدولية . ( يكتفى بنقطتين ) ص ١٠٠ + ١٠١ مونهج  
 - التقدم العلمي والتكنولوجي .  
 - المشكلات البيئية .  
 - مشكلات الهجرة الدولية .  
 - مشكلات الغذاء في العالم .  
 - مشكلات الطاقة في العالم .
- دور دولة الكويت في الميدان الثقافي . ( يكتفى بنقطتين ) ص ١٠٦  
 - تنظيمها للمعارض والمهرجانات والفعاليات الثقافية . - رعايتها للمؤسسات الثقافية في الدول العربية .  
 - إسهام جمعيات النفع العام الكويتية في تطوير المشروعات التنموية في مجال التعليم والصحة .

( ج ) لاحظ الصورة المقابلة ثم أكمل الخريطة الذهنية لأدوات تنفيذ السياسة الخارجية : ( درجتان ) ص ٩١

( يكتفى بنقطتين )



- انتهت الإجابة -