

تم تحميل هذا الملف من موقع المناهج الكويتية



التوجيه الفني العام للاجتماعيات

الملف بنك أسئلة التوجيه الفني العام

[موقع المناهج](#) ← [المناهج الكويتية](#) ← [الصف الثاني عشر الأدبي](#) ← [تاريخ](#) ← [الفصل الأول](#)

روابط مواقع التواصل الاجتماعي بحسب الصف الثاني عشر الأدبي



روابط مواد الصف الثاني عشر الأدبي على تلغرام

[الرياضيات](#)

[اللغة الانجليزية](#)

[اللغة العربية](#)

[التربية الاسلامية](#)

المزيد من الملفات بحسب الصف الثاني عشر الأدبي والمادة تاريخ في الفصل الأول

مذكرة الجمعية الكويتية للتاريخ الحديث	1
امتحان نهاية الفترة الدراسية الاولى في مادة التاريخ	2
نموذج احابة اختبار لنهاية الفترة الدراسية الاولى في مادة التاريخ	3
مذكرة سلمان الفارسي في مادة التاريخ	4
مراجعة شاملة في مادة التاريخ	5



وزارة التربية

التوجيه الفني العام للاجتماعيات



بنك أسئلة لقرر « تاريخ العالم الحديث والمعاصر »



للف الثاني عشر / الأدبي

الفصل الدراسي الأول

للعام الدراسي ٢٠٢٢ / ٢٠٢٣ م

اعداد الموجهين الفنيين

د. نوال النعمة أ.

أ. مها الحمد



الإشراف العام

الموجه العام للاجتماعيات

أ. إيمان السويحل

الإشراف العام
الموجه الفني العام للاجتماعيات
الأستاذة / إيمان السويحل

إشراف الموجه الأول

أ. عادل عبدالله الشراح

الموجه الفني الأول للاجتماعيات

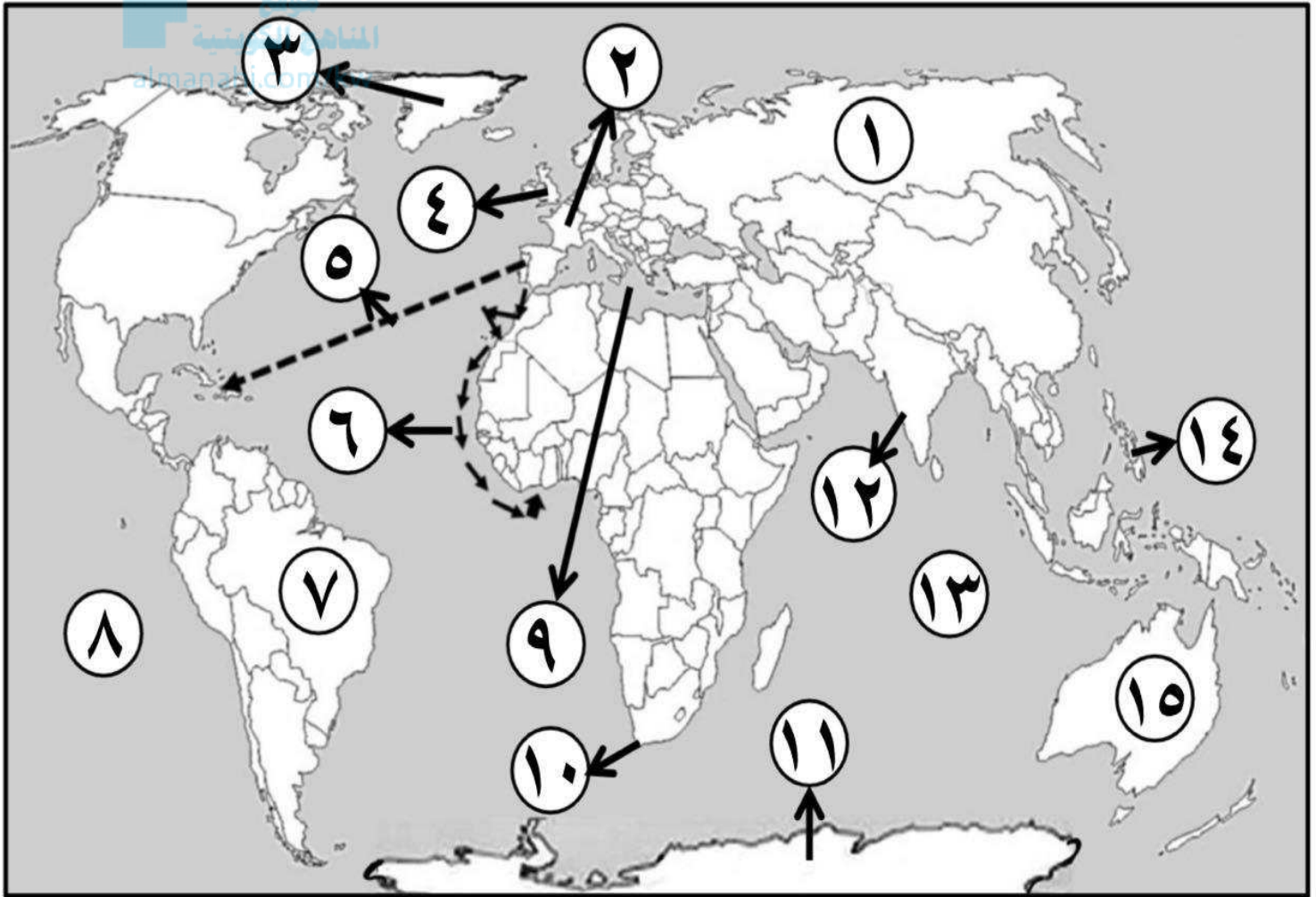
عادل عبدالله الشراح



نماذج أسئلة الخريطة



أ - أمامك خريطة العالم الصماء - اكتب الرقم الدال على العبارات التي تليها :



- المنطقة التي وصل إليها الرحالة الجغرافي بارثلميودياز عام ١٤٨٨م يمثلها على الخريطة الرقم ()

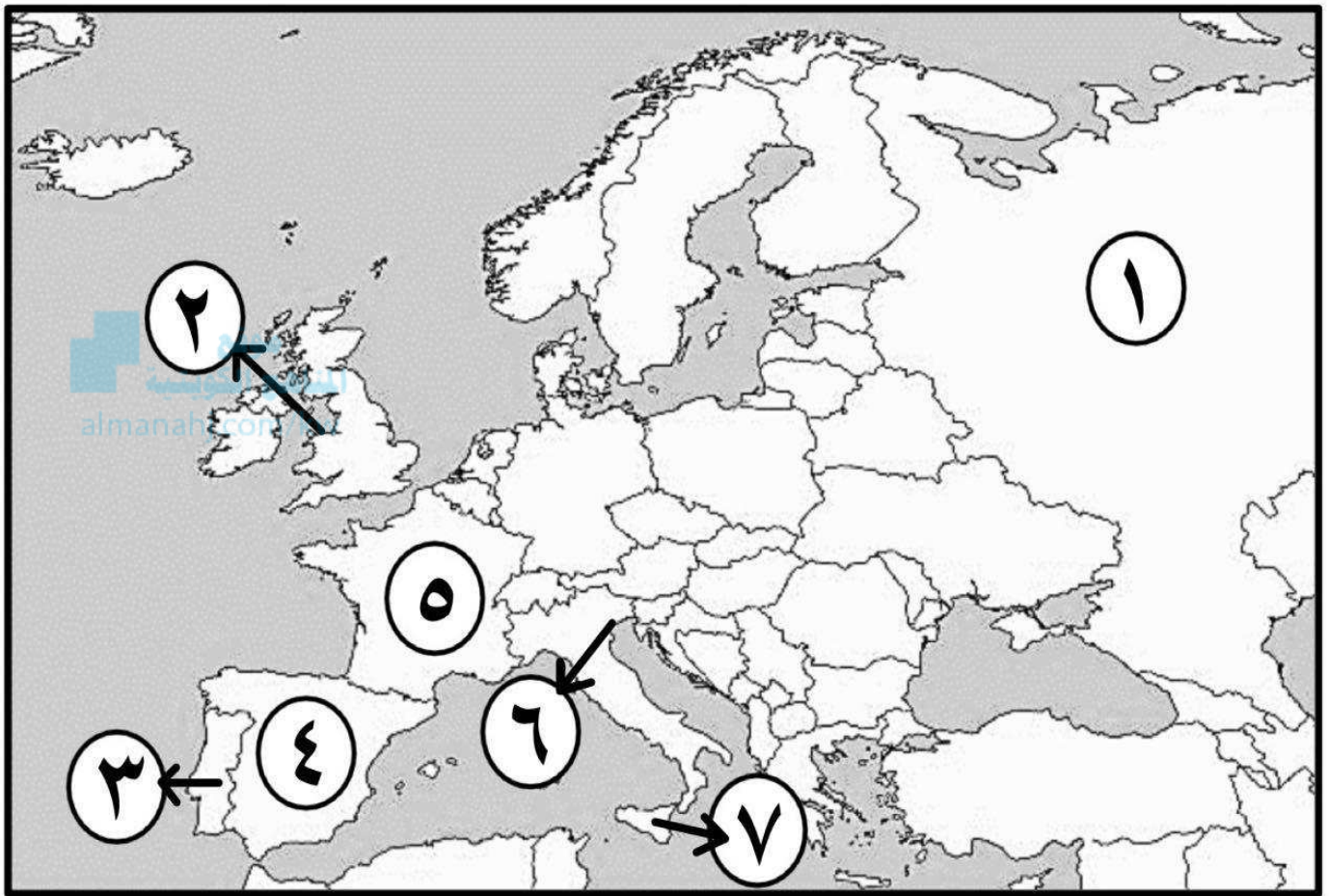




- الجزر التي قتل فيها الرحالة الجغرافي " ماجلان " عام ١٥٢١م يمثلها على الخريطة الرقم ()
- القارة التي وصل إليها المستكشف الجغرافي " جيمس كوك " يمثلها على الخريطة الرقم ()
- الدولة الاستعمارية التي تمكنت من إخضاع سيبيريا يمثلها على الخريطة الرقم ()
- خط سير الرحالة الجغرافي " هنري الملاح " يمثلها على الخريطة الرقم ()
- القاعدة التي انطلقت منها الثورة الصناعية يمثلها على الخريطة الرقم ()
- المحيط الهندي يمثل على الخريطة الرقم ()
- جزيرة "جرينلاند" يمثلها على الخريطة الرقم ()
- المنطقة التي وصل إليها المكتشف الجغرافي "أمريكوفسبوتشي" يمثلها على الخريطة الرقم ()
- المسطح المائي الذي قلت أهميته بعد حركة الكشوف الجغرافية يمثل على الخريطة الرقم ()
- المحيط الذي أطلق عليه ماجلان اسم المحيط الهادي يمثلها على الخريطة الرقم ()
- قارة أنتاركتيكا يمثلها على الخريطة الرقم ()
- خط سير الرحالة الجغرافي "كريستوفر كولومبس" يمثلها على الخريطة الرقم ()
- المنطقة التي وصل إليها المكتشف الجغرافي "فاسكو دي جاما" يمثلها على الخريطة الرقم ()
- دولة استعمارية احتلت الجزائر عام ١٨٣٠م يمثلها على الخريطة الرقم ()



ب) - أمامك خريطة أوروبا الصماء - اكتب الرقم الدال على العبارات التي تليها :



- أول دولة أوروبية قامت بحركة الكشوف الجغرافية يمثلها على الخريطة الرقم ()
- جزيرة "صقلية" يمثلها على الخريطة الرقم ()
- ميناء بريستول الذي أبحر منه الرحالة الجغرافي "جون كابوت" يمثله على الخريطة الرقم ()
- الدولة الاستعمارية التي اشتهرت بتجارة الفراء يمثلها على الخريطة الرقم ()
- بلاد الأندلس يمثلها على الخريطة الرقم يمثلها على الخريطة الرقم ()
- مدينة البندقية يمثلها على الخريطة الرقم ()
- الدولة الاستعمارية التي انتدبت سوريا ولبنان يمثلها على الخريطة الرقم ()





نماذج أسئلة اختيار من متعدد

أ) ظل الخيار الصحيح من بين الخيارات التي تلي كل عبارة :

١- سبب رفض الملك الأسباني " فرديناند " و "الملكة إيزابيلا" مشروع كريستوفر كولومبس :

العجز المادي	الحرب مع المسلمين
الحروب الأهلية	عدم القناعة بمشروعه

موقع
المناهج الكويتية
almanahi.com/kw

٢- الجزيرة التي اكتشفها الرحالة " جاك كارتية " :

هاواي	سانت كروز	ماديرا	أورليانز
-------	-----------	--------	----------

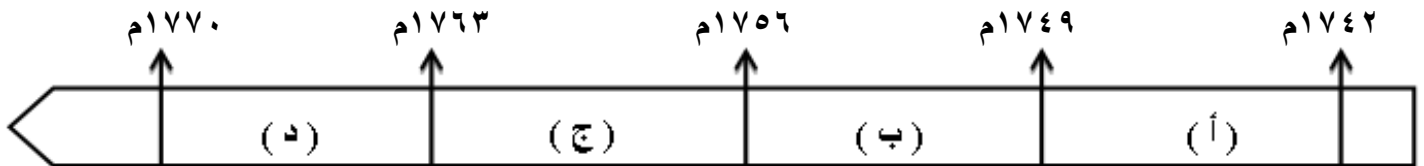
٣- أحد رواد الحركة الفنية بعصر النهضة الأوروبية :

أرازاموس	مارتن لوثر	ليوناردو دافنشي	دانتي
----------	------------	-----------------	-------

٤- العالم الذي اخترع الهاتف (التليفون) عام ١٨٧٦م :

جيمس وات	هنري بسمر	جراهام بل	صموئيل موريس
----------	-----------	-----------	--------------

٥- الفترة الزمنية التي حدثت فيها حرب السنين السبع يمثلها على المخطط الزمني الحرف :



٦- الأثر المترتب على اختراع الآلة التي تمثلها الصورة المقابلة :

إنتاج آلات من الصلب	غزل ثمانية خيوط
استخدام قوة الماء لعملية الغزل	بث الإشارات والأصوات





ب) اختر الإجابة الصحيحة من بين البدائل التي تلي كل عبارة :

١- المنطقة التي تمكن المكتشف "روبرت بيرى" من الوصول إليها عام ١٩٠٩ م :

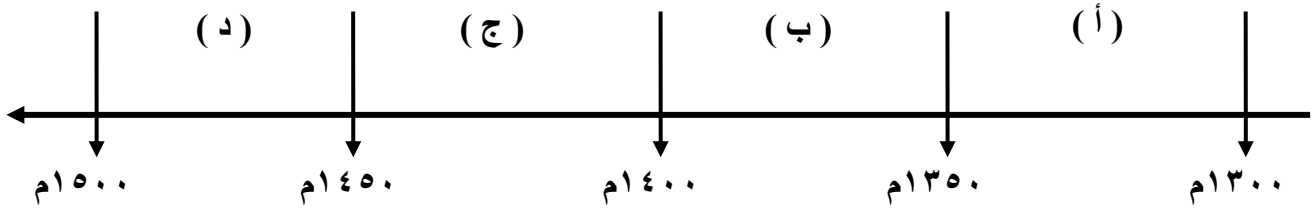
- أ- خليج هدسن ب- جزيرة أورليانز ج- بحيرة سليف الكبرى د- القطب الشمالي



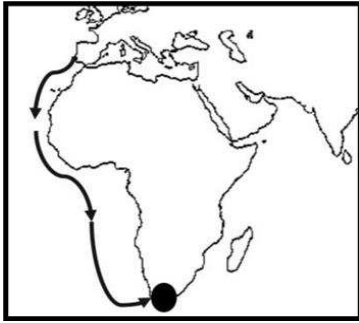
٢- من أهم أعمال صاحب الصورة التي أمامك :

- أ - رسم لوحة الموناليزا ب - عارض فكرة صكوك الغفران
ج - ألف رواية الحياة الجديدة د - اختراع أحرف الطباعة المعدنية

٣- الفترة الزمنية للفتح العثماني لمدينة القسطنطينية يمثلها على المخطط الزمني الحرف :



٤- الملاح الذي قام بالرحلة المشار إليها بالخريطة المقابلة :



- أ - بارثلميو دياز ب - روبرت ماكلور
ج - جون فرانكلين د - فاسكو دي جاما

٥- المستعمرة البرتغالية الوحيدة في أمريكا الجنوبية :

- أ - المكسيك ب - جواتيمالا ج - البرازيل د - هندوراس

٦- الدولة الاستعمارية التي احتلت مصر عام ١٨٨٢ م يمثلها على الخريطة التي أمامك :



- أ - (١) ب - (٢)
ج - (٣) د - (٤)





صحح العبارة



(* صوب ما تحته خط في العبارات التالية :

م	العبارة	التصويب
١	القارة التي أثبت المستكشف تشارلز ويلكز انها كتلة ضخمة مغطاة بالثلج هي <u>أمريكا الشمالية</u> .	
٢	قُتل الرحالة " ماجلان " عام ١٥٢١م في جزر <u>ماديرا</u> .	
٣	نتج عن رحلة فاسكو دي جاما وصول البرتغال إلى <u>أستراليا</u> .	
٤	الرحالة " جون كابوت " ينتمي إلى رحلات <u>الكشوف الأسبانية</u> .	
٥	أسهم " الإخوان رايت " في أحداث الثورة الصناعية في مجال <u>التعدين</u> .	
٦	استغلال دولة قوية لدولة أخرى ضعيفة بهدف السيطرة على مواردها الاقتصادية تسمى <u>الإمبريالية</u> .	
٧	اختراع " ديملر وبنز " عام ١٨٨٥م <u>القاطرة البخارية</u> .	
٨	سقوط عاصمة الإمبراطورية الرومانية " روما " على يد القبائل الجرمانية عام <u>٣٦٧م</u> .	
٩	الميناء الذي ابحر منه المكتشف الجغرافي جون كابوت اسمه <u>سانت مالو</u> .	
١٠	العالم الذي اخترع محرك الاحتراق الداخلي عام ١٨٩٢م اسمه <u>روبرت فولتن</u> .	
١١	المحور الأساسي للدخل القومي لمعظم دول أوروبا قبل الثورة الصناعية يسمى <u>التجارة</u> .	
١٢	الدولة الأوروبية التي انطلقت منها حركة النهضة الأوروبية ونقلت أوروبا من <u>الظلمات</u> إلى العصور الحديثة <u>أسبانيا</u> . ص ٦٢	





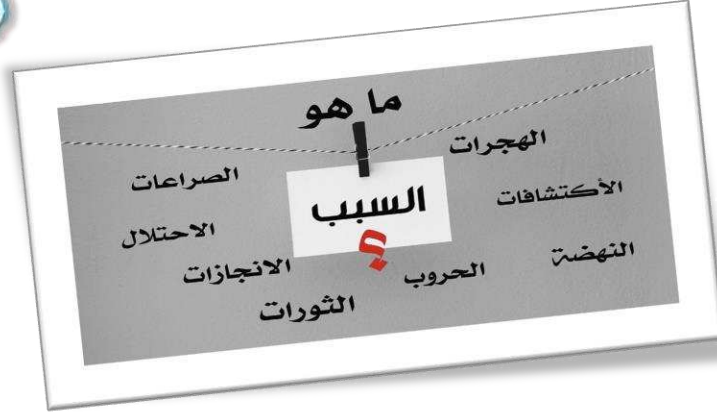
أكمل العبارات

القلم لك ..
إملاً الفراغ

* (أكمل العبارات التالية بما يناسبها فيما درست :)

- ١- الدولة الأولى التي قامت بحركة الكشوف الجغرافية في نهاية القرن ١٥ م اسمها
- ٢- حاجة الأوروبيين إلى المزيد من الذهب والفضة تسمى
موقع المنهج الكويتية
almanahj.com/kw
- ٣- الأسطول الاسباني الذي تحطم على يد الإنجليز عام ١٥٨٨ م اسمه
- ٤- المستكشف الإنجليزي الذي وصل إلى خط عرض ٧٢ شمالاً اسمه
- ٥- النظام الاستعماري الذي أجبر المستعمرات على أن لا تتاجر مع أي دولة إلا البلد المستعمر يسمى.....
- ٦- المنطقة التي تمكن الرحالة "روبرت بيرري" من الوصول إليها عام ١٩٠٩ م اسمها.....
- ٧- أطلق المستكشف "كولومبس" على جزر الأنتيل الصغرى والكبرى بعد اكتشافهم عام ١٤٩٢ م اسم
- ٨- الاختراع الذي توصل إليه العالم "توماس أديسون" عام ١٨٧٧ م اسمه.....
- ٩- الطبقة التي سيطرت على مقاليد السلطة السياسية في أوروبا بعد الثورة الصناعية اسمها
- ١٠- الرحالة الذي تمكن من اكتشاف مضيق هُديس اسمه
- ١١- الملك الذي أطلق اسم رأس الرجاء الصالح على رأس العواصم اسمه
- ١٢- مؤلف كتاب الأمير عام ١٥١٣ م اسمه





علل

* (علل لما يلي :

١- قيام حركة الإصلاح الديني .

موقع
المنهج الكويتية
almanahj.com/kw

٢- لم تعمر الإمبراطورية الاستعمارية الهولندية طويلاً .

٣- البرتغاليون أول من بدأ حركة الكشوف الجغرافية.

٤- انطلاق شرارة الثورة الصناعية من إنجلترا .

٥- انهيار الإمبراطورية الاستعمارية البرتغالية في الشرق .





المقارنات

* (قارن بين كل من:

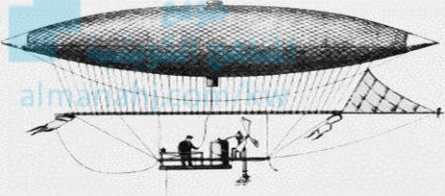
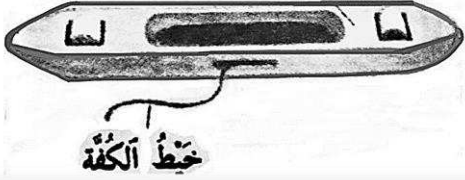
التميز العنصري almanahi.com/kw	الاستيطان	وجه المقارنة
.....	التعريف
.....--	المثال
الوصايه	الانتداب	وجه المقارنة
.....	التعريف
.....--	المثال



نظرية كوبرنيكوس	نظرية بطليموس	وجه المقارنة
.....	في علم الفلك





توماس أديسون	الأخوان رايت	وجه المقارنة
.....	الاختراع
.....	أثر الاختراع

		وجه المقارنة
.....	الاختراع
.....	أسم المخترع
.....	أثر الاختراع

		وجه المقارنة
.....	أسم المخترع
.....	الاختراع
.....	أثر الاختراع





ما هو الفرق بين

فرق

أ) فرق بين كل مما يلي :

الكشوف الجغرافية للرحالة ألكسندر ماكينزي	الكشوف الجغرافية للرحالة مارتن فروبشير
.....
العامل الاستراتيجي لقيام النظام الاستعماري الأوروبي	العامل السكاني لقيام النظام الاستعماري الأوروبي
.....
المعاهدات والاتفاقيات الخاصة	الغزو العسكري
.....

ب) فرق بين إنجازات كل من :

ديلمر وبنز	روبرت فولتن
.....
صمويل موريس	أليساندر فولتا
.....

ج) فرق بين النتائج السياسية للكشوف الجغرافية على كل من :

البرتغال	أسبانيا
.....





دليل

* (دليل على صحة العبارات التالية :)

موقع
المناهج الكويتية
almanahj.com/kw

١- ساهم المفكرون الأوروبيون في احياء الدراسات اليونانية القديمة .

.....
.....

٢- للاستعمار الأوروبي آثار إيجابية على المستعمرات .

.....
.....

٣- لعب الأمير هنري الملاح دوراً كبيراً في قيام حركة الكشوف الجغرافية قبل رحلته الكشفية.

.....
.....

٤- حققت نتائج رحلة فاسكو دي جاما بتحقيق آمال البرتغاليين .

.....
.....

٥- للكشوف الجغرافية دور في تكوين دول وإمبراطوريات كبرى استعمارية وتأسيس مراكز تجارية ساحلية .

.....
.....



(sskuwait.net) – التوجيه الفني العام للاجتماعيات





* عدد ما يلي :

١- مراحل نمو المدن الأوروبية .

.....
.....
.....



٢- العوامل الاقتصادية لقيام النظام الاستعماري الأوروبي .

.....
.....
.....

٣- العوامل التي ساعدت البرتغاليين في تأسيس الإمبراطورية واحتكار تجارة الشرق .

.....
.....
.....

٤- آراء نيقولا ماكيافلي السياسية في كتابة الأمير .

.....
.....

٥- الأسباب الدينية لقيام حركة الكشوف الجغرافية .

.....
.....





* عرّف المفاهيم والمصطلحات التالية :

.....	النهضة الأوروبية
.....	كومونات
.....	الإنسانيين
.....	الكشوف الجغرافية
.....	مراجعة نقدية
.....	التفويض الإلهي
.....	الكرافيل
.....	الاستعمار
.....	الاستعمار الأوروبي
.....	الميثاق الاستعماري
.....	الثورة
.....	الثورة الصناعية





* فُتد العبارات التالية :

١- لم يكن للكشوف الجغرافية دوافع اقتصادية.

.....
.....
.....



٢- لم يكن للثورة الصناعية أي اختراع في مجال الكهرباء .

.....
.....
.....

٣- للاستعمار الأوروبي آثار إيجابية فقط على الدول المستعمرة .

.....
.....
.....

٤- اقتصر مواهب ليوناردو دافنشي في مجال الرسم .

.....
.....
.....

