

تم تحميل هذا الملف من موقع المناهج الكويتية



منطقة مبارك الكبير التعليمية

الملف نموذج إجابة منطقة مبارك الكبير

[موقع المناهج](#) ← [المناهج الكويتية](#) ← [الصف التاسع](#) ← [علوم](#) ← [الفصل الأول](#)

روابط مواقع التواصل الاجتماعي بحسب الصف التاسع



روابط مواد الصف التاسع على تلغرام

[الرياضيات](#)

[اللغة الانجليزية](#)

[اللغة العربية](#)

[التربية الاسلامية](#)

المزيد من الملفات بحسب الصف التاسع والمادة علوم في الفصل الأول

مسودة كتاب الطالب علوم لعام 2018	1
تلخيص كورس اول في مادة العلوم	2
بنك اسئلة الوحدة الثانية في مادة العلوم	3
بنك اسئلة الوحدة الاولى في مادة العلوم	4
المواضيع المعلقة في مادة العلوم لعام	5



وزارة التربية

الإدارة العامة لمنطقة مبارك الكبير التعليمية



نموذج إجابة

اختبار الفترة الدراسية الأولى

2023/2022

التاسع

الصف

العلوم

المادة



نموذج الإجابة

مدة الامتحان (ساعتين وربع)
عدد الصفحات (5)

وزارة التربية
الإدارة العامة لمنطقة مبارك الكبير التعليمية
التوجيه الفني للعلـــــوم

امتحان نهاية الفصل الدراسي الأول في مادة العلوم للصف التاسع

العام الدراسي 2022 - 2023

16

السؤال الأول : اختر الإجابة الصحيحة علمياً لكل من العبارات التالية و ضع علامة (✓)
في المربع المقابل لها: (2 X 8)


1. غدة في الجهاز التناسلي للذكر تفرز سائلاً لتغذية الحيوانات المنوية : ص16

المائة موقع
المنهج الكويتية
almanahj.com/kw

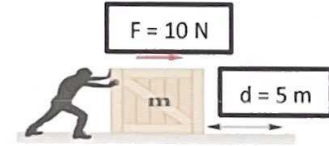


كوبر الخصيتين البروستاتا المثانة

2. أحد الصور التالية يعبر عن الانتخاب الطبيعي : ص51



3. مقدار الشغل في الشكل المقابل يكون : ص65



J (2) J (5) J (15) J (50)

4. شروط حدوث الشغل : ص67

إزاحة فقط قوة فقط إزاحة وقوة بنفس الاتجاه إزاحة وقوة عكس اتجاه بعضهما


5. محرك ببذل شغلاً مقداره (200) J خلال زمن (20) ثانية ، قدرته تكون : ص70

w (10) w (20) w (30) w (40)

6. نظرية النشأة العضوية للنفط تعتمد على أن المادة الأم لنشأة النفط تتكون من عنصري : ص90

الأكسجين والهيدروجين الكربون والهيدروجين الأكسجين والكربون النيتروجين والكربون

7. الشكل الصحيح الذي يمثل قنينة بلاستيكية وُضع بها ماء و نفط : ص95



8. أحد ما يلي يعتبر من الألياف الصناعية : ص120

النايلون الصوف القطن الكتان

8

السؤال الثاني: اكتب بين القوسين كلمة (صحيحة) أمام العبارة الصحيحة و كلمة (خطأ) أمام العبارة غير الصحيحة علميا في كل مما يلي : (1 X 8)

1. كيس الصفن يغلف الخصيتين ويعمل على حمايتها . ص16 (صحيحة)

2. يحتوي الحيوان المنوي على كامل المادة الوراثية (46 كروموسوم) . ص25 (خطأ)
موقع المناهج الكويتية
almanahj.com/kw

3. متلازمة داون مرض ناتج بسبب الطفرة الجينية . ص45 (خطأ)

4. الشكل المقابل يمثل العلاقة بين الشغل والإزاحة . ص68 (صحيحة)


5. كلما زاد زمن الشغل المنجز قلت القدرة . ص72 (صحيحة)

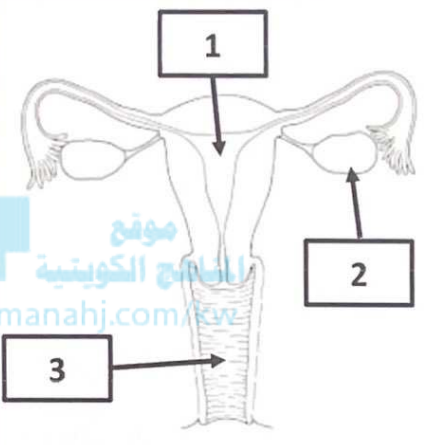
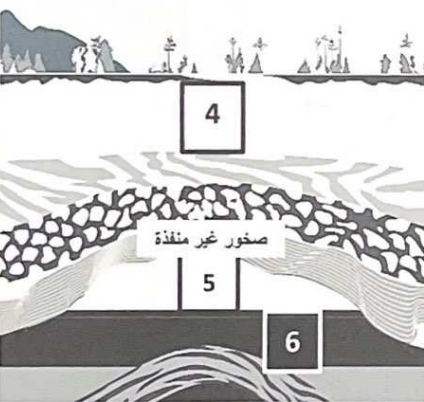
6. يهاجر النفط من مناطق الضغط المرتفع إلى مناطق الضغط المنخفض . ص98 (صحيحة)

7. يتميز البلاستيك اللات حراري بإمكانية إعادة تشكيله مرة أخرى . ص117 (خطأ)

8. الملابس المصنوعة من الألياف الصناعية ملائمة للأشخاص الذين يعانون من حساسية . ص121 (خطأ)

6

السؤال الثالث: في الجدول التالي اختر العبارة أو الشكل من المجموعة (ب) واكتب رقمها أمام ما يناسبها من عبارات المجموعة (أ): (6 X 1)

الرقم	المجموعة (أ)	المجموعة (ب)
(1)	- الرقم الذي يشير إلى الرحم . ص 17	
(2)	- الرقم الذي يشير إلى المبيض .	
(6)	- مكان تواجد النفط في الخزان الصخري . ص 83	
(5)	- مكان تواجد الغاز الطبيعي في الخزان الصخري .	
(8)	- تفاعل يكون الناتج الوحيد فيه هو البوليمر . ص 116	<p>7- بوليمرات التكتائف 8- بوليمرات الإضافة 9- مونمرات</p>
(7)	- تفاعل يكون الناتج منه بوليمر بالإضافة إلى جزئ ماء أو كحول.	



السؤال الرابع (أ) : علل كل مما يلي تعليلاً علمياً سليماً (1 X 4)

12



1. عندما يسير رجل بشكل أفقي حاملاً الحقيبة فإن الشغل يساوي صفراً .

لأن القوة متعامدة مع اتجاه الإزاحة . ص 67

2. أفضل طريقة لرفع الطابوق فوق مبنى يمثله الشكل رقم (1)

لأن القدرة تكون أعلى / توفير الوقت والجهد ص 71

3. ظهور النفط على سطح الأرض في صورة رشح بترولي.

بسبب هجرة النفط ص 98

4. تصنع ملابس السباحة من الألياف الصناعية .

لأنها سريعة الجفاف . ص 121

4

السؤال الرابع (ب) : صنف أمراض الجهاز التناسلي التالية حسب ما هو مطلوب في الجدول (1 X 4)

(الإيدز - حمى النفاس - سرطان البروستاتا - السيلان) ص 30-31

أمراض تناسلية تنشأ دون اتصال جنسي	أمراض تناسلية تنشأ نتيجة اتصال جنسي
سرطان البروستاتا	السيلان
حمى النفاس	الإيدز

4

السؤال الرابع (ج) : أدرس العلاقات البيانية والجدول ثم أجب عن المطلوب (2 X 2)

1- عند إجراء عملية تكرير للنفط تكون النواتج حسب الشكل البياني المقابل : درجة الحرارة (C°)



- يتكون غاز الطهي في الحاوية رقم (1)

- يتكون الإسفلت في الحاوية رقم (5)

ص 102-103



4

الإنتاج رقم (1)	الإنتاج رقم (2)
غير نمطي في مخرجاته	نمطي في مخرجاته
استخدام آلات غير متخصصة	استخدام آلات متخصصة

2- الجدول التالي لبيانات نوعين من الإنتاج :

- الإنتاج رقم (1) يسمى **متقطع**

- الإنتاج رقم (2) يسمى **مستمر**

ص 124

8

السؤال الخامس (أ) أي مما يلي لا ينتمي للمجموعة مع ذكر السبب . (1 X 2)

1- المسح الزلزالي - الحركات الأرضية - تضاغط الرواسب - ضغط الغاز الطبيعي

- الذي لا ينتمي للمجموعة هو : المسح الزلزالي ص 87 (1/2)

- السبب : لأنه من طرق التنقيب عن النفط / لأنه ليس من عوامل هجرة النفط (1/2)

2

2- النشا - البروتينات - البلاستيك - السليلوز

- الذي لا ينتمي للمجموعة هو : البلاستيك ص 116 (1/2)

- السبب لأنه بوليمر صناعي / لأنه ليس بوليمر طبيعي (1/2)

السؤال الخامس (ب) : التفكير الناقد وحل المشكلات (1 X 4)

- اشترك أحمد وخالد في مسابقة لدفع الصناديق لأكبر مسافة ممكنة وسجلت لجنة الحكام

4

البيانات التالية ، والمطلوب منك اكمال جدول البيانات وتحديد الشخص الفائز في المسابقة .

خالد	أحمد	
J (80)	J (60)	الشغل المبذول
N (4)	N (6)	القوة المبذولة
الإزاحة = الشغل / القوة (1)		القانون المستخدم لحساب مسافة دفع الصناديق
الإزاحة = $4/80 = m 20$	الإزاحة = $6/60 = m 10$	المسافة

- الشخص الفائز في المسابقة هو خالد (1) ص 65

السؤال الخامس (ج) : ادرس الأشكال التالية، ثم أجب عن المطلوب (1 X 2)

2

- الأشكال المقابلة تمثل مجموعة من أنواع الطفرات التركيبية : ص 46

1- تسمى تكرر $ABCDEF \longrightarrow ABBCDEF$

2- تسمى نقص $ABCDEF \longrightarrow ABDEF$

انتهت الأسئلة بحمد الله

