

تم تحميل هذا الملف من موقع المناهج الكويتية



مدرسة التميز النموذجية

الملف اختبار قصير تجريبي أول متبوع بالحل

موقع المناهج ← المناهج الكويتية ← الصف الثالث ← علوم ← الفصل الثاني

روابط مواقع التواصل الاجتماعي بحسب الصف الثالث



روابط مواد الصف الثالث على تلغرام

[الرياضيات](#)

[اللغة الانجليزية](#)

[اللغة العربية](#)

[التربية الاسلامية](#)

المزيد من الملفات بحسب الصف الثالث والمادة علوم في الفصل الثاني

<a href="#">تلخيص علوم</a>	1
<a href="#">مراجعة</a>	2
<a href="#">مذكرة كفايات</a>	3
<a href="#">نموذج اجابة</a>	4
<a href="#">مراجعة</a>	5



# امتحانات

موقع  
المناهج الكويتية  
almanahj.com/kw

## تجريبية

### القصير الاول

٢٠٢٤-٢٠٢٥ م

مدرسة التميز النموذجية والثالثة

المادة علوم





نموذج (١)

الصف / الثالث

الاختبار القصير الاول

( ٤ درجة )

السؤال الأول: اختر الإجابة الصحيحة علميا لكل عبارة:-

١- حوض او منخفض طبيعي عن سطح الارض .....

سهول

تلال

هضبة

وادي

موقع  
المناهج الكويتية  
almanahj.com/kw

٢- تتميز اوراق نباتات الصحراء بانها .....

كبيرة وشوكية

صغيرة وشوكية

كبيرة وكثيفة

طويلة وممتدة

( ٢ درجة )

السؤال الثاني: ضع علامة (√) أو (×) أمام العبارات الآتية :-

( )

١- تعتبر دولة الكويت تربة طينية .


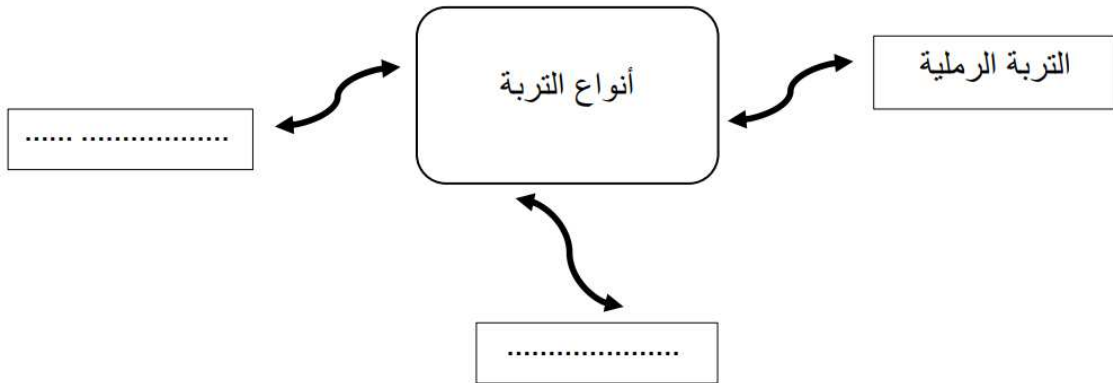
( )

٢- صفات الصخور متشابهة.

( ٤ درجة )

السؤال الثالث: -

اكمل الخريطة الذهنية التالية بما يناسبها من المفاهيم العلمية :





اجابة نموذج (١)

الصف / الثالث

لاختبار القصير الاول

( ٤ درجة )

السؤال الأول: اختر الإجابة الصحيحة علميا لكل عبارة:-

٣- حوض او منخفض طبيعي عن سطح الارض .....

سهول

تلال

هضبة

وادي

موقع  
المناهج الكويتية  
almanahj.com/kw

٤- تتميز اوراق نباتات الصحراء بانها .....

كبيرة وشوكية

صغيرة وشوكية

كبيرة وكثيفة

طويلة وممتدة

( ٢ درجة )

السؤال الثاني: ضع علامة (√) أو (×) أمام العبارات الآتية :-

( × )

٣- تعتبر دولة الكويت تربة طينية .

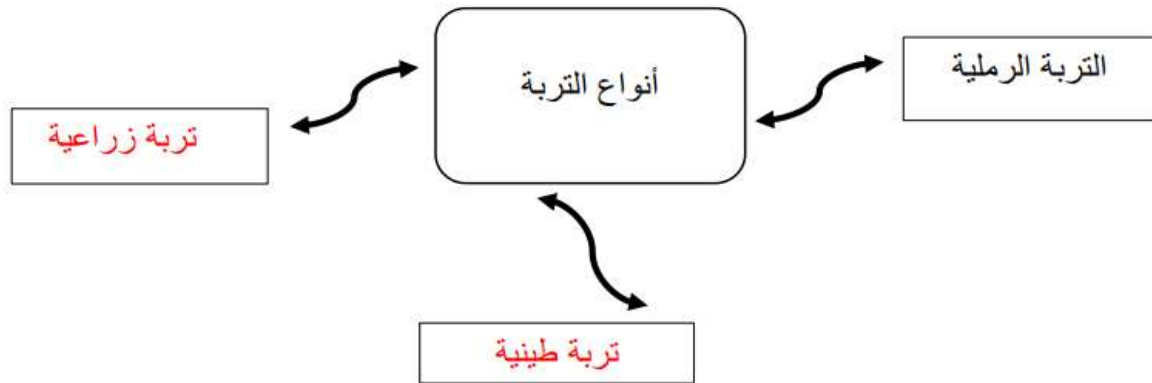
( × )

٤- صفات الصخور متشابهة.

( ٤ درجة )

السؤال الثالث :-

اكمل الخريطة الذهنية التالية بما يناسبها من المفاهيم العلمية :





الاختبار القصير الاول

الصف / الثالث

نموذج (٢)

( ٤ درجة )

السؤال الأول: اختر الإجابة الصحيحة علميا لكل عبارة:-

١- نباتات تنمو في ترابه رملية جافه .....

نباتات الحديقة  نباتات الصحراء  نباتات المزارع  نباتات الغابة

موقع  
المناهج الكويتية  
almanahj.com/kw

٢- تعتبر من صفات التربه الطينيه .....

جيدة التهوية  فقيرة بالعناصر الغذائية  حبيباتها مختلفة الحجم  حبيباتها صغيرة جدا

( ٢ درجة )

السؤال الثاني: ضع علامة (√) أو (×) إمام العبارات الآتية :-

١- تتميز نباتات الحديقة باوراقها الصغيره الشوكيه .  
٢- خصائص سطح الارض في دولة الكويت متنوعه .

( ٤ درجة )

السؤال الثالث : صنف الصفات التاليه للنباتات تبعا لنوعها فيما يلي :

( 4 ) أوراق صغيرة      ( 3 ) جذور قصيرة      ( 2 ) أوراق كبيرة      ( 1 ) جذور طويلة

نبات الحديقة	نبات الصحراء





الاختبار القصير الاول

الصف / الثالث

إجابة نموذج (٢)

( ٤ درجة )

السؤال الأول: اختر الإجابة الصحيحة علميا لكل عبارة:-

٣- نباتات تنمو في تربه رملية جافه .....

نباتات الغابة

نباتات المزارع

نباتات الصحراء

نباتات الحديقة

المناهج الكويتية  
almanahj.com/kw

٤- تعتبر من صفات التربه الطينية .....

حبيباتها صغيرة  
جدا

حبيباتها مختلفة  
الحجم

فقيرة بالعناصر  
الغذائية

جيدة التهوية

( ٢ درجة )

السؤال الثاني: ضع علامة (√) أو (×) أمام العبارات الآتية :-

( × )

٣- تتميز نباتات الحديقة باوراقها الصغيره الشوكيه .

( √ )

٤- خصائص سطح الارض في دولة الكويت متنوعه .

( ٤ درجة )

السؤال الثالث : صنف الصفات التاليه للنباتات تبعا لنوعها فيما يلي :

( 4 )

أوراق صغيرة

( 3 )

جذور قصيرة

( 2 )

أوراق كبيرة

( 1 )

جذور طويلة

نبات الحديقة	نبات الصحراء
2	1
3	4





مدرسة التميز النموذجية  
(ابتدائي - متوسط - ثانوي)  
الجهاز الفني التربوي

# منصات التميز التعليمية

لزيارة منصة التميز التعليمية في اليوتيوب امسح الباركود التالي :



لزيارة منصة التميز التعليمية في تليجرام امسح الباركود الخاص بقناة كل فصل مما يلي :



الصف الرابع



الصف الثالث



الصف الثاني



الصف الأول



الصف التاسع



الصف الثامن



الصف السابع



الصف السادس



الصف الخامس



الصف الثاني عشر  
أدبي



الصف الثاني عشر  
علمي




الصف الحادي عشر  
علمي



الصف الحادي عشر  
أدبي



الصف العاشر



لزيارة صفحتنا في تويتر

لزيارة صفحتنا في الإنستقرام

عنواننا : خيطان - ق ٤ - ش ١٠٠

