

تم تحميل هذا الملف من موقع المناهج الكويتية



منطقة الفروانية التعليمية

الملف نموذج أسئلة منطقة الفروانية

موقع المناهج ← المناهج الكويتية ← الصف السابع ← اجتماعيات ← الفصل الأول

روابط مواقع التواصل الاجتماعي بحسب الصف السابع



روابط مواد الصف السابع على تلغرام

[الرياضيات](#)

[اللغة الانجليزية](#)

[اللغة العربية](#)

[التربية الاسلامية](#)

المزيد من الملفات بحسب الصف السابع والمادة اجتماعيات في الفصل الأول

<a href="#">كتاب الطالب في مادة الاجتماعيات للعام الدراسي 2018</a>	1
<a href="#">حل الوحدة الاولى في مادة الاجتماعيات</a>	2
<a href="#">تلخيص رائع في مادة الاجتماعيات</a>	3
<a href="#">حل الوحدة الثانية في مادة الاجتماعيات</a>	4
<a href="#">تلخيص ممتاز في مادة الاجتماعيات</a>	5

**السؤال الثاني : ( مقال ) ويتكون من : [ أ ، ب ]**

**أ) اقرأ الفقرة التالية ثم أجب عن الأسئلة التي تليها :**

يضم الوطن العربي مجموعة من الدول العربية التي يجمعها عدد من السمات المشتركة ويمتد ضمن قارتين من أكبر قارات العالم . وقد كونت شعوب هذه المنطقة وطناً كبيراً له عاداته وتقاليده وقيمه وتربط بين أبنائه وحدة الدين واللغة والتراث والأهداف المشتركة .

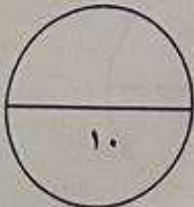
١- عرّف ماتحته خط في الفقرة السابقة .

٢- أكتب أسماء القارات التي يمتد فيها الوطن العربي .

٣- عدد مقومات الهوية العربية .

**ب) فرق بين كل مما يلي :**

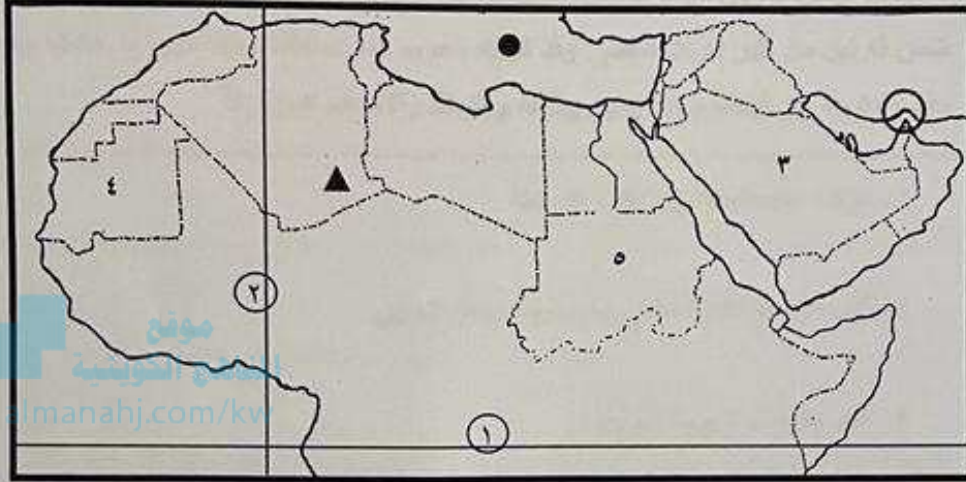
المصنوع	القناة
..... .....	..... .....
الطقس	المناخ
..... .....	..... .....
السهول الساحلية	السهول النضوية
..... .....	..... .....





**تابع السؤال الأول :**

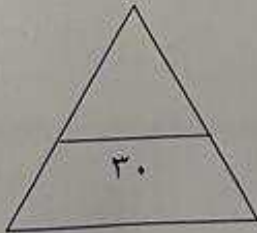
**هـ) لاحظ خريطة الوطن العربي ثم أجب عن الأسئلة التي تليها :**



- ..... الشكل ( ● ) يرمز إلى مسطح مائي يسمى
- ..... الشكل ( ▲ ) يرمز إلى جبال تسمى
- ..... الشكل ( ⊙ ) يحيط بمضيق اسمه
- ..... خط الإستواء على الخريطة يمثل الرقم
- ..... المملكة العربية السعودية يمثلها على الخريطة الرقم

**و) أكتب المفهوم أو المصطلح الدال على العبارات التالية :-**

- ١- (.....) نقطة من الكرة الأرضية يتحدد موقعها بخطوط الطول ودوائر العرض.
- ٢- (.....) النبات الذي ينمو تلقائياً عقب سقوط المطر دون تدخل من الإنسان .
- ٣- (.....) كل ما يطرأ على المجتمع من تقدم وتطور ورفي في جميع نواحي الحياة الدينية والسياسية والاقتصادية والاجتماعية والفكرية .



**السؤال الثالث : (مقال) ويتكون من : [ أ ، ب ]**

**أ) لاحظ الصورة التي أمامك ثم أجب عن الأسئلة التالية :**



١- ما اسم الحضارة التي تمثلها الصورة التي أمامك ؟

..... -

٢- ما العوامل التي ساعدت على قيام الحضارة فيها ؟

..... -

..... -

٣- ما أهم العلوم والفنون التي اشتهرت بها هذه الحضارة ؟

..... -

**ب) اكتب فيما يلي :**

١- العوامل التي تؤثر في مناخ الوطن العربي .

..... -

..... -

٢- مصادر المياه في الوطن العربي .

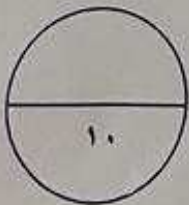
..... -

..... -

٣- الطرق التي نستطيع من خلالها المحافظة على ثروة المياه وتخفيف مشكلتها .

..... -

..... -







وزارة التربية  
الإدارة العامة لمنطقة الفروانية التعليمية  
التوجيه الفني للاجتماعيات

مقرر / الكويت والوطن العربي

زمن الإجابة: ساعة ونصف  
عدد الأوراق: (٦)

امتحان نهاية الفترة الدراسية الأولى  
(الصف السابع)  
للعام الدراسي (٢٠٢٢ / ٢٠٢٣ م)

أجب عن جميع الأسئلة التالية :-

السؤال الأول (موضوعي) ويتكون من ( أ - ب - ج - د - هـ - و ) :-

أ) صوب ما تحته خط في العبارات التالية :-

- ١- تمثل نسبة مساحة الوطن العربي من جملة مساحة العالم حوالي ٥٠٪ .
- ٢- موقع الدولة بالنسبة لليابسة والماء يسمى الموقع الفلكي .
- ٣- أكثر الأشكال التضاريسية انتشاراً في الوطن العربي تسمى التلال .
- ٤- مسطح مائي تحيط به اليابسة من جميع الاتجاهات يسمى النهر .
- ٥- أشهر ممالك اليمن القديمة وورد ذكرها في القرآن الكريم هي معين .

ب) صنّف الأسماء ما بين القوسين بمكانها الصحيح في الجداول التي تليها :

١- [ الإنجيل - موسى عليه السلام - التوراة - عيسى عليه السلام ]

الذي	الكتاب	الديانة
.....	.....	١- اليهودية
.....	.....	٢- المسيحية

٢- [ النيل / الشطوط / أطلس / الهبوب ]

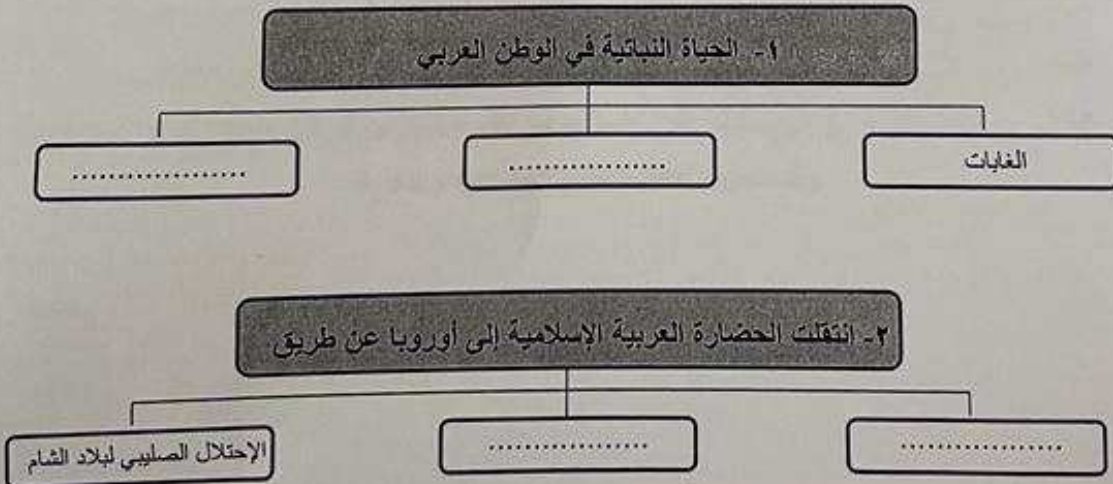
أنهار	هضاب	رياح	ضباب
.....	.....	.....	.....

**تابع السؤال الأول :**

**ج) ضع خطأ تحت الخيار الصحيح من بين الخيارات التي تلي كل عبارة :-**

- ١- دولة عربية تتكون من اتحاد أربع جزر وتقع خارج نطاق موقع الوطن العربي :  
( جيبوتي - الصومال - جزر القمر - عمان )
- ٢- المضيق الذي يصل بين البحر المتوسط والمحيط الأطلسي :  
( هرمز - باب المندب - قناة السويس - جبل طارق )
- ٣- الدولة العربية التي تهب عليها رياح الخماسين :  
( ليبيا - مصر - الكويت - العراق )
- ٤- أطلق اسم بلاد الرافدين على دولة عربية تسمى حالياً :  
( العراق - البحرين - اليمن - سوريا )
- ٥- الدولة العربية التي يوجد بها سد مأرب :  
( مصر - البحرين - اليمن - العراق )

**د) أكمل المخططات السهمية التالية :**





**السؤال الرابع: (مقالي) ويتكون من [ أ ، ب ، ج ] :**

**أ) علّل لما يلي :**

١- المدن الساحلية أكثر اعتدالاً في المناخ صيفاً واندفا نسبياً شتاء .

٢- اهتمام المصريون القدماء بتحنيط جثث موتاهم .

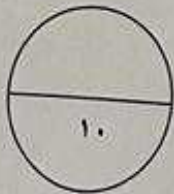
**ب) قارن بين كل من حسب الجدول التالي :**

أوجه المقارنة	الحشائش الحارة ( السافانا )	الحشائش المعتدلة ( الأستيبس )
التعريف		
الحيوانات التي تنبئ عليها		

**ج) عدد لكل مما يلي :**

١- أهم الحيوانات السائدة في المناطق الصحراوية في الوطن العربي .

٢- صفات المطر في الوطن العربي .



انتهت الأسئلة