

تم تحميل هذا الملف من موقع المناهج الكويتية



الملف نموذج إجابة امتحان الفترة الأولى منطقة الأحمدية التعليمية

[موقع المناهج](#) ← [المناهج الكويتية](#) ← [الصف السادس](#) ← [اجتماعيات](#) ← [الفصل الأول](#)

روابط مواقع التواصل الاجتماعي بحسب الصف السادس



روابط مواد الصف السادس على تلغرام

[الرياضيات](#)

[اللغة الانجليزية](#)

[اللغة العربية](#)

[التربية الاسلامية](#)

المزيد من الملفات بحسب الصف السادس والمادة اجتماعيات في الفصل الأول

نموذج احابة اختبار لمنطقة مبارك الكبير عام 2016	1
اوراق عمل مهمة في مادة الاجتماعيات	2
بنك اسئلة ممتاز في مادة الاجتماعيات	3
بنك معلومات مهم في مادة الاجتماعيات	4
تلخيص اجتماعيات بشكل مبسط	5

تم التحميل من شبكة ياكويت التعليمية



Telegram:
[ykuwait_net_home](https://t.me/ykuwait_net_home)

الاجابة
النموذجية

امتحان الفترة الدراسية الأولى
لمقرر (الكويت ودول الخليج العربية)
للسف السادس المتوسط

أجب عن جميع الأسئلة

السؤال الأول (موضوعي) يتكون من (أ - ب - ج) (١٢ نقطة × درجة واحدة = ١٢ درجة)

(أ) ضع خطأ تحت الخيار الصحيح من بين الخيارات التي تلي كل عبارة :

- ١- الحرفة الأساسية والمكملة للأنشطة البحرية: ص ٣٣
- أ- صيد الأسماك ب- الغوص على اللؤلؤ ج- التجارة د- صناعة السفن
- ٢- المدينة التي أعلن فيها قيام مجلس التعاون الخليجي عام ١٩٨١ م : ص ٧٠
- أ- الدوحة ب- مسقط ج- أبو ظبي د- المنامة
- ٣- القمة السابعة والعشرون لمجلس التعاون لدول الخليج العربية سميت بقمة الشيخ : ص ٧٤
- أ- عبدالله السالم ب- جابر الأحمد ج- صباح الأحمد د- نواف الأحمد
- ٤- العام الذي تم فيه انطلاق السوق الخليجي المشترك: ص ٧٧
- أ- ٢٠٠٨ م ب- ٢٠٠٩ م ج- ٢٠١٠ م د- ٢٠١١ م

(ب) ظل الحرف (أ) إذا كانت العبارة صحيحة و الحرف (ب) إذا كانت العبارة خاطئة :

م	العبارة	أ	ب
١	الأبل من الحيوانات المستأنسة .	ص ٢٦	
٢	تمتد جذور المعالم الأثرية في منطقة الخليج العربية خمسين قرناً.	ص ٤٥	
٣	اشتهرت حضارة مجان بأفران صهر المعادن.	ص ٤٨	
٤	ظهر الإسلام في القرن العاشر الميلادي.	ص ٥٣	

(ج) صنف الهجرات التالية في مكانها الصحيح في الجدول الذي يليها :

(الأزدي - آل صباح - المعاضيد - القواسم) ص ٥٧

دولة الكويت	رأس الخيمة	سلطنة عمان	دولة قطر
<u>آل صباح</u>	<u>القواسم</u>	<u>الأزدي</u>	<u>المعاضيد</u>

السؤال الثاني (موضوعي) يتكون من (أ - ب - ج) (١٢ نقطة × درجة واحدة = ١٢ درجة)

(أ) اختر من المجموعة (أ) ما يناسبها من المجموعة (ب) بوضع الرقم الصحيح في المكان المناسب:

م	المجموعة (أ)	الرقم الصحيح	المجموعة (ب) ص ٣٢
١	تاجر اللؤلؤ	٤	الرضيف
٢	ربان السفينة	٣	النهام
٣	مطرب السفينة	١	الطواش
٤	صغار السن	-----	السيب
٥	رئيس البحرية	٢	النوخذة
		٥	المجدي

(ب) اكتب المفاهيم أو المصطلحات الدالة على العبارات التالية :

م	المفهوم	التعريف
١	<u>الخليج العربي</u>	ذراع مائي لبحر العرب يمتد من خليج عمان جنوباً حتى شط العرب شمالاً. ص ١٩
٢	<u>دوائر العرض</u>	خطوط وهمية ترسم على الكرة الأرضية تقسم الكرة الأرضية إلى قسمين شمالي وجنوبي وعددها ١٨٠ دائرة. ص ٢١
٣	<u>المناخ</u>	حالة الجو في مكان ما خلال فترات زمنية طويلة. ص ٢٥
٤	<u>الواحة</u>	منطقة تقع في الصحراء، فيها مياه عذبة صالحة للزراعة. ص ٢٩
٥	<u>الاستعمار</u>	سيطرة دولة قوية على دولة ضعيفة بهدف استغلال مواردها (خيراتها). ص ٦١

(ج) اكتب مدلولات الصور في الفراغات أدناه : (أو ما يراه المصحح مناسباً)



(آبار - جليب - قليب)

ص ٥١



(آثار فيلكا - الحضارة الهلنستية)

ص ٤٧

السؤال الثالث (موضوعي) يتكون من (أ - ب - ج) (١٢ نقطة × درجة واحدة = ١٢ درجة)

(أ) أكمل العبارات التالية بما يناسبها :

١- الاسم الذي أطلق على الخليج العربي قديماً البحر الأدنى أو بحر شروق الشمس. ص ٤٧

٢- العام الذي أصدرت فيه دولة الكويت وثيقة الدستور ١٩٦٢ م. ص ٦٤

٣- الدولة العربية الخليجية الوحيدة التي لم تتعرض للاستعمار اسمها المملكة العربية السعودية. ص ٦٥



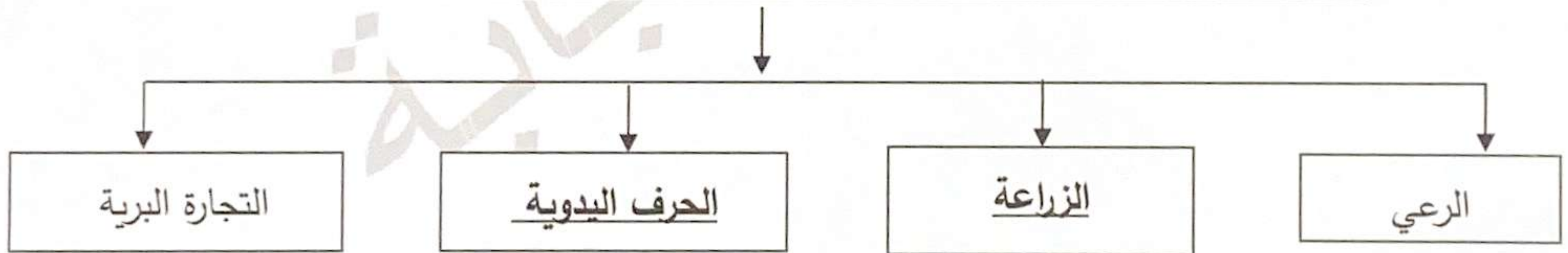
٤- متحف متخصص في الحضارة الإسلامية الذي تمثله الصورة المقابلة يسمى

ص ٥٣

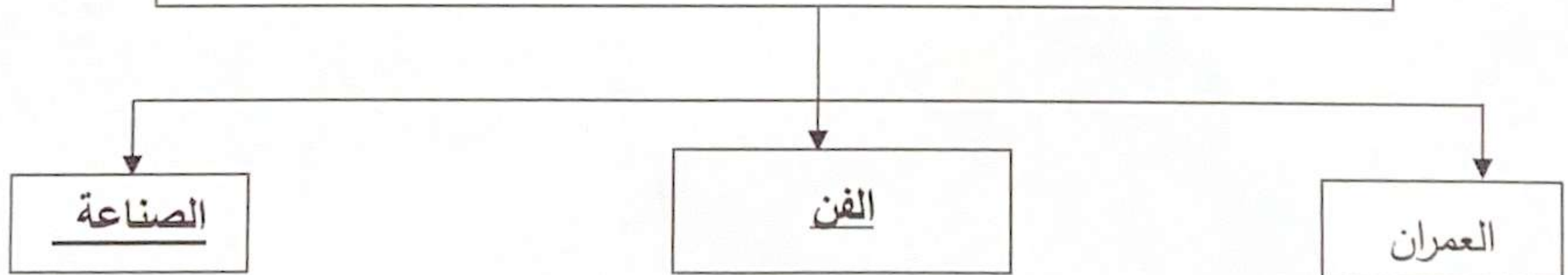
متحف الشارقة.

(ب) أكمل المخططات السهمية التالية :

١- الأنشطة البرية التي مارسها سكان دول الخليج العربية . ص ٢٨

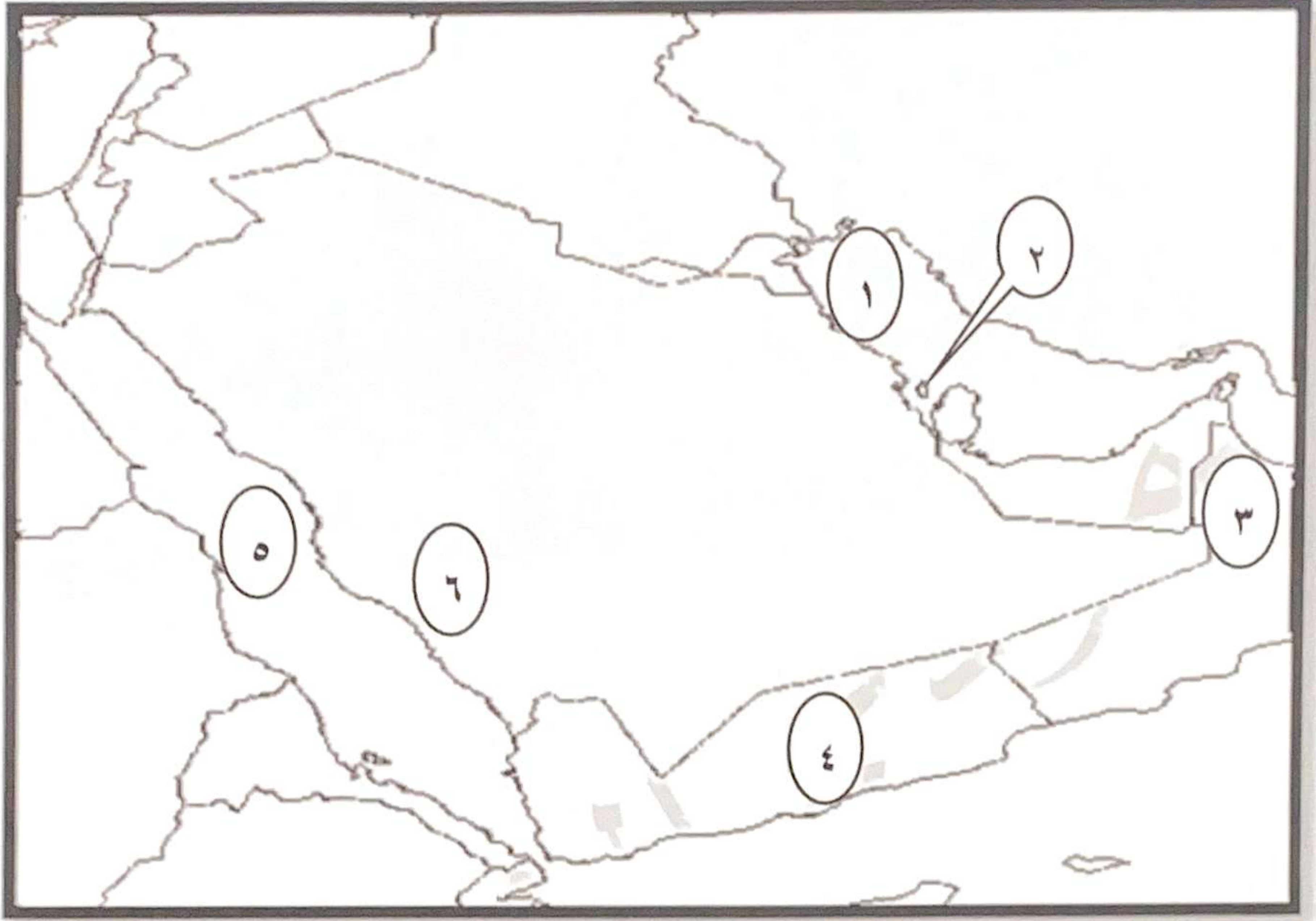


٢- مظاهر الحضارة الإسلامية. ص ٥٥



تابع / السؤال الثالث (موضوعي)

(ج) لاحظ خريطة شبه الجزيرة العربية ثم اكتب الرقم الدال على العبارات التالية :



تم التحميل من شبكة ياكويت التعليمية



Telegram:
ykuwait_net_home

ص ٢٣

- الجبل الأخضر يمثله على الخريطة الرقم ٣.

ص ٢٣

- جبال عسير يمثّلها على الخريطة الرقم ٦.

ص ٤٩

- البحر الأحمر يمثله على الخريطة الرقم ٥.

ص ٤٩

- حضارة دلمون يمثّلها على الخريطة الرقم ٢.

السؤال الرابع (مقالى) يتكون من (أ - ب - ج) (١٢ نقطة × درجة واحدة = ١٢ درجة)

(أ) لاحظ الصورة التى تمثل معاهدة الاستقلال ثم اجب عن الأسئلة التالية : ص ٦٣



١ - ما اسم حاكم الكويت الذى يظهر فى هذه الصورة ؟

- الشيخ عبدالله السالم الصباح .

٢ - اذكر العام الذى استقلت فيه دولة الكويت .

- ١٩٦١ م.

٣ - من الطرف الأجنبى الذى وقع المعاهدة ؟

- بريطانيا .

(ب) قارن بين كل من :

أوجه المقارنة	نبات معمر ص ٢٦	نبات حولى ص ٢٦
التعريف	- نباتات متوفرة طول العام لأنها تتحمل الجفاف وارتفاع درجة الحرارة.	- نباتات يرتبط وجودها بموسم سقوط المطر.
الأمثلة (يكتفى بنقطة)	- الصبار - العرفج - الثندا - الرمث	- الخبيزة - الحويذان - العنصيل

(ج) اكتب فيما يلى مما درست :

١ - أنواع الرياح التى تهب على منطقة الخليج العربية . (يكتفى بنقطتين) ص ٢٥

- الرياح الشمالية

- الرياح الجنوبية الشرقية (الكوس) .

- الزوابع (العواصف) الترايبية .

٢ - الصفات المشتركة بين دول مجلس التعاون لدول الخليج العربية . (يكتفى بنقطتين) ص ٧٠

- وحدة التراث - الانتماء - الدين - المصالح المشتركة.

٣ - أهداف مجلس التعاون لدول الخليج العربية . (يكتفى بنقطة) ص ٧٦

تم التحميل من شبكة ياكويت التعليمية



Telegram:
ykuwait_net_home

السؤال الخامس (مقالى) يتكون من (أ - ب - ج) (١٢ نقطة × درجة واحدة = ١٢ درجة)

(أ) اقرأ الفقرة التالية ثم أجب عما يليها من أسئلة :

إن المنافسة الاستعمارية التي شهدتها منطقة الخليج العربية منذ القرن الخامس عشر كانت نتيجة للتسابق بين الدول الاستعمارية لاستغلال الموقع، وإدراكاً منها لأهميته، وتعد البرتغال أول دولة أوروبية استعمارية وصلت للخليج العربي، ثم فقدت نفوذها فجاء الهولنديون واستمروا إلى أن ظهر الإنجليز ونجحوا في إحكام سيطرتهم على الخليج العربي عن طريق المعاهدات والاتفاقيات.

١- اذكر - أول دولة أوروبية استعمارية وصلت للخليج العربي. ص ٦٠

- البرتغال .

٢- علل - تنافس الدول الاستعمارية على منطقة الخليج العربية. ص ٦٠

- لاستغلال الموقع وإدراكاً منها لأهميته.

٣- كيف - استطاع الإنجليز إحكام سيطرتهم على الخليج العربي؟ ص ٦٠

- عن طريق المعاهدات والاتفاقيات.

(ب) علل لما يلي :

١- حياة السكان في البيئة الصحراوية لمنطقة الخليج العربية قاسية وخشنة . ص ٢٧ (يكتفى بنقطة)

- لفقر البيئة - قلة الموارد فيها خاصة المياه - فقر النباتات و الحياة الحيوانية في المنطقة .

٢- انصراف سكان دول الخليج العربية عن حرفة الغوص على اللؤلؤ . ص ٣١

- ظهور اللؤلؤ الصناعي .

- اكتشاف النفط .

٣- سفينة البغلة هي أفضل أنواع السفن المستعملة في رحلة السفر . ص ٣٤ (يكتفى بنقطتين)

- لمتانتها - قدرتها على نقل الحمولة الكبيرة - تمتاز بقلة تعرضها للأخطار البحرية .

(ج) فرق بين كلاً من :

الموقع النسبي	الموقع الفلكي ص ٢٠
- الموقع بالنسبة للماء واليابس.	- الموقع بالنسبة لخطوط الطول ودوائر العرض.
الفقال	الدشة ص ٣٢
- نهاية موسم الغوص.	- بداية موسم الغوص.

انتهت الإجابة،،

