



المجال : الكويت والعالم
الزمن : ساعة ونصف
عدد الصفحات : (٦)

امتحان نهاية الفترة الدراسية الثانية
للعام الدراسي : ٢٠١٨/٢٠١٩ م
للمنصف التاسع
نموذج الإجابة

وزارة التربية
الإدارة العامة لمنطقة الفروانية التعليمية
التوجيه الفني للاجتماعيات

أجب على الأسئلة التالية :

السؤال الأول:- موضوعي ويتكون من (أ - ب - ج - د - هـ - و)

أ - أكمل العبارات التالية بما يناسبها فيما درست :

- ١- العالم الذي اخترع جهاز الهاتف يسمى ألكسندر غراهام بل ص ٩٥
 - ٢- المنظمة الدولية التي تأسست عام ١٩١٩م من قبل الدول المنتصرة في الحرب العالمية الأولى تسمى عصبة الأمم ص ١٢٧
 - ٣- أقيمت أول مستوطنة بريطانية في استراليا في عام ١٧٨٨م في مدينة تسمى سيدني ص ٨٧
 - ٤- عملية تغيير شامل في أدوات الإنتاج الصناعي ووسائله وحجمه تسمى الثورة الصناعية ص ١١٥
 - ٥- العام الذي انضمت فيه دولة الكويت إلي هيئة الأمم المتحدة ١٩٦٣م ص ١٥٠
 - ٦- الصورة المقابلة تمثل قائد الثورة الشيوعية في روسيا اسمه لينين ص ١٢٢
- ب - ضع خطأ تحت الخيار الصحيح من بين الخيارات التي تلي كل عبارة :



- ١- أكبر قارات العالم مساحة قارة : ص ٧٩
- أفريقيا - أمريكا الشمالية - أمريكا الجنوبية - آسيا
- ٢- الملاح الذي أثبت كروية الأرض : ص ١١٦
- جون كابوت - ماجلان - كولمبس - هنري الملاح
- ٣- يقع مقر المنظمة الإقليمية لحماية البيئة البحرية في : ص ١٤٦
- البحرين - عمان - الكويت - السعودية
- ٤- الجهاز الرئيسي لمنظمة الأمم المتحدة ويضم جميع الدول الأعضاء : ص ١٢٨
- الأمانة العامة - مجلس الوصايا - الجمعية العامة - مجلس الأمن
- ٥- تقع اليابان في الأقاليم المعتدلة الدافئة والباردة بين دائرتي عرض : ص ٩٢
- (٥ - ٤٦ شمالاً) - (١٠ - ٤٦ شمالاً) - (١٦ - ٤٦ شمالاً) - (٢٦ - ٤٦ شمالاً)
- ٦- يقع مقر محكمة العدل الدولية في مدينة : ص ١٢٨
- لاهاي - روما - جنيف - أمستردام

ج - اختر من القائمة (أ) ما يناسبها من القائمة (ب) بوضع الرقم المناسب :

| م | (أ) | الرقم المناسب | (ب) |
|---|---|---------------|-----------------|
| ١ | الإنفاق الأمثل للمال بحيث يتم استخدام أساليب وتدابير حكيمة في عملية الاستهلاك . ص ١٠٨ | ٣ | الرسوم الجمركية |
| ٢ | اقتطاع جزء من الدخل بشرط يأخذ طريقه للاستثمار . ص ١٠٨ | ٤ | الدخل القومي |
| ٣ | ضريبة تفرضها الدولة بما لها من حق السيادة على البضائع المستوردة أو المصدرة . ص ١٠٧ | ٥ | الاستثمار |
| ٤ | دخل الدولة خلال عام من مختلف المصادر . ص ١٠٨ | - | الضرائب |
| ٥ | توظيف الفائض من الأموال أو النقود الناتج عن زيادة دخل الدولة . ص ١٠٨ | ١ | الترشيد |
| | | ٢ | الادخار |

د - صنف أنواع التعاون التالية حسب الصورة المناسبة :

(التعاون الجبري - التعاون الاختياري - التعاون الأسري - التعاون الدفاعي) ص ١١٠



التعاون الاختياري



التعاون الجبري



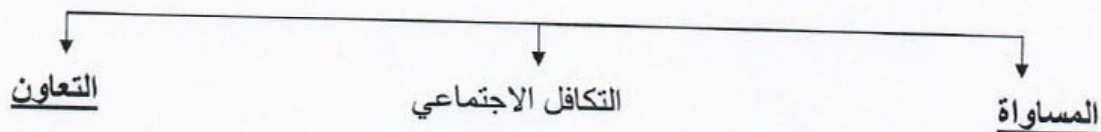
التعاون الدفاعي



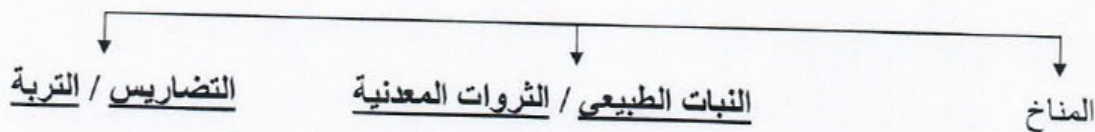
التعاون الأسري

هـ - أكمل المخططات السهمية التالية :

١. ركائز العدالة الاجتماعية ص ١٠٩



٢. العوامل الطبيعية التي تتحكم في توزيع السكان ص ٨٣



و- أمامك خريطة العالم الصماء نفذ المطلوب عليها :



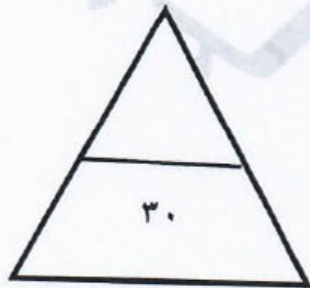
- قارة أفريقيا يمثلها على الخريطة الرقم٥..... ص ٧٩

- المحيط الأطلسي يمثلها على الخريطة الرقم٣..... ص ١١٦

- الدولة التي عقد بها مؤتمر قمة الأرض عام ١٩٩٢م يمثلها على الخريطة الرقم٦..... ص ١٣٥

- الدولة التي بها أضخم صخرة في العالم يمثلها على الخريطة الرقم١..... ص ٨٥

- جبال روكي يمثلها على الخريطة الرقم٢..... ص ٧٩



السؤال الثاني :- مقالتي ويتكون من (أ - ب)

أ- قارن بين كل من :

| أوجه الاختلاف | الحرب العالمية الأولى | الحرب العالمية الثانية |
|--------------------|--|---|
| عدد الدول المشاركة | <u>٣٣ دولة</u> ص ١١٧ (درجة واحدة) | ٦٢ دولة ص ١٢٤ (درجة واحدة) |
| السبب المباشر | - قيام طالب صربي باغتيال ولي عهد النمسا في مدينة سراييفو عاصمة البوسنة . ص ١١٦ (درجة واحدة) | - سياسة هتلر التوسعية في أوروبا والاستيلاء على ممر دانزج البولندي سنة ١٩٣٩م . ص ١٢٤ (درجة واحدة) |
| أهم النتائج | ١- اختفاء أربع إمبراطوريات عريقة (الألمانية - الروسية - النمساوية - التركية) . ٢- فرض غرامة مالية كبيرة على الدول المهزومة . ٣- فرض القيود على الجيش والأسطول الألماني وفقدان ألمانيا لأجزاء من أراضيها . ص ١١٩-١٢٠ (درجة واحدة) | ١- عدلت خريطة أوروبا السياسية من جديد . ٢- قضى على النازية والفاشية . ٣- انقسمت ألمانيا إلى قسمين (شرقية - غربية) . ٤- خرجت الولايات المتحدة والاتحاد السوفييتي من الحرب كأكبر دولتين في العالم . ص ١٢٦ (درجة واحدة) |

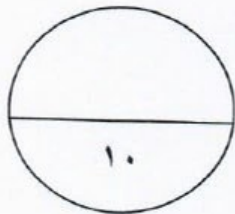
ب - علل لما يلي :

١- يعتبر النفط والغاز الطبيعي مادة إستراتيجية في عصرنا الحاضر . ص ١٣٠ (درجة واحدة)
توفرهما بكميات كبيرة في مناطق محدودة / سهولة نقلهما وتخزينهما / يعتبران مادتان هامتان وقت السلم والحرب .

٢- وضعت هيئة الأمم المتحدة دولة الكويت في قائمة الشرف الخاصة . ص ١٥٠ (درجة واحدة)
بسبب التزامها الدائم بقرارات الأمم المتحدة منذ انضمامها عام ١٩٦٣م .

٣- تمكن اليابانيون من ربط دولتهم بشبكة من الجسور والأنفاق العملاقة وخطوط السكك الحديدية . ص ٩٣ (درجة واحدة)
للتغلب على الشكل المشتت لدولتهم .

٤- تشتهر أستراليا على مستوى العالم بإنتاجها للصوف . ص ٨٧ (درجة واحدة)
بسبب ثروتها الرعوية



السؤال الثالث :- مقالتي ويتكون من (أ - ب)

أ - فرق بين كل مما يلي :

| منظمة الأوبك ص ١٣٢ | منظمة الأوبك ص ١٣٢ |
|---|---|
| - هي منظمة الأقطار العربية المصدرة للنفط تأسست عام ١٩٦٨ م . (درجة واحدة) | - هي منظمة الأقطار المصدرة للنفط تأسست عام ١٩٦٠ م . (درجة واحدة) |
| الصادرات ص ٨٨ | الواردات ص ٨٨ |
| - السلع والخدمات التي تباع للبلاد الأجنبية . (درجة واحدة) | - السلع والخدمات التي يشتريها البلد من العالم الخارجي . (درجة واحدة) |

ب - دلل على صحة العبارات التالية : (يكفي بنقطتين لكل سؤال)

١- للانضمام لعضوية هيئة الأمم المتحدة لابد من وجود شروط . ص ١٢٧ (درجتان)

أ. أن تكون الدولة مستقلة / أن تكون الدولة محبة للسلام .

ب. أن تتعهد بتنفيذ قوانين هيئة الأمم المتحدة .

٢- وجود أوجه تشابه بين الأنظمة الدكتاتورية . ص ١٢٢ (درجتان)

أ. الزعامة المطلقة . / الحزب هو السلطة الوحيدة في الدولة .

ب. استخدام وسائل بوليسية وإرهابية لفرض النظام الجديد . / التوسع في أوروبا .

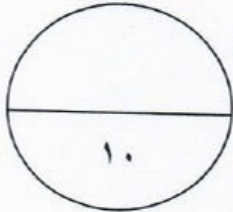
٣- لدولة الكويت دور فاعل وإيجابي على المستوى العربي . ص ١٥١ (درجتان)

أ. انضمت الكويت لجامعة الدول العربية منذ استقلالها ١٩٦١ م وكان لها دوراً فعالاً في مجالات متعددة .

ب. كان للكويت دوراً بارزاً في تأسيس مجلس التعاون الخليجي . / الوقوف إلى جانب

الشعب الفلسطيني . / الاهتمام بمشكلة إقليم دارفور في السودان . / استضافة المؤتمر

الموسم الثالث لوزراء خارجية دول جوار العراق في الكويت في ٢٢ أبريل ٢٠٠٨ م .



السؤال الرابع :- مقالتي ويتكون من (أ - ب)

أ - عرف المفاهيم والمصطلحات التالية :

- ١- التنمية الاجتماعية : النهوض بمختلف المجالات البشرية والإنسانية في المجتمع. ص ١١٠ (درجة واحدة)
- ٢- الاحتباس الحراري : ارتفاع درجات حرارة الأرض عن معدلها الطبيعي. ص ١٣٣ (درجة واحدة)
- ٣- العولمة : سهولة الحركة والانتقال بين دول العالم من خلال تذويب الحدود. ص ١٠٩ (درجة واحدة)
- ٤- السبخة : أرض تبخر عنها الماء وبقيت عليها طبقة مالحة . ص ٨٥

ب - أجب عن الأسئلة التالية : (يكتفي بنقطتين لكل سؤال)

- ١- ما الآثار الناتجة عن تآكل طبقة الأوزون . ص ١٣٤ (درجتان)
أ. ارتفاع درجة حرارة الجو المحيط بالكرة الأرضية / ارتفاع نسبة الإصابة بالأمراض الجلدية وأمراض العيون .

ب. إتلاف الغطاء النباتي وانخفاض إنتاجية المحاصيل الزراعية .

- ٢- عدد أنشطة الصندوق الكويتي للتنمية الاقتصادية . ص ١٤٤ (درجتان)

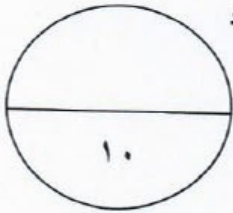
أ. تقديم القروض والضمانات للدول النامية .

ب. تقديم المنح على سبيل المعونة الفنية .

- ٣- اذكر العناصر التي تحدد الرأي العام . ص ١٠٦ (درجتان)

أ. وجود قضية أو مسألة تكون محل اهتمام الناس . / وجود عدد من الأفراد لديهم اهتمام بالقضية .

ب. التعبير أو الإفصاح عن الرأي أو وجهة النظر سواء بالكلمة المكتوبة أو المنطوقة .



انتهت الأسئلة مع تمنياتنا لكم بالتوفيق ،،