



وزارة التربية
الإدارة العامة لمنطقة حولي التعليمية
مدرسة السلام .أ. بنات



مذكرة أوراق عمل



لمادة بلادي الكويت



للمصف الخامس الابتدائي

WWW.KweduFiles.Com

العام الدراسي ٢٠١٧ / ٢٠١٨ م

اعداد المعلمة : زينب بن نخي

مديرة المدرسة : خديجة الحتية

رئيسة الشعبة : ناهد الظفيري





وزارة التربية
الإدارة العامة لمنطقة حولي التعليمية
مدرسة السلام .أ. بنات



عزيزي ولي الأمر عزيزتي المتعلمة

نحيطكم علما بأن المذكرة (تلخيص بعض الدروس و
أوراق العمل) للمراجعة و ليس الاعتماد عليها في
دراسة الاختبار و الدراسة تكون من الكتاب المدرسي .

مع خالص الشكر ،،،

المعلمة : زينب بن نخي
رئيسة الشعبة : ناهد الظفيري



وزارة التربية

الإدارة العامة لمنطقة حولي التعليمية

مدرسة السلام .أ. بنات

ورقة عمل لمادة بلادي الكويت

الصف الخامس

درس ١ : مفاهيم جغرافية



ALSALM SCHOOL



إخلاص بلا حدود



السؤال الأول :

ابحث عن كلمات المفاهيم الجغرافية التي وردت في درس اليوم ص ١٤ - ١٥ بتلوين كل كلمة بلون مختلف :-

ا	ا	خ	ط	ا	ل	ق	ا	ر	ة
ل	ق	ل	ا	ل	ه	ن	د	ي	ا
ق	ر	ا	م	غ	ز	و	ا	ا	ل
ش	ا	ل	و	و	أ	م	ل	ك	س
ر	ط	ن	ا	أ	ق	د	م	ي	ك
ة	ل	س	د	ب	ر	ع	ض	ر	ا
ا	ب	ب	ي	و	أ	خ	ي	م	ن
ل	ج	ي	م	ا	ع	ز	ق	أ	ي
ك	أ	ل	إ	س	ك	و	ا	ء	ك
ر	ا	ل	أ	ط	ل	س	ي	آ	ل
ض	ج	ر	ر	ي	ن	ت	ش	س	ف
ي	أ	ف	ر	ر	ي	ق	ي	ا	ل
ة	ا	ل	م	ح	ي	ط	ا	ا	ا

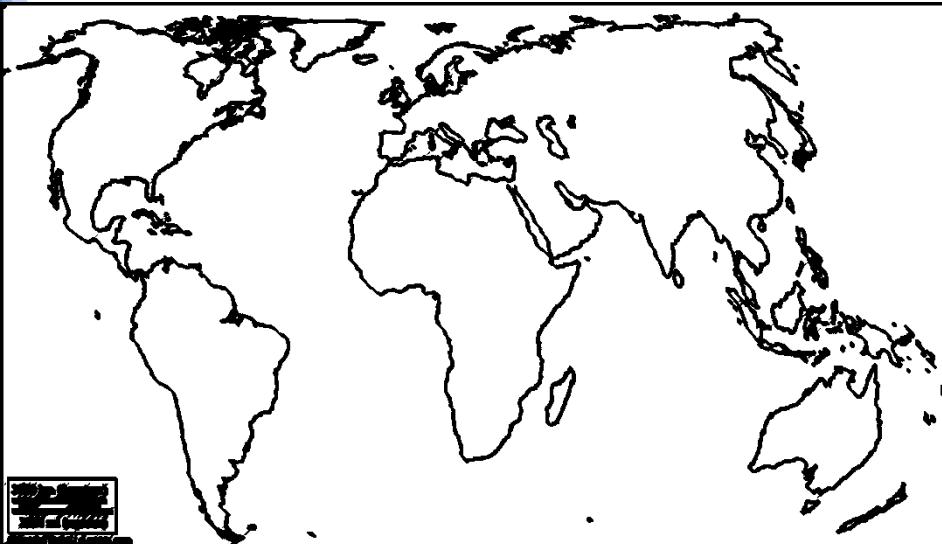
www.KweduFiles.Com

السؤال الثاني :

لون اليابس باللون الأصفر و لون الماء باللون الأزرق ، ثم أكتب أسماء المفاهيم المرادفة لها التي تعلمتها اليوم أمام الكلمات التالية :-

اليابس :

الماء :





وزارة التربية

الإدارة العامة لمنطقة حولي التعليمية
مدرسة السلام .أ. بنات

٢



ملخص درس ٢ الموقع النسبي

ص ٨٦

- تعد البحار و
الخلجان جزء من
المحيط يتصل
بعضها ببعض عبر
المضائق .



- الموقع النسبي :-
هو موقع الدولة بالنسبة لكتلتها
اليابس و الماء .



WWW.KweduFiles.Com



- محيطات الكرة
الأرضية:-

١. المحيط الهادي .
٢. المحيط الهندي .
٣. المحيط الأطلسي .
٤. المحيط القطبي الجنوبي .
٥. المحيط القطبي الشمالي .

- قارات الكرة الأرضية :-

١. قارة أمريكا الشمالية .
٢. قارة أمريكا الجنوبية .
٣. قارة استراليا .
٤. قارة أوروبا .
٥. قارة آسيا .
٦. قارة أفريقيا .
٧. القارة القطبية الجنوبية .



- أكبر قارات الكرة
الأرضية مساحة
هي قارة آسيا أما
أكبر المحيطات
مساحة هو المحيط
الهادي .

- أصغر قارات الكرة
الأرضية مساحة هي قارة
أستراليا أما أصغر
المحيطات مساحة هو
المحيط القطبي الشمالي .



ورقة عمل لمادة بلادي الكويت
الصف الخامس
درس ٢ : الموقع النسبي



السؤال الأول : ظلل الحرف الذي يمثل الإجابة الصحيحة للعبارات التالية :-



١- أكبر المحيطات مساحة هو المحيط



٢- المحيط الهندي يمثل الحرف



WWW.KweduFiles.Com

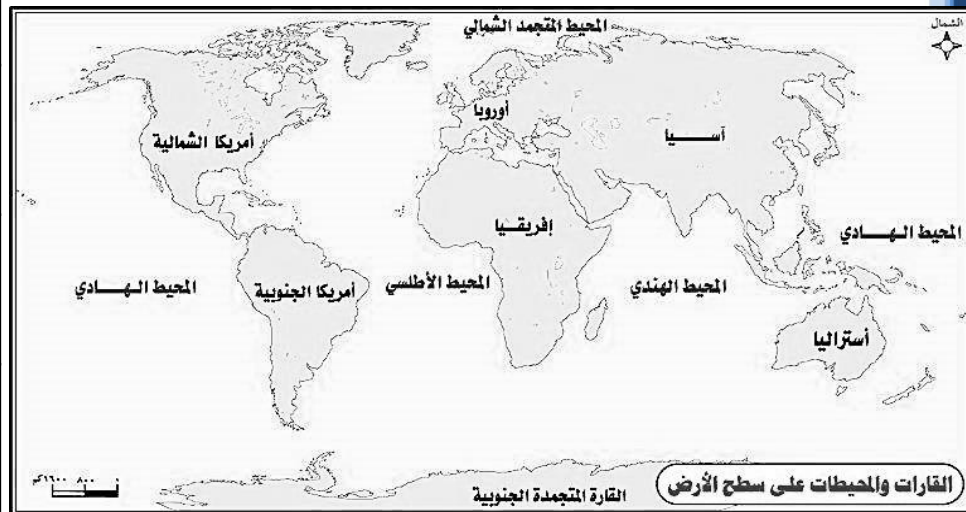


٣- أصغر القارات مساحة هي قارة



السؤال الثاني : بمساعدة خريطة العالم أكتب الموقع النسبي للقارات التالية :-

المحيطات المجاورة للقارات	القارة
	قارة آسيا
	قارة أوروبا
	قارة أمريكا الجنوبية





وزارة التربية
الإدارة العامة لمنطقة حولي التعليمية
مدرسة السلام .أ. بنات



ملخص درس ٣ الموقع الفلكي

ص ١٨



- خطوط الطول و
دوائر العرض عبارة
عن خطوط وهمية و
ليست حقيقية .

- الموقع
الفلكي :-
هو موقع
الدولة بالنسبة
لخطوط الطول
و دوائر
العرض .



WWW.KweduFiles.Com



دوائر العرض	خطوط الطول	أوجه المقارنة
١٨٠	٣٦٠	عدد الخطوط
٩٠ دائرة شمال ٩٠ دائرة جنوب	١٨٠ خط شرق ١٨٠ خط غرب	اتجاه الخط
خط الاستواء	خط جرينتش	اسم الخط الرئيسي
صفر	صفر	رقم الخط الرئيسي
هي دائرة وهمية تنصف الكرة الأرضية لقسمين متساويين شمالي و جنوبي .	خط وهمي يقسم الكرة الأرضية لقسمين متساويين شرقي و غربي يبدأ من القطب الشمالي و ينتهي بالقطب الجنوبي . 	تعريف اسم الخط الرئيسي
- تحديد نوع مناخ الدول . 	- تحديد مواقع الدول على الخريطة . - تحديد التوقيت الزمني لأي دولة 	الفوائد

ورقة عمل لمادة بلادي الكويت
الصف الخامس
درس ٣ : الموقع الفلكي



السؤال الأول :

لَوِّنْ رقم عدد دوائر العرض و شكل خطوطها على الخريطة باللون الأحمر و لون رقم عدد خطوط الطول و شكل خطوطها على الخريطة باللون البنفسجي .



٣٦٠

٢٨٠

٤٩٠

١٨٠

السؤال الثاني : قارن بين خطوط الطول و دوائر العرض وفق الجدول التالي :

دوائر العرض	خطوط الطول	وجه المقارنة
		عدد الخطوط
		اسم الخط الرئيسي
		جهة الخطوط
		أهمية الخطوط

ملخص درس ٤ + ٥

موقع بلادي (١ + ٢) ص ٢٠ : ٣٣



- الكويت دولة صغيرة
المساحة حيث تبلغ
١٧.٨١٨ كلم



- موقع دولة الكويت (الفلكي) :
١- خطي طول 48° - 46° شرقاً
٢- دائرتي عرض 30° - 28° شمالاً

- موقع دولة الكويت (النسبي) :

- ١- من جهة الشرق (الخليج العربي)
- ٢- من جهة الشمال و الشمال الغربي (جمهورية العراق)
- ٣- من جهة الجنوب و الجنوب الغربي (المملكة العربية السعودية)




- أهمية موقع دولة الكويت الجغرافي :



- الدولة المغلقة :
هي الدولة التي
يحيط بها اليابس من
جميع الجهات .

- ١- وسط قارات العالم .
- ٢- البوابة الشرقية للوطن العربي .
- ٣- أهمية سياسية و اقتصادية منذ القدم .



- لا تتشابه
دول العالم في
مواقعها
الجغرافية .



- تختلف دول العالم
من حيث المساحة .



- الدولة البحرية :
هي الدولة التي لها
منفذ بحري .



وزارة التربية
الإدارة العامة لمنطقة حولي التعليمية
مدرسة السلام. أ. بنات

٧
ورقة عمل لمادة بلادي الكويت
الصف الخامس
درس ٤ : موقع بلادي (١)



السؤال الأول : اختار الإجابة الصحيحة من بين القوسين بوضع دائرة حولها :

- ١- للكويت موقع جغرافي مميز بين قارات العالم حيث تقع في ...
(جنوب العالم - وسط العالم - شمال العالم - غرب العالم)
- ٢- الكويت دولة صغيرة المساحة حيث تبلغ ...
(١٧.٨١٨ كلم - ١٨.٧١٧ كلم - ١٨.١٨١ كلم - ١٧.١٨١ كلم)
- ٣- تحد دولة الكويت من جهة الشمال دولة اسمها ...
(المملكة العربية السعودية - مملكة البحرين - الخليج العربي - العراق)
- ٤- الدولة التي تمثل البوابة الشرقية للوطن العربي هي دولة ...
(مصر - الكويت - العراق - المملكة العربية السعودية)

السؤال الثاني : ضع دائرة حول الموقع الفلكي الصحيح لدولة الكويت :

- خطي طول ٤٨ - ٤٦ شرقاً دائرتي عرض ٣٠ - ٣٨ شمالاً
- خطي طول ٤٨ - ٥٠ غرباً دائرتي عرض ٣٠ - ٢٨ شمالاً

السؤال الثالث : أكتب اسم المصطلح الجغرافي المناسب أمام التعاريف التالية :

- ١- (.....) موقع الدولة بالنسبة لدوائر العرض و خطوط الطول .
- ٢- (.....) موقع الدولة بالنسبة لليابس و الماء .

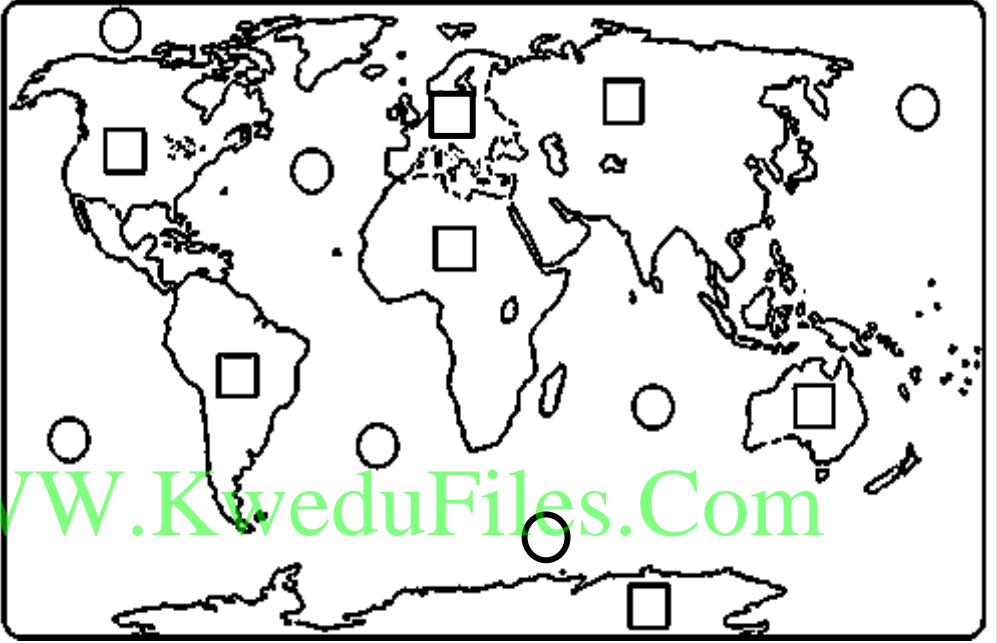
السؤال الرابع : اذكر مميزات موقع دولة الكويت :-

- ١-
- ٢-
- ٣-

ورقة عمل لمادة بلادي الكويت
الصف الخامس
درس ٥ : موقع بلادي (٢)

السؤال الأول : أكتب الأرقام في مكانها الصحيح على خريطة العالم التالية كما هو مطلوب على يسار الخريطة :-

- ١ المحيط القطبي الشمالي
٢ المحيط القطبي الجنوبي
٣ المحيط الهندي
٤ المحيط الهادي
٥ المحيط الأطلسي
١ قارة أفريقيا
٢ قارة آسيا
٣ قارة أوروبا
٤ قارة أستراليا
٥ قارة أمريكا الشمالية
٦ قارة أمريكا الجنوبية
٧ القارة القطبية الجنوبية



السؤال الثاني : أجب على الأسئلة التالية بالاستعانة بخريطة العالم :-

- ١ . القارة التي نعيش فيها تسمى
- ٢ . المحيط الذي يقع شمال قارة أوروبا يسمى
- ٣ . أقرب قارة للقارة القطبية الجنوبية هي قارة
- ٤ . المحيط الذي يفصل بين قارة أمريكا الشمالية و قارة أوروبا يسمى
- ٥ . ما هي القارة التي ستهبط فيها إذا سافرت شرقاً من قارة آسيا ؟ (أمريكا الشمالية / أمريكا الجنوبية)
- ٦ . ما هو المحيط الذي ستعبر إذا سافرت غرباً من قارة أمريكا الجنوبية ؟ (المحيط الهادي / المحيط الأطلسي)
- ٧ . ما هي القارة التي ستهبط فيها إذا سافرت من جهة شرق قارة أمريكا الشمالية عبر المحيط الأطلسي ؟ (آسيا / أوروبا)
- ٨ . ما هو المحيط الذي ستعبره لتذهب من قارة أستراليا إلى القارة القطبية الجنوبية ؟ (المحيط الهندي / المحيط القطبي الجنوبي)



وزارة التربية

الإدارة العامة لمنطقة حولي التعليمية
مدرسة السلام .أ. بنات

٩



ALSALM
SCHOOL



إخلاص بلا حدود

ورقة عمل لمادة بلادي الكويت الصف الخامس درس ٦ : تضاريس بلادي

السؤال الثاني : اختر الاجابة الصحيحة من

بين البدائل التالية بوضع دائرة حولها :-

١. يدل الرمز

(تلال - وادي - سبخات - حافات)

٢. الرمز الذي يدل على الأودية جافة هو

(- - -)

السؤال الأول : أكمل العبارات بكلمات مناسبة في

الفراغات التالية:-

١. أرض دولة الكويت صحراء منبسطة تنحدر تدريجيا

من الغرب إلى

٢. تقع سواحل دولة الكويت على مسطح مائي يسمى

.....

٣. تكاد تختفي التضاريس البارزة في أرض الكويت

باستثناء

www.KweduFiles.Com

الرقم	(أ)	(ب)
١ -	أراض منخفضة قليلة المياه تنمو فيها النباتات الملحية .	الكثبان الرملية
٢ -	تلال من الرمال تتراكم في الصحاري بفعل الرياح .	السبخات

السؤال الرابع :
صل المجموعة (أ) بما
يناسبها من المجموعة (ب)
بوضع الرقم المناسب :-

السؤال الخامس : لاحظ خريطة دولة الكويت الصماء ثم حدد
المطلوب بوضع الرقم المناسب على الخريطة :-



خريطة دولة الكويت الصماء

١. جون الكويت .
٢. تلال بركان .
٣. كثبان رملية أم النقا .
٤. سبخات الخيران .
٥. وادي الباطن .
٦. منخفضات أم العيش .

السؤال الثالث : صنف المناطق

التضاريسية التالية في الجدول

التالي :-

جال الزور / الروضتين /

الباطن

تلال	
منخفضات	
أودية	

ورقة عمل لمادة بلادي الكويت
الصف الخامس
درس ٧ : تطبيقات

السؤال الأول : أكمل الفراغات في الجدول التالي باجابات صحيحة و مناسبة :-

م	صور التضاريس	اسم مظهر التضاريس	رمز التضاريس ان وجد	مسميات التضاريس في دولة الكويت
١		سبخات		
٢		كثبان رملية		أم نقا / الهويميلة
٣				
٤		أودية جافة		
٥				جال الزور /
٦		جزيرة	X	
٧		خور	X	عبد الله / الصبية
٨		رأس	X	

ورقة عمل لمادة بلادي الكويت
الصف الخامس
درس ٨ : عناصر المناخ

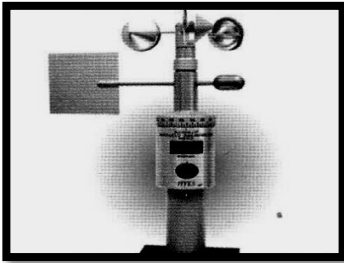


السؤال الأول : أكمل الفراغات بكلمات مناسبة :-


- ١ - حالة الجو لمدة زمنية قصيرة يوم أو ثلاث أيام يطلق على مفهوم
- ٢ - حالة الجو لمدة زمنية طويلة ٣٠ سنة يطلق على مفهوم
- ٣ - من عناصر المناخ الحرارة و و
- ٤ - يبدأ سقوط المطر في الكويت في شهر

السؤال الثاني : صل صور الأجهزة الى عنصر المناخ المناسب لها :-


WWW.KweduFiles.Com




الحرارة




الأمطار



الرياح



الرطوبة



الضغط
الجوي



١٢



وزارة التربية
الإدارة العامة لمنطقة حولي التعليمية
مدرسة السلام .أ. بنات

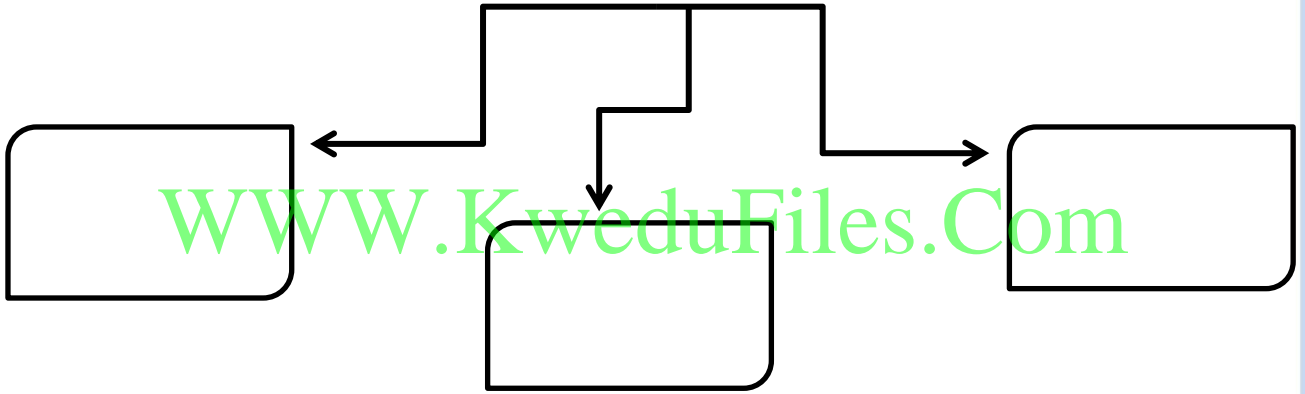


ورقة عمل لمادة بلادي الكويت
الصف الخامس
درس ٩ : العوامل المؤثرة في مناخ بلادي



السؤال الأول : أكمل المخطط السهمي التالي :-

لماذا يختلف المناخ بين مناطق العالم ؟



السؤال الثاني : صح ما تحته خط في الفراغ التالي :-

١. تقع دولة الكويت ضمن منطقة المناخ المعتدلة .

٢. قسم العالم لمناطق مناخية حسب قربها أو بعدها عن خط جرينتش .

٣. كلما ارتفعنا عن سطح البحر درجة الحرارة تزيد .

٤. الاقليم الذي يتميز بأنه حار جاف صيفاً وبارد شتاءً هو الاقليم القطبي .

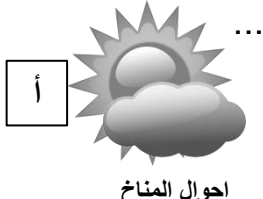
ورقة عمل لمادة بلادي الكويت
الصف الخامس
درس ١٠ : المواسم المناخية في بلادي

السؤال الأول : اختار الاجابة الصحيحة من بين الصور التالية بتظليل الحرف الصحيح :

٢- استفاد العرب من مواقع النجوم في معرفة



مواقع الدول



احوال المناخ

١- أول عالم فلكي كويتي هو الدكتور



صالح العجيري



عيسى رمضان

٤- وكالة ناسا هي مسؤولة عن علوم ...



الفضاء



البحر

٣- الجو السائد في موسم الربيعانية هو ...



حر شديد



برد شديد

السؤال الثاني : صحح ما تحته خط في الفراغ التالي :

١. موسم بداية الرطوبة يسمى الجوزاء ١ .

٢. الموسم الذي يكون البرد فيه شديداً و يستمر لمدة ٤٠ يوماً هو موسم سهيل .

٣. تميزت صحراء شبه الجزيرة العربية بالجو الغائم .

٤. موسم البوارح الذي يثار فيه الغبار يسمى الوسم .

٥. الموسم الذي يكون بداية الامطار و يبشر بظهور الفقع هو موسم الربيعانية .



وزارة التربية

الإدارة العامة لمنطقة حولي التعليمية
مدرسة السلام .أ. بنات

١٤

ملخص درس ١١ + ١٢

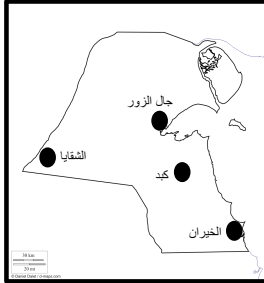


ALSALM
SCHOOL



وحدة النبات و الحيوان ص ٤٠ : ٤٧

- مناطق انتشار النبات الطبيعي في
دولة الكويت (الخيران /
كبد / جال الزور / الشقيا)



- أثر الظروف المناخية القاسية على نمو النبات الطبيعي في دولة الكويت :-

- ١- التفاوت في درجة الحرارة .
- ٢- ارتفاع نسبة سطوع الشمس .
- ٣- العواصف الترابية .
- ٤- ارتفاع نسبة التبخر .
- ٥- قلة الأمطار و عدم انتظامها .

٢- نباتات معمرة (دائمة)

ذات جذور عميقة تمتاز بصفات
تعينها على الاستفادة من المياه
القليلة و تزدهر في فصل الربيع .
**** العرفج / الشنان**

١- نباتات حولية (موسمية)

تتكاثر بعد سقوط المطر و تكمل
دورة حياتها في فترة زمنية قصيرة

**** الثيل / الهرم**



في فصل الربيع يعتدل المناخ في
دولة الكويت
فلاحظ وجود
نباتات
برية متنوعة :-



- صعوبة تكيف الحيوانات في
دولة الكويت بسبب تباين
درجات الحرارة



- الرعي الجائر :

هو الإفراط في الرعي +
أحد أسباب ظاهرة التصحر .



- حيوانات المراعي)
الأغنام / الماعز /
الابل (أكثر الحيوانات
استجابة للظروف
المناخية في دولة
الكويت .



- النباتات الطبيعية

مصدر غذائي مهم
للحيوانات البرية و
الطيور .

- التصحر : امتداد تأثير الصحراء
على المناطق الرعوية والزراعية .



١٥



الإدارة العامة لمنطقة حولي التعليمية
مدرسة السلام .أ. بنات

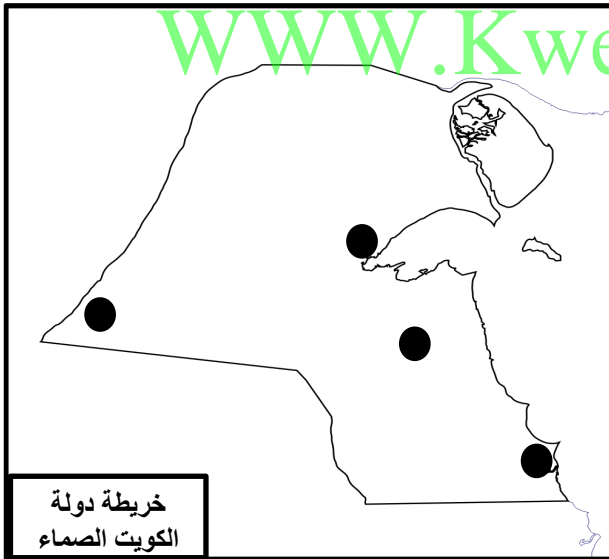


ورقة عمل لمادة بلادي الكويت
الصف الخامس
درس ١١ : النبات الطبيعي في بلادي



السؤال الأول : صل المجموعة (أ) بما يناسبها من المجموعة (ب) :-

(أ)	م	(ب)
١ . النباتات الحولية		نباتات وهي ذات جذور عميقة تمتاز بصفات تعينها على الاستفادة ممن المياه القليلة
١ . النباتات المعمرة		نباتات تتكاثر بعد سقوط المطر وتكمل دورة حياتها في فترة زمنية قصيرة



www.KweduFiles.Com

السؤال الثاني : على خريطة دولة الكويت الصماء حددي المناطق الزراعية التالية بوضع الرقم المناسب على الخريطة :-

- ١ . منطقة كبد .
- ٢ . منطقة الشقاي .
- ٣ . منطقة الخيران .
- ٤ . منطقة جال الزور .

السؤال الثالث : اذكر العوامل المؤثرة على الغطاء النباتي في دولة الكويت ؟

- ١ -
- ٢ -
- ٣ -
- ٤ -
- ٥ -

ورقة عمل لمادة بلادي الكويت
الصف الخامس
درس ١٢ : حيوانات في بلادي

السؤال الأول : صل صورة الحيوان إلى مجموعته الصحيحة :-



WWW.KweduFiles.Com

الزواحف و
القوارض

الحشرات

الأحياء البحرية

الطيور

الثدييات

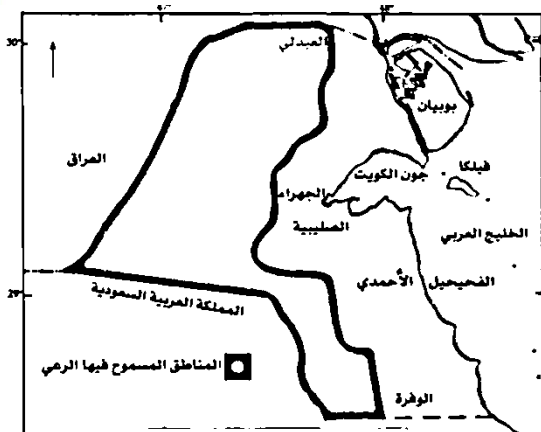
السؤال الثاني : أكتب المفهوم الدالة عليه العبارات التالية :-

١- (.....) الإفراط في الرعي و أحد أسباب ظاهرة التصحر في دولة الكويت .

٢- (.....) امتداد تأثير الصحراء على المناطق الرعوية و الزراعية .

السؤال الثالث:

لون على الخريطة المناطق الرعوية في دولة الكويت :-



خريطة المناطق الرعوية في دولة الكويت

ورقة عمل لمادة بلادي الكويت
الصف الخامس
درس ١٣ : حاكم من بلادي
الشيخ أحمد الجابر الصباح



السؤال الأول : ضع علامة v في المربع الدال على صورة الشيخ أحمد الجابر الصباح :-



السؤال الثاني : أكمل الفراغ بالجمل التالية بكلمة مناسبة :-
www.KweduFiles.Com

- ١- تولى الشيخ أحمد الجابر الصباح الحكم بعد وفاة عمه الشيخ
- ٢- جعل الشيخ أحمد الجابر الصباح الكويت دولة بدلاً من

السؤال الثالث : عرف المفهوم التالي :-

- امتياز التنقيب :

السؤال الرابع : رتب أهم الأحداث في عهد الشيخ أحمد الجابر ترتيب تصاعدي (من الأقدم إلى الأحدث) :-

- () منح امتياز التنقيب عن النفط للشركات الأجنبية .
- () تصدير أول شحنة من النفط .
- (٤) أول بئر منتج للنفط في منطقة برقان .
- () قيام أول مجلس للشورى و افتتاح المدرسة الأحمدية .
- () اكتشاف أول بئر نفطي في بحرة .



وزارة التربية
الإدارة العامة لمنطقة حولي التعليمية
مدرسة السلام .أ. بنات



ALSALM
SCHOOL



ورقة عمل لمادة بلادي الكويت الصف الخامس

درس ١٤ : بصمة حاكم في تاريخ الكويت
الشيخ عبدالله السالم الصباح (أبو الاستقلال)

السؤال الأول : ضع علامة v في المربع الدال على صورة الشيخ عبدالله السالم الصباح :-



السؤال الثاني : ارسم دائرة حول الإنجازات الداخلية للشيخ عبد الله السالم الصباح :-



السؤال الثالث : صنف العبارات التالية في جدول المفهوم المناسب لتكوتي التعريف الصحيح له :-

وثيقة مكتوبة تتكون من - حقوق و واجبات المواطنين نحو وطنهم - مجموعة من المواد

مسؤولية الدولة بصورة مباشرة عن - تنظيم العلاقة بين الحاكم و المحكوم و تحدد -

ادارة شؤونها الدتخلية و الخارجية

الاستقلال

الدستور

يتبع

رئيسة الشعبة : ناهد الظفيري

اعداد معلمة المادة : زينب بن نخي



١٩



وزارة التربية
الإدارة العامة لمنطقة حولي التعليمية
مدرسة السلام. أ. بنات



تابع / ورقة عمل لمادة بلادي الكويت
الصف الخامس

درس ١٤ : بصمة حاكم في تاريخ الكويت
الشيخ عبدالله السالم الصباح (أبو الاستقلال)



السؤال الرابع: صل من المجموعة (أ) ما يناسبها من المجموعة (ب) بوضع الرقم المناسب:-

(أ)	الرقم	(ب)
١- حصلت دولة الكويت على استقلالها في		٢٥ فبراير
٢- تحتفل دولة الكويت بالعيد الوطني كل عام في		٢٦ فبراير
		١٩ / ٦ / ١٩٦١ م

WWW.KweduFiles.Com

السؤال الخامس : أجب على الأسئلة التالية :-

أ- علل : الاحتفال بالعيد الوطني لدولة الكويت بتاريخ ٢٥ فبراير من كل عام .

ب- أكتب ألقاب الشيخ عبدالله السالم الصباح .

١-
٢-

ج- اذكر الانجازات الخارجية للشيخ عبدالله السالم الصباح .

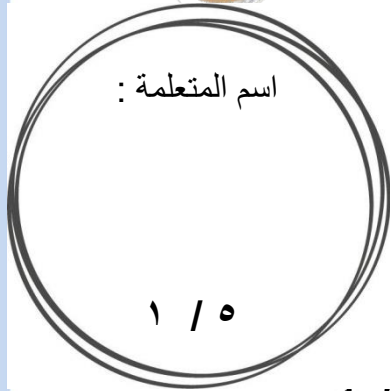
١-

٢-

٣-



وزارة التربية
الإدارة العامة لمنطقة حولي التعليمية
مدرسة السلام .أ. بنات



مذكرة أوراق عمل

لمادة بلادي الكويت

للمصف الخامس الابتدائي

WWW.KweduFiles.Com

العام الدراسي ٢٠١٧ / ٢٠١٨ م

اعداد المعلمة : زينب بن نخي

مديرة المدرسة : خديجة الحتية

رئيسة الشعبة : ناهد الظفيري





وزارة التربية
الإدارة العامة لمنطقة حولي التعليمية
مدرسة السلام .أ. بنات



عزيزي ولي الأمر عزيزتي المتعلمة

نحيطكم علما بأن المذكرة (تلخيص بعض الدروس و
أوراق العمل) للمراجعة و ليس الاعتماد عليها في
دراسة الاختبار و الدراسة تكون من الكتاب المدرسي .

مع خالص الشكر ،،،

المعلمة : زينب بن نخي
رئيسة الشعبة : ناهد الظفيري



وزارة التربية
الإدارة العامة لمنطقة حولي التعليمية
مدرسة السلام. أ. بنات




ورقة عمل لمادة بلادي الكويت الصف الخامس

درس ١٥ : الشيخ صباح السالم الصباح (أبو الجميع)



السؤال الأول : ضع علامة v في المربع الدال على صورة الشيخ صباح السالم الصباح :-



السؤال الثاني : أجب على الأسئلة التالية:-

- أ- عرف تأمين النفط :-
ب- اذكر الصفات التي تميز بها الشيخ صباح السالم الصباح !
٣- ٤- ٥-

السؤال الثالث : اقرأ الفقرة التالية جيداً و أكمل الناقص منها باختيار الاجابة الصحيحة من بين القوسين حتى يصبح لديك فقرة صحيحة المعلومات عن الشيخ صباح السالم الصباح :-

الشيخ صباح السالم الصباح هو الحاكم (الثاني عشر - الثالث عشر) لدولة الكويت ، تولى الحكم بعد وفاة (والده - أخيه) الشيخ عبدالله السالم الصباح عام (١٩٦٤م - ١٩٦٥م) ، و لقد أطلق الشعب الكويتي عليه لقب (أبو الاستقلال - أبو الجميع) .

و برزت في عهد الشيخ صباح السالم عدة أحداث مهمة منها افتتاح (جامعة الكويت - جامعة الخليج) عام ١٩٦٦م ، وفي عام ١٩٧٣م اعتدى النظام العراقي البائد على مركز (الوفرة - الصامتة) الحدودوي الشمالي الشرقي ، و قام الشيخ صباح السالم بتأمين النفط عام ١٩٧٥م و بعدها بسنة تم انشاء مؤسسة الكويت للتقدم العلمي (١٩٧٦م - ١٩٧٧م) ، و عقد اتفاقيات اقتصادية مع دول (أفريقيا - الخليج العربي) ، و اشتركت دولة الكويت في عهده في العديد من المنظمات و الهيئات العالمية .

ورقة عمل لمادة بلادي الكويت
الصف الخامس

درس ١٦ : الشيخ جابر الاحمد الجابر الصباح (أمير القلوب)



السؤال الأول : أجب على الاسئلة التالية بمساعدة الصورة :-

١. ما اسم الحاكم في الصورة أمامك ؟
٢. ما هو اللقب الذي أطلقه عليه الشعب الكويتي ؟
٣. ما هو ترتيب هذا الحاكم من بين حكام دولة الكويت ؟
٤. ما اسم أول وزيرة كويتية للتنمية و التخطيط في عهده ؟

السؤال الثاني : ساعد سلومة لتتذكر أهم الأحداث في عهد الشيخ جابر الاحمد الصباح ثم سجلها بالورود بمساعدة السنوات :-

WWW.KweduFiles.Com





وزارة التربية

الإدارة العامة لمنطقة حولي التعليمية
مدرسة السلام .أ. بنات



ALSALM
SCHOOL



ملخص درس ١٧ الاحتلال و الصمود

- حدث الغزو العراقي
البائد لدولة الكويت في يوم
الخميس ٢ أغسطس ١٩٩٠م



-علي : اعتداء
النظام العراقي البائد
على دولة الكويت ؟
-الخلاف على
الحدود و النفط

٣.الولاء لسمو
أمير البلاد و
الحكومة
الشرعية .
٤.التضحية
بأرواحهم .



١.رفض
الخضوع
للاحتلال .
٢.تمسك بسيادة
و استقلال
دولة الكويت .

• المتاحف :
ذاكرة
الشعوب التي
تسجل فيها
الأحداث
فنتذكرها و
نعتبر منها .



وقوف الشعب الكويتي الصامد داخل الكويت أثناء الاحتلال :-

الأساليب التي اتبعتها القوات العراقية ضد الكويتيين
لاخضاعهم :-

١- التعذيب ٢- الارهاب ٣- سرقة المنازل
٤- اعتقال المواطنين ٥- مدهامة البيوت



اصدر النظام العراقي البائد أوامر :

١- بتغيير الجنسية الكويتية
٢- تغيير لوحات أرقام السيارات الكويتية

- طرق رفض الشعب الكويتي اعتداءات النظام العراقي البائد :-

١. العصيان المدني .
٢. المظاهرات .
٣. الخلايا السرية (لمقاومة المسلحة)



• العصيان المدني : الامتناع عن
العمل و عن التعاون مع النظام
المحتل بأي شكل من الأشكال

• علي : قيام حكومة كويتية مؤقتة في مدينة الطائف
أثناء فترة الاحتلال ؟
للحفاظ على الشرعية الكويتية .



• تحررت دولة الكويت من
الغزو العراقي البائد في
٢٦ فبراير ١٩٩١م



• من ساعد في تحرير دولة
الكويت من الغزو العراقي؟
• دخول العالم المحبة للسلام
و الدول الشقيقة و
الصديقة بجيوشها القتالية

- أعمال الكويتيين بالخارج :-

١. المشاركة بمؤتمر جدة الشعبي
٢. ارسال وفود إلى دول العالم
٣. رفع الوضع الكويتي للجامعة
العربية و الامم المتحدة .
٤. تنظيم المسيرات في دول العالم
٥. التطوع في الجيش الكويتي و
الانضمام لدرع الجزيرة .



- أعمال اجان الشعبية :-

١. إدارة الجمعيات
التعاونية .
٢. القيام بأعمال النظافة و
توفير الخبز
٣. حراسة الاحياء السكنية
٤. توصيل المساعدات
المختلفة للأهالي

رئيسة الشعبة : ناهد الظفيري

اعداد معلمة المادة : زينب بن نخي



وزارة التربية

الإدارة العامة لمنطقة حولي التعليمية
مدرسة السلام .أ. بنات



ورقة عمل لمادة بلادي الكويت
الصف الخامس
درس ١٧ : الاحتلال و الصمود

السؤال الأول : ضع علامة \checkmark أو أمام العبارات التالية :-

١. نزور المتاحف لأنها ذاكرة الشعوب التي تسجل فيها الأحداث فنذكرها و نعتبر منها . ()
٢. يهدف مؤتمر جدة الشعبي إلى عودة الشرعية الكويتية . ()
٣. قامت قوات الاحتلال العراقي منذ الساعات الأولى لعدوانها بتدمير و نهب دولة الكويت . ()
٤. منذ الأيام الأولى للاحتلال العراقي لم تنتشر المقاومة المسلحة و اللجان الشعبية . ()

السؤال الثاني : أكمل الفراغ في الجمل التالية بكلمة مناسبة :-

١. الامتناع عن العمل و عن التعاون مع النظام المحتل بأي شكل من الأشكال يسمى
٢. تحررت دولة الكويت من الاغزو العراقي البائد في ٢٦ فبراير عام
٣. المؤتمر الذي عقده الكويتيون في الخارج أثناء الاحتلال العراقي يسمى

السؤال الثالث : اختر الاجابة الصحيحة من بين القوسين بوضع دائرة حولها :-

١. احتلت القوات العراقية دولة الكويت يوم الخميس ٢ أغسطس عام
- (١٩٨٩م - ١٩٩٠م - ١٩٩١م - ١٩٩٢م)
٢. الدولة التي احتلت دولة الكويت عام ١٩٩٠م هي
- (عمان - الهند - أستراليا - العراق)
٣. أراد نظام الحكم البائد في العراق القضاء على كيان دولة الكويت المستقلة و محوها من
- (خريطة العالم - سجل المدرسة - قنوات التلفزيون - ألبوم الصور)
٤. عمد النظام العراقي البائد لإثارة الخلافات و المشاكل مع دولة الكويت حول قضايا
- (السفن و الطائرات - المزارع و الانهار - الحدود و النفط - الجسور و السيارات)
٥. أعلن حكام دولة الكويت عن قيام حكومة مؤقتة لدولة الكويت في مدينة سعودية هي
- (جدة - الرياض - الدمام - الطائف)



وزارة التربية
الإدارة العامة لمنطقة حولي التعليمية
مدرسة السلام. أ. بنات



ALSALM
SCHOOL

تابع / ورقة عمل لمادة بلادي الكويت
الصف الخامس
درس ١٧ : الإحتلال و الصمود



السؤال الرابع : عرف المفاهيم التالية :-

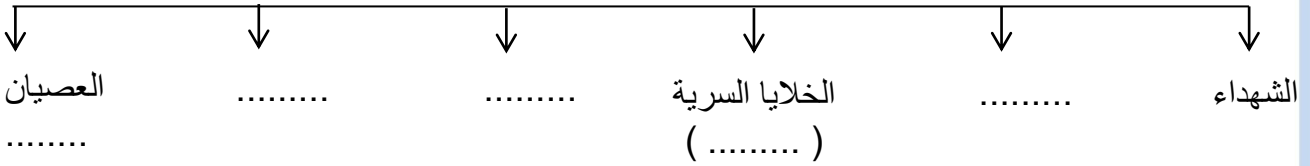
١. المتاحف :
٢. العصيان المدني :

السؤال الخامس : أجب على الأسئلة التالية :-

١. علل : أهمية زيارة المتاحف .
٢. علل : اعتداء النظام العراقي البائد على دولة الكويت .
٣. أذكر الأساليب التي اتبعتها القوات العراقية ضد الكويتيين لإخضاعهم ؟



٤. كيف رفض الشعب الكويتي أوامر القوات العراقية أثناء فترة الإحتلال ؟



السؤال السادس : صنف الجمل حسب المطلوب منك في الجدول التالي :

- ادارة الجمعيات التعاونية - التطوع في الجيش الكويتي - توفير الخبز - المشاركة في مؤتمر جدة -
حراسة الاحياء السكنية - ارسال وفود الى دول العالم

عمال الكويتيون في الخارج

أعمال اللجان الشعبية



وزارة التربية

الإدارة العامة لمنطقة حولي التعليمية
مدرسة السلام. أ. بنات

٦



ورقة عمل لمادة بلادي الكويت الصف الخامس

درس ١٨ : التحرير و شمس الحرية

السؤال الأول : أكمل العبارات التالية بما يناسبها مما درست :-

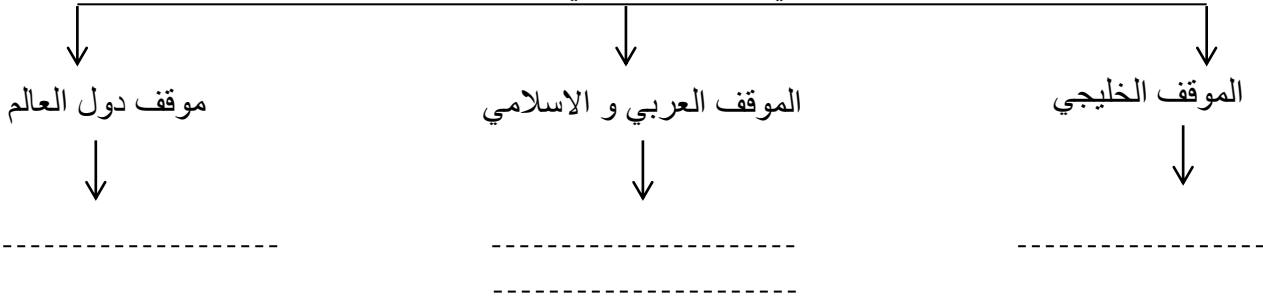
- استمر الغزو العراقي البائد على دولة الكويت لمدة شهور .
- دولة من دول العالم كان لها دور بارز في حرب تحرير دولة الكويت هي

السؤال الثاني : اختر الاجابة الصحيحة من بين القوسين لتكمل الفقرة بشكل صحيح :-

بدأت الحرب الجوية لتحرير دولة الكويت في تاريخ (١٧ يناير ١٩٩١ - ١٧ يناير ١٩٩٠) حيث قامت القوات (المتخاذلة - المتحالفة) بقصف أهداف عسكرية داخل العراق و الكويت بواسطة (الطائرات الحربية - الدبابات) ، و في ٢٤ فبراير ١٩٩١م بدأ الهجوم (البحري - البري) الكاسح ضد القوات العراقية و هكذا تحررت دولة الكويت في تاريخ (٢٥ فبراير ١٩٩١ - ٢٦ فبراير ١٩٩١) ، و تعتبر حرب تحرير الكويت اول حرب (إلكترونية - كهربائية) في العالم .

السؤال الثالث : أكمل المخطط السهمي التالي :-

الدول التي لها دور بارز في تحرير دولة الكويت



السؤال الرابع : قارن بين الموقف الخليجي و موقف دول العالم في حرب تحرير دولة الكويت :-

الموقف الخليجي	١	٢
موقف دول العالم	١	٢



٧



وزارة التربية

الإدارة العامة لمنطقة حولي التعليمية

مدرسة السلام .أ. بنات

ورقة عمل لمادة بلادي الكويت الصف الخامس

درس ١٩ : الشيخ سعد العبدالله السالم الصباح (الأمير الوالد)



السؤال الأول : ضع علامة √ عند صورة الشيخ سعد العبد الله السالم الصباح ثم اكتب ترتيبه بين حكام

دولة الكويت :

ترتيب الشيخ
سعد العبد الله الصباح بين
حكام دولة الكويت



السؤال الثاني : فرق بين أعمال الشيخ سعد العبد الله الصباح من خلال الجدول التالي بوضع الرمز المناسب له :

WWW.KweduFiles.Com

قبل ولاية العهد	△
أثناء ولاية العهد	○
أثناء احتلال النظام العراقي البائد	□

الرمز	أعمال الشيخ سعد العبدالله الصباح
	ارتفاع دخل الفرد الكويتي
	ادخال النظم الحديثة في الشرطة
	الاصرار على مغادرة الشيخ جابر الاحمد إلى السعودية
	ادخال الحاسب الالي في أعمال وزارة الداخلية
	الاهتمام بقضايا الامن و الشباب و الشؤون الاسلامية
	الجهود في انعقاد المؤتمر الشعبي في جدة
	تأمين الاوضاع المعيشية للمواطنين في الداخل و الخارج
	تطوير التعليم الفني و المهني
	الاحتفال باسبوع المرور الاول



وزارة التربية

الإدارة العامة لمنطقة حولي التعليمية
مدرسة السلام. أ. بنات

ورقة عمل لمادة بلادي الكويت الصف الخامس

درس ٢٠ : الشيخ صباح الاحمد الصباح (الأمير القائد)



السؤال الأول : ضع علامة v
في المربع الدال على صورة
الشيخ صباح الأحمد الجابر
الصباح :-

السؤال الثاني : اختر الاجابة الصحيحة من بين القوسين بوضع دائرة حولها :-

١. وزارة توليها الشيخ صباح الاحمد الصباح عام ١٩٦٣م و ارتبطت به لسنوات عدة حتى تولى الحكم هي.....
(وزارة التربية - وزارة الصحة - وزارة الداخلية - وزارة الخارجية)
٢. ترتيب الشيخ صباح الأحمد الصباح من بين حكام دولة الكويت هو
(الرابع عشر - الخامس عشر - السادس عشر - السابع عشر)
٣. لقب الشيخ صباح الأحمد الصباح ب.....
(الأمير الوالد - الأمير الذهبي - الأمير القائد - أمير القلوب)
٤. أصبح الشيخ صباح الأحمد الصباح أميراً لدولة الكويت في
(٢٠٠٤/١/٢٩ - ٢٠٠٥/١/٢٩ - ٢٠٠٦/١/٢٩ - ٢٠٠٧/١/٢٩)

www.KweduFiles.Com

اعداد معلمة المادة : زينب بن نخي
رئيسة الشعبة : ناهد الطيفيري

السؤال الثالث : أكمل النصف الآخر للقلب بما يناسبه من الجمل التالية :

من أهم الأحداث في عهده ممارسة المرأة الكويتية	أختير الشيخ صباح الأحمد الصباح من قبل هيئة الأمم المتحدة	حق الانتخاب و الترشيح لعضوية مجلس الأمة والمجلس البلدي لاكتشاف و رعاية المتميزين و الموهوبين و المبدعين من أبناء دولة الكويت قائداً للعمل الانساني في ٩ سبتمبر ٢٠١٤م أصدر مجلس الأمن قرارات ساعدت على تحرير دولة الكويت تقوم على نكران الذات و النظر إلى المصلحة العامة قبل المصلحة المحلية
كان للشيخ صباح الأحمد دور فعال أثناء الغزو العراقي ومن نتائجه	جعل الشيخ صباح الأحمد سياسة الكويت الخارجية دبلوماسية	أنشئ مركز صباح الأحمد للموهبة و الابداع في مايو ٢٠١٠م



وزارة التربية

الإدارة العامة لمنطقة حولي التعليمية
مدرسة السلام .أ. بنات



ورقة عمل لمادة بلادي الكويت الصف الخامس

درس ٢١ : السكان في بلادي (١)



السؤال الأول : اختر الاجابة الصحيحة من بين الأقواس :-

• أي من الفئات التالية أكبر عدد سكان في دولة الكويت :

(الذكور الكويتي - الاناث الكويتيات - الذكور غير الكويتي - الاناث غير الكويتيات)

السؤال الثاني : أكمل العبارات التاية بما يناسبها :-

١. عدد السكان يزداد من عام لآخر بسبب عدد المواليد - عدد الوفيات يسمى
٢. عدد سكان الدولة يزداد من عام لآخر بسبب الهجرة يسمى

السؤال الثالث : ظلل المربع الصحيح أمام كل من العبارات التالية :-

١. عدد السكان الكويتيين بالنسبة لغير الكويتيين في عام ١٩٦٥ م.

أقل	أكثر
-----	------
٢. عدد السكان الكويتيين بالنسبة لغير الكويتيين في عام ٢٠١١ م.

أقل	أكثر
-----	------
٣. عدد السكان الذكور الكويتيين بالنسبة لعدد السكان الاناث الكويتيات.

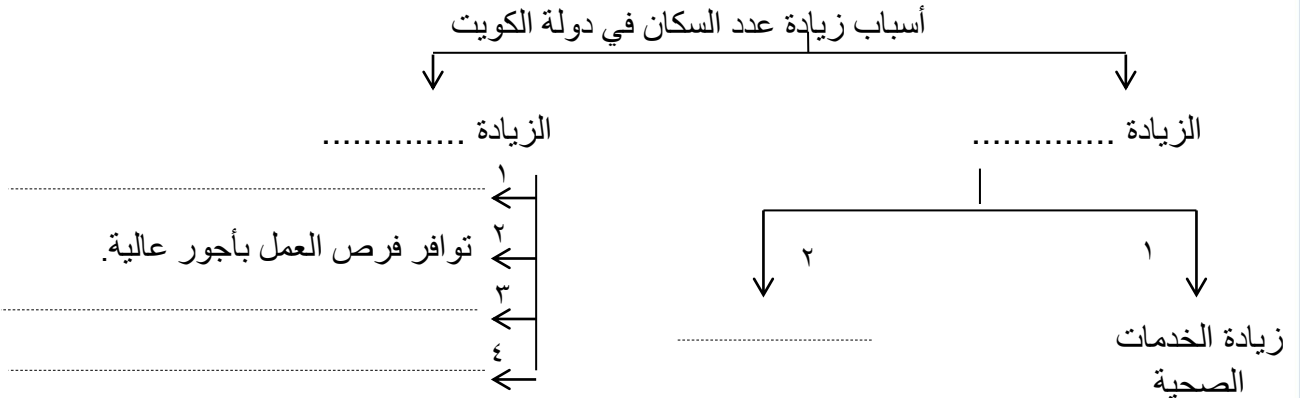
أقل	أكثر
-----	------
٤. عدد السكان الذكور الكويتيين بالنسبة لعدد السكان الذكور غير الكويتيين.

أقل	أكثر
-----	------
٥. عدد السكان الذكور غير الكويتيين بالنسبة لعدد السكان الاناث غير الكويتيات.

أقل	أكثر
-----	------
٦. عدد السكان الاناث الكويتيات بالنسبة لعدد السكان الاناث غير الكويتيات.

أقل	أكثر
-----	------

السؤال الرابع : أكمل المخطط السهمي التالي :-





وزارة التربية
الإدارة العامة لمنطقة حولي التعليمية
مدرسة السلام .أ. بنات



ورقة عمل لمادة بلادي الكويت
الصف الخامس
درس ٢٢ : السكان في بلادي (٢)

السؤال الأول : اختر الإجابة الصحيحة من بين القوسين :-

١. أكثر سكان دولة الكويت يتواجدون في محافظة

(الاحمدي ، الجهراء ، الفروانية ، حولي)

٢. يكثر عدد السكان الكويتيين عن غير الكويتيين في محافظة ...


(مبارك الكبير ، الفروانية ، العاصمة ، حولي)

٣. يعتبر الشريط الساحلي جنوب جون الكويت من المناطق ذات كثافة سكانية

(معتدلة ، مرتفعة ، قليلة ، معدومة)

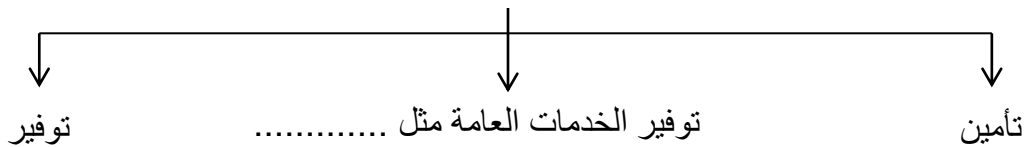
WWW.KweduFiles.Com

السؤال الثاني : عرف الكثافة السكانية :-



السؤال الثالث : أكمل المخطط السهمي التالي :

احتياجات السكان في كل دولة





وزارة التربية

الإدارة العامة لمنطقة حولي التعليمية
مدرسة السلام .أ. بنات

١١

ملخص درس ٢٣

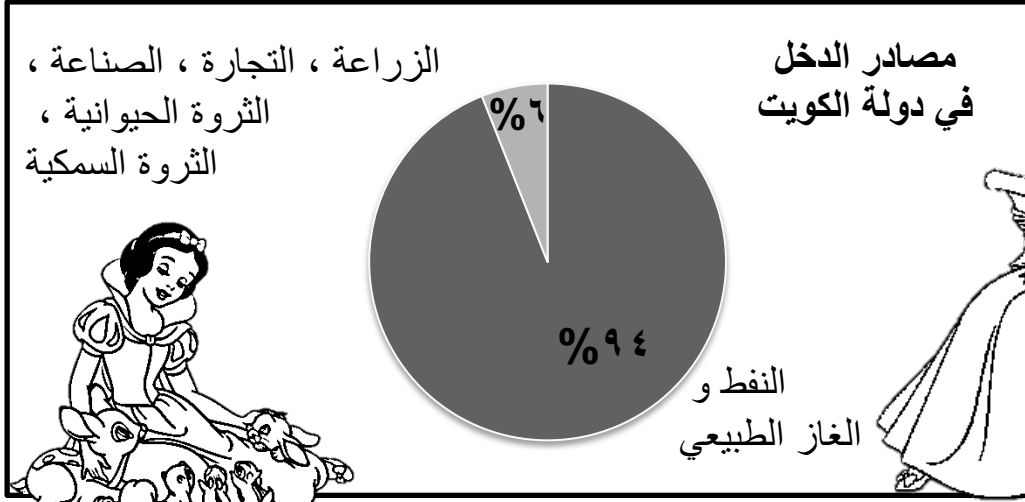
موارد بلادي حديثاً (١) ص ٨٠



ALSALM
SCHOOL



إخلاص بلا حدود



www.KweduFiles.Com

١- القطاع النفطي :-

تحتفظ الكويت بـ ١٥% من احتياطي النفط بالنسبة للدول العربية

المصدر الرئيسي للدخل في الكويت

حرصت الكويت على تطوير الصناعات النفطية عائدات الفط .

حرصت الكويت على تطوير الصناعات النفطية

أين تستثمر الكويت ؟

أمريكا + دول أوروبية + دول آسيوية

تصدّره الكويت للعديد من الدول



ما هي فوائد الاستثمار ؟

١- احتياطي للأجيال القادمة . ٢- دخل اضافي للدولة .

الاستثمار : هو توظيف الفائض من الأموال الناتج عن زيادة دخل الدولة .



- ما أهمية الاستثمار أثناء الاحتلال العراقي البائد ؟
- ١. صرف على المواطنين الكويتيين داخل و خارج البلاد
- ٢. العمليات العسكرية لتحرير الكويت
- ٣. تعمير الكويت

ورقة عمل لمادة بلادي الكويت
الصف الخامس

درس ٢٣ : موارد بلادي حديثاً (١) ح ١



السؤال الأول : صوب ما تحته خط في العبارات التالية :

١. المصدر الرئيسي للدخل في دولة الكويت هو الثروة الزراعية .
٢. النسبة المؤية التي تحتفظ بها دولة الكويت من احتياطي النفط العربي تبلغ ٥١% .
٣. تبلغ نسبة اعتماد دولة الكويت على النفط ومنتجاته ٩٩% .
٤. تستثمر دولة الكويت الفائض من الأموال العائدة من تصدير النفط في روسيا .
٥. توظيف الفائض من الأموال الناتج عن زيادة دخل الدولة يسمى التصدير .


السؤال الثاني : أجب على الأسئلة التالية :
WWW.KweduFiles.Com

١- كيف تستفيد دولة الكويت من استثماراتها النفطية ؟

٢- علل : أهمية الاستثمارات الكويتية أثناء الغزو العراقي ؟

السؤال الثالث : أكمل المخطط التالي :

أهم مصادر الدخل الحديثة في دولة الكويت





وزارة التربية

الإدارة العامة لمنطقة حولي التعليمية
مدرسة السلام .أ. بنات



١٣

ملخص درس ٢٣

موارد بلادي حديثنا (١) ص ٨١-٨٢

٢- القطاع الصناعي :-



أنواع الصناعات في دولة الكويت



اهتمت دولة الكويت بتنوع
موارد الدخل لخطورة الاعتماد
على مورد واحد (النفط) لأنه

غير دائم
جهود دولة الكويت في تشجيع القطاع الصناعي :-

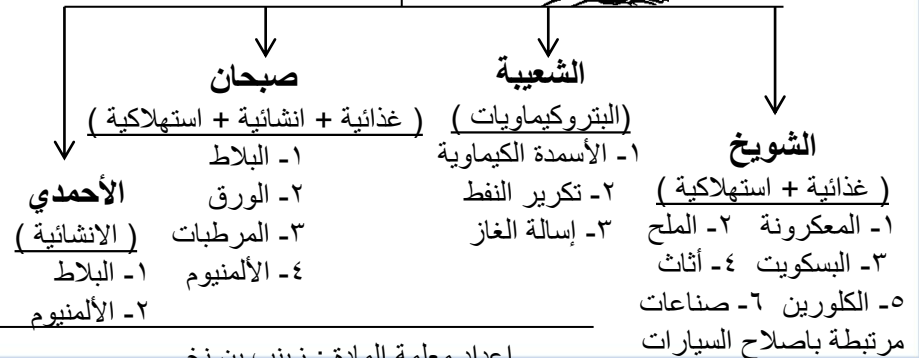


المناطق الصناعية
في دولة الكويت

١. إقامة مناطق صناعية
٢. تقديم القروض
٣. إعفاء الآلات الصناعية من الرسوم الجمركية
٤. إقامة معاهد للتدريب الصناعي



المناطق الصناعية في دولة الكويت :-



رئيسة الشعب : ناهد الظفيري

اعداد معلمة المادة : زينب بن نخي

ورقة عمل لمادة بلادي الكويت
الصف الخامس

درس ٢٣ : موارد بلادي حديثاً (١) ح ٢



السؤال الأول : أكمل العبارات التاية بما يناسبها :-

١. تشتهر منطقة الأحمدى الصناعية بصناعة
٢. الصناعات التي تعتمد على النفط يطلق عليها اسم
٣. تتركز صناعة الأسمدة الكيماوية و تكرير النفط في منطقة

السؤال الثاني : أجب على الأسئلة التالية :-

- أذكر جهود دولة الكويت في تشجيع القطاع الصناعي :-

١-
٢-

- علل : اهتمت دولة الكويت بتنوع موارد الدخل

WWW.KweduFiles.Com

السؤال الثالث : صنف الصناعات التالية حسب مناطق صناعتها في الجدول التالي :-

الأسمدة الكيماوية - البسكويت - تكرير النفط - الأثاث - المنظفات - إسالة الغاز - المعكرونة - الورق - الألمنيوم - البلاط

منطقة صبحان الصناعية	منطقة الأحمدى الصناعية	منطقة الشعيبة الصناعية	منطقة الشويخ الصناعية

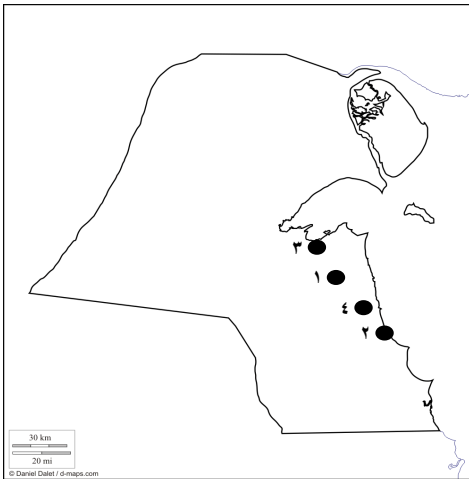
السؤال الرابع : لاحظ الخريطة الصماء ثم نفذ المطلوب منك :-

-الرقم (١) يمثل منطقة صناعية للبلاط و الورق و المرطبات هي
منطقة

-الرقم (٢) يمثل منطقة صناعية للأسمدة الكيماوية و تكرير النفط
منطقة

-الرقم (٣) يمثل منطقة صناعية للأثاث و اصلاح السيارات و
الأغذية منطقة

-الرقم (٤) يمثل منطقة صناعية للبلاط و الألمنيوم فقط هي منطقة
.....





وزارة التربية

الإدارة العامة لمنطقة حولي التعليمية
مدرسة السلام .أ. بنات

١٥



ملخص درس ٢٤ موارد بلادي حديثاً (٢) ص ٨٤

الزراعة المحمية

زراعة الخضروات في غير مواسمها
بحمايتها من تقلبات الطقس و ذلك في
بيوت بلاستيكية



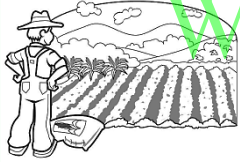

الزراعة بدون تربة
هي الزراعة التي تتم في
بيئة من الرمل أو الحصى
أو نشارة الخشب مضافاً
إليها المحاليل الغذائية



٣- القطاع الزراعي :-

- عوائق الزراعة في الكويت

- ١. شدة الحرارة
- ٢. فقر التربة.
- ٣. قلة المياه



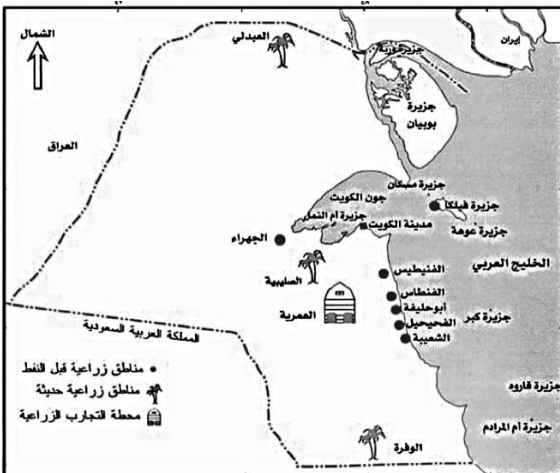
قديمة (قبل النفط)

الفتييس + الفنتاس + الفحيحيل +
الشعبية + أبو حليفة + الجهراء +
جزيرة فيلكا

الزراعية في دولة الكويت

حديثة :-
الوفرة + الصليبية +
العبدلي

محطة التجارب الزراعية :- العمرية



- طرق تشجيع الزراعة في دولة الكويت :-

- ١- انشاء هيئات متخصصة في الزراعة
(محطة التجارب الزراعية + معهد
الكويت للابحاث العلمية)
- ٢- الارشادات الزراعية
- ٣- دعم مادي للمزارعين
- ٤- استخدام أساليب زراعية حديثة
- ٥- تطوير مصادر المياه المستخدمة





١٦



وزارة التربية
الإدارة العامة لمنطقة حولي التعليمية
مدرسة السلام. أ. بنات



ورقة عمل لمادة بلادي الكويت الصف الخامس

درس ٢٤ : موارد بلادي حديثاً (٢) ح ١



السؤال الأول : اختر الإجابة الصحيحة من بين القوسين :-

١. فاكهة نجحت دولة الكويت في زراعتها تسمى ... (العنب - الفراولة - التفاح - الموز)
٢. تقع محطة التجارب الزراعية في منطقة ... (خيطان - الوفرة - الجهراء - العمرية)
٣. انشاء محطة التجارب في العمرية من جهود الدولة في تطوير القطاع ... (الزراعي - الصناعي - النفطي - الثروة الحيوانية)
٤. من المناطق الزراعية قبل النفط في دولة الكويت منطقة (الصليبية - الفنتاس - العبدلي - الرقة)
٥. شجعت الكويت الزراعة بالوقت الحاضر بتقديم الدعم المادي لـ ... (المعلمين - اللاعبين - السائقين - المزارعين)

السؤال الثاني : أحب على الاستئلة التالية :-
WWW.KweduFiles.Com

١- علل : تعتبر العوامل الطبيعية عائقاً أمام الزراعة في دولة الكويت .

.....

٢- اذكر جهود دولة الكويت في تشجيع القطاع الزراعي .

.....

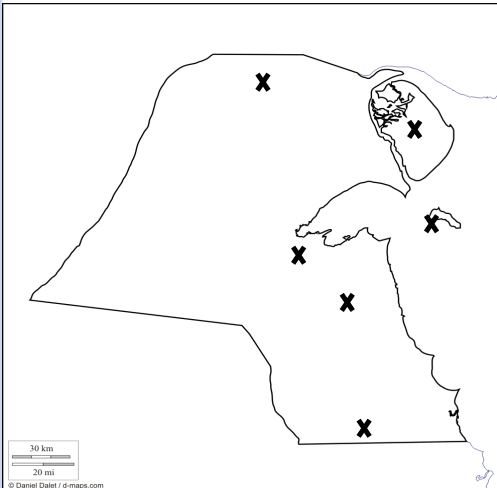
٣- عرف : الزراعة المحمية :

.....

٤- عرف : الزراعة بدون تربة :

.....

السؤال الثالث : حدد على خريطة دولة الكويت الصماء بوضع الرقم المناسب عليها :-



١. محطة التجارب الزراعية في منطقة العميرية .

٢. منطقة زراعية حديثة في العبدلي .

٣. منطقة زراعية قديمة في جزيرة فيلكا

رئيسة الشعبة : ناهد الظفيري


اعداد معلمة المادة : زينب بن نخي

ملخص درس ٢٤

موارد بلادي حديثاً (٢) ص ٥٥



٤- الثروة الحيوانية :-




فواندها



سد حاجة البلاد من الغذاء (بيض +
لحم + ألبان و منتجاتها)




حرفة الرعي
قلت بعد
اكتشاف النفط




مناطق تربية الماشية

الوفرة + الصليبية + الشقيا



تشجيع الدولة للثروة الحيوانية

- ١- مزارع خاصة
- ٢- الرعاية البيطرية
- ٣- دعم مادي
- ٤- الاعلاف بأسعار رمزية



٥- الثروة السمكية :-


طرق صيد السمك القديمة

الحظرة + الفرقور



كيف شجعت الكويت و طورت حرفة صيد
السمك :-

- ١- تكوين اسطول من السفن الحديثة لصيد السمك
- ٢- استزراع الأسماك الجيدة (معهد الكويت
للابحاث العلمية)



السمك الغذاء الرئيسي في الكويت
لنقص البيئة الصحراوية + لكثرة وجوده
في مياه الخليج العربي جودة أنواعه

السؤال الأول : ضع علامة √ أو x أمام العبارات التالية :-

١. تعتبر الحظرة و القرقور من طرق الصيد بالكويت قديماً . ()
٢. الجهة الحكومية التي لها دور في مجال استزراع الأسماك هي معهد الكويت للأبحاث العلمية . ()
٣. تطورت حرفة الرعي بدولة الكويت بعد اكتشاف النفط . ()
٤. الصليبية و الشقايا و الوفرة هي مناطق تخص قطاع الثروة السمكية . ()

السؤال الثاني : صل صور الثروة الحيوانية إلى فواندها :-



WWW.KweduFiles.Com



السؤال الثالث : أكمل الفقرة التالية باختيار الاجابة الصحيحة

من بين القوسين :

السؤال الرابع : أجب على السؤال التالي :-
جهود دولة الكويت في تشجيع
تربية الثروة الحيوانية ؟



- ١-
- ٢- الرعاية البيطرية .
- ٣-
- ٤-

كان لفقير البيئة الصحراوية أثر كبير في الاعتماد على (الأبقار - الأسماك) كغذاء رئيسي في دولة الكويت و هو متوافر ميا
(الخليج العربي - المحيط الأطلسي) حيث يمتاز بوفرته ، و يستخدم الكويتيون طرق صيد قديمة كالحظرة و (القرقور - الكرافة) ، و شجعت الدولة هذه الحرفة و طورتها بتكوين اسطول من السفن الحديثة للصيد ، و تميز (المعهد التطبيقي - معهد الكويت للأبحاث العلمية) باستزراع الاسماك الجيدة .

السؤال الأول : أكمل الفراغ بكلمة مناسبة من بين القوسين :-

(الموانئ الكويتية - شركة صناعة الكيماويات البترولية - البترول الكويتية - الشويخ - الشعبية - كافكو)

- ١- شركة نفط الكويت تتبع مؤسسة
- ٢- الشركة الكويتية التي تقوم بتزويد الطائرات بالوقود تسمى
- ٣- مؤسسة مستقلة تتولى ادارة و تشغيل و تطوير الموانئ التجارية هي تسمى
- ٤- أول و أكبر ميناء تجاري في دولة الكويت هو ميناء
- ٥- ميناء يقع جنوب مدينة الكويت و يتميز بتصدير منتجات النفط الصناعية يسمى
- ٦- شركة تقوم بعمليات تصنيع و تسويق الأسمدة و المنتجات البتروكيماوية تسمى

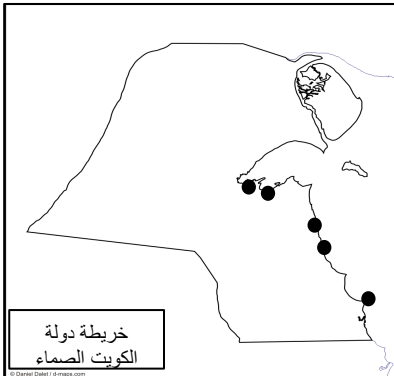
السؤال الثاني : صنف أعمال كل شركة من مؤسسة البترول الكويتية حسب المطلوب في الجدول:-

- استكشاف النفط و انتاجه داخل الكويت - نقل النفط الخام و المنتجات البترولية و الغاز المسال لمختلف أنحاء العالم - تصنيع و تسويق الأسمدة و المنتجات البتروكيماوية

	شركة نفط الكويت
	شركة صناعة الكيماويات البترولية
	شركة ناقلات النفط الكويتية

السؤال الرابع : حدد على خريطة دولة الكويت الصماء

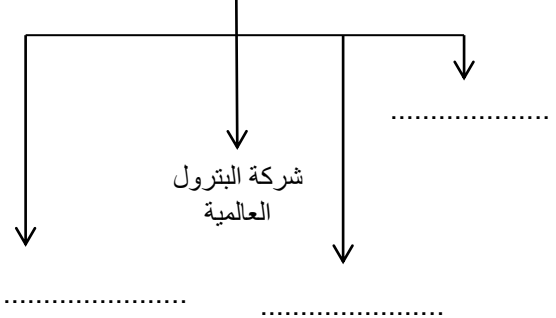
الموانئ التالية بوضع الرقم الصحيح :-



- ١- ميناء الشويخ
- ٢- ميناء الشعبية
- ٣- ميناء الزور
- ٤- ميناء الأحدي
- ٥- ميناء الدوحة

السؤال الثالث : أكمل المخطط السهمي التالي :-

الشركات التابعة لمؤسسة البترول الكويتية





٢٠

وزارة التربية
الإدارة العامة لمنطقة حولي التعليمية
مدرسة السلام. أ. بنات



ورقة عمل لمادة بلادي الكويت
الصف الخامس
درس ٢٦ : من هيئات بلادي



السؤال الأول : صوب ما تحته خط في العبارات التالية :-

١- الوزارة التي تشرف على الهيئة العامة للشباب و الرياضة في دولة الكويت هي وزارة الاعلام.

٢- الوزير الذي يشرف على الهيئة العامة للشباب و الرياضة في دولة الكويت هو وزير العدل .

السؤال الثاني : صنف الأهداف فيما يلي حسب الهيئات في الجدول التالي :-

تطوير الصناعة المحلية - بناء الشباب الكويتي روحاً و جسداً - تشجيع العمالة الوطنية - تنظيم المهرجانات و المسابقات - تنويع الصناعات المحلية - تدريب الشباب و اعدادهم للإسهام في مختلف الخدمات العامة

الهيئة العامة للصناعة	الهيئة العامة للشباب و الرياضة
١	١
٢	٢
٣	٣

السؤال الثالث : أجب على الأسئلة التالية :-

١- علل : تعد الصناعة في الحاضر من أهم الاهتمامات في دول العالم .

٢- عدد أهداف الهيئة العامة للبيئة .



٢١



الإدارة العامة لمنطقة حولي التعليمية
مدرسة السلام. أ. بنات




ورقة عمل لمادة بلادي الكويت الصف الخامس درس ٢٧ : السياحة الداخلية و الخارجية

السؤال الأول : ضع علامة v أو x أمام العبارات التالية :-

١. لا توجد فوائد للسفر . ()
٢. يقع منتزه الخيران شمال مدينة الكوين . ()
٣. متحف بيت العثمان مكان من الأماكن السياحية بدولة الكويت . ()
٤. السياحة تشكل مورد هام من موارد الدولة . ()
٥. صناعة القرن الحادي و العشرون هي استزراع الاسماك . ()

السؤال الثاني : أكمل المخطط السهكي التالي - WWW.KweduFiles.Com

أماكن السياحة الداخلية في دولة الكويت



النشاطات البحرية

السؤال الثالث : صل من المجموعة (أ) ما يناسبها من المجموعة (ب) بوضع الرقم المناسب :-

(أ)	الرقم	(ب)
١- فوائد السياحة الداخلية		أتعلم تاريخ بلادي + أنمي معلوماتي العلمية
٢- فوائد السياحة الخارجية		الاستمتاع + معرفة الثقافات

يتبع

رئيسة الشعبة : ناهد الظفيري

اعداد معلمة المادة : زينب بن نحي



٢٢



وزارة التربية
الإدارة العامة لمنطقة حولي التعليمية
مدرسة السلام أ. بنات

تابع / ورقة عمل لمادة بلادي الكويت

الصف الخامس

درس ٢٧ : السياحة الداخلية و الخارجية



السؤال الرابع : صنف الكلمات التالية حسب مكانها المناسب الجدول التالي :-
١- (المركز العلمي - الأهرامات - برج إيفل - الموروث الشعبي)

السياحة الخارجية		السياحة الداخلية	

٢- (منتزه الخيران - متحف الكويت الوطني - صيد السمك - آثار جزيرة فيلكا - الأفنيوز - المركز العلمي - حديقة الشعب - السباحة على شاطئ البحر - حولي بارك)

			أماكن ترفيهية
			نشاطات بحرية
			أماكن تاريخية و علمية

السؤال الخامس : أجب على الأسئلة التالية :-

١- عرف : السياحة :

٢- علل : يسافر الكويتيون للسياحة في الدول العربية و الأوروبية .

٣- أكتب فوائد السفر ؟