



مقرر: دولة الكويت والعالم الإسلامي

امتحان نهاية الفترة الدراسية الثانية

وزارة التربية

الزمن : ساعة ونصف

الإدارة العامة لمنطقة الفر وانية التعليمية للصف الثامن

عدد الأوراق : (٦)

لعام الدراسي : ٢٠١٧/٢٠١٨م

التوجيه الفني للاجتماعيات

اجب عن جميع الأسئلة التالية:-

نموذج الإجابة

السؤال الأول : ويتكون من (أ - ب - ج - د - هـ):

(أ) ضع خطأ حول الخيار الصحيح من بين الخيارات التي تلي كل عبارة : (لكل بند درجة واحدة)

١- أول الخلفاء الراشدين هو الخليفة :

علي بن أبي طالب عثمان بن عثمان عمر بن الخطاب أبو بكر الصديق ص ٦٩

٢- مال يخرج المسلم من حق الله تعالى في الأموال والثروات إلى الفقراء المستحقين:

الخراج الزكاة الجزية الصدقة ص ٧٠

٣- نسبة المسلمين في العالم يمثلها الدائرة البيانية : ص ٨٣



أركاليك



المآتا



أكتاو



أستانا

٤- عاصمة جمهورية كازاخستان حاليا مدينة : ص ٨٨

٥- رئيس المؤتمر الإسلامي الخامس هو الشيخ : ص ١٠٠
صباح السالم الصباح جابر الأحمد الصباح عبدالله السالم الصباح صباح الأحمد الصباح

٦- فئة في المجتمع الإسلامي متخصصة في الفتاوى الدينية وغيرها بما يخدم المسلمين : ص ٧٣

الحكام رجال الدين التجار أهل الذمة

٧- أشهر علماء المسلمين في علم الفيزياء : ص ٧٤

الحسن بن الهيثم الرازي ابن سينا الإدريسي

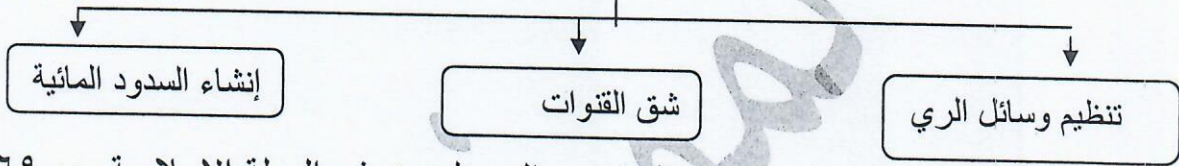
تابع/ امتحان نهاية الفترة الدراسية الثانية للصف الثامن مقرر الكويت والعالم الإسلامي ٢٠١٧-٢٠١٨م:

(ب) صوب ما تحته خط في العبارات التالية :

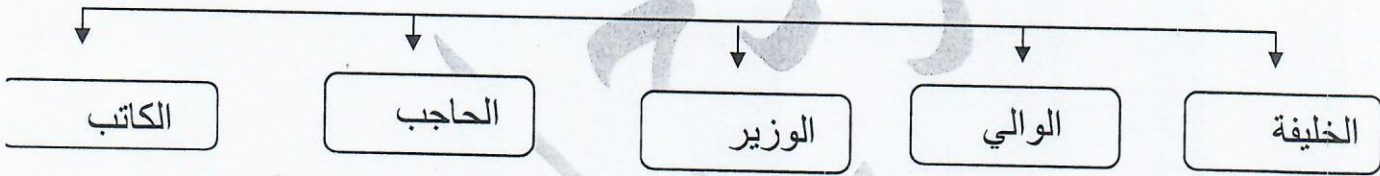
- ١- افتتحت دار الآثار الإسلامية في دولة الكويت عام ١٩٨٤م.
 - ٢- مقر البنك الإسلامي للتنمية في مدينة الرياض.
 - ٣- يمتد العالم الإسلامي في ثلاث قارات هي آسيا وأفريقيا وأستراليا.
 - ٤- وكالة الأنباء الإسلامية الدولية تسمى أسبو.
 - ٥- يعقد المؤتمر الإسلامي على مستوى وزراء الخارجية مرة كل سنتين.
- (١٩٨٣ م) ص ١٠٨
(جدة) ص ٨٥
(أوروبا) ص ٨٣
(إينا) ص ١٠٧
(سنة) ص ٨٦

(ج) أكمل المخططات السهمية التالية :

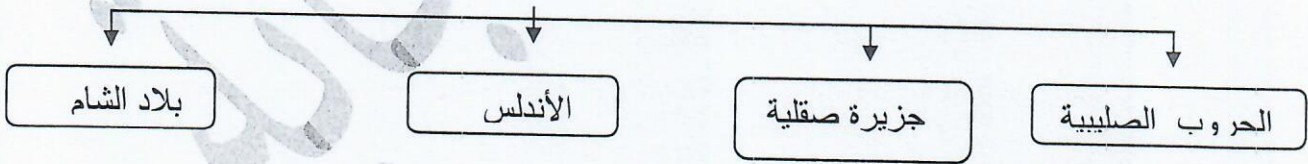
١- جهود الدولة الإسلامية في مجال الزراعة ص ٧١



٢- المناصب التي ظهرت في الدولة الإسلامية ص ٦٩



٣- معابر الحضارة الإسلامية إلى أوروبا ص ٧٦



(د) اكتب المصطلح المناسب أمام العبارات التالية :

م	المصطلح	التعريف
١	الحضارة ص ٦٧	كل ما أنجزه الإنسان من رقي وتقدم بمختلف جوانب الحياة المادية والمعنوية
٢	الميزان التجاري ص ٩٣	الفرق بين قيمة الصادرات وقيمة الواردات بالدولة
٣	الوقف الإسلامي ص ٧٠	صدقة جارية يقفها المرء ويسبها في حياته لوجوه الخير والبر
٤	الحدود سياسية ص ٩٠	خطوط حددت بواسطة الإنسان ورسمت حتى تفصل بين سيادة دولة ودولة أخرى
٥	أهل الذمة ص ٧٣	النصارى واليهود الذين ظلوا على دينهم مع دفع الجزية

(هـ) لاحظ خريطة العالم الإسلامي ثم أجب عما يليها من أسئلة:

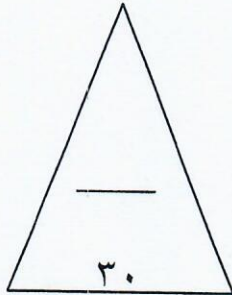
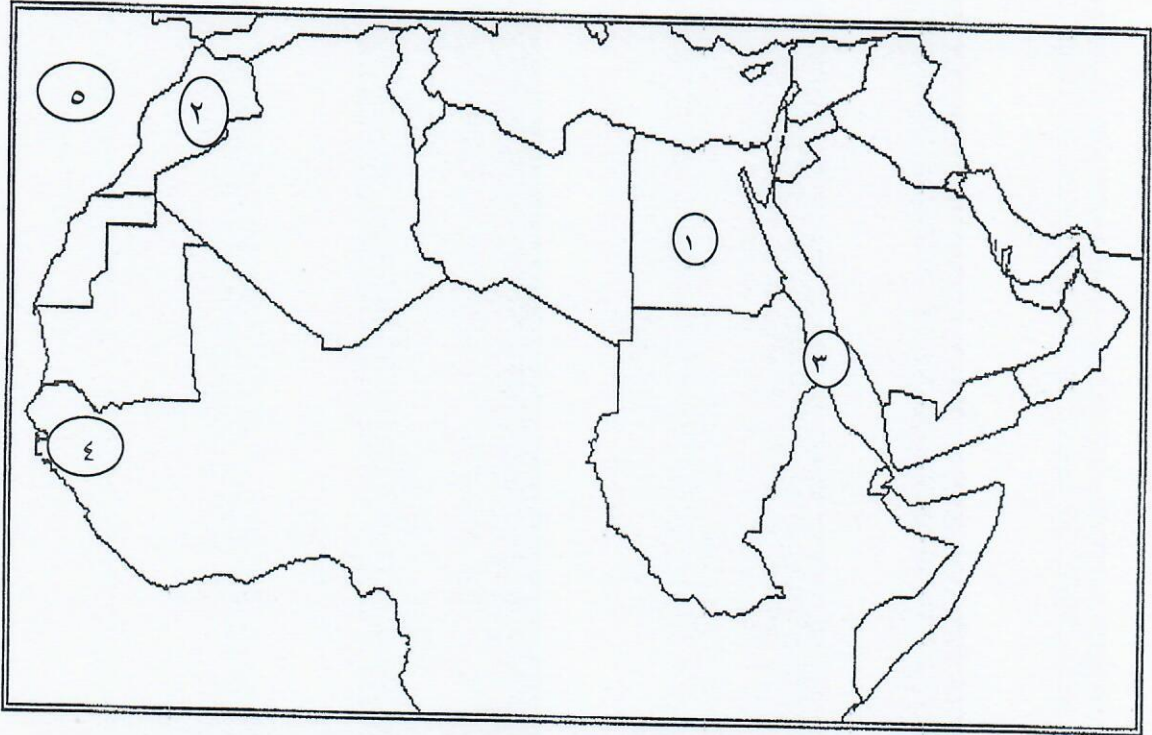
المحيط الأطلسي يمثله على الخريطة الرقم٥... ص ٨٣

جمهورية السنغال يمثله على الخريطة الرقم٤... ص ٨٧

البحر الأحمر يمثله على الخريطة الرقم٣..... ص ١٧

المدينة التي عقد فيها المؤتمر الإسلامي الأول يمثله الرقم٢..... ص ٨٥

دولة عربية إسلامية تعاني من مشكلة الانفجار السكاني يمثله على الخريطة الرقم١... ص ٩٣




تابع/ امتحان نهاية الفترة الدراسية الثانية للصف الثامن مقرر الكويت والعالم الإسلامي ٢٠١٧-٢٠١٨م:

السؤال الثاني ويتكون من (أ - ب) :

(أ) علل لما يأتي :- (٦ درجات)

- ١- الأهمية الإستراتيجية لموقع العالم الإسلامي. ص ٨٤
- سيطرته على عدد من المضائق المائية - إشرافه على بعض البحار والخلجان والبحيرات
- امتلاكه الكثير من طرق المواصلات الجوية والبحرية والبرية
- ٢- إنشاء الهيئة الخيرية الإسلامية العالمية. ص ١٠٦
- أ- معاونة الفقراء والمرضى والأيتام
- ب- تقديم المساعدات المالية والعينية
- ب- نشر الثقافة الإسلامية
- ٣- انتشار البطالة في كثير من الدول الإسلامية. ص ٩٤
- تزايد عدد السكان وضعف الدخل القومي وقلة المشاريع الاستثمارية في كثير من الدول العالم الإسلامي أدى إلى انتشار البطالة بين السكان
- (ب) اكتب نقطتين عن كل مما يلي: (٤ درجات)

- ١- العوامل التي ساعدت على ازدهار الحياة العلمية. ص ٧٣
- رعاية الإسلام للحياة العلمية - ترجمة الكتب التراثية
- تشجيع الخلفاء للعلماء في جميع العصور الإسلامية - حرية الرأي
- ٢- أنشطة دار الآثار الإسلامية في دولة الكويت. ص ١٠٨
- إقامة المعارض داخل دولة الكويت وخارجها
- إقامة مواسم ثقافية واسعة من خلال محاضرات حول الفنون الإسلامية في منطقة حولي
- التعليمية - دورات تدريبية للفنون الإسلامية - ترميم وصيانة الآثار الإسلامية



تابع/ امتحان نهاية الفترة الدراسية الثانية للصف الثامن مقرر الكويت والعالم الإسلامي ٢٠١٧-٢٠١٨م:

السؤال الثالث ويتكون من (أ - ب):


(أ) ادرس الجدول الذي أمامك ثم أجب عن الأسئلة التي تليه:

النسبة	الدول
٣٨.٥%	المغرب
٤٩%	موريتانيا
٦١%	السودان
٣٥%	اليمن

١- رتب نسبة الأمية لبعض الدول العربية لعام ٢٠٠٧م حسب الجدول ترتيباً تصاعدياً من الأقل إلى الأكثر؟ (٢ درجة) ص ٩٥

اليمن	المغرب	موريتانيا	السودان
-------	--------	-----------	---------

١- حول نسب الأمية موريتانيا واليمن إلى أعمدة بيانية؟



(٣ درجة علي الأجابة)

(ب) اقرأ الفقرة التالية ثم اجب عما يليها من أسئلة:

"لقد ساهمت دولة الكويت في الأنشطة السياسية لمنظمة المؤتمر الإسلامي وكان تواجدها فعالاً يساهم في كافة مشاريع وأنشطة المنظمة السياسية التي من شأنها تعزيز أواصر الأخوة الإسلامية"

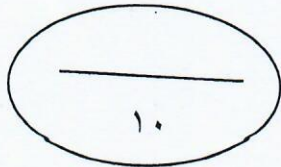
١- ضع عنواناً مناسباً للفقرة السابقة ما يراه المصحح مناسباً..... (درجة)

٢- عرف ما تحته خط . ص ٨٥ (درجة)

منظمة إقليمية دولية تضم دول العالم الإسلامي المستقلة وتضم في عضويتها سبعة وخمسين دولة إسلامية ومقرها مدينة جدة

٣- اذكر أهم قرارات المؤتمر الإسلامي الخامس عام ١٩٨٧م . ص ٩٩ (٣ درجة)

- دعم القضية الفلسطينية - وحدة لبنان - إدانة الإرهاب
- مطالبة إيران بالاستجابة لمساعي السلام ووقف حرب الخليج الأولى
- حل قضية القبارصة الأتراك - تدعيم مطالبة جبهة التحرير (مورو) للتحرير الوطني لمسلمي الفلبين



السؤال الرابع (اختياري) ويتكون من (أ - ب):

(ب) عرف المفاهيم التالية : (٤ درجات)

١- الدولة الإسلامية : هي التي يكون فيها عدد المسلمين ٥٠% أو أكثر من مجموع السكان ويحكمها حاكم مسلم
ص ٨٣

٢- الثقافة : ذلك الكل المركب الذي يشمل المعرفة والعقيدة والفن والأخلاق والقانون والعادات الاجتماعية وكل القدرات الأخرى التي يكتسبها الإنسان باعتباره عضوا في الجماعة ص ٦٧

٣- الخلافة: هي رئاسة عامة للمسلمين في أمور الدين والدنيا ص ٦٩

www.KwEduFiles.com

٤- بيت الزكاة : مؤسسة حكومية تقدم الكثير من المساعدات المالية ص ١٠٥

(ب) عدد كل مما يلي : (٦ درجات)

١- خصائص الحضارة العربية الإسلامية. ص ٦٨
حضارة إنسانية - حضارة إيمان وعمل - حضارة تسامح - حضارة عالمية
حضارة متطورة

٢- المشكلات التي تعاني منها الأقليات الإسلامية. ٩١
المشكلات الاقتصادية - المشكلة الثقافية والتعليمية - المشكلات السياسية

٣- أهم أهداف الصندوق الكويتي للتنمية الاقتصادية. ص ١٠٤

- تقديم القروض الميسرة للدول المحتاجة

- تقديم المنح على سبيل المعونات الفنية

- الإسهام في برامج التنمية

انتهت الأسئلة مع تمنياتنا لكم بالتوفيق؛؛؛

