

تم تحميل هذا الملف من موقع المناهج الكويتية



منطقة الأحمدية التعليمية

الملف نموذج إجابة منطقة الأحمدية التعليمية

موقع المناهج ← المناهج الكويتية ← الصف التاسع ← اجتماعيات ← الفصل الأول

روابط مواقع التواصل الاجتماعي بحسب الصف التاسع



روابط مواد الصف التاسع على تلغرام

[الرياضيات](#)

[اللغة الانجليزية](#)

[اللغة العربية](#)

[التربية الاسلامية](#)

المزيد من الملفات بحسب الصف التاسع والمادة اجتماعيات في الفصل الأول

مسودة كتاب الطالب اجتماعيات لعام 2018	1
نموذج اجابة اختبار لعام 2017 تعليم خاص	2
نموذج اجابة اختبار لمنطقة العاصمة لعام 2016 في مادة الاجتماعيات	3
مراجعة رائعة للفصل الاول في مادة الاجتماعيات	4
حل تقويم الكورس الاول في مادة الاجتماعيات	5

تم التحميل من شبكة ياكويت التعليمية



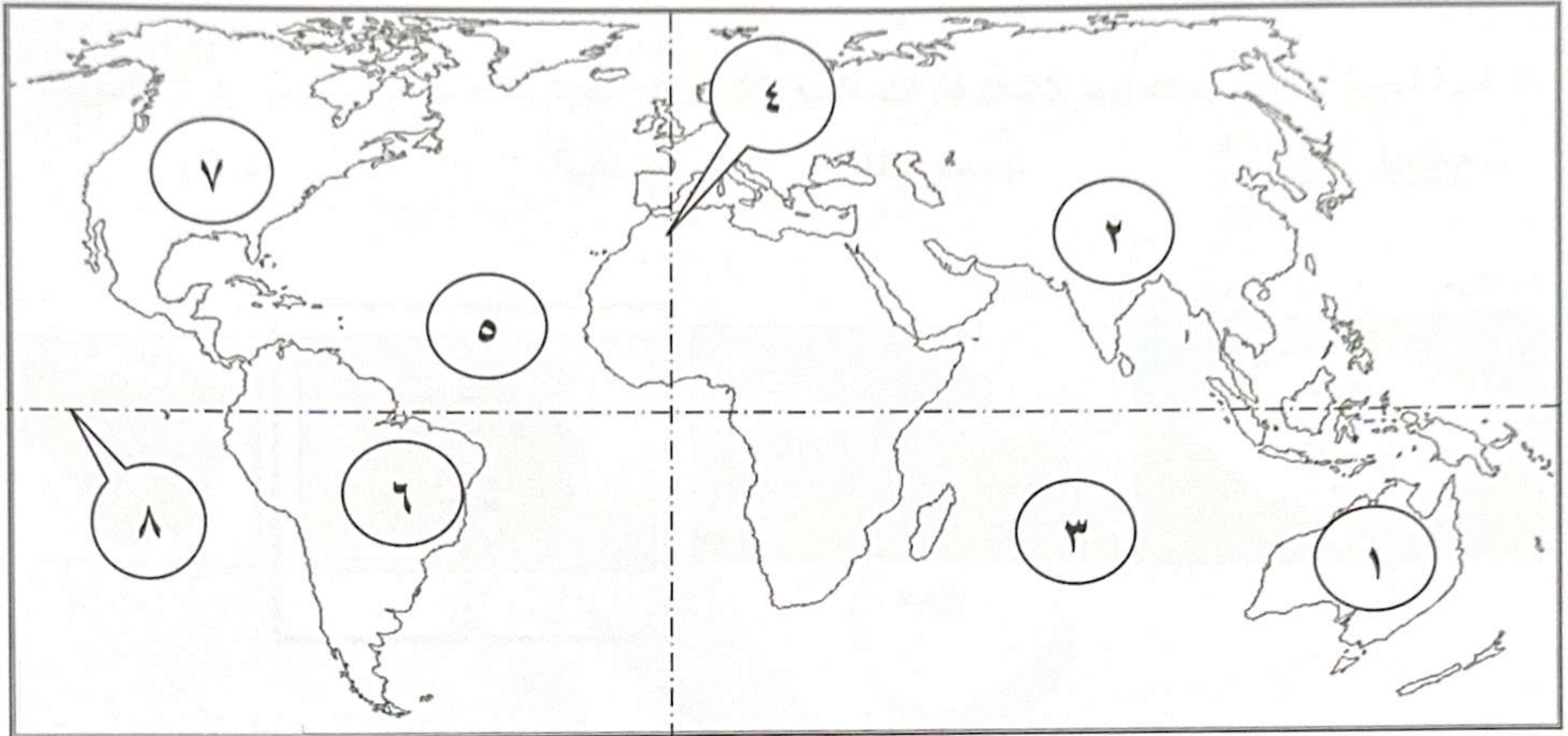
Telegram:
[ykuwait_net_home](https://t.me/ykuwait_net_home)

الألاجابية
النموودرجية



أجب عن جميع الأسئلة

السؤال الأول (الموضوعي) يتكون من (أ - ب - ج): (لكل بند درجة) (١٥×١=١٥ درجة)
(أ) أمامك خريطة العالم اكتب الرقم الدال على العبارات التالية:



تم التحميل من شبكة ياكويت التعليمية



Telegram:
ykuwait_net_home

- خط جرينتش يمثل على الخريطة الرقم ٤
قارة أمريكا الشمالية يمثلها على الخريطة الرقم ٧
المحيط الأطلنطي يمثل على الخريطة الرقم ٥
جبال الهيمالايا يمثلها على الخريطة الرقم ٢
هضبة البرازيل يمثلها على الخريطة الرقم ٦

(ب) صحح ماتحته خط بكتابة الإجابة الصحيحة ما بين الأقواس:

- ١- أفضل مناطق الاستقرار البشري هي الهضاب.
٢- أسست الناشطة الكينية وانجاري ماثاي عام ١٩٧٧م حركة تسمى التنمية المستدامة.
٣- استخدام المبيدات الحشرية على المناطق الزراعية من مصادر تلوث التربة الحيوية.
٤- عقد المؤتمر الدولي للأرض عام ١٩٩٢م في دولة اليابان.
٥- يطلق على نظام تحديد المواقع المبني على الأقمار الصناعية اسم BGS.

(ج) صنف العناصر التالية حسب مجموعة النظام الأيكولوجي التابعة له في الجدول التالي:

(الإنسان - الغازات - البكتيريا - الحيوان - الصخور) ص ٥٠

غير الحية	الحية المستهلكة	الحية المحللة
- الغازات - الصخور	- الإنسان - الحيوان	- البكتيريا

السؤال الثاني (الموضوعي) يتكون من (أ - ب - ج) : (لكل بند درجة) (١٥ × ١ = ١٥ درجة)
(أ) ضع خطأ تحت الخيار الصحيح من بين الخيارات التي تلي كل عبارة:

ص ٢٠

١- تقع دولة الكويت بالنسبة لقارة آسيا في الجهة:

أ- الشمالية الشرقية ب- الشمالية الغربية ج- الجنوبية الشرقية د- الجنوبية الغربية

ص ٣٠

٢- تغطي البحار والمحيطات من مساحة الكرة الأرضية ما نسبته:

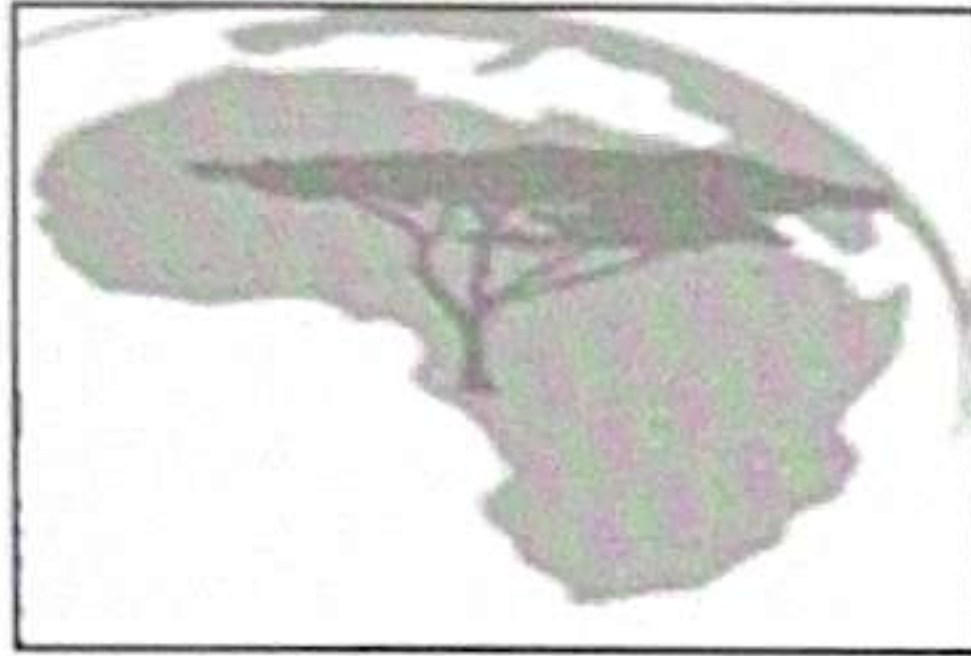
أ- ٦١٪ ب- ٧١٪ ج- ٨١٪ د- ٩١٪

٣- البيئة الحضارية التي يمتلك فيها الإنسان قدرات علمية وتكنولوجية كبيرة تمكنه من استغلال مواردها: ص ٤٤


أ- متقدمة ب- متوسطة ج- نامية د- فقيرة

ص ٥٢


٤- الشعار الذي يمثل اليوم الدولي للغابات:



د



ج



ب



أ

ص ٧٨

٥- أكبر مصدر للمياه العذبة المنتجة في دول مجلس التعاون الخليجي:

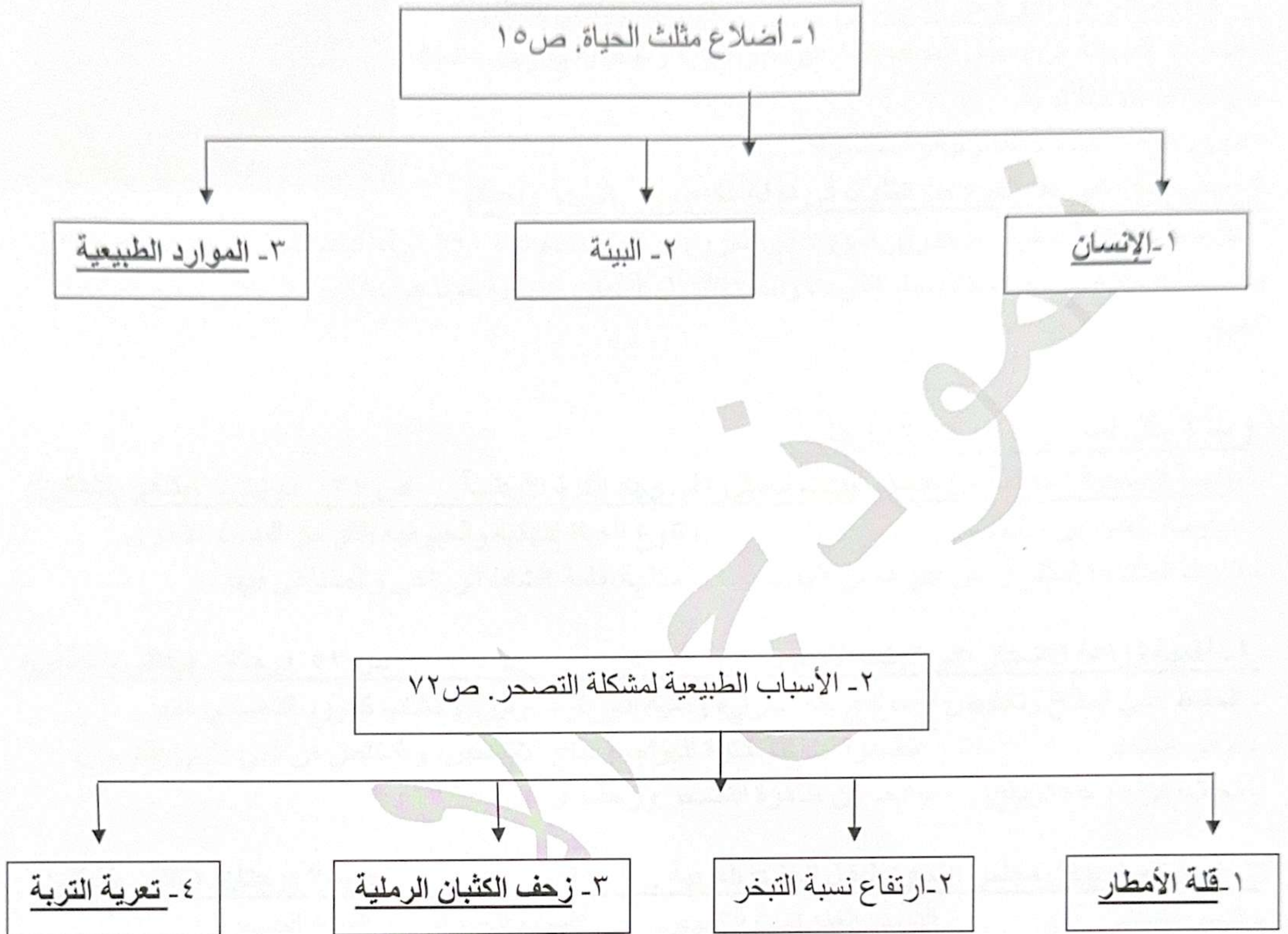
أ- مياه السودان ب- مياه التحلية ج- مياه الصرف الصحي د- المياه الجوفية

(ب) اكتب المفاهيم أو المصطلحات الدالة على العبارات التالية:

م	المفهوم/المصطلح	العبرة
١	<u>التوازن البيئي</u>	التفاعل المستمر بين مكونات البيئة الذي يحفظ استقرارها النسبي في زمن محدد دون أن يؤثر أي مكون على المكونات الأخرى. ص ١٦
٢	<u>الديسيبل</u>	وحدة قياس ضغط الصوت. ص ٦٩
٣	<u>الأمن المائي</u>	توفر الكميات الكافية من المياه ذات النوعية الجيدة الضرورية، وفي الوقت نفسه توفر كميات المياه المطلوبة لاستدامة وتعزيز وظائف النظم الأيكولوجية المهمة. ص ٧٨
٤	<u>السياسة الخارجية</u>	النشاط الموجه نحو الخارج لمعالجة مشاكل ما وراء الحدود وأخرى ضمن الحدود. ص ٩٥
٥	<u>التعاون الدولي</u>	جهود مبذولة بين دول العالم من أجل تحقيق مصلحة الدول المتعاونة وفي سبيل تحقيق الأمن والسلم الدوليين ومواجهة التحديات السياسية والاجتماعية والاقتصادية والأمنية. ص ١٠٤

تابع / السؤال الثاني الموضوعي:

(ج) أكمل المخططات السهمية التالية:



تم التحميل من شبكة ياكويت التعليمية



Telegram:
[ykuwait_net_home](https://t.me/ykuwait_net_home)

السؤال الثالث (المقالى) يتكون من (أ - ب - ج):

(درجة واحدة لكل نقطة)

ص ٦٣



١- اذكر نوع التلوث الذي تمثله الصورة المقابلة. درجة واحدة

- التلوث الهوائي.

٢- عدد مصادر هذا النوع من التلوث. درجتان (يكتفى بنقطتين)

- الغازات المنبعثة من وسائل المواصلات البرية والجوية والبحرية ومولدات الطاقة.
- ذرات الرماد والأترربة.

- حرق نفايات المنشآت المنزلية والصناعية.

٣- اذكر مثلاً على هذا النوع من التلوث في دولة الكويت. (درجة واحدة)

- تعرضت الآبار النفطية عند تحرير الكويت من الغزو العراقي الغاشم عام ١٩٩١م لعمليات تفجير نجم عنها حرق ٧٣٧ بئراً مسببة غيمة سوداء غطت سماء الكويت وامتدت للدول المجاورة مسببة تلوثاً هوائياً كبيراً أثر على جميع الكائنات الحية.

(ب) علل لما يلي: (٣×٢=٦ درجات)

١- البيئة المناخية المعتدلة من أفضل البيئات للعيش على وجه الكرة الأرضية. ص ٣١ درجتان (يكتفى بنقطتين)

- ممارسة العديد من الأنشطة.
- ازدياد البناء والاستقرار عن غيرها من البيئات.
- إمكانية إقامة النشاط الزراعي والصناعي فيها.

٢- أهمية زراعة الأشجار على كوكب الأرض. ص ٥٢ درجتان (يكتفى بنقطتين)

- الحفاظ على المناخ وتخفيض ارتفاع درجة الحرارة وكمية التلوث. - توفير الأخشاب كمورد اقتصادي مهم.
- توفير الغذاء. - مصدراً أساسياً لفلتر الهواء، وإنتاج الأكسجين، والتخلص من ثاني أكسيد الكربون.
- تخفف من سرعة الرياح. - الحد من ظاهرة التصحر وزحف الرمال.

٣- ندرة المياه بدول مجلس التعاون لدول الخليج العربية. ص ٧٨ درجتان (يكتفى بنقطتين)

- النمو السكاني. - التوسع العمراني والتنموي. - الموقع الجغرافي ذو المناخ الصحراوي.
- عدم وجود أنهار دائمة. - قلة سقوط الأمطار. - ارتفاع نسبة الملوحة بالمياه الجوفية.

(ج) عرّف المفاهيم أو المصطلحات التالية: (٥×١=٥ درجات)

١- البيئة: الإطار الذي يعيش فيه الإنسان ويحصل فيه على مقومات حياته ويتفاعل فيها مع عناصر البيئة الأخرى. ص ١٥

٢- استئناس الحيوانات: الاعتناء بالحيوانات الداجنة وتوليدها، بما في ذلك الأبقار والأحصنة والدجاج والماعز أو أي حيوان آخر يستخدم كمصدر للطعام أو الموارد. ص ٤٦

٣- التلوث المدمر: المرحلة التي ينهار فيها النظام الأيكولوجي ويصبح غير قادر على العطاء. ص ٦٢

٤- الاحتباس الحراري: الزيادة في متوسط حرارة الأرض والذي نتج عن التغيرات المناخية واضطراب الأنظمة البيئية بسبب زيادة كمية غاز ثاني أكسيد الكربون والميثان. ص ٨٠

٥- السياسة الدولية: علاقات الدول مع بعضها بعضاً على شكل وحدات أو تنظيمات دولية لتحقيق المصالح السياسية بأكبر قدر من الفاعلية وبأقل الخسائر الممكنة. ص ٩٤

السؤال الرابع (المقال) يتكون من (أ - ب - ج):

(أ) اقرأ الفقرة التالية ثم أجب عما يليها من أسئلة. (٥ درجات)

" لقد أدى تطوير وسائل الاتصال والمواصلات والثورة الصناعية إلى المساهمة في تقليص المسافات بين الدول والمجتمعات والأفراد وازدياد التبادل التجاري والانفتاح العالمي على التجارة الدولية وتبادل السلع والخدمات، ومن مميزات التجارة الدولية المساهمة في دعم النمو الاقتصادي واستغلال الموارد العالمية بشكل أفضل."

١- ضع عنواناً مناسباً للفقرة. ص ٩٩ درجة واحدة

- الانفتاح العالمي والتجارة الدولية. (أو ما يراه المصحح مناسباً)

٢- برهن على صحة العبارة (للتجارة الدولية مميزات عديدة). ص ٩٩ (يكتفى بنقطتين) درجتان

- المساهمة في دعم النمو الاقتصادي.
- استغلال الموارد العالمية بشكل أفضل.
- تساعد على تعزيز العلاقات بين الدول.
- إشباع رغبات المستهلكين نظراً لتنوع الخدمات والسلع.
- مؤشر قوي على زيادة القدرة الإنتاجية للدولة وقدرتها على التنافس في الأسواق العالمية.
- توافر فرص العمل.

٣- اذكر العوامل المؤثرة في العلاقات الاقتصادية الدولية. ص ١٠٠ + ١٠١ (يكتفى بنقطتين) درجتان

- التقدم العلمي والتكنولوجي.
- المشكلات البيئية.
- مشكلات الغذاء في العالم.
- مشكلات الطاقة في العالم.
- مشكلات الهجرة الدولية.

(ب) فرق بين كل من: (٤ درجات)

مميزات البيئة الجبلية ص ٣٠	مميزات البيئة البحرية ص ٣٠
- تخزين المياه الطبيعية والثروات المعدنية المهمة. - تعتبر بيئة طبيعية للحياة البرية. - بيئة للسياحة. (يكتفى بنقطتين)	- الحفاظ على التوازن البيئي للكرة الأرضية. - توفير الثروات المعدنية والنباتية والسلمكية المختلفة للإنسان. - توفير طرق المواصلات ومجال للترفيه والسياحة. (يكتفى بنقطتين)

(ج) اكتب فيما يلي: (٣ درجات)

١- مراحل تطور علاقة الإنسان بالبيئة. ص ٤٦ - ٤٧ (يكتفى بنقطتين) درجتان

- مرحلة الجمع والالتقاط.
- مرحلة الصيد والقنص.
- مرحلة الزراعة والاستئناس وتربية الحيوان والزراعة البدائية.
- مرحلة الزراعة والاستقرار.
- مرحلة التصنيع.

٢- أشكال العلاقات الدولية. ص ٩١ (يكتفى بنقطتين) درجتان

- علاقات سياسية.
- علاقات اقتصادية.
- علاقات اجتماعية.
- علاقات ثقافية.

٣- دور دولة الكويت في الميدان الثقافي العربي. ص ١٠٦ (يكتفى بنقطتين) درجتان

- تنظيمها للمعارض والمهرجانات والفعاليات الثقافية.
- رعايتها للمؤسسات الثقافية في الدول العربية.
- إسهام جمعيات النفع العام الكويتية في تطوير المشروعات التنموية في مجال التعليم والصحة.
- انتهت الإجابة -