

تم تحميل هذا الملف من موقع المناهج الكويتية



منطقة حولي التعليمية

الملف نموذج إجابة منطقة حولي التعليمية

موقع المناهج ← المناهج الكويتية ← الصف السابع ← اجتماعيات ← الفصل الثاني

روابط مواقع التواصل الاجتماعي بحسب الصف السابع



روابط مواد الصف السابع على تلغرام

[الرياضيات](#)

[اللغة الانجليزية](#)

[اللغة العربية](#)

[التربية الاسلامية](#)

المزيد من الملفات بحسب الصف السابع والمادة اجتماعيات في الفصل الثاني

<a href="#">مذكرة موضوعية محلولة</a>	1
<a href="#">حل الكتاب</a>	2
<a href="#">حل الوحدة الرابعة في مادة الاجتماعيات</a>	3
<a href="#">بنك اسئلة التربية سابع</a>	4
<a href="#">مراجعات الصف السابع</a>	5

# منطقة حولي التعليمية

اختبارات نهاية الفترة الدراسية الثانية  
العام الدراسي ٢٠٢٢/٢٠٢٣

موقع  
المنهج الكويتية  
almanahj.com/kv

تم التحميل من شبكة ياكويت التعليمية



Telegram:  
ykuwait\_net\_home

نموذج الإجابة

السابع	الصف
الإجتماعيات	المادة



وزارة التربية

الإدارة العامة لمنطقة حولي التعليمية

التوجيه الفني للاجتماعيات

## نموذج اجابة

امتحان نهاية الفترة الدراسية الثانية

لمقرر / الكويت والوطن العربي

للمصف السابع

العام الدراسي : ٢٠٢٢/٢٠٢٣م

الزمن: ساعة و ٤٥ دقيقة

عدد الصفحات : ( ٦ )

السؤال الأول موضوعي ويتكون من ( أ - ب - ج - د - هـ - و ) : ( ٣٠ درجة لكل سؤال درجة )

( أ ) ظل الخيار الصحيح من بين الخيارات التي تلي كل عبارة: (٥ درجات )

١- صاحب المبادرة لعقد المؤتمر الدولي للمانحين لدعم الوضع الإنساني في سوريا عام ٢٠١٣م الشيخ: (ص١٨٨)

صباح السالم الصباح	جابر الأحمد الصباح	صباح الأحمد الصباح	نواف الأحمد الصباح
--------------------	--------------------	--------------------	--------------------

٢- غاز ناتج عن عوادم السيارات ويؤدي إلى ارتفاع متزايد في حرارة الأرض وإلى تغيير مُناخي: (ص١٦٨)

أول أكسيد الكربون	أوكسيد الكربون	أكسجين	ثاني أكسيد الكربون
-------------------	----------------	--------	--------------------

٣- العام الذي عقد فيه "مؤتمر قمة الأرض" بمدينة ريودي جانيرو بالبرازيل (ص ١٦٧)

١٩٩٠م	١٩٩١م	١٩٩٢م	١٩٩٣م
-------	-------	-------	-------

٤- تحتل جمهورية مصر العربية المركز الأول في الإنتاج : (ص١٢٣)

السمكي	الرعي	المعدني	الزراعي
--------	-------	---------	---------

٥- يشكل القطاع الزراعي بالنسبة للاقتصاد العربي نسبة :

٢٠%	٣٠%	٤٠%	٥٠%
-----	-----	-----	-----

( ب ) أكمل العبارات التالية بما يناسبها فيما درست : (خمس درجات)

١- برامج تحسين نوعية الحياة ولا تتحقق إلا بمشاركة جميع المواطنين تسمى التنمية المستدامة (ص١٧٥)

٢- الغلات التي تزرع بغرض التجارة والحصول على النقد تسمى نقدية. (ص١١٣)

٣- هجرة الأفراد من دولة إلى دولة أخرى تسمى هجرة خارجية. (ص١٠٦)

٤- الدولة الأولى في زراعة العنب بالوطن العربي اسمها سوريا. (ص١١٤)

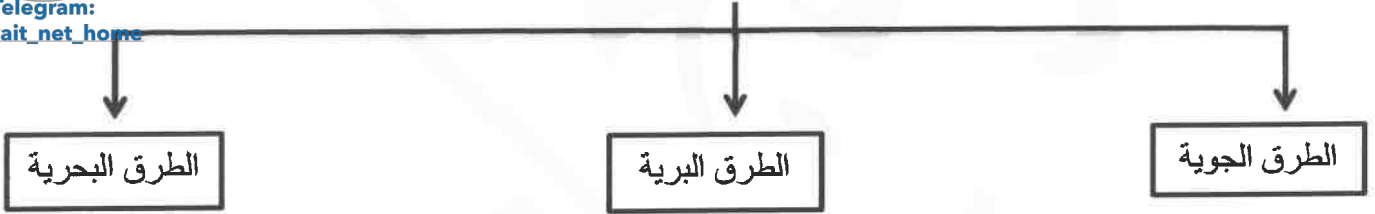
٥- الطبقة التي تحمي الأرض من الأشعة فوق البنفسجية الضارة تسمى الأوزون. (ص١٦٨)

(ج) ظلل الحرف ( أ ) إذا كانت العبارة صحيحة أو الحرف ( ب ) إذا كانت العبارة خاطئة : ( خمسة درجات)

م	العبارة	( أ )	( ب )
١	الموارد الطبيعية هي الثروات التي منحها الله لإقليم من دون أن يكون للإنسان أي دور في وجودها (ص١٠٩)		
٢	الثروة المائية في دول الوطن العربي قليلة و محدودة . (ص١٢٢)		
٣	نسبة احتياطي النفط الخام في دول الجناح الأفريقي تبلغ ٩٠٪ . (ص١٢٨)		
٤	أكبر تجمع للسكان يكون حول الأنهار والبحار ومصادر المياه . (ص١٠٥)		
٥	المنظمة العربية للتنمية الزراعية من المنظمات العربية التي شاركت فيها دولة الكويت . (ص١٨٢)		

(د) أكمل المخططات السهمية التالية بما يناسبها فيما درست : ( ستة درجات)

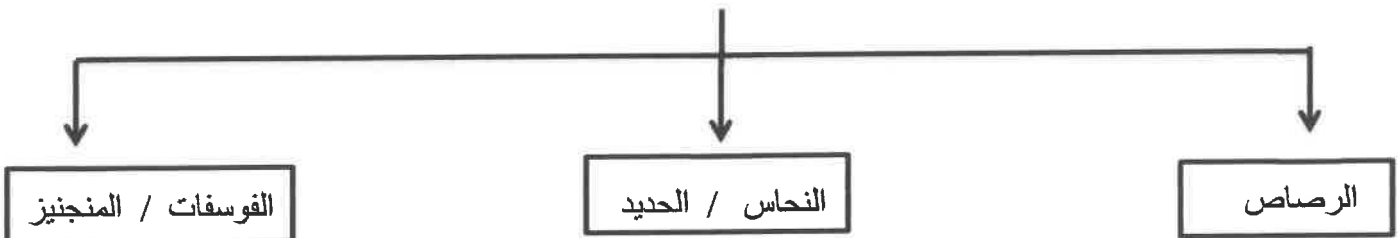
١- طرق النقل في الوطن العربي (ص١٤٧)



٢- مراحل عملية التصنيع (ص١٣٧)



٣- المعادن التي يمتلكها الوطن العربي (ص١٣٢)



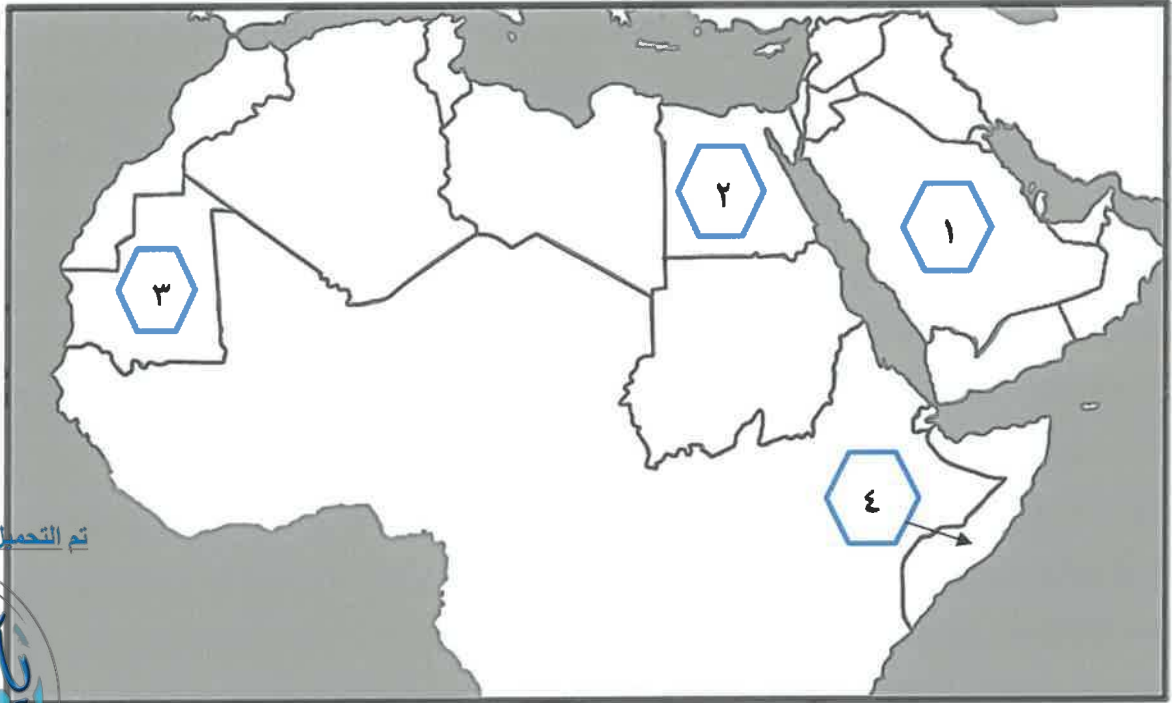
(هـ) صنف المحاصيل الزراعية التالية حسب ما هو مطلوب منك في الجدول ( ستة درجات )

( القطن - الشعير - العنب - القمح - قصب السكر - التمور ) (ص ١١٤)

الحبوب الغذائية	الغلات الصناعية	الفواكه والأشجار
القمح	القطن	العنب
الشعير	قصب السكر	التمور

موقع  
المناهج الكويتية

(و) أمامك خريطة الوطن العربي - أكتب الرقم الدال على العبارات التالية: ( ثلاثة درجات )



- الدولة الأولى في إنتاج معدن الحديد يمثلها على الخريطة الرقم ( ٣ ) (ص ١٣٢)
- دولة تحتل المركز الأول في زراعة القمح يمثلها على الخريطة الرقم ( ٢ ) (ص ١١٤)
- دولة تحتل المركز الأول في تربية الإبل يمثلها على الخريطة الرقم ( ٤ ) (ص ١١٩)



**السؤال الثاني مقالي ويتكون من ( أ - ب - ج ) :**

( أ ) فرق بين كل من : ( ستة درجات لكل نقطة درجة )

صناعات حرفية ١٤٣	صناعات تجميعية ص ١٤٣
تعد من الصناعات الأولى في العالم وتستخدم مواد أولية محلية وتعتمد على المجهود البشري	عملية تركيب وجمع المواد المصنعة على اختلاف مصادرها كي نحصل على سلع متنوعة
الغاز الطبيعي(ص١٢٥)	النفط (ص١٢٥)
غاز مصاحب للنفط الخام أو يوجد منفرداً، تتم إيسالته لاستخدامات عديدة .	بقايا عضوية على هيئة نباتات وحيوانات دقيقة ترسبت في عصور قديمة وانطمرت تحت رواسب سمكية وتحولت بفعل الضغط والحرارة على صورتها الحالية .
التجارة البيئية (ص١٥٢)	التبادل التجاري (ص١٥١)
التبادل التجاري بين الدول العربية	عمليات التصدير والاستيراد بين الدول

( ب ) أذكر نقطتين حول كل مما يلي : ( ستة درجات لكل نقطة درجة )

- ١ - أسباب تدني وفرة المياه في الوطن العربي . (ص١٦٤)
  - النمو السريع للسكان والضغط على المياه المتوفرة / الطرق التقليدية المستخدمة في استغلال المياه في معظم مناطق الوطن العربي .
  - ٥٠٪ من الموارد المائية في الوطن العربي تأتي من خارج حدوده وتتحكم فيها دول المنبع في غياب تشريعات دولية تضمن حقوقنا
  - الشبكات المؤهلة لنقل المياه شبكات قديمة / افتقار الدول العربية إلى برامج لإدارة المياه كما أنها لا تستخدم الأدوات الاقتصادية اللازمة لترشيد الاستخدام المتزايد من المياه.
- ٢- المشكلات التي تواجه التنمية البشرية.(ص١٧٥)
  - ضعف الاستفادة من القدرات البشرية في المنطقة العربية / مشكلة الأمية
  - نقص ومحدودية مشاركة المرأة في المنظمات السياسية / الاختلاف الكبير في مستويات المعيشة بين دولة وأخرى وفي داخل الدولة الواحدة
- ٣- المحاور الرئيسية للتنمية في الوطن العربي . (ص١٧٣)
  - التنمية الاقتصادية - التنمية المستدامة - التنمية البشرية .

( ج ) لاحظ الجدول المقابل ثم أجب عن الأسئلة التالية : ( ثلاثة درجات )

الدولة العربية	تقديرات عدد السكان (ألف نسمة)
السعودية	٣٠,٧٧٠
البحرين	١,٣٩٩
العراق	٣٦,٠١٥
الكويت	٣,٧١٥

(إحصائية تقديرات عدد السكان في عام ٢٠١٤م)

\* استخراج من الجدول ما يلي : ص ١٠٠

١- أعلى دولة عربية من حيث عدد السكان.

العراق

٢- أقل دولة عربية من حيث عدد السكان .

البحرين

٣- ما ذاتستنتج من الجدول المقابل .

\* هناك تفاوت في توزيع عدد السكان في الوطن العربي.

\* العراق هي أعلى دولة في عدد السكان .

\* البحرين أقل دولة في عدد السكان.

\* ( حسب ما يراها المصحح )

تم التحميل من شبكة ياكويت التعليمية



Telegram:  
ykuwait\_net\_home



السؤال الثالث مقالي ويتكون من ( أ - ب - ج ) :

( أ ) اقرأ الفقرة التالية ثم أجب عما يليها من أسئلة: (ص ١٦٦) (خمس درجات لكل نقطة درجة)

**التلوث** ظاهرة تصيب عناصر البيئة من عدة مصادر منها صناعية ، زراعية ، منزلية ومن أكثر الملوثات إنتشاراً التلوث الكيميائي وتعد هذه الظاهرة من المشكلات التي تهدد الكائنات الحية على سطح الأرض.

١- عرف ما تحته خط : ( درجة )

التلوث هو الضرر الذي يلحق بالتربة والهواء والماء ويصيب التلوث عناصر البيئة من عدة مصادر للملوثات.

٢- استخرج من الفقرة السابقة ما يلي:

المناهج الكويتية  
almanahj.com/kw

\* مصادر تلوث البيئة ( يكتفى بثلاثة نقاط )

- مصادر صناعية - مصادر زراعية - مصادر منزلية

٣- ضع عنواناً مناسباً للفقرة السابقة . (حسب ما يراه المصحح) (درجة)

تم التحميل من شبكة ياكويت التعليمية

( ب ) قارن بين كل من : ( أربعة درجات لكل نقطة درجة )



وجه المقارنة	أوبك (١٣٤)	أوبك (ص ١٣٥)
سنة التأسيس	١٩٦٠ م	١٩٦٨ م
المقر الحالي	فيينا	الكويت

Telegram:  
ykuwait\_net\_home

( ج ) علل لما يلي : ( ستة درجات لكل سؤال درجتين )

١- تحتل الأغنام العربية مكاناً مهماً ضمن الثروة الرعوية. (ص ١١٨)  
-الأكثر انتشاراً في المراعي العربية / أكثر الحيوانات المستأنسة والملائمة لمراعي الوطن العربي  
-أهمية منتجاتها بالنسبة للسكان / مصدر أساسي من مصادر الثروة القومية.

٢- اختلاف المنتجات الزراعية من دولة عربية إلى أخرى . (ص ١١٠)  
- اختلاف المناخ / اختلاف التربة / مدى توافر المياه في هذه الدول .

٣- ارتفاع معدل النمو السكاني في الوطن العربي . (ص ١٠٦)  
-الزيادة الطبيعية  
-الزيادة الغير طبيعية (الهجرة)