



وزارة التربية
الإدارة العامة لمنطقة الأحمدية التعليمية
مدرسة هدية الابتدائية بنين



www.KweduFiles.Com
الوحدة الخامسة



للف الرابع



• أ. شيمه صقر المطيري

رئيسة القسم

• خطوات الضرب و الضرب في العدد

WWW.KweduFiles.Com

مضروب و مضامنه



بند (٩-١)



أوجد الناتج

$$= ١٠٠ \times ١٦$$

WWW.KweduFiles.Com

$$= ٧٠٠ \times ٥$$

أوجد الناتج

$$= 5 \cdot \times 4 \cdot$$

WWW.KweduFiles.Com

$$= 3 \cdot \cdot \times \cdot \cdot$$


أوجد الناتج

$$= 6 \cdot \cdot \times 3 \cdot$$


WWW.KweduFiles.Com

$$= 1 \cdot \cdot \cdot \times 2 \cdot$$

أوجد الناتج



WWW.KweduFiles.Com



أوجد الناتج

٢ ♦ ♦

WWW.KweduFiles.Com

٩ ♦ ×



أوجد الناتج

٥ ♦ ♦ ♦

WWW.KweduFiles.Com

٦ ♦ ×



أَكْمَلْ

$$(+) \times 6 = 36 \times 6$$

WWW.KweduFiles.Com

$$(\times 6) + (\times 6) =$$

$$= + =$$

أَكْمَلْ

$$((-) \cdot \cdot) \times 3 = 94 \times 3$$

WWW.KweduFiles.Com

$$(\times 3) - (\times 3) =$$

=

-

=

أَكْمَلْ

$$((+)) \times () = (\cdot) \times ()$$

WWW.KweduFiles.Com

$$((\times)) + ((\times)) =$$

$$= + =$$

عدد عمال شركة ٤٠٠ عامل . إذا

كان أجر كل عامل منهم ٢٠٠

WWW.KweduFiles.Com

دينار ، فكم يتقاضى جميع

العمال في الشهر الواحد ؟

لدى صالح ٦٠ ورقة نقدية فئة

العشرين ديناراً ، كم ديناراً

WWW.KweduFiles.Com

لدى صالح ؟



بدأ سعود بالعد بالثلاثات

فكتب : ٦ ، ٩ ، ١٢ ، ١٥ . ما

WWW.KweduFiles.Com

العدد التالي الذي يجب عليها

كتابته ؟ فسر إجابتك .

• نظرياً هناك مكونان رئيسيان رقم واحد

في آخر مكون رئيسي أو أكثر


www.KweduFiles.Com



بند (٩-٢)



أوجد الناتج



WWW.KweduFiles.Com


٥



×

--	--	--

أوجد الناتج



٣

٥





٢

١



٢

×

WWW.KweduFiles.Com



أوجد الناتج



١

٤

٢






♦

٣

WWW.KweduFiles.Com

٥

×



أوجد الناتج



WWW.KweduFiles.Com

٦ ١ ٤

 ٨ ×

أوجد الناتج

٧

٣

٤

٢

WWW.KweduFiles.Com

٣

×

أوجد الناتج

$$= 4.37 \times 2$$

WWW.KweduFiles.Com



اضرب ٦ في ٦٠٠ ٦٠٠

WWW.KweduFiles.Com



تصدر مطبعة ١٩١٥

صحيفة باليوم ، فكم
www.KweduFiles.Com

صحيفة تنتج في أسبوع ؟

أكمل

٢ • • ٦

www.KweduFiles.Com

×

٤

أَكْمَل

١ ١ ٠ ١ ١

١ ٠ ٩ ٠ ٥

×

٦ ٠

• ضرب عدده مكون من رقمين في

WWW.KweduFiles.Com

آخر مكون من رقمين أو أكثر



بند (٩-٣)



أكمل



WWW.KweduFiles.Com



أَكْمَلْ



٥

٤

٦

٤

×

WWW.KweduFiles.Com

٣

٤

٣

--

--

٤

.

+

٣

٣

٦

٦

--

أوجد الناتج

٦ ٦
٨ ٨ ×

WWW.KweduFiles.Com



أوجد الناتج

١

٣

٥

٦

WWW.KweduFiles.Com

٧

٧

×



أوجد الناتج

$$= 3048 \times 36$$

WWW.KweduFiles.Com



أوجد الناتج

$$= ٤١ \times ٥٠١٩$$

WWW.KweduFiles.Com



ينتج مخبز ٩٠٥٠ رغيف خبز

باليوم ، فكم رغيفاً ينتج في

WWW.KweduFiles.Com

الشهر الواحد ، علماً بأن

المخبز يعمل كل أيام الأسبوع ؟


• استكشف ضرب عددين مكون من رقمين

www.KweduFiles.Com
منها من ثلاثة ارقام



بند (٩-٤)



$$751 \times 413$$


$$(700 + 50 + 1) \times 413 =$$

$$700 \times \boxed{} + 50 \times 413 + \boxed{} \times 413 =$$

$$289100 + \boxed{} + 413 =$$

$$\boxed{} =$$

www.kwedgefiles.com

$$103 \times 953$$



$$(100 + 3) \times 953 =$$

$$100 \times \boxed{} + \boxed{} \times 953 =$$

WWW.KweduFiles.Com

$$\boxed{} + 97169 =$$

$$\boxed{} =$$





$$\begin{array}{r} 202 \\ 121 \times \end{array}$$

$$202 \times 1 \rightarrow$$

$$1022$$

$$202 \times 2 \rightarrow$$

$$\square \times 100 \rightarrow$$

$$202 \cdot \cdot +$$

www.kwedufiles.com



$$\begin{array}{r} 316 \\ 217 \times \end{array}$$

316×7



316×10



3160

31×500



+

www.KweduFiles.Com



1

9

0



0

1

0

×

WWW.KweduFiles.Com

--	--	--

--

--

--

.

9

✓

--

--

--

+

--

--

--

--

5

0



۹

)

۳



۸

.

۶

×

WWW.KweduFiles.Com



.



.

.

+

۷



۶

۶



• ضرب عددين مكون من رقمين

WWW.KweduFiles.Com

من ٢ ارقام



بند (٩-٥)





۶

Σ

۶

)

)

۶

×



^

WWW.KweduFiles.Com

۶

۶

+



Σ



)

•

Σ

↵

•

)

×

Σ

WWW.KweduFiles.Com

•

∧

•

•

+

•

9

Σ



۱

۲

۱

۳

۵

۳

×

.

۳

www.kwedufiles.com

۳

.

۳

۷

.

.

+

۳

۱

۳

أوجد الناتج



www.KweduFiles.Com

٣

١

٤

×



أوجد الناتج



www.KweduFiles.Com

٣

١

٤

×



أوجد الناتج




$$\begin{array}{r} 2 \\ \times 9 \\ \hline 18 \\ \times 2 \\ \hline 36 \end{array}$$

أوجد الناتج



WWW.KweduFiles.Com



وزن الصندوق فارغ ٧٠٠ جرام

وضع فيه ٣١٥ كرة زجاجية ، وزن

WWW.KweduFiles.Com

الكرة الواحدة ١٢٠ جرام ، احسب

وزن الصندوق و الكرات معاً .

احك مسألة لفظية تستخدم

فيها ٢١٦ × ٢٠٩ ، ثم حلها .

WWW.KweduFiles.Com



• نظرياً أملياً أو كلياً

www.kwedufiles.com



بند (۹-۱)



أوجد الناتج

$$= ٤ \times ٩ \times ٥$$

WWW.KweduFiles.Com



أوجد الناتج

$$= 6 \times 9 \times 11$$

WWW.KweduFiles.Com



أوجد الناتج

$$= ٤٢ \times ٢ \times ٥$$

WWW.KweduFiles.Com



أوجد الناتج

$$= ٢٥ \times ٤ \times ٧$$

WWW.KweduFiles.Com



أوجد الناتج

$$= 3 \times 6 \times 9 \times 2$$

WWW.KweduFiles.Com



أوجد الناتج

$$= 8 \times 9 \cdot 11 \times 2$$

WWW.KweduFiles.Com



اكتب ثلاثة أعداد زوجية

مختلفة أصغر من ١٠ ،

WWW.KweduFiles.Com

أوجد ناتج ضربها



مصنع يتكون من ٦ أقسام وفي

كل قسم ١٢ آله ، يعمل على

WWW.KweduFiles.Com

كل آله ١٢ عامل ، كم عدد

العمال في الأقسام الستة ؟

طابعة ليزر تطبع أوراق

بمعدل ٥١ ورقة في الدقيقة

WWW.KweduFiles.Com

الواحدة، ما عدد الأوراق التي

تطبعها في ساعتين؟

• أنماط القسمة و القسمة على مضاعفات

WWW.KweduFiles.Com

العدد إلى مليون



بند (٧-٩)



أوجد الناتج

$$= ١٠ \div ٤٠$$

WWW.KweduFiles.Com



أوجد الناتج

$$= \quad \left(\blacklozenge \blacklozenge \blacklozenge \div 7 \blacklozenge \blacklozenge \blacklozenge \right)$$

WWW.KweduFiles.Com



أوجد الناتج

$$= ٨ \div ٢٤٠$$

WWW.KweduFiles.Com



أوجد الناتج

$$= ٧٠ \div ٢١ \diamond \diamond$$

WWW.KweduFiles.Com



أوجد الناتج

$$= 5 \blacklozenge \blacklozenge \blacklozenge \div 6 \blacklozenge \blacklozenge \blacklozenge \blacklozenge$$

WWW.KweduFiles.Com



أوجد الناتج

$$= 40 \div 20000$$

WWW.KweduFiles.Com



أوجد الناتج



WWW.KweduFiles.Com

٨



٢

٤



أوجد الناتج



WWW.KweduFiles.Com

٢



١٥



أوجد الناتج



WWW.KweduFiles.Com

٦



٦



أوجد الناتج



WWW.KweduFiles.Com



يعمل ٢٧٠ عامل في مصنع،

يركب كل ٣٠ عامل في باص،

WWW.KweduFiles.Com

كم عدد الباصات في هذا

المصنع؟

اكتب عبارتي قسمة يكون لها

نفس ناتج

WWW.KweduFiles.Com

$$٨٠ \div ٢٤٠٠$$



$$1 = 50 \div 50 \dots$$

$$10 = 50 \div 5 \dots$$

WWW.KweduFiles.Com



عائشة



سعاد

أيهما إجابتها صحيحة؟

فسر إجابتك .

• القسمة على عدد مكون من رقمين من رقم

WWW.KweduFiles.Com

الاول



بند (٨-٩)



ب



WWW.KweduFiles.Com



□ ا ب □ □

ع ٧ ٢ ٩



ع

WWW.KweduFiles.Com

٢

٢

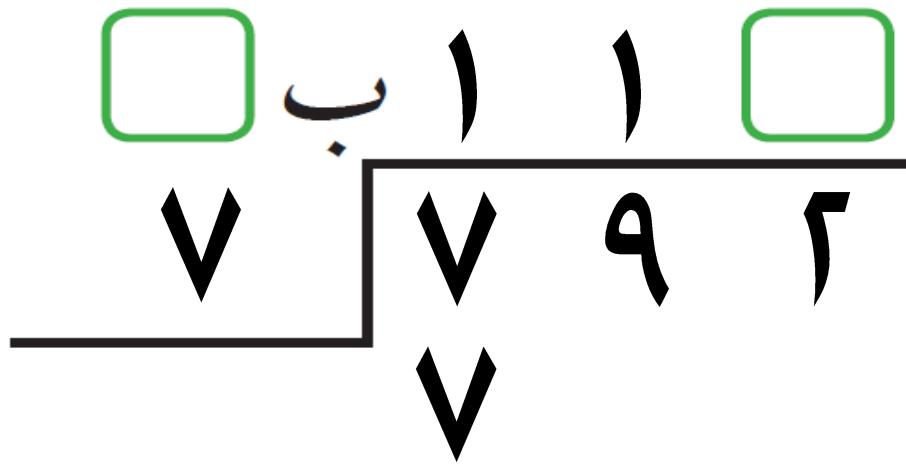
•

•

□

□





WWW.KweduFiles.Com

Two rows of handwriting practice lines. The first row contains two green boxes. The second row contains two green boxes, followed by a closing parenthesis ')'. The third row contains two green boxes.



أوجد الناتج ثم تحقق من صحته

٢

٩٦٧

www.KweduFiles.Com



أوجد الناتج ثم تحقق من صحته

٦

٦١٢

WWW.KweduFiles.Com



أوجد الناتج ثم تحقق من صحته

$$= 5 \div 705$$

WWW.KweduFiles.Com



أكمل الجدول بحسب القاعدة المعطاه

اضرب في ٣ ثم اجمع ١٠

WWW.KweduFiles.Com

٥

٨

١١

أكمل الجدول بحسب القاعدة المعطاه

اقسم على ٢ ثم اطرح ٥

WWW.KweduFiles.Com

١٠

١٤

١٨

• القسمة على عدد مكون من رقمين من رقم

www.KweduFiles.Com

واحد مع وجود أصغر في ناتج القسمة



بند (٩-٩)



ا
 ٤ ٤ ٣ ٤



WWW.KweduFiles.Com

٣ ٤

 ٢



□ ب . ٨ □ □
□ ٣ ٢ ٥ ٨ .



www.KweduFiles.Com

□) □
□) ٨ □
□ □ □



أوجد الناتج ثم تحقق من صحته

٤ ٤٣٦

www.KweduFiles.Com



أوجد الناتج ثم تحقق من صحته

٦

٢٢٥

www.KweduFiles.Com



أوجد الناتج ثم تحقق من صحته

$$= 5 \div 25 \cdot 7$$

WWW.KweduFiles.Com



عند قسمة عدد مكون رمزه من

ثلاثة أرقام على عدد مكون رمزه

WWW.KweduFiles.Com

من رقم واحد و كان الباقي ٦ ، فكم

يكون المقسوم عليه ؟ وضح ذلك .

• القصة على طريقتين تكون ريمه من

WWW.KwediFiles.Com
رقيبين



بند (٩-١٠)



□ ب .) □

51 6 6 3



□ □

www.KweduFiles.Com

) 5 □

□ □ □ -

□ □ □



□ ب □ □ ۹

۶ ۴ ۵ ۹ ۶

WWW.KweduFiles.Com

□ □ □ -

□ □ □



□ ب □ □ □ □

۲۲ ۹ ۲ ۴ ۶



۶ ۸
WWW.KweduFiles.Com



• ۴ □

□ □

□ □ □

أوجد الناتج

٢٢ ٢٥٧٤

WWW.KweduFiles.Com



أوجد الناتج

٤٣ ٦٠٢

www.KweduFiles.Com



أوجد الناتج

٥٤ ٣٤٠٣

www.KweduFiles.Com



أوجد الناتج

$$= 63 \div 882$$

WWW.KweduFiles.Com



أوجد الناتج

$$= 71 \div 7314$$

WWW.KweduFiles.Com



إذا كانت تكلفة صيانة آلات

بأحد المصانع ١٦٨٠ دينار

WWW.KweduFiles.Com

موزعة بالتساوي على ٤٠ آلة.

ما تكلفة صيانة كل آلة ؟

إيمان العبد المذنب

www.KweduFiles.Com



بند (٩-١١)



أوجد العدد المجهول

٩ ♦

?	?	?	?	?	?	?	?	?	?
---	---	---	---	---	---	---	---	---	---

$$٩ ♦ = \boxed{} \times ١ ♦$$

$$\boxed{} = ١ ♦ \div ٩ ♦$$

حل

أوجد العدد المجهول

٣٦٠

?	?	?	?	?	?	?	?	?
---	---	---	---	---	---	---	---	---

$$٣٦٠ = \square \times ٩$$

$$\square = ٩ \div ٣٦٠$$

حل

أوجد العدد المجهول

١٦٠٠

?	?
---	---

WWW.KweduFiles.Com

$$١٦٠٠ = \boxed{} \times ٢$$

$$\boxed{} = ٢ \div ١٦٠٠ \quad \text{حل}$$

أوجد العدد المجهول

٦ ♦ ♦



?

٢ ♦ ♦

www.KweduFiles.Com

$$٦ \blacklozenge \blacklozenge = ٢ \blacklozenge \blacklozenge \times \boxed{}$$

$\boxed{}$

$$\boxed{} = ٢ \blacklozenge \blacklozenge \div ٦ \blacklozenge \blacklozenge$$

حل

أوجد العدد المجهول

١٨٠٠



?

٣٠٠

www.kwedufiles.com

$$1800 = 300 \times \boxed{}$$

$$\boxed{} = 300 \div 1800$$

حل

أوجد العدد المجهول

٢٤ ♦ ♦ ♦



?

٦ ♦ ♦ ♦

www.KweduFiles.Com

$$٢٤ ♦ ♦ ♦ = ٦ ♦ ♦ ♦ \times$$



$$= ٦ ♦ ♦ ♦ \div ٢٤ ♦ ♦ ♦$$

حل

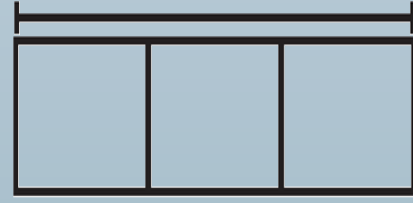
استخدم أو لتوجد

العدد المجهول


WWW.KweduFiles.Com

$$٣٥ \blacklozenge = \boxed{} \times ٥$$

استخدم



أو



لتوجد

العدد المجهول

WWW.KweduFiles.Com

$$٣٢ \diamond \diamond = ٨ \diamond \diamond \times$$