

تم تحميل هذا الملف من موقع ملفات الكويت التعليمية



[com.kwedufiles.www//:https](https://www.kwedufiles.com)

*للحصول على أوراق عمل لجميع الصفوف وجميع المواد اضغط هنا

* للحصول على أوراق عمل لجميع مواد الصف الخامس اضغط هنا

<https://kwedufiles.com/5>

* للحصول على جميع أوراق الصف الخامس في مادة اجتماعيات وجميع الفصول, اضغط هنا

<https://kwedufiles.com/5social>

* للحصول على أوراق عمل لجميع مواد الصف الخامس في مادة اجتماعيات الخاصة بـ الفصل الأول اضغط هنا

<https://www.kwedufiles.com/5social1>

* لتحميل كتب جميع المواد في جميع الفصول للصف الخامس اضغط هنا

<https://www.kwedufiles.com/grade5>

[bot_kwlinks/me.t//:https](https://t.me/bot_kwlinks)

للحصول على جميع روابط الصفوف على تلغرام وفيسبوك من قنوات وصفحات: اضغط هنا

الروابط التالية هي روابط الصف الخامس على مواقع التواصل الاجتماعي

مجموعة الفيسبوك

صفحة الفيسبوك

مجموعة التلغرام

بوت التلغرام

قناة التلغرام

رياضيات على التلغرام



وزارة التربية

الإدارة العامة لمنطقة مبارك الكبير التعليمية

كنترول مبارك الكبير

امتحانات الفصل الدراسي الأول
٢٠٢٠ / ٢٠١٩

| | |
|-------------|--------|
| الخامس | الصف |
| الاجتماعيات | المادة |

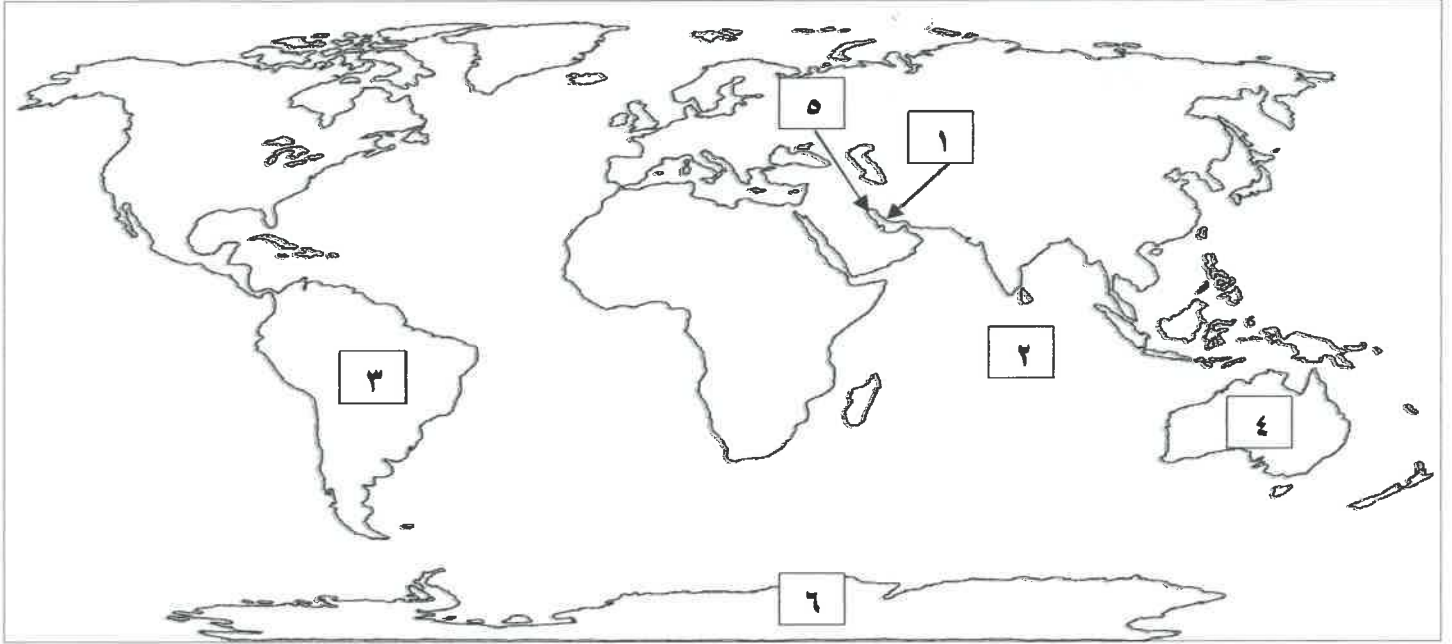


نموذج الإجابة لامتحان الفصل الدراسي الأول للصف الخامس لمقرر بلادي الكويت

أجب عن جميع الأسئلة

السؤال الأول: (موضوعي) ويتكون من (أ - ب):

أ لاحظ خريطة العالم الصماء ثم اكتب مدلولات الأرقام التالية: (٦ = ٦ × ١)



- ١- الخليج العربي يمثل على الخريطة الرقم (١) ص ١٩
- ٢- أصغر قارات العالم من حيث المساحة يمثلها على الخريطة الرقم (٤) ص ٢١
- ٣- قارة غير مأهولة بالسكان ويمثلها على الخريطة الرقم (٦) ص ٢١
- ٤- المحيط الهندي يمثله على الخريطة الرقم (٢) ص ٢٢
- ٥- دولة الكويت يمثلها على الخريطة الرقم (٥) ص ٢١
- ٦- قارة أمريكا الجنوبية يمثلها على الخريطة الرقم (٣) ص ٢١

ب- ظلل (أ) إذا كانت العبارة صحيحة و (ب) إذا كانت العبارة خاطئة: (٦ = ٦ × ١)

| م | العبارة | (أ) | (ب) |
|---|--|------|------|
| ١ | يصل عدد المسلمين في العالم الإسلامي إلى نصف سكان العالم. | | ص ٣١ |
| ٢ | المحمية الطبيعية مكان تخصصه الدولة لحماية البيئة. | | ص ٤٥ |
| ٣ | اكتشفت دولة الكويت النفط الخفيف عالي الجودة في حقل الصابرية. | ص ٦٠ | |
| ٤ | ظهرت الأوبئة والأمراض بسبب ممارسات الإنسان السلبية ضد البيئة. | ص ٦٢ | |
| ٥ | يعد الغاز الطبيعي أحد مصادر الطاقة المتجددة. | | ص ٧٨ |
| ٦ | حرصت الدولة على ترشيد استهلاك الكهرباء باستخدام الطاقة الشمسية بالمنشآت منها المساجد | ص ٨٢ | |

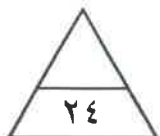
السؤال الثاني (موضوعي) يتكون من (أ - ب) :

أ- ضع خطأ تحت الخيار الصحيح من بين الخيارات التي تلي كل عبارة: (٦=٦×١)

- ١- يمثل الموارد الطبيعية الحية :
الرياح - الماء - النباتات - الشمس - ص ٣٨
- ٢- يقل نمو النباتات في فصل الصيف وذلك بسبب :
شدة الحرارة - كثرة الأمطار - انخفاض الحرارة - غنى التربة - ص ٤٢
- ٣- اهتمت دولة الكويت بتوفير مناطق خاصة بتربية الحيوانات من هذه المناطق:
كبد - القرين - العقيلة - حولي - ص ٥١
- ٤- أكبر الحقول النفطية في دولة الكويت حقل :
بحرة - برقان - الصابرية - رتقه - ص ٥٨
- ٥- تم تصدير أول شحنة نפט من ميناء :
الشعبية - الشويخ - عبد الله - الأحمدي - ص ٥٩
- ٦- يعرف استخدام الموارد المتاحة بالشكل الأمثل :
الاسراف - الاستنزاف - التدوير - ترشيد الاستهلاك - ص ٦٤

ب- اختر للمجموعة (أ) ما يرتبط بها من المجموعة (ب) بوضع الرقم في المكان المناسب: (٦=٦×١)

| م | المجموعة (أ) | الرقم | المجموعة (ب) |
|---|---|-------|----------------|
| ١ | تبلغ نسبة اليابسة من سطح الكرة الأرضية ص ١٧ | ٢ | الصحراوي |
| ٢ | تقع دولة الكويت ضمن الأقليم المناخي ص ٤١ | ١ | ٣٠٪ |
| ٣ | نجح معهد الكويت للأبحاث العلمية في استزراع بعض الأسماك مثل ص ٥٤ | ٤ | ١٠٪ |
| ٤ | نسبة احتياطي النفط الكويتي بالنسبة للاحتياطي العالمي ص ٥٨ | ٦ | الطاقة |
| ٥ | مكان نعيش فيه ونمارس نشاطاتنا المختلفة ص ٦٣ | ٣ | الشعم |
| ٦ | تعرف القدرة على القيام بعمل معين ص ٧٣ | ٥ | البيئة |



السؤال الثالث: (مقالى) يتكون من (أ - ب)

أ- قارن بين كل مما يلى حسب المطلوب منك فى الجدول التالى : (١×٤ = ٤)

| | | |
|----------|--|--|
| المقارنة | النباتات المعمرة (الدائمة) ص ٤٢ | النباتات الحولية (الموسمية) ص ٤٢ |
| المفهوم | نباتات تنمو طول العام وجذورها عميقة تساعدها على الاستفادة من الماء مثل العرفج والرمث | حشائش تتبت بعد سقوط الأمطار وتموت بسرعة مثل الربلة والخزامى |

| | | |
|----------|------------------------|------------------------------|
| المقارنة | الطاقة المتجددة ص ٧٣ | الطاقة الغير المتجددة ص ٧٣ |
| مصادرها | الرياح - المياه- الشمس | الفحم- النفط - الغاز الطبيعي |

ب- ضع عنوان مناسباً للصور التالية: (١×٤ = ٤) (ما يراه المصحح مناسب)



النفط.. ص ٥٥



شباك الصيد.. ص ٥٣



دوارة الرياح.. ص ٧٦



التدوير.. ص ٦٤

السؤال الرابع: (مقالى) يتكون من (أ - ب) :

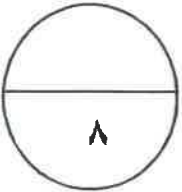
أ- أجب عن ما يلي: (١ × ٤ = ٤)

- ١- خصائص الغاز الطبيعي . ص ٧٨
 - آمن جداً وصديق للبيئة .
 - يعد من الغازات غير السامة .
 - أكثر أنواع الطاقة استخداماً .
 - ليس له رائحة ولا لون .
- ٢- المشاريع التي ساهمت في المحافظة علي النفط والبيئة . ص ٦٠
 - مشروع الوقود البيئي .
 - مشروع الطاقة البديلة .



ب- علل لما يلي: (١ × ٤ = ٤)

- ١- تسمية دول الخليج العربية بهذا الاسم. ص ٢٣
- لأنها تطل على مسطح مائي يسمى " الخليج العربي "
- ٢- تسمية النفط بالذهب الأسود. ص ٥٥
- لأهميته وقيمته الكبيرة فهو غالي الثمن مثل الذهب .
- ٣- اختيار منطقة الشقاي ك محطة لتوليد الكهرباء. ص ٨٠
- لأنها تتميز بشدة الحرارة / وسطوع الشمس / استمرار حركة الرياح طوال العام .
- لاتساع الأراضي المفتوحة / وسهولة التضاريس .



انتهت الأسئلة