

وحدة الثالثة :- الوطن العربي ملامح بشرية واقتصادية

الدرس الأول :- نمو السكان وتوزيعهم في الوطن العربي

* اقرأ وتعلم :-

- يغطي الوطن العربي مساحة كبيرة من الأرض تبلغ ١٣,٥٠٠,٠٠٠ مليون كم^٢ تقريبا .
- يتألف الوطن العربي من ٢٢ دولة تضم حوالي ٣٨٢,٠٠٩,٠٠٠ مليون نسمة تقريبا يتوزعون بنسبة ٧٠% في القارة الأفريقية ، و ٣٠% في القارة الآسيوية .

* توزيع السكان في الوطن العربي :-

- تعتمد دراسة السكان على الإحصاءات السكانية ، ومن أهمها :-

أ - التعداد السكاني :-

- تقوم الدولة من حين إلى آخر بإجراء تعداد لسكانها " كل ٥ سنوات أو ١٠ سنوات " .
- نتيجة لهذا التعداد تحصل الدولة على معلومات وافية عن أوضاع سكانها :- عددهم الإجمالي / عدد كل جنس " ذكور ، إناث " أعمارهم وغير ذلك من المعلومات .

ب - الإحصاء الحيوي :-

- تسجيل المواليد والوفيات وحالات الزواج والطلاق ونحصل على بياناتها من واقع السجلات الرسمية للدولة .

- متى أنشئت الإدارة المركزية للإحصاء في الكويت ؟

- ١٩٦٣ م .

١٩٩٩

* نشاط ٢ :-

- ادرس الجدول شكل رقم ٤٩ ، ثم قارن بين مساحة الدول التالية بعدد سكانها :-

| الدولة | مساحة الدولة | عدد سكانها |
|--------|--------------|------------|
| الكويت | ١٧,٨١٨ | ٣,٧١٥,٠٠٠ |
| مصر | ١,٠٠٩,٤٥٠ | ٨٦,٨١٤,٠٠٠ |
| ليبيا | ١,٦٦٥,٠٠٠ | ٥,٩١٢,٠٠٠ |

مذكرات المعيد

66663881 - 99994537

- ماذا تستنتج من الجدول السابق ؟

- المساحة تتفاوت من دولة لأخرى .

- السكان ترتفع الزيادة السكانية في مصر .

* نشاط ٢ :-

- يختلف عدد السكان بين دولة عربية وأخرى اختلافا كبيرا ؟ " علل " يعود هذا التفاوت ليس

فقط للمساحة الكلية وإنما للعوامل الطبيعية والبشرية .

٢ - الكثافة السكانية في الوطن العربي :-

- يقصد بكثافة السكان نسبة عدد السكان الكلي في دولة ما ، أو منطقة ما ، إلى المساحة الكلية

لهذه الدولة أو المنطقة ، ولكن هذه الكثافة لا تعطي صورة واضحة عن توزيع السكان داخل

الدولة أو المنطقة أو الإقليم .

- حيث تعاني بعض الدول وفي مقدمتها جمهورية مصر العربية من سوء توزيع السكان فيها حيث

يتركز الناس على مساحة صغيرة جدا " وادي النيل ودلتاه " ، لماذا برأيك ؟ لتوافر المياه

العذبة والأرض الممتدة الخصبة .

- الكثافة السكانية العامة :- $\frac{\text{عدد السكان الكلي}}{\text{المساحة المطلقة}}$



مذكرات المفيد (١١٩٩٩٤٥٣٧ / ٦٦٦٦٣٨٨١)

١٠٢
نشاط ٣

- استخراج الكثافة السكانية العامة للدول العربية التي بالجدول مستعينا بشكل ٤٩ :-

| الدولة | الكثافة السكانية العامة |
|---------------|-------------------------|
| الكويت | ٢٠٨ % |
| موريتانيا | ٣,٤٤ % |
| مملكة البحرين | ١,٩٦ % |

مذكرات المفيد
99994537 - 66663881

- ماذا تستنتج من الجدول السابق ؟

- الكثافة السكانية تتفاوت من دولة لأخرى .

* يمكن تقسيم الوطن العربي من حيث الكثافة إلى الأقسام التالية :-

- مناطق مرتفعة الكثافة .
- مناطق متوسطة الكثافة .
- مناطق منخفضة الكثافة .

- مناطق شبه خالية من السكان . " علل " ؟ لعدم توافر مقومات الحياة مثل المياه .
- ما أسباب هذا الاختلاف ؟

- لاحظ المخطط السهمي شكل ٥٠ ، والصور شكل ٥١ ، وتعرف على العوامل المؤثرة في توزيع السكا

١ - لماذا يصعب العيش في المناطق المناخية ؟ لوعورة تضاريسها .

٢ - لماذا يتجمع السكان بكثرة حول مصادر المياه ؟

- لتوافر مصادر الاستقرار حيث الأنشطة الاقتصادية المتنوعة مثل :- زراعة وصناعة وتعبين ورعو

٣ - هل الصحراء مناطق جاذبة للسكان ؟ لا

٤ - لماذا يفضل السكان العيش في المناطق السهلية ذات المناخ المعتدل ؟

- لأنها تقوم حولها أنشطة اقتصادية متنوعة مثل :- الزراعة والصناعة والرعي والتعبين .

١٠٤

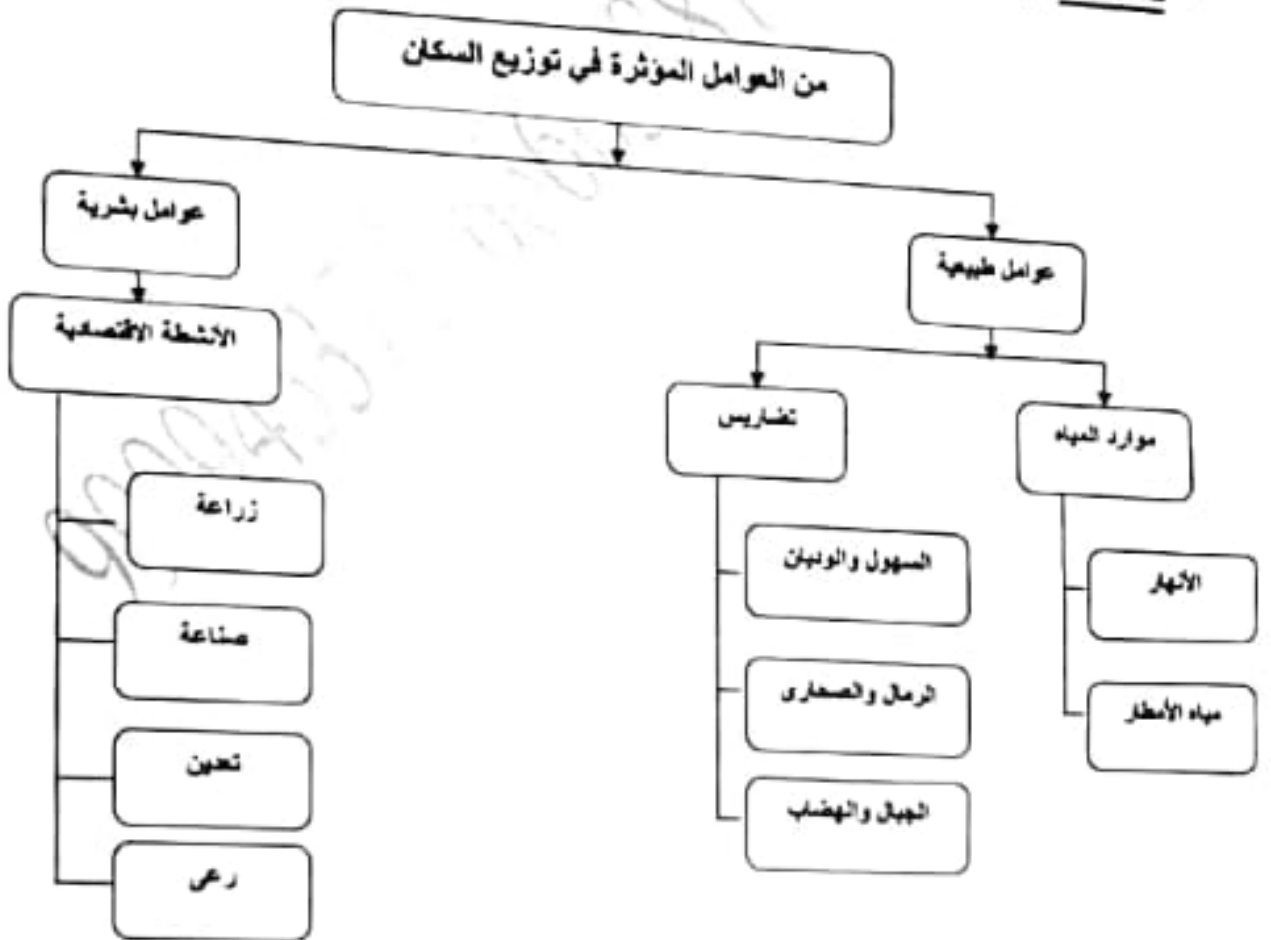
مذكرات المفيد (٩٩٩٩٤٥٣٧ / ٦٦٦٦٣٨٨١)

١٠٤

مذكرات المفيد
66663881 - 99994537

- نشاط ٤ :-
- لاحظ شكل ٥١ ، ثم أجب عما يلي ؟
- ما المناطق المناخية التي يقل فيها السكان ؟
- المناطق الجبلية / المناطق الصحراوية .
- ما المناطق التي يجذب السكان للعيش فيها ؟
- المناطق السهلية / المناطق التي تتوافر فيها المياه .
- ما المناطق التي لا يرغب السكان العيش فيها ؟
- المناطق الجبلية / المناطق الصحراوية .

• نشاط ٥ :-



النضار - الأوت - استخراج المعادن - زجاج - أسجة صوفية - قطع الأخشاب -
- لزج - زبوت و (سبك - صهر الحديد) .

- رسم حط سير الباخرة مع ذي "

صناعات تحويلية

تجارية

مذكرات المفيد (٦٦٦٦٣٨٨١ / ٩٩٩٩٤٥٣٧)

* نشاط :-

- للتعرف أكثر على توزيع الكثافة السكانية اقرأ النص :-
- ترتفع الكثافة السكانية في المناطق التي تتمتع بمقومات طبيعية ومناخية ملائمة و ثروات طبيعية وطرق مواصلات .
- تنخفض الكثافة السكانية في المناطق التي لا تتوافر فيها هذه المقومات .
- رغم الصعوبات التي تواجه السكان في بعض التضاريس ، وبفضل التطور العلمي :-
- ❖ استطاع الإنسان التغلب عليها والعيش في تلك المناطق فحول الجبال إلى مدرجات وزرعها .
- ❖ شق العديد من الطرقات .
- ❖ استطاع أن يواجه ظروف العيش في الصحراء ويستغل ثرواتها الطبيعية .
- ما أسماء المدن ، والنول التي نشأت ونمت في الصحراء ؟
- دول الخليج العربية / ليبيا .
- كيف تغلب الإنسان على صعوبة العيش والزراعة في الجبال ؟
- تحويلها إلى مدرجات .
- كيف تمكن الإنسان من العيش في الصحراء ؟
- تمكن بشق الطرق وزراعة الجبال / استغلال ثرواتها الطبيعية .
- كيف استطاع الإنسان أن يتغلب على بعض الصعوبات المناخ ويسكن المناطق الباردة ؟
- استغلال التطور العلمي والتكنولوجي وتوفير الأموال لذلك .
- * نستخلص من السابق ما يلي :-
- يستقر الإنسان في المناطق التي توفر له إمكانية استغلال مواردها .
- أكبر تجمع للسكان يكون حول الأنهار والبحار ومصادر المياه .
- المناخ المعتدل عامل جذب للسكان .

مذكرات المفيد
66663881 - 99994537

- وتختلف هذه الزيادة من دولة إلى أخرى ؟ " علل " .
يتوقف تأثير هذه الزيادة على مساحة الدولة من جهة ، ومواردها من جهة أخرى .
* يقصد بالنمو السكاني :-

- تزايد عدد السكان من عام لآخر نتيجة للزيادة الطبيعية للسكان " زيادة معدل المواليد على معدل الوفيات " والهجرة .

مذكرات المضيف
99994537 - 6663887

- الزيادة السكانية نوعان :-

١ - زيادة طبيعية :- وهي الفرق بين معدل المواليد ومعدل الوفيات .

٢ - زيادة غير طبيعية :- وهي الزيادة الناتجة عن الهجرة .

- الهجرة نوعان :-

١ - هجرة داخلية :- من القرى إلى المدن .

٢ - هجرة خارجية :- من دولة إلى دولة أخرى .

- يرجع النمو السكاني بالوطن العربي إلى عاملين هما :- الزيادة الطبيعية ، والهجرة الخارجية .

رسم خط سير الباخرة مع ذكر المنافذ البحرية ..

ن- زجاج - أسجة صوفية - قطع الأخشاب - الحديد.

صناعات تحويلية

مذكرات المفيد (٦٦٦٦٣٨٨١ / ٩٩٩٩٤٥٣٧)

٧٧-٧٧

* نشاط ١ :-

- ١ - أسباب هجرة الأيدي العاملة من دول آسيا إلى بعض دول الوطن العربي .
- لوجود أزمة اقتصادية في دولهم .
- اكتشاف النفط ، وفرصة فرص العمل ، والمرتببات المجزية .

٢ - أسباب هجرة الأيدي العاملة من بعض الدول العربية إلى منطقة الخليج العربية .

- وفرصة فرص العمل / حاجة دول الخليج إلي التخصصات الفنية / الأمن والأمان / الأجور ال

* نشاط ٢ :-

- ماذا يحدث لو :- زاد عدد السكان بكثرة عن عدد موارد الدولة الاقتصادية ؟

- يحدث أزمة اقتصادية أو مجاعة .

* هل يمكننا القول :-

- هناك مشكلة سكانية في الوطن العربي ؟ ناقش

- نعم :- توجد حيث توجد أماكن ذات كثافة سكانية عالية وأخرى منخفضة علاوة على سوء توزيع السكان بين الدول وارتفاع معدل النمو السكاني .

مذكرات المفيد
66663881 - 99994537

مذكرات المفيد
66663881 - 99994537

- ارتفاع معدل نمو السكان في بعض دول الوطن العربي مشكلة :

* المشكلة :- النمو السكاني
- تعاني معظم الدول العربية من ارتفاع كبير في أعداد سكانها بشكل قد يبدو في بعض الأحيان غير منطقي ، وغير مدروس ، وغير علمي ، بسبب الأحداث السياسية المتسارعة التي تحدث في الوطن العربي ، ارتفعت الهجرات في هذه المنطقة من العالم ، مما سبب زيادة كبيرة في أعداد بعض الدول ، ونقصاً كبيراً في أعداد دول أخرى ، وكما هو معلوم فإن زيادة السكان بشكل كبير تعمل على زيادة الضغوطات على كافة الموارد سواء المادية ، أو الاقتصادية ، أو الغذائية ، وغيرها ، خاصة في ظل انحصار بعض هذه الموارد في جزء معين من مناطق العالم العربي ، وقلة بل وانعدام أحياناً التعاون بين الدول العربية ، مما جعلنا نرى دولاً عربية توضع على قائمة أغنى الدول وأكثرها رفاهية ، في مقابل دول أخرى صارت تعد عالة على المجتمع الدولي من شدة الفقر فيها .

* اقتراحات حل المشكلة :-

- الاهتمام بمتابعة وتقييم الخطط بصورة ترفع كفاءة نظم المعلومات السكانية .
- الارتقاء بمستوى الخدمات الصحية والإيجابية وتنظيم الاسرة .
- تحسين وضع المرأة من خلال التثقيف والعمل والاهتمام بصحتها حتى تكون صاحبة قرار في تحديد عدد اطفال اسرتها .
- انشاء مدن جديدة متكاملة من حيث جميع المرافق .
- نقل افرع للوزارات والمصالح الحكومية خارج المدن الكبيرة .
- تطوير المدن والقرى وتزويدها بالخدمات بكافة أنواعها .

مذكرات المفيد (٦٦٦٦٣٨٨١ / ٩٩٩٩٤٥٣٧)

١٩٠٩

الدرس الثاني :- الموارد الاقتصادية في الوطن العربي

مذكرات المفيد
66663881 - 99994537

- وهب الله منطقتنا العربية ثروات اقتصادية وموارد طبيعية مهمة .

* نشاط ١ :-
- لاحظ الصور التالية ثم أكتب الثروات الطبيعية و أهميتها بالنسبة لوطننا العربي :-



الثروة :- الطبيعية .

الأهمية :- توفير فرص العمل .



الثروة :- البترولية .

الأهمية :- زيادة الدخل القومي للدولة .



الثروة :- المائية .

الأهمية :- تقوم عليها الكثير من الصناعات . الأهمية :- للمياه أهمية عظيمة في كافة مناحي الحياة

* الموارد الطبيعية :-

- الثروات التي منحها الله لإقليم ما دون أن يكون للإنسان أي دور في وجودها مثل :- الثروات المائية والغابات والمراعي والموارد المائية وموقع الإقليم .

* الموارد البشرية :-

- هي التي ترتبط بالسكان من حيث أعدادهم وتوزيعهم ومناسبة أعدادهم لمساحة الأرض التي يستغلونها

مذكرات المفيد (٦٦٦٦٣٨٨١ / ٩٩٩٤٥٣٧)

١١

أولا :- إنتاج الغذاء في الوطن العربي

مذكرات المفيد
99994537 - 66663881

أ / الإنتاج الزراعي :-

- يأتي القطاع الزراعي في المرتبة الأولى .
- يشكل بنسبة ٥٠ % من الاقتصاد العربي مقارنة بالقطاع الصناعي ٢٠ % ، والخدمات العامة ٣٠ % خاصة في الأقطار غير المنتجة للنفط .
- حيث توفر الغذاء والعمل والمادة الأولية لكثير من الصناعات الغذائية .
- تختلف أنواع هذه المنتوجات من دولة عربية إلى أخرى ؟ " علل " بسبب اختلاف المناخ والتربة في هذه الدول ومدى توافر المياه .
- كما أن إنتاج الوطن العربي من بعض هذه المنتوجات كالقطن والزيتون والصمغ العربي والحمضيات يصدر إلى الخارج بكميات مناسبة مما يكسب الوطن العربي أهمية كبيرة .

* نشاط ١ :-

- استنتج ثلاث فوائد أساسية للنشاط الزراعي في الوطن العربي ؟
- ١ - توفير الغذاء .
- ٢ - توفير العمل .
- ٣ - التصدير .

* نشاط ٢ :-

- من خلال دراستك السابقة تعرف على المناطق الزراعية في الكويت ، ثم دونها في الجدول التالي :

| في الشمال | في الجنوب |
|-----------|-----------|
| العبدلي | الوفرة |

رسم خريطة البحر مع ذكر المنافذ البحرية التي يجب أن تمر بها أثناء الرحلة :

مذكرات العليد (٦٦٦٦٣٨٨١ / ٩٩٩٩٤٥٣٧)

• نشاط ٣ :-

هل تستطيع رسم دائرة بيانية لأهمية القطاع الزراعي بالنسبة لبقية القطاعات في الاقتصاد العربي



• نشاط 4 :-

أكمل المخطط التالي :-

مذكرات المضيف
66663881 - 99994537

ب - مقومات الإنتاج الزراعي



١١٢

مذكرات المفيد (٩٩٩٩٤٥٣٧ / ٦٦٦٦٣٨٨١)

- ما مصادر المياه الرئيسية في الوطن العربي ؟

مذكرات المفيد
66663381 - 99994537

- مياه الأنهار " النيل وندجة والفرات " / الأمطار / الأبار الجوفية .

* نشاط ٥ :-

حل

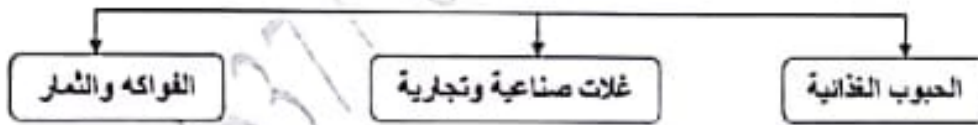
- أكتب رسالة تنصح زميلك بالمحافظة على النباتات ، وضح كيفية الاعتناء بها ؟
- يجب المحافظة على النباتات لأنها تجعل بيننا اجمل .
- يجب ان نسقيها الماء ، فالنباتات لا تعيش بدون الماء ، قال تعالى : (وجعلنا من الماء كل شيء حي) .
- ان تكون في مكان مشمس ، فالنبته تحتاج للشمس كي تنمو .

- ان تكون في تربة نظيفة ، لذلك يجب ان نحافظ على نظافة البيئة فلا نرمى الاوراق وبقايا الطعام لأنها تضر النباتات .

- يجب ان لا تقطع الازهار والنباتات ، بل نساعد في زرعها لأنها تجعل المكان جميل .

حل

ج / أهم المحاصيل الزراعية في الوطن العربي :-



١ - الحبوب الغذائية :-

- تعد من أهم المزروعات في الوطن العربي حيث تشغل مساحة كبيرة من الأرض المزروعة .
- وتؤثر كمية الأمطار على إنتاجها من عام إلى آخر ويأتي في مقدمتها القمح والأرز والذرة والشعير .

٢ - الغلات الصناعية والتجارية :-

- وتشمل الغلات التي تدخل في الصناعة وتزرع بغرض التجارة والحصول على نقد ولذلك تسمى " الغلات النقدية " .

مذكرات المصيد (٦٦٦٦٣٨٨١ / ٩٩٩٩٤٥٣٧)

١١٣

٣ - الفواكه والثمار :-

- تتطلب ظروف مناخية خاصة تتركز معظمها في حوض البحر المتوسط وتزرع منها أنواع كثيرة

* نشاط ١ :-

- صنف المحاصيل الزراعية :-

| فواكه وثمار | غلات صناعية وتجارية | حبوب غذائية |
|--------------------------------------|---|-----------------------------------|
| العنب التمور الحمضيات الموز | البن الشمندر الزيتون قصب السكر | الشعير الأرز القمح الذرة |

- نستورد المحاصيل الزراعية من جميع دول الوطن العربي .

* نشاط ٢ :-

مذكرات المصيد
99994537 - 993861

- الدول التي تحتل المراكز الأولى في إنتاج جميع أنواع المحاصيل الغذائية :-

١ - الحبوب الغذائية :-

| الأرز | الذرة الشامية | الشعير | القمح | الغلة الزراعية |
|-------------------------|--------------------------|----------------------------|---------------------------|----------------|
| مصر العراق المغرب | مصر المغرب السودان | المغرب سوريا الجزائر | مصر السعودية المغرب | الدول العربية |

ب - الغلات الصناعية :-

| قصب السكر | البن | القطن | الغلة الزراعية |
|--------------------------|-----------------|-------------------------|----------------|
| مصر السودان المغرب | اليمن — — | مصر السودان سوريا | الدول العربية |

١١٥

مذكرات المفيد (٦٦٦٦٣٨٨١ / ٩٩٩٤٥٣٧)

ج - الفواكه و الأشجار :-

| الموز | الموالمح | التمور | العنب | الغلة الزراعية |
|---------|----------|----------|---------|----------------|
| الصومال | مصر | السعودية | سوريا | الدول العربية |
| — | لبنان | مصر | مصر | |
| — | سوريا | العراق | الجزائر | |

* نشاط ٣ :-


- المشكلات التي تعاني منها الزراعة في الوطن العربي ؟

د. المشكلات التي تعاني منها الزراعة في الوطن العربي

د - المشكلات التي تعاني منها الزراعة في الوطن العربي

مذكرات المفيد
99994537 - 66663881

١١٥



جني المحاصيل بطرق تقليدية

جفاف التربة

حرث بطريقة بدائية

* نشاط ٤ :-

- عرف المفاهيم التالية :-

| الزراعة الحديثة | الزراعة التقليدية |
|--|--|
| هي التي تعتمد على الطرق الحديثة والتكنولوجيا . | هي الزراعة التي تعتمد على الطرق البدائية . |

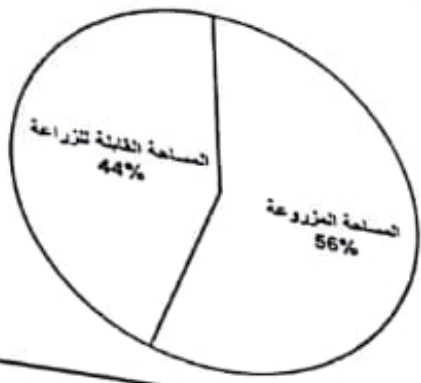
خط سير الباتخرة مع ذكر المنافذ البحرية التي يجب أن تمر بها أثناء الرحلة.

مذكرات المفيد (٦٦٦٦٣٨٨١ / ٩٩٩٩٤٥٣٧)

نشاط ٥ :-
٦٦٦

تبلغ المساحة المزروعة في الوطن العربي حوالي ٥٦ % من المساحة القابلة للزراعة .

الزراعة



مذكرات المفيد
99994537 - 66663881

نشاط ٦ :-
٦٦٦

- أسباب عدم استغلال الأراضي الصالحة للزراعة :-
- نقص موارد المياه .
- اعتماد بعض الأراضي الزراعية على مياه الأمطار فتصبح مناطق شبه جافة .
- قلة الأيدي العاملة في الزراعة نظرا للهجرة من الريف إلى المدن .
- إتباع الأساليب التقليدية في الزراعة .

مذكرات المفيد
99994537 - 66663881

مذكرات مفيد (٩٩٩٩٤٥٣٧ / ٦٦٦٦٣٨٨١)

ثانيا / الإنتاج الحيواني

- يمتلك الوطن العربي أعدادا متنوعة من الثروة الحيوانية التي تساهم في موارد الدخل لكثير من الدول العربية .

- هي ثروة قابلة للزيادة والنمو إذا ما تدخل الإنسان بعمله واجتهاده ووسائله الحديثة لرعايتها وتنظيم استغلالها وتحسين أنواعها وأعداد الغذاء الكافي لها .

- تتربى هذه الحيوانات في المراعي وبعضها في الأراضي الزراعية .

أ - الثروة الرعوية

مذكرات المشيخ
99994537 - 66663881

* نشاط ١ :-

- يمتلك الوطن العربي أنواعا كثيرة من الثروة الرعوية ، فهل تستطيع لصق صور لهذه الثروة :-



الأبقار

الماعز

الأغنام

الابل

* نشاط ٢ :-

- لاحظ الجدول التالي ، ثم قم بعملية حسابية لإنتاج الوطن العربي من الثروة الرعوية :-

| أبقار | أغنام | ماعز | ابل |
|-------|-------|------|-----|
| ٤٥ | ١٦,٦٦ | ٦٤ | ٤٩ |

$$٤٥ + ١٦,٦٦ + ٦٤ + ٤٩ = ١٧٤,٦٦ \text{ مليون رأس}$$

مذكرات المفيد (٦٦٦٦٣٨٨١ / ٩٩٩٩١٥٣٧)

- تحتل الإغنام العربية مكانا مهما ضمن الثروة الرعوية ويرجع ذلك للأسباب التالية :-
- * الأكثر انتشارا في المراعي العربية .
- * أكثر الحيوانات المستأنسة ملائمة لمراعي الوطن العربي ولتحملها الجفاف والانتقال .
- * أهمية منتجاتها بالنسبة للسكان .
- * مصدر أساسي من مصادر الثروة القومية .

| الرقم | أغنام | نسبة الإنتاج | الماعز | نسبة الإنتاج | الأبقار | نسبة الإنتاج | الإبل | نسبة الإنتاج |
|-------|---------|--------------|---------|--------------|---------|--------------|----------|--------------|
| ١ | المغرب | ١٥,٧ | مصر | ٣,٨ | السودان | ٢٢ | الصومال | ٦,٦ |
| ٢ | السودان | ١٨,٥ | المغرب | ٥,٨ | مصر | ٦,٧ | السعودية | ٠,٨٥٠ |
| ٣ | العراق | ٩,٢ | السودان | ١٢,٥ | المغرب | ٣,٣ | السودان | ٢,٨ |

* نشاط ٣ :-

- لاحظ الجدول السابق ، ثم اجب عن الأسئلة التي تليه :-
- ما الدول التي تنصدر المراكز الأولى بما تملكه من الثروة الرعوية ؟

مذكرات البضيا
99994537-8663861




السودان



السودان



الصومال



السودان

- فكر واستنتج :- امتلاك الصومال ٦,٦% من ثروة الوطن العربي من الإبل ؟
- لانتشار المراعي الصحراوية بالصومال .

منذ المبدأ (٦٦٦٦٣٨٨١ / ٩٩٩٩٤٥٣٧)

ب - تربية الدواجن والطيور

- تنتشر تربية الدواجن والطيور في جميع الأقطار العربية .
- يكفى الإنتاج فيها حاجة السكان المحلية في معظم الأقطار مثل :- الدواجن ، والبط ، والحمام ، والنجاج .

* نشاط ١ :-

- العوامل التي ساعدت على انتشار مزارع الدواجن في الوطن العربي .
- توفير المزارع لتربية الدواجن .

مذكرات المضيء
66663881 - 99994537

- توفير الأعلاف .

* نشاط ٢ :-

- أهم المشكلات التي تواجه تربية الدواجن في الوطن العربي ، مع اقتراح حلول لهذه المشكلة .
- * المشكلة :-
- انتشار مرض أنفلونزا الطيور .
- الاعلاف :- غلاء الاسعار / تخزين السيئ / استيراد خامات غير مطابقه للمواصفات / التصنيع السيئ / جشع بعض التجار .
- نقص الأدوية والتحصينات
- قلة العمالة المدربة
- * اقتراحات حل المشكلة :-
- يكافح في النوع الطفيف ، بإدارة القطيع السليمة وتغذيته جيداً ، والتطهير المستمر .
- في الحالات الضارية يجب التخلص من القطيع بحرقه أو دفنه في حفر عميقة .
- استخدام اللقاحات التي تسمح بها الوزارة فقط .

بسم خطيب الباخرة مع ذكر المنافع البحرية التي يجب أن نمر بها أثناء

مذكرات المفيد (٦٦٦٦٣٨٨١ / ٩٩٩٩٤٥٣٧)

٢٢٢

ج - الثروة المانية

- دول الوطن العربي دولا بحرية لها سواحل ومسطحات مائية واسعة منها المالحة ومنها العذبة.
- تتنوع الثروة المانية في الوطن العربي .

مذكرات المفيد
66663881 - 99994537

- * نشاط ١ :-
- ألصق صورا لبعض أنواع الأسماك في مياه الخليج العربي .



- هل هناك ثروات مائية أخرى في المركز العلمي ؟ انكرها .



القواقع

المرجان

الاسفنج

اللؤلؤ

- ما أهميتها الاقتصادية :-
- تساهم في زيادة دخل الدولة .
- تقوم عليها الكثير من الصناعات .
- توفير فرص العمل .

مذكرات المفيد
66663881 - 99994537

١٢٣

مذكرات المفيد (٩٩٩٩٤٥٣٧ / ٦٦٦٦٣٨٨١)

م

* نشاط ٢ :-

- اقرأ الجدول جيدا ، ثم أجب :-

| الرقم | الدولة | الإنتاج " ألف طن " |
|-------|-----------|--------------------|
| ١ | اليمن | ١٥٧ |
| ٢ | مصر | ١٣٧٤ |
| ٣ | موريتانيا | ٦٤٤ |
| ٤ | المغرب | ١٢٤٦ |
| ٥ | تونس | ١٢٣ |
| ٦ | الجزائر | ١٢٢ |
| ٧ | عمان | ٢٠٦ |
| ٨ | الإمارات | ٧٣ |

١ - رتب الدول الخمس الأولى في كمية الإنتاج ترتيبا تنازليا .

- مصر / المغرب / موريتانيا / عمان / اليمن .

٢ - عدد ثلاث دول عربية تحتل المراكز الأولى في الإنتاج .

- مصر / المغرب / موريتانيا .

٣ - فكر و استنتج :- لماذا تساهم مصر بأكثر من ثلث الإنتاج العربي من الأسماك .

- لطول سواحلها على البحر المتوسط والبحر الأحمر / نهر النيل .

* نشاط ٣ :-

- اكتب بعض المقترحات التي تساعد في تنمية الثروة السمكية .

- تكوين أسطول من السفن الحديثة المتخصصة في صيد الأسماك .

- وجودة الخبرة والكوادر الفنية العاملة .

مذكرات المفيد
66663881-99994537

م

مذكرات المفيد (٩٩٩٩٤٥٣٧ / ٦٦٦٦٣٨٨١)

ثالثا / الطاقة والثروة المعدنية

١٢٤

* نشاط ١ :-

- أهم الصناعات في الوطن العربي :-



صناعة الحديد



صناعة استخراج النفط



صناعة الخزف

- يمتلك الوطن العربي ثروة معدنية كبيرة لها أهميتها محليا وعالميا .
- حيث ينتج العديد من الخامات المعدنية ومصادر الطاقة الأساسية لقيام الصناعة بكافة أنواعها .

* نشاط ٢ :-

- هل نستفيد من هذه الثروة المعدنية ؟

- نعم :-

- ما دليلك ؟

- توفير فرص عمل .

- تزيد من الدخل القومي للدولة .

- تقوم عليها الكثير من الصناعات .

- تستخرج الثروة المعدنية من ؟

- باطن الأرض عن طريق عملية البحث والتنقيب .

مذكرات المفيد
99994537 - 66663881

١٢٥

مذكرات المفيد (٦٦٦٦٣٨٨١ / ٩٩٩٩٤٥٣٧)

أ / النفط والغاز الطبيعي

- يعد النفط والغاز الطبيعي من أهم مصادر الطاقة التي تقوم عليها صناعات مهمة لا غنى عنها في حياتنا .

- فيما مهيمن بالنسبة لاقتصاد الدول العربية .

* نشاط ١ :-

- ما أهمية النفط والغاز الطبيعي بالنسبة للدول العربية ؟

- مصدر لرؤوس الأموال .

- قوة محرّكة للآلات والمصانع .

- مادة خام للعديد من الصناعات المهمة .

مذكرات المفيد
66663881 - 99994537

- أساس لمشاريع التنمية والعمران .

* نشاط ٢ :- ارسم أو الصق صورة تدل على المفهوم .

* النفط :-

- بقايا عضوية على هيئة نباتات وحيوانات دقيقة ترسبت في عصور

قديمة وانطمرت تحت رواسب سميكة ، وتحولت بالضغط والحرارة

إلى صورتها الحالية .

* الغاز الطبيعي :-


- غاز مصاحب للنفط الخام أو يتواجد منفردا تتم إيسالته لاستخدامات

عديدة .

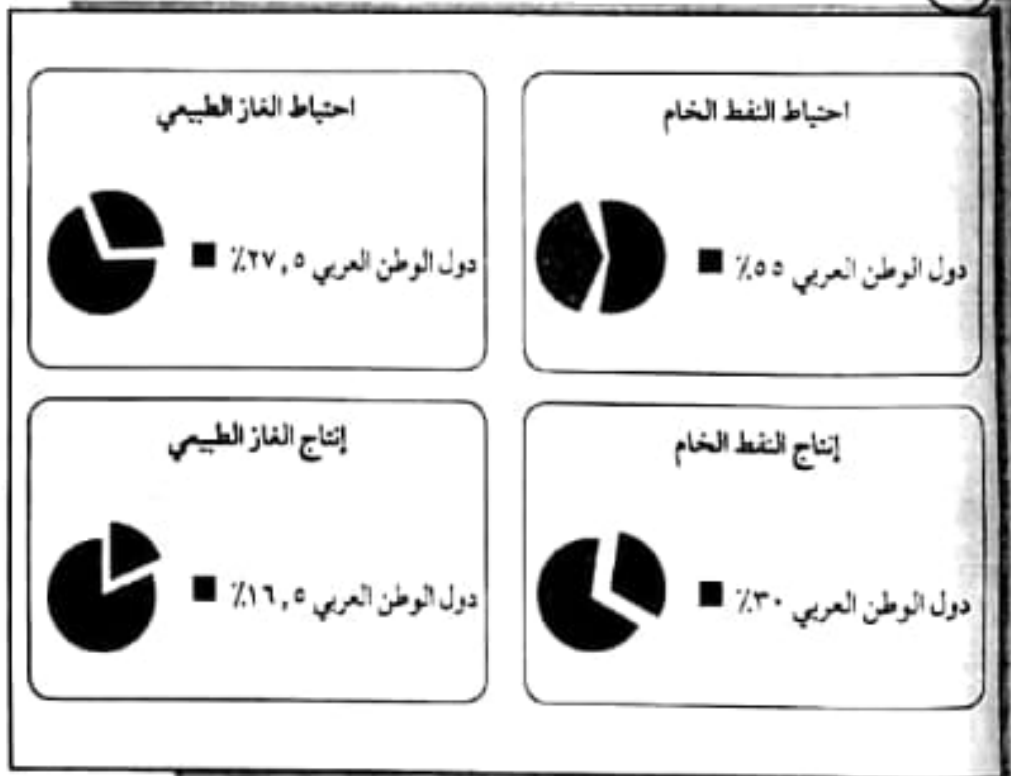
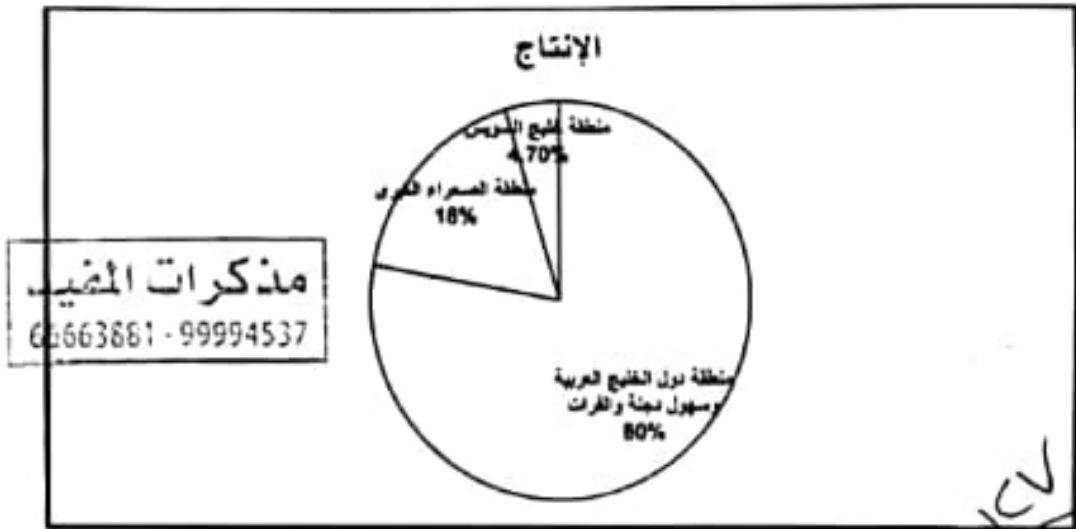
* الطاقة :-

- قوى محرّكة للآلات وعنصر مهم للتقدم والتطور الاقتصادي في

جميع المجالات .



- حول نسب المناطق الرئيسية الثلاث التي تتركز فيها معظم حقول النفط في الوطن العربي إلى دائرة بيانية .



شكل (٦٧) يوضح نسب إنتاج واحتياطي النفط والغاز الطبيعي في الوطن العربي


| الجناح | إنتاج النفط | احتياطي النفط | إنتاج الغاز الطبيعي | احتياطي الغاز الطبيعي |
|----------|-------------|---------------|---------------------|-----------------------|
| الآسيوي | أكثر ٨٨ % | أكثر ٩٠ % | أكثر ٦٦,٥ % | أكثر ٨٢ % |
| الأفريقي | أقل ١٢ % | أقل ١٠ % | أقل ٣٣,٥ % | أقل ١٨ % |

احتياط الغاز الطبيعي



- الجناح الآسيوي ٨٢ %
- الجناح الأفريقي ١٨ %

احتياط النفط الخام



- الجناح الآسيوي ٩٠ %
- الجناح الأفريقي ١٠ %

إنتاج الغاز الطبيعي



- الجناح الآسيوي ٦٦,٥ %
- الجناح الأفريقي ٣٣,٥ %

إنتاج النفط الخام



- الجناح الآسيوي ٨٨ %
- الجناح الأفريقي ١٢ %

١٢٩
شباط ٤ :-

- اقرأ الجدول ، ثم أجب على التساؤلات التالية :-

| الرقم | الدولة العربية | إنتاج النفط الخام ألف برميل / يوم | احتياط النفط الخام مليار برميل | إنتاج الغاز الطبيعي مليار متر مكعب | احتياط الغاز الطبيعي مليار متر مكعب |
|-------|----------------|-----------------------------------|--------------------------------|------------------------------------|-------------------------------------|
| ١ | الإمارات | ٢٧٩٤ | ٩٧.٨ | ٥٤.٢ | ٦.٩١ |
| ٢ | البحرين | ٢٠٢ | ٠.١ | ١٥.٤ | ٩٢ |
| ٣ | تونس | ٥٥.٥ | ٠.٤ | ٢.٦ | ٦٥ |
| ٤ | الجزائر | ١١٩٣ | ١٢.٢ | ٨١.٧ | ٤٥٠٥ |
| ٥ | السعودية | ٩٧٠١ | ٢٦٥.٨ | ١٠٢.٤ | ٨٣١٦ |
| ٦ | سوريا | ١٠ | ٢.٥ | ٥.٣ | ٢٨٥ |
| ٧ | العراق | ٣١١٠ | ١٤٥.٣ | ٩ | ٣٦٩٤ |
| ٨ | قطر | ٧٠٣ | ٢٥.٢ | ٢٠٤.٦ | ٢٤٤٠٠ |
| ٩ | الكويت | ٢٨٦٦.٨ | ١٠١.٥ | ١٥ | ١٧٨٤ |
| ١٠ | ليبيا | ٤٨٠ | ٤٨.٤ | ١٥.٨ | ١٥٣٢ |
| ١١ | مصر | ٥٩٣.٤ | ٤.٢ | ٤٨.٨ | ٢١٨٦ |
| ١٢ | السودان | ١٢٢ | ١.٥ | - | ٨٥ |
| ١٣ | شباب | ٨٥٦.٥ | ٥.١٥١ | ٢٩ | ٧٠٥ |
| ١٤ | اليمن | ١٤٠.٤ | ٢.٦٧ | ٦.٦ | ٤٧٩ |

إنتاج واحتياط دول الوطن العربي حسب إحصاء ٢٠١٤
شكل (٦٩)

١ - أسماء ثلاث دول عربية أولى في إنتاج النفط .

- السعودية / العراق / الكويت .

٢ - أسماء ثلاث دول عربية أولى في احتياطي النفط .

- السعودية / العراق / الكويت .

٣ - أسماء ثلاث دولة عربية أولى في إنتاج الغاز الطبيعي .

- قطر / السعودية / الجزائر .

٤ - ما أكثر الدول العربية إنتاجا واحتياطي للنفط .

- الإنتاج :- السعودية .

- الاحتياطي :- السعودية .

مذكرات المفيد

99994537 / 66663881

١٣٠

مذكرات المفيد (٦٦٦٦٣٨٨١ / ٩٩٩٩٤٥٣٧)

٥ - تيب الكويت بين الدول العربية في إنتاج النفط .

- الثالث .

٦ - الدولة العربية الأولى في إنتاج الغاز الطبيعي .

- قطر .

- الدول العربية تصدر معظم إنتاجها من النفط والغاز الطبيعي إلى خارج الوطن العربي .

- نعم :- زيادة الدخل للدولة .


- توفير العملة الصعبة .

* نشاط ٥ :-

- اجمع صوراً توضح كيف يتم تصدير النفط ، ثم ألقها في المربعات التالية :-



الناقلات



خطوط الأتابيب

١٣٠

مذكرات المفيد

66663881 - 99994537

مذكرات المفيد

66663881 - 99994537

مذكرات المفيد (٩٩٩٤٥٣٧ / ٦٦٦٦٣٨٨١)

أهمية النفط العربي

- يتمتع النفط العربي بمكانة مهمة على المستوى العالمي نظرا لأهميته للدول الصناعية المتقدمة في :- أوروبا واليابان والولايات المتحدة الأمريكية .

مذكرات المفيد

66663881 - 99994537

* نشاط ١ :-

- استعن بالمراجع الخارجية لإكمال الشكل التالي :-




* نشاط ٢ :- أجب عما يلي :-

- لماذا يطلق على الغاز الطبيعي اسم الطاقة النظيفة ؟
- إذ لا ينتج عن احتراقه ظهور الملوثات التي تنتج عن احتراق المنتجات النفطية لذلك يدخل في استخدامات عديدة .

* نشاط ٣ :-

- لاحظ الصور التالية ، ثم اكتب استخدامات الغاز الطبيعي :-



توليد الكهرباء



تحليه المياه



الاستعمال المنزلي

مذكرات المفيد (٦٦٦٦٣٨٨٩ / ٩٩٩٩٤٥٣٧)

١٣٢

ج / التعدين في الوطن العربي

- يمتلك الوطن العربي مجموعة من المعادن المهمة ، تتفاوت كميات إنتاجها من دولة لأخرى .



❖ تحتل موريتانيا المرتبة الأولى عربيا في إنتاج معدن الحديد .

❖ تتصدر المغرب المرتبة الأولى في إنتاج المعادن التالية :- الفوسفات / النحاس / الرصاص / المنجنيز .

مذكرات المفيد
66663881 - 99994537

* اقرأ وتعلم :-

| المنجنيز | النحاس | الرصاص | الحديد | الفوسفات |
|----------|--------|--------|--------|----------|
| %٣.٣ | %٠.١٣ | %٦.٦ | %١.٢ | %٢٥ |

نسب إنتاج الوطن العربي من المعادن بالنسبة للعالم

١٣٢

* نشاط ١ :-

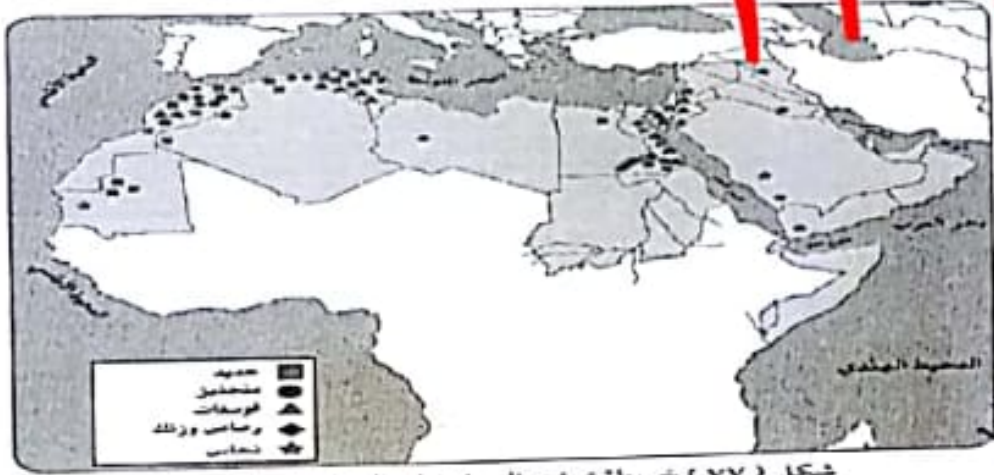
- هل هناك معادن أخرى ثمينة يملكها الوطن العربي ؟ ابحث في ذلك ثم اكتب تقريرا بخود خمس أسطر مع ذكر المصدر .

- الذهب :- تصدرت عمان المرتبة الأول عربياً في إنتاج الذهب .

- الزنك :- ويدخل في صناعة هياكل السيارات والاجهزة المنزلية ، وتعد بلاد المغرب العربي من الدول العربية المنتجة لهما .

- الألومنيوم :- تعتمد صناعة الألومنيوم في مصر على كهرباء السد العالي .

- تعتمد البحرين ودبي والسعودية على الغاز الطبيعي .



شكل (٧٧) خريطة توزيع المعادن في الدول العربية

* نشاط ٢ :-

- لاحظ الخريطة ، ثم أكمل الجدول التالي :-

مذكرات المفيد
66663881 - 99994537

| المعدن | الدول العربية المنتجة للمعدن |
|----------|------------------------------|
| الفوسفات | المغرب / تونس / الأردن |
| الحديد | موريتانيا / الجزائر / مصر |
| النحاس | المغرب / الأردن / تونس |
| الرصاص | المغرب / تونس |

د / المنظمات الاقتصادية الإقليمية والدولية

أ - منظمة الدول المصدرة للنفط " أوبك " .



- مع زيادة الإنتاج النفطي واحتكار الشركات العالمية المستغلة للنفط إنتاجه ونقله وتكريره .

- وحفاظا على حقوق الدول المصدرة للنفط تم التفكير في إنشاء منظمات عربية وعالمية تكفل ذلك .

- هي منظمة عالمية تعتمد على صادراتها النفطية اعتمادا كبيرا لتحقيق مشيورها .

- قد تأسست في بغداد عام ١٩٦٠م من خمس دول هي :- الكويت والسعودية والعراق وإيران وفنزويلا .

- المقر الحالي :- فيينا .

١٣٤

مذكرات المفيد (٩٩٩٩١٥٣٧ / ٦٦٦٦٣٨٨١)

- تضم منظمة الأوبك بالإضافة إلى الدول المؤسسة :- قطر ، الإمارات ، الجزائر ، نيجيريا ، أنغولا ، الأكوادور .

- الهدف الأساسي :- الحرص على استقرار أسعار النفط في الأسواق العالمية ، وتعمل من خلال أجهزتها (المؤتمر / مجلس المحافظين / الأمانة العامة) .

نشاط ١ :-

١ - ما المدينة التي يقع فيها مقر المنظمة ؟

- فينينا .

٢ - ما أسماء الدول الخمس المؤسسة للمنظمة

- قطر ، الإمارات ، الجزائر ، نيجيريا ، أنغولا ، الأكوادور .

٣ - كم عدد الدول الأعضاء حاليا ؟

- ١١ دولة .

- صنف الدول الأعضاء تبعا للقارة التي تنتمي إليها كل دولة حسب الجدول :-

| أمريكا الجنوبية | أفريقيا | آسيا |
|----------------------|------------------------------|---|
| فنزويلا الأكوادور | الجزائر نيجيريا أنغولا | الكويت ، السعودية العراق ، إيران قطر ، الإمارات |

ب - منظمة الأقطار العربية المصدرة للنفط " أوبك "

- أنشأت منظمة الدول العربية المصدرة " أوبك " باتفاقية أبرمت

في عام ١٩٦٨م بين كل من " الكويت والسعودية وليبيا " .

- تم اختيار الكويت مقرا للمنظمة .

- بعد إنشاء المنظمة انجازا مهما ؟ " علل " .

❖ حاجة الدول العربية المنتجة للنفط إلى تعميق التعاون فيما

بينها في مختلف أوجه النشاط الاقتصادي في صناعة النفط .

❖ تأمين وصول النفط إلى الأسواق الاستهلاكية بشروط وأسعار عادلة .

١٣٦

مذكرات المعيد (٩٩٩٩٤٥٣٧ / ٦٦٦٦٣٨٨١)

❖ تسهم تطوير الصناعات البترولية في جميع المجالات وتبادل الخبرات ولها علاقات تعاون مع منظمة الاوبك .

- تعمل اوابك من خلال اجهزتها الثلاثة :- (المجلس الوزاري / المكتب التنفيذي / الامانة العامة)
- اعضاء منظمة اوابك " ١١ دولة " هم :- السعودية / الكويت / قطر / الإمارات / البحرين / العراق / سوريا / مصر / ليبيا / تونس / الجزائر .



١٣٦
* نشاط ٣ :-

- شارك زملاءك في التفكير لإثبات وجود تعاون بين منظمة الأوبك ومنظمة الأوابك .
- وجود دول مشتركة في المنظمتين مثل :- " الكويت / السعودية / الإمارات / قطر / العراق / الجزائر .
- تبادل الخبرات والعلاقات بين المنظمتين .
- المساهمة في تطوير الصناعات البترولية .

مذكرات المعيد
66663881 - 99994537

١٣٧

مذكرات المفيد (٩٩٩٩٤٥٣٧ / ٦٦٦٦٣٨٨١)

رابعاً :- الإنتاج الصناعي

- في المنزل ، في الشارع ، في المدرسة نستخدم أدوات و الآلات متنوعة كلها مصنوعة من خامات متعددة تم تصنيعها كي نستخدمها أو نستهلكها لتسهيل علينا حياتنا .

* نشاط ١ :- استعن بالصور التالية لتحدد الصناعات التي نستخدمها في حياتنا



صناعة الأجهزة



صناعة النقل



صناعة الأثاث

- تتم عملية التصنيع على ثلاث مراحل

| توزيع | تحويل وتصنيع | مواد أولية | مراحل الصناعة |
|---------|--|-------------------------------------|---------------|
| الأسواق | - آلات ومعدات - مواد غذائية - أثاث | - حديد - نحاس - حليب - خشب | |

مذكرات المفيد
66663881 - 99994537



١٤١٦

منكرا المفيد (٩٩٩٩٤٥٣٧ / ٦٦٦٦٣٨٨١)

مذكرات المفيد
٩٩٩٩٤٥٣٧ - ٦٦٦٦٣٨٨١

ب- أنواع الصناعة في الوطن العربي

١- الصناعات الاستخراجية :-

- استخراج مصادر الطاقة :- النفط ، والغاز ، والفحم ، وخامات المعادن والأملاح وغيرها من باطن الأرض وأعدادها لتصبح جاهزة للتصنيع .

• نشاط ١ :- لاحظ الصور ، ثم اكتب نوع الصناعة أسفلها .



صناعة صهر الحديد



صناعة صفائح النحاس



صناعة استخراج النفط

- الصناعات التعدينية :-

- تهدف إلى تنقية الخامات المعدنية وتحويلها إلى صفائح أو سبائك صالحة لتنفيذ صناعات معدنية مختلفة .

• نشاط ٢ :- ناقش معكم في جمع المعلومات التالية :-

١- بماذا ترتبط الصناعات التعدينية ؟

- المواد الخام .

٢- هل توجد في كل البلدان العربية ؟

- لا .


٣- ما أهم الدول العربية في الصناعات التعدينية ؟

- المغرب / مصر / موريتانيا / سوريا / السعودية .

مذكرات المفيد
٩٩٩٩٤٥٣٧ - ٦٦٦٦٣٨٨١

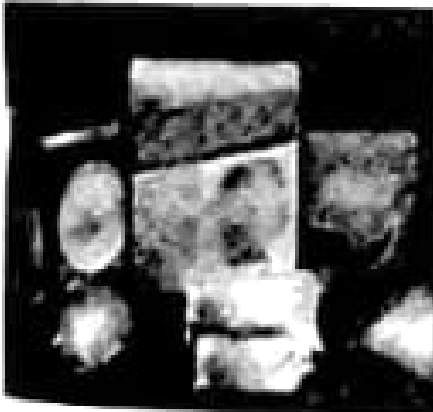


صناعة الحلويات



صناعة الأجران

صناعات تحويلية كيميائية:

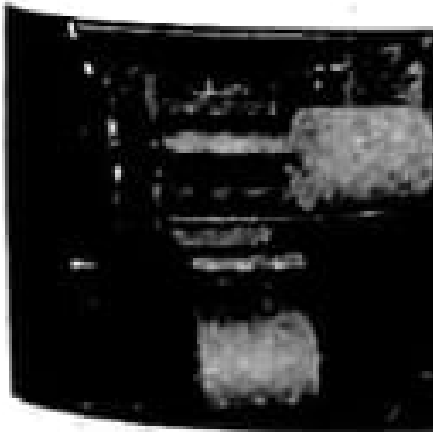


صناعة أدوات التنظيف



صناعة الأصباغ

صناعات تحويلية أخرى:



صناعة الورق



صناعة اللاتكس

١٤٣

مذكرات العفيد (٩٩٩٩٤٥٣٧ / ٦٦٦٦٣٨٨١)

١٤٣

٤ - الصناعات التجميعية :-

- هي عملية تركيب وجمع المواد المصنعة على اختلاف مصادرها كي نحصل على سلع متنوعة .

٥ - الصناعات الحرفية :-

- تعتبر هذه الصناعات الأولى في العالم .

- تستخدم مواد أولية محلية وتعتمد على المجهود البشري .

- تختص بعض العائلات باحتراف بعض منها حيث يتوارث فيها الأبناء الخبرة عن آبائهم .

* نشاط ١ :- أكتب رسالة شكر لأصحاب الصناعات الحرفية :-

- الشكر الموصول لجهودكم ، رغم أن جميع كلمات الشكر لا توفيكم ولو جزءاً بسيطاً من حقكم ، وذلك تقديراً لعطائكم الدائم والمستمر في سبيل رفعة قيمة هذه الحرف البسيطة والقيمة ، والسير بها نحو الأفضل ، وأتمنى لكم مزيداً من الإبداع الموصول .

* نشاط ٢ :- حدد أنواع الصناعات في الصور التالية :-



صناعة البشوت



صناعة السجاد



صناعة الفخار



صناعة الخوص

مذكرات المفيد (٩٩٩٩٤٥٣٧ / ٦٦٦٦٣٨٨١)

١٤٥

مذكرات المفيد
99994537 - 66663881

الصناعات البتر وكيمياوية :-

- يستخرج الوطن العربي كميات كبيرة من النفط والغاز .
- يستخدم قسما كبيرا منها في صناعات بتر وكيمياوية متعددة .
- * نشاط ١ :- هل تستطيع معرفة مشتقات النفط مستعينا بمحطة تعبئة الوقود الموجودة لفرم الكيروسين / الديزل / البنزين / الكبريت .
- * نشاط ٢ :- لاحظ الصور التالية ، ثم اكتشف بعض أنواع الصناعات البتر وكيمياوية



صناعة الاسمنت



صناعة أنابيب البلاستيك



صناعة الأسمدة

مذكرات المفيد
99994537 - 66663881

* أهداف الصناعات البتر وكيميائية :-

- ١ - تنوع مصادر الدخل للدولة المنتجة .
 - ٢ - توفير المواد الأولية للصناعات التحويلية لتأمين حاجات القطاعات الاستهلاكية " خاصة ،
 - ٣ - تطوير الصناعات البتر وكيميائية إلى تقنيات متخصصة وعالية .
- * نشاط ٣ :-

١ - ما الصناعات البتر وكيمياوية التي تقوم عليها الغاز الطبيعي ؟

- صناعة الأسمدة / المواد البلاستيكية / المعطاط الصناعي / المواد المبيدة للحشرات .

٢ - أين تتركز صناعة البتر وكيمياويات في الوطن العربي ؟

- دول الخليج العربي / شمال أفريقيا .

٣ - أذكر بعض الصناعات التحويلية التي تستخدمها في حياتك وترتكز على صناعة البتر وكيمياوية

- صناعة الورق / صناعة العقاقير الطبية / صناعة الصابون / دبغ الجلود .

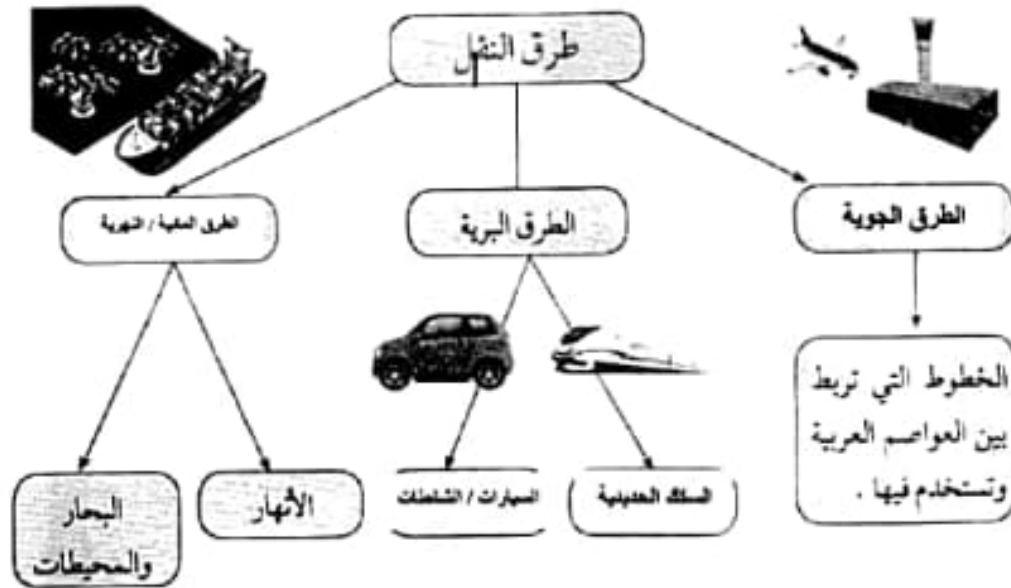
خامسا :- النقل والتبادل التجاري في الوطن العربي

أ / طرق النقل

- تعد وسائل النقل والمواصلات من المقومات الأساسية التي تسهم في استغلال وتنمية الموارد الاقتصادية .
- التبادل التجاري ودرجه نشاطه يعتمد على مدى توافر وسهولة سبل النقل ووسائله الثلاث :- البرية والجوية والبحرية

مذكرات المفيد
99994537 - 66663881

نشاط ١ :- إكمال الخريطة الذهنية لطرق النقل في الوطن العربي :-



نشاط ٢ :- هل سافرت إلى دولة عربية مؤخرا ، صف لنا رحلتك في حدود خمسة أسطر ، موضحا فيها وسيلة النقل التي استخدمتها في الرحلة والطرق التي سلكتها ، مع إبداء رأيك بخدمات النقل التي تقدمها الدولة التي زرتها .

- نعم :- سافرت إلى إحدى الدول العربية حيث كانت الزيارة طيبة وجميلة حيث تنوعت وسائل النقل التي استخدمتها في الرحلة والزيارة ، حيث أن دول الوطن العربي تواكب عصر التكنولوجيا فاهتمت الدول العربية اهتماما كبيرا بتحديث شبكة المواصلات والاتصالات ومدت الجسور والطرق لتطلعاتها المستقبلية .

مذكرات المفيد (٩٩٩٩٤٥٣٧ / ٦٦٦٦٣٨٨١)

١٤٨

١ - طرق النقل البرية :-

- تشمل على طرق السكك الحديدية " القطارات " والسيارات والشاحنات .
- يمتلك الوطن العربي سكك حديدية قليلة منفصلة عن بعضها ، تسهم في نقل البضائع بكفاءة .
- تحتل السيارات والشاحنات أهمية كبرى في البلاد العربية .

١ - ما الدول العربية التي تتوفر لديها سكك حديدية ؟

- مصر / دول المغرب العربي / الشام والعراق / السعودية / السودان .

٢ - ما الطرق المهيمنة لعبور السيارات والشاحنات بين الدول العربية ؟

- طرق بلاد الشام والراشدين / طرق وادي النيل / الطرق العابرة للصحراء بين المتوسط والخليج .

٣ - ما نوع البضائع التي تنقل برا بين دول الوطن العربي ؟

- الفواكه والخضراوات .

٤ - برأيك ما أهمية نقل البضائع بوسائل حديثة ومتطورة ؟

- توفير للوقت " سرعة الوصول " والجهد / ضمان سلامتها والحفاظ عليها .

ب - طرق النقل المائي :-

- تشمل على طرق النقل المائي بواسطة الأنهار وطرق النقل المائي الخارجي في البحار والمحيطات .

١ - النقل النهري :-

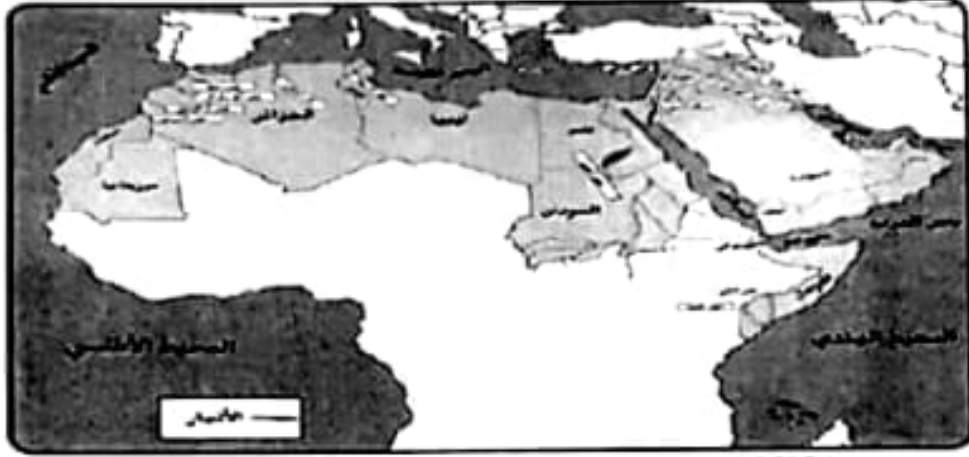
- يقتصر على نهر النيل في مصر والسودان ونهري دجلة والفرات بالعراق .

مذكرات المفيد
99994537-99994537

١٤٩

مذكرات العليد (٦٦٦٦٣٨٨١ / ٩٩٩٩٤٥٣٧)

* نشاط ١ :- ارسم الأنهار السابقة ، و اكتب أسماء الدول التي تقع فيها على الخريطة :-



مذكرات العليد

99994537 - 66663881

١ - النقل البحري :-

. يتمتع الوطن العربي بسواحل ومنافذ بحرية طويلة ساعدت على إنشاء العديد من الموانئ التجارية والنفطية

* نشاط ٢ :- حدد على الخريطة دولة عربية لها سواحل بحرية متعددة :-



مفكرات المفيد (٦٦٦٦٣٨٨١ / ٩٩٩٩٤٥٣٧)

ج - طرق النقل الجوي :-

- برأيك ما مميزات طرق النقل الجوي ؟

- ١ - الأسواق الـ
 - ٢ - الأسواق الـ
 - ٣ - نسبة الصا
- تعتبر من الوسائل السريعة التي ربطت بين الأقطار العربية برحلات جوية من أقصى الغرب إلى أقصى الشرق .
- توفير الوقت .

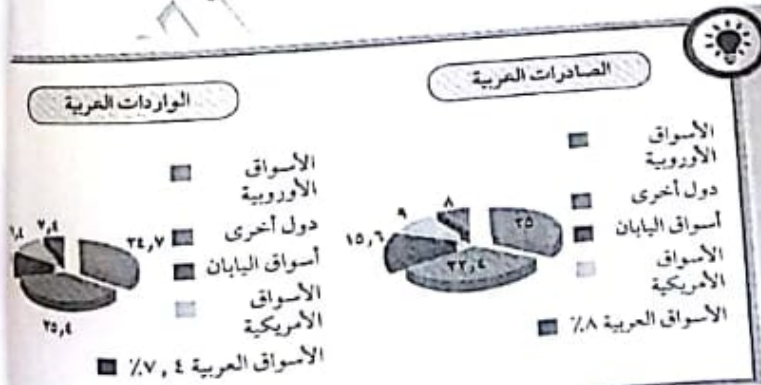
* نشاط ٢

- ❖ التجار
- ❖ الصا:
- ❖ الوار:

مذكرات المفيد
99994537 - 99994537

ب / التبادل التجاري

- يقصد بالتبادل التجاري :- عمليات التصدير والاستيراد بين الدول .
- هنالك علاقات تجارية بين كافة الدول العربية ، حجمها وقيمتها محدودة .
- * نشاط ١ :- ما السلع التي يتم استيرادها أو تصديرها بين الدول العربية ؟
- المواد الغذائية / الأثاث .
- * نشاط ٢ :- لاحظ الرسوم البيانية شكل ٨٩ ، ثم أجب عما يلي :-



شكل (٨٩) الصادرات والواردات العربية

١٥٢

مذكرات المفيد (٩٩٩٩٤٥٣٧ / ٦٦٦٦٣٨٨١)

- ١ - الأسواق التي تحتل المكانة الأولى بالنسبة لتجارة الواردات العربية هي أسواق دول أخرى .
- ٢ - الأسواق التي تحتل المكانة الأولى بالنسبة لتجارة الصادرات العربية هي الأسواق الأوروبية .
- ٣ - نسبة الصادرات بين الدول العربية ٨ % ونسبة الواردات ٧,٤ % .

* نشاط ٢ :- فرق بين المفاهيم التالية :-

مذكرات المفيد

66663881 - 99994537

- ❖ التجارة البينية :- التبادل التجاري بين الدول العربية .
- ❖ الصادرات :- السلع التي تنقل من دولة إلى دولة أخرى .
- ❖ الواردات :- السلع التي تشتريها الدولة من الخارج لمد احتياجتها .

مذكرات المفيد

66663881 - 99994537

مذكرات المفيد (٦٦٦٦٣٨٨١ / ٩٩٩٩٤٥٣٧)

* ثالثاً :- أ / عرف المصطلحات التالية :-

١ - الزراعة التقليدية :- هي الزراعة التي تعتمد على الطرق البدائية .

٢ - الزراعة الحديثة :- هي التي تعتمد على الطرق الحديثة والتكنولوجيا .

ب - اكتب :- تقريراً مختصراً عن أهمية الزراعة في حياتنا .

- تُعتبر الزراعة مصدراً أساسياً للغذاء ، توفير فرص عمل ، تندمج منتجاتها بالصناعة كالقطن وقصب السكر وغيرها ، تُعتبر مصدراً مالياً للعديد من المشروعات ، تعتبر زينة للبيئة المحيطة بالإنسان ، الحد من نسبة التلوث في الهواء ، تنقية الهواء ورفع مستوى الأوكسجين به ، تخفيف درجات الحرارة المرتفعة والرطوبة في الجو ، تخفيف عملية التبخر ، تخفيف تركيز ثاني أكسيد الكربون في الجو ، الحد من انجراف التربة ، تخفيف حدة الرياح ، رفع مدخلات النشاط الصناعي ، يساهم في تحقيق الأمن الغذائي القومي .

ج - كيف يمكن تنمية الثروة السمكية ؟

- تكوين أسطول من السفن الحديثة المتخصصة في صيد الأسماك .

- وجودة الخبرة والكوادر الفنية العاملة .

د - عدد :- الصناعات التي تقوم على المحاصيل الزراعية في الوطن العربي ؟

- الصناعات الغذائية / تعليب الفواكه والخضار .

* رابعاً :- أجب عن الأسئلة التالية :-

١- بماذا يمتاز النفط العربي ؟

- غزارة في الفانض وضخامة في الإنتاج .

- رخص تكاليف الإنتاج .

١٥٤

مفكرات المفيد (٦٦٦٦٣٨٨١ / ٩٩٩٩٤٥٣٧)

- ٢ - ما الدول الأكثر استيرادا للنفط العربي ؟
- الولايات المتحدة الامريكية / الدول الأوروبية / اليابان .
 - ٣ - ما أثر العائدات النفطية على اقتصاد العربي بوجه عام والخليجي بوجه خاص ؟
- زيادة الدخل القومي للدول العربية .
- قيام كثير من الصناعات المرتبطة بالصناعة النفطية .
- توفير فرص عمل .
 - ٤ - ما الفرق بين مفهوم الصادرات ومفهوم الواردات ؟
- الصادرات :- السلع التي تنقل من دولة إلى دولة أخرى .
- الواردات :- السلع التي تشتريها الدولة من الخارج لسد احتياجاتها .
- * خامسا :- علل لما يأتي :-

- ١ - يطلق على الغاز الطبيعي بالطاقة النظيفة ؟
- إذ لا ينتج عن احتراقه ظهور الملوثات التي تنتج عن احتراق المنتجات النفطية لذلك بدأ في استخدامات عديدة .
- ٢ - قلق حجم النقل النهري بالنسبة لباقي وسائل النقل في الوطن العربي .
- قلة الأنهار الموجودة في الوطن العربي / الاعتماد على طرق النقل التقليدية .
- ٣ - السيارات والشاحنات أكثر وسائل طرق النقل البري انتشارا .
- قلة التكاليف / سهولة النقل وتصل إلى أي مكان / سرعة الوصول .
- ٤ - اهتمام الدول العربية بتحديث شبكة المواصلات
- تزايد الوحدة والتجارة وتنشر العمران بين الدول العربية .

مذكرات المفيد
99994537 - 99994537

١٥٥

مفكرات المفيد (٦٦٦٦٣٨٨١ / ٩٩٩٤٥٣٧)

٩٩٩٤٥٣٧ / ٦٦٦٦٣٨٨١
66663881 - 99994537

- ٥ - قلة التبادل التجاري بين دول الوطن العربي .
- العلاقات التجارية بين الدول العربية حجمها قليل و محدود .
- تشابه الإنتاج الزراعي والحيواني والمعدني في كثير من أقطار الوطن العربي .
- ٦ - معظم صادرات دول الخليج العربية من النفط الخام .
- لفة التطور الصناعي / انخفاض المستوى المعيشي للسكان / قلة السكان في بعض الدول .
- سادسا :- أكمل الجدول التالي :-

أسماء الحقول والموانئ النفطية في منطقة الخليج العربية والبحر الأحمر والبحر المتوسط .

| المنطقة | الحقول | الموانئ النفطية |
|---------------|-----------------|---------------------|
| الخليج العربي | برقان / الفوار | الأحمدي / رأس تنورة |
| البحر الأحمر | رأس شقير | ميناء رأس شقير |
| البحر المتوسط | حقل أمال النفطي | السدرة |

سابعاً :- صنف الصناعات حسب أنواعها في الجدول التالي :-

| صناعات استخراجية | صناعات تحويلية |
|---|--|
| استخراج المعادن زجاج قطع الأخشاب صيد الأسماك | تعليب الفواكه والخضار الأثاث أنسجة صوفية اسمنت صهر الحديد الرخام زيوت وبلاستيك |

مذكرات المفيد (٦٦٦٦٣٨٨١ / ٩٩٩٩٤٥٣٧)

ثامنا :- اكتب في الجدول أهم الصناعات القائمة في الدول التالية :-

| الدولة العربية | الصناعات |
|----------------|--|
| الكويت | الصناعات البترولية |
| مصر | المحاصيل الزراعية / القطن / الملابس والمنسوجات / الحديد |
| السعودية | الصناعات البترولية / البتر وكيمياوية / الصناعات الغذائية |
| الأردن | الاسمنت / المواد الغذائية / السماد / دبغ الجلود |
| المغرب | السماد / تكرير البترول / الاسمنت / السكر / تعليب الألبان |
| الجزائر | النقط / النسيج / الاسمنت / مواد البناء / الأسمدة الكيماوية |

- الخلد
- البحر اله
- اقترا-
- تبادل
- التعاون
- إنشاء
* مشرو

* تاسعا :- اكتب اسم الخام المعدني الذي يدخل في تصنيع كل منتج من المنتجات في الجدول

| المنتج الصناعي | الخام المعدني |
|------------------|----------------|
| الأسمدة | البوريا |
| مواد البناء | الاسمنت |
| المبيدات الحشرية | الغازات السامة |

* عاشرا :- استعن بالأطلس المدرسي لحل ما يلي :-

- توجهت باخرة محملة بالنفط من مدينة الظهران بالسعودية إلى مدينة الدار البيضاء في المغرب عن طريق البحر الأحمر .

- ارسم خط سير الباخرة مع ذكر المنافذ البحرية التي يجب أن تمر بها أثناء الرحلة .



أهمية الثر

هي
تعط
تعط
توة
م

١٥٧

مذكرات المفيد (٦٦٦٦٣٨٨١ / ٩٩٩٩٤٥٣٧)

- الخليج العربي / خليج عمان / بحر العرب / خليج عدن / البحر الأحمر / قناة السويس /
البحر المتوسط / مضيق جبل طارق .

١٥٧

- اقتراح :- وسائل لتنمية التجارة بين الدول العربية ؟

- تبادل السلع الموجودة بين الدول العربية بين بعضها البعض بدلا من استيرادها من الدول الأجنبية .

- التعاون الاقتصادي العربي / إلغاء الرسوم الجمركية والقيود على الصناعات المحلية .

- إنشاء منطقة للتجارة الحرة .

* مشروع :- اجمع صوراً عن الثروة الحيوانية في الوطن العربي مع ذكر أهميتها .

مذكرات المفيد
66663881 - 99994537



أهمية الثروة الحيوانية :-

➤ هي مصدر هام للحوم والألبان والأصواف والجلود .

➤ تعد التربة بالأسمدة العضوية اللازمة لخصوبة التربة .

➤ تعد الكثير من الصناعات بالمواد الخام .

➤ توفير فرص العمل .

➤ مصدر رئيسي لدخل الدولة .

مذكرات المفيد
66663881 - 99994537