

تم تحميل هذا الملف من موقع المناهج الكويتية



الملف مراجعة ثانوية الفردوس (الاستعمار والثورة الصناعية)

[موقع المناهج](#) ⇨ [المناهج الكويتية](#) ⇨ [الصف الثاني عشر الأدبي](#) ⇨ [تاريخ](#) ⇨ [الفصل الأول](#)

روابط مواقع التواصل الاجتماعي بحسب الصف الثاني عشر الأدبي



روابط مواد الصف الثاني عشر الأدبي على تلغرام

[الرياضيات](#)

[اللغة الانجليزية](#)

[اللغة العربية](#)

[التربية الاسلامية](#)


المزيد من الملفات بحسب الصف الثاني عشر الأدبي والمادة تاريخ في الفصل الأول

مذكرة الجمعية الكويتية للتاريخ الحديث	1
امتحان نهاية الفترة الدراسية الاولى في مادة التاريخ	2
نموذج احابة اختبار لنهاية الفترة الدراسية الاولى في مادة التاريخ	3
مذكرة سلمان الفارسي في مادة التاريخ	4
مراجعة شاملة في مادة التاريخ	5

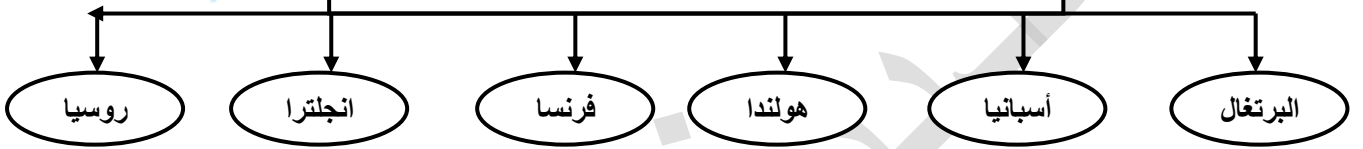
مذكرة مادة تاريخ العالم الحديث والمعاصر للثاني عشر أدبي

الفصل الدراسي الأول

الفصل الثالث (الأستعمار الأوربي)





التنافس الاستعماري بين الدول الأوربية



@@@@ لاحظي خريطة أوروبا التي أمامك ثم :-

- ١- الدولة التي اتجهت في حركة الكشوف الجغرافية جهة الشرق تحمل الحرف ج
- ٢- الدولة التي اتجهت في حركة الكشوف الجغرافية جهة الغرب تحمل الحرف أ
- ٣- الدولة التي اتجهت في حركة الكشوف الجغرافية جهة الشمال الغربي تحمل الحرف د
- ٤- الدولة التي أسست مدينتي "كوبيك" و"مونتريال" في كندا تحمل الحرف ب
- ٥- الدولة التي ضمت إقليم سيبيريا إلى أراضيها تحمل الحرف هـ

الفصل الرابع (الثورة الصناعية)



إعداد رئيسة القسم

عذبية المطيري

الاستعمار الأوربي

إعداد رئيسة القسم : أ. عذبية المطيري

أولا : مفهوم الاستعمار
ثانيا : عوامل قيام النظام الاستعماري الأوربي


@ اقرنى ك.م ص ٥٠/٤٩ :



الاستعمار الأوربي : هو أن تسيطر دولة ما بالاتفاقيات السياسية أو القوة العسكرية أو القوة الاقتصادية أو المال أو التفوق التكنولوجي والعلمي علي دولة او عدة دول

فرقى بين كل من :

الامبريالية	الاستعمار
مرحلة نهائية للرأسمالية تقوم علي التبعية الاقتصادية الكاملة للدولة تنتهي بتبعية سياسية	استغلال دولة قوية لدولة أخرى ضعيفة بهدف السيطرة علي الموارد الاقتصادية أو الانتفاع من القوي العاملة



قارنى بين كل من عوامل قيام النظام الاستعماري الأوربي في المجالات التالية الاقتصادية / الاستراتيجية) :-

العامل الاقتصادي	العامل الاستراتيجي
* رغبة الدول الأوربية في الحصول علي المواد الأولية والأيدي العاملة الرخيصة . * تصريف المنتجات الصناعية الأوربية في أسواق المستعمرات * العمل علي استثمار أموالهم في المستعمرات	* استغلال المواقع الاستراتيجية لإقامة المحطات التجارية والقواعد العسكرية * حماية خطوط المواصلات البحرية . * توفير خدمات للسفن التجارية .

عللي : التسابق الاستعماري حول المستعمرات رغبة الدول الأوربية في الحصول علي المواد الأولية والأيدي العاملة الرخيصة ، وأسواق لتصريف منتجاتها

فرقى بين كل من :-

العامل الاقتصادي لحركة الكشوف الجغرافية	العامل الاقتصادي للاستعمار الأوربي
* البحث عن التوابل * محاولة تخطي الوساطة التجارية الإسلامية . * محاولة الوصول إلي منابع التجارة الآسيوية والأفريقية . * حاجة الأوربيين إلي مزيد من الذهب والفضة .	* رغبة الدول الأوربية في الحصول علي المواد الأولية والأيدي العاملة الرخيصة . * تصريف المنتجات الصناعية الأوربية في أسواق المستعمرات * العمل علي استثمار أموالهم في المستعمرات

اخترى البديل المناسب من بين البدائل التالية :
أي العوامل التالية لم يكن من عوامل الكشوف الجغرافية :
أ- الدعوة للنصرانية
ب- تمدين الشعوب وتطويرها
ج- الحصول علي المواد الأولية
د- السيطرة علي المواقع الاستراتيجية

نفذ المطلوب منك بين القوسين :

قيام النظام الاستعماري الأوربي (العوامل السكانية)
* الثورة الصناعية أدي إلي زيادة عدد السكان في أوربا .
* تحسن الخدمات الطبية ساعد علي زيادة عدد السكان في أوربا
* اتباع سياسة التهجير لأعداد كثيرة من سكان أوربا إلي الأقاليم المستعمرة
* العمل علي تجنيد سكان المستعمرات لصالح القوة العسكرية الاستعمارية

ما أوجه الشبة بين كل من :
الدافع الديني للكشوف الجغرافية / الدافع الديني للاستعمار
* نشر المسيحية في المناطق المكتشفة
* محاولة تطويق العالم الإسلامي
* تقوية الممالك المسيحية

فندي العبارات التالية : (السؤالين نفس الإجابة)

" ادعاء الدول الاستعمارية أنها أقدمت علي الاستعمار لتأخذ بيد الدول المتخلفة في مجال الحضارة والتقدم "
" ادعاء الدول الأوربية الاستعمارية بأنها حين تستعمر الشعوب المتخلفة ترفع من مستواها الفكري والأخلاقي "
العبارة خاطئة لأنها قامت بإرسال الإرساليات التبشيرية لنشر الدين المسيحي وشوه المستعمرين صورة الإسلام الحقيقية وكذلك استغلال المستعمرين للموارد الاقتصادية والانتفاع من القوي العاملة

الاستعمار الأوربي

ثالثا : أشكال الاستعمار

إعداد رئيسة القسم : عذبية المطيري

@ اقرنى الجدول في ك.م ص ٥١ :-

برهنى على صحة العبارة التالية : (الإجابة أي شكل استعماري مع التعريف والمثال)
 " اتبعت الدول الاستعمارية أساليب شتى ومتنوعة خلال سيطرتها على الشعوب الأخرى للتسلط على مقدراتها "
 * الغزو العسكري الاحتلال بالقوة العسكرية مثال احتلال فرنسا الجزائر ، احتلال إنجلترا مصر
 * المعاهدات والاتفاقيات الخاصة عقد معاهدة حماية بين الدول الأوربية (المستعمرة) والدولة الضعيفة مثال حماية فرنسا لكل من تونس


فرقي بين كل من :-

الغزو العسكري	الاستيطان
الاحتلال بالقوة العسكرية	أخطر أشكال الاستعمار يقوم على هجرة السكان من دولة قوية إلى دولة ضعيفة

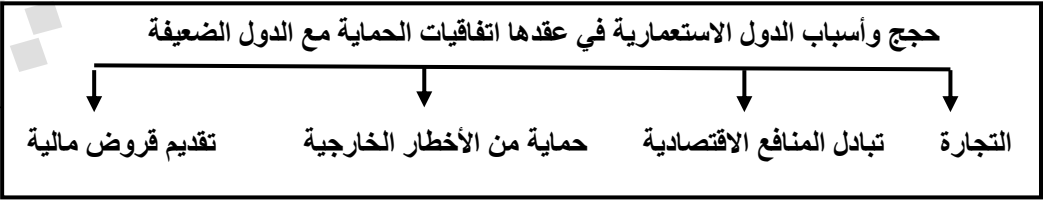


ما أوجه الاختلاف بين كل من :-
الغزو العسكري والاستيطان كشكلين استعماريين
الغزو العسكري الاحتلال بالقوة العسكرية مثال احتلال فرنسا الجزائر ، احتلال إنجلترا مصر
الاستيطان أخطر أشكال الاستعمار يقوم على هجرة السكان من دولة قوية إلى دولة ضعيفة وتملك الأرض بطرد السكان الأصليين مثال هجرة الأوربيين للعالم الجديد وطرد سكانها الهنود الحمر ، هجرة الأوربيين لاستراليا وطرد سكانها الأصليين

على : يعتبر الاستيطان من أقسى أشكال الاستعمار
 الاستيطان أخطر أشكال الاستعمار يقوم على هجرة السكان من دولة قوية إلى دولة ضعيفة وتملك الأرض بطرد السكان الأصليين



- أكملي العبارات التالية بما يناسبها من كلمات :-
- الدولة الاستعمارية التي احتلت الجزائر عام ١٨٣٠م تسمى فرنسا
 - الدولة الاستعمارية التي احتلت مصر عام ١٨٨٢م تسمى إنجلترا
 - الدولة العربية التي وقعت تحت الاستعمار الفرنسي في عام ١٨٣٠م الجزائر
 - الدولة العربية التي وقعت تحت الاستعمار الإنجليزي في عام ١٨٨٢م مصر
 - أخطر أشكال الاستعمار يقوم على هجرة بعض سكان دولة قوية إلى دولة ضعيفة يسمى الاستيطان
 - احتلت فرنسا الجزائر في عام ١٨٣٠م
 - احتلت إنجلترا مصر في عام ١٨٨٢م
 - قارة تعرضت للاستيطان من قبل الأوربيين وطرد سكانها الأصليين تسمى استراليا
 - قارة تعرضت للاستيطان من قبل الأوربيين وطرد سكانها الهنود الحمر تسمى أمريكا



فدى العبارة التالية :-
 ادعاء الدول الاستعمارية أنها عقدت المعاهدات مع الدول الضعيفة بهدف حمايتها من الأخطار الخارجية
 العبارة خاطئة لأن هدف الاستعمار الحقيقي السيطرة على موارد الاقتصادية والانتفاع من القوي العاملة والاستفادة من المواقع الاستراتيجية وأسواق لتصريف منتجاتها

- أكملي العبارات التالية بما يناسبها من كلمات :-
- وقعت فرنسا اتفاقيات الحماية مع كل من تونس و مراكش
 - الدولة الاستعمارية التي وقعت اتفاقيات الحماية مع منطقة الخليج العربي إنجلترا
 - الدولة الاستعمارية التي وقعت اتفاقيات الحماية مع تونس ومراكش فرنسا



المعاهدات والاتفاقيات الخاصة

اعداد رئيسة القسم : عذبية المطيري

قارن حسب الجدول التالي :-

أوجه المقارنة	الانتداب	الوصاية
التعريف	النظام الذي طبق بعد الحرب العالمية الأولى عام ١٩١٩ على المناطق التي كانت تحت الحكم العثماني أو الألماني	النظام الذي طبق بعد الحرب العالمية الثانية عام ١٩٤٥ على المناطق التي كانت تحت النفوذ الألماني أو الإيطالي والياباني
مثال	سوريا ولبنان الانتداب الفرنسي فلسطين و الأردن الانتداب البريطاني	الصومال تحت الوصاية الإيطالية اقليم ناميبيا تحت وصاية جنوب أفريقيا

ما أوجه الاختلاف بين كل من :

الانتداب والوصاية كشكلين استعماريين

الانتداب نظام استعماري طبق بعد الحرب العالمية الأولى عام ١٩١٩ على المناطق التي كانت تحت الحكم العثماني أو الألماني
الوصاية نظام استعماري طبق بعد الحرب العالمية الثانية عام ١٩٤٥ على المناطق التي كانت تحت النفوذ الألماني أو الإيطالي والياباني

فند العبارات التالية : (السوالين نفس الإجابة)

- ١- انتداب الدول الاستعمارية المنتصرة في الحرب العالمية الأولى من قبل عصبة الأمم لإدارة شؤون الأقطار تحت الحكم العثماني أو الألماني بحجة الأخذ بيدها نحو التطور والاستقلال "
 - ٢- انتداب الدول الاستعمارية المنتصرة في الحرب العالمية الأولى من قبل عصبة الأمم لإدارة شؤون الأقطار تحت الحكم العثماني أو الألماني بحجة أنها لا تستطيع ممارسة سيادتها بنفسها "
- العبارة خاطئة لأن هدف الاستعمار الحقيقي السيطرة على لموارد الاقتصادية والانتفاع من القوي العاملة والاستفادة من المواقع الاستراتيجية وأسواق لتصريف منتجاتها

أكمل العبارات التالية بما يناسبها من كلمات :-

- ١- الدولة الاستعمارية التي انتدبت علي سوريا ولبنان سنة ١٩٢٢م تسمى فرنسا
- ٢- الدولة الاستعمارية التي انتدبت علي الاردن وفلسطين سنة ١٩٢٢م تسمى بريطانيا
- ٣- النظام الاستعماري الذي أوجدته عصبة الأمم بعد الحرب العالمية الأولى هو نظام الانتداب
- ٤- النظام الاستعماري الذي أوجدته هيئة الأمم المتحدة بعد الحرب العالمية الثانية هو نظام الوصاية
- ٥- اقليم وضعته الأمم المتحدة تحت وصاية جنوب أفريقيا يسمى ناميبيا
- ٦- دولة وضعتها الأمم المتحدة تحت الوصاية الإيطالية تسمى الصومال

اختر البديل المناسب من بين البدائل التي تلي كل عبارة مما يلي :-

- ١- الدول الأوربية التي طبقت نظام الانتداب علي سوريا ولبنان عام ١٩٢٠ هي :
أ- بريطانيا ب- فرنسا ج- إيطاليا د- اسبانيا
- ٢- النظام الذي طبق بعد الحرب العالمية الأولى عام ١٩١٩ على المناطق التي كانت تحت الحكم العثماني أو الألماني هو نظام :
أ- الانتداب ب- الوصاية ج- الحماية د- الأحلاف العسكرية
- ٣- النظام الذي طبق بعد الحرب العالمية الثانية عام ١٩٤٥ على المناطق التي كانت تحت النفوذ الألماني أو الإيطالي والياباني هو نظام :
أ- الانتداب ب- الوصاية ج- الحماية د- الأحلاف العسكرية

لاحظ الخريطة في ك.م ص ٥٢ ثم نفذ المطلوب :

حددي القارة التي تعرضت للسيطرة الاستعمارية بصورة فاقت كل قارات العالم ثم فسري ذلك .

القارة : أفريقيا

التفسير : بسبب الثروات الطبيعية (البترول والغاز الطبيعي / الذهب / الزراعة / المعادن وغيرها) والقوي العاملة والموقع الاستراتيجي

اكتب مثالين لما يلي :- صور من أشكال الاستعمار في فلسطين

- * الاستيطان الصهيوني لفلسطين
- *- الانتداب البريطاني لفلسطين
- *- ممارسات الصهاينة في فلسطين (التمييز العنصري)

التفويض من المنظمات الدولية



عرف التمييز العنصري ؟

أسلوب استعماري قائم علي التفرقة بين الناس بسبب اللون أو الجنس أو الدين حيث مارست فيه ألوان من القهر والاستبعاد
مثال : جنوب افريقيا / فلسطين ممارسات الصهاينة



صمم بطاقة شخصية الفونسودي البوكيرك
من حيث : الاسم / الجنسية / المهنة /
أهم الأعمال

الاسم	الفونس ودي البوكيرك
الجنسية	برتغالي
المهنة	بحار
أهم الأعمال	احتل جزيرة سوقطرة عام ١٥٠٦ م ومسقط ثم هرمز ١٥٠٧ م



علل : عقد معاهدة تجارية بين
البرتغاليين وحاكم الهند الزامرين (سيد
البحار) عام ١٤٨٩ م
* - انتزاع تجارة الشرق من أيدي
المسلمين

اختر من الشخصيات طبقا للجدول الذي يليها :
البوكيرك / فاسكو دي جاما /
الزامرين (سيد البحار) / فيليب الثاني

الشخصية	العمل
فاسكو دي جاما	الوصول إلى كلكتا في الهند
البوكيرك	احتلال جزيرة سوقطرة
الزامرين	عقد معاهدة تجارية مع البرتغال
فيليب الثاني	ضمت في عهد البرتغال للتاج الأسباني

* - علل : انهيار الامبراطورية البرتغالية في الشرق
* - برهن على صحة العبارة : " انهارت الإمبراطورية البرتغالية
في أواخر القرن ١٦م"
١ - سوء إدارة المستعمرات وانتشار الرشوة .
٢ - قسوة البرتغاليين في معاملة السكان الأصليين وإجبارهم علي
اعتناق المسيحية .
٣ - نائب الملك في جوا يقوم بابتزاز الأموال وعدم الاعتراف في
المستعمرة .
٤ - منافسة الهولنديين والانجليز للبرتغاليين في مجال الاستعمار .
٥ - فقدت البرتغال استقلالها كدولة وضمت للتاج الأسباني في عهد
الملك فيليب الثاني .

* - اكتب أربعة أسباب للحدث التاريخي التالي :
" تأسيس الإمبراطورية البرتغالية واحتكار تجارة الشرق "
* - ما تفسيرك : احتكار البرتغاليين لتجارة الشرق وتأسيسهم
لإمبراطوريتهم
* - نفذي المطلوب منك بين القوسين :-
احتكار البرتغال تجارة الشرق (العوامل)
١ - انشغال الدولة العثمانية بحربها مع الصفويين .
٢ - عدم توحيد القوى الإسلامية الكبرى (الدولة العثمانية-الصفوية-
المملوكية)
٣ - تفكك بلاد الهند .
٤ - استخدام البرتغاليون قوة السلاح والبارود والأساطيل الضخمة

* - اختر الإجابة الصحيحة من بين البدائل التي تلي :
كل عبارة مما يلي :-

١ - أول شعب أسس امبراطورية استعمارية فيما وراء البحار :
أ- الهولنديون
ب- الفرنسيون
ج- البرتغاليون
د- الانجليز

٢ - الترتيب الزمني الصحيح لاستعمار الوطن العربي :

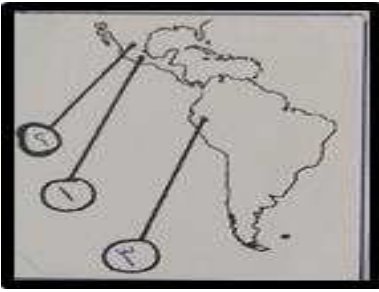
أ- الجزائر - سوقطرة - هرمز - مصر
ب- سوقطرة - الجزائر - هرمز - مصر
ج- الجزائر - مصر - سوقطرة - هرمز
د- سوقطرة - هرمز - الجزائر - مصر

* - أكمل العبارات التالية بما يناسبها من كلمات :

١ - حاكم الهند الذي عقد معاهدة تجارية مع البرتغاليين عام
١٤٩٨ م اسمة الزامرين
٢ - اللقب الذي لقب به حاكم الهند الزامرين سيد البحار
٣ - احتل جزيرة سوقطرة عام ١٥٠٦ م بحار يسمى البوكيرك
٤ - البحار البرتغالي الذي احتل جزيرة سوقطرة عام ١٥٠٦ م
يسمى الفونسودي البوكيرك
٥ - المنطقة التي تعتبر عاصمة الممتلكات البرتغالية في الشرق
تسمى جوا
٦ - المدينة العربية التي فشل البرتغاليين في الاستيلاء عليها
عام ١٥١٠ م تسمى عدن
٧ - ضمت البرتغال إلى التاج الأسباني في عام ١٥٨٠
٨ - ضمت البرتغال إلى التاج الأسباني في عهد الملك فيليب الثاني
٩ - فقدت البرتغال استقلالها كدولة وضمت للتاج الأسباني لمدة
٦٠ عاما

رتب المناطق التي احتلها البرتغاليين من الأقدم إلي الأحدث :

مسقط / كلكتا / جوا / البرازيل / هرمز / الصين / سوقطرة
كلكتا - البرازيل - سوقطرة - مسقط - هرمز - جوا
١٨٤٩ م ١٥٠٠ م ١٥٠٦ م ١٥٠٧ م ١٥١٦ م



الاستعمار الأسباني إعداد رئيسة القسم : عذبية المطيري

@ اقرأ ك.م ص ٥٤ ثم :-

(الأسبان هم ثاني الشعوب الأوروبية التي قامت بتأسيس إمبراطورية استعمارية فيما وراء البحار)

الحضارات الأصيلة التي وجدها الأسبان في المناطق المكتشفة

الحضارة الأنكا
المكان بيرو

الحضارة الأزتك
المكان المكسيك

الحضارة الماياس
المكان جنوب المكسيك

علل : ضعف القوة البحرية الأسبانية في الربع الأخير من القرن السادس عشر ميلادي تحطم الأسطول الأسباني (الأرمادا) علي يد الإنجليز عام ١٥٨٨

*-علل : أصبحت معظم قارة أمريكا الجنوبية تحت سيطرة الأسبان ما عدا البرازيل
*-عللي : عدم سيطرة أسبانيا علي البرازيل
*-لأنها مستعمرة من قبل البرتغال من ١٥٠٠م



أهم مكاسب أسبانيا من المستعمرات

١-تدفق المعادن الثمينة علي أسبانيا
٢- الاستعاضة بالزنج من افريقيا للعمل في المناجم والمزارع .

أهم أعمال أسبانيا في المستعمرات
*- التبشير بالدين المسيحي .
*- فتح الجامعات .
*- الإبادة للشعوب الأصيلة .
*- الاستعاضة عنهم بالزنج من أفريقيا للعمل في المناجم والمزارع.

أكمل العبارات التالية بما يناسبها من كلمات :

- ١- منطقة اتخذها الأسبان مقراً لهم في جزر الهند الغربية والأمريكتين وجزر الأنتيل **كوبا**
- ٢- منطقة اهتم الأسبان فيها بالبحث عن الذهب والفضة **جزر الأنتيل**
- ٣- تحطم الأسطول الاسباني (الأرمادا) في عام ١٥٨٨
- ٤- الدولة التي قامت بتحطم الأسطول الاسباني (الأرمادا) عام ١٥٨٨ م **الإنجليز**
- ٥- الدولة التي قامت بتحطم الأسطول الاسباني (الأرمادا) عام ١٦٠٧ م **الهولنديين**
- ٦- استمر الاستعمار الأسباني في أمريكا الجنوبية لمدة **ثلاثة قرون**
- ٧- اصطلاح أطلق على الأسطول الأسباني **الأرمادا**
- ٨- الأسطول الأسباني الذي تحطم علي يد الإنجليز اسمة **الأرمادا**



@ لاحظ الصور التي أمامك ثم : ما النتائج المترتبة علي : الاستعمار الأسباني

١* - التبشير بالدين المسيحي ٢* - فتح الجامعات ٣* - سياسة الأسبان القاسية في معاملة السكان

٤* - الإبادة للشعوب الأصيلة الاستعاضة عنهم بالزنج من أفريقيا للعمل في المناجم والمزارع.

@ اقرأ الفقرة الأخيرة في ك.م ص ٥٣ والفقرة الثانية في ك.م ص ٥٤ ثم فرق حسب الجدول التالي :

أسباب انهيار الامبراطورية الأسبانية	أسباب انهيار الامبراطورية البرتغالية
١- استبداد الأسبان والمعاملة السيئة للشعوب الأصيلة .	١- سوء إدارة المستعمرات وانتشار الرشوة .
٢- استغلال المستعمرات لمصلحة أسبانيا والملك .	٢- قسوة البرتغاليين في معاملة السكان الأصليين وإجبارهم علي اعتناق المسيحية .
٣- تدفق الثروات علي الأسبان حرص قراصنة الإنجليز والهولنديين والفرنسيين علي السطو علي السفن الأسبانية .	٣- نائب الملك في جوا يقوم بابتزاز الأموال وعدم الاعتناء في المستعمرة .
٤- تحطم الأسطول الأسباني (الأرمادا) علي يد الإنجليز عام ١٥٨٨ مما أدى إلي ضعف القوة البحرية الأسبانية .	٤- منافسة الهولنديين والإنجليز للبرتغاليين في مجال الاستعمار .
	٥- فقدت البرتغال استقلالها كدولة وضمت للنتاج الأسباني في عهد الملك فيليب الثاني .

ما النتائج المترتبة على :

أ- اعتناق الهولنديين المذهب البروتستانتي بعد حركة الإصلاح الديني
* تعرضوا للاضطهاد مما أدى إلى قيامهم بالثورة ضد الحكم الأسباني، واستقلال هولندا عام ١٥٧٩.

ب- النشاط الهولندي البحري
* استطاع الهولنديين تدمير الأسطول الأسباني الأرمادا ١٦٠٧ م
* ضمت جميع الشركات فيما وراء البحار في شركة الهند الشرقية الهولندية عام ١٦٠٢ م
* هاجموا المستعمرات البرتغالية في الهند وسيلان
* احتكروا تجارة القرفة .
* أنشأوا العديد من المحطات علي الساحل الغربي للهند .

اكتب عن جهود الهولنديين في تأسيس إمبراطوريتهم في بداية القرن ١٦ قيام الهولنديين بالثورة ضد الحكم الأسباني، واستقلال هولندا عام ١٥٧٩، استطاع الهولنديين تدمير الأسطول الأسباني الأرمادا ١٦٠٧ م ، ضمت جميع الشركات فيما وراء البحار في شركة الهند الشرقية الهولندية عام ١٦٠٢ م ، هاجموا المستعمرات البرتغالية في الهند وسيلان ، احتكروا تجارة القرفة ، أنشأوا العديد من المحطات علي الساحل الغربي للهند ، نقلوا البن من مخا إلي أوربا ، تمكنوا من التجارة داخل الخليج العربي ، أنشاء محطة لهم في بندر عباس ورأس الرجاء الصالح

علل: قيام الهولنديين بالثورة ضد الحكم الأسباني
علل: ثورة الهولنديين ضد الحكم الأسباني في القرن ١٦ تعرضهم للاضطهاد علي يد الأسبان بعد اعتناقهم المذهب البروتستانتي مع ظهور حركة الإصلاح الديني .

ما تفسيرك لما يلي :

أ- أنشاء الهولنديين محطة تجارية لهم في رأس الرجاء الصالح
* لتزويد سفنهم بالماء والوقود .

ب- انهيار الإمبراطورية الهولندية في القرن السابع عشر الميلادي
* الهولنديين أمة صغيرة غير قادرة علي حماية الإمبراطورية التي تم تأسيسها .
* كان اعتمادهم الأول علي التجارة مما أدى لاهمال الزراعة والصناعة .
* سياستهم الإستبدادية في المستعمرات .
* منافسة الدول الأوروبية الجديدة لها مثل إنجلترا وفرنسا .

اقرأ العبارات التالية بدقة ثم ضعي الحرف المناسب لكل منها

- ١- الحرف (أ) إذا كانت العبارة تخص البرتغال
- ٢- الحرف (ب) إذا كانت العبارة تخص اسبانيا
- ٣- الحرف (ج) إذا كانت العبارة تخص هولندا

م	العبارات	الحرف المناسب
١	تحطم اسطولها أرمادا عام ١٥٨٨ علي يد الانجليز	ب
٢	عقدت معاهدة تجارية مع حاكم الهند الزامرين عام ١٤٩٨	أ
٣	هاجمت المستعمرات البرتغالية في الهند وسيلان	ج

أكمل العبارات التالية بما يناسبها من كلمات :

- ١- ورثت الإمبراطورية الأسبانية في القرن ١٦ عرش دولة أوروبية تسمى **هولندا**
- ٢- استقلت هولندا عن الحكم الأسباني في عام ١٥٧٩ م
- ٣- الشركة التي أسسها الهولنديون في الهند عام ١٦٠٢ تسمى **شركة الهند الشرقية الهولندية**
- ٤- المدينة التي نزل بها الهولنديون ونقلوا منها البن إلى أوروبا عام ١٦١٦ م **مخا**
- ٥- مدينة عربية نزل بها الهولنديون ونقلوا منها البن إلي أوروبا عام ١٦١٦ م اسمها **مخا**

@اقرأ ك.م. الفقرة الثانية ص ٤٥ والفقرة الثانية ص ٥٥ ثم :

*- فرق طبقا للجدول التالي :

عوامل انهيار الامبراطورية الهولندية	عوامل انهيار الامبراطورية الأسبانية
١- الهولنديين أمة صغيرة غير قادرة علي حماية الامبراطورية	١- استبداد الأسبان والمعاملة السيئة للشعوب الأصلية .
٢- كان اعتمادهم الأول علي التجارة مما أدى لإهمال قطاعي الزراعة والصناعة .	٢- استغلال المستعمرات لمصلحة أسبانيا والملك .
٣- سياستهم الاستبدادية في المستعمرات .	٣- تدفق الثروات علي الأسبان حرص قراصنة الانجليز والهولنديين والفرنسيين علي السطو علي السفن الأسبانية .
٤- منافسة الدول الأوروبية الجديدة لها مثل إنجلترا وفرنسا .	٤- تحطم الأسطول الأسباني (الأرمادا) علي يد الإنجليز عام ١٥٨٨ مما أدى إلي ضعف القوة البحرية الأسبانية .

@ قارن بين كل مما يلي حسب الجدول التالي :

أوجه المقارنة	انهيار الامبراطورية الأسبانية	انهيار الامبراطورية الهولندية
الشبة	١ - سياسة الاستبداد في المستعمرات . ٢ - منافسة الانجليز لهم .	
الاختلاف	- استغلال المستعمرات لمصلحة أسبانيا والملك . - تدفق الثروات علي الأسبان حرص قراصنة الانجليز والهولنديين والفرنسيين علي السطو علي السفن الأسبانية	١- الهولنديين أمة صغيرة غير قادرة علي حماية الامبراطورية ٢- كان اعتمادهم الأول علي التجارة مما أدى لإهمال قطاعي الزراعة والصناعة .

اختر الإجابة الصحيحة من بين البدائل التي تلي كل عبارة مما يلي :-

١- استقلت هولندا عام ١٥٧٩م من الحكم :

ب- البرتغالي

أ- الأسباني

د- الفرنسي

ج- الإنجليزي

٢- محطة كانت بداية الصراع بين الهولنديين والإنجليز :

ب- رأس الرجاء الصالح

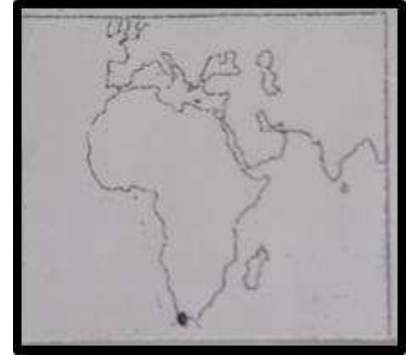
أ- بندر عباس

د- كلكتا

ج- جوا

اختر من البدلين ما يناسب كل سؤال مما يلي :

السؤال	أ	ب
الإمبراطور الأسباني الذي سمح للهولنديين بالتجارة في المستعمرات الأسبانية في أمريكا	<u>شارل الخامس</u>	فيليب الثاني
اعتنق الهولنديين مع ظهور حركة الإصلاح الديني مذهب مسيحي	الكاثوليك	<u>البروتستانت</u>
احتكر الهولنديين تجارة	<u>القرفة</u>	الذهب
المورد الزراعي الذي نقله الهولنديين من مخا باليمن إلي أوروبا	القطن	<u>البن</u>
الخريطة تمثل محطة أنشأها الهولنديين تسمى	<u>رأس الرجاء الصالح</u>	بندر عباس



علل : نجاح الفرنسيون في السيطرة علي الهند
* - اضمحلال النفوذ الهولندي .
* - انقسام الهند السياسي .

- أذكر أهم المناطق التي استعمرها الفرنسيون في الهند ؟
بونديشيري / شندرناجور / سورات / كاليكوت
أقليم الكرناتك

اذكر أسباب انهيار الاستعمار الفرنسي
بسبب هزيمتها في حرب السنين السبع
وخسارتها مستعمراتها في كل من الهند
وأمریکا الشمالية .
وتعرضها لأزمة مالية طاحنة .

أكمل العبارات التالية بما يناسبها من كلمات :

* - بدأ التوسع الاستعماري الفرنسي في القرن السادس عشر علي جبهتين في **أمريكا الشمالية و الهند**
* - الملك الفرنسي الذي شجع قيام شركة الهند الشرقية الفرنسية عام ١٦٦٤م اسمه **لويس الرابع عشر**
* - الاستعمار الفرنسي كان مجاورا للاستعمار **الانجليزي**
* - تأسست شركة الهند الشرقية الفرنسية عام **١٦٦٤**
* - حرب قامت بين إنجلترا وفرنسا بين عامي (١٧٥٦ - ١٧٦٣ م)
حرب السنين السبع
* - الحرب التي حسمت الأمر بين الانجليز والفرنسيين في عام ١٧٥٦م
حرب السنين السبع

أمامك حرب خاضتها فرنسا في القرن ١٨م بين ابعادها من خلال الجدول التالي :

الحرب	الأطراف	السنة	سبب التسمية	الأسباب	النتائج
حرب السنين السبع	فرنسا إنجلترا	١٧٥٦-١٧٦٣	لأنها استمرت سبع سنوات	- التنافس الاستعماري بين فرنسا وإنجلترا - الاستعمار الفرنسي كان مجاورا للاستعمار الإنجليزي مما أدي للصدام المستمر بينهما	- انفردت إنجلترا بكل من الهند وأمريكا الشمالية علي حساب فرنسا - هزيمة فرنسا وخسارتها مستعمراتها في كل من الهند وأمريكا الشمالية .

اختر الإجابة الصحيحة من بين البدائل التي تلي كل عبارة مما يلي :-

١- الفترة الزمنية التي تمثلت حرب السنين السبع علي المخطط الزمني التالي يمثلها الحرف :

(أ)	(ب)	(ج)	(د)
١٧٤٢م	١٧٤٩م	١٧٥٦م	١٧٧٠م

٢- اثنين من الدوائر التي علي الخريطة التالية تمثل دولتان حدثت بينهما حرب السنين السبع هما:

أ-(٢-١) ب-(٣-٢) ج-(٤-٣) د-(٤-١)



أكمل العبارات التالية بما يناسبها من كلمات :

أول ميناء أبحر منه الإنجليز نحو إفريقيا الغربية القرن ١٦ م

بريستول

- الملاح الإنجليزي الذي تم تكليفه بالإبحار نحو العالم الجديد

جون كابوت

- المنطقة التي وصل إليها جون كابوت في العالم الجديد شبه

جزيرة ليرادور

- الملكة الإنجليزية التي تم في عهدها تأسيس مستعمرة فرجينيا

اليزابيث

- أول مستعمرة إنجليزية تم تأسيسها في العالم الجديد فرجينيا

- ملكة تأسست في عهدها أول مستعمرة إنجليزية في أمريكا

الشمالية اليزابيث

- أول مستعمرة إنجليزية في أمريكا الشمالية فرجينيا

- أنشأت أول مستعمرة إنجليزية في أمريكا الشمالية في عام

١٦٠٧م

- تأسست المستعمرات الإنجليزية على الساحل الشرقي لأمريكا

الشمالية

- عدد المستعمرات الإنجليزية في أمريكا الشمالية ١٣

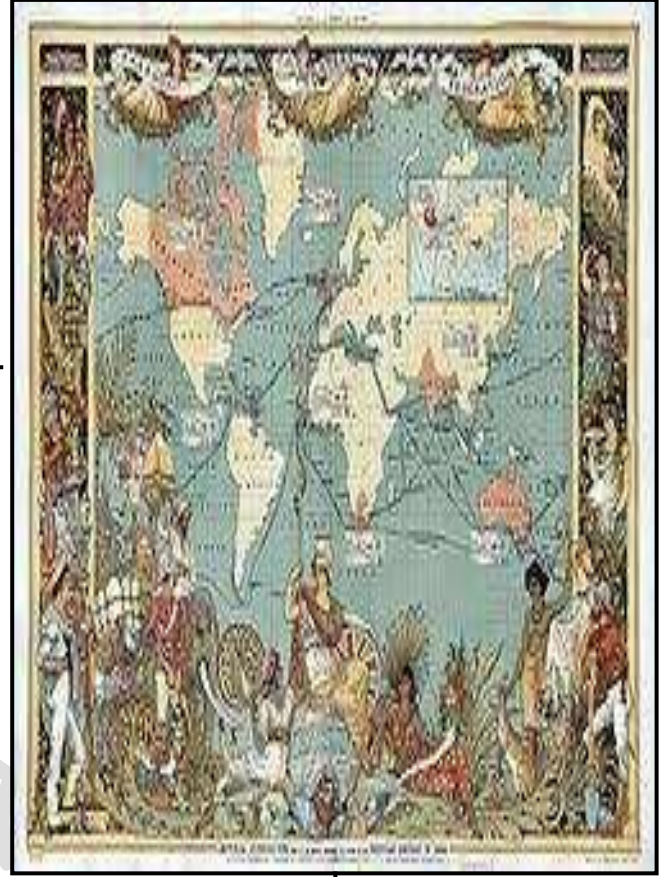
- منطقتان نزل بهن الإنجليز في أمريكا الوسطى هندوراس و

جامايكا

- ركز الإنجليز اهتمامهم على الهند نظراً لثرواتها الاقتصادية


- أسس الإنجليز مراكز في سوريات في عام ١٦١٢م

- أسس الإنجليز مراكز لهم في الهند في سوريات و مدراس



اختر من البديلين ما يناسب كل سؤال مما يلي :

م	السؤال	أ	ب
١	يمثل الحرف (أ) على الخريطة مستعمرة إنجليزية تسمى	نيويورك	<u>فرجينيا</u>
٢	العمود (ب) في الرسم البياني يشير إلى عدد المستعمرات	<u>الإنجليزية</u>	الفرنسية



أكمل العبارات التالية بما يناسبها من كلمات :

- ١- بسط الروس في القرن ١٦م نفوذهم على معظم الأراضي التي تقع إلى الشرق من جبال تسمى الأورال
- ٢- التجارة التي عمل بها الروس بعد اخضاع سيبيريا عام ١٥٧٨م الفراء
- ٣- عمل الروس بتجارة الفراء عام ١٥٧٨م
- ٤- دولة استعمارية تمكنت من اخضاع سيبيريا والعمل في تجارة الفراء اسمها روسيا



أوجد العلاقة بين الكلمات المساعدة التالية في تكوين فقرة مترابطة عن الاستعمار الروسي في حدود ثلاثة أسطر
(الروس / جبال أورال / سيبيريا / الفراء / الصين)

*- اخترق الروس قارة آسيا من الوسط حتى وصلوا إلى المحيط الهادي شرقا في القرن السادس عشر ميلادي

فبسطوا نفوذهم على معظم الأراضي التي تقع إلى الشرق من جبال أورال وتمكنوا من اخضاع سيبيريا

والعمل في تجارة الفراء حتى وصلوا أطراف الصين من جهة الشمال الشرقي



صنف الكلمات التالية حسب المطلوب منك في الجدول التالي :

التوابل/ الذهب / الفضة / السكر / القهوة / الشاي / الكاكاو / التبغ / القطن / نباتات الصباغة

حاجات الأوربيين الجديدة بعد الاستعمار	حاجات الأوربيين القديمة في حركة الكشف الجغرافية
السكر / القهوة / الشاي / الكاكاو / التبغ / القطن / نباتات الصباغة	التوابل/ الذهب / الفضة

فرق بين كل من :

متطلبات الاستعمار الجديدة	متطلبات الاستعمار القديمة
السكر / القهوة / الشاي / الكاكاو / التبغ / القطن / نباتات الصباغة	التوابل/ الذهب / الفضة

- أكمل المطلوب منك في الجدول التالي عن (الميثاق الاستعماري) :

الاسم	الميثاق الاستعماري
التعريف	أن المستعمرة يجب عليها ألا تتاجر مع أي دولة إلا البلد المستعمر حيث تدخر له المحاصيل وألا تنشئ صناعات منافسة لها، وأن تؤمن للمستعمر ما هو ضروري للصناعة كما يفرض النظام علي المستعمرات البيع بسعر رخيص
البنود / الشروط	*- أن المستعمرة يجب عليها ألا تتاجر مع أي دولة إلا البلد المستعمر *- تدخر للبلد المستعمر المحاصيل وألا تنشئ صناعات منافسة لها *- وأن تؤمن للمستعمر ما هو ضروري للصناعة *- يفرض النظام علي المستعمرات البيع بسعر رخيص

الميثاق الاستعماري

فند العبارة التالية :

اقتصرت آثار الاستعمار علي الجانب السلبي فقط بالنسبة للمستعمرات .

العبارة خاطئة : نفس الإجابة

الآثار الإيجابية

١- يرهن على أن للاستعمار آثار سلبية وأخرى ايجابية علي المستعمرات .

١- قارن بين آثار الاستعمار الأوربي في المستعمرات طبقا للجدول التالي :

الآثار السلبية	الآثار الإيجابية
*- الزموا المستعمرات بإنتاج المواد الخام وشراء معظم السلع المصنعة من الدول الحاكمة . *- حطم المستعمرون الأنشطة التجارية والصناعية في المستعمرات . *- فقدت المستعمرات القدرة علي التحكم في مقدراتها الاقتصادية . *- فرض ثقافتهم علي الشعوب المستعمرة .	*- حقق المستعمرون شيئا من التنمية الاقتصادية للمستعمرات . *- ادخلوا إليها طرق الزراعة والصناعة والعلوم الطبية الغربية . *- ربط المستعمرات بالنظام الاقتصادي الدولي . *- أدخلت النظام الديمقراطي في الحكم .


٢- ما يحدث لو: استمر الاستعمار الأوربي (أي اجابة منطقية يطرحها الطالب صحيحه)

*- لما حصلت الدول العربية علي استقلالها

*- لظلت الدول المستعمرة تفقد القدرة علي التحكم في مقدراتها الاقتصادية .

*- لظلت الدول الاستعمارية تلزم المستعمرات بإنتاج المواد الخام وشراء معظم السلع المصنعة من الدول الحاكمة .

@اقرأ ك.م ص ٦٢/٦١ ثم : أكمل : المحور الأساسي للدخل القومي في أوروبا قبل الثورة الصناعية يسمى الزراعة



اكتب سطرين فيما يلي :

" شكل الاقتصاد في أوروبا قبل الثورة الصناعية "

كانت الزراعة هي المحور الرئيسي للدخل القومي لمعظم دول أوروبا، حيث كان غالبية السكان معتمدين بالدرجة الأولى على طاقتهم العضلية، وكانت الحركة التجارية محدودة ومفككة حيث تفتقر إلي وسائل مواصلات تربطها .

قارن حسب المطلوب منك في الجدول التالي :

الاقتصاد في أوروبا قبل الثورة الصناعية	الاقتصاد في أوروبا بعد الثورة الصناعية	وجه المقارنة
الزراعة	الصناعة والتجارة	الاقتصاد (الدخل القومي)
قوة الإنسان العضلية	الآلات	الطاقة المستخدمة
تلبية حاجات الإنسان الضرورية	تلبية الحاجات الضرورية والكمالية وتأمين حياة أكثر رخاء	الهدف
وسائل المواصلات	وسائل المواصلات	وسائل المواصلات

ما أوجه الاختلاف بين كل من : الاقتصاد الأوربي قبل وبعد الثورة الصناعية .

- الاقتصاد الأوربي قبل الثورة الصناعية : كانت الزراعة هي المحور الرئيسي للدخل القومي لمعظم دول أوروبا، حيث كان غالبية السكان معتمدين بالدرجة الأولى على طاقتهم العضلية، وكانت الحركة التجارية محدودة ومفككة حيث تفتقر إلي وسائل مواصلات تربطها
- الاقتصاد الأوربي بعد الثورة الصناعية : أصبحت الصناعة المحور الأساسي للاقتصاد الأوربي وقد أقيمت المصانع الكبيرة التي تعتمد على الآلة وظهور البنوك والوكالات التجارية ومراكز التسوق كما ظهرت المدن الصناعية وساد النظام الرأسمالي وارتفع الدخل القومي واتساع النشاط التجاري العالمي

عرف الثورة الصناعية : عملية تغيير شامل في أدوات الإنتاج ووسائله وحجمه وعلاقاته ومستواه وتبدل كامل في أساليب التمويل والتسويق والتوزيع .

اختر من المجموعة (أ) ما يناسبها من المجموعة (ب) لكل مما يلي :

م	المجموعة (أ)	م	المجموعة (ب)
١	وسيلة المستخدمة في عملية الإنتاج	٢	انتاج
٢	استخدام الأدوات والوسائل المناسبة لظهور السلع والبضائع	١	أداة
٣	الأموال والموارد الاقتصادية المستخدمة في الإنتاج	٣	تمويل
٤	الطرق المستخدمة لفتح أسواق جديدة للسلع والمنتجات	٥	توزيع
٥	الوسائل التي يتم خلالها نشر السلع والموارد	٤	تسويق

اكتب المدلول المناسب بين القوسين لكل عبارة مما يلي :

- ١- (إيطاليا) الدولة الأوربية التي انطلقت منها النهضة الأوربية
- ٢- (إنجلترا) الدولة الأوربية التي انطلقت منها شرارة الثورة الصناعية
- ٣- (البرتغال) الدولة الأوربية التي انطلقت منها أول رحلة للكشوف الجغرافية
- ٤- (الثورة الصناعية) عملية تغيير شامل في أدوات الإنتاج ووسائله وحجمه ومستواه وتبدل كامل في أساليب التمويل والتسويق والتوزيع

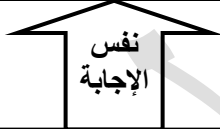


ماتفسيرك : كان لكل من إنجلترا وإيطاليا دورا في أحداث تغيير في القارة الأوروبية أن إيطاليا الدولة الأوروبية التي انطلقت منها النهضة الأوروبية فقد لعبت دور الوسيط التجاري بين موانئ البحر المتوسط أدى إلى تحقيق المكاسب الاقتصادية التي ساهمت في إحداث النهضة ، فقد نقلت أوروبا من ظلمات العصور الوسطى إلى الآفاق المضيئة للعصور الحديثة كذلك إنجلترا انطلقت منها شرارة الثورة الصناعية لعدة عوامل منها وفرة رأس المال ووجود القوي المحركة وغيرها فقد نقلت أوروبا من مجتمع ريفي زراعي إلى مجتمع حضري صناعي .

فند العبارة التالية : لم تملك إنجلترا أي مقومات لقيام الثورة الصناعية العبارة خاطئة / إنجلترا الدولة الأوروبية التي انطلقت منها شرارة الثورة الصناعية لامتلاكها عدة مقومات منها وفرة رأس المال ووجود القوي المحركة وتوفر الأيدي العاملة الرخيصة ووجود أطول تجاري كبير والاستقرار الداخلي وسهولة الحصول على المواد الخام ، وتشجيع العلماء والمخترعين .

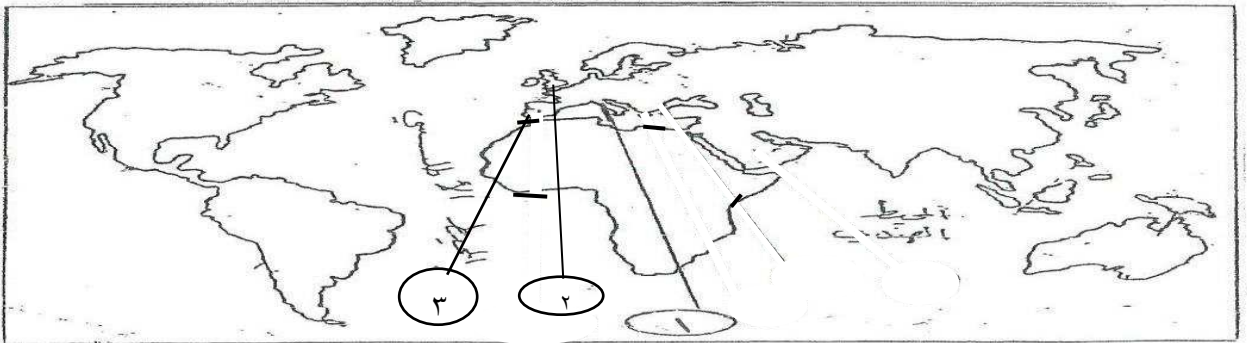
ما تفسيرك لسبق الدولة التالية غيرها من الدول الأوروبية في المجالات التالية :

انجلترا في مجال الثورة الصناعية	البرتغال في مجال الكشوف الجغرافية	إيطاليا في مجال النهضة
* الاستقرار الداخلي . / * وجود أسطول تجاري كبير * وفرة رأس المال . / * الأيدي العاملة الرخيصة . * سهولة الحصول على المواد الخام . * وجود القوي المحركة . * تشجيع العلماء والمخترعين .	*توافر الأدوات اللازمة من علم وخبرة وسفن متطورة . *استقرار الوضع في بلادهم .	*لعبت دور الوسيط التجاري بين موانئ البحر المتوسط . *وجود مركز البابوية فيها . *حلقة اتصال بين الشرق والغرب . *ماضي الإمبراطورية الرومانية العريقة



@- اقرأ الفقرة التالية ثم أجب عما يليها من أسئلة :
" أسهمت كل من (إيطاليا ، البرتغال) وإنجلترا في إبراز ملامح تاريخ أوروبا الحديث والمعاصر حيث كان لهذه الدول دور الريادة في العديد من المجالات التي ساهمت في تشكيل ملامح العالم الحديث والمعاصر "

س ١ / ما الدور الريادي الذي لعبته كل من الدول التالية :
إيطاليا : انطلقت منها حركة النهضة ثم انتقلت إلى كافة أنحاء أوروبا .
البرتغال : أول من قام بحركة الكشوف الجغرافية في نهاية القرن الخامس عشر ميلادي ولها دور كبير في الوصول إلى الهند .



اكتب الرقم المناسب أمام الدائرة المناسبة لكل مما يلي على الخريطة التي أمامك :

- ١- الدولة الأوروبية التي انطلقت منها النهضة الأوروبية
- ٢- الدولة الأوروبية التي انطلقت منها شرارة الثورة الصناعية / أولي دول أوروبا في مجال الثورة الصناعية
- ٣- الدولة الأوروبية التي انطلقت منها أول رحلة للكشوف الجغرافية

نتائج الثورة الصناعية

إعداد رئيسة القسم : عذبة المطيري

@اقرأ كم ص ٦٩ ثم :

ما النتائج المترتبة على الثورة الصناعية في المجالات التالية :

النتائج الاقتصادية	النتائج الاجتماعية	النتائج السياسية
*قيام المصانع الكبيرة التي تعتمد على الصناعة الآلية مما أدى إلي زيادة الإنتاج . *انتعاش النشاط الاقتصادي من خلال حركة البنوك والوكالات التجارية ومراكز التوزيع والتسويق . *اتساع النشاط التجاري العالمي . * ارتفاع الدخل القومي نتيجة لزيادة عائدات التجارة . * ظهور المدن الصناعية واتساع حركة العمران في أوروبا . * سيادة النظام الرأسمالي .	*زيادة عدد السكان وارتفاع مستوى المعيشة نتيجة لنمو الدخل القومي . * ظهور الصراع الطبقي بين طبقة العمال الكادحين والطبقة الرأسمالية المسيطرة . * انتشار الآراء الاشتراكية المضادة للفكر الرأسمالي .	* سيطرة الرأسمالية علي مقاليد السلطة السياسية في أوروبا . *التسابق الاستعماري حول المستعمرات لجلب المواد الخام وجعلها أسواقاً للإنتاج الصناعي . *ظهور الأحزاب السياسية المدافعة عن حقوق العمال .

نفس
الاجابة
النتائج
السياسية

نفس
الاجابة
النتائج
الاجتماعية

نفس
الاجابة
النتائج
الاقتصادية

دلل على صحة العبارات التالية :
أن الثورة الصناعية أحدثت تغييراً سياسياً في قارة أوروبا

برهن على أن : للثورة الصناعية نتائج اجتماعية

أكمل العبارات التالية بما يناسبها من كلمات :

- ١- زيادة عدد السكان في أوروبا بعد الثورة الصناعية ارتفاع مستوى المعيشة و توفر الرعاية الصحية .
ظهور الصراع الطبقي بعد الثورة الصناعية بين طبقة العمال الكادحين والطبقة الرأسمالية المسيطرة .
- ٢- الطبقة الإجتماعية التي سيطرت علي مقاليد السلطة السياسية في أوروبا تسمى الرأسمالية
- ٣- الطبقة الإجتماعية التي سيطرت علي وسائل الإنتاج إثر قيام الثورة الصناعية تسمى الرأسمالية

برهن على صحة العبارات التالية :
أحدثت الثورة الصناعية في أوروبا تغيرات في الناحية الاقتصادية

ماذا يحدث لو : لم تقم الصناعة في أوروبا
(أي اجابة منطقية يطرحها الطالب صحيحه)
* لما حدثت عملية تغيير شامل في أدوات الإنتاج ووسائله وحجمه وعلاقاته ومستواه .
* لما ظهرت طبقتي العمال الكادحين والرأسماليين الصناعيين .
* لما ظهر العلماء والمخترعين والاختراعات الحديثة .

اقرأ النص بعناية ثم أجب عن الأسئلة التي تليها :-

((لا يزال المنصفون من مفكري الغرب يشيدون بإعجاب للحضارة الإسلامية كمصدر إشعاع حضاري أثار لأوروبا طريق النهضة ، فقد كانت النهضة الأوروبية بداية لعصر هيمنة تلك القارة وسيطرتها علي خيرات العالم حيث مكنتها الكشوف الجغرافية من أن تحقق لها ما أرادت من الحصول علي التوابل والمعادن والحريير ، والانتقام من المسلمين بحرمانهم من أي دور في التجارة العالمية ، ولكن النقلة الكبرى كانت عندما سخرت العالم لتحقيق الثورة الصناعية التي منحها القوة الاقتصادية والسياسية برغم ما صاحب ذلك من صراعات داخلية بين طبقتي العمال الكادحين والرأسماليين الصناعيين وصراعات خارجية تمثلت في التنافس بين دول أوروبا في الاستيطان لمناطق عديدة من العالم واستنزاف مواردها))

١- اقترح عنواناً للنص (أي عنوان مناسب يكتبه الطالب صحيح)

٢- عرف ما تحته خط

الثورة الصناعية : عملية تغيير شامل في أدوات الإنتاج ووسائله وحجمه وعلاقاته ومستواه وتبدل كامل في أساليب التمويل والتسويق والتوزيع .

٣- استخرج من النص ما يلي :-

- أ- دافع من دوافع الاقتصادية للكشوف الجغرافية الحصول علي التوابل والمعادن والحريير
- ب- شكلاً من أشكال الاستعمار الاستيطان

- ج- نتيجتان من نتائج الثورة الصناعية صراعات داخلية بين طبقتي العمال الكادحين والرأسماليين الصناعيين وصراعات خارجية تمثلت في التنافس بين دول أوروبا
- د- عامل من عوامل النهضة الأوروبية الحضارة الإسلامية