

تم تحميل هذا الملف من موقع المناهج الكويتية



الملف نموذج إجابة الاختبار المعتمد من التوجيه الفني

[موقع المناهج](#) ← [المناهج الكويتية](#) ← [الصف الحادي عشر الأدبي](#) ← [جغرافيا](#) ← [الفصل الأول](#)

روابط مواقع التواصل الاجتماعي بحسب الصف الحادي عشر الأدبي



روابط مواد الصف الحادي عشر الأدبي على تلغرام

[الرياضيات](#)

[اللغة الانجليزية](#)

[اللغة العربية](#)

[التربية الاسلامية](#)

المزيد من الملفات بحسب الصف الحادي عشر الأدبي والمادة جغرافيا في الفصل الأول

توزيع مقرر علم الجغرافيا والاقتصاد	1
مذكرة الفترة الأولى في مادة الاقتصاد	2
نماذج اختبارات واجاباتها النموذجية في مادة الاقتصاد	3
نماذج اختبارات واجاباتها للعام 2016 2017 في مادة الجغرافيا	4
مذكرة مراجعة شاملة في مادة الجغرافيا	5



دولة الكويت

وزارة التربية

التوجيه الفني العام للاجتماعيات

العام الدراسي: ٢٠٢٤ - ٢٠٢٥م

الزمن : ساعتان وربع

عدد الأوراق: (٥)

نموذج الإجابة

امتحان نهاية الفترة الدراسية الأولى

لمادة مبادئ علم الجغرافيا وعلم الاقتصاد للصف الحادي عشر (الأدبي)

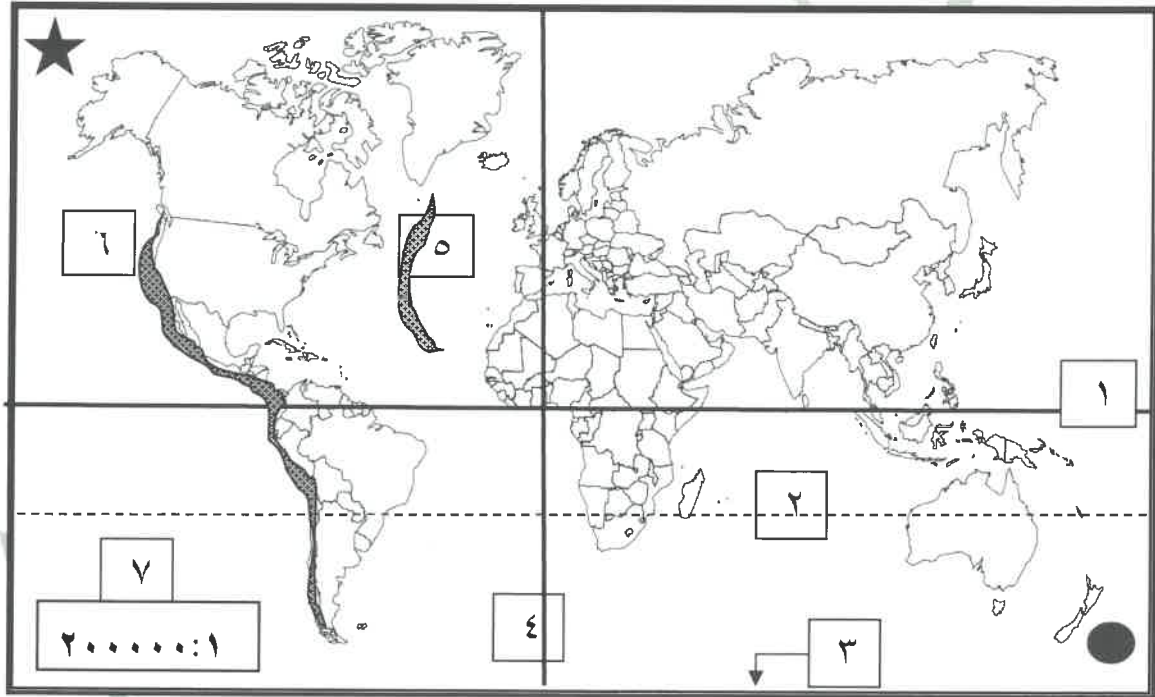
(الشلل الدماغي والصم وزراعة القوقعة)



أجب عن جميع الأسئلة

السؤال الأول : ويتكون من [أ ، ب ، ج]

(أ) أمامك خريطة العالم الصماء، استعن بالمدلولات التي عليها لإكمال العبارات التالية: (٦ = ٦ × ١)



ص ٧٠

ص ٨٨

ص ٣٩

ص ٦٤

ص ٣٨

ص ٣٩

* خط جرينتش يمثله على الخريطة الرقم (٤) .

* نطاق حافة النار يمثله على الخريطة الرقم (٦) .

* إطار الخريطة يمثله على الخريطة الرقم (٣) .

* مدار الجدي يمثله على الخريطة الرقم (٢) .

* مقياس الرسم النسبي يمثله على الخريطة الرقم (٧) .

* الشمال الحقيقي (الجغرافي) يمثله على الخريطة الشكل (★) .

وزارة التربية



التوجيه الفني العام للاجتماعيات

تابع : السؤال الأول :

(ب) اكتب رقم المفهوم أو المصطلح الدال على كل عبارة مما يلي وضعه في المكان المناسب بالجدول: (٤ = ٤ × ١)

٦	٥	٤	٣	٢	١
الجغرافيا	الياردانج	الجغرافيا السياسية	الانكسارات	الاستشعار عن بعد	الالتواءات

المفهوم أو المصطلح	العبارات
٦	- العلم الذي يختص بدراسة التوزيع الجغرافي للظواهر الطبيعية والبشرية على سطح الأرض. ص ٢٩
٢	- رؤية مالا يرى بالعين المجردة أو هو علم يهدف إلى الحصول على معلومات وقياسات عن منطقة أو ظاهرة طبيعية أو بشرية من خلال تحليل معطيات يتم اكتسابها بجهاز لا يلمس هذه الأشياء محل الدراسة لمساً مباشراً. ص ٤٧
١	- انتشاء الطبقات الصخرية إما إلى أعلى وأما إلى أسفل. ص ٩١ almanahj.com/k
٥	- أخاديد وفتحات طويلة وضعيفة تفصل فيما بينها أشكال تشبه أضلع الحيوان. ص ٩٦

(ج) أختار للمجموعة (أ) ما يناسبها من المجموعة (ب) بوضع الرقم الصحيح في المكان المناسب: (٤ = ٤ × ١)

المجموعة (ب)	الرقم المناسب	المجموعة (أ)
السوق	٢	١- كل شيء مادي ملموس حسيماً أي أن له حجماً وملماً ووزناً يحصل عليه الفرد بعد شرائه. ص ١٩٩
التنمية	٤	٢- الحيز أو الوسط الذي تتم من خلاله مبادله السلع والخدمات بين البائعين والمشتريين بمقابل نقدي. ص ٢٢١
النمو الاقتصادي	-	٣- يتحقق عند السعر الذي تتساوى فيه الكمية المعروضة والكمية المطلوبة وعندها فلا يوجد فائض عرض أو فائض طلب. ص ٢٣٤
توازن السوق	٣	٤- مجموع السياسات التي تتخذها الحكومة والتي تؤدي إلى زيادة النمو الاقتصادي بدافع ذاتي. ص ٢٤٦
السلعة	١	



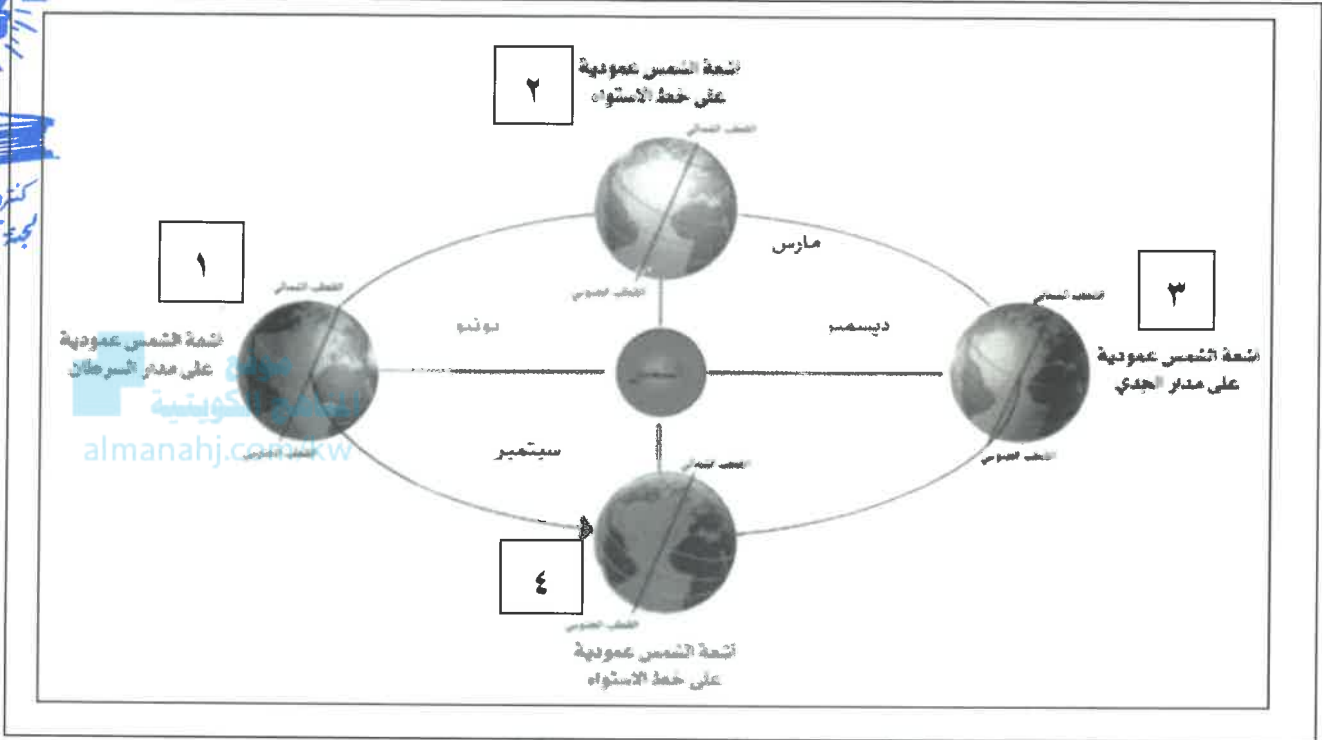
كترول القسم العلمي
لجنة تقدير الدرجات

وزارة
التربية
التوجيه الفني العام للإجتماعيات

السؤال الثاني : ويتكون من [أ ، ب ، ج] :

(أ) سجل بيانات شكل تتابع الفصول الأربعة مستعيناً بما يلى بوضع الرقم فى مكانه المناسب: (٤×٤=)

١- الانقلاب الصيفى ٢- الاعتدال الربيعى ٣- الانقلاب الشتوى ٤- الاعتدال الخريفى ص ٧٢



(ب) وزع أسماء الكواكب التالية حسب مكانها الصحيح فى الجدول التالى: (٦×٦=)

الزهرة - نبتون - المشتري - أورانوس - الأرض - المريخ (ص ٦٠-٦١-٦٢)

الكواكب الغازية (الخارجية)	الكواكب الصخرية (الداخلية)
- نبتون - المشتري - أورانوس	- الزهرة - الأرض - المريخ

(ج) فرق بين كل مما يلى مستعيناً بما بين القوسين وذلك بوضع الرقم فى مكانه المناسب: (٤×٤=)

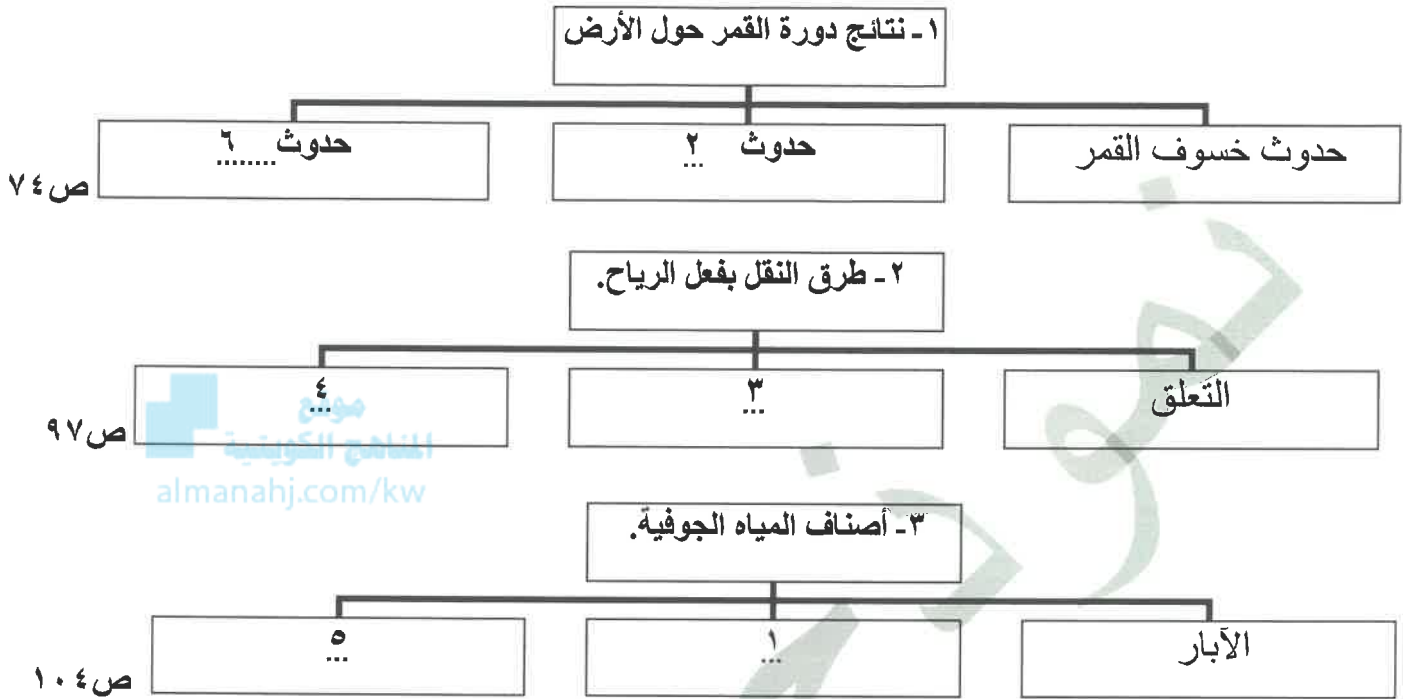
(١-البائع ٢- الأرض ٣- المشتري ٤- العمل)

٤	٢
الجهد الذى يبذله الإنسان سواء بديناً أو ذهنياً لإنتاج السلع والخدمات مثل العامل. ص ٢٠١	تشمل الموارد الطبيعية وكل ما على سطح الأرض وما فى باطنها وليس للإنسان دور فى وجودها مثل الماء والشجر. ص ٢٠١
٣	١
الشخص أو الجهة التى ترغب بشراء سلعة أو خدمة بمقابل مادي. ص ٢٢٢	الشخص أو الجهة التى لديها سلعة أو خدمة يرغب ببيعها مقابل سعر معين. ص ٢٢٢

السؤال الثالث : ويتكون من [أ ، ب ، ج] :





(أ) أكمل المخططات السهمية التالية بما يناسبها مستعيناً بما يلي بوضع الرقم المناسب: (٦=٦×١)

- ١- الينابيع ٢- كسوف الشمس ٣- القفز ٤- الزحف السطحي ٥- النافورات ٦- المد والجزر



(ب) صنف أسماء أشكال الإرساب بفعل الرياح حسب الصورة التي تمثل كل منها في الجدول التالي: (٤=٤×١)

- النباك - كثبان رملية هلالية - كثبان رملية طولية - كثبان رملية نجمية ص ٩٨

النباك	كثبان رملية هلالية	كثبان رملية نجمية	كثبان رملية طولية
			

(ج) قارن بين كل مما يلي حسب المطلوب في الجدول مستعيناً بما بين القوسين بوضع الرقم فقط: (٤=٤×١)

- (١- إشرافي ٢- مركزي ٣- خاصة ٤- عامة) ص ٧١٦

اقتصاديات السوق	اقتصاديات التخطيط المركزي	أوجه المقارنة
٣ ...	٤ ...	ملكية الموارد الاقتصادية
١ ...	٢ ...	دور الحكومة



مركز التقييم العلمي
لجودة تقدير الدرجات

وزارة التربية

التوجيه الفني العام للإجتماعيات

السؤال الرابع ويتكون من [أ ، ب ، ج] :

- (أ) اكمل العبارات بما يناسبها من الكلمات التالية بوضع الرقم في مكانه المناسب: (٦ = ٦ × ١)
- ١- النارية ٢- شكل الأرض ٣- الطبيعية ٤- التكتونية ٥- عطارد
٦- الرسوبية ٧- الشمس ٨- حقل الثلج ٩- وصف الأرض ١٠- الغطاءات الجليدية

٢٩ ص	٩	مصطلح الجغرافيا الذي ظهر منذ العهد الإغريقي ويتألف من مقطعين يعني
٤٢ ص	٣	الخرائط التي تصنف خرائط الطقس والمناخ منها تسمى.
٥٩ ص	٧	كرة من الغازات الملتهبة الهيدروجين والهليوم وغازات أخرى ولها حقل مغناطيسي تسمى
٨٤ ص	١	صخور كانت في أول الأمر منصهرة لشدة حرارتها ثم تصلبت إما فوق الأرض أو بين طبقات القشرة أو تحتها تسمى .
٨٧ ص	٤	الزلازل الشائعة وكثيرة الحدوث في المناطق التي تصيبها الانكسارات وتعرض للتصدع تسمى
١٠٠ ص	٨	مساحة كبيرة تحيط بها القمم والمرتفعات وتتجمع فيها الثلوج فتتراكم وتندمج تسمى

(ب) ظلل الخيار الصحيح من بين الخيارات التي تلي كل عبارة مما يلي: (٤ = ٤ × ١)

- ١- الجغرافيا التي تتضمن مجموعة العلوم الجغرافية الإنسانية التي تختص بدراسة النشاط البشري وتوزيع الإنسان على سطح الأرض : ص ٣٠

التاريخية	الطبيعية	البشرية	الإقليمية
-----------	----------	---------	-----------

- ٢- عملية إسقاط لشبكة خطوط الطول ودوائر العرض من السطح الكروي إلى السطح المستوي للخريطة : ص ٤٠

المسقط	مقياس الرسم	الكتابة	الخريطة الركنية
--------	-------------	---------	-----------------

- ٣- تتكون طبقة السيل من صخور جرانيتية وتتألف من عنصرين هما السيليكا وآخر اسمه : ص ٨٣

الهيدروجين	الكربون	الماغنيسيوم	الألمنيوم
------------	---------	-------------	-----------

- ٤- الوحدة الأساسية للكون وهي نظام نجمي يتكون من بلايين النجوم والغبار الكوني : ص ٥٣

السدن	المجرات	النيازك	الشهب
-------	---------	---------	-------

(ج) استنتج اسم الرابط المشترك بين عناصر كل مجموعة في الجدول مستعيناً بما يلي بوضع الرقم فقط: (٤ = ٤ × ١)

- ١- محددات الطلب ٢- الظواهر الاقتصادية ٣- خصائص المشكلة الاقتصادية ٤- قطاعات طريقة الإنفاق ٥- محددات العرض

الرابط المشترك	عناصر المجموعة
٣	الندرة - الاختيار - التضحية . ص ٢١٣
٥	تكاليف عناصر الإنتاج - التطور التقني - الدعم والضرائب . ص ٢٣٠-٢٣١
٤	العائلي - الحكومي - الأعمال - الخارجي . ص ٢٤٠-٢٤١
٢	البطالة - التضخم - النمو الاقتصادي . ص ٢٤٢-٢٤٣

انتهت الأسئلة ،،،،

وزارة التربية



التوجيه الفني العام للإجتماعيات

